



ENGENHEIRO(A) (ELÉTRICA: SISTEMAS INDUSTRIAIS)

LEIA ATENTAMENTE AS INSTRUÇÕES ABAIXO.

01 - Você recebeu do fiscal o seguinte material:

a) este caderno, com os enunciados das 60 questões objetivas, sem repetição ou falha, com a seguinte distribuição:

LÍNGUA PORTUGUESA II		LÍNGUA INGLESA		CONHECIMENTOS ESPECÍFICOS	
Questões	Pontos	Questões	Pontos	Questões	Pontos
1 a 5	1,0	16 a 20	0,5	26 a 30	1,0
6 a 10	1,5	21 a 25	1,5	31 a 40	1,5
11 a 15	2,5	-	-	41 a 50	2,0
-	-	-	-	51 a 60	2,5

b) 1 **CARTÃO-RESPOSTA** destinado às respostas às questões objetivas formuladas nas provas.

02 - Verifique se este material está em ordem e se o seu nome e número de inscrição conferem com os que aparecem no **CARTÃO-RESPOSTA**. Caso contrário, notifique **IMEDIATAMENTE** o fiscal.

03 - Após a conferência, o candidato deverá assinar no espaço próprio do **CARTÃO-RESPOSTA**, a caneta esferográfica transparente de tinta na cor preta.

04 - No **CARTÃO-RESPOSTA**, a marcação das letras correspondentes às respostas certas deve ser feita cobrindo a letra e preenchendo todo o espaço compreendido pelos círculos, a **caneta esferográfica transparente de tinta na cor preta**, de forma contínua e densa. A LEITORA ÓTICA é sensível a marcas escuras; portanto, preencha os campos de marcação completamente, sem deixar claros.

Exemplo: (A) ● (C) (D) (E)

05 - Tenha muito cuidado com o **CARTÃO-RESPOSTA**, para não o **DOBRAR, AMASSAR ou MANCHAR**. O **CARTÃO-RESPOSTA SOMENTE** poderá ser substituído caso esteja danificado em suas margens superior ou inferior - **BARRA DE RECONHECIMENTO PARA LEITURA ÓTICA**.

06 - Para cada uma das questões objetivas, são apresentadas 5 alternativas classificadas com as letras (A), (B), (C), (D) e (E); só uma responde adequadamente ao quesito proposto. Você só deve assinalar **UMA RESPOSTA**: a marcação em mais de uma alternativa anula a questão, **MESMO QUE UMA DAS RESPOSTAS ESTEJA CORRETA**.

07 - As questões objetivas são identificadas pelo número que se situa acima de seu enunciado.

08 - **SERÁ ELIMINADO** do Processo Seletivo Público o candidato que:

a) se utilizar, durante a realização das provas, de máquinas e/ou relógios de calcular, bem como de rádios gravadores, *headphones*, telefones celulares ou fontes de consulta de qualquer espécie;

b) se ausentar da sala em que se realizam as provas levando consigo o Caderno de Questões e/ou o **CARTÃO-RESPOSTA**;

c) se recusar a entregar o Caderno de Questões e/ou o **CARTÃO-RESPOSTA** quando terminar o tempo estabelecido.

09 - Reserve os 30 (trinta) minutos finais para marcar seu **CARTÃO-RESPOSTA**. Os rascunhos e as marcações assinaladas no Caderno de Questões **NÃO SERÃO LEVADOS EM CONTA**.

10 - Quando terminar, entregue ao fiscal **O CADERNO DE QUESTÕES E O CARTÃO-RESPOSTA** e **ASSINE A LISTA DE PRESENÇA**.

Obs. O candidato só poderá se ausentar do recinto das provas após **1 (uma) hora** contada a partir do efetivo início das mesmas. Por motivos de segurança, o candidato **NÃO PODERÁ LEVAR O CADERNO DE QUESTÕES**, a qualquer momento.

11 - **O TEMPO DISPONÍVEL PARA ESTAS PROVAS DE QUESTÕES OBJETIVAS É DE 4 (QUATRO) HORAS**, findo o qual o candidato deverá, **obrigatoriamente**, entregar o **CARTÃO-RESPOSTA**.

12 - As questões e os gabaritos das Provas Objetivas serão divulgados no primeiro dia útil após a realização das mesmas, no endereço eletrônico da **FUNDAÇÃO CESGRANRIO** (<http://www.cesgranrio.org.br>).

RASCUNHO

LÍNGUA PORTUGUESA II

O texto a seguir é um fragmento de uma matéria da Revista Superinteressante e serve de base para as questões de números 1 a 9.

Texto I

ENERGIA LIMPA, SEGURA E... NUCLEAR
De inimiga dos ambientalistas a melhor saída diante do aquecimento global. A energia nuclear pode ser sua próxima grande aliada.

Viver é usar energia. Sem ela, o mundo desliga. As crises mundiais do petróleo, na década de 1970, são um bom exemplo de como a dependência de uma fonte de energia pode mudar o curso da história. [...]

5 Sem energia, os preços ficam mais caros, os investimentos escasseiam e os pobres continuam pobres.

Para se salvar dessa estagnação, o ser humano criou vários jeitos de captar energia da natureza. De todos, as usinas nucleares são disparado o mais polêmico. Nenhuma forma de energia tem um passado tão horrível. A fissão nuclear é a tecnologia que gerou as bombas de Hiroshima e Nagasaki (pelo menos 130.000 mortos em poucos segundos de 1945), que deixou o mundo tremendo de medo de uma destruição total durante a Guerra Fria e que, em 1986, matou 32 operários no acidente da usina de Chernobyl. [...]

10 Apesar de hoje se saber que o acidente foi provocado por falhas humanas grosseiras nos procedimentos básicos de segurança e até mesmo por erros no projeto dos reatores, Chernobyl fez a energia nuclear virar sinônimo de desastre e destruição. Grupos ambientalistas fizeram dela seu principal inimigo. [...]

Mas os tempos mudaram. Enquanto as usinas nucleares avançaram em segurança e controle dos resíduos radioativos, o mundo passou a sofrer com o gás carbônico emitido pelas fontes tradicionais de energia, como o petróleo e as usinas termoelétricas a carvão. Num mundo em que o aquecimento global é o grande problema, especialistas em energia estão fazendo perguntas incômodas para muitos ecologistas: será que a energia nuclear, apesar de todos os riscos e dos resíduos atômicos, não teria sido uma alternativa menos danosa ao meio ambiente do que as fontes que liberam gases causadores do efeito estufa e que colocam em risco todo o planeta? [...]

35 O cientista britânico James Lovelock, professor da Universidade de Oxford, considerado o pai do movimento ambientalista por ter criado a Hipótese Gaia, teoria que inspirou milhares de ecologistas e cientistas na década de 1970 com a ideia de que a Terra é um organismo vivo, [...] diz que, enquanto muitas pessoas continuavam amedrontadas diante das centrais atômicas, o aumento da emissão de dióxido de carbono na atmosfera teve um efeito muito pior, colocando o planeta agora à beira de uma catástrofe climática.

[...] Ele não é o único a virar a casaca e pular para o lado das usinas atômicas. Em 2003, após avaliar e pesquisar dados sobre o tema, o Instituto de Tecnologia de Massachusetts (MIT) em Cambridge, EUA, recomendou a expansão da energia nuclear por acreditar “que essa tecnologia, apesar dos desafios que enfrenta, é uma alternativa importante para os EUA e para o mundo prover suas necessidades energéticas sem emitir dióxido de carbono e outros poluentes na atmosfera”. Até um dos fundadores do Greenpeace, Patrick Moore, passou a apoiar a energia tirada do núcleo dos átomos. “Trinta anos depois, minha visão mudou. E acho que o movimento ecológico como um todo também deveria atualizar sua visão sobre o tema”, afirmou ele num artigo no Washington Post no ano passado.

CAVALCANTE, Rodrigo. *Superinteressante*, jul. 07.

1

A matéria é construída empregando uma série de argumentos favoráveis à utilização da energia nuclear. Considerando o último parágrafo, qual das opções apresenta a ação do texto que se caracteriza como um recurso persuasivo?

- (A) Empregar dados estatísticos como comprovação de tese.
- (B) Indicar marcas temporais para localizar uma situação dada.
- (C) Expor a palavra de outros como argumento de autoridade.
- (D) Apresentar experiências positivas como fatos incontesteáveis.
- (E) Atuar em diferentes áreas da sociedade global.

2

Analise as afirmações a seguir.

Na passagem “e as usinas termoelétricas a carvão”, o termo “a carvão” não exige o acento grave da crase.

PORQUE

O núcleo é um substantivo masculino, portanto não aceita o artigo feminino, o que inviabiliza o fenômeno da crase.

A esse respeito conclui-se que

- (A) as duas afirmações são verdadeiras e a segunda justifica a primeira.
- (B) as duas afirmações são verdadeiras e a segunda não justifica a primeira.
- (C) a primeira afirmação é verdadeira e a segunda é falsa.
- (D) a primeira afirmação é falsa e a segunda é verdadeira.
- (E) as duas afirmações são falsas.

3

Em um texto, alguns sinais de pontuação são muito expressivos, como o emprego de aspas e parênteses.

Os parênteses em “(pelo menos 130.000 mortos em poucos segundos de 1945)” (l. 12-13) foram empregados como

- (A) explicação de algo posteriormente anunciado.
- (B) exemplificação de algo anteriormente registrado.
- (C) acréscimo de uma informação para ilustrar o que será dito.
- (D) comentário do autor acerca de um fato a ser mencionado.
- (E) retificação de informação anteriormente escrita.

4

O texto, em determinados momentos, emprega uma linguagem que rompe com o padrão formal da língua.

A passagem destacada que serve de exemplo para essa afirmação encontra-se em

- (A) “Viver é usar energia.” (l. 1)
- (B) “Chernobyl fez a energia nuclear virar sinônimo de desastre e destruição.” (l. 20-21)
- (C) “...especialistas em energia estão fazendo perguntas incômodas para muitos ecologistas.” (l. 29-30)
- (D) “...muitas pessoas continuavam amedrontadas diante das centrais atômicas,” (l. 41-43)
- (E) “Ele não é o único a virar a casaca e pular para o lado das usinas atômicas.” (l. 46-47)

5

“...essa tecnologia, apesar dos desafios que enfrenta, é uma alternativa importante para os EUA e para o mundo prover suas necessidades energéticas sem emitir dióxido de carbono e outros poluentes na atmosfera.” (l. 51-55)

Qual o vocábulo que, ao substituir a palavra “prover”, presente no Texto I, causa um prejuízo de sentido?

- (A) Nomear
- (B) Suprir
- (C) Atender
- (D) Abastecer
- (E) Munir

6

No Texto I, em “avançaram em segurança e controle **dos resíduos radioativos**,” (l. 24-25), o termo destacado está ligado sintaticamente ao substantivo “controle”. O termo que desempenha função sintática idêntica ao destacado acima está no trecho:

- (A) “As crises mundiais **do petróleo**,” (l. 2)
- (B) “os preços ficam mais **caros**,” (l. 5)
- (C) “...captar energia **da natureza**.” (l. 8)
- (D) “...especialistas em energia estão fazendo **perguntas incômodas...**” (l. 29-30)
- (E) “...não teria sido uma alternativa menos danosa **ao meio ambiente...**” (l. 32-33)

7

O valor gramatical do vocábulo **que**, no trecho “...fissão nuclear é a tecnologia que gerou as bombas de Hiroshima e Nagasaki...” (l. 11-12), é o mesmo que ele apresenta em

- (A) “Apesar de hoje se saber que o acidente foi provocado por falhas humanas grosseiras...” (l. 17-18)
- (B) “Num mundo em que o aquecimento global é o grande problema,” (l. 28-29)
- (C) “... uma alternativa menos danosa ao meio ambiente do que as fontes...” (l. 32-33)
- (D) “...com a ideia de que a Terra é um organismo vivo,” (l. 40-41)
- (E) “E acho que o movimento ecológico [...] também deveria atualizar sua visão sobre o tema,” (l. 58-59)

8

“Num mundo em que o aquecimento global é o grande problema, especialistas em energia estão fazendo perguntas incômodas para muitos ecologistas: será que a energia nuclear, apesar de todos os riscos e dos resíduos atômicos, não teria sido uma alternativa menos danosa ao meio ambiente do que as fontes que liberam gases causadores do efeito estufa e que colocam em risco todo o planeta? [...]” (l. 28-35)

A atitude do redator da matéria, nesse fragmento, caracteriza-se como

- (A) memorialista.
- (B) dialógica.
- (C) valorativa.
- (D) emotiva.
- (E) descritivista.

9

Acerca da polêmica causada pelo uso de usinas nucleares para captação de energia da natureza, analise as afirmações abaixo.

- I - O fato de a fissão nuclear ser a tecnologia que gerou as bombas de Hiroshima e Nagasaki cria uma expectativa negativa em parte da população.
- II - O acidente que, em 1986, matou 32 operários na usina de Chernobyl gerou uma insegurança em parte da sociedade mundial.
- III - As crises mundiais do petróleo foram fatores preponderantes para a certeza de que a captação de energia deveria ser feita por meio de fissão nuclear.

De acordo com o Texto I, é correto **APENAS** o que se afirma em

- (A) I.
- (B) II.
- (C) III.
- (D) I e II.
- (E) I e III.

O texto a seguir é um artigo de Carlos Minc e serve de base para as questões de números de 10 a 15.

Texto II

DESAFIO À SOBREVIVÊNCIA

O crescimento predatório a qualquer custo, a exclusão e a miséria, o egoísmo e o desperdício ameaçam a vida no planeta. Enquanto a desertificação avança (inclusive em 14 municípios do Noroeste do Estado do Rio), a camada protetora de ozônio diminui, expondo os corpos às radiações cancerígenas. Enquanto a temperatura global aumenta devido às queimadas, aos combustíveis fósseis e ao carvão mineral, o ar puro e a água limpa tornam-se raros e caros.

Chegamos à artificialização da natureza: se a água da praia está podre, vá de piscinão; se a água da torneira cheira mal, tome água mineral; se o ar no inverno causa doenças respiratórias, compre um cilindro de oxigênio; se um espigão tirou a paisagem, ponha vasos de plantas na janela; se a poluição sonora tira o sono, vá de vidro duplo e protetor de ouvidos. Os governantes juram ser ecologistas desde a mais tenra idade, mas aprovam leis do barulho, termelétricas a carvão (em Itaguaí – RJ), desviam para asfalto e estradas R\$ 200 milhões dos royalties do petróleo, carimbados para defender rios e lagoas, demarcar parques e despoluir a Baía de Sepetiba. As propostas dos ecologistas de energias alternativas, como a solar e a eólica, de eficiência energética e cogeração, de aproveitamento do lixo e do bagaço de cana para geração energética foram desprezadas pelo governo federal, e só com a crise previsível passaram a ser consideradas com um pouco mais de respeito.

As propostas ambientalistas de reflorestamento de encostas, reciclagem de lixo, especialmente garrafas PET, instalação dos comitês de bacia hidrográfica, drenagem, dragagem e demarcação das faixas marginais de proteção das lagoas são cozinhadas em banho-maria e tiradas da gaveta a cada tragédia de inundações e desabamentos. O Rio tem a lei mais avançada do país de coleta, recompra e reciclagem de plástico e de PET (3.369, de janeiro de 2000), mas recuperamos apenas 130 milhões dos 600 milhões de embalagens PET vendidas anualmente. Parte de 470 milhões restantes entopem canais, rios e provocam inundações, quando poderiam gerar 20 mil empregos em cooperativas de catadores e uma fábrica de reciclagem (há 18 delas no país, nenhuma no Rio). Nossa lei estadual de recursos hídricos está em vigor há dois anos e meio, mas a efetiva instalação dos comitês de bacia, com participação de governos, empresas, usuários e ambientalistas está emperrada, assim como a cobrança pelos usos da água.

Sem comitês atuando e sem recursos próprios,

50 não há como monitorar a qualidade, arbitrar o uso múltiplo da água, reconstituir as matas ciliares (como os cílios que protegem os olhos), evitar aterros e lançamentos de lixo e esgoto. Ainda não dispomos de uma informação clara, atualizada, contínua e independente da qualidade da água que bebemos.

55 Nossos governantes devem aprender a fórmula H_2O para entender que na torneira a composição é outra. A principal causa da mortalidade infantil no Terceiro Mundo são as doenças de veiculação hídrica, como hepatite e diarreia. Água é vida, e saneamento, tratamento e prevenção são as maiores prioridades. Se falharmos aí, trairemos o compromisso com a saúde e com a vida do planeta.

MINC, Carlos. *O Globo*, 04 out.02.

10

O texto apresenta um ponto de vista crítico, construído, em alguns momentos, pelo recurso da ironia.

A qualidade que constitui uma ironia, no texto, é

- (A) “predatório” (l. 1).
- (B) “protetora” (l. 5).
- (C) “raros” (l. 9).
- (D) “tenra” (l. 17).
- (E) “alternativas” (l. 23).

11

“Se falharmos aí, trairemos o compromisso com a saúde e com a vida do planeta”. (l. 62-63).

A primeira oração do período, destacada acima, liga-se à segunda oração, estabelecendo uma relação de sentido.

A relação de sentido entre as orações é de

- (A) comparação.
- (B) proporção.
- (C) conformidade.
- (D) condição.
- (E) finalidade.

12

Para construir a argumentação, o autor utiliza, na redação do texto, uma estratégia que visa a convencer o leitor acerca do assunto proposto.

Considerando o corpo do artigo, qual dos recursos a seguir **NÃO** foi empregado na construção dessa estratégia textual?

- (A) Emprego de dados quantitativos.
- (B) Comprometimento com a causa.
- (C) Adoção de um vocabulário técnico.
- (D) Uso de linguagem figurada.
- (E) Exposição de vivência pessoal.

13

“Se a água da praia está podre, vá de piscinão; se a água da torneira cheira mal tome água mineral; se o ar no inverno causa doenças respiratórias, compre um cilindro de oxigênio; se um espigão tirou a paisagem, ponha vasos de plantas na janela; se a poluição sonora tira o sono, vá de vidro duplo e protetor de ouvidos”. (l. 10-16).

No trecho acima, retirado do segundo parágrafo do Texto II, os argumentos do enunciador estruturam-se a partir do uso de determinados modos verbais e da repetição do conectivo **se**.

O objetivo dessa organização discursiva é

- (A) provocar uma sensação de desespero no leitor.
- (B) convencer o leitor da inutilidade das propostas apresentadas.
- (C) criticar a passividade da população a respeito da questão dada.
- (D) justificar o governo pela falta de atitude acerca desses problemas.
- (E) contribuir para a padronização de determinados comportamentos.

14

“As propostas dos ecologistas de energias alternativas [...] foram desprezadas pelo governo federal,” (l. 22-26)

Segundo os compêndios gramaticais, existem duas possibilidades de escritura da voz passiva no português. Qual das opções emprega outra possibilidade de escritura na forma passiva, equivalente ao trecho destacado, sem alterar-lhe o sentido?

- (A) Desprezaram-se as propostas dos ecologistas de energias alternativas.
- (B) Desprezou-se as propostas dos ecologistas de energias alternativas.
- (C) Desprezam-se as propostas dos ecologistas de energias alternativas.
- (D) Desprezavam-se as propostas dos ecologistas de energias alternativas.
- (E) Desprezar-se-iam as propostas dos ecologistas de energias alternativas.

15

O título do texto de Carlos Minc estabelece uma reflexão a respeito dos caminhos a serem tomados para preservação da natureza.

A única expressão que está de acordo com tal encaminhamento é

- (A) crescimento predatório.
- (B) propostas ambientalistas.
- (C) lançamento de lixos.
- (D) artificialização da natureza.
- (E) termelétricas a carvão.

LÍNGUA INGLESA

Nuclear power is true ‘green’ energy

Stuart Butler

Never mind lower gasoline prices. Worries about energy security and the environment continue to boost pressure for alternative energy sources. And even though the link between climate change and fossil fuel use is still debated, Americans want “greener” energy.

The energy sources favored by carbon-footprint-sensitive celebrities, such as wind power and ethanol, have gained the most attention so far - and the most subsidies. But if we’re serious about security and the environment, we should be embracing something else: Nuclear energy.

Here’s why.

For starters, nuclear power is the least expensive form of power available. But excessive legal and permitting delays are pushing up the capital cost of new nuclear-power plants and thwarting most new projects. Only one nuclear plant is currently being built in the United States - and that began in 1973. Meanwhile, 44 are under construction in other countries. France now generates 80 percent of its electricity from nuclear. We produce just 20 percent.

From an environmental perspective, nuclear energy can’t be beaten. No belching smokestacks or polluting gases. It releases nothing into the atmosphere - no carbon dioxide, no sulfur, no mercury.

It also takes up hardly any land. One double-reactor plant takes up a few hundred acres and can power 2 million homes. The same production from wind or solar can take tens of thousands of acres, often blighting scenic views.

What about waste?

With modern techniques, spent nuclear fuel is safely removed and reprocessed to yield new reactor fuel, drastically reducing the amount of waste needing disposal. In fact, if you used nuclear power for your entire lifetime needs, the resulting waste would only be enough to fill a Coke can. And this can be safely deposited in deep repositories. Compare that with the tons of plastic, batteries, tires and motor oil we’ll throw out to be buried in landfills.

Outdated fears about safety drive public concern about nuclear power in the United States. And those fears are misplaced.

The safety level in nuclear-energy production now easily surpasses other energy sources. For example, nobody in America has ever died owing to a commercial nuclear-power accident. But from Jan. 1, 2003 through Dec. 31, 2007, 526 workers were killed in oil and gas extraction and 162 in coal mining. And in the coal industry,

50 thousands of former workers are disabled with black lung and other respiratory diseases.

The fatalities and disabilities associated with coal and oil are real. The dangers of nuclear energy, meanwhile, are largely made up in Hollywood.

55 Yet those perceived dangers are responsible for the endless legal challenges, heavy regulation and campaigns to slow down or block every effort to expand nuclear power. The resultant costs and uncertainty have discouraged investment in this safe, clean and efficient
60 energy source.

To overcome these obstacles to doing that, Congress and the Obama administration need to take action.

65 First, Washington should create a level playing field for energy ideas. That means no longer artificially favoring one new energy source over another and instead creating a strong, market-oriented approach to energy so that the best sources can expand.

70 Second, Congress and the administration must commit to respecting the Nuclear Regulatory Commission's authority to review the permit application to construct the Yucca Mountain nuclear-waste repository in Nevada.

75 Last but not least, we need to cut the red tape now slowing plant construction. The arduous, four-year nuclear-plant permitting process should be replaced with a new two-year fast-track process for experienced applicants who meet reasonable siting and investment requirements.

80 Nuclear power is a good idea, one that needs to be back on the table. That's welcome, but it won't just happen if government officials don't give it the green light.

• Stuart Butler is vice president for domestic-policy issues for the Heritage Foundation (heritage.org).

Available in: <http://www.washingtontimes.com/news/2009/jan/29/nuclear-power-is-true-green-energy/print/>
Access on April 10, 2010

16

According to Stuart Butler, nuclear power is true 'green' energy because it

- (A) generates most of the clean energy consumed in the USA.
- (B) generates no waste whatsoever and is favored by carbon-print supporters.
- (C) releases as many polluting gases as fossil fuel into the atmosphere.
- (D) is as cheap to produce as all the other alternative sources of energy.
- (E) does not pollute the atmosphere with dangerous gases and has low waste levels.

17

"This" in "And this can be safely deposited in deep repositories." (line 37-38) refers to

- (A) "nuclear fuel" (line 32)
- (B) "reactor fuel" (line 33)
- (C) "resulting waste" (line 36)
- (D) "tons of plastic" (line 38)
- (E) "motor oil" (line 39)

18

According to paragraph 8 (lines 32-40), Butler feels that nuclear waste

- (A) must be collected in very small Coke cans.
- (B) can be carefully disposed of in open air dumpsites.
- (C) cannot be recycled to produce safe nuclear fuel.
- (D) is more polluting than plastic, batteries, tires and motor oil.
- (E) is not produced in large quantities and can be safely stored in repositories.

19

Butler concludes that "The safety level in nuclear-energy production now easily surpasses other energy sources." (lines 44-45) based on the fact that

- (A) there has never been a fatal accident in commercial nuclear power plants in the USA.
- (B) more than half a million workers have been killed in coal mining accidents in the five-year period of 2003-2007.
- (C) large accidents in the oil and gas industry have killed millions of workers, as shown in dozens of Hollywood movies.
- (D) respiratory diseases are a minor source of death of thousands of former oil and gas extraction workers.
- (E) most accidents and dangers associated with nuclear energy have been wrongly attributed to the coal and oil industries.

20

Concerning the figures presented in the text,

- (A) "1973" (line 18) refers to the year when the first American nuclear plants were concluded.
- (B) "44" (line 18) refers to the quantity of nuclear plants being built in the USA nowadays.
- (C) "20 percent" (line 21) refers to the amount of electricity generated from nuclear plants in America.
- (D) "tens of thousands of acres" (line 29) refers to the amount of land needed by nuclear plants to power 2 million homes.
- (E) "162" (line 49) refers to the number of workers in the coal mining industry who were condemned with job-related lung diseases.

21

Based on the meanings of the words in the text, it can be said that

- (A) "embracing" (line 10) and *adopting* are synonyms.
- (B) "thwarting" (line 16) and *encouraging* are synonyms.
- (C) "blighting" (line 29) and *ruining* have opposite meanings.
- (D) "disabled" (line 50) and *incapacitated* express contradictory ideas.
- (E) "perceived" (line 55) and *unnoticed* express similar ideas.

22

In the fragments "...excessive legal and permitting delays are **pushing up** the capital cost of new nuclear-power plants ..." (lines 14-16) and "...we'll **throw out** to be buried in landfills." (lines 39-40), the phrases "pushing up" and "throw out", are replaced, without substantial change in meaning, by

- (A) charging - keep.
- (B) raising - discard.
- (C) increasing - retain.
- (D) reducing - reject.
- (E) lowering - dispose of.

23

The word in parentheses describes the idea expressed by the term in **boldtype** in

- (A) "And **even though** the link between climate change and fossil fuel use is still debated," - *lines 3-5* (consequence)
- (B) "**such as** wind power and ethanol," - *line 7* (contrast)
- (C) "**Meanwhile**, 44 are under construction in other countries." - *lines 18-19* (result)
- (D) "...nobody in America has ever died **owing to** a commercial nuclear-power accident." - *lines 46-47* (reason)
- (E) "**Yet** those perceived dangers are responsible for the endless legal challenges,..." - *lines 55-56* (comparison)

24

According to Butler, the dangers usually associated with nuclear energy have generated

- (A) campaigns to detain or control the expansion of nuclear power.
- (B) legal challenges and heavy regulation to foster the use of nuclear energy.
- (C) large investments to produce more of this safe, clean and efficient energy source.
- (D) an expansion of the number of permits for the construction of nuclear power plants in the US.
- (E) feelings of uncertainty in the population worldwide which have motivated political measures to encourage nuclear energy use.

25

Butler believes that the American Congress and Obama Administration must support the use of nuclear power by

- (A) implementing measures in favor of all energy-generating sources that have political lobbies.
- (B) increasing the bureaucratic measures that make up the nuclear plant permitting process.
- (C) giving subsidies to favor all of the energy projects that are on the table of the Congressional agenda.
- (D) forcing the Nuclear Regulatory Commission to authorize the construction of the nuclear waste repository in the Yucca Mountain site.
- (E) requiring experienced applicants to submit their nuclear plant projects to a two-year project analysis by government authorities.

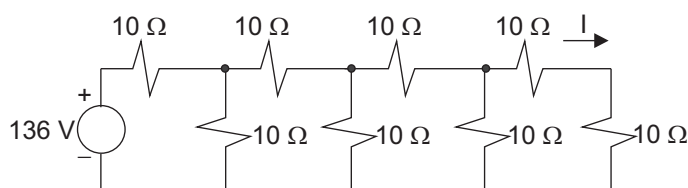
CONHECIMENTOS ESPECÍFICOS

26

O Equivalente de Thévenin de um circuito é composto por uma fonte de tensão de 50 V em série com um resistor de 10 Ω. Para esse mesmo circuito, o Equivalente de Norton é composto por uma fonte de

- (A) corrente de 5 A em série com um resistor de 10 Ω.
- (B) corrente de 5 A em série com um resistor de 50 Ω.
- (C) corrente de 5 A em paralelo com um resistor de 10 Ω.
- (D) tensão de 50 V em paralelo com um resistor de 10 Ω.
- (E) tensão de 50 V em paralelo com um resistor de 50 Ω.

27



No circuito puramente resistivo mostrado na figura acima, o valor da corrente I, em A, é

- (A) 1,2
- (B) 1,0
- (C) 0,8
- (D) 0,6
- (E) 0,4

28

Em relação aos conceitos básicos relacionados à engenharia elétrica, o elemento do circuito denominado

- (A) capacitor armazena energia em um campo elétrico, e a tensão entre seus terminais é proporcional à carga armazenada nele.
- (B) capacitor se comporta como um curto-circuito para circuito em regime permanente alimentado por uma fonte de corrente contínua.
- (C) resistor, ou resistência, apresenta entre seus terminais a tensão diretamente proporcional à taxa de variação da corrente em relação ao tempo.
- (D) resistor, ou resistência, armazena energia em um campo magnético.
- (E) indutor apresenta uma força eletromotriz inversamente proporcional à taxa de variação da corrente em relação ao tempo quando a permeabilidade é constante.

29

A teoria dos componentes simétricos é bastante útil na análise de sistemas trifásicos desequilibrados. Nessa teoria, as relações das grandezas fasoriais e seus respectivos componentes simétricos ocorrem por meio de uma matriz transformação, em que aparece o operador $\alpha = 1 \angle 120^\circ$. Em um dado sistema trifásico, a tensão \vec{V}_b , em termos de seus componentes simétricos, é igual a

- (A) $\vec{V}_0 + \alpha \vec{V}_1 + \alpha \vec{V}_2$
- (B) $\vec{V}_0 + \alpha^2 \vec{V}_1 + \alpha \vec{V}_2$
- (C) $\vec{V}_0 + \alpha \vec{V}_1 + \alpha^2 \vec{V}_2$
- (D) $\alpha \vec{V}_0 + \alpha^2 \vec{V}_1 + \alpha \vec{V}_2$
- (E) $\alpha \vec{V}_0 + \alpha^2 \vec{V}_1 + \vec{V}_2$

30

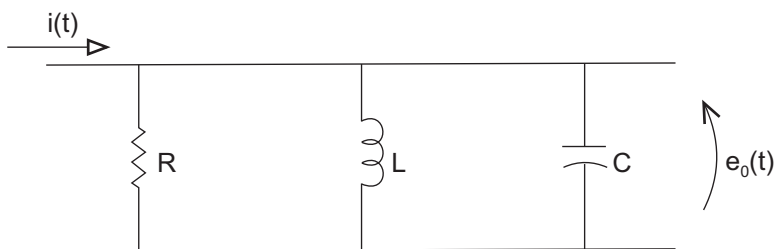
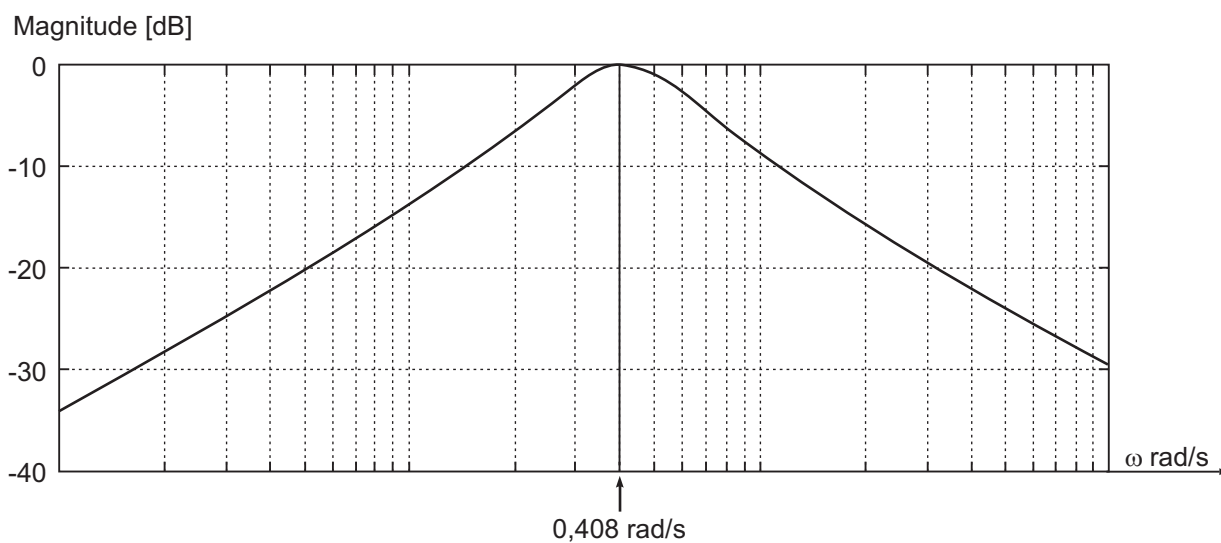


Figura 1 - Circuito RLC



A Figura 1, acima, apresenta o Circuito RLC seguida do diagrama que corresponde à magnitude de $Z(s) = \frac{E_o(s)}{I(s)}$ para $s = j\omega$.

Com base no diagrama e sabendo-se que $R = 1 \Omega$ e $C = 3 F$, o valor aproximado da indutância L , em Henry, é

- (A) 0,5
- (B) 1
- (C) 2
- (D) 4
- (E) 9

31

A tensão, em volts, medida entre os terminais de um elemento em um circuito elétrico operando em regime estacionário senoidal é dada pela expressão $v(t) = 10\cos(5t)$. A corrente, em A, que atravessa este mesmo componente é expressa por $i(t) = -5 \sin(5t-15^\circ)$. Com base nos dados acima, conclui-se que, em relação à tensão, a corrente está

- (A) 105° atrasada.
- (B) 75° atrasada.
- (C) 75° adiantada.
- (D) 15° atrasada.
- (E) 15° adiantada.

34

Um elemento de um circuito elétrico que opera em regime estacionário senoidal apresenta:

- potência média absorvida de 675 W;
- fator de potência igual a 0,9 adiantado;
- a tensão em seus terminais dada pela expressão: $v(t) = 150\sqrt{2} \cos(100t + 45^\circ)$ V.

O valor, em Ω , da componente resistiva desse elemento é

- (A) 66,67
- (B) 54
- (C) 27
- (D) 15
- (E) $\sqrt{2}$

35

O potencial elétrico, produzido por um dipolo elétrico, em um ponto de observação situado a uma distância muito maior que o seu comprimento, varia

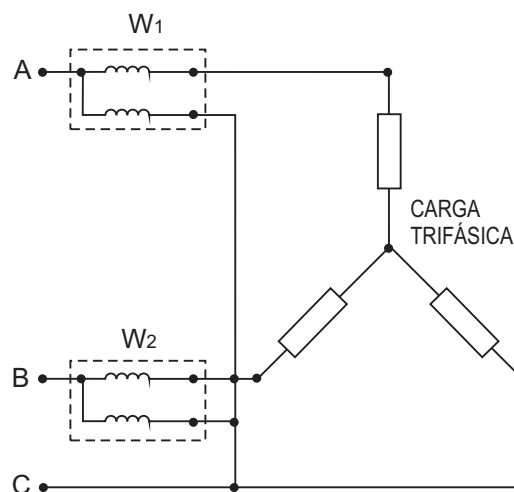
- (A) diretamente com a distância do dipolo ao ponto de observação.
- (B) diretamente com o cubo da distância do dipolo ao ponto de observação.
- (C) inversamente ao quadrado da distância do dipolo ao ponto de observação.
- (D) inversamente ao cubo da distância do dipolo ao ponto de observação.
- (E) inversamente à distância do dipolo ao ponto de observação.

36

Uma espira retangular, livre para girar em relação ao seu eixo, conduz uma corrente de intensidade I [A]. Considere que essa espira é submetida a um campo magnético uniforme \mathbf{B} [T], produzido por uma fonte externa, e que faz um ângulo θ ($\theta \neq 0$ e $\theta \neq \pi$) com o momento do dipolo da espira. Nestas condições, essa espira sofrerá um torque no sentido de girar seu momento de dipolo elétrico

- (A) de modo a alinhá-lo com o campo magnético externo, num equilíbrio estável.
- (B) no sentido anti-horário, de modo a incliná-lo de 45° em relação ao campo magnético externo, num equilíbrio instável.
- (C) no sentido anti-horário, de modo a torná-lo perpendicular ao campo magnético externo, num equilíbrio instável.
- (D) no sentido horário, de modo a torná-lo perpendicular ao campo magnético externo, num equilíbrio estável.
- (E) no sentido horário, de modo a incliná-lo de 45° em relação ao campo magnético externo, num equilíbrio estável.

37



A figura acima apresenta uma montagem composta por dois wattímetros, W_1 e W_2 , ligados a uma carga trifásica. Considere as afirmativas sobre essa montagem.

- I - A potência trifásica solicitada pela carga é igual a $W_1 + W_2$.
- II - A potência trifásica reativa é igual a $\sqrt{3}(W_1 - W_2)$.
- III - A configuração apresentada somente permite medir a potência reativa para cargas equilibradas.

Está correto o que se afirma em

- (A) I, apenas.
- (B) II, apenas.
- (C) I e III, apenas.
- (D) II e III, apenas.
- (E) I, II e III.

38

Considere um transformador de 20 MVA cujas tensões são:

- 138 kV no lado de alta;
- 13,8 kV no lado de baixa.

A reatância referida ao lado de baixa é igual a 0,9522 ohms e as bases adotadas para a análise no sistema por unidade (p.u.) são 138 kV e 20 MVA, referidos ao lado de alta. A reatância do transformador, em p.u., é igual a

- (A) 0,10
- (B) 0,20
- (C) 0,30
- (D) 0,40
- (E) 0,50

39

Em um cabo tetrapolar isolado, utilizado numa instalação subterrânea, são feitas medições diversas a fim de verificar os isolamentos e a continuidade de seus condutores.

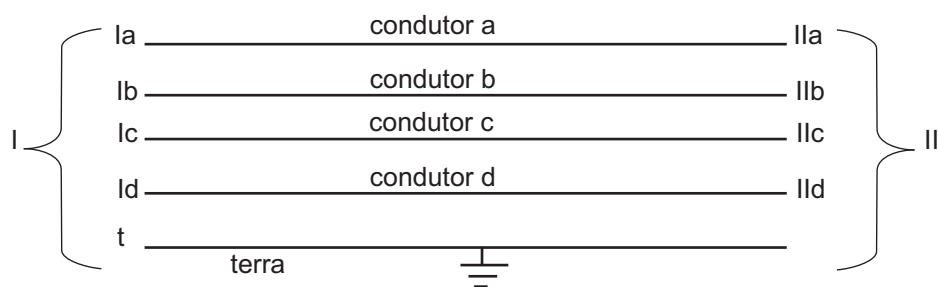


Figura 1

Tabela - 1	
Extm I	Extm II
$R_{Ia-t} = 0$	$R_{IIa-t} = 0$
$R_{Ib-t} = \infty$	$R_{IIb-t} = \infty$
$R_{Ic-t} = \infty$	$R_{IIc-t} = \infty$
$R_{Id-t} = \infty$	$R_{IIId-t} = \infty$
$R_{Ia-Ib} = \infty$	$R_{IIa-IIb} = \infty$
$R_{Ia-Ic} = \infty$	$R_{IIa-IIc} = \infty$
$R_{Ia-Id} = \infty$	$R_{IIa-IIId} = \infty$
$R_{Ib-Ic} = \infty$	$R_{IIb-IIc} = \infty$
$R_{Ib-Id} = \infty$	$R_{IIb-IIId} = \infty$
$R_{Ic-Id} = \infty$	$R_{IIc-IIId} = \infty$

A Figura 1 ilustra a instalação do cabo e define os índices usados nas medições. A notação é definida como:

R_{X-Y} : resistência medida entre os pontos X e Y.

Os dados que compõem a Tabela 1 são originados pelas medições das resistências entre as extremidades (**Extm**) e a referência (**terra**), bem como as resistências entre os condutores.

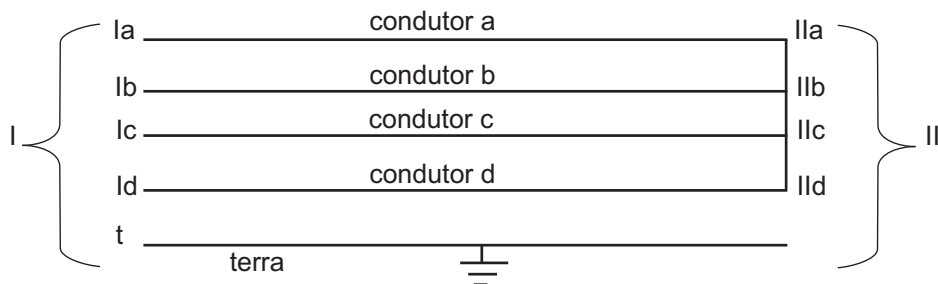


Figura 2

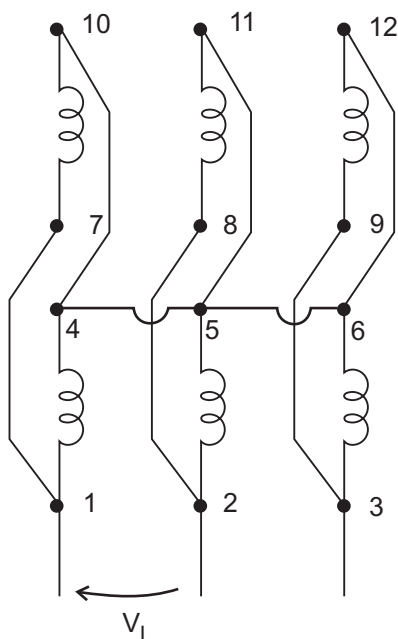
Tabela - 2	
Extm I	Extm II
$R_{Ia-Ib} = \infty$	Não medido
$R_{Ia-Ic} = 0$	Não medido
$R_{Ia-Id} = 0$	Não medido
$R_{Ib-Ic} = \infty$	Não medido
$R_{Ib-Id} = \infty$	Não medido
$R_{Ic-Id} = 0$	Não medido

A Tabela 2 é composta por medições de resistências realizadas somente na Extremidade I, após serem ligadas, em curto-circuito, às Extremidades II, conforme indicado na Figura 2.

Com base nas informações disponíveis, é possível concluir que há

- (A) falhas no isolamento dos condutores b, c e d.
- (B) falha no isolamento e descontinuidade (ruptura), respectivamente, nos condutores a e b.
- (C) descontinuidade (ruptura) no condutor a.
- (D) descontinuidade (ruptura) no condutor b.
- (E) descontinuidades (rupturas) nos condutores a e b.

40

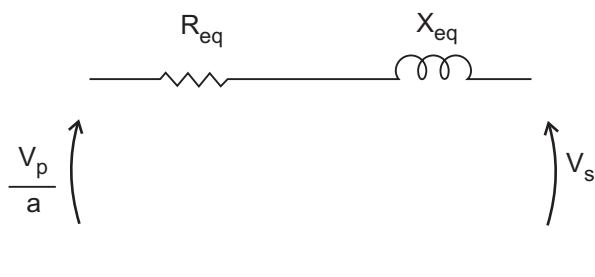


A figura ao lado apresenta o esquema de ligação dos terminais de um motor de indução trifásico para operar sob uma determinada tensão de linha. A tensão nominal das bobinas do motor é igual a 220V. Sabendo-se que no esquema de ligação apresentado na figura cada uma das bobinas está submetida à sua tensão nominal, a tensão de linha, indicada por V_L , em V, é

- (A) 220
- (B) 380
- (C) 440
- (D) 760
- (E) 880

41

Ensaio realizado em um transformador monofásico, 10 kVA, 2500/250 V, resultaram no circuito equivalente referido ao lado de baixa, apresentado na figura a seguir.



Onde: $R_{eq} = 0,2 \Omega$
 $X_{eq} = j0,5 \Omega$
 V_p - tensão do primário
 V_s - tensão do secundário
 a - relação de transformação

O transformador encontra-se em funcionamento, atendendo com corrente nominal e tensão secundária nominal a uma carga capacitiva com fator de potência igual a 0,80. Considerando-se que o ângulo de defasagem entre as tensões V_p e V_s seja suficientemente pequeno, a regulação do transformador, em %, é, aproximadamente,

- (A) - 2.2
- (B) -1.1
- (C) 0
- (D) 1.1
- (E) 2.2

42

Um motor síncrono em operação nominal possui, em sua especificação, a potência ativa de 4,3 kW com fator de potência de 0,86. Sem se valer de banco de capacitores e mantendo o motor síncrono operando conforme sua especificação, o valor aproximado da máxima potência reativa indutiva que pode ser introduzida junto à instalação desse motor, de modo que o fator de potência total da instalação fique igual à unidade, é, em kVAR,

- (A) 1,0
- (B) 1,5
- (C) 2,0
- (D) 2,5
- (E) 3,0

43

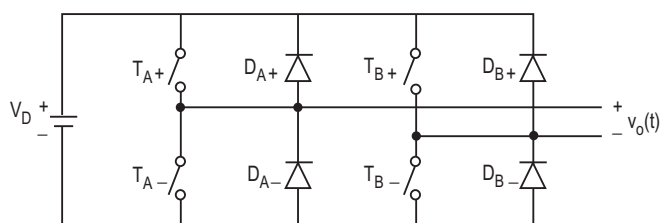
Em uma instalação elétrica industrial, dois motores trifásicos de indução, P e Q, estão ligados ao quadro de distribuição principal, o qual é alimentado pela concessionária local com tensão de 220/380 V, 60 Hz, em que há plena disponibilização da demanda requerida. Os dados dos motores são descritos a seguir.

- Motor P: 220/380 V, 60 Hz, 8 cv, 4 (quatro) bornes de ligação.
- Motor Q: 220/380 V, 60 Hz, 10 cv, 6 (seis) bornes de ligação.

A concessionária local normatiza que motores com potência acima de 6 cv, em instalações atendidas por rede pública de baixa tensão, não podem ter partida direta. Com base nessas informações, para a partida dos motores utilizando-se chave estrela-triângulo ou chave compensadora, verifica-se que, pelas suas características,

- (A) os motores P e Q podem ser acionados por ambas as chaves.
- (B) o motor P só deixa a alternativa do uso da chave estrela-triângulo.
- (C) o motor Q só deixa a alternativa do uso da chave estrela-triângulo.
- (D) o motor P só deixa a alternativa do uso da chave compensadora.
- (E) o motor Q só deixa a alternativa do uso da chave compensadora.

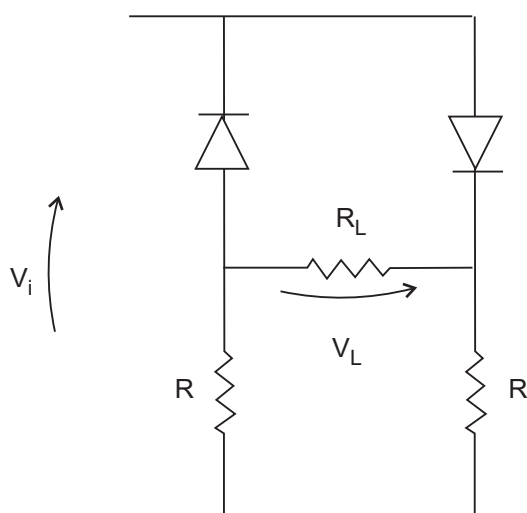
44



A figura ao lado apresenta um inversor monofásico em ponte completa, que possui chaves e diodos ideais, operando com um esquema de chaveamento tipo onda quadrada. Sabendo-se que $V_D = 100$ V, o valor eficaz aproximado da componente fundamental da tensão de saída $v_o(t)$, em volts, é

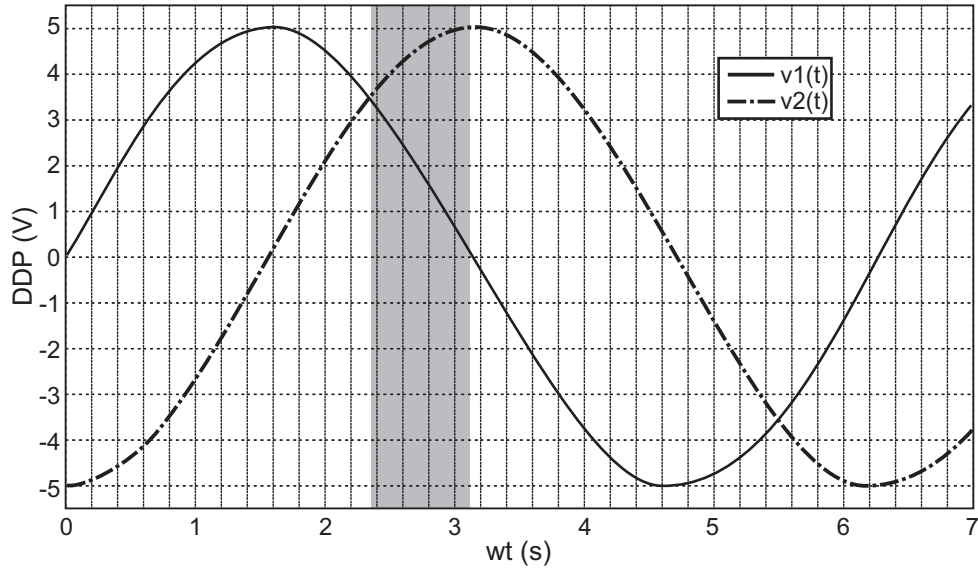
- (A) 50
- (B) 75
- (C) 90
- (D) 100
- (E) 150

45

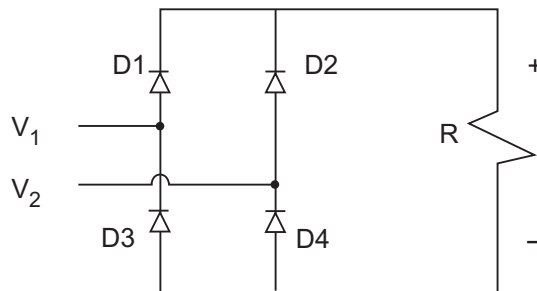


A figura ao lado apresenta um circuito retificador, em que os diodos são ideais, e os resistores R_L e R valem $1 \text{ k}\Omega$ e $3 \text{ k}\Omega$, respectivamente. Sabendo-se que V_i é uma tensão senoidal cujo valor de pico é 10 V, o nível DC da tensão V_L , em volts, é, aproximadamente,

- (A) 0,8
- (B) 1,6
- (C) 3,2
- (D) 4,8
- (E) 6,4



As tensões $v_1(t)$ e $v_2(t)$, mostradas no gráfico da figura acima, foram geradas por fontes senoidais bifásicas e são aplicadas nos pontos indicados no circuito da figura abaixo.

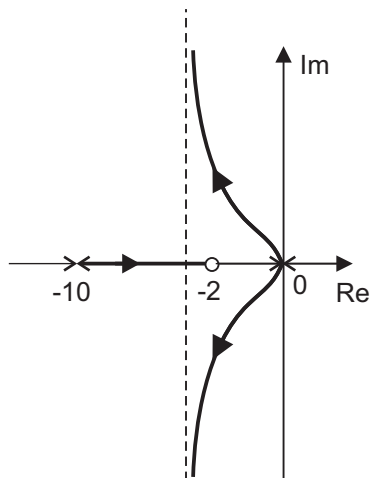


O circuito é uma ponte bifásica a diodos que alimenta a carga resistiva R .

Os diodos que conduzirão corrente elétrica no intervalo de tempo marcado pela área cinza da figura são

- (A) D1 e D2.
- (B) D1 e D3.
- (C) D1 e D4.
- (D) D2 e D3.
- (E) D2 e D4.

Considere a figura e as informações a seguir para responder às questões de n^{os} 47 e 48.



Uma planta, representada pela função de transferência $G(s)$, é controlada com realimentação de saída com a ajuda de um compensador $H(s)$, do tipo avanço de fase e conectado em série com a planta. A figura acima mostra o diagrama do lugar das raízes para esse sistema em malha fechada, quando o ganho de malha K varia positivamente de 0 a ∞ .

47

A expressão da função de transferência da planta é

(A) $G(s) = \frac{s+2}{s^2}$

(B) $G(s) = \frac{1}{s^2}$

(C) $G(s) = \frac{s+2}{s(s+10)}$

(D) $G(s) = \frac{1}{s(s+10)}$

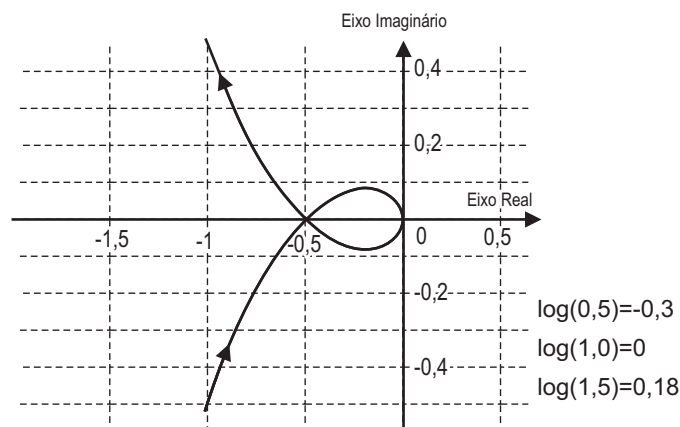
(E) $G(s) = \frac{1}{s}$

48

Com base nas propriedades do lugar das raízes, quando o polo real se encontra em -3 , o valor do ganho K é

- (A) 30
- (B) 52
- (C) 63
- (D) 78
- (E) 104

49



O gráfico da figura acima mostra o Diagrama de Nyquist para um sistema linear cuja função de transferência em malha aberta é dada por $G(s) = \frac{500}{s^3 + 16s^2 + 65s + 50}$.

Aplicando-se uma realimentação unitária de saída em $G(s)$, considerando-se 500 o ganho de projeto e com base no Diagrama de Nyquist, a margem de ganho do sistema, em

dB, é

- (A) -10
- (B) -6
- (C) 3
- (D) 6
- (E) 10

50

Uma linha de transmissão trifásica de 200 km possui os seguintes parâmetros:

- impedância em série própria: $(0,02+j0,05) \Omega/\text{km}$;
- impedância mútua entre fases: $j0,02 \Omega/\text{km}$;
- impedância mútua entre fases e terra: $j0,005 \Omega/\text{km}$.

A impedância em série de sequência zero, em ohms, é igual a

- (A) $4 + j12$
- (B) $4 + j10$
- (C) $4 + j8$
- (D) $4 + j6$
- (E) $4 + j4$

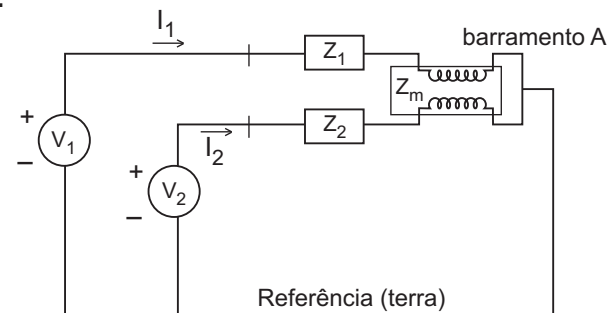
51

Uma linha de transmissão sem perdas, operando em 60 Hz, possui capacitância igual a $5 \mu\text{F}/\text{km}$ e indutância igual a $20 \text{mH}/\text{km}$. A constante de propagação da linha, em radianos/km, é, aproximadamente,

(Considere $\sqrt{10} \approx 3,1$)

- (A) $j 0,050$ (B) $j 0,117$
 (C) $j 0,205$ (D) $j 0,250$
 (E) $j 0,300$

52



Duas linhas de transmissão monofásicas se conectam, na extremidade, ao barramento A, conforme mostra a figura acima.

Considere:

- Z_1 como a impedância na linha 1;
- Z_2 como a impedância na linha 2;
- Z_m como a impedância mútua entre as linhas;
- V_1 como a fonte de tensão da linha 1;
- V_2 como a fonte de tensão da linha 2;
- I_1 como a corrente na linha 1;
- I_2 como a corrente na linha 2.

A expressão da corrente I_1 é

- (A) $I_2 \left(\frac{-Z_m}{Z_1} \right)$
 (B) $I_2 \left[\frac{Z_1 Z_2 - Z_m Z_m}{Z_1 Z_2} \right]$
 (C) $(V_1 + V_2) \left[\frac{-Z_m Z_m}{Z_1 Z_2 - Z_m Z_m} \right]$
 (D) $\frac{V_1 Z_1 - V_2 Z_2}{Z_1 Z_2 - Z_m Z_m}$
 (E) $\frac{V_1 Z_2 - V_2 Z_m}{Z_1 Z_2 - Z_m Z_m}$

53

Relacione os três tipos de equipamentos usados em sistemas elétricos industriais apresentados à esquerda com a respectiva característica indicada à direita.

Tipos	Características
I - Mufla	P - Destina-se a interromper de modo visível a continuidade de um circuito.
II - Chave seccionadora	Q - Possui em sua constituição física um centelhador série.
III - Para-raios de distribuição	R - Insere-se no circuito entre um condutor isolado e um condutor nu.
	S - Destina-se a interromper um circuito em carga.

A relação correta é

- (A) I - P, II - Q, III - R
 (B) I - P, II - S, III - R
 (C) I - Q, II - P, III - S
 (D) I - R, II - P, III - Q
 (E) I - S, II - R, III - Q

54

Uma determinada indústria possui em sua subestação um transformador trifásico de 1200 kVA - 13,8kV/220 V, que é projetado para operar com até 140% da sua carga nominal. O relé temporizado que protege esse transformador localiza-se em seu lado de alta e está ajustado para atuar com valores de corrente 20% acima de sua corrente nominal. Sabendo-se que comercialmente existem relés com correntes nominais de 20, 40, 50, 60 e 70 A, o relé com a menor corrente nominal, em ampères, que poderá ser usado é o de

- (A) 20 (B) 40
 (C) 50 (D) 60
 (E) 70

55

Quanto ao emprego e às características dos equipamentos elétricos, dispositivos e equipamentos de proteção,

(A) o banco de capacitores, quando em operação, pode provocar sobrecorrentes no caso de curto-circuito no sistema em que está instalado ou no próprio banco.

(B) os religadores podem ser classificados, de acordo com o sistema de controle, como monofásicos e trifásicos.

(C) os relés eletrodinâmicos utilizam líquidos como elemento temporizador e são construídos, normalmente, para ligação direta com a rede e montados nos polos de alimentação do disjuntor.

(D) os disjuntores de alta tensão para corrente contínua têm o princípio geral usual para extinção do arco elétrico favorecido, em comparação com os disjuntores para corrente alternada.

(E) os transformadores de potência (TP) podem ser construídos a partir de três tipos básicos: TP indutivo, TP capacitivo e TP resistivo.

56

Dois equipamentos elétricos de baixa tensão, exatamente iguais, foram montados em circuitos alimentados com cabos e protegidos por disjuntores. Os dois circuitos foram instalados em ambientes com grande diferença de temperatura. Para essas instalações, o(s)

- (A) circuito que alimenta o equipamento no local de maior temperatura terá maior queda de tensão.
- (B) disjuntor do circuito que alimenta o equipamento no local com temperatura mais elevada terá sua atuação retardada.
- (C) cabos dos circuitos de ambos os equipamentos deverão ter a mesma bitola.
- (D) disjuntores não sofrerão qualquer variação em suas atuações, independente das diferenças de temperaturas dos locais.
- (E) cabos do circuito que alimentará o equipamento no local de maior temperatura deverão ter maior bitola.

57

Dois transformadores de uma determinada subestação possuem as seguintes características:

Transformador	Potência nominal [kVA]	Impedância percentual [%]
1	1500	4
2	750	2,5

Considerando-se que a demanda solicitada da subestação é 2.150 kVA, o

- (A) valor da impedância média de curto-circuito é, aproximadamente, igual a 1,50%.
- (B) transformador 1 atenderá a uma carga de, aproximadamente, 1.190 kVA.
- (C) transformador 1 atenderá a uma carga de 1.300 kVA.
- (D) transformador 2 opera com uma sobrecarga de 10%.
- (E) transformador 2 atenderá a uma carga de 1.150 kVA.

58

Considerando-se características, fundamentos e fatores relevantes necessários à elaboração de projetos de sistemas de aterramento, analise as afirmativas abaixo.

- I - Dentre outros possíveis fatores, a resistividade do solo é influenciada pela sua umidade, temperatura e compactação.
- II - Em um curto-circuito envolvendo a terra, espera-se uma corrente baixa, próxima à corrente nominal, para correto acionamento da proteção.
- III - No sistema TN-S, as massas metálicas são aterradas em malhas próprias, ou seja, independentes da fonte.

Está correto o que se afirma em

- (A) I, apenas.
- (B) III, apenas.
- (C) I e III, apenas.
- (D) II e III, apenas.
- (E) I, II e III.

59

Com base na Lei nº 8666, de 21 de junho de 1993 e suas alterações, tratando-se de uma licitação cujo objeto é uma obra ou um serviço de engenharia,

- (A) a aprovação do Projeto Básico correlacionado é indispensável.
- (B) a dispensa de licitação ocorre apenas quando for caracterizada, formalmente, uma emergência.
- (C) a modalidade Concorrência Pública só pode ser usada quando o valor estimado da contratação for maior que R\$ 1.500.000,00 (um milhão e quinhentos mil reais) ou igual a esse valor.
- (D) esta será sempre do tipo Menor Preço.
- (E) somente poderão ser utilizadas as modalidades Tomada de Preço e Concorrência Pública.

60

No modelo OSI, a camada de mais alto nível manipulada pelo roteador é a camada de

- (A) aplicação.
- (B) transporte.
- (C) física.
- (D) enlace.
- (E) rede.