



CONCURSO PÚBLICO - 2005

Analista de Nível Superior
SOCIÓLOGO

SOCI

INSTRUÇÕES GERAIS

- Você recebeu do fiscal:
 - Um **caderno de questões** contendo 70 (setenta) questões objetivas de múltipla escolha da Prova Objetiva e 03 (três) questões da Prova Discursiva;
 - Um **cartão de respostas** personalizado para a Prova Objetiva;
 - Um **caderno de respostas** personalizado para a Prova Discursiva.
- **É responsabilidade do candidato certificar-se de que o nome do cargo/perfil informado nesta capa de prova corresponde ao nome do cargo/perfil informado em seu cartão de respostas.**
- Ao ser autorizado o início da prova, verifique, no **caderno de questões** se a numeração das questões e a paginação estão corretas.
- Você dispõe de 5 (cinco) horas para fazer a Prova Objetiva e a Prova Discursiva. Faça-as com tranqüilidade, mas **controle o seu tempo**. Este **tempo** inclui a marcação do **cartão de respostas** e o desenvolvimento das respostas da Prova Discursiva.
- **Não** será permitido ao candidato copiar seus assinalamentos feitos no **cartão de respostas** ou no **caderno de respostas**.
- Após o início da prova, será efetuada a coleta da impressão digital de cada candidato (Edital 01/2005 – Item 9.9 alínea a).
- Somente após decorrida uma hora do início das provas, o candidato poderá entregar o seu **caderno de questões** e o seu **cartão de respostas** e seu **caderno de respostas** e retirar-se da sala de prova (Edital 01/2005 – Item 9.9 alínea c).
- Somente será permitido levar o seu **caderno de questões** ao final da prova, desde que permaneça em sala até este momento (Edital 01/2005 – Item 9.9 alínea d).
- Após o término de sua prova, entregue obrigatoriamente ao fiscal o **cartão de respostas** devidamente **assinado** e o **caderno de respostas**.
- Os 3 (três) últimos candidatos de cada sala só poderão ser liberados juntos.
- Se você precisar de algum esclarecimento, solicite a presença do **responsável pelo local**.

INSTRUÇÕES - PROVA OBJETIVA

- Verifique se os seus dados estão corretos no **cartão de respostas**. Solicite ao fiscal para efetuar as correções na Ata de Aplicação de Prova.
- Leia atentamente cada questão e assinale no **cartão de respostas** a alternativa que mais adequadamente a responde.
- O **cartão de respostas** **NÃO** pode ser dobrado, amassado, rasurado, manchado ou conter qualquer registro fora dos locais destinados às respostas.
- A maneira correta de assinalar a alternativa no **cartão de respostas** é cobrindo, fortemente, com caneta esferográfica azul ou preta, o espaço a ela correspondente, conforme o exemplo a seguir:



INSTRUÇÕES - PROVA DISCURSIVA

- Verifique se os seus dados estão corretos no **caderno de respostas**. Solicite ao fiscal para efetuar as correções na Ata de Aplicação de Prova.
- Efetue a desidentificação do **caderno de respostas** destacando a parte onde estão contidos os seus dados.
- Somente será objeto de correção da Prova Discursiva o que estiver contido na **área reservada para a resposta**. **NÃO** será considerado o que estiver contido na **área reservada para rascunho**.
- O **caderno de respostas** **NÃO** pode ser dobrado, amassado, manchado, rasgado ou conter qualquer forma de **identificação do candidato**.
- **Use somente** caneta esferográfica azul ou preta.

CRONOGRAMA PREVISTO

ATIVIDADE	DATA	LOCAL
Divulgação do gabarito - Prova Objetiva (PO)	16/01/2006	www.nce.ufrj.br/concursos
Interposição de recursos contra o gabarito (RG) da (PO)	17 e 18/01/2006	NCE/UFRJ
Divulgação do resultado do julgamento dos recursos contra os RG da PO e o resultado final das PO	31/01/2006	www.nce.ufrj.br/concursos

Demais atividades consultar Manual do Candidato ou www.nce.ufrj.br/concursos

LÍNGUA PORTUGUESA

TEXTO – O PASTOREIO POLÍTICO

Luiz Carlos Lisboa

O século que se orgulha de grandes conquistas no terreno dos direitos humanos e das liberdades públicas é o mesmo em que se desenvolveram as formas mais requintadas e esmagadoras de dominação política e de intimidação coletiva. Essa contradição flagrante, escândalo de nosso tempo, é pouco analisada porque estamos todos muito imersos nela. E, portanto, comprometidos demais para fazermos um juízo exato a seu respeito. Esse comprometimento inclui vítimas e algozes, e cega a ambos da mesma forma.

01 - Segundo o primeiro período do texto, nosso século se caracteriza globalmente pela(pelo):

- (A) oposição entre liberdades e opressão;
- (B) orgulho pelas liberdades alcançadas;
- (C) surgimento de novas formas de intimidação coletiva;
- (D) aparecimento do respeito aos direitos humanos;
- (E) antítese entre o público e o privado.

02 - Na junção das palavras abaixo, a alternativa que mostra uma forma **NÃO** paralela estruturalmente às demais é:

- (A) grandes conquistas;
- (B) direitos humanos;
- (C) liberdades públicas;
- (D) dominação política;
- (E) intimidação coletiva.

03 - Na frase “em que se desenvolveram as formas mais requintadas e esmagadoras de dominação política”, a forma verbal “se desenvolveram” tem como forma equivalente:

- (A) se desenvolverem;
- (B) foram desenvolvidas;
- (C) serão desenvolvidas;
- (D) eram desenvolvidas;
- (E) se tivessem desenvolvido.

04 - No segundo e terceiro períodos do texto, o segmento que mostra um julgamento de valor do autor do texto sobre a característica de nosso século destacada no primeiro período é:

- (A) contradição flagrante;
- (B) escândalo de nosso tempo;
- (C) pouco analisada;
- (D) muito imersos;
- (E) juízo exato.

05 - Segundo o texto, não podemos analisar claramente a situação porque:

- (A) nos identificamos com as vítimas e com os algozes;
- (B) somos intimidados coletivamente;
- (C) estamos sempre comprometidos com um dos lados;
- (D) somos cegos, por nossa ignorância;
- (E) nos falta distanciamento histórico.

06 - “E, portanto, comprometidos demais para fazermos um juízo exato a esse respeito. Esse comprometimento inclui vítimas e algozes”; o tipo de relação de coesão exemplificada nesse segmento do texto entre as palavras sublinhadas se repete em:

- (A) Toda a população está atemorizada demais com a violência e esse medo tem causado muitos problemas;
- (B) Os direitos humanos têm sido desprezados pelas autoridades e se os desprezamos, caímos no caos;
- (C) As autoridades políticas estão bastante atarefadas e esse trabalho exagerado tem impedido que projetos mais importantes sejam discutidos;
- (D) As leis têm-se mostrado muito permissivas e essa permissividade tem incentivado a criminalidade;
- (E) São bastante contraditórias as leis dos direitos humanos e essa oposição tem prejudicado a sua discussão.

07 - “Esse comprometimento inclui vítimas e algozes”; na expressão da totalidade, o autor do texto construiu uma antítese (vítimas X algozes), construção que só **NÃO** ocorre em:

- (A) direitos X deveres;
- (B) público X privado;
- (C) político X civil;
- (D) coletivo X individual;
- (E) compromisso X descompromisso.

08 - A alternativa que **NÃO** aponta corretamente os termos que estão ligados, no texto, pela conjunção E é:

- (A) dos direitos humanos e as formas mais requintadas;
- (B) vítimas e algozes;
- (C) dominação política e da intimidação coletiva;
- (D) muito imersos nela e comprometidos demais;
- (E) inclui e cega.

09 - O termo “pastoreio político” que dá título ao texto, só está ligado semanticamente a:

- (A) liberdades públicas;
- (B) dominação política;
- (C) formas requintadas;
- (D) grandes conquistas;
- (E) direitos humanos.

10 - O termo “ambos”, presente na última linha do texto, refere-se a:

- (A) defensores e críticos dos direitos humanos;
- (B) os que possuem e não possuem liberdades públicas;
- (C) os que praticam e sofrem injustiças;
- (D) as vítimas e os que sofrem intimidação coletiva;
- (E) os que sofrem dominação política e intimidação coletiva.

LÍNGUA INGLESA

READ TEXT I AND ANSWER QUESTIONS 11 TO 15:

TEXT I



Sao Paulo's traffic congestion is notorious in Brazil

As oil prices continue to hover above the \$50-a-barrel mark, amid fears that the world may soon run out of fossil fuels, carmakers and politicians alike are desperate to come up with alternative ways to power the world's motor vehicles.

Even a man as closely linked with the oil industry as President George W Bush is now spreading the message that one day we may be growing our fuel instead of digging it out of the ground.

- 10 "An interesting opportunity, not only for here but for the rest of the world, is biodiesel, a fuel developed from soybeans," he said on Tuesday night at his joint news conference with UK Prime Minister Tony Blair.

For the owners of today's polluting gas-guzzlers, it is easy to see this as something for the far-distant future, an irrelevance that will not affect their lives for many years to come.

But in Brazil, it is happening as we speak.

Plant-powered cars

- 20 In the mid - 1980s – before any other country even thought of the idea – Brazil succeeded in mass-producing biofuel for motor vehicles: alcohol, derived from its plentiful supplies of sugar-cane.

Differently-powered cars were actually in the majority on Brazil's roads at the time, marking a major technological feat.

But the programme that had put the country so far ahead was very nearly consigned to history when oil prices slid back from high levels seen in the 1970s.

- 30 Alcohol-powered cars fell out of favour and languished in obscurity until last year, when production picked up again in a big way.

Now Brazilians can buy cars that give them the chance to mix and match alcohol with regular fuel – and conventional motor vehicles that run purely on petrol are looking old-fashioned once again.

(www.newsvote.bbc.co.uk 2005/06/08)

11 - The first paragraph signals that:

- (A) oil prices will decrease soon;
- (B) carmakers and politicians will clash;
- (C) fossil fuels will be difficult to find;
- (D) motor vehicles will be powerful;
- (E) the world may soon have a war.

12 - "Gas-guzzlers" (l.14) are cars that:

- (A) are very expensive;
- (B) use too much petrol;
- (C) have small fuel tanks;
- (D) are difficult to purchase;
- (E) belong to collectors only.

13 - "It is happening" (l.18) refers to the fact that:

- (A) cars are polluting the cities;
- (B) Bush is spreading a message;
- (C) soybean is not being planted;
- (D) Brazil is producing biofuel;
- (E) the car industry is blooming.

14 - "Marking a major technological feat" (ll.25-26) implies that the author is:

- (A) impressed;
- (B) upset;
- (C) doubtful;
- (D) worried;
- (E) relieved.

15 - According to the text, when oil prices slid back, alcohol production:

- (A) was finally implemented;
- (B) received a lot of support;
- (C) came to a final halt;
- (D) was almost interrupted;
- (E) became famous worldwide.

READ TEXT II AND ANSWER QUESTION 16:

TEXT II

Here is an ad from *Time Magazine* (Sept. 26, 2005):

**TO SATISFY MARKETS DEMANDS
AND RESPECT THOSE WHO MAKE NO DEMANDS**

Every day Total turns 318 million litres of oil into everyday products that combine leading edge technology and respect for the environment. As a European leader in oil refining, we apply a very strict code to limit the impact of our activities on the surrounding air, water and soil – for the benefit of everyone living nearby, including the wildlife.

16 - The main strategy used in this ad is a concern for the product's:

- (A) demand;
- (B) technology;
- (C) offer;
- (D) quality;
- (E) effect.

READ TEXT III AND ANSWER QUESTIONS 17 TO 20:

TEXT III

ENERGY USER NEWS
ENERGY MANAGEMENT FOR THE COMMERCIAL, INDUSTRIAL AND INSTITUTIONAL MARKETS

When electricity prices quadruple over the course of a few months, many companies that are unhedged and unprepared get hurt. Because prices will probably rise again, companies that can make economic sense of price spikes will be better prepared to manage their energy costs.

External Shocks

Electricity price spikes can be caused by external shocks to the economy. A few producing countries, for example, largely control oil supply; oil is an oligopolistic market. By controlling supply, a few players effectively *set the price*.¹⁰ The *ripple effects* of a shock depend upon its timing, magnitude, and type, and we cannot completely insulate ourselves from them. Fortunately, external shocks tend to be infrequent and easy to recognize. The price spikes in the electric market during the last few years are best explained by the fundamentals of commodity pricing and by problems associated with electric restructuring.

(<http://www.gcglaw.com/resources/energy/spikes.html>)

17 - The first sentence presents a(n):

- (A) warning;
- (B) suggestion;
- (C) assertion;
- (D) offer;
- (E) question.

18 - In the context, “set the price” (l.10) means:

- (A) resume the sequence;
- (B) decide on the cost;
- (C) evaluate the evidence;
- (D) establish the production;
- (E) assign the roles.

19 - When the author uses the word **ripple** in “ripple effects” (l.11), he or she creates an image related to:

- (A) air;
- (B) energy;
- (C) water;
- (D) fire;
- (E) electricity.

20 - According to the text, external shocks are:

- (A) constant;
- (B) identifiable;
- (C) common;
- (D) avoidable;
- (E) harmless.

CONHECIMENTOS SETOR ELÉTRICO

21 - De acordo com a Lei nº 8.001, de 13 de março de 1990, a distribuição mensal da compensação financeira de que trata o art. 2º da Lei nº 7.990, de 28 de dezembro de 1989, será rateada entre:

- (A) Estados e Ministério da Ciência e Tecnologia;
- (B) Municípios e Ministério da Ciência e Tecnologia;
- (C) Estados, Municípios e Ministério da Ciência e Tecnologia;
- (D) Estados, Municípios, Departamento Nacional de Águas e Energia Elétrica – DNAEE e Ministério da Ciência e Tecnologia;
- (E) Departamento Nacional de Águas e Energia Elétrica – DNAEE e Ministério da Ciência e Tecnologia.

22 - De acordo com a Lei nº 8.001, de 13 de março de 1990, a distribuição mensal da compensação financeira de que trata o art. 2º da Lei nº 7.990, de 28 de dezembro de 1989, será feita de forma que caberá ao Ministério da Ciência e Tecnologia o percentual de:

- (A) 45%;
- (B) 6%;
- (C) 2%;
- (D) 1%;
- (E) 0,1%.

23 - De acordo com a Lei nº 9.074, de 07 de julho de 1995, é objeto de concessão, mediante licitação, a implantação de usinas termelétricas destinadas à execução de serviço público, com potência superior a:

- (A) 5.000kW;
- (B) 2.500kW;
- (C) 1.500kW;
- (D) 1.000kW;
- (E) 500kW.

24 - De acordo com a Lei nº 9.074, de 07 de julho de 1995, nenhum aproveitamento hidrelétrico poderá ser licitado sem que o poder concedente defina o aproveitamento:

- (A) hidráulico;
- (B) ótimo;
- (C) hidroenergético;
- (D) máximo;
- (E) total.

25 - De acordo com a Lei nº 9.074, de 07 de julho de 1995, os novos consumidores terão livre escolha do fornecedor com quem contratará sua compra de energia elétrica, desde que sua carga seja maior ou igual a:

- (A) 50kW;
- (B) 300kW;
- (C) 500kW;
- (D) 1.500kW;
- (E) 3.000kW.

26 - De acordo com a Lei nº 7.990, de 28 de dezembro de 1989, a compensação financeira pela utilização de recursos hídricos, para fins de geração de energia elétrica, sobre o valor da energia produzida, será de:

- (A) 8%;
- (B) 6%;
- (C) 5%;
- (D) 3%;
- (E) 2%.

27 - De acordo com a Lei nº 7.990, de 28 de dezembro de 1989, a energia elétrica produzida pelas instalações geradoras com capacidade nominal igual ou inferior a 10.000kW fica:

- (A) sujeita a cobrança de 2% do faturamento a título de compensação financeira;
- (B) sujeita a cobrança de 4% do faturamento a título de compensação financeira;
- (C) sujeita a cobrança de 6% do faturamento a título de compensação financeira;
- (D) isenta do pagamento de compensação financeira;
- (E) sujeita a cobrança de uma taxa sobre o faturamento, a título de compensação financeira, calculada proporcionalmente à área inundada.

28 - De acordo com a Lei nº 9.427, de 26 de dezembro de 1996, a Agência Nacional de Energia Elétrica – ANEEL, em conformidade com as políticas e diretrizes do governo federal, tem por finalidade somente:

- (A) regular e fiscalizar a produção de energia elétrica;
- (B) regular e fiscalizar a transmissão de energia elétrica;
- (C) regular e fiscalizar a produção e a transmissão de energia elétrica;
- (D) regular e fiscalizar a transmissão e a distribuição de energia elétrica;
- (E) regular e fiscalizar a produção, transmissão, distribuição e comercialização de energia elétrica.

29 - De acordo com a Lei nº 9.427, de 26 de dezembro de 1996, a realização de estudos de viabilidade, anteprojetos ou projetos de aproveitamento de potenciais hidráulicos:

- (A) não gera direito de preferência para a obtenção de concessão para serviço público ou uso de bem público;
- (B) gera direito de preferência para a obtenção de concessão para serviço público ou uso de bem público;
- (C) gera direito exclusivo para a obtenção de concessão para serviço público ou uso de bem público;
- (D) gera direito de preferência para a obtenção de concessão para serviço público ou uso de bem público, desde que o poder público não manifeste o seu interesse;
- (E) gera direito de preferência para a obtenção de concessão para serviço público ou uso de bem público, desde que a potência envolvida seja inferior a 50.000kW.



30 - De acordo com a Lei nº 9.427, de 26 de dezembro de 1996, a suspensão, por falta de pagamento, do fornecimento de energia elétrica a consumidor que preste serviço público ou essencial à população e cuja atividade sofra prejuízo deverá ser comunicada ao Poder Público local ou ao Poder Executivo Estadual com antecedência de:

- (A) 5 dias;
- (B) 10 dias;
- (C) 15 dias;
- (D) 30 dias;
- (E) 60 dias.

CONHECIMENTOS DE INFORMÁTICA

Nas questões de **31** a **40**, considere as configurações padrões de software e hardware, a não ser quando explicitamente especificado.

31 - Considere a aplicação, na ordem apresentada, dos seguintes passos durante a edição de um documento no Microsoft Word 2000, versão em Português:

- Selecionar a opção *cabeçalho e rodapé* do menu *Exibir*
- Na barra de ferramentas que se abre, pressionar o ícone  (*Inserir número da página*)
- Pressionar em seguida o ícone  (*Inserir número de páginas*)
- Pressionar o botão *Fechar* na barra de ferramentas *Cabeçalho e rodapé*

Supondo-se que o documento tenha 25 páginas, após a aplicação deste procedimento o número que estará aparente no cabeçalho da quinta página será:

- (A) 5
- (B) 25
- (C) 55
- (D) 525
- (E) 2525

32 - Observe o trecho de uma planilha Excel mostrado na figura a seguir:

	A	B	C	D
1	1	6	3	=SE(MÁXIMO(A1:C2)>=6;MÍNIMO(A1:A2);MÍNIMO(C1:C2))
2	2	6	4	

Se a fórmula mostrada for aplicada à célula D1, o valor da célula será:

- (A) 1
- (B) 2
- (C) 3
- (D) 4
- (E) 6

33 - A seqüência de caracteres que indica o protocolo utilizado para carregar páginas Web é:

- (A) www
- (B) http://
- (C) .br
- (D) url
- (E) hppt:\\






34 - Analise as seguintes afirmativas sobre a área de transferência no Microsoft Windows 2000, versão em Português:

- I - A área de transferência pode reter vários objetos ao mesmo tempo.
- II - Ao desligar o computador, os dados armazenados na área de transferência são perdidos.
- III - Os dados armazenados na área de transferência podem ser colados uma única vez.
- IV - A área de transferência pode armazenar somente texto.

O número de afirmativas corretas é:

- (A) 0
- (B) 1
- (C) 2
- (D) 3
- (E) 4

35 - Ao clicar com o botão direito do mouse sobre as unidades de armazenamento instaladas em um computador, uma delas apresentou a opção *Desconectar-se*. A unidade onde isso aconteceu é:

- (A) 
- (B) 
- (C) 
- (D) 
- (E) 

40 - Observe o fragmento de planilha extraído do MS Excel 2000 em português:

	A	B	C
1	Fornecedor	Mercadoria	Preço
2	4 Carros de Ré	Pera	X\$ 8,75
3	Adicional	Uva	X\$ 2,87
4	Caminho Livre	Maçã	X\$ 5,28
5	Pegue e Pague	Pera	X\$ 7,52
6	O Sujão	Uva	X\$ 2,87
7	Boas Compras	Maçã	X\$ 5,82

Deseja-se aplicar uma transformação a esses dados de modo a obter o resultado mostrado na figura a seguir:

	A	B	C
1	Fornecedor	Mercadoria	Preço
2	Boas Compras	Maçã	X\$ 5,82
3	Caminho Livre	Maçã	X\$ 5,28
4	4 Carros de Ré	Pera	X\$ 8,75
5	Pegue e Pague	Pera	X\$ 7,52
6	O Sujão	Uva	X\$ 2,87
7	Adicional	Uva	X\$ 2,87

Para se obter este resultado, todas as células mostradas são selecionadas e as opções no diálogo a seguir são preenchidas com valores apropriados.

Estes valores são:

- (A) Classificar por Mercadoria, Crescente; Em seguida por Preço, Decrescente, E depois por Fornecedor, Decrescente;
- (B) Classificar por Fornecedor, Crescente, Em seguida por Preço, Decrescente, E depois por Mercadoria, Crescente;
- (C) Classificar por Fornecedor, Crescente, Em seguida por Preço, Decrescente, E depois por Mercadoria, Decrescente;
- (D) Classificar por Preço, Crescente, Em seguida por Mercadoria, Crescente, E depois por fornecedor, Decrescente;
- (E) Classificar por Mercadoria, Crescente; Em seguida por Preço, Decrescente, E depois por Fornecedor, Crescente.

SOCIÓLOGO

41 - Para Max Weber, homens como Maomé exerceram um tipo de dominação legítima chamado de:

- (A) racional-legal;
- (B) carismático;
- (C) tradicional;
- (D) teocrático;
- (E) patriarcal.

42 - Os quatro tipos de ação social segundo Max Weber são:

- (A) racional, irracional, afetivo e valorativo;
- (B) universalista, particularista, singular e típico;
- (C) racional a fins, racional a valores, tradicional e afetivo;
- (D) instrumental, racional em relação a valores, irracional e tradicional;
- (E) racional, universalista, racional a fins e instrumental.

43 - Ao contrário da solidariedade orgânica, os vínculos sociais na solidariedade mecânica, segundo Durkheim, baseiam-se principalmente na:

- (A) similitude;
- (B) diferença;
- (C) anomia;
- (D) individualização;
- (E) heterogeneidade.

44 - “Agregando-se, penetrando-se, fundindo-se, as almas individuais dão origem a um ser, psíquico se quisermos, mas que constitui uma individualidade psíquica de um novo gênero... Eis em que sentido, e por que razões podemos e devemos falar de uma consciência coletiva diferente das consciências individuais”.

Essa frase, retirada de um dos grandes sociólogos do século passado, resume com clareza uma de suas principais teses e permite identificá-lo como sendo:

- (A) Georg Simmel;
- (B) Max Weber;
- (C) Vilfredo Pareto;
- (D) Raymond Boudon;
- (E) Émile Durkheim.

45 - A sociologia, como disciplina científica, nasce no bojo das grandes revoluções econômicas e políticas que marcaram a passagem do século XVIII para o século XIX. Entre seus principais precursores, podemos citar:

- (A) Heinrich Heine, Karl Marx e Friedrich Engels;
- (B) Condorcet, Saint-Simon e Henri Poincaré;
- (C) Joseph Proudhon, Karl Marx e Vilfredo Pareto;
- (D) Montesquieu, Saint-Simon e Tocqueville;
- (E) Condorcet, Montesquieu e Poincaré.

46 - Entre os principais fatores que desencadearam a Revolução Industrial na Inglaterra, **NÃO** está:

- (A) a máquina a vapor;
- (B) a formação do proletariado urbano;
- (C) as inovações nos meios de produção têxteis;
- (D) o sistema dos *enclosures*;
- (E) a restauração dos Stuarts.

47 - A “Revolução dos Iguais”, de Babeuf, no curso da Revolução Francesa, influenciou:

- (A) o advento do moderno movimento socialista;
- (B) o surgimento do positivismo nas ciências sociais;
- (C) o desenvolvimento do igualitarismo inglês;
- (D) o fortalecimento das *trade-unions* nos Estados Unidos;
- (E) o quebra-quebra de máquinas pelo movimento luddista na Inglaterra.

48 - Em visita aos Estados Unidos da América, nos primeiros anos do século XIX, Aléxis de Tocqueville vislumbrou no individualismo igualitário norte-americano as bases morais da democracia moderna. Pode-se afirmar que:

- (A) a assertiva é correta, mas a visita foi no início do século XX;
- (B) a assertiva está completamente errada;
- (C) a assertiva está correta, mas o personagem trocado: foi Augusto Comte e não Tocqueville;
- (D) a assertiva está correta;
- (E) a primeira parte da assertiva está correta, a segunda parte está errada.

49 - Para Karl Marx, a mais-valia resulta:

- (A) da diferença entre o preço do salário e o valor apropriado pelo capital na compra da mercadoria força de trabalho;
- (B) da exploração direta do excedente de valor, pelo capitalista, sobre o processo de produção;
- (C) da diferença entre o valor da força de trabalho e o valor produzido por ela durante uma jornada de trabalho;
- (D) da sistemática expropriação econômica dos trabalhadores de seus meios de produção;
- (E) do roubo sistemático estabelecido pelo sistema da renda capitalista sobre os trabalhadores assalariados.

50 - O jovem Marx, nos Manuscritos de Paris de 1844, utilizou a concepção feuerbachiana de “alienação” como ponto de partida de sua crítica da economia política. O significado principal dessa noção, tal como comparece naquela obra, é o seguinte:

- (A) refere-se às ilusões criadas pelas religiões, especialmente pelo cristianismo, que se transforma assim no ópio do povo;
- (B) significa objetivação da essência humana na técnica, que agora lhe aparece como externa ao homem;
- (C) representa a perda do controle pelo trabalhador sobre o valor social do seu próprio trabalho;
- (D) representa a ausência de consciência de classe pelos trabalhadores, resultante da ideologia capitalista;
- (E) refere-se à separação do trabalhador em relação às condições, meios, sentido e produto do seu próprio trabalho.

51 - “Um mecanismo de controle social é, (...) um processo motivacional em um ou mais atores *individuais* que tende a *neutralizar* uma tendência para o desvio do cumprimento das expectativas do papel no próprio ator ou em um ou mais alters. É um mecanismo de reequilíbrio”. Este trecho, retirado de sua obra clássica *The Social System*, representa um pouco do estilo e da pretensão teórica que seu autor trouxe para a sociologia:

- (A) Robert King Merton;
- (B) Howard S. Becker;
- (C) Robert Park;
- (D) Talcott Parsons;
- (E) Erving Goffman.

52 - A escola filosófica mais estreitamente relacionada ao desenvolvimento da sociologia na chamada “Escola de Chicago” e na perspectiva interacionista simbólica é:

- (A) positivismo;
- (B) pragmatismo;
- (C) filosofia da linguagem;
- (D) filosofia analítica;
- (E) teoria crítica.

53 - Conceitos como “estoque de conhecimento”, “tipificação”, “zonas de relevância”, “mundo da vida” fazem parte de uma das mais originais contribuições à sociologia produzidas sob a direta influência da fenomenologia de Husserl. Seu formulador chamava-se:

- (A) Alfred Schutz;
- (B) Georg Simmel;
- (C) Max Scheller;
- (D) Norbert Elias;
- (E) Erving Goffman.

54 - De acordo com o individualismo metodológico, é correto afirmar que:

- (A) todas as instituições e coletividades não devem ser tratadas como um “sujeito de ação”, pois são representações psicológicas de condutas esperadas de indivíduos, os únicos sujeitos reais da ação;
- (B) nenhuma explicação sociológica será minimamente possível a não ser que expresse aspectos dos indivíduos – suas propriedades, objetivos, crenças e ações;
- (C) todas as totalidades sociais devem ser reduzidas ontologicamente aos indivíduos que as compõem, pois sem eles não são nada;
- (D) os fins das ações são sempre individuais e, portanto, os bens sociais e instituições não passam de agregados de bens individuais. É também uma perspectiva conhecida como atomismo;
- (E) a fonte do conhecimento é colocada dentro do indivíduo. No plano ético, a moralidade é inteiramente orientada ao indivíduo seja sob a forma do egoísmo, seja sob a forma do altruísmo.

55 - Vejamos duas notícias:

“O atropelamento ocorreu às cinco horas da manhã, sob forte neblina, quando a visibilidade média não ultrapassava dois metros. Testemunhas afirmam que o veículo rodava em baixa velocidade e que a vítima, ao atravessar a estrada, não o notou”.

“Dois irmãos, criados pelos seus pais, na mesma casa, sob as mesmas circunstâncias sociais, seguiram trajetórias de vida completamente diferentes. O mais novo é hoje um notável pastor evangélico, enquanto o mais velho envolveu-se com o tráfico de drogas e encontra-se cumprindo pena na penitenciária estadual”.

Dois são os esquemas explicativos implícitos nessas notícias:

- (A) no primeiro caso, um modelo causal; no segundo, um modelo de escolha racional;
- (B) no primeiro caso, um modelo de escolha racional; no segundo, um modelo causal;
- (C) no primeiro caso, um modelo causal contra-factual; no segundo, um modelo causal linear que resultou num “dilema de prisioneiro”;
- (D) no primeiro caso, um modelo causal linear; no segundo, um modelo causal contra-factual;
- (E) no primeiro caso, um modelo causal contra-factual; no segundo, um modelo de escolha racional que resultou num “jogo da galinha”.

56 - “Aqueles momentos de confraternização entre os extremos sociais... – a procissão, a festa de igreja, o entrudo – é que foram fazendo das ruas e praças mais largas – da rua em geral – zonas de confraternização. Marcaram um prestígio novo no nosso sistema de relações sociais: o prestígio da rua” (Gilberto Freyre, Sobrados e Mucambos).

Ao enfatizar a predominância da casa sobre a rua até princípios do século XIX, Freyre desenhou um esquema analítico que ainda hoje fecunda as análises sobre o significado e as relações entre o espaço privado e o espaço público no Brasil. Um dos autores mais influentes que desenvolve a análise da relação entre “casa” e “rua” e entre “pessoa” e “indivíduo” atualmente no Brasil é:

- (A) Florestan Fernandes;
- (B) Gilberto Velho;
- (C) Roberto da Matta;
- (D) Chico de Oliveira;
- (E) José Murilo de Carvalho.

57 - O tema das relações raciais no Brasil ocupou e ainda ocupa grande parte da literatura sociológica brasileira. Duas perspectivas se confrontaram nos anos 50 e 60, uma que enfatizava uma discriminação de cor atenuada pela miscigenação e a hierarquia, outra que insistia sobre desigualdade racial e persistência do racismo. Nessa ordem, seus representantes mais importantes foram:

- (A) Roger Bastide e Donald Pierson;
- (B) Gilberto Freyre e Florestan Fernandes;
- (C) Thales de Azevedo e Oracy Nogueira;
- (D) Carlos Hasenbalg e Peter Fry;
- (E) Marco Antonio da Silva Mello e Yvonne Maggie.

58 - Frequentemente usadas nas descrições estatísticas em ciências sociais, as medidas de tendência central são importantes instrumentos para a análise empírica em sociologia. Assinale a alternativa INCORRETA:

- (A) a “moda” é o escore ou categoria que, numa distribuição, ocorre com maior frequência;
- (B) a “mediana” corresponde ao ponto central da distribuição, cortando-a em duas partes iguais;
- (C) a “média aritmética” é o resultado da soma de um conjunto de escores dividida pelo número de escores desse conjunto;
- (D) a “moda” é o escore ou categoria que, numa distribuição, corresponde ao ponto central, cortando-a em duas partes iguais;
- (E) a “mediana” exige uma ordenação das categorias, da mais alta à mais baixa, e por essa razão ela só pode ser obtida a partir de dados ordinais ou intervalares, mas nunca de dados nominais.

59 - O controle de símbolos de status e informações sobre a identidade pessoal e sua manipulação eventual para apresentar um Eu diferente daquele que se sabe, ou que se supõe, que os outros têm a meu respeito, é um dos procedimentos básicos estudados na obra que marcou um importante passo na incorporação da “teoria dos papéis sociais” a uma perspectiva dramaturgica da vida social. O livro e o autor a que se refere a frase acima são:

- (A) “Outsiders”, de Howard Becker;
- (B) “Street Corner Society”, de William Foot-White;
- (C) “Stigma”, de Erving Goffman;
- (D) “Hobo”, de Nils Anderson;
- (E) “Mind, Self and Society”, de George H. Mead.

60 - A teoria produzida por sociólogos brasileiros nos anos 60 mais difundida internacionalmente é conhecida pelo nome de:

- (A) teoria da dependência;
- (B) teoria das trocas desiguais;
- (C) teoria da fricção interétnica;
- (D) teoria da democracia racial;
- (E) teoria da modernização conservadora.

61 - “Efeitos perversos” em sociologia tem o significado de:

- (A) resultados não intencionais de uma ação social;
- (B) efeitos de transgressões às expectativas de comportamento numa situação definida;
- (C) resultados de ações sociais passíveis de criminalização;
- (D) associação entre causas econômicas e efeitos sociais;
- (E) desvio de uma ação social bem intencionada cujos efeitos terminam por ser perversos para a sociedade.

62 - “A estatística oficial da polícia sobre “gatos” (furto de energia elétrica) e furto de fios de cobre retirado de postes em vias públicas assinala que houve um aumento considerável de incidência nos últimos dois anos, principalmente após a veiculação na mídia desse tipo de ocorrências”.

A notícia acima pode ser interpretada como:

- (A) evidência de um incremento real de furtos desse tipo revelado nas estatísticas policiais;
- (B) informação de que há mais registros policiais desse tipo de furtos e de que existe uma associação entre esse aumento e a sua veiculação na mídia;
- (C) demonstração de que há uma correlação entre o aumento real de furtos desse tipo e sua veiculação pela mídia;
- (D) informação de que furtos desse tipo, quando registrados pela polícia e veiculados na mídia, tendem a produzir mais ocorrências desse tipo do que antes;
- (E) nada se pode concluir da referida notícia.

63 - Uma das obras seminais da sociologia do trabalho e do sindicalismo no Brasil foi publicada pela primeira vez em 1966:

- (A) Conflito Industrial e Sindicalismo no Brasil, de Leôncio Martins Rodrigues;
- (B) A Consciência Conservadora no Brasil, de Paulo Mercadante;
- (C) Estado-Patrão e Luta Operária, de José Ricardo Ramalho;
- (D) O Silêncio dos Vencidos, de Edgard de Decca;
- (E) Trabalho e Conflito, de Edgard Rodrigues.

64 - Muito conhecida é a “teoria de médio alcance” de Roberto King Merton, em que ele tipifica cinco modos de adaptação individual à anomia produzida pela disjunção entre metas culturais e normas institucionalizadas. Segundo Merton, transgressões como as do vigarista, do ladrão, do corrupto, se encaixariam no seguinte modo de adaptação:

- (A) aberração;
- (B) retraimento;
- (C) *serendipity*;
- (D) rebelião;
- (E) inovação.

65 - Weber definia classes sociais de um modo diferente de Marx, embora ambos vissem seu fundamento na estrutura econômico-social. Uma das divergências principais, quanto ao conceito, refere-se ao fato de que:

- (A) Weber define as classes pelo seu status econômico, enquanto Marx as define pelo modo de produção;
- (B) Weber define as classes pela situação de mercado, enquanto Marx as define pela posição que ocupam no processo social de produção;
- (C) embora ambos vejam seus fundamentos na estrutura econômico-social, Weber define as classes pela superestrutura jurídico-política e ideológica, enquanto Marx as define pela infraestrutura do sistema de mercado;
- (D) Weber define as classes pela posição que ocupam no processo social de produção, enquanto Marx as define pela situação de mercado;
- (E) Weber define as classes pelos seus diferentes poderes de disposição econômica, enquanto Marx as define pela existência ou não de consciência de classe.

66 - Wanderley Guilherme dos Santos, em seu muito citado livro “Cidadania e Justiça. A Política Social na Ordem Brasileira”, de 1979, introduz o conceito de “cidadania regulada” para melhor explicar as vicissitudes da cidadania no Brasil. Esse conceito, tal como descrito pelo autor, enfatiza o fato de que:

- (A) no Brasil existem três tipos de cidadão, o cidadão acima da lei, o cidadão que tem acesso a todos os direitos, e o sub-cidadão, que não tem acesso a qualquer direito;
- (B) a cidadania está embutida na profissão e os direitos do cidadão restringem-se aos direitos do lugar que ocupa no processo produtivo, tal como reconhecido por lei. Tornam-se pré-cidadãos, assim, todos aqueles cuja ocupação a lei desconhece;
- (C) a cidadania no Brasil começou pelos direitos políticos e só após o Estado Novo, com a regulação dos direitos trabalhistas, abriu espaço à conquista dos direitos civis e dos direitos humanos;
- (D) o Estado regula todos os direitos dos cidadãos, não lhes restando outra alternativa senão submeter-se à lei, que nem sempre os trata de forma igualitária, já que incorpora privilégios decorrentes da profunda desigualdade social brasileira;
- (E) a questão é falsa, pois Wanderley Guilherme dos Santos não é o autor do livro citado e não introduziu o conceito de “cidadania regulada”, cujo verdadeiro autor é o Marquês de Maricá.

67 - São nomes importantes da chamada “Escola Paulista” da Sociologia, no Brasil, alguns dos mais conhecidos alunos de Florestan Fernandes na antiga Faculdade de Filosofia, Ciências e Letras da Universidade de São Paulo:

- (A) Fernando Henrique Cardoso, Octávio Ianni e Oliveira Vianna;
- (B) Fernando Henrique Cardoso, Gabriel Cohn e Simon Schwartzman;
- (C) Fernando Henrique Cardoso, Luiz Pereira e Octávio Ianni;
- (D) Fernando Henrique Cardoso, José de Souza Martins e Sérgio Buarque de Hollanda;
- (E) Fernando Henrique Cardoso, Leôncio Martins Rodrigues e Fernando de Azevedo.

68 - Os problemas insistentemente apontados nos estudos sobre a organização social brasileira, quando comparados às nações do capitalismo avançado, tendem a agrupar-se em torno da/do:

- (A) ausência de uma racionalidade instrumental nos órgãos públicos, levando-os à ineficiência sistemática;
- (B) baixa capacidade produtiva das empresas estatais brasileiras, decorrente do fato de ainda operarem sob o regime autárquico;
- (C) permanência de dimensões particularistas na aplicação de leis e tomadas de decisão, baixa solidariedade de interesses e forte desigualdade no acesso a direitos;
- (D) existência de um Estado fraco e sem legitimidade junto à sociedade, incapaz de liderar um processo de desenvolvimento econômico planejado de longa duração;
- (E) uso clientelista de funções públicas nas empresas estatais e privadas, dificultando a universalização de direitos e da racionalidade empresarial.

69 - A polêmica em torno da adoção ou não da política de cotas para negros nas universidades públicas brasileiras centra-se em torno de vários argumentos. A esse respeito, assinale a afirmativa INCORRETA:

- (A) não existe democracia racial no Brasil;
- (B) não há uma dicotomia racial no Brasil opondo brancos a negros;
- (C) trata-se de uma ação afirmativa bem sucedida em todos os países do mundo;
- (D) a classificação de cor no Brasil é variada e complexa, devido à miscigenação;
- (E) o problema racial no Brasil não pode ser desvinculado do problema da pobreza e da desigualdade, que também afeta parte significativa dos brancos.

70 - Assinale a leitura INCORRETA da tabela abaixo:

Distribuição percentual das entidades de classe por setores da atividade industrial:

Setores	Sindicatos	Associações
Tradicional	69	41
Moderno	31	59
Total	100% (N=539)	100% (N=194)

Extraído de “Elites Políticas e Econômicas no Brasil Contemporâneo”, de Renato Boschi, Eli Diniz e Fabiano Santos.

- (A) o setor tradicional predomina entre os sindicatos, mas não entre as associações, onde predomina o setor moderno;
- (B) verifica-se uma diferença entre sindicatos e associações, na medida em que estas últimas proliferam nos setores mais modernos, enquanto um número proporcionalmente maior de sindicatos se concentra nos setores tradicionais da indústria;
- (C) os sindicatos são mais representativos que as associações nos setores tradicionais, enquanto perdem para elas no setor moderno da economia;
- (D) os sindicatos são menos representativos que as associações nos setores modernos, enquanto ganham delas no setor tradicional da atividade industrial;
- (E) há mais equilíbrio na relação tradicional/moderno entre as associações que entre os sindicatos da indústria.

DISCURSIVA - SOCIÓLOGO

Questão 1 - Aponte as principais diferenças entre uma abordagem macrosociológica e uma abordagem microsociológica.

Máximo permitido : 30 linhas para resposta

Questão 2 - Discorra sobre as relações entre o privado e o público no Brasil, com base na bibliografia sociológica pertinente.

Máximo permitido : 30 linhas para resposta

Questão 3 - Disserte sobre o contexto histórico de surgimento da sociologia e de que modo essa disciplina se insere na constelação cultural de nosso tempo.

Máximo permitido : 30 linhas para resposta



Núcleo de Computação Eletrônica
Universidade Federal do Rio de Janeiro

Prédio do CCMN - Bloco C
Cidade Universitária - Ilha do Fundão - RJ
Central de Atendimento - (21) 2598-3333
Internet: <http://www.nce.ufrj.br>