



CONCURSO PÚBLICO - 2005

Analista de Nível Superior
BIBLIOTECÁRIO

BIBL

INSTRUÇÕES GERAIS

- Você recebeu do fiscal:
 - Um **caderno de questões** contendo 70 (setenta) questões objetivas de múltipla escolha da Prova Objetiva e 03 (três) questões da Prova Discursiva;
 - Um **cartão de respostas** personalizado para a Prova Objetiva;
 - Um **caderno de respostas** personalizado para a Prova Discursiva.
- **É responsabilidade do candidato certificar-se de que o nome do cargo/perfil informado nesta capa de prova corresponde ao nome do cargo/perfil informado em seu cartão de respostas.**
- Ao ser autorizado o início da prova, verifique, no **caderno de questões** se a numeração das questões e a paginação estão corretas.
- Você dispõe de 5 (cinco) horas para fazer a Prova Objetiva e a Prova Discursiva. Faça-as com tranqüilidade, mas **controle o seu tempo**. Este **tempo** inclui a marcação do **cartão de respostas** e o desenvolvimento das respostas da Prova Discursiva.
- **Não** será permitido ao candidato copiar seus assinalamentos feitos no **cartão de respostas** ou no **caderno de respostas**.
- Após o início da prova, será efetuada a coleta da impressão digital de cada candidato (Edital 01/2005 – Item 9.9 alínea a).
- Somente após decorrida uma hora do início das provas, o candidato poderá entregar o seu **caderno de questões** e o seu **cartão de respostas** e seu **caderno de respostas** e retirar-se da sala de prova (Edital 01/2005 – Item 9.9 alínea c).
- Somente será permitido levar o seu **caderno de questões** ao final da prova, desde que permaneça em sala até este momento (Edital 01/2005 – Item 9.9 alínea d).
- Após o término de sua prova, entregue obrigatoriamente ao fiscal o **cartão de respostas** devidamente **assinado** e o **caderno de respostas**.
- Os 3 (três) últimos candidatos de cada sala só poderão ser liberados juntos.
- Se você precisar de algum esclarecimento, solicite a presença do **responsável pelo local**.

INSTRUÇÕES - PROVA OBJETIVA

- Verifique se os seus dados estão corretos no **cartão de respostas**. Solicite ao fiscal para efetuar as correções na Ata de Aplicação de Prova.
- Leia atentamente cada questão e assinale no **cartão de respostas** a alternativa que mais adequadamente a responde.
- O **cartão de respostas** **NÃO** pode ser dobrado, amassado, rasurado, manchado ou conter qualquer registro fora dos locais destinados às respostas.
- A maneira correta de assinalar a alternativa no **cartão de respostas** é cobrindo, fortemente, com caneta esferográfica azul ou preta, o espaço a ela correspondente, conforme o exemplo a seguir:



INSTRUÇÕES - PROVA DISCURSIVA

- Verifique se os seus dados estão corretos no **caderno de respostas**. Solicite ao fiscal para efetuar as correções na Ata de Aplicação de Prova.
- Efetue a desidentificação do **caderno de respostas** destacando a parte onde estão contidos os seus dados.
- Somente será objeto de correção da Prova Discursiva o que estiver contido na **área reservada para a resposta**. **NÃO** será considerado o que estiver contido na **área reservada para rascunho**.
- O **caderno de respostas** **NÃO** pode ser dobrado, amassado, manchado, rasgado ou conter qualquer forma de **identificação do candidato**.
- **Use somente** caneta esferográfica azul ou preta.

CRONOGRAMA PREVISTO

ATIVIDADE	DATA	LOCAL
Divulgação do gabarito - Prova Objetiva (PO)	16/01/2006	www.nce.ufrj.br/concursos
Interposição de recursos contra o gabarito (RG) da (PO)	17 e 18/01/2006	NCE/UFRJ
Divulgação do resultado do julgamento dos recursos contra os RG da PO e o resultado final das PO	31/01/2006	www.nce.ufrj.br/concursos

Demais atividades consultar Manual do Candidato ou www.nce.ufrj.br/concursos

LÍNGUA PORTUGUESA

TEXTO – O PASTOREIO POLÍTICO

Luiz Carlos Lisboa

O século que se orgulha de grandes conquistas no terreno dos direitos humanos e das liberdades públicas é o mesmo em que se desenvolveram as formas mais requintadas e esmagadoras de dominação política e de intimidação coletiva. Essa contradição flagrante, escândalo de nosso tempo, é pouco analisada porque estamos todos muito imersos nela. E, portanto, comprometidos demais para fazermos um juízo exato a seu respeito. Esse comprometimento inclui vítimas e algozes, e cega a ambos da mesma forma.

01 - Segundo o primeiro período do texto, nosso século se caracteriza globalmente pela(pelo):

- (A) oposição entre liberdades e opressão;
- (B) orgulho pelas liberdades alcançadas;
- (C) surgimento de novas formas de intimidação coletiva;
- (D) aparecimento do respeito aos direitos humanos;
- (E) antítese entre o público e o privado.

02 - Na junção das palavras abaixo, a alternativa que mostra uma forma **NÃO** paralela estruturalmente às demais é:

- (A) grandes conquistas;
- (B) direitos humanos;
- (C) liberdades públicas;
- (D) dominação política;
- (E) intimidação coletiva.

03 - Na frase “em que se desenvolveram as formas mais requintadas e esmagadoras de dominação política”, a forma verbal “se desenvolveram” tem como forma equivalente:

- (A) se desenvolverem;
- (B) foram desenvolvidas;
- (C) serão desenvolvidas;
- (D) eram desenvolvidas;
- (E) se tivessem desenvolvido.

04 - No segundo e terceiro períodos do texto, o segmento que mostra um julgamento de valor do autor do texto sobre a característica de nosso século destacada no primeiro período é:

- (A) contradição flagrante;
- (B) escândalo de nosso tempo;
- (C) pouco analisada;
- (D) muito imersos;
- (E) juízo exato.

05 - Segundo o texto, não podemos analisar claramente a situação porque:

- (A) nos identificamos com as vítimas e com os algozes;
- (B) somos intimidados coletivamente;
- (C) estamos sempre comprometidos com um dos lados;
- (D) somos cegos, por nossa ignorância;
- (E) nos falta distanciamento histórico.

06 - “E, portanto, comprometidos demais para fazermos um juízo exato a esse respeito. Esse comprometimento inclui vítimas e algozes”; o tipo de relação de coesão exemplificada nesse segmento do texto entre as palavras sublinhadas se repete em:

- (A) Toda a população está atemorizada demais com a violência e esse medo tem causado muitos problemas;
- (B) Os direitos humanos têm sido desprezados pelas autoridades e se os desprezamos, caímos no caos;
- (C) As autoridades políticas estão bastante atarefadas e esse trabalho exagerado tem impedido que projetos mais importantes sejam discutidos;
- (D) As leis têm-se mostrado muito permissivas e essa permissividade tem incentivado a criminalidade;
- (E) São bastante contraditórias as leis dos direitos humanos e essa oposição tem prejudicado a sua discussão.

07 - “Esse comprometimento inclui vítimas e algozes”; na expressão da totalidade, o autor do texto construiu uma antítese (vítimas X algozes), construção que só **NÃO** ocorre em:

- (A) direitos X deveres;
- (B) público X privado;
- (C) político X civil;
- (D) coletivo X individual;
- (E) compromisso X descompromisso.

08 - A alternativa que **NÃO** aponta corretamente os termos que estão ligados, no texto, pela conjunção E é:

- (A) dos direitos humanos e as formas mais requintadas;
- (B) vítimas e algozes;
- (C) dominação política e da intimidação coletiva;
- (D) muito imersos nela e comprometidos demais;
- (E) inclui e cega.

09 - O termo “pastoreio político” que dá título ao texto, só está ligado semanticamente a:

- (A) liberdades públicas;
- (B) dominação política;
- (C) formas requintadas;
- (D) grandes conquistas;
- (E) direitos humanos.

10 - O termo “ambos”, presente na última linha do texto, refere-se a:

- (A) defensores e críticos dos direitos humanos;
- (B) os que possuem e não possuem liberdades públicas;
- (C) os que praticam e sofrem injustiças;
- (D) as vítimas e os que sofrem intimidação coletiva;
- (E) os que sofrem dominação política e intimidação coletiva.

LÍNGUA INGLESA

READ TEXT I AND ANSWER QUESTIONS 11 TO 15:

TEXT I



Sao Paulo's traffic congestion is notorious in Brazil

As oil prices continue to hover above the \$50-a-barrel mark, amid fears that the world may soon run out of fossil fuels, carmakers and politicians alike are desperate to come up with alternative ways to power the world's motor vehicles.

Even a man as closely linked with the oil industry as President George W Bush is now spreading the message that one day we may be growing our fuel instead of digging it out of the ground.

- 10 "An interesting opportunity, not only for here but for the rest of the world, is biodiesel, a fuel developed from soybeans," he said on Tuesday night at his joint news conference with UK Prime Minister Tony Blair.

For the owners of today's polluting gas-guzzlers, it is easy to see this as something for the far-distant future, an irrelevance that will not affect their lives for many years to come.

But in Brazil, it is happening as we speak.

Plant-powered cars

- 20 In the mid - 1980s – before any other country even thought of the idea – Brazil succeeded in mass-producing biofuel for motor vehicles: alcohol, derived from its plentiful supplies of sugar-cane.

Differently-powered cars were actually in the majority on Brazil's roads at the time, marking a major technological feat.

But the programme that had put the country so far ahead was very nearly consigned to history when oil prices slid back from high levels seen in the 1970s.

- 30 Alcohol-powered cars fell out of favour and languished in obscurity until last year, when production picked up again in a big way.

Now Brazilians can buy cars that give them the chance to mix and match alcohol with regular fuel – and conventional motor vehicles that run purely on petrol are looking old-fashioned once again.

(www.newsvote.bbc.co.uk 2005/06/08)

11 - The first paragraph signals that:

- (A) oil prices will decrease soon;
- (B) carmakers and politicians will clash;
- (C) fossil fuels will be difficult to find;
- (D) motor vehicles will be powerful;
- (E) the world may soon have a war.

12 - "Gas-guzzlers" (l.14) are cars that:

- (A) are very expensive;
- (B) use too much petrol;
- (C) have small fuel tanks;
- (D) are difficult to purchase;
- (E) belong to collectors only.

13 - "It is happening" (l.18) refers to the fact that:

- (A) cars are polluting the cities;
- (B) Bush is spreading a message;
- (C) soybean is not being planted;
- (D) Brazil is producing biofuel;
- (E) the car industry is blooming.

14 - "Marking a major technological feat" (ll.25-26) implies that the author is:

- (A) impressed;
- (B) upset;
- (C) doubtful;
- (D) worried;
- (E) relieved.

15 - According to the text, when oil prices slid back, alcohol production:

- (A) was finally implemented;
- (B) received a lot of support;
- (C) came to a final halt;
- (D) was almost interrupted;
- (E) became famous worldwide.

READ TEXT II AND ANSWER QUESTION 16:

TEXT II

Here is an ad from *Time Magazine* (Sept. 26, 2005):

**TO SATISFY MARKETS DEMANDS
AND RESPECT THOSE WHO MAKE NO DEMANDS**

Every day Total turns 318 million litres of oil into everyday products that combine leading edge technology and respect for the environment. As a European leader in oil refining, we apply a very strict code to limit the impact of our activities on the surrounding air, water and soil – for the benefit of everyone living nearby, including the wildlife.

16 - The main strategy used in this ad is a concern for the product's:

- (A) demand;
- (B) technology;
- (C) offer;
- (D) quality;
- (E) effect.

READ TEXT III AND ANSWER QUESTIONS 17 TO 20:

TEXT III

ENERGY USER NEWS
ENERGY MANAGEMENT FOR THE COMMERCIAL, INDUSTRIAL AND INSTITUTIONAL MARKETS

When electricity prices quadruple over the course of a few months, many companies that are unhedged and unprepared get hurt. Because prices will probably rise again, companies that can make economic sense of price spikes will be better prepared to manage their energy costs.

External Shocks

Electricity price spikes can be caused by external shocks to the economy. A few producing countries, for example, largely control oil supply; oil is an oligopolistic market. By controlling supply, a few players effectively *set the price*.¹⁰ The *ripple effects* of a shock depend upon its timing, magnitude, and type, and we cannot completely insulate ourselves from them. Fortunately, external shocks tend to be infrequent and easy to recognize. The price spikes in the electric market during the last few years are best explained by the fundamentals of commodity pricing and by problems associated with electric restructuring.

(<http://www.gcglaw.com/resources/energy/spikes.html>)

17 - The first sentence presents a(n):

- (A) warning;
- (B) suggestion;
- (C) assertion;
- (D) offer;
- (E) question.

18 - In the context, "set the price" (l.10) means:

- (A) resume the sequence;
- (B) decide on the cost;
- (C) evaluate the evidence;
- (D) establish the production;
- (E) assign the roles.

19 - When the author uses the word **ripple** in "ripple effects" (l.11), he or she creates an image related to:

- (A) air;
- (B) energy;
- (C) water;
- (D) fire;
- (E) electricity.

20 - According to the text, external shocks are:

- (A) constant;
- (B) identifiable;
- (C) common;
- (D) avoidable;
- (E) harmless.

CONHECIMENTOS SETOR ELÉTRICO

21 - De acordo com a Lei nº 8.001, de 13 de março de 1990, a distribuição mensal da compensação financeira de que trata o art. 2º da Lei nº 7.990, de 28 de dezembro de 1989, será rateada entre:

- (A) Estados e Ministério da Ciência e Tecnologia;
- (B) Municípios e Ministério da Ciência e Tecnologia;
- (C) Estados, Municípios e Ministério da Ciência e Tecnologia;
- (D) Estados, Municípios, Departamento Nacional de Águas e Energia Elétrica – DNAEE e Ministério da Ciência e Tecnologia;
- (E) Departamento Nacional de Águas e Energia Elétrica – DNAEE e Ministério da Ciência e Tecnologia.

22 - De acordo com a Lei nº 8.001, de 13 de março de 1990, a distribuição mensal da compensação financeira de que trata o art. 2º da Lei nº 7.990, de 28 de dezembro de 1989, será feita de forma que caberá ao Ministério da Ciência e Tecnologia o percentual de:

- (A) 45%;
- (B) 6%;
- (C) 2%;
- (D) 1%;
- (E) 0,1%.

23 - De acordo com a Lei nº 9.074, de 07 de julho de 1995, é objeto de concessão, mediante licitação, a implantação de usinas termelétricas destinadas à execução de serviço público, com potência superior a:

- (A) 5.000kW;
- (B) 2.500kW;
- (C) 1.500kW;
- (D) 1.000kW;
- (E) 500kW.

24 - De acordo com a Lei nº 9.074, de 07 de julho de 1995, nenhum aproveitamento hidrelétrico poderá ser licitado sem que o poder concedente defina o aproveitamento:

- (A) hidráulico;
- (B) ótimo;
- (C) hidroenergético;
- (D) máximo;
- (E) total.

25 - De acordo com a Lei nº 9.074, de 07 de julho de 1995, os novos consumidores terão livre escolha do fornecedor com quem contratará sua compra de energia elétrica, desde que sua carga seja maior ou igual a:

- (A) 50kW;
- (B) 300kW;
- (C) 500kW;
- (D) 1.500kW;
- (E) 3.000kW.

26 - De acordo com a Lei nº 7.990, de 28 de dezembro de 1989, a compensação financeira pela utilização de recursos hídricos, para fins de geração de energia elétrica, sobre o valor da energia produzida, será de:

- (A) 8%;
- (B) 6%;
- (C) 5%;
- (D) 3%;
- (E) 2%.

27 - De acordo com a Lei nº 7.990, de 28 de dezembro de 1989, a energia elétrica produzida pelas instalações geradoras com capacidade nominal igual ou inferior a 10.000kW fica:

- (A) sujeita a cobrança de 2% do faturamento a título de compensação financeira;
- (B) sujeita a cobrança de 4% do faturamento a título de compensação financeira;
- (C) sujeita a cobrança de 6% do faturamento a título de compensação financeira;
- (D) isenta do pagamento de compensação financeira;
- (E) sujeita a cobrança de uma taxa sobre o faturamento, a título de compensação financeira, calculada proporcionalmente à área inundada.

28 - De acordo com a Lei nº 9.427, de 26 de dezembro de 1996, a Agência Nacional de Energia Elétrica – ANEEL, em conformidade com as políticas e diretrizes do governo federal, tem por finalidade somente:

- (A) regular e fiscalizar a produção de energia elétrica;
- (B) regular e fiscalizar a transmissão de energia elétrica;
- (C) regular e fiscalizar a produção e a transmissão de energia elétrica;
- (D) regular e fiscalizar a transmissão e a distribuição de energia elétrica;
- (E) regular e fiscalizar a produção, transmissão, distribuição e comercialização de energia elétrica.

29 - De acordo com a Lei nº 9.427, de 26 de dezembro de 1996, a realização de estudos de viabilidade, anteprojetos ou projetos de aproveitamento de potenciais hidráulicos:

- (A) não gera direito de preferência para a obtenção de concessão para serviço público ou uso de bem público;
- (B) gera direito de preferência para a obtenção de concessão para serviço público ou uso de bem público;
- (C) gera direito exclusivo para a obtenção de concessão para serviço público ou uso de bem público;
- (D) gera direito de preferência para a obtenção de concessão para serviço público ou uso de bem público, desde que o poder público não manifeste o seu interesse;
- (E) gera direito de preferência para a obtenção de concessão para serviço público ou uso de bem público, desde que a potência envolvida seja inferior a 50.000kW.



30 - De acordo com a Lei nº 9.427, de 26 de dezembro de 1996, a suspensão, por falta de pagamento, do fornecimento de energia elétrica a consumidor que preste serviço público ou essencial à população e cuja atividade sofra prejuízo deverá ser comunicada ao Poder Público local ou ao Poder Executivo Estadual com antecedência de:

- (A) 5 dias;
- (B) 10 dias;
- (C) 15 dias;
- (D) 30 dias;
- (E) 60 dias.

CONHECIMENTOS DE INFORMÁTICA

Nas questões de **31** a **40**, considere as configurações padrões de software e hardware, a não ser quando explicitamente especificado.

31 - Considere a aplicação, na ordem apresentada, dos seguintes passos durante a edição de um documento no Microsoft Word 2000, versão em Português:

- Selecionar a opção *cabeçalho e rodapé* do menu *Exibir*
- Na barra de ferramentas que se abre, pressionar o ícone  (*Inserir número da página*)
- Pressionar em seguida o ícone  (*Inserir número de páginas*)
- Pressionar o botão *Fechar* na barra de ferramentas *Cabeçalho e rodapé*

Supondo-se que o documento tenha 25 páginas, após a aplicação deste procedimento o número que estará aparente no cabeçalho da quinta página será:

- (A) 5
- (B) 25
- (C) 55
- (D) 525
- (E) 2525

32 - Observe o trecho de uma planilha Excel mostrado na figura a seguir:

	A	B	C	D
1	1	6	3	=SE(MÁXIMO(A1:C2)>=6;MÍNIMO(A1:A2);MÍNIMO(C1:C2))
2	2	6	4	

Se a fórmula mostrada for aplicada à célula D1, o valor da célula será:

- (A) 1
- (B) 2
- (C) 3
- (D) 4
- (E) 6

33 - A seqüência de caracteres que indica o protocolo utilizado para carregar páginas Web é:

- (A) www
- (B) http://
- (C) .br
- (D) url
- (E) hppt:\\






34 - Analise as seguintes afirmativas sobre a área de transferência no Microsoft Windows 2000, versão em Português:

- I - A área de transferência pode reter vários objetos ao mesmo tempo.
- II - Ao desligar o computador, os dados armazenados na área de transferência são perdidos.
- III - Os dados armazenados na área de transferência podem ser colados uma única vez.
- IV - A área de transferência pode armazenar somente texto.

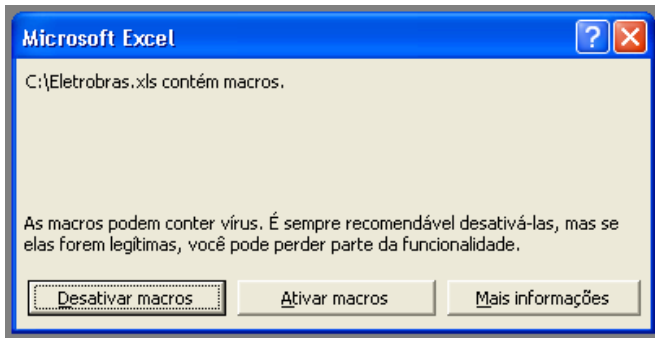
O número de afirmativas corretas é:

- (A) 0
- (B) 1
- (C) 2
- (D) 3
- (E) 4

35 - Ao clicar com o botão direito do mouse sobre as unidades de armazenamento instaladas em um computador, uma delas apresentou a opção *Desconectar-se*. A unidade onde isso aconteceu é:

- (A) 
- (B) 
- (C) 
- (D) 
- (E) 

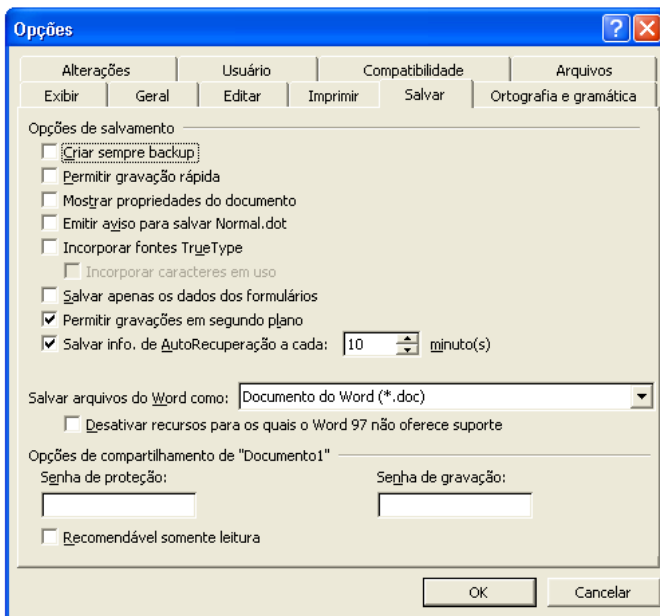
36 - Ao abrir um arquivo do MS-Excel 2000 em português, você se deparou com a seguinte mensagem:



Nesse caso, é correto afirmar que:

- (A) macros podem fazer parte de um arquivo idôneo;
- (B) o arquivo contém vírus de macro;
- (C) o arquivo está corrompido;
- (D) parte do arquivo foi perdido;
- (E) você vai perder parte das funcionalidades do arquivo.

37 - Observe a figura a seguir extraída do MS-Word em português:



Com relação à figura, é correto afirmar que:

- (A) a “Senha de proteção” impede que o arquivo seja apagado;
- (B) a opção “Permitir gravações em segundo plano” permite a gravação de marcas-d’água;
- (C) se for utilizada a opção “Recomendável somente leitura”, o arquivo não pode ser alterado por quem não possuir a senha de gravação;
- (D) os itens “Criar sempre backup” e “Permitir gravação rápida” não podem ser utilizados simultaneamente;
- (E) trata-se da versão MS-Word 97.

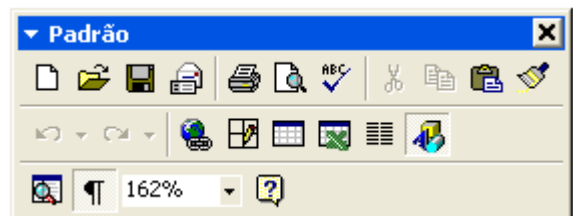
38 - Considere as seguintes afirmativas sobre o compartilhamento de pastas e arquivos utilizando o MS-Windows:

- I - C\$ é um nome válido de um compartilhamento no MS Windows 2000;
- II - O MS Windows 2000 permite que se especifique os usuários que têm acesso a leitura e/ou escrita a suas pastas compartilhadas;
- III - O MS Windows 95 não permite que suas pastas sejam compartilhadas;
- IV - O MS Windows 98 pode restringir o acesso a suas pastas compartilhadas;
- V - Um usuário do MS Windows 98 não tem como acessar pastas compartilhadas em um computador utilizando o MS Windows 2000.

A quantidade de alternativas corretas é:

- (A) 1
- (B) 2
- (C) 3
- (D) 4
- (E) 5

39 - Observe a figura a seguir extraída do MS Word 2000 em português:



Se você acidentalmente clicar no botão contendo um “x” no canto superior direito da figura:

- (A) o item irá fechar, e para obter acesso a ele novamente, será necessário reinicializar o MS-Word;
- (B) o item irá fechar, e para obter acesso a ele novamente, será necessário reinstalar o MS-Word;
- (C) o item irá fechar, mas poderá ser restaurado através do menu “Exibir”;
- (D) o item irá retornar para a sua posição original junto às outras barras de ferramentas;
- (E) o MS-Word irá fechar.

40 - Observe o fragmento de planilha extraído do MS Excel 2000 em português:

	A	B	C
1	Fornecedor	Mercadoria	Preço
2	4 Carros de Ré	Pera	X\$ 8,75
3	Adicional	Uva	X\$ 2,87
4	Caminho Livre	Maçã	X\$ 5,28
5	Pegue e Pague	Pera	X\$ 7,52
6	O Sujão	Uva	X\$ 2,87
7	Boas Compras	Maçã	X\$ 5,82

Deseja-se aplicar uma transformação a esses dados de modo a obter o resultado mostrado na figura a seguir:

	A	B	C
1	Fornecedor	Mercadoria	Preço
2	Boas Compras	Maçã	X\$ 5,82
3	Caminho Livre	Maçã	X\$ 5,28
4	4 Carros de Ré	Pera	X\$ 8,75
5	Pegue e Pague	Pera	X\$ 7,52
6	O Sujão	Uva	X\$ 2,87
7	Adicional	Uva	X\$ 2,87

Para se obter este resultado, todas as células mostradas são selecionadas e as opções no diálogo a seguir são preenchidas com valores apropriados.

Estes valores são:

- (A) Classificar por Mercadoria, Crescente; Em seguida por Preço, Decrescente, E depois por Fornecedor, Decrescente;
- (B) Classificar por Fornecedor, Crescente, Em seguida por Preço, Decrescente, E depois por Mercadoria, Crescente;
- (C) Classificar por Fornecedor, Crescente, Em seguida por Preço, Decrescente, E depois por Mercadoria, Decrescente;
- (D) Classificar por Preço, Crescente, Em seguida por Mercadoria, Crescente, E depois por fornecedor, Decrescente;
- (E) Classificar por Mercadoria, Crescente; Em seguida por Preço, Decrescente, E depois por Fornecedor, Crescente.

BIBLIOTECÁRIO

41 - O “ciclo da informação”, assim denominado por Kevin McGary (1999) em seu “O contexto dinâmico da informação”, envolve seis atividades: criação, registro, armazenamento, recuperação, disseminação e:

- (A) gestão;
- (B) salvaguarda;
- (C) diagnóstico;
- (D) avaliação;
- (E) uso.

42 - Para a elaboração de qualquer tipo de catálogo em bibliotecas, três qualidades são exigidas – a economia na preparação e na manutenção, a atualidade e a:

- (A) uniformidade;
- (B) portabilidade;
- (C) flexibilidade;
- (D) compacidade;
- (E) conversibilidade.

43 - Em seu “Planejamento de um programa eficaz de manutenção de acervos”, Karen Garlick (2001) destaca a necessidade de estabelecer uma base comum de conhecimentos, reunindo e compartilhando informações que favoreçam a tarefa dos planejadores. Esse ponto de vista resgata a importância de um catálogo auxiliar que, embora necessário, é pouco utilizado em bibliotecas, denominado:

- (A) decisório;
- (B) topográfico;
- (C) onomástico;
- (D) sistemático;
- (E) identidade.

44 - A expressão quantificável, mensurável, mutável e por tempo definido dos resultados a alcançar em um serviço de informação denomina-se:

- (A) política;
- (B) diretriz;
- (C) meta;
- (D) passo;
- (E) projeto.

45 - A rapidez e a precisão de resultados qualificam um sistema de informação como eficaz. Esse sistema será considerado, também, eficiente se resultar da:

- (A) valorização de objetivos;
- (B) implementação de recursos;
- (C) correção de processos;
- (D) importância de serviços;
- (E) relevância de produtos.

46 - A seleção de publicações periódicas em bibliotecas especializadas, ao considerar as comissões editoriais indicadas e que emprestam reputação às publicações, releva o critério da:

- (A) especificidade;
- (B) especialidade;
- (C) autoridade;
- (D) periodicidade;
- (E) continuidade.

47 - O documento eletrônico que a NBR 6023/2002 (Elaboração de Referências), da Associação Brasileira de Normas Técnicas (ABNT), recomenda que só deve ser utilizado quando não se dispuser de nenhuma outra fonte para abordar o assunto em discussão é:

- (A) arquivo em disco rígido;
- (B) mensagem de *e-mail*;
- (C) texto em *home page*;
- (D) arquivo em disquete flexível;
- (E) arquivo em CD-ROM.

48 - A seqüência dos elementos essenciais para a elaboração de uma referência de legislação, segundo norma da ABNT, é:

- (A) ementa, jurisdição (ou cabeçalho da entidade, no caso de se tratar de normas), título, numeração, data e dados da publicação;
- (B) numeração, jurisdição (ou cabeçalho da entidade, no caso de se tratar de normas), título, data e dados da publicação;
- (C) jurisdição (ou cabeçalho da entidade, no caso de se tratar de normas), título, numeração, ementa, data e dados da publicação;
- (D) numeração, título, data e dados da publicação, qualquer que seja o tipo de documento.
- (E) jurisdição (ou cabeçalho da entidade, no caso de se tratar de normas), título, numeração, data e dados da publicação.

49 - A única referência abaixo que está conforme as normas da ABNT é:

- (A) FERREIRA, Maria Mary. A/o profissional da informação no mundo do trabalho e as relações de gênero. In: CASTRO, César Augusto (org.). **Ciência da informação e biblioteconomia**: múltiplos discursos. São Luís: EDUFMA; EDFAMA, 2002.
- (B) JAMBEIRO, Othon, SILVA, Helena Pereira da. A informação e suas profissões: a sobrevivência ao alcance de todos. **DataGramZero**: Revista de Ciência da Informação. Disponível em: <http://www.datagramazero.org.br/ago04/Art_03.htm>. Acesso em: 1 dez. 2004.
- (C) KOBASHI, Nayr Yumiko. Análise documental e representação da informação. **INFORMARE**, v. 2, n. 2, jul./dez. 1996.
- (D) CURY, Maria Catarina; RIBEIRO, Maria Solange Pereira; OLIVEIRA, Nirlei Maria. Bibliotecário universitário. **Informação & Sociedade**, João Pessoa, v. 11, n. 1, p. 86-98, jan./jun. 2001.
- (E) PINHEIRO, Lena Vânia Ribeiro. **O pensar e o fazer do profissional de informação**. In: SEMINÁRIO DE ESTUDOS DE INFORMAÇÃO DA UFF, 1. **Anais...** Niterói: EDUFF, 1997. p. 33-38.

50 - Norma específica da ABNT estabelece que as citações indiretas de diversos documentos de vários autores, mencionados no mesmo par de parênteses, devem ser separadas por:

- (A) vírgulas, em ordem de importância;
- (B) ponto-e-vírgula, em ordem cronológica;
- (C) ponto-e-vírgula, em qualquer ordem;
- (D) ponto-e-vírgula, em ordem alfabética;
- (E) vírgulas, em ordem alfabética.

51 - De acordo com a NBR 6027/2003, da ABNT, sumário é:

- (A) lista de palavras ou frases, ordenadas segundo determinado critério, que localiza e remete para as informações contidas no texto;
- (B) enumeração das divisões, seções e outras partes de uma publicação, na mesma ordem e grafia em que a matéria nele se sucede;
- (C) enumeração de elementos selecionados do texto, tais como datas, ilustrações, exemplos etc., na ordem de sua ocorrência;
- (D) conjunto padronizado de elementos descritivos, retirados de um documento, que permite sua identificação individual;
- (E) recursos criados para reunir conjuntos específicos de itens que recebem o mesmo tratamento.

52 -

“Texto ou documento não elaborado pelo autor, que serve de fundamentação, comprovação e ilustração”.

“Texto ou documento elaborado pelo autor, a fim de complementar sua argumentação, sem prejuízo da unidade nuclear do trabalho”.

Estas definições para elementos pós-textuais, na estrutura de uma tese, dissertação ou trabalho acadêmico, apontadas pela NBR 14724/2002, da ABNT, referem-se, respectivamente, a:

- (A) citação e epígrafe;
- (B) errata e resumo;
- (C) sumário e índice;
- (D) anexo e apêndice;
- (E) tabela e glossário.

53 - Segundo a NBR 6023/2002, da ABNT, a data é um elemento essencial da referência e, por isto, deve ser sempre indicada. A norma oferece alternativas de indicação, quando a data não constar da obra. Relacione cada alternativa de indicação de data e sua identificação:

- I) [2001?]
- II) [199-]
- III) [199-?]
- IV) [19--?].
- V) [ca. 1990]

- () data provável
- () década provável
- () século provável
- () data aproximada
- () década certa

A relação correta é:

- (A) I, III, V, II e IV;
- (B) II, III, IV, I e V;
- (C) I, III, IV, V e II;
- (D) II, IV, V, I e III;
- (E) III, IV, V, II e I.

54 - Para cumprir suas funções, a catalogação deve expressar, por exemplo, honestidade de representação. Essa característica é identificada na literatura especializada como:

- (A) integridade;
- (B) clareza;
- (C) precisão;
- (D) lógica;
- (E) consistência.

55 - A página de rosto de um livro apresenta dois editores e dois locais diferentes, com destaque tipográfico evidente para o segundo local e o segundo editor. Na elaboração da ficha catalográfica dessa obra, a indicação correta dos dados de publicação implica em transcrever:

- (A) o 1º. local e o 1º. editor, apenas;
- (B) o 2º. local e o 2º. editor, apenas;
- (C) o local que coincidir com o da agência catalogadora e o respectivo editor;
- (D) o 1º. local e o 1º. editor, apontando o 2º. local e o 2º. editor em nota;
- (E) os dois locais e os dois editores.

56 - De acordo com o Código de Catalogação Anglo-Americano, 2. ed. revista, é correto afirmar que:

- (A) se um livro tiver grupos de páginas numeradas em direções opostas, como pode ocorrer em textos bilíngües, devemos somar as páginas nos dois sentidos e registrar o total;
- (B) quando o livro apresentar lâminas, devemos indicar a sua existência junto ao dado de ilustração a que pertencem;
- (C) se um livro estiver paginado de forma complicada ou irregular, podemos registrar o dado de paginação usando: 1 v. (várias paginações);
- (D) se os volumes de um conjunto estiverem paginados individualmente, devemos registrar obrigatoriamente a paginação de cada volume entre parênteses, depois do número de volumes;
- (E) se uma publicação apresentar mapas, fac-símiles e retratos, a indicação do dado de ilustração deve ser geral, isto é, apenas *il.*

57 - Na transcrição de indicações de responsabilidade, não devem ser incluídos, por exemplo, os títulos de nobreza e os de tratamento, a menos que:

- (A) seja um título de pós-graduação;
- (B) a informação seja gramaticalmente necessária;
- (C) a descrição seja em terceiro nível;
- (D) estejam destacados tipograficamente;
- (E) a obra seja uma tradução.

58 - O Código de Catalogação Anglo-Americano, 2. ed. revista, estabelece: “Transcreva indicações de responsabilidade que figurem com destaque no item na forma em que nele aparecem”. A expressão “com destaque” significa que devem ser transcritas:

- (A) as indicações de responsabilidade cujas palavras estiverem em caixa alta, negrito ou qualquer outro destaque tipográfico;
- (B) as indicações de responsabilidade que forem relevantes para a entidade catalogadora;
- (C) as três primeiras indicações de responsabilidade;
- (D) as indicações de responsabilidade que estiverem na fonte principal de informação;
- (E) as indicações de responsabilidade que estiverem próximas à da autoria principal.

59 - O título sob o qual uma obra que apareceu sob títulos variantes pode ser identificada, para fins de catalogação, é o título:

- (A) equivalente;
- (B) coletivo;
- (C) alternativo;
- (D) uniforme;
- (E) corrente.

60 - Identifique o cabeçalho de entrada correto:

- (A) Centrais Elétricas Brasileiras SA. *Departamento de Planejamento.*
- (B) ELETROBRAS (Brasil). *Departamento de Planejamento.*
- (C) ELETROBRAS (Centrais Elétricas Brasileiras SA). *Departamento de Planejamento.*
- (D) Brasil. *ELETROBRAS. Departamento de Planejamento.*
- (E) ELETROBRAS. *Departamento de Planejamento.*

61 - O conceito de “conjunto de termos, providos ou não de regras sintáticas, utilizado para representar conteúdos de documentos técnicos-científicos, com fins de classificação ou busca de informação” é destacadamente praticado para:

- (A) rede paradigmática;
- (B) representação do conhecimento;
- (C) linguagem documentária;
- (D) cadeia conceitual;
- (E) referência contextual.

62 - A classificação decimal é utilizada em muitas bibliotecas como meio de recuperação e acesso ao item, sendo configurada, neste caso, como parte:

- (A) da localização fixa;
- (B) do índice didascálico;
- (C) do registro patrimonial;
- (D) do número de chamada;
- (E) da notação de autor.

63 - A implementação de um sistema de controle bibliográfico pressupõe um conjunto estruturado de iniciativas e diretrizes abrangentes, que favoreçam o controle dos registros do conhecimento, objetivando sua identificação, localização e:

- (A) comunicação;
- (B) publicação;
- (C) integração;
- (D) obtenção;
- (E) preservação.

64 - O sistema de numeração, considerado como um mecanismo para o controle bibliográfico, que permite individualizar qualquer título de livro, em qualquer idioma, qualquer que seja o local de sua impressão, é denominado:

- (A) ISSN;
- (B) ISBN;
- (C) CBL;
- (D) ISBD;
- (E) SNEL.

65 - As ações de preservação de acervos bibliográficos estão condicionadas ao alcance de cinco prioridades fundamentais que se aplicam, também, à preservação no universo digital – a escolha (seleção), a qualidade, a integridade, o acesso e:

- (A) a compatibilidade;
- (B) o custo;
- (C) a longevidade;
- (D) a gestão;
- (E) a manutenção.

66 - As coleções documentais estão expostas a formas lentas e sutis de deterioração. Aquela que é considerada como ameaça constante, porque é inerente em materiais orgânicos, ocasionando, por exemplo, a alteração da cor, a fragilização do papel e o esmaecimento de corantes em fotografias coloridas é a deterioração:

- (A) induzida por poluentes;
- (B) induzida por luz;
- (C) biológica;
- (D) física.
- (E) química.

67 - Dentre os critérios que abordam a adequação ao usuário, na seleção de materiais em bibliotecas, devem ser considerados a conveniência, o estilo, a relevância/interesse e:

- (A) o idioma;
- (B) o custo;
- (C) o perfil;
- (D) a atualidade;
- (E) a cobertura.

68 - O serviço que implica, especificamente, a solicitação e o fornecimento de artigos a outras bibliotecas, exigindo o controle de cópias efetuadas e a análise de títulos mais frequentemente solicitados, para sua eventual compra, denomina-se:

- (A) pesquisa;
- (B) diagnóstico;
- (C) comutação;
- (D) referência;
- (E) seleção.

69 - As relações interpessoais mantidas na biblioteca envolvem questões éticas que alcançam e interferem na qualidade dos serviços de informação, e que podem ser divididas em quatro grandes áreas de interesse – privacidade, propriedade, acesso e:

- (A) exatidão;
- (B) mudança;
- (C) conhecimento;
- (D) inovação;
- (E) disseminação.

70 - Aponte a opção que apresenta a seqüência alfabética de títulos, palavra por palavra, conforme a NBR 6033, da ABNT:

- (A) Apagão de idéias.
A Eletrobrás e a história do setor de energia elétrica no Brasil.
Energia elétrica e integração na América do Sul.
As telecomunicações no mundo.
- (B) A Eletrobrás e a história do setor de energia elétrica no Brasil.
Apagão de idéias.
As telecomunicações no mundo.
Energia elétrica e integração na América do Sul.
- (C) A Eletrobrás e a história do setor de energia elétrica no Brasil.
Apagão de idéias.
Energia elétrica e integração na América do Sul.
As telecomunicações no mundo.
- (D) Apagão de idéias.
A Eletrobrás e a história do setor de energia elétrica no Brasil.
As telecomunicações no mundo.
Energia elétrica e integração na América do Sul.
- (E) A Eletrobrás e a história do setor de energia elétrica no Brasil.
Energia elétrica e integração na América do Sul.
Apagão de idéias.
As telecomunicações no mundo.

DISCURSIVA - BIBLIOTECÁRIO

Questão 1 - Elabore uma lista de referências, ordenada alfabeticamente, palavra por palavra, considerando as normas da Associação Brasileira de Normas Técnicas, de modo que cada referência arrole todos os dados indicados no respectivo fichamento, a seguir:

Máximo permitido : 30 linhas para resposta

Colação:	80 p.
Autor(es):	--
Título:	As telecomunicações no mundo
Imprensa:	Rio de Janeiro BNDES-FINAME junho 2000
Série:	Caderno de infra-estrutura n. 14A

Colação:	164 p.
Autor(es):	LEILA LOBO DE MENDONÇA (coordenação)
Título:	Reflexos da cidade a iluminação pública no Rio de Janeiro
Imprensa:	Rio de Janeiro Memória da eletricidade 2004
Edição:	Segunda, revista e ampliada

Colação:	271 p.
Autor(es):	JOÃO LIZARDO DE ARAÚJO ADÍLSON DE OLIVEIRA
Título:	Diálogos da energia reflexões sobre a última década, 1994-2004
Imprensa:	Rio de Janeiro 7letras 2005

Colação:	p. 60-62
Autor(es):	JOSÉ GOLDEMBERG VIRGÍNIA PARENTE
Título:	Apagão de idéias
Imprensa:	Rio de Janeiro 5 setembro 2001
Fonte:	Exame v.35 – n.18

Questão 2 - Descreva e exemplifique a diferença entre responsabilidade compartilhada e responsabilidade mista, na catalogação.

Máximo permitido : 30 linhas para resposta

Questão 3 - Descreva as três linhas principais de acesso ao Serviço de Referência, identificadas e disseminadas por Foskett (1969), em seu “Serviço de Informação em Bibliotecas”: o acesso por autor/título, o acesso fatual e o acesso por assunto ou problema.

Máximo permitido : 30 linhas para resposta



Núcleo de Computação Eletrônica
Universidade Federal do Rio de Janeiro

Prédio do CCMN - Bloco C
Cidade Universitária - Ilha do Fundão - RJ
Central de Atendimento - (21) 2598-3333
Internet: <http://www.nce.ufrj.br>