

**CARGO:
ASSISTENTE DE SANEAMENTO**

**FUNÇÃO:
Técnico em Enfermagem do Trabalho**

LEIA COM ATENÇÃO AS INSTRUÇÕES ABAIXO.

- 1 Confira atentamente se os seus dados pessoais e se os dados identificadores de sua função ou formação transcritos acima coincidem com o que está registrado em sua folha de respostas. Confira também a sua função ou formação e o seu nome em cada página numerada deste caderno de provas. Em seguida, verifique se ele contém a quantidade de itens indicada em sua **folha de respostas**, correspondentes às provas objetivas. Caso o caderno esteja incompleto, tenha qualquer defeito, ou haja divergência quanto aos seus dados pessoais ou quanto aos dados identificadores de sua função ou formação, solicite ao fiscal de sala mais próximo que tome as providências cabíveis, pois não serão aceitas reclamações posteriores nesse sentido.
- 2 Na **folha de respostas**, escreva o seu nome e assine no local apropriado somente quando autorizado pelo chefe de sala, no momento da identificação, e também somente nesse momento, escreva, no espaço apropriado da **folha de respostas**, com a sua caligrafia usual, a seguinte frase:

É ilógico esperar sorrisos dos outros se nós mesmos não sorrimos.
- 3 Marque as suas respostas na **folha de respostas**, nos campos apropriados, conforme o **exemplo de preenchimento** apresentado nessa folha.
- 4 A **folha de respostas** é o único documento que será utilizado para a correção eletrônica de suas provas objetivas. Não amasse, não dobre nem rasure a sua **folha de respostas**. As marcações na **folha de respostas** só podem ser feitas com caneta esferográfica de **tinta preta, fabricada em material transparente**. Não será permitido o uso de lápis, lapiseira (grafite) e(ou) borracha.
- 5 Em nenhuma hipótese, haverá substituição da **folha de respostas** por erro de preenchimento do candidato.
- 6 Caso você deseje alterar a sua opção de unidade regional, marque, na sua **folha de respostas**, no campo **OPÇÃO DE UNIDADE REGIONAL**, a sua nova escolha. Nesse campo, a ausência de marcação ou a marcação de mais de uma opção implicará a manutenção da escolha de unidade regional feita por ocasião da sua inscrição — registrada no cabeçalho da sua **folha de respostas** —, conforme estabelecido em edital.
- 7 Não se comunique com outros candidatos nem se levante sem autorização de fiscal de sala.
- 8 Na duração das provas, está incluído o tempo destinado à identificação — que será feita no decorrer das provas — e ao preenchimento da **folha de respostas**.
- 9 Ao terminar as provas, chame o fiscal de sala mais próximo, devolva-lhe a sua **folha de respostas** e deixe o local de provas.
- 10 A desobediência a qualquer uma das determinações constantes em edital, no caderno de provas ou na **folha de respostas** poderá implicar a anulação das suas provas.

OBSERVAÇÕES

- Não serão objeto de conhecimento recursos em desacordo com o estabelecido em edital.
- Informações adicionais: telefone 0(XX) 61 3448-0100; Internet — www.cespe.unb.br.
- É permitida a reprodução deste material apenas para fins didáticos, desde que citada a fonte.

- De acordo com o comando a que cada um dos itens a seguir se refira, marque na **folha de respostas**, para cada item: o campo designado com o código **C**, caso julgue o item **CERTO**; ou o campo designado com o código **E**, caso julgue o item **ERRADO**. Para as devidas marcações, use a **folha de respostas**, único documento válido para a correção das suas respostas.
- Nos itens que avaliam conhecimentos de informática, a menos que seja explicitamente informado o contrário, considere que: todos os programas mencionados estão em configuração-padrão, em português; o *mouse* está configurado para pessoas destros; expressões como **clicar**, **clique simples** e **clique duplo** referem-se a cliques com o botão esquerdo do *mouse*; **teclar** corresponde à operação de pressionar uma tecla e, rapidamente, liberá-la, acionando-a apenas uma vez. Considere também que não há restrições de proteção, de funcionamento e de uso em relação aos programas, arquivos, diretórios, recursos e equipamentos mencionados.

CONHECIMENTOS BÁSICOS

Texto para os itens de 1 a 11

As relações sociais além do espaço e do tempo

1 Surpreendentes são as transformações ocorridas no mundo a partir da revolução digital. A tecnologia abriu um fluxo praticamente ininterrupto de informações e apresentou ao homem novas formas de interação.

4 Esse é o ponto de vista do antropólogo Jonatas Dornelles, da Universidade Federal do Rio Grande do Sul, exposto em artigo publicado em junho na revista **Horizontes Antropológicos**. Pesquisador da influência da Internet nas relações pessoais, o professor acessou regularmente um *chat* de Porto Alegre entre 2001 e 2003 para avaliar as novas formas de sociabilidade na era digital. Ele observou que as salas virtuais de bate-papo ampliam laços sociais, ao proporcionar o contato de pessoas que, por motivos geográficos ou culturais, provavelmente não se conheceriam. “Os *chats* são espaços virtuais que, com uma lógica própria, simulam uma sociabilidade real”, explica. “De acordo com a frequência e horário dos acessos, gostos e intenções, usuários identificam-se e formam grupos seletos de amigos — como na vida real”.

7 Jonatas compara a formação dessas comunidades virtuais à formação dos grupos sociais tradicionais: em ambos os casos, a interação social depende de uma simultaneidade vivida. Seja para combater a solidão, pelo instinto coletivo, seja para fugir de uma situação real, os frequentadores obedecem a regras de convivência, dispõem de estratégias para sustentar a interação e identificam-se por compartilhar a mesma situação, no presente.

25 Uma outra forma de sociabilidade surge, assim, na era digital. Bem representada pelo fenômeno Orkut, ela permite uma interação independente do tempo e do espaço. “Poder trocar informações e experiências sem precisar dividir o mesmo período de tempo é um reflexo do controle cada vez maior do homem sobre o tempo”, conclui o antropólogo.

Isabel Levy. *Ciência Hoje On-line*.
Internet: <cienciahoje.uol.com.br> (com adaptações).

A partir da leitura do texto, julgue os itens a seguir.

- 1 No texto, o trecho “A tecnologia abriu um fluxo praticamente ininterrupto de informações” (l.2-3) poderia ser reescrito, sem perda de valor semântico, da seguinte forma: A tecnologia possibilitou uma troca quase incessante de informações.
- 2 Segundo os argumentos propostos pelo antropólogo Jonatas Dornelles, primeiro as pessoas criaram formas diferentes de sociabilidade, depois os sistemas computacionais foram adaptados a essas formas.
- 3 De acordo com o texto, todas as interações sociais mediadas por computador e Internet seguem os padrões das interações entre grupos sociais tradicionais.
- 4 O ponto de vista do antropólogo citado no texto evidencia uma relação de avanço entre o modelo de interação social que ocorre no *chat* e aquele que ocorre no Orkut. Este permite maior fluxo de informações.
- 5 Uma das principais conclusões a que Jonatas Dornelles chega é que redes sociais na Internet acabam tornando as pessoas mais isoladas e contribuindo para que haja menos fortalecimentos dos laços sociais.
- 6 De acordo com o antropólogo referido no texto, a existência de fenômenos como o Orkut demonstra que a sociedade moderna e os recursos tecnológicos têm favorecido a relação do homem com o controle do tempo.

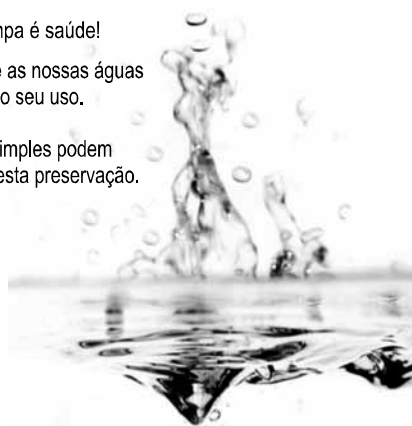
Levando em conta os aspectos gramaticais e de construção do texto, julgue os itens que se seguem.

- 7 Em “Ele observou que as salas virtuais de bate-papo ampliam laços sociais” (l.10-11), o termo “Ele” refere-se a “homem” (l.3).
- 8 No período em que são empregadas, as formas verbais “obedecem” (l.22), “dispõem” (l.23) e “identificam-se” (l.23) apresentam o mesmo sujeito.
- 9 O emprego das vírgulas em “Seja para combater a solidão, pelo instinto coletivo, seja para fugir de uma situação real” (l.20-22) justifica-se pelo fato de o período apresentar uma enumeração.
- 10 No trecho “Seja para combater a solidão, pelo instinto coletivo, seja para fugir de uma situação real, os frequentadores obedecem a regras de convivência” (l.20-22), mantêm-se a correção textual e a intenção semântica do autor caso se flexione a palavra “regras” no singular.
- 11 O texto apresentado pode ser considerado de natureza argumentativa, pois evidencia, por meio de recursos linguísticos, que a autora da reportagem concorda plenamente com o antropólogo Jonatas Dornelles.

Água limpa é saúde!

Preserve as nossas águas
e poupe o seu uso.

Coisas simples podem
ajudar nesta preservação.



Internet: <www.setwebglobal.com>.

Com referência a aspectos gramaticais do texto acima, julgue os itens seguintes.

- 12 A flexão dos verbos no segundo período do texto indica uma característica marcante dos textos publicitários, que é a interpelação direta do interlocutor por meio do emprego do modo imperativo.
- 13 A forma verbal “poupe” é redundante em relação a “preserve”, uma vez que, no caso da água, poupar é o mesmo que preservar.
- 14 Infere-se que a expressão “Coisas simples” refere-se a atitudes que o receptor do texto pode tomar em relação à economia e à preservação das águas.
- 15 O período “Coisas simples podem ajudar nesta preservação” pode ser substituído, sem prejuízo da correção gramatical, por: Coisas simples podem ajudar à esta preservação.

A leitura mensal do consumo de água residencial em cada um dos quinze bairros de determinado município é feita por apenas um dos três funcionários responsáveis por essa atividade; a cada mês, há uma distribuição aleatória em que cinco desses bairros são designados para cada um desses funcionários.

Com relação a essa situação hipotética, julgue os itens a seguir.

- 16 Essa distribuição pode ser realizada de 126.126 maneiras diferentes.
- 17 Considerando-se que os bairros sob a responsabilidade de determinado funcionário sejam agrupados, por proximidade geográfica, em duas regiões, A e B, com dois bairros em A e três bairros em B, então esse funcionário poderá visitar esses bairros de 24 maneiras distintas se ele visitar todos os bairros de uma mesma região antes dos demais bairros.

Um medidor de consumo de água, ou hidrômetro, de determinado fabricante possui 6 marcadores numéricos que representam as unidades, as dezenas, as centenas, as unidades de milhar, as dezenas de milhar e as centenas de milhar. Devido às condições tecnológicas, cada marcador pode apresentar dois tipos de defeito de fabricação: ficar travado em determinado marcador, impedindo a movimentação dos marcadores relativos às ordens superiores à do marcador defeituoso; ou saltar determinados dígitos.

De acordo com as informações apresentadas nessa situação hipotética, julgue os próximos itens.

- 18 Se o marcador das unidades de milhar de um dos medidores travar, então esse medidor poderá exibir um total de 1.001 leituras distintas.
- 19 Se um dos medidores tiver seu marcador das dezenas de milhar travado ou saltar os dígitos ímpares no marcador das unidades e os números 2, 7 e 8 no marcador das centenas, então haverá 356.500 leituras distintas que poderão ser exibidas por esse medidor.

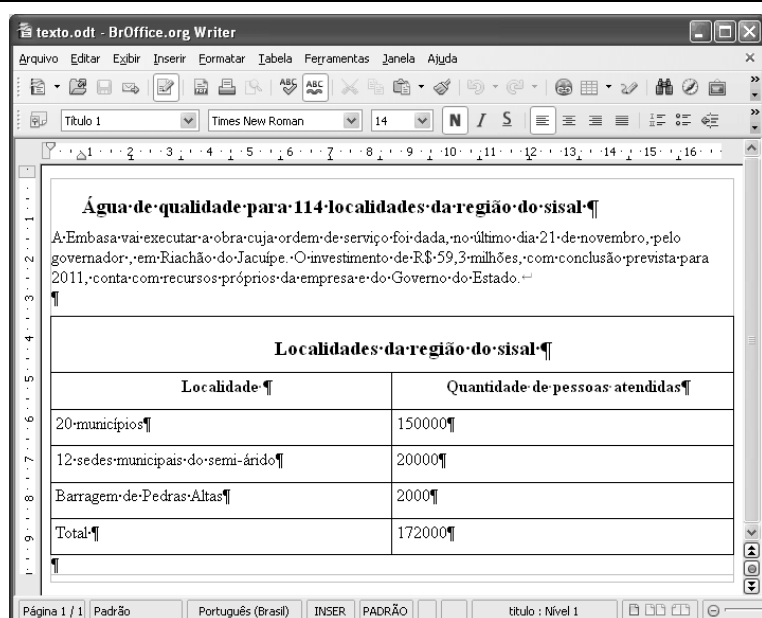
Suponha que uma empresa irá sortear 3 passagens aéreas para um curso de formação. O sorteio será realizado entre os 8 setores dessa empresa, e, se um setor for premiado, o chefe do setor contemplado indicará um funcionário para participar do evento. Em relação a esse sorteio, julgue os itens que se seguem.

- 20 Se um setor puder ser contemplado até duas vezes, então haverá 112 resultados distintos possíveis para esse sorteio.
- 21 Se cada setor só puder ser contemplado uma única vez e cada passagem for de uma companhia aérea distinta, então o sorteio terá um total de 56 resultados distintos possíveis.




Suponha que, devido a um desastre natural, regiões que ficaram sem acesso a água potável recebam periodicamente a visita de caminhões-pipa, os quais distribuem água entre os moradores dessas localidades. Embora todos os moradores tenham direito a água, são consideradas preferenciais as famílias que tenham idosos, pessoas com deficiência, crianças em fase de amamentação e gestantes, que têm o direito de receber água antes das famílias que não são preferenciais. Considerando o contexto apresentado, julgue os itens subsequentes.

RASCUNHO

- 22 A negação da afirmação **Todas as famílias da rua B são preferenciais** é **Nenhuma família da rua B é preferencial**.
- 23 Considere que a família Ferreira, originalmente preferencial e composta pelo pai José, a mãe Maria, a tia Marta, a filha Joana e o filho Antônio, tenha sofrido a seguinte evolução: Joana se casou com Carlos, com quem formou a família Souza, que é preferencial e não tem membros com deficiência; no dia do casamento de Joana, um acidente de carro vitimou fatalmente Marta e Antônio; imediatamente após esses acontecimentos, a família Ferreira deixou de ser preferencial. Nessa situação, é correto afirmar que Joana casou-se grávida e que pelo menos um dos membros da composição original da família Ferreira era ou é uma pessoa com deficiência.



Considerando a figura acima, que ilustra uma janela do BrOffice 3.0 com um documento em edição, julgue os itens a seguir.

- 24 O símbolo ¶, observado no documento em edição, indica o final de um parágrafo, que pode ter sido criado ao se pressionar a tecla .
- 25 Para centralizar o título do referido documento e criar um recuo de primeira linha no parágrafo imediatamente abaixo desse título, é suficiente realizar o seguinte procedimento: selecionar o título e o parágrafo; clicar o botão ; e, em seguida, clicar .
- 26 Ao se copiar, para uma planilha no Excel 2007, a tabela mostrada no documento, não será possível realizar cálculos com os valores da coluna Quantidade de pessoas atendidas porque os conteúdos das células dessa coluna serão considerados na planilha Excel formatados para texto.
- 27 Caso o documento em edição, de nome texto.odt, fosse salvo em um arquivo de nome texto.html, este arquivo poderia ser visualizado apenas no Internet Explorer.

A respeito de conceitos de ambientes Windows e Linux, julgue os próximos itens.

- 28 O Windows XP oferece suporte para gerenciador de sincronização, com o qual o usuário pode determinar quando os arquivos *offline* serão sincronizados com os arquivos na rede.
- 29 Arquivos criados no ambiente Linux não podem ser lidos por aplicativos que sejam executados no Windows XP, a menos que a versão do arquivo seja do tipo *xdtl*.
- 30 No Windows Explorer, é possível iniciar procedimento de envio de arquivo para destinatário de *e-mail* utilizando-se a opção *Enviar para*, que é apresentada na lista disponibilizada ao se clicar o nome do arquivo com o botão direito do *mouse*.
- 31 Em uma pasta criada no Windows Explorer, é possível inserir subpastas, arquivos e programas, independentemente do tipo de disco utilizado.

Julgue os itens que se seguem, acerca da Lei n.º 11.445/2007, que estabelece diretrizes nacionais para o saneamento básico.

- 32 Constituem princípios fundamentais da prestação dos serviços públicos de saneamento básico a transparência das ações, embasada em sistemas de informações e processos decisórios institucionalizados, o controle social e a restrição do acesso aos referidos serviços.
- 33 A lei veda a prestação de serviços públicos de saneamento básico por entidade não integrante da administração do titular.
- 34 Em conformidade com as normas legais, regulamentares e contratuais, as tarifas de serviços públicos de saneamento básico serão reajustadas observando-se o intervalo mínimo de doze meses.

Acerca da Lei n.º 9.433/1997, que institui a Política Nacional de Recursos Hídricos (PNRH), julgue os itens seguintes.

- 35 Um dos fundamentos em que se baseia a PNRH é a gestão descentralizada dos recursos hídricos, com a participação do poder público, dos usuários e das comunidades.
- 36 Serão utilizados no pagamento de despesas de implantação e custeio administrativo dos órgãos e entidades integrantes do Sistema Nacional de Gerenciamento de Recursos Hídricos os valores arrecadados com a cobrança pelo uso de recursos hídricos, limitados a 7,5% do total arrecadado.
- 37 Integram o Sistema Nacional de Gerenciamento de Recursos Hídricos o Conselho Nacional de Recursos Hídricos, a Agência Nacional de Águas, a Agência Nacional de Transportes Terrestres e os comitês de bacia hidrográfica.

A respeito da Lei Estadual n.º 11.172/2008, que institui princípios e diretrizes da política estadual de saneamento básico, julgue o item que se segue.

- 38 Cabe à população promover a salubridade ambiental, especialmente mediante ações e provisão universal, integral e equânime de todos os serviços necessários.

Com relação à Lei de Concessões e à lei que dispõe acerca da ligação de efluentes à rede pública de esgotamento sanitário, julgue os itens subsequentes.

- 39 Caso a União tenha delegado a prestação de serviço público essencial a uma pessoa jurídica, sem prévia licitação, por prazo indeterminado, a referida avença será considerada uma concessão de serviço público.
- 40 Nos logradouros que dispõem de rede coletora instalada, é proibida a ligação de esgotos à rede pública de águas pluviais.

Julgue os itens seguintes, relativos aos princípios e definições da lei que institui normas para licitações e contratos da administração pública.

- 41 Caso certo município necessite contratar uma empresa de publicidade com vistas a noticiar obras e serviços realizados no âmbito da administração pública municipal, a referida contratação deverá ser precedida de licitação.
- 42 Constituem princípios das licitações a isonomia, a moralidade, a publicação e o julgamento subjetivo.
- 43 Nos termos da Lei de Licitações, o seguro-garantia constitui valor disponibilizado pela administração pública ao licitante vencedor, a fim de suprir eventuais deficiências de caixa, no curso da execução da obra ou serviço.

Acerca das obras e serviços disciplinados na Lei de Licitações, julgue o item abaixo.

- 44 A pessoa jurídica autora de projeto executivo relativo a certa licitação estará impedida de participar do referido procedimento. Contudo, poderá legalmente fornecer bens durante o curso da execução da obra ou serviço.

A respeito das normas relativas aos procedimentos licitatórios, julgue os itens a seguir.

- 45 Se o governo de determinado estado deflagrar licitação cujo objeto seja a execução de obra de grande porte, a licitação será efetuada perante a administração pública local, admitindo-se a habilitação de empresas interessadas sediadas em outras unidades da Federação.
- 46 Caso a Receita Federal do Brasil apreenda vários artigos de informática na alfândega, em regular processo de fiscalização, a administração pública poderá promover a venda dos referidos bens, mediante licitação na modalidade de concorrência.
- 47 Se certo município desejar deflagrar licitação com vistas a escolher trabalho artístico de pintura, mediante remuneração ao vencedor, em conformidade com critérios constantes de edital publicado na imprensa oficial com antecedência mínima de quarenta e cinco dias, será correta a opção por licitação na modalidade de concurso.
- 48 Considerando que determinado estado da Federação necessite promover licitação com vistas a executar obra de engenharia, cujo valor estimado da contratação seja superior a R\$ 100.000,00 e inferior a R\$ 120.000,00, será lícito à administração pública local promover licitação na modalidade convite.

Com relação à dispensa e à inexigibilidade de licitação, julgue os próximos itens.

- 49 A entidade pública municipal poderá dispensar a licitação quando se tratar de serviços que envolvam a restauração de obras de arte e objetos históricos, de autenticidade certificada, os quais são inerentes às finalidades do referido município.
- 50 É inexigível a licitação no caso de contratação de profissional do setor artístico, desde que devidamente consagrado pela crítica especializada e comprovada sua aptidão por títulos acadêmicos.

CONHECIMENTOS ESPECÍFICOS

Pedro trabalha em uma fábrica de sapatos há 15 anos. Diabético crônico, certo dia, esqueceu de fazer uso da medicação e apresentou o seguinte quadro clínico: sudorese, tremores, taquicardia, nervosismo e fome. Foi levado ao serviço médico local, onde recebeu atendimento médico imediato, tendo sido submetido a terapêutica medicamentosa, pois, após teste glicêmico rápido, verificou-se glicemia de 50 mg/dL.

Acerca dessa situação hipotética, julgue os itens a seguir.

- 51 O quadro clínico apresentado por Pedro é característico de hipoglicemia branda.
- 52 Diante dos sinais e sintomas e do resultado do teste glicêmico, a terapêutica indicada para Pedro é o soro fisiológico 0,9%.

No tratamento de pacientes submetidos a cirurgias, é muito importante a atuação do profissional técnico de enfermagem. A aplicação de suas habilidades técnicas e conhecimentos ajudará na recuperação de tais pacientes. A respeito da enfermagem cirúrgica, julgue os itens subsequentes.

- 53 Uma cirurgia de urgência é apenas aquela que for realizada imediatamente ao atendimento e sem preparo pré-operatório do paciente.
- 54 Considera-se pré-operatório imediato a fase das 24 horas que antecedem uma cirurgia.

A parasitologia é a ciência que estuda parasitas, hospedeiros e as relações entre eles, e a microbiologia é um ramo da biologia que estuda os microrganismos, como bactérias, fungos e vírus. A respeito da parasitologia e da microbiologia, julgue os próximos itens.

- 55 O trismo ou riso sardônico é um sinal característico do tétano.
- 56 A difteria requer o isolamento respiratório do paciente.
- 57 Um organismo que abriga outro em seu interior ou o transporta é denominado hospedeiro.

A farmacologia é a ciência que estuda a história, as propriedades físicas e químicas, os efeitos bioquímicos e fisiológicos, os mecanismos de ação, absorção, distribuição, biotransformação, excreção e os usos terapêuticos dos fármacos. A respeito de farmacologia, julgue os itens que se seguem.

- 58 As substâncias químicas usadas como contraste radiológico não contribuem para a elucidação diagnóstica.
- 59 As medicações psicotrópicas são substâncias capazes de agir sobre as células nervosas e regular os processos psíquicos.

Com referência a nutrientes e à sua administração, julgue os itens a seguir.

- 60 Os alimentos conhecidos como energéticos são os que contribuem para o crescimento de crianças e jovens.
- 61 Para se administrar a dieta por sonda nasogástrica, a cabeceira da cama do paciente deve ser elevada de 35° a 40°.

Acerca da formação profissional do técnico de enfermagem, cuja qualificação envolve um processo científico e a responsabilidade pelas suas ações voltadas para a saúde e bem-estar dos pacientes, agregando, entre seus saberes, os fundamentos de enfermagem, noções de psicologia, ética, higiene e profilaxia, julgue os itens seguintes.

- 62 Em sua fase de contágio, a varicela não requer isolamento respiratório do paciente.
- 63 De acordo com a psicologia infantil, o conceito de fantasia estende-se a vários aspectos lúdicos.
- 64 No Código de Ética dos Profissionais de Enfermagem, estão previstas apenas quatro penalidades para quem o infringir: advertência verbal, censura, multa e cassação do direito ao exercício profissional.
- 65 Na profilaxia da tuberculose, deve-se evitar o contágio e elevar a resistência dos indivíduos ao bacilo.

Com relação a doenças degenerativas, julgue os itens a seguir.

- 66 Ainda não há drogas testadas que curem doença de Alzheimer.
- 67 Os estudos científicos têm comprovado que não há relação entre a doença de Parkinson e a demência senil.

A anatomia humana compreende o estudo de sistemas e grandes estruturas, e a fisiologia é a parte da biologia que estuda as funções mecânicas, físicas e bioquímicas do corpo humano. A respeito de anatomia e fisiologia, julgue os itens que se seguem.

- 68 Os ossos são formados por células que, conhecidas como osteócitos, têm, na sua composição, apenas o fósforo.
- 69 Chama-se espirometria a técnica usada para se medir o ar que entra e sai dos pulmões durante respiração lenta ou em manobras expiratórias forçadas.

Entende-se por patologia o estudo das doenças em geral, o qual envolve tanto a ciência básica quanto a prática clínica das alterações estruturais e funcionais de células, tecidos e órgãos sujeitos a doenças. A respeito de patologia, julgue o próximo item.

- 70 A neurofibromatose é uma anomalia genética de característica maligna exclusiva da pele.

Na abordagem de saúde pública, as ações de enfermagem intervêm no processo saúde-doença mediante o tratamento e a reabilitação dos indivíduos ou conduta para se evitar riscos e danos, por meio da prevenção de doenças e promoção da saúde, além do controle dos sadios. Acerca da enfermagem no âmbito da saúde pública, julgue os itens subsequentes.

- 71 O único instrumento de intervenção da vigilância em saúde é a vigilância sanitária.
- 72 Entre as medidas de prevenção primária de uma doença, incluem-se: controle de vetores, proteção contra riscos ocupacionais, cloração da água, acompanhamento pré-natal e vacinação.

Em uma intervenção de enfermagem, o ato de cuidar deve ser articulado com princípios administrativos. A respeito de noções de administração de unidades de enfermagem, julgue o item abaixo.

- 73 A frase “Na UTI, é permitida a visita de uma pessoa para cada paciente por um período de 20 minutos” expressa uma norma.

Com referência à atuação do técnico de enfermagem do trabalho em primeiros socorros às vítimas de acidentes laborais. Julgue os itens a seguir.

- 74** A avaliação das condições da vítima deve ser realizada na seguinte sequência: verificação do estado de consciência, avaliação da respiração e da circulação e observação quanto à presença ou não de hemorragia.
- 75** Em caso de hemorragia nasal, deve-se colocar a vítima sentada, com a sua cabeça inclinada para trás, colocar bolsa de gelo sobre o nariz e pressionar a face lateral externa da narina que estiver sangrando.
- 76** Na crise epilética, deve-se estimular a comunicação com a vítima, elevar-lhe a cabeça em relação ao tronco e imobilizar-lhe as pernas para conter os movimentos.

Julgue os itens subsequentes, a respeito de normas, princípios, direitos, deveres, responsabilidades, proibições, infrações e penalidades estabelecidos pelo Código de Ética dos Profissionais de Enfermagem.

- 77** Infração ética é julgada apenas pelos conselhos regionais de enfermagem.
- 78** Censura é uma penalidade que consiste na proibição do exercício profissional não superior a 29 dias.

O processo de trabalho em saúde e o processo de trabalho em enfermagem apresentam características semelhantes e diferentes, porém ambos são influenciados pelas políticas públicas do Ministério da Saúde, que estabelecem como será feita a produção dos serviços de saúde a partir da concepção do Sistema Único de Saúde (SUS). Considerando esse tema, julgue os seguintes itens.

- 79** O processo de trabalho em saúde no SUS é desenvolvido em uma rede de serviços hierarquizada e regionalizada, composta por unidades de baixa, média e alta complexidade.
- 80** A universalidade, a integralidade, a equidade e o controle social são princípios do SUS que devem estar presentes no processo de trabalho em saúde e em enfermagem.
- 81** O processo de trabalho em enfermagem é constituído de atividades administrativas e assistenciais.

A Lei Orgânica da Saúde (Lei n.º 8.080/1990) regulamenta os dispositivos constitucionais acerca da saúde do trabalhador. Considerando as atribuições do SUS na saúde do trabalhador, julgue os itens a seguir.

- 82** Cabe ao SUS oferecer informação ao trabalhador e à sua respectiva entidade sindical e às empresas sobre os riscos de acidentes de trabalho, doença profissional e do trabalho, bem como os resultados de fiscalizações, avaliações ambientais e exames de saúde, de admissão, periódicos e de demissão, respeitados os preceitos da ética profissional.
- 83** O SUS garante aos sindicatos de trabalhadores o direito de requerer ao órgão competente a interdição de máquina, de setor de serviço ou de todo ambiente de trabalho, quando houver exposição a risco iminente para a vida ou saúde dos trabalhadores.
- 84** A participação do SUS na normatização, fiscalização e controle dos serviços de saúde do trabalhador deve ser realizada somente nas instituições e empresas públicas.

Julgue o seguinte item, a respeito das medidas de precaução universalmente adotadas pelos trabalhadores para impedir a transmissão de infecção.

- 85** Lavar as mãos antes e após o contato com cada paciente é uma ação que protege tanto o paciente quanto o profissional.

O técnico de enfermagem do trabalho atua nos diversos níveis de prevenção das doenças profissionais. Segundo a concepção teórica da história natural da doença, julgue os itens que se seguem.

- 86** A prevenção primária é feita mediante ações de promoção da saúde e proteção específica.
- 87** O diagnóstico precoce, o pronto atendimento e a limitação dos danos são ações de prevenção secundária.
- 88** A vacinação dos trabalhadores e a ginástica laboral são ações de prevenção secundária.
- 89** Ações de reabilitação do trabalhador são consideradas como prevenção terciária.

Quanto ao conteúdo das normas regulamentadoras que dispõem sobre a segurança e medicina do trabalho, julgue os próximos itens.

- 90** A equipe do SESMET é composta por engenheiro do trabalho, técnico em segurança do trabalho, médico do trabalho e técnico em enfermagem do trabalho para todas as empresas com mais de 150 empregados.
- 91** A composição, a eleição, a função e o mandato dos componentes da comissão interna de prevenção de acidentes dependem do setor produtivo a que ela está ligada.
- 92** Todo equipamento de proteção individual deve ocultar o nome comercial da empresa fabricante para evitar prejuízos às empresas concorrentes.
- 93** De acordo com as normas para o programa de controle médico de saúde ocupacional (PCMSO), o trabalhador deve permanecer em repouso auditivo por um período mínimo de catorze horas até o momento da realização do exame audiométrico.
- 94** Os agentes químicos que podem causar danos à saúde do trabalhador penetram no organismo por via respiratória, pele ou ingestão.

A utilização de adequados métodos de desinfecção e esterilização de materiais e equipamentos de saúde é uma medida de prevenção das doenças e promoção da saúde do trabalhador. A respeito desse tema, julgue os seguintes itens.

- 95** Os alcoóis etílicos e isopropílicos apresentam atividade rápida sobre bactérias na forma vegetativa, como os cocos gram-positivos, enterobactérias e bactérias gram-negativas não fermentadoras de glicose.
- 96** Na desinfecção, são destruídos todos os esporos bacterianos.
- 97** Os profissionais envolvidos na área de desinfecção devem utilizar avental, máscara, luvas e óculos de proteção para evitar efeitos indesejáveis sobre a pele, olhos e vias respiratórias.
- 98** O glutaldeído é usado principalmente como esterilizante e desinfetante de equipamentos médico-cirúrgicos que não devem ser submetidos a métodos físicos.

Em situações de lançamento de poluentes em corpos hídricos, a eutrofização é favorecida em ambientes lênticos (lagos e represas) enquanto, em ambientes lóticos (rios), o processo de autodepuração é um dos fatores que reduzem os efeitos poluentes desses lançamentos. Em relação aos processos de eutrofização e autodepuração, julgue os itens a seguir.

- 99** A zona de degradação localiza-se a jusante do lançamento do poluente biodegradável, onde a concentração de oxigênio dissolvido atinge valores mínimos, podendo até mesmo tornar-se igual a zero.
- 100** Lagos que sofrem processo de eutrofização acelerada são caracterizados por baixa turbidez, alta penetração de luz e alta diversidade devido à entrada de espécies alóctones.