

TEXTO 01 para as questões de 01 a 05.

O TRANSPORTE NOSSO DE CADA DIA
Mírian Warttusch

*Quem viaja hoje no Metrô,
 ou num ônibus com ar condicionado,
 Certamente jamais terá sabido
 - ou se soube, não terá provado
 Das delícias das antigas diligências,
 das bicicletas e triciclos abusados;
 Das baratinhas, dos fordecos velhos,
 que deixavam o vovô “vidrado”!
 “Maria Fumaça” o nosso antigo trem – lá vem!
 - Mas que apito tão lindo e demorado! -
 O leite nos era entregue de carroça,
 E o burro era tão engraçado!
 Quem já viveu seis décadas ou mais,
 não se terá, por certo, olvidado:
 Dentro do bonde, um anúncio bem visível
 Pro passageiro ficar bem informado.
 Era um milagre, esse remédio pra bronquite,
 E todos conheciam o “Rum Creosotado”
 “Veja ilustre passageiro,
 o belo tipo faceiro que o senhor tem ao seu lado!
 Mas, no entanto, acredite, quase morreu de bronquite,
 Salvou-o o Rum Creosotado”.
 Cresceu tão rápido e demais, São Paulo!
 Viajou no tempo qual falcão alado
 Tornou-se próspero, tão forte e valoroso,
 Entre todos os estados, o mais destacado!
 Quase quinhentos anos de incomum progresso,
 Lhe modelaram um perfil glorificado!
 Pelo trabalho, pela garra de todo o seu povo,
 São Paulo chegou sim, onde devia ter chegado!*

Disponível no site www.culturalivre.net/2007/09/06/otransportenossodecadadia. Acessado em 30.05.2010

01. O autor do texto 1 cometeu alguns erros gramaticais de **PONTUAÇÃO**. Sobre isso, analise os itens abaixo.

- | |
|--|
| <p>I. “Veja ilustre passageiro, o belo tipo faceiro que o senhor tem ao seu lado!”
 II. “Dentro do bonde, um anúncio bem visível”
 III. “Cresceu tão rápido e demais, São Paulo!”</p> |
|--|

Assinale a alternativa que contém a justificativa **CORRETA** para esses erros.

- A) No item I, a omissão da vírgula antes do termo ilustre é erro, uma vez que é obrigatória, porque separa vocativo.
 B) No item II, não poderia existir a vírgula após o termo bonde, por separar um adjunto adverbial deslocado, caracterizando, dessa forma, um erro.
 C) No item III, está correto o emprego da vírgula, por separar adjunto adverbial que exprime circunstância de lugar.
 D) Tanto no item I como no item III, as vírgulas estão corretas por separarem adjuntos adverbiais que exprimem circunstância de lugar.
 E) No item I, a vírgula é facultativa, daí não poder ser considerado um erro de pontuação.

02. Em relação aos termos sublinhados, em apenas uma das alternativas, o termo em parênteses é **sinônimo** do termo sublinhado. Assinale-a.

- A) “Das baratinhas, dos fordecos velhos, que deixavam o vovô “vidrado”!” (intransigente)
 B) “Dentro do bonde, um anúncio bem visível” (ilegível)
 C) “Quem já viveu seis décadas ou mais, não se terá, por certo, olvidado” (esquecido)
 D) “Tornou-se próspero, tão forte e valoroso” (depreciativo)
 E) “Quase quinhentos anos de incomum progresso” (vulgar)

03. Em qual das alternativas abaixo, o autor se utilizou de um termo que indica a existência de uma *metáfora* ?

- A) “Quem já viveu seis décadas ou mais ”
- B) “São Paulo chegou sim, onde devia ter chegado!”
- C) “‘Maria Fumaça’ o nosso antigo trem – lá vem!”
- D) “Das baratinhas, dos fordecos velhos, que deixavam o vovô ‘vidrado’!”
- E) “Quase quinhentos anos de incomum progresso”

04. Em todas as alternativas, os termos sublinhados são *sufixos*, à exceção de uma cujo termo contém um *prefixo*. Assinale-a.

- A) “que deixavam o vovô ‘vidrado’!”
- B) “E o burro era tão engraçado!”
- C) “Quase quinhentos anos de incomum progresso”
- D) “Dentro do bonde, um anúncio bem visível!”
- E) “Tornou-se próspero, tão forte e valoroso”

05. Observe as afirmativas abaixo sobre *CONCORDÂNCIA NOMINAL*.

- I. “Cresceu tão rápido e demais, São Paulo! Viajou no tempo qual falcão alado. Tornou-se próspero, tão forte e valoroso.” – os adjetivos sublinhados neste trecho concordam com o termo “tempo”.
- II. “Dentro do bonde, um anúncio bem visível” - se o termo sublinhado estivesse no plural, estaria correto o trecho: Dentro do bonde, uns anúncios bem visíveis.
- III. “Pro passageiro ficar bem informado” - substituindo-se o termo sublinhado por *passageiras*, estaria correto o trecho: Pras passageiras ficarem bem informadas.
- IV. “- Mas que apito tão lindo e demorado!” – se se acrescentasse o termo *sineta* após *apito*, estaria correto o trecho: Mas que apito e sineta tão lindas e demoradas.

Somente está **CORRETO** o que se afirma em

- A) I, II e IV.
- B) II, III e IV.
- C) I e IV.
- D) I, III e IV.
- E) II e III.

TEXTO 02 para as questões de 06 a 10.

Entre 11 de junho e 11 de julho de 2010, pessoas do mundo inteiro assistirão aos jogos da Copa do Mundo de Futebol. O evento será realizado pela primeira vez, no continente africano, tendo a África do Sul como país-sede. Apesar de o torneio durar apenas um mês, os preparativos demoram anos e exigem muito esforço, tanto físico quanto financeiro.

A escolha da África do Sul foi anunciada em maio de 2004, quando o país derrotou Marrocos por quatorze votos contra dez. Para a escolha, os 24 membros do Comitê Executivo da FIFA (Federação Internacional de Futebol) analisaram aspectos, como turismo, segurança, estádios, infraestrutura, transporte, rede hoteleira, entre outros. Geralmente, os países que organizam a Copa selecionam 12 cidades-sede para abrigarem os jogos. Em virtude de a África do Sul não ser uma potência econômica, a FIFA permitiu a escolha de apenas nove cidades, sendo que Johannesburgo terá dois estádios. As outras oito são: Cidade do Cabo, Durban, Nelspruit, Polokwane, Rustenburg, Pretória, Bloemfontein e Port Elizabeth.



Obras do principal estádio, o Soccer City, duraram três anos

O principal estádio do Mundial de 2010 é o Soccer City (Cidade do Futebol, em português), que está localizado em Johannesburgo. Ele foi construído em substituição ao antigo FNB Stadium, ampliando a capacidade de 88 mil para 94.700 espectadores, tornando-se o maior do continente africano. As obras duraram três anos e custaram cerca de 800 milhões de reais.

Historicamente, a localização do Soccer City é bastante importante. Foi no antigo estádio que, em 1990, Nelson Mandela fez o seu primeiro discurso após sair da prisão. O outro estádio de Johannesburgo, o Ellis Park, pertence a um time de rugby. Em 1995, o Ellis Park recebeu a final do mundial rugby, principal esporte do país, vencida pela própria África do Sul e retratada por meio do filme *Invictus*, em 2009. Este evento foi muito importante para a integração racial, pois atraiu torcedores negros para um esporte considerado de brancos.

11. No Excel 2007 (versão em português), as informações relativas ao preço de diversos itens estão todas contidas na coluna D da planilha. Desejamos que uma célula vazia (na coluna E da mesma planilha) contenha a soma destes preços presentes na coluna D. O comando que deve ser digitado para obter tal ação é

- A) =SOMA(D:D)
B) =SOMA(D\$)
C) =SOMA(D\$:D\$)
D) =SOMA(D*:D*)
E) =SOMA(D)

12. Uma das formas mais comuns de disseminação de vírus de computador atualmente é através de mensagens de email. Uma das seguintes opções NÃO se refere a um mecanismo de prevenção de infecções por esta via. Assinale-a.

- A) Não abrir anexos de fontes desconhecidas.
B) Atualizar o programa de antivírus do computador.
C) Verificar o remetente antes de abrir o email.
D) Utilizar somente programas de Webmail.
E) Ler uma versão somente do texto do email antes de abri-lo.

13. As pastas-padrão para organização dos emails no Outlook Express 6 (versão em português) são:

- A) Entrada, Enviados, Rascunhos e Spam.
B) Caixa de entrada, Caixa de saída, Itens enviados, Itens excluídos e Rascunhos.
C) Caixa de entrada, Emails enviados, Emails recebidos e Lixeira.
D) Caixa de entrada, Caixa de saída, Emails não enviados, Lixeira.
E) Caixa de entrada, Caixa de emails enviados, Caixa de emails não enviados, Spam.

14. O termo *Phising* refere-se a uma forma de fraude caracterizada pela(pelo)

- A) tentativa de aquisição de informações sigilosas (senhas, números de contas bancárias, etc), fazendo-se passar por alguma fonte (página do banco, remetente de email, etc) confiável.
B) instalação de um programa de computador (keylogger) especializado na captura de informações (senhas, números de contas bancárias, etc) digitadas via teclado.
C) envio de anexos contendo vídeos ou outras informações atraentes, mas que, na verdade, instalam, ao serem executados, programas maliciosos no computador.
D) envio de uma quantidade massiva de emails, provocando a queda de servidores e permitindo o ataque especializado de Hackers.
E) tentativa de invasão de sistemas mediante a tentativa de todas as possibilidades (força bruta) de senhas, permitindo ao invasor ter acesso ao sistema como se fosse um usuário válido.

15. O uso de contas com senhas de acesso é um mecanismo que o Windows XP usa para controlar as informações que podem ser visualizadas por cada usuário do computador. Um usuário que apenas terá acesso ao computador por um curto período de tempo pode utilizar uma conta chamada de “Conta de Convidado”. Sobre este tipo de conta, é INCORRETO afirmar que

- A) é uma conta do tipo “Limitada” não permitindo ao usuário instalar programas que alterem as configurações do computador.
B) é uma conta de acesso sem senha. O usuário deve ter ciência de que seus arquivos podem, desta forma, ser visualizados por outros usuários do computador.
C) é uma conta de acesso temporário. Usuários que precisam utilizar o sistema com todas as suas funcionalidades devem solicitar uma conta específica para eles (do tipo Administrador, possivelmente).
D) o computador pode ter diversas contas com privilégios de Administrador e apenas uma “Conta de Convidado”.
E) o computador pode ter apenas uma conta com privilégios de Administrador e diversas “Contas de Convidado”.





16. Ao escrever um email utilizando o Outlook Express 6 (versão em português), um usuário deseja que os diversos destinatários de seu email não possam ver o endereço um do outro. A opção que deve ser utilizada neste caso é

- A) “Para”.
B) “Cc”.
C) “Cco”.
D) “Invisível”.
E) “Anônimo”.

17. No Word 2007, podemos usar o mecanismo de mala direta para criar, por exemplo, documentos personalizados como uma carta modelo a ser enviada para diversos clientes, contendo cada carta o nome do cliente específico para a qual ela está sendo enviada. As etapas necessárias a usar tal funcionalidade são:

- A) Definição do documento padrão, Vinculação do documento padrão ao formulário Acess, contendo as informações dos clientes, Visualização dos documentos Gerados.
- B) Definição do documento principal, Conexão do documento principal ao formulário Acess, contendo as informações dos clientes, Visualização dos documentos Gerados.
- C) Definição do documento padrão, Vinculação do documento padrão ao formulário Excel, contendo as informações dos clientes, Visualização dos documentos Gerados.
- D) Definição do documento principal, Uso combinado de Ctrl-C, Ctrl-V para conexão do documento à fonte de dados, Vinculação do documento padrão ao formulário de dados, Visualizar e completar a mesclagem.
- E) Definição do documento principal, Conexão do documento principal a uma fonte de dados, Adicionar espaços reservados (campos de mala direta) ao documento, Visualizar e completar a mesclagem.

18. No Word 2007, é possível usar senhas que ajudam para evitar acesso indevido, por exemplo, a informações privativas presentes no documento. Para ativar esse recurso de segurança em um arquivo no Word 2007, é necessário

- A) clicar no Botão do Microsoft Office  apontando, em seguida, para a guia “Salvar Como”. Nesta guia, clicar em “Salvar cópia segura”. Uma nova guia será exibida para criação da senha de acesso.
- B) clicar no Botão do Microsoft Office  apontando, em seguida, para a guia “Segurança”. Nesta guia, clicar em “Ativar senha”. Uma nova guia será exibida para criação da senha de acesso.
- C) clicar no Botão do Microsoft Office  apontando, em seguida, para a guia “Preparar”. Nesta guia, clicar em “Criptografar Documento”. Uma nova guia será exibida para criação da senha de acesso.
- D) clicar no Botão do Microsoft Office  apontando, em seguida, para a guia “Ativar Senha”. Nesta guia, clicar em “Criptografar Documento”. Uma nova guia será exibida para criação da senha de acesso.
- E) não é possível ativar senhas no Word 2007. Uma cópia do arquivo deve ser salva no formato Word 2003, para que seja possível ativar senha na aba “Salvar cópia de segurança”.

19. Um funcionário digitou, em uma planilha do Excel 2007 (versão em português), as seguintes informações dos clientes da empresa na qual trabalha: Nome do Cliente; Endereço; Telefone. As informações foram organizadas uma coluna para cada um destes itens e um cliente (com todas as informações digitadas) em cada linha. Após digitar as informações sobre todos os clientes, o funcionário selecionou a guia “Início” no grupo “Editar” e clicou em “Classificar e Filtrar” escolhendo a opção “Classificar de A a Z”. Se a célula ativa pertencia à coluna com as informações de Nome do Cliente, este conjunto de ações terá por efeito:

- A) nada acontecerá, pois o comando “Classificar de A a Z” apenas pode ser ativado, se um conjunto de dados estiver selecionado. Neste exemplo, apenas uma célula (pertencente à coluna com as informações de Nome do Cliente) está selecionada o que não terá, portanto, efeito algum
- B) acontecerá um erro, pois o comando “Classificar de A a Z” apenas pode ser ativado, se um conjunto de dados estiver selecionado. Neste exemplo, apenas uma célula (pertencente à coluna com as informações de Nome do Cliente) está selecionada o que terá, portanto, efeito de ativar mensagem de erro.
- C) cada coluna da planilha será, independentemente, organizada em ordem alfabética. As colunas, desta forma, não acompanharão as mudanças de posição das células uma da outra, o que acarretará em perda da integridade das informações digitadas: As linhas de Nome do Cliente, Endereço e Telefone não mudarão de posição juntas, perdendo sua referência uma com a outra.
- D) a coluna contendo as informações de Nome do Cliente será organizada em ordem alfabética. As demais colunas, contudo, não acompanharão as mudanças de posição de cada célula desta coluna, o que acarretará em perda da integridade das informações digitadas: As linhas de Endereço e Telefone não mudarão de posição, perdendo sua referência com as informações de Nome do Cliente.
- E) a coluna contendo as informações de Nome do Cliente será organizada em ordem alfabética. As demais colunas acompanharão as mudanças de posição de cada célula desta coluna, mantendo assim a integridade das informações digitadas: Cada cliente ainda estará na mesma linha das suas informações de Endereço e Telefone. A coluna contendo as informações de Nome do Cliente será organizada em ordem alfabética. As demais colunas acompanharam as mudanças de posição de cada célula desta coluna, mantendo assim a integridade das informações digitadas: Cada cliente ainda estará na mesma linha das suas informações de Endereço e Telefone.

20. Algumas ações, tais como instalações indevidas de programas, podem danificar o Windows XP (versão em português) de tal forma que ele não possa iniciar corretamente. Uma forma de inicializar o computador nesses casos, a fim de sanar o problema é a de

- A) inicializar o computador em modo de segurança.
- B) ativar a ferramenta de restauração de software.
- C) reiniciar o computador tantas vezes quantas necessárias até que alguma das vezes inicialize corretamente o sistema.
- D) ativar a ferramenta de limpeza de disco.
- E) usar o disco de ativação de emergência do Windows XP.

CONHECIMENTOS ESPECÍFICOS

21. Um agregado de concreto deve conter, ao menos, 31% de areia por volume para uma composição adequada. Um tipo de material que representa 25% de areia e 75% de agregado bruto é vendido por R\$ 10,00 o metro cúbico. Outro tipo que tem 40% de areia e 60% de agregado bruto é vendido a R\$ 14,00 o metro cúbico. Qual é o custo mínimo, por metro cúbico, da mistura dos dois agregados?

- A) 11,60
- B) 15,10
- C) 10,20
- D) 12,40
- E) 12,00

22. Uma empresa de ônibus pretende desmembrar a sua linha expresso 2001 em duas, com a finalidade de atender a uma comunidade que fica localizada a 3Km de distância. Segundo o departamento de planejamento da empresa, somente será possível atender a essa demanda, se a tarifa cobrir os custos. Sabe-se que, à medida que a tarifa aumenta, a demanda tende a diminuir. Numericamente, a empresa estima:

$$T = 35 - 0,02D, \text{ onde } T \text{ é a tarifa, e } D, \text{ a demanda média estimada.}$$

Por outro lado, a gerência estima que o custo médio de produção do serviço diminuirá, à medida que a demanda a ser atendida aumentar. A gerência estima que

$$C = 4D + 8000.$$

Qual deve ser a demanda atendida, de modo a maximizar o lucro da empresa?

- A) 500
- B) 700
- C) 870
- D) 228
- E) 775

23. No problema anterior, qual deve ser o valor da tarifa ?

- A) 25
- B) 21
- C) 19,5
- D) 30,44
- E) 17,60

24. Seja $D = ae^{bT}$ onde D é a demanda de uma linha, T , a sua tarifa, e a e b coeficientes. A expressão da elasticidade demanda preço é

- A) bT
- B) e^{bT}
- C) bTe^{bT}
- D) ae^{-bT}
- E) $ab e^T$

25. No estudo de pré-viabilidade do Metrô do Recife, utilizou-se uma equação linear para explicar o percentual de viagens por transporte coletivo, com base num parâmetro que relaciona o grau de motorização e a população. No estudo inicial, a participação do modal ônibus era de 87,70%. Com base na elasticidade $E = -0,17$ e no grau de motorização atualmente estimada em 150 carros particulares / 1000 habitantes, calcule, aproximadamente, qual deve ser o percentual de participação do ônibus, considerando que a equação de regressão se manteve inalterada.

- A) 87,70%.
- B) 85,7%.
- C) 74,9%.
- D) 72,3%.
- E) 82,50%.

26. Considere três alternativas mutuamente excludentes.

Ano	Alt 1	Alt 2	Alt 3
0	-9	-21	- 25
1	12	25	30

Sendo a TMA de 6%, que alternativa devemos escolher?

- A) Alternativa 1.
- B) Alternativa 2.
- C) Alternativa 2, pois a taxa interna de retorno do investimento incremental (Alt 2 – Alt 1) é 8,3%.
- D) Alternativa 3, pois a taxa interna de retorno do projeto incremental (Alt 3 – Alt 2) é 25%.
- E) Todas as alternativas são inviáveis para serem escolhidas.

27. Quais dos conceitos abaixo são inerentes à demanda de transporte?

- I.** Altamente diferenciada: a demanda pode variar com a hora do dia, com o dia da semana e com o tipo de transporte oferecido.
- II.** Derivada: a demanda de pessoas que viajam para satisfazer uma necessidade em seu destino.
- III.** Concentrada: demanda em poucas horas do dia, nas áreas urbanas, particularmente nas horas de pico.
- IV.** Agregada: demanda obtida pela modelagem do mercado, sem passar pelo comportamento individual.
- V.** Desagregada: demanda obtida pela modelagem do mercado, usando curvas de demanda e conceito de elasticidade com base em comportamentos individuais.

Assinale a alternativa CORRETA.

- A) II e V, apenas.
- B) I, III e V, apenas.
- C) I, II, III e IV, apenas.
- D) I, II, IV e V, apenas.
- E) I, II, III, IV e V.

28. O procedimento clássico para o planejamento de transportes para uma região compreende, inicialmente, uma coleta de dados. De posse dos dados necessários, parte-se para a fase de identificação da demanda futura, utilizando-se para isto, modelo sequencial de demanda. Quais as etapas sequenciais desse modelo?

- A) Geração de viagens, Distribuição de viagens, Divisão modal e Alocação de fluxo.
- B) Geração de viagens, Distribuição de viagens, Alocação de fluxo e Divisão modal.
- C) Geração de viagens, Alocação de fluxo, Distribuição de viagens e Divisão modal.
- D) Geração de viagens, Divisão modal, Distribuição de viagens e Alocação de fluxo.
- E) Geração de viagens, Divisão modal, Alocação de fluxo e Distribuição de viagens.

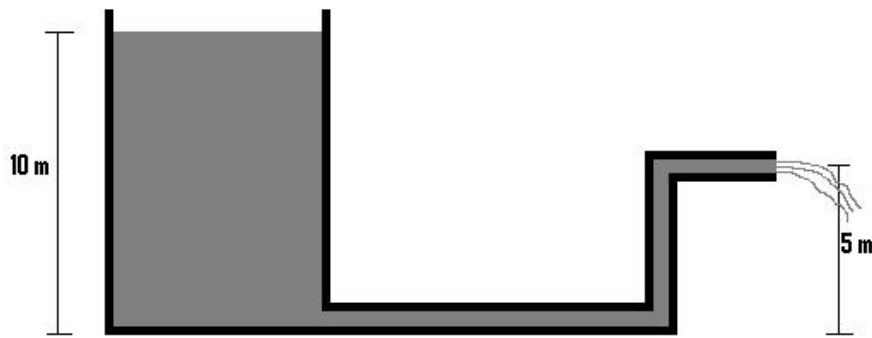
29. A estrutura de custo operacional do sistema de transporte por ônibus compreende: Custo variável = R\$ 1,03 / vec x Km; Custo fixo = R\$ 141.000,00/ vec x ano e Custo de capital = R\$ 47000,00/veic x ano. Transportam-se, em média, nesse sistema, 126.000 passageiros por dia e com 5% pagando meia passagem e 10% de gratuidades. A quilometragem média rodada por dia, por veículo é de 240 Km para uma frota média de 250 ônibus. Qual deve ser o valor aproximado da tarifa necessária?

- A) 1,82
- B) 1,73
- C) 1,65
- D) 1,85
- E) 1,60

30. Uma peça de máquina pode ser fabricada ao custo unitário de 40 centavos de material e 15 centavos de mão-de-obra direta. Um pedido compreende 3 milhões de peças. A meio caminho da execução do pedido, pode-se introduzir um novo processo de produção que reduz os custos unitários para 34 centavos de material e 10 centavos de mão-de-obra direta – mas exigiria um equipamento adicional de R\$ 100.000,00. Outros custos incidem sobre a mão-de-obra direta em 150% para os dois processos de produção. Denominando o primeiro processo de produção de Fase 1 e o segundo de Fase 2, assinale a alternativa VERDADEIRA.

- A) A Fase1 produz o mesmo custo da Fase 2.
- B) A Fase 1 tem um custo em torno de 40,1% maior que o custo da Fase 2.
- C) A Fase 1 tem um custo em torno de 35,5% maior que o custo da Fase 2.
- D) A Fase 2 tem um custo menor em torno de 18,2 % do custo da Fase 1.
- E) A Fase 2 tem um custo menor em torno de 25,5% do custo da fase 1.

39. O tanque da figura tem grandes dimensões, a velocidade da superfície livre da água pode ser considerada desprezível, e descarrega água pelo tubo indicado. Considerando o tubo ideal, a aceleração da gravidade $g = 10 \text{ m/s}^2$, é CORRETO afirmar que a vazão em volume de água descarregada, se a seção do tubo é 20 cm^2 , é em litros por segundo:



- A) 10. B) 15. C) 20. D) 25. E) 30.

40. Os custos diretos de uma obra são aqueles que

- A) se referem aos materiais, à mão-de-obra, aos serviços e a tempo de utilização de equipamentos, aplicados no empreendimento, acrescidos dos respectivos encargos trabalhistas e fiscais, a partir das quantidades de serviços definidas pelo projeto e dos respectivos preços unitários, definidos pela especificação, que também faz parte do projeto.
- B) não podem ser atribuídos diretamente aos insumos aplicados. São consequência da realização dos serviços e, por essa razão, fazem parte também do custo real do empreendimento.
- C) decorrem de condições contratuais relativas aos cronogramas de execução dos serviços e de pagamentos do contratante à contratada, descontadas as cauções. São passíveis de serem calculados previamente para todas as empresas concorrentes em uma determinada obra.
- D) decorrem das atividades de venda dos serviços, isto é, preparo de concorrências, viagens ao local das obras, montagem de estandes de vendas, publicidade, corretagem, entre outros.
- E) se pagam os impostos, como Imposto de Renda, PIS, ISS, COFINS, CPMF, entre outros. Esses encargos podem incidir sobre o faturamento, isto é, sobre o preço final de venda, sobre os serviços - caso do ISS -, ou sobre o lucro - caso do imposto de renda.