



ASSISTENTE DE ADMINISTRAÇÃO

LEIA ATENTAMENTE AS INSTRUÇÕES ABAIXO.

01 - Você recebeu do fiscal o seguinte material:

a) este caderno, com o enunciado das 30 questões das Provas Objetivas, sem repetição ou falha, assim distribuídas:

PORTUGUÊS II		MATEMÁTICA II		NOÇÕES DE INFORMÁTICA	
Questões	Pontos	Questões	Pontos	Questões	Pontos
1 a 5	2,0	11 a 15	2,0	21 a 25	3,0
6 a 10	4,0	16 a 20	4,0	26 a 30	5,0

b) 1 **CARTÃO-RESPOSTA** destinado às respostas às questões objetivas formuladas nas provas.

02 - Verifique se este material está em ordem e se o seu nome e número de inscrição conferem com os que aparecem no **CARTÃO-RESPOSTA**. Caso contrário, notifique **IMEDIATAMENTE** o fiscal.

03 - Após a conferência, o candidato deverá assinar no espaço próprio do **CARTÃO-RESPOSTA**, preferivelmente a caneta esferográfica de tinta na cor preta. No **CARTÃO-RESPOSTA**, o candidato deverá assinalar também, no espaço próprio, o gabarito correspondente às suas provas: ① AMARELA, ② AZUL, ③ BRANCA, ④ ROSA. **Se assinalar um gabarito que não corresponda ao de suas provas ou deixar de assinalá-lo, será eliminado.**

04 - No **CARTÃO-RESPOSTA**, a marcação das letras correspondentes às respostas certas deve ser feita cobrindo a letra e preenchendo todo o espaço compreendido pelos círculos, a **caneta esferográfica de tinta na cor preta**, de forma contínua e densa. A LEITORA ÓTICA é sensível a marcas escuras; portanto, preencha os campos de marcação completamente, sem deixar claros.

Exemplo: (A) ● (C) (D) (E)

05 - Tenha muito cuidado com o **CARTÃO-RESPOSTA**, para não o **DOBRAR, AMASSAR ou MANCHAR**. O **CARTÃO-RESPOSTA SOMENTE** poderá ser substituído caso esteja danificado em suas margens superior ou inferior - **BARRA DE RECONHECIMENTO PARA LEITURA ÓTICA**.

06 - Para cada uma das questões objetivas, são apresentadas 5 alternativas classificadas com as letras (A), (B), (C), (D) e (E); só uma responde adequadamente ao quesito proposto. Você só deve assinalar **UMA RESPOSTA**: a marcação em mais de uma alternativa anula a questão, **MESMO QUE UMA DAS RESPOSTAS ESTEJA CORRETA**.

07 - As questões objetivas são identificadas pelo número que se situa acima de seu enunciado.

08 - **SERÁ ELIMINADO** do Processo Seletivo Público o candidato que:

a) se utilizar, durante a realização das provas, de máquinas e/ou relógios de calcular, bem como de rádios gravadores, *headphones*, telefones celulares ou fontes de consulta de qualquer espécie;

b) se ausentar da sala em que se realizam as provas levando consigo o Caderno de Questões e/ou o **CARTÃO-RESPOSTA**.

09 - Reserve os 30 (trinta) minutos finais para marcar seu **CARTÃO-RESPOSTA**. Os rascunhos e as marcações assinaladas no Caderno de Questões **NÃO SERÃO LEVADOS EM CONTA**.

10 - Quando terminar, entregue ao fiscal **O CADERNO DE QUESTÕES E O CARTÃO-RESPOSTA, E ASSINE A LISTA DE PRESENÇA**.

Obs. Por razões de segurança, o candidato somente poderá levar o Caderno de Questões se permanecer na sala até 30 (trinta) minutos antes do encerramento das provas.

11 - **O TEMPO DISPONÍVEL PARA ESTAS PROVAS DE QUESTÕES OBJETIVAS É DE 2 (DUAS) HORAS E (TRINTA) MINUTOS.**

12 - As questões e os gabaritos das Provas Objetivas serão divulgados no segundo dia útil após a realização das provas na página da **FUNDAÇÃO CESGRANRIO (www.cesgranrio.org.br)**.



PORTUGUÊS II

Guarani, a língua proibida

Até meados do século XVIII, falar português não era o suficiente para se comunicar no Brasil. Na Colônia, predominava ainda a chamada língua geral. Baseada originariamente no tupi, ela passou por modificações ao longo dos contatos entre índios e europeus, até tornar-se a linguagem característica da sociedade colonial. A língua geral era, portanto, falada não apenas pelos índios, mas também por amplas camadas da população. Em algumas regiões da Colônia, como em São Paulo e na Amazônia, ela era utilizada pela maioria dos habitantes, a ponto de exigir que as autoridades portuguesas enviadas a esses lugares se valessem de intérpretes para se comunicar.

Por tudo isso, na segunda metade do século XVIII, a Coroa portuguesa criou uma série de leis para transformar os índios em súditos iguais aos demais colonos. Com as mudanças, pretendia-se eliminar as diferenças culturais características dos grupos indígenas, fazendo deles pessoas “civilizadas”. (...) O principal mentor desta política foi Sebastião José de Carvalho e Melo, conhecido mais tarde como Marquês de Pombal.

A Coroa pretendia impor o uso do idioma português entre as populações nativas da América porque Pombal entendia que as línguas indígenas reforçavam os costumes tribais, que ele pretendia extinguir. Na sua visão, o uso da língua portuguesa ajudaria a erradicar esses costumes, aumentando a sujeição das populações indígenas ao Rei e à Coroa.

F. GARCIA, Elisa . *Revista de História da Biblioteca Nacional*, julho de 2005, p.73/74 (com adaptações).

1

De acordo com o texto, a língua predominante, no Brasil, na primeira metade do século XVIII, era a(o):

- (A) língua que os colonizadores ensinavam aos índios.
- (B) língua dos intérpretes enviados pela Coroa.
- (C) língua de contato, chamada de língua geral.
- (D) português, aprendido com os colonizadores.
- (E) tupi, que os índios falavam entre si.

2

A palavra “mentor” (l. 19) pode ser adequadamente substituída, no texto, por:

- (A) advogado.
- (B) conselheiro.
- (C) oponente.
- (D) seguidor.
- (E) estudante.

3

De acordo com o texto, a imposição do uso da língua portuguesa às populações indígenas baseava-se no entendimento de que:

- (A) a língua usada pelos colonizadores era melhor para a comunicação.
- (B) as línguas dos índios não tinham os mesmos recursos que a língua portuguesa.
- (C) os índios não precisavam de seus idiomas nativos para se comunicar.
- (D) os índios, ao assimilar o português, deixariam seus hábitos.
- (E) os índios aprenderiam facilmente a língua portuguesa e os costumes do povo.

4

Observe as afirmativas abaixo sobre as razões para que o texto utilize letras maiúsculas para as palavras “Até” (l. 1), “Brasil” (l. 2) e “Colônia” (l. 2) e indique se são falsas (F) ou verdadeiras (V).

- () O uso da letra maiúscula se faz necessário porque as três palavras são substantivos próprios.
- () O uso da maiúscula em “até” deve-se ao fato de a palavra estar iniciando frase e o uso em “Brasil”, porque este é um nome próprio.
- () A palavra “Colônia” é um substantivo comum personificado e, portanto, deve ser grafado com maiúscula.

A seqüência correta é:

- (A) F - F - V
- (B) F - V - F
- (C) F - V - V
- (D) V - F - F
- (E) V - V - F

5

Segundo o texto, as leis criadas pela Coroa portuguesa tinham como objetivo:

- (A) promover a igualdade entre os súditos da Coroa e os colonos.
- (B) reforçar os antigos hábitos culturais dos indígenas brasileiros.
- (C) eliminar as diferenças entre as diversas tribos indígenas.
- (D) fazer com que índios e colonos fossem igualmente súditos.
- (E) evitar que os colonos adquirissem as culturas dos índios.

6

A palavra que expressa o **CONTRÁRIO** do significado de “erradicar” (l. 26) é:

- (A) desarraigar.
- (B) tirar.
- (C) extrair.
- (D) eliminar.
- (E) fixar.



7

“O nadador chegou ___ etapa final da competição, ___ vésperas do seu aniversário. Ele aspirava ___ medalha de ouro ___ muito tempo”.

Os vocábulos que preenchem corretamente as lacunas do texto acima são:

- (A) a – as – a – há
- (B) a – às – à – a
- (C) à – as – a – a
- (D) à – as – à – há
- (E) à – às – à – há

8

“ Ê cara, tô azarando uma mina que é o maior barato”.

Assinale a opção que apresenta, para o texto oral reproduzido acima, uma versão de acordo com as características do registro escrito da língua culta padrão.

- (A) Ei, estou paquerando uma menina muito legal!
- (B) Estou dando em cima de uma garota bem maneira.
- (C) Estou interessado numa moça bonita e inteligente.
- (D) Você não acredita em que mulherão estou interessado!
- (E) Não há mulher mais sinistra do que a que tô de olho!

9

Assinale a opção em que o pronome pessoal **NÃO** está usado de acordo com a norma culta.

- (A) Ele trouxe esse presente para mim.
- (B) A salada de tomate é para eu comer.
- (C) Pedi-lhe licença para sair da sala.
- (D) Este programa é para mim fazer.
- (E) Ele precisava da ajuda dos pais.

10

Assinale a única sentença em que a palavra destacada concorda corretamente com o substantivo.

- (A) As moças **mesmas** pediram ao chefe para sair.
- (B) O meu horário de saída é meio-dia e **meio**.
- (C) **Dado** a necessidade de sair agora, então vá.
- (D) Vai **anexo** a declaração pedida por seu setor.
- (E) Eu gosto de mais amor e **menas** confiança.

MATEMÁTICA II

11

Considere as seguintes proposições:

- I - o maior número inteiro negativo é -1;
- II - dados os números inteiros -50 e -80, temos $-50 < -80$;
- III - zero é um número racional.

Está(ão) correta(s) a(s) proposição(ões):

- (A) I, apenas.
- (B) I e II, apenas.
- (C) I e III, apenas.
- (D) I, II e III.
- (E) II, apenas.

12

As famílias de duas irmãs, Alda e Berta, vivem na mesma casa e a divisão das despesas mensais é proporcional ao número de pessoas de cada família. Na família de Alda são três pessoas e na de Berta, cinco. Se a despesa, num certo mês, foi de R\$ 1 280,00, quanto pagou, em reais, a família de Alda?

- (A) 320,00
- (B) 410,00
- (C) 450,00
- (D) 480,00
- (E) 520,00

13

José viaja 350 quilômetros para ir de carro de sua casa à cidade onde moram seus pais. Numa dessas viagens, após alguns quilômetros, ele parou para um cafezinho. A seguir, percorreu o triplo da quantidade de quilômetros que havia percorrido antes de parar. Quantos quilômetros ele percorreu após o café?

- (A) 87,5
- (B) 125,6
- (C) 262,5
- (D) 267,5
- (E) 272,0

14

O preço de capa de uma revista semanal é de R\$ 5,00. Na assinatura anual, com direito a 12 edições dessa revista, há um desconto de 12%. O preço da assinatura, em reais, é:

- (A) 51,20
- (B) 51,80
- (C) 52,20
- (D) 52,40
- (E) 52,80



15

O quadro abaixo indica número de passageiros num voo entre Curitiba e Belém, com duas escalas, uma no Rio de Janeiro e outra em Brasília. Os números positivos indicam a quantidade de passageiros que subiram no avião e os negativos, a quantidade dos que desceram em cada cidade.

Curitiba	+240
Rio de Janeiro	-194
	+158
Brasília	-108
	+94

O número de passageiros que chegou a Belém foi:

- (A) 135 (B) 190
(C) 240 (D) 280
(E) 362

16

Para construir um piso de concreto, Antônio utiliza 50 kg de cimento para cada $2,50 \text{ m}^2$ de piso. Quantos sacos com 50 kg de cimento serão necessários para que Antônio possa cobrir uma superfície de 300 m^2 ?

- (A) 125 (B) 120
(C) 115 (D) 112
(E) 110

17

Uma pesquisa com duzentas pessoas concluiu que $\frac{3}{4}$ delas são esportistas e $\frac{2}{5}$ dos esportistas praticam natação. O número de pessoas que praticam natação é:

- (A) 40
(B) 50
(C) 60
(D) 70
(E) 80

18

Um jogo com 4 tempos de mesma duração e 3 intervalos de 4 minutos cada um leva duas horas. Quantos minutos de duração tem cada tempo desse jogo?

- (A) 27 (B) 25
(C) 24 (D) 22
(E) 20

19

Um quintal pode ser ladrilhado com 200 ladrilhos de 250 cm^2 de área, cada um. Quantas lajotas de 400 cm^2 , cada uma, são necessárias para recobrir o mesmo quintal?

- (A) 100
(B) 112
(C) 120
(D) 125
(E) 135

20

Pedro possui um terreno de 800 m^2 e quer construir nele um canteiro que ocupe 20% da metade da área do terreno. Para isso contratou um jardineiro que cobrou R\$ 25,00 por m^2 de canteiro construído. Quanto Pedro gastará, em reais?

- (A) 2 000,00
(B) 2 120,00
(C) 2 250,00
(D) 2 300,00
(E) 2 400,00



CONTINUA



NOÇÕES DE INFORMÁTICA

21

Um usuário recebeu uma pequena ficha de inventário da equipe de suporte de informática, solicitando três informações a respeito do PC que ele utiliza na empresa. A ficha com as respostas fornecidas pelo usuário é apresentada abaixo.

FICHA DE INVENTÁRIO	
Informação Solicitada pelo Suporte	Resposta do Usuário
I - Endereço IP	98
II - Sistema Operacional	Microsoft Office 2000
III - Quantidade de Memória RAM	64 MB

Qual(is) das respostas fornecidas pelo usuário **NÃO** é(são) compatível(is) com a(s) informação(ões) solicitada(s)?

- (A) I, apenas. (B) I e II, apenas.
(C) I, II e III. (D) II, apenas.
(E) III, apenas.

22



A figura acima mostra uma árvore de diretórios no Windows Explorer. O desenho de uma “mão” abaixo da pasta DOC indica que ela:


- (A) é protegida por senha.
(B) está vazia, no momento.
(C) está compartilhada.
(D) pertence a outro computador da rede.
(E) pode armazenar somente arquivos compactados.

23

Um usuário do Windows 98 está utilizando a ferramenta Localizar do Windows Explorer para localizar, no seu disco rígido, todos os seus documentos do Word. Sabendo que estes documentos possuem o nome iniciado por “2005” e a extensão “.doc”, para executar esta pesquisa, o usuário deve preencher o campo “nome” da ferramenta Localizar com:

- (A) 2005%.doc (B) 2005&.doc
(C) 2005@.doc (D) 2005*.doc
(E) 2005#.doc

24

Qual a função do botão  da barra de Ferramentas Formatação do Word 2000?

- (A) Inserir uma tabela em um documento.
(B) Inserir uma planilha do Excel em um documento.
(C) Dividir o documento em seções.
(D) Criar uma lista com marcadores.
(E) Alinhar à esquerda o texto de um parágrafo.

25

Para o Word 2000 são feitas as seguintes afirmativas:

- I - permite classificar automaticamente as informações de uma tabela;
II - um documento dividido em seções pode conter seções que são impressas na orientação vertical e outras, na orientação horizontal;
III - a ferramenta AutoFormatação permite mesclar um documento do Word com uma planilha Excel para criar uma mala direta.

Está(ão) correta(s) a(s) afirmativa(s):

- (A) I, apenas.
(B) I e II, apenas.
(C) I, II e III.
(D) II, apenas.
(E) III, apenas.

26

Ao abrir uma planilha do Excel 2000, um usuário observou que a célula A1 apresentava o erro **#NOME?**. Este erro significa que:

- (A) o valor exigido não pode ser encontrado.
(B) o tipo de dado está incorreto.
(C) na célula existe uma divisão por 0.
(D) a referência da célula está inválida.
(E) a faixa referenciada não existe.

27

O que irá ocorrer se, durante o processo de download de uma página no Internet Explorer 6.0, o usuário pressionar a tecla ESC?

- (A) O processo de download será interrompido.
(B) O processo de download será reiniciado na mesma janela.
(C) A URL de download será armazenada no Favoritos.
(D) A janela do processo de download será minimizada.
(E) Uma nova janela será aberta para o processo de download.



As informações a seguir serão referência para responder às questões 28 e 29.

Encontra-se abaixo uma planilha do Microsoft Excel 2000 utilizada para realizar o controle das despesas de uma empresa.

	A	B	C	D	E
1		Janeiro	Fevereiro	Março	
2	Despesa 1	30	20	40	
3	Despesa 2	40	30	30	
4					

28




Se a célula D4 contiver a fórmula

$=\text{se}(\text{e}(\text{média}(\text{B2:D2})>40;\text{média}(\text{B3:D3})>30);\text{média}(\text{C2:D3});\text{média}(\text{D2:D3}))$,
então o valor da célula D4 será:

(A) 40 (B) 35 (C) 30 (D) 25 (E) 20

29

Avalie as afirmativas a seguir.

- I - Se a célula A2 estiver selecionada e o botão  da barra de ferramentas do Excel for pressionado, o texto "Despesa 1" será sublinhado.
- II - Se a célula B2 estiver selecionada e o botão  da barra de ferramentas do Excel for pressionado, o valor apresentado pela célula B2 será 3.
- III - Se a célula C2 estiver selecionada e o botão  da barra de ferramentas do Excel for pressionado, o valor apresentado pela célula C2 será 2000%.

Está(ão) correta(s) a(s) afirmativa(s):

- (A) I, apenas.
- (B) I e II, apenas.
- (C) I, II e III.
- (D) II, apenas.
- (E) III, apenas.

30

A respeito do Outlook 2000, assinale a afirmativa **INCORRETA**.

- (A) Permite fazer a verificação ortográfica de uma mensagem que está sendo criada.
- (B) Permite criar listas de distribuição para o envio de e-mails.
- (C) As mensagens enviadas e recebidas são armazenadas na pasta Contatos, por padrão.
- (D) As mensagens enviadas podem conter arquivos anexos.
- (E) As mensagens podem ser enviadas no formato HTML.