

Concurso Público

## **008. PROVA OBJETIVA**

### **ANALISTA TÉCNICO CIENTÍFICO (Engenheiro de Tráfego)**

- ◆ Você recebeu sua folha de respostas, este caderno, contendo 60 questões objetivas, e o caderno de prova dissertativa.
- ◆ Confira seus dados impressos na capa deste caderno e na folha de respostas.
- ◆ Quando for permitido abrir o caderno, verifique se está completo ou se apresenta imperfeições. Caso haja algum problema, informe ao fiscal da sala.
- ◆ Leia cuidadosamente todas as questões e escolha a resposta que você considera correta.
- ◆ Marque, na folha de respostas, com caneta de tinta azul ou preta, a letra correspondente à alternativa que você escolheu.
- ◆ A duração das provas objetiva e dissertativa é de 5 horas, já incluído o tempo para o preenchimento da folha de respostas e para a transcrição da resposta definitiva.
- ◆ Só será permitida a saída definitiva da sala e do prédio após transcorridos 75% do tempo de duração das provas.
- ◆ Deverão permanecer em cada uma das salas de prova os 3 últimos candidatos, até que o último deles entregue sua prova, assinando termo respectivo.
- ◆ Ao sair, você entregará ao fiscal o caderno de prova dissertativa, a folha de respostas e este caderno, podendo levar apenas o rascunho de gabarito, localizado em sua carteira, para futura conferência.
- ◆ Até que você saia do prédio, todas as proibições e orientações continuam válidas.

**AGUARDE A ORDEM DO FISCAL PARA ABRIR ESTE CADERNO DE QUESTÕES.**

Nome do candidato \_\_\_\_\_

RG \_\_\_\_\_

Inscrição \_\_\_\_\_

Prédio \_\_\_\_\_

Sala \_\_\_\_\_

Carteira \_\_\_\_\_



## CONHECIMENTOS GERAIS

### LÍNGUA PORTUGUESA

Leia o texto, para responder às questões de números 01 a 05.

McLuhan já alertava que a aldeia global resultante das mídias eletrônicas não implica necessariamente harmonia, implica, sim, que cada participante das novas mídias terá um envolvimento gigantesco na vida dos demais membros, que terá a chance de meter o bedelho onde bem quiser e fazer o uso que quiser das informações que conseguir. A aclamada transparência da coisa pública carrega consigo o risco de fim da privacidade e a superexposição de nossas pequenas ou grandes fraquezas morais ao julgamento da comunidade de que escolhemos participar.

Não faz sentido falar de dia e noite das redes sociais, apenas em número de atualizações nas páginas e na capacidade dos usuários de distinguir essas variações como relevantes no conjunto virtualmente infinito das possibilidades das redes. Para achar o fio de Ariadne no labirinto das redes sociais, os usuários precisam ter a habilidade de identificar e estimar parâmetros, aprender a extrair informações relevantes de um conjunto finito de observações e reconhecer a organização geral da rede de que participam.

O fluxo de informação que percorre as artérias das redes sociais é um poderoso fármaco viciante. Um dos neologismos recentes vinculados à dependência cada vez maior dos jovens a esses dispositivos é a “nomobofobia” (ou “pavor de ficar sem conexão no telefone celular”), descrito como a ansiedade e o sentimento de pânico experimentados por um número crescente de pessoas quando acaba a bateria do dispositivo móvel ou quando ficam sem conexão com a Internet. Essa informação, como toda nova droga, ao embotar a razão e abrir os poros da sensibilidade, pode tanto ser um remédio quanto um veneno para o espírito.

(Vinicius Romanini, Tudo azul no universo das redes. Revista USP, nº 92. Adaptado)

01. Do ponto de vista do autor, as redes sociais

- (A) são um universo ao qual os usuários resistem porque são afeitos à discrição nos relacionamentos.
- (B) preservam identidades e opiniões, sendo, portanto, ponto de referência para a busca de informações qualificadas.
- (C) garantem julgamentos justos, pela comunidade, dos usuários que nelas expõem seus hábitos e ideologias.
- (D) disponibilizam abundantes informações, o que exige que seus usuários filtrem o que de fato interessa.
- (E) condensam a infinidade de dados nelas circulantes, caracterizando-se como um meio confiável de exposição pessoal.

02. Entre os aspectos negativos que se apontam para usuários das mídias eletrônicas estão

- (A) a possibilidade de exibição da intimidade e a ansiedade devida à falta de conexão em rede.
- (B) a superposição de virtudes a grandes fraquezas morais e a ênfase ao cultivo da individualidade.
- (C) a possibilidade de imiscuir-se na vida alheia e o consumo de remédios viciantes.
- (D) o convívio ilimitado com os demais usuários da rede e o uso regulado de informações.
- (E) o envenenamento do espírito e a harmonia entre os membros do grupo de usuários.

03. A substituição do trecho destacado por aquele colocado entre parênteses está de acordo com a norma-padrão de regência verbal em:

- (A) ... e fazer o uso **que quiser** das informações que conseguir. (a que achar conveniente)
- (B) ... superexposição [...] ao julgamento da comunidade **de que escolhemos participar**. (com a qual escolhemos conviver)
- (C) ... terá a chance de **meter o bedelho onde bem quiser**... (intrometer-se aonde desejar)
- (D) McLuhan já **alertava que** a aldeia global... (prenunciava de que)
- (E) O fluxo de informação **que percorre** as artérias das redes sociais... (ao qual atravessa)

04. Assinale a alternativa em que se caracteriza o emprego de palavras em sentido figurado.

- (A) Um dos neologismos recentes vinculados à dependência cada vez maior dos jovens a esses dispositivos é a “nomobofobia”...
- (B) ... a superexposição de nossas pequenas ou grandes fraquezas morais ao julgamento da comunidade...
- (C) ... a ansiedade e o sentimento de pânico experimentados por um número crescente de pessoas quando acaba a bateria do dispositivo móvel...
- (D) ... os usuários precisam ter a habilidade de identificar e estimar parâmetros, aprender a extrair informações relevantes...
- (E) O fluxo de informação que percorre as artérias das redes sociais é um poderoso fármaco viciante.

05. As expressões destacadas nos trechos – **meter o bedelho** / **estimar** parâmetros / **embotar** a razão – têm sinônimos adequados respectivamente em:

- (A) procurar / gostar de / ilustrar
- (B) imiscuir-se / avaliar / enfraquecer
- (C) interferir / propor / embrutecer
- (D) intrometer-se / prezar / esclarecer
- (E) contrapor-se / consolidar / iluminar

Leia o texto, para responder às questões de números **06 a 09**.

A República dos Estados Unidos da Bruzundanga tinha, como todas as repúblicas que se prezam, além do presidente e juizes de várias categorias, um Senado e uma Câmara de Deputados, ambos eleitos por sufrágio direto e temporários ambos, com certa diferença na duração do mandato: o dos senadores, mais longo; o dos deputados, mais curto.

O país vivia de expedientes, isto é, de cinquenta em cinquenta anos descobria-se nele um produto que ficava sendo a sua riqueza. Os governos taxavam-no a mais não poder, de modo que os países rivais, mais parcimoniosos na decretação de impostos sobre produtos semelhantes, acabavam, na concorrência, por derrotar a Bruzundanga; e, assim, ela fazia morrer a sua riqueza, mas não sem os estertores de uma valorização duvidosa. Daí vinha que a grande nação vivia aos solavancos, sem estabilidade financeira e econômica; e, por isso mesmo, dando campo a que surgissem, a toda hora, financeiros de todos os seus cantos e, sobretudo, do seu parlamento.

Naquele ano, isto dez anos atrás, surgiu na sua Câmara um deputado que falava muito em assuntos de finanças, orçamentos, impostos diretos e indiretos e outras coisas cabalísticas da ciência de obter dinheiro para o Estado.

Chamava-se o deputado Felixhimino ben Karpatoso. Se era advogado, médico, engenheiro ou mesmo dentista, não se sabia bem; todos tratavam-no de doutor, embora nada se conhecesse dele.

(Lima Barreto, Um grande financeiro. *Os bruzundangas*. Adaptado)

**06.** Assinale a alternativa que reescreve passagem do texto respeitando a norma-padrão de concordância verbal e nominal.

- (A) Bastava cinquenta anos para que fosse descoberto no país produtos novos, que acabava sendo a riqueza do país.
- (B) Os mandatos de senador e deputado durava tempo diferente, sendo mais longos o dos primeiros.
- (C) Na Bruzundanga haviam Senado e Câmara de Deputados, que o povo, em massa, apoiavam confiantes.
- (D) Naquele ano, isto já faziam dez anos, surgiu um deputado muito bem falante em assuntos financeiros.
- (E) Todas as repúblicas que se prezam possuem Senado e Câmara escolhidos pelos cidadãos, o mais possível confiantes em seus representantes.

**07.** Observe a relação de sentido entre os trechos (I) e (II), na passagem – (I) Os governos taxavam-no a mais não poder, (II) de modo que os países rivais, mais parcimoniosos na decretação de impostos sobre produtos semelhantes, acabavam, na concorrência, por derrotar a Bruzundanga.

É correto afirmar que

- (A) o trecho (I) expressa o tempo em que ocorre o que se afirma no trecho (II).
- (B) o trecho (II) expressa a maneira como ocorre o fato afirmado no trecho (I).
- (C) o trecho (II) expressa o efeito do que se afirma no trecho (I).
- (D) o trecho (I) expressa o modo como ocorre o fato afirmado no trecho (II).
- (E) o trecho (II) expressa a causa determinante do que se afirma no trecho (I).

**08.** Assinale a alternativa em que os sinais de pontuação estão empregados segundo os mesmos princípios da norma-padrão adotados na passagem – com certa diferença na duração do mandato: o dos senadores, mais longo; o dos deputados, mais curto.

- (A) A separação os fez perder muita coisa: ele, a guarda dos filhos; ela, a casa em que morava com as crianças.
- (B) Há algo importante a explicar: a perda de clientes, muitos deles inadimplentes; entretanto, ninguém fala nada.
- (C) Os meios de divulgação são os seguintes: internet, mensagem de celular e jornais; com eles, atingiremos o público.
- (D) Foi o que disse o funcionário: o carregamento não chegou, ainda; e os pedidos estão se acumulando, mais e mais.
- (E) Fui reticente, mas agora me explico: meu dinheiro acabou, nada me resta; e meu pai não pode me ajudar, coitado.

**09.** O contexto em que, segundo a norma-padrão, o pronome “se” pode ser colocado antes ou depois do verbo, é:

- (A) ... como todas as repúblicas que se prezam...
- (B) Chamava-se o deputado Felixhimino ben Karpatoso.
- (C) ... de cinquenta em cinquenta anos descobria-se nele um produto...
- (D) ... não se sabia bem...
- (E) ... embora nada se conhecesse dele.

**10.** Assinale a alternativa que preenche as lacunas do texto a seguir, observando o emprego do sinal de crase e a conjugação verbal, segundo a norma-padrão.

Implantaremos um sistema capaz de levar \_\_\_\_\_ consumidores fiéis informações sobre nossas promoções, \_\_\_\_\_ partir do momento em que forem lançadas. Se \_\_\_\_\_ de recursos suficientes, anunciaremos prêmios que atraiam clientes, para que \_\_\_\_\_ incondicionalmente \_\_\_\_\_ campanhas promocionais.

- (A) aqueles ... a ... dispormos ... aderem ... as
- (B) àqueles ... a ... dispusermos ... adiram ... às
- (C) àqueles ... à ... dispusermos ... aderem ... às
- (D) aqueles ... à ... dispormos ... adiram ... as
- (E) aqueles ... a ... dispormos ... adiram ... as

11. Pretende-se dividir um grupo de 216 pessoas, sendo 126 com formação na área de exatas e 90 com formação na área de humanas, em grupos menores contendo, obrigatoriamente, elementos de cada uma dessas áreas, de modo que: (1) o número de grupos seja o maior possível; (2) cada grupo tenha o mesmo número  $x$  de pessoas com formação na área de exatas e o mesmo número  $y$  de pessoas com formação na área de humanas; e (3) cada uma das 216 pessoas participe de um único grupo. Nessas condições, e sabendo-se que no grupo não há pessoa com ambas as formações, é correto afirmar que, em cada novo grupo, a diferença entre os números de pessoas com formação em exatas e em humanas, nessa ordem, será igual a
- (A) 1.
  - (B) 2.
  - (C) 3.
  - (D) 4.
  - (E) 5.
12. Um capital foi aplicado à taxa de juros simples de 21,6% ao ano, durante 5 meses, e rendeu juros de R\$ 153,00. Desconsiderando-se taxas ou outros encargos relativos a essa aplicação, no final desse período, o montante recebido pelo aplicador foi de
- (A) R\$ 1.823,00.
  - (B) R\$ 1.833,00.
  - (C) R\$ 1.843,00.
  - (D) R\$ 1.853,00.
  - (E) R\$ 1.863,00.
13. Uma pessoa comprou um determinado produto cujo preço à vista era de R\$ 825,00. Como forma de pagamento, ela deu uma entrada de 45% do preço à vista e pagou o restante com um cheque para 30 dias, com juros de 4% sobre esse restante. O valor que essa pessoa pagou de juros, nessa compra, correspondeu a
- (A) R\$ 18,05.
  - (B) R\$ 18,10.
  - (C) R\$ 18,15.
  - (D) R\$ 18,20.
  - (E) R\$ 18,25.

14. Em uma pesquisa realizada com 300 pessoas, o número das que se declararam ser doutores em alguma área de conhecimento correspondeu a quatro unidades a mais da nona parte das que se declararam ser apenas graduadas, e o número de pessoas que se declararam ser apenas mestres correspondeu a quatro vezes o número de pessoas que se declararam ser doutores. A razão entre o número das pessoas que se declararam ser apenas graduadas e o número das que se declararam ser doutores é igual a

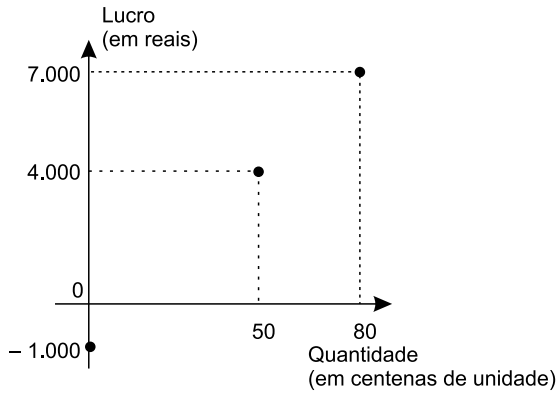
- (A) 7,5.
- (B) 7.
- (C) 6,5.
- (D) 6.
- (E) 5,5.

15. A média das idades de um grupo de 10 pessoas é 18,7 anos. Carlos e Ana não fazem parte desse grupo, mas, inserindo-os ao grupo, a média das idades das 12 pessoas passa a ser de 19 anos. Sabendo-se que Carlos é 5 anos mais velho que Ana, e que ambos nasceram no primeiro dia do mês de janeiro, é correto afirmar que Ana nasceu no ano de

- (A) 1992.
- (B) 1994.
- (C) 1996.
- (D) 1998.
- (E) 2000.

16. Em determinada casa comercial, o número de trabalhadores do gênero masculino é 4 unidades menor que o número de trabalhadores do gênero feminino. Nessa casa comercial, cada trabalhador recebeu, no final do ano passado, como brinde, um vale-presente para ser utilizado na própria loja: para os homens, o vale-presente tinha valor unitário de R\$ 120,00, e, para as mulheres, de R\$ 150,00. Sabendo-se que ao todo foi distribuído um total de R\$ 7.080,00 em vales-presentes, pode-se concluir corretamente que nessa casa comercial o valor total em vales-presentes distribuídos para os funcionários do gênero feminino foi de
- (A) R\$ 3.800,00.
  - (B) R\$ 3.900,00.
  - (C) R\$ 4.000,00.
  - (D) R\$ 4.100,00.
  - (E) R\$ 4.200,00.
17. Um terreno tem formato retangular, e a medida da sua lateral é 20% maior que a medida de sua frente. Sabendo-se que o perímetro desse terreno é 110 metros e que ele foi vendido pelo valor de R\$ 900,00 o metro quadrado, pode-se afirmar corretamente que o valor total de venda desse terreno foi
- (A) R\$ 625.500,00.
  - (B) R\$ 675.000,00.
  - (C) R\$ 700.500,00.
  - (D) R\$ 725.000,00.
  - (E) R\$ 750.500,00.
18. Todos os dias, são necessárias, em média, duas horas para cinco analistas, todos com a mesma força de trabalho, analisarem determinada quantidade  $Q$  de documentos. Em um dia em que um desses analistas não puder realizar essa tarefa, espera-se que os quatro demais, no mesmo ritmo de trabalho, realizem metade dessa tarefa em, no mínimo, 1 hora e
- (A) 15 minutos.
  - (B) 20 minutos.
  - (C) 25 minutos.
  - (D) 30 minutos.
  - (E) 35 minutos.

19. O gráfico apresenta informações do lucro, em reais, sobre a venda de uma quantidade, em centenas, de um produto em um hipermercado.



Sabendo-se que é constante a razão entre a variação do lucro e a variação da quantidade vendida e que se pretende ter um lucro total não menor que R\$ 90.500,00 em 10 dias de venda desse produto, então a média diária de unidades que deverão ser vendidas, nesse período, deverá ser, no mínimo, de

- (A) 8900.
- (B) 8950.
- (C) 9000.
- (D) 9050.
- (E) 9150.

20. Considere a seguinte tabela de desconto mensal de imposto de renda na fonte, de trabalhadores assalariados.

BASE DE CÁLCULO EM REAIS (R\$)	ALÍQUOTA EM PORCENTAGEM (%)	PARCELA A DEDUZIR EM REAIS (R\$)
Até 1.903,98	Isento	-
De 1.903,99 até 2.826,65	7,5	142,80
De 2.826,66 até 3.751,05	15	354,80
De 3.751,06 a 4.664,68	22,5	636,13
Acima de 4.664,68	27,5	869,36

Um trabalhador que teve como desconto de imposto de renda, em determinado mês de vigência da tabela, o valor de R\$ 185,20, teve uma base de cálculo que, para atingir R\$ 10.000,00, precisa ser adicionado a

- (A) R\$ 5.600,00.
- (B) R\$ 6.000,00.
- (C) R\$ 6.400,00.
- (D) R\$ 6.800,00.
- (E) R\$ 7.200,00.



21. *Justiça homologa acordo de leniência com Andrade Gutierrez*

O juiz federal Sérgio Moro homologou o acordo de leniência entre a empreiteira Andrade Gutierrez e o Ministério Público Federal.

(G1, 08.05.2016. Disponível em: <<http://goo.gl/oDf711>>. Adaptado)

Nos termos do acordo, em troca de poder continuar mantendo contratos com o poder público, a empresa

- (A) decidiu não mais financiar campanhas de candidatos e partidos políticos, assim como se comprometeu a desmontar o seu escritório de lobby em Brasília.
- (B) firmou que os seus executivos devem se manifestar apenas no que for estabelecido expressamente pelos contratos firmados, para evitar práticas de suborno e corrupção.
- (C) resolveu submeter todos os seus contratos a auditorias externas e, a título de transparência, repatriou os seus recursos depositados em paraísos fiscais.
- (D) aceitou pagar R\$ 1 bilhão em multas, além de garantir a colaboração em todas as investigações de corrupção em que possa estar envolvida.
- (E) estabeleceu limites para o valor das obras públicas das quais participará de agora em diante, evitando os projetos mais custosos e com maior risco de corrupção.

22. A Procuradoria-Geral da República ofereceu nesta sexta-feira (6 de maio) denúncia ao STJ (Superior Tribunal de Justiça) contra o governador pelos crimes de corrupção, lavagem de dinheiro e falsidade de documento particular. A acusação tem como base desdobramentos da Operação Acrônimo, que investiga um suposto esquema de financiamento ilegal de campanhas políticas.

(Folha de S.Paulo, 06.05.2016.

Disponível em: <<http://goo.gl/w0W4p1>>. Adaptado)

O governador denunciado foi

- (A) Geraldo Alckmin, de São Paulo.
- (B) Fernando Pimentel, de Minas Gerais.
- (C) Luiz Fernando Pezão, do Rio de Janeiro.
- (D) Beto Richa, do Paraná.
- (E) Flávio Dino, do Maranhão.

23. A Assembleia Legislativa de São Paulo está ocupada há mais de 36 horas por estudantes que querem a abertura de uma CPI (Comissão parlamentar de Inquérito) que investigue a máfia da merenda. Os manifestantes, em sua maioria alunos secundaristas, ocupam o plenário da Assembleia desde as 17h da última terça-feira (3 de maio).

(G1, 05.05.2016. Disponível em: <<http://goo.gl/CUUHUo>>. Adaptado)

A chamada “máfia da merenda” está relacionada à Operação Alba Branca, que investiga

- (A) o pagamento de propina por parte de grandes indústrias alimentícias de forma a se beneficiarem diretamente das compras de merenda realizadas pelo governo estadual e por algumas prefeituras municipais de São Paulo.
- (B) o superfaturamento, a lavagem de dinheiro e a evasão de divisas em direção a paraísos fiscais por parte de autoridades públicas responsáveis pela questão da merenda e da alimentação escolar.
- (C) a influência e a participação de grandes proprietários de terras, envolvidos na produção agrícola de alimentos, e que teriam subornado autoridades públicas responsáveis pela compra e fornecimento de merenda para as escolas.
- (D) a terceirização do serviço de fornecimento de merendas escolares, até então sob responsabilidade direta do Estado, e que agora, sob a alçada de empresas privadas, tem sido foco de suspeitas de corrupção.
- (E) a formação de cartel entre três cooperativas de agricultura familiar para definir vencedores em licitações de merenda escolar em municípios paulistas em um esquema de corrupção e superfaturamento no fornecimento de alimentos.

24. A polícia francesa entrou em confronto, neste sábado (9 de abril), com centenas de manifestantes em Paris, usando gás lacrimogêneo. O protesto foi um dos muitos realizados nos últimos tempos. Dezenas de milhares de manifestantes tomaram as ruas de Paris para protestar.

(Folha de S.Paulo, 09.04.2016.

Disponível em: <<http://goo.gl/ZcN4ZD>>. Adaptado)

Os protestos têm como alvo

- (A) a nova lei de refúgio e imigração, que transformou a França em um grande polo de atração de refugiados oriundos da Síria e da Líbia.
- (B) o estado de exceção, que suspende algumas garantias constitucionais em nome do combate ao terrorismo, em que a França se encontra desde os últimos atentados.
- (C) a reforma trabalhista defendida pelo governo, que pretende flexibilizar algumas leis trabalhistas tais como a duração da jornada semanal de trabalho.
- (D) a política externa francesa, bastante agressiva no Oriente Médio e muito alinhada com os EUA, o que tem provocado forte polêmica entre os franceses.
- (E) a fragilidade dos órgãos franceses de segurança, inteligência e informação, o que tem contribuído para fazer da França o alvo preferido de atentados do Isis.

25. Depois de diminuir de cinco para quatro os dias úteis do serviço público, o presidente anunciou nesta quinta-feira (14 de abril) que mudará o fuso horário do país para economizar energia. O horário de verão é mais uma medida do governo para tentar resolver a crise energética. Nos últimos meses, a seca provocada pelo El Niño diminuiu ainda mais a geração de energia, já afetada pela falta de infraestrutura.


(Folha de S.Paulo, 14.04.2016.  
Disponível em: <http://goo.gl/owB5vU>. Adaptado)

A notícia trata da situação energética

- (A) na Venezuela.
- (B) na Bolívia.
- (C) no Paraguai.
- (D) no Peru.
- (E) no Equador.

### NOÇÕES DE INFORMÁTICA

26. No Microsoft Windows 7, em sua configuração original, um usuário possui 2 arquivos texto em um diretório, chamados *notas* e *anotações*, conforme imagem a seguir.



Ao selecionar o arquivo *anotações* e pressionar a tecla F2 para renomeá-lo, o usuário digitou *notas*. Nesse caso, considerando que não é possível ter em um mesmo diretório dois arquivos com o mesmo nome e extensão, o Windows automaticamente

- (A) mescla o conteúdo dos 2 arquivos, mantendo apenas 1 arquivo chamado *notas*.
- (B) apaga o arquivo *notas* anterior e mantém apenas o novo arquivo renomeado.
- (C) sugere um novo nome *notas (2).txt* e aguarda confirmação do usuário.
- (D) altera o nome do arquivo anterior *notas* para *notas\_velho* e efetua a alteração do outro arquivo de *anotações* para *notas*.
- (E) movimenta o arquivo *notas* para a pasta Meu Computador na Área de Trabalho e mantém apenas o novo arquivo renomeado.

27. Comparando dois documentos criados no Microsoft Word 2010, em sua configuração padrão, sendo um deles em modo paisagem e outro em modo retrato, mas ambos com a mesma fonte e tamanho de letra, e margens, assinale a alternativa correta.

- (A) O documento em modo paisagem tem mais caracteres por linha do que o documento em modo retrato.
- (B) O documento em modo retrato tem menos linhas do que o documento em modo paisagem.
- (C) Ambos os documentos têm a mesma quantidade de caracteres por linha.
- (D) O documento em modo paisagem tem menos caracteres por linha do que o documento em modo retrato.
- (E) O documento em modo paisagem só pode ser configurado como tamanho A4.

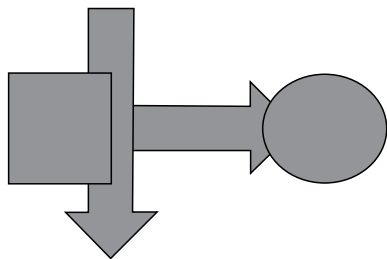
28. Uma planilha criada no Microsoft Excel 2010, em sua configuração padrão, está preenchida como se apresenta a seguir.

	A	B	C	
1	Atividade	Data Início	Cidade	
2	1	10/10/2015	São Paulo	
3	2	18/10/2015	Osasco	
4	3	22/10/2015	Guarulhos	
5	4	23/10/2015	São Paulo	
6	5	02/11/2015	São Paulo	
7	6	05/11/2015	Guarulhos	
8				
9				
10	3			
11				

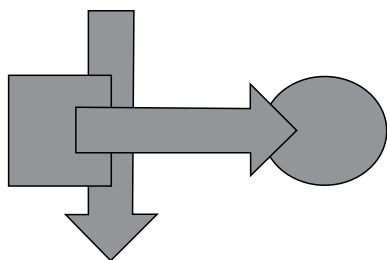
A fórmula =PROCV(A10;A2:C7;3;0), se digitada na célula B10, trará como resultado

- (A) #N/A
- (B) #ERRO
- (C) 3
- (D) Guarulhos
- (E) 22/10/2015

29. Têm-se as seguintes AutoFormas incluídas no Microsoft PowerPoint 2010, em sua configuração padrão, na sequência seta para a direita, seta para baixo, círculo, quadrado.



Assinale a alternativa que apresenta a sequência correta de operações de arrasto para alterar as AutoFormas de maneira que tenham a aparência apresentada a seguir.



- (A) Enviar para trás quadrado, enviar para trás seta para baixo, enviar para trás seta para direita.
- (B) Trazer para frente seta para direita, enviar para trás quadrado, enviar para trás seta para baixo.
- (C) Enviar para trás círculo, enviar para trás seta para baixo.
- (D) Trazer para frente seta para direita, trazer para frente seta para baixo, trazer para frente quadrado.
- (E) Enviar para trás círculo, enviar para trás seta para direita, enviar para trás quadrado.

30. No site de pesquisas Google, quando é usado(a) um(a) \_\_\_\_\_ antes de uma palavra ou site, ele exclui os resultados de pesquisas que incluem essa palavra ou site.

Assinale a alternativa que preenche, corretamente, a lacuna do enunciado.

- (A) asterisco
- (B) apóstrofo
- (C) símbolo de \$
- (D) hashtag
- (E) traço

## CONHECIMENTOS ESPECÍFICOS

31. Observe a figura a seguir.



**Cor do sinal:** orla interna e mensagem pretas, orla externa e fundo amarelos.

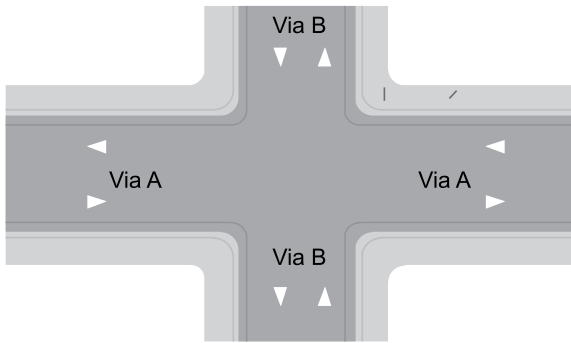
Quanto à sinalização proposta na figura, é correto afirmar que

- (A) serve para advertir sobre uma situação inesperada ou perigosa à frente.
- (B) é um sinal de advertência ao qual deve sempre ser acrescentada mensagem complementar indicando o motivo desta informação, tais como obras ou escola.
- (C) não é um sinal de advertência previsto no Anexo II do Código de Trânsito Brasileiro.
- (D) para situações de obras, deve apresentar fundo e orla externa laranja.
- (E) só deve ser utilizada quando não houver outro sinal que a substitua.
32. Quando em determinado trecho de via houver instalado medidor de velocidade do tipo fixo, os equipamentos dos tipos estático, portátil e móvel somente poderão ser utilizados a uma distância mínima, daquele equipamento, de \_\_\_\_\_ em vias urbanas e trechos de vias rurais com características de via urbana e \_\_\_\_\_ em vias rurais e vias de trânsito rápido.

Assinale a alternativa que preenche, correta e respectivamente, as lacunas do texto.

- (A) duzentos metros ... um quilômetro
- (B) quinhentos metros ... dois quilômetros
- (C) duzentos metros ... quatro quilômetros
- (D) trezentos metros ... dois quilômetros
- (E) um quilômetro ... cinco quilômetros

33. Ao avaliar um cruzamento, ilustrado na imagem a seguir, o técnico decidiu dar preferência de passagem a uma das vias, obrigando o condutor da via A a parar antes de cruzar.



Assinale a alternativa que contém a sinalização de regulamentação a ser implantada nas aproximações da via A.

- (A) Sinal R-1 – “Parada Obrigatória”.  
 (B) Legenda “Pare” inscrita no solo.  
 (C) Sinalização semafórica de advertência intermitente ou piscante alternado.  
 (D) Sinal R-2 – “Dê a Preferência”.  
 (E) Símbolo “Dê a Preferência” inscrito no solo.
34. Com referência à Resolução nº 495/2014 do CONTRAN, assinale a alternativa que contém todas as restrições que impedem a implantação de faixa elevada para travessia de pedestres.

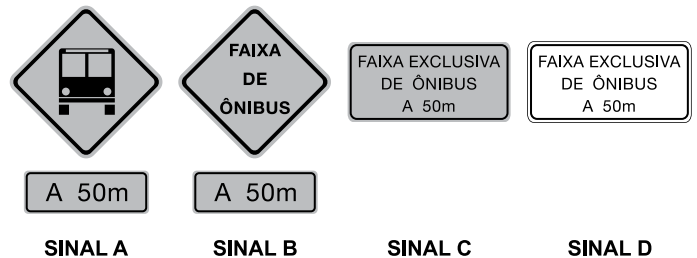
- (A) Rampa com declividade superior a 6%, exceto quando justificado por estudo de engenharia; curva ou interferência que impossibilite a boa visibilidade do dispositivo ou de sua sinalização; pista não pavimentada, ou inexistência de calçadas; vias arteriais e rodovias.  
 (B) Rampa com declividade superior a 6%, exceto quando justificado por estudo de engenharia; curva ou interferência que impossibilite a boa visibilidade do dispositivo ou de sua sinalização; pista não pavimentada, ou inexistência de calçadas; vias com linha regular de ônibus.  
 (C) Rampa com declividade superior a 6%, exceto quando justificado por estudo de engenharia; curva ou interferência que impossibilite a boa visibilidade do dispositivo ou de sua sinalização; pista não pavimentada, ou inexistência de calçadas; ausência de iluminação pública ou específica.  
 (D) Rampa com declividade superior a 6%, exceto quando justificado por estudo de engenharia, pista não pavimentada, ou inexistência de calçadas; vias arteriais e rodovias.  
 (E) Curva ou interferência que impossibilite a boa visibilidade do dispositivo ou de sua sinalização; pista não pavimentada, ou inexistência de calçadas; ausência de iluminação pública ou específica, vias arteriais e rodovias.

35. Conforme Anexo I do Código de Trânsito Brasileiro – CTB, acostamento é parte da \_\_\_\_\_ diferenciada da pista de rolamento destinada a \_\_\_\_\_ de veículos, em caso de emergência, e à circulação de \_\_\_\_\_, quando não houver local apropriado para esse fim.

Assinale a alternativa que preenche, correta e respectivamente, as lacunas do texto.

- (A) rodovia ... parada ... pedestres e bicicletas  
 (B) rodovia ou via de trânsito rápido ... parada ... pedestres e bicicletas  
 (C) via ... parada ou estacionamento ... bicicletas  
 (D) via ... circulação ou estacionamento ... pedestres e bicicletas  
 (E) via ... parada ou estacionamento ... pedestres e bicicletas

36. Observe as imagens a seguir.



SINAL A

SINAL B

SINAL C

SINAL D

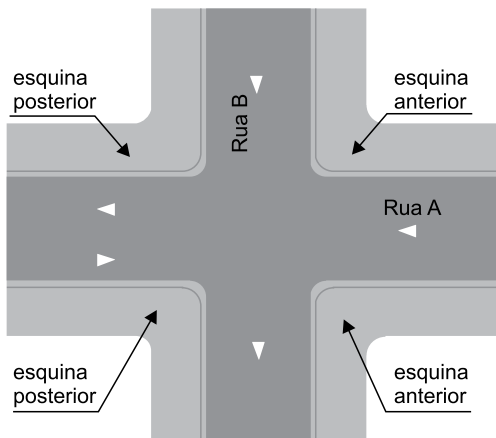
**Cor dos sinais A,B,C:** orla interna, símbolo e mensagem pretos, orla externa e fundo amarelos.

**Cor do sinal D:** orla interna e mensagem pretos, orla externa e fundo brancos.

Para advertir do início de uma faixa com circulação exclusiva de ônibus, deve ser utilizado o

- (A) Sinal A, apenas.  
 (B) Sinal B.  
 (C) Sinal C, apenas.  
 (D) Sinal D.  
 (E) Sinal A e C.

37. A rua A, a partir do cruzamento com a rua B, passa a ter duplo sentido de circulação, conforme ilustrado a seguir.



Assinale a alternativa que apresenta a sinalização obrigatória que deve ser colocada para regulamentar esta situação.

- (A) Linha contínua dupla amarela na aproximação da rua A, no trecho com duplo sentido de circulação, apenas.
- (B) Sinal R-28 – “Duplo sentido de circulação”, na esquina posterior da Rua A, apenas.
- (C) Sinal R-28 – “Duplo sentido de circulação”, na esquina posterior da Rua A, e sinal A-25 – “Mão dupla adiante”, na aproximação da esquina anterior da Rua A.
- (D) Linha contínua dupla amarela, na aproximação da Rua A, no trecho com duplo sentido de circulação e sinal A-25 – “Mão dupla adiante”, na aproximação da esquina anterior da Rua A.
- (E) Linha contínua dupla amarela, na aproximação da rua A, no trecho com duplo sentido de circulação, e Sinal R-28 – “Duplo sentido de circulação”, na esquina anterior da Rua A.

38. O uso de tachão é proibido na seguinte situação:

- (A) transversal à via.
- (B) junto à marca de canalização.
- (C) junto a ou sobre linha contínua branca ou amarela, de forma descontínua.
- (D) junto à linha de bordo.
- (E) junto a ou sobre linha contínua branca ou amarela, em rodovia.

39. Leia as situações a seguir.

Situação I: entre a marca viária/inscrição e o pavimento;

Situação II: entre a marca viária e o pavimento das ciclofaixas e/ou ciclovias, na parte interna destas, associada à linha de bordo branca ou de linha de divisão de fluxo de mesmo sentido.

Conforme dispõe o Anexo II do CTB, as cores utilizadas para proporcionar contraste nas situações I e II devem ser, respectivamente,

- (A) azul e vermelha.
- (B) verde e vermelha.
- (C) preta e verde.
- (D) preta e vermelha.
- (E) vermelha e vermelha.

40. Conforme dispõe a Resolução nº 302 do CONTRAN, não serão regulamentadas as áreas de estacionamento específico quando a edificação dispuser de área de estacionamento interna para

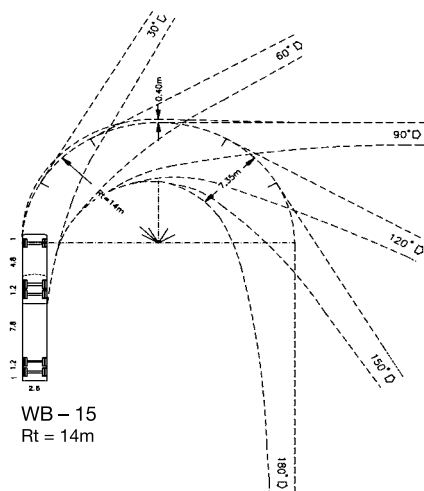
- (A) veículo de portador de deficiência física, veículo de idoso, operação de carga e descarga, ambulância e viatura policial.
- (B) veículo de portador de deficiência física, operação de carga e descarga, ambulância e viatura policial.
- (C) veículo de portador de deficiência física, veículo de idoso e ambulância.
- (D) veículo de portador de deficiência física, veículo de idoso, veículo escolar, ambulância e viatura policial.
- (E) veículo de idoso, veículo escolar, ambulância e operação de carga e descarga.

41. Assinale a alternativa que contém apenas as marcas viárias com poder de regulamentação.
- (A) Linha contínua amarela, linha contínua branca, faixa de travessia de pedestres, marcação de cruzamento rodocicloviário, marca de canalização e sinalização horizontal delimitadora de ponto de embarque ou desembarque de passageiros de transporte coletivo.
  - (B) Linha contínua amarela, linha contínua branca, faixa de travessia de pedestres, marcação de cruzamento rodocicloviário, marca de canalização, sinalização horizontal delimitadora de ponto de embarque ou desembarque de passageiros de transporte coletivo, legenda "Pare" e símbolo "Dê a preferência".
  - (C) Linha contínua amarela, linha contínua branca, faixa de travessia de pedestres, marcação de cruzamento rodocicloviário, marca de canalização, sinalização horizontal delimitadora de ponto de embarque ou desembarque de passageiros de transporte coletivo e linha de retenção.
  - (D) Linha contínua amarela, faixa de travessia de pedestres, marcação de cruzamento rodocicloviário, marca de canalização, sinalização horizontal delimitadora de ponto de embarque ou desembarque de passageiros de transporte coletivo e linha de retenção.
  - (E) Linha contínua amarela, linha contínua branca, faixa de travessia de pedestres, marcação de cruzamento rodocicloviário, marca de canalização, sinalização horizontal delimitadora de ponto de embarque ou desembarque de passageiros de transporte coletivo, legenda Pare, símbolo "Dê a preferência", linha de retenção e marcação de área de conflito.
42. Assinale a alternativa que apresenta a atribuição cuja competência é exclusiva dos órgãos ou entidades executivos de trânsito dos Estados e do Distrito Federal, no âmbito de sua circunscrição.
- (A) Cumprir e fazer cumprir a legislação e as normas de trânsito.
  - (B) Coletar dados estatísticos e elaborar estudos sobre os acidentes de trânsito e suas causas.
  - (C) Vistoriar, inspecionar quanto às condições de segurança veicular, registrar, emplacar, selar a placa, e licenciar veículos.
  - (D) Integrar-se a outros órgãos e entidades do Sistema Nacional de Trânsito para fins de arrecadação e compensação de multas impostas na área de sua competência, com vistas à unificação do licenciamento, à simplificação e à celeridade das transferências de veículos e de prontuários de condutores de uma para outra unidade da Federação.
  - (E) Fiscalizar o nível de emissão de poluentes e ruído produzidos pelos veículos automotores ou pela sua carga, de acordo com o estabelecido no art. 66, além de dar apoio às ações específicas de órgão ambiental local, quando solicitado.
43. As contagens volumétricas visam determinar a quantidade, o sentido e a composição do fluxo de veículos que passam por um ou vários pontos selecionados do sistema viário, numa determinada unidade de tempo e classificam-se em: globais, direcionais e classificatórias. Para o cálculo de capacidade, determinação de intervalos de sinais, justificação de controles de trânsito, estudos de acidentes, previsão de faixas adicionais e projeto geométrico de interseções, deve(m)-se utilizar
- (A) as contagens classificatória e global.
  - (B) as contagens classificatória e direcional.
  - (C) somente a contagem classificatória.
  - (D) somente a contagem global.
  - (E) somente a contagem direcional.
44. Para a elaboração de um projeto de geometria de interseção, está correta a seguinte informação:
- (A) As características físicas e operacionais dos veículos que farão uso da interseção a ser projetada não influenciam no desenvolvimento do projeto.
  - (B) A consideração conjunta da velocidade do veículo, do raio mínimo da curva e da superelevação inclui obrigatoriamente o valor máximo do coeficiente de atrito transversal desenvolvido entre pneu e pista e o valor mínimo admissível da superelevação.
  - (C) Nos movimentos divergentes, é preciso regular o direito de passagem dos veículos que divergem, proporcionando distância de entrelaçamento que permita a ocorrência de intervalos adequados para o veículo se inserir na corrente de tráfego.
  - (D) A distância de visibilidade de parada é a que permite ao motorista, cuja vista se acha à altura de 1,10 m da pista, parar o veículo antes de alcançar um obstáculo com 0,50 m de altura.
  - (E) Onde não existir interseção deverá ser realizada pesquisa OD complementada por contagem de volumes em locais que cubram as alternativas das futuras correntes de tráfego da interseção.

45. Sobre a implantação de sinalização semafórica de regulamentação, está correta a seguinte afirmação:

- (A) A implantação da sinalização semafórica na abordagem veicular visa, principalmente, propiciar segurança e fluidez ao fluxo da via secundária.
- (B) Para a inclusão de uma interseção semaforizada em via operando com semáforos em rede, a adoção do tempo de ciclo da rede somente deve ser considerada se pelo menos uma das interseções adjacentes estiver a menos de 300 m da interseção em estudo.
- (C) O controle semafórico operado em tempo fixo é eficiente para o controle em períodos do dia ou locais em que o volume de tráfego sofre muitas variações.
- (D) Sistemas semafóricos que operam em modo local tem custos de implantação e manutenção mais elevados que sistemas operando em modo centralizado.
- (E) No caso de travessia de pedestre, tecnicamente justificada, em meio de quadra, o sistema de controle semafórico atuado é contraindicado.

46. A figura a seguir representa um gabarito de raio mínimo para um veículo de projeto com máquina tratora e reboque.



A área necessária para atender ao deslocamento do veículo está compreendida entre a trajetória descrita pelo

- (A) bordo externo do balanço dianteiro e bordo interno do balanço traseiro do veículo.
- (B) centro do eixo dianteiro e centro do eixo traseiro do veículo.
- (C) bordo externo do eixo dianteiro e extremo interno do eixo traseiro do veículo.
- (D) bordo externo do balanço dianteiro e extremo interno do eixo traseiro do veículo.
- (E) centro do eixo dianteiro e extremo interno do eixo traseiro do veículo.

47. As distâncias básicas de visibilidade que devem ser consideradas no projeto de uma via são as distâncias de visibilidade de parada, as de tomada de decisão, as de ultrapassagem e aquelas a serem respeitadas nas interseções e são determinadas através da fórmula geral:

$$d = 0,278Vt + 0,039 (V^2/j)$$

em que:

d = distância de visibilidade de parada (m)

V = velocidade

t = tempo de percepção e reação = 2,5 s

j = taxa de desaceleração (m/s<sup>2</sup>) = 3,4 m/s<sup>2</sup>

A velocidade a ser utilizada nos cálculos é a velocidade

- (A) média.
- (B) diretriz.
- (C) instantânea.
- (D) pontual.
- (E) de operação.

48. O Estatuto da Cidade, Lei Federal nº 10.257/2001, estabelece, em seu artigo 37, a execução de estudo de impacto de vizinhança (EIV), contemplando os efeitos positivos e negativos do empreendimento ou atividade quanto à qualidade de vida da população residente na área e suas proximidades, incluindo a análise, no mínimo, das seguintes questões: adensamento populacional;

- (A) poluição em todas as suas formas; uso e ocupação do solo; valorização imobiliária; geração de tráfego e demanda por transporte público; ventilação e iluminação; paisagem urbana e patrimônio natural e cultural.
- (B) equipamentos urbanos e comunitários; uso e ocupação do solo; geração de tráfego e demanda por estacionamento; ventilação e iluminação; paisagem urbana e patrimônio natural e cultural.
- (C) equipamentos urbanos e comunitários; uso e ocupação do solo; valorização imobiliária; geração de tráfego e demanda por transporte público; ventilação e iluminação; paisagem urbana e patrimônio natural e cultural.
- (D) equipamentos urbanos e comunitários; poluição em todas as suas formas; valorização imobiliária; geração de tráfego e demanda por estacionamento; paisagem urbana e patrimônio natural e cultural.
- (E) equipamentos urbanos e comunitários; uso e ocupação do solo; alteração de distribuição de trabalho e renda; geração de tráfego e demanda por transporte público; ventilação e iluminação; paisagem urbana e patrimônio natural e cultural.

49. Os detalhes dos levantamentos topográficos para projetos viários devem ser discriminados e relacionados nos editais de licitação, propostas e instrumentos legais entre as partes interessadas na sua execução. O tipo de levantamento topográfico utilizado para fins licitatórios é o levantamento
- (A) planimétrico.
  - (B) altimétrico.
  - (C) planimétrico cadastral.
  - (D) planialtimétrico.
  - (E) planialtimétrico cadastral.
50. Dos gatilhos que deflagram intervenções de restauração de pavimentos, estão os defeitos que se desenvolvem pelo arrancamento do material da camada de revestimento de um pavimento, com origem dentro ou próximo desta camada. Esses defeitos superficiais são denominados
- (A) trincamento e desgaste.
  - (B) afundamento de trilha de roda e panela.
  - (C) afundamento de trilha de roda e trincamento.
  - (D) panela e desgaste.
  - (E) panela e trincamento.
51. Na contratação de obras públicas, conforme dispõe a Lei nº 8.666/93, assinale a alternativa que contemple as exigências para a licitação de execução de obras e serviços.
- (A) As obras e os serviços somente poderão ser licitados quando houver projeto executivo aprovado pela autoridade competente e disponível para exame dos interessados em participar do processo licitatório.
  - (B) É vedado incluir no objeto da licitação a obtenção de recursos financeiros para sua execução nos casos de empreendimentos executados e explorados sob o regime de concessão, nos termos da legislação específica.
  - (C) O projeto executivo poderá ser desenvolvido concomitantemente com a execução das obras e serviços, desde que autorizado pela administração.
  - (D) Permite-se a inclusão, no objeto da licitação, de fornecimento de materiais e serviços sem previsão de quantidades quando apresentado somente o projeto básico.
  - (E) É vedada a realização de licitação cujo objeto inclua bens e serviços sem similaridade ou de marcas, características e especificações exclusivas, sem exceções.
52. Os itens I e II são características de níveis de serviços para vias urbanas.
- I. Nível de serviço em que ocorre a queda de velocidade média devido aos atrasos e conflitos entre veículos nas interseções, porém com 70% da velocidade de fluxo livre e onde os motoristas não sofrem incômodos operacionais.
  - II. Nível de serviço aproximando-se no fluxo instável. Velocidade média cai para 40% da velocidade de fluxo livre. Atrasos nas interseções tornam-se grandes.
- Assinale a alternativa que corresponde à caracterização dos níveis de serviço dos itens I e II respectivamente.
- (A) B e D.
  - (B) D e C.
  - (C) C e E.
  - (D) A e C.
  - (E) B e E.
53. A Sinalização horizontal é classificada, segundo sua função, em: marcas longitudinais, marcas transversais,
- (A) marcas de canalização, marcas de delimitação e controle de parada e/ou estacionamento e inscrições no pavimento.
  - (B) marcas de delimitação e controle de parada e/ou estacionamento, marcação de área de conflito e inscrições no pavimento.
  - (C) marcas de delimitação e controle de parada e/ou estacionamento, marcas de canalização e símbolos.
  - (D) marcação de área de conflito, marcas de canalização e inscrições no pavimento.
  - (E) marcas de delimitação e controle de parada e/ou estacionamento, símbolos e setas.



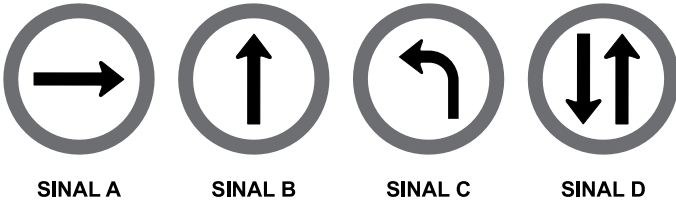
54. Observe a figura a seguir.



Com relação ao sinal R-2 – “Dê a preferência”, representado na figura, é correta a seguinte afirmação:

- (A) Não deve ser utilizada com a mensagem “Dê a preferência”.
- (B) Para reforço do sinal R-2, pode-se utilizar a mensagem “Dê a preferência”.
- (C) É utilizado para garantir a preferência do fluxo da via para a qual foi colocado.
- (D) Deve ser utilizado em passagens de nível não semaforizadas.
- (E) Pode ser utilizado para controlar o fluxo que vai entrar em uma via com preferência de passagem, mesmo que a intervisibilidade entre veículos que se aproximem seja baixa.

55. Observe os sinais a seguir.



Assinale a alternativa que contém os sinais que regulamentam o sentido de circulação de uma via.

- (A) A, B e D.
- (B) B, C e D.
- (C) A, B e C.
- (D) A e D.
- (E) A e B.

56. Quanto à realização de tratamento, procedimento, hospitalização e pesquisa científica relacionados à pessoa com deficiência, a Lei nº 13.146/2015 estabelece que

- (A) é indispensável o seu consentimento prévio, livre e esclarecido, podendo, no entanto, ser suprido em situação de curatela, na forma da lei.
- (B) é dispensável o seu consentimento, desde que o objetivo a ser alcançado seja para o seu próprio bem-estar.
- (C) se exige o seu prévio e livre consentimento por escrito, não podendo ser suprido mesmo em situação de curatela.
- (D) não se exigirá o seu consentimento pessoal, no caso de pesquisa científica, se os seus pais ou responsáveis legais assim se manifestarem em seu lugar.
- (E) será exigido o seu prévio e livre consentimento apenas para a hipótese de pesquisa científica, podendo ser dispensado nos demais casos.

57. Fulana, pessoa com deficiência, foi atendida em hospital particular com vários hematomas em seu corpo, levando o agente de saúde a suspeitar que ela teria sido vítima de violência. Nessa situação, a Lei nº 13.146/2015 estabelece que

- (A) o agente de saúde deverá envidar todos os esforços para confirmar a violência sofrida pela pessoa com deficiência e, uma vez confirmada, deverá notificar compulsoriamente o Ministério da Saúde.
- (B) o agente de saúde nada poderá fazer nesse caso, uma vez que se trata apenas de uma suspeita.
- (C) deverá ser feita a notificação compulsória do fato suspeito à autoridade policial e ao Ministério Público, além dos Conselhos dos Direitos da Pessoa com Deficiência.
- (D) o hospital, por ser particular, não está obrigado a notificar as autoridades, uma vez que a notificação compulsória é imposta apenas aos hospitais públicos.
- (E) o hospital deve, assim que teve conhecimento do fato, tomar o depoimento por escrito da vítima e notificar o juiz da Comarca para as devidas providências.

- 58.** De acordo com a Lei nº 13.146/2015, os hotéis, pousadas e similares devem ser construídos observando-se os princípios do desenho universal, além de adotar todos os meios de acessibilidade, conforme legislação em vigor. Com relação aos estabelecimentos já existentes, os meios de acessibilidade
- (A) devem ser garantidos na ordem de 20%, pelo menos, do total de seus dormitórios, garantidas, ao menos, duas unidades acessíveis.
  - (B) não serão obrigatórios, podendo ser adaptadas suas unidades em livre proporção.
  - (C) devem ser garantidos em, pelo menos, 10% de seus dormitórios, garantida, no mínimo, uma unidade acessível.
  - (D) devem ser garantidos na mesma proporção que os novos empreendimentos, devendo ser efetuadas as obras necessárias para atender às exigências da Lei.
  - (E) não são obrigatórios, devendo a lei de cada Estado da Federação oferecer vantagens e benefícios para que esses estabelecimentos possam oferecer a mesma acessibilidade.
- 59.** Nos termos do que dispõe a Lei nº 12.527/2011 – Lei de Acesso à Informação, é correto afirmar que
- (A) dados, processados ou não, que podem ser utilizados para produção e transmissão de conhecimento, contidos em qualquer meio, suporte ou formato, são considerados integridade.
  - (B) os Municípios com população igual ou superior a 12000 (doze mil) habitantes ficam dispensados da divulgação obrigatória na internet, ou de divulgação em tempo real, de informações relativas à execução orçamentária e financeira.
  - (C) a informação em poder dos órgãos e entidades públicas, observado o seu teor e em razão de sua imprescindibilidade à segurança da sociedade ou do Estado, poderá ser classificada, dentre outras, como reservada, pelo prazo de 5 (cinco) anos, a partir da data de sua produção.
  - (D) os interessados terão amplo acesso às informações pessoais, independentemente de classificação de sigilo como ultrassecreta, pelo prazo máximo de 10 (dez) anos, a contar da sua data de produção.
  - (E) qualquer interessado poderá apresentar pedido de acesso à informação de interesse público aos órgãos e entidades públicas, por qualquer meio legítimo, devendo o pedido conter a identificação do requerente e os motivos determinantes da solicitação.
- 60.** De acordo com o Decreto Estadual nº 58.052/2012, será o órgão responsável pela fiscalização da aplicação da Lei Federal nº 12.527/2011, e desse Decreto, no âmbito da Administração Pública Estadual, sem prejuízo da atuação dos órgãos de controle interno,
- (A) a Comissão de Acesso à Informação.
  - (B) a Corregedoria Geral da Administração.
  - (C) o Serviço de Informação ao Cidadão.
  - (D) o Grupo Especial de Apoio ao Cidadão.
  - (E) a Secretaria de Gestão Pública.



