

Concurso Público

005. PROVA OBJETIVA

ANALISTA TÉCNICO CIENTÍFICO
(Engenheiro Civil)

- ◆ Você recebeu sua folha de respostas, este caderno, contendo 60 questões objetivas, e o caderno de prova dissertativa.
- ◆ Confira seus dados impressos na capa deste caderno e na folha de respostas.
- ◆ Quando for permitido abrir o caderno, verifique se está completo ou se apresenta imperfeições. Caso haja algum problema, informe ao fiscal da sala.
- ◆ Leia cuidadosamente todas as questões e escolha a resposta que você considera correta.
- ◆ Marque, na folha de respostas, com caneta de tinta azul ou preta, a letra correspondente à alternativa que você escolheu.
- ◆ A duração das provas objetiva e dissertativa é de 5 horas, já incluído o tempo para o preenchimento da folha de respostas e para a transcrição da resposta definitiva.
- ◆ Só será permitida a saída definitiva da sala e do prédio após transcorridos 75% do tempo de duração das provas.
- ◆ Deverão permanecer em cada uma das salas de prova os 3 últimos candidatos, até que o último deles entregue sua prova, assinando termo respectivo.
- ◆ Ao sair, você entregará ao fiscal o caderno de prova dissertativa, a folha de respostas e este caderno, podendo levar apenas o rascunho de gabarito, localizado em sua carteira, para futura conferência.
- ◆ Até que você saia do prédio, todas as proibições e orientações continuam válidas.

AGUARDE A ORDEM DO FISCAL PARA ABRIR ESTE CADERNO DE QUESTÕES.

Nome do candidato

RG

Inscrição

Prédio

Sala

Carteira

CONHECIMENTOS GERAIS

LÍNGUA PORTUGUESA

Leia o texto, para responder às questões de números 01 a 05.

McLuhan já alertava que a aldeia global resultante das mídias eletrônicas não implica necessariamente harmonia, implica, sim, que cada participante das novas mídias terá um envolvimento gigantesco na vida dos demais membros, que terá a chance de meter o bedelho onde bem quiser e fazer o uso que quiser das informações que conseguir. A aclamada transparência da coisa pública carrega consigo o risco de fim da privacidade e a superexposição de nossas pequenas ou grandes fraquezas morais ao julgamento da comunidade de que escolhemos participar.

Não faz sentido falar de dia e noite das redes sociais, apenas em número de atualizações nas páginas e na capacidade dos usuários de distinguir essas variações como relevantes no conjunto virtualmente infinito das possibilidades das redes. Para achar o fio de Ariadne no labirinto das redes sociais, os usuários precisam ter a habilidade de identificar e estimar parâmetros, aprender a extrair informações relevantes de um conjunto finito de observações e reconhecer a organização geral da rede de que participam.

O fluxo de informação que percorre as artérias das redes sociais é um poderoso fármaco viciante. Um dos neologismos recentes vinculados à dependência cada vez maior dos jovens a esses dispositivos é a “nomobofobia” (ou “pavor de ficar sem conexão no telefone celular”), descrito como a ansiedade e o sentimento de pânico experimentados por um número crescente de pessoas quando acaba a bateria do dispositivo móvel ou quando ficam sem conexão com a Internet. Essa informação, como toda nova droga, ao embotar a razão e abrir os poros da sensibilidade, pode tanto ser um remédio quanto um veneno para o espírito.

(Vinicius Romanini, Tudo azul no universo das redes.
Revista USP, nº 92. Adaptado)

01. Do ponto de vista do autor, as redes sociais

- (A) são um universo ao qual os usuários resistem porque são afeitos à discrição nos relacionamentos.
- (B) preservam identidades e opiniões, sendo, portanto, ponto de referência para a busca de informações qualificadas.
- (C) garantem julgamentos justos, pela comunidade, dos usuários que nelas expõem seus hábitos e ideologias.
- (D) disponibilizam abundantes informações, o que exige que seus usuários filtrem o que de fato interessa.
- (E) condensam a infinidade de dados nelas circulantes, caracterizando-se como um meio confiável de exposição pessoal.

02. Entre os aspectos negativos que se apontam para usuários das mídias eletrônicas estão

- (A) a possibilidade de exibição da intimidade e a ansiedade devida à falta de conexão em rede.
- (B) a superposição de virtudes a grandes fraquezas morais e a ênfase ao cultivo da individualidade.
- (C) a possibilidade de imiscuir-se na vida alheia e o consumo de remédios viciantes.
- (D) o convívio ilimitado com os demais usuários da rede e o uso regulado de informações.
- (E) o envenenamento do espírito e a harmonia entre os membros do grupo de usuários.

03. A substituição do trecho destacado por aquele colocado entre parênteses está de acordo com a norma-padrão de regência verbal em:

- (A) ... e fazer o uso **que quiser** das informações que conseguir. (a que achar conveniente)
- (B) ... superexposição [...] ao julgamento da comunidade **de que escolhemos participar**. (com a qual escolhemos conviver)
- (C) ... terá a chance de **meter o bedelho onde bem quiser**... (intrometer-se aonde desejar)
- (D) McLuhan já **alertava que** a aldeia global... (prenunciava de que)
- (E) O fluxo de informação **que percorre** as artérias das redes sociais... (ao qual atravessa)

04. Assinale a alternativa em que se caracteriza o emprego de palavras em sentido figurado.

- (A) Um dos neologismos recentes vinculados à dependência cada vez maior dos jovens a esses dispositivos é a “nomobofobia”...
- (B) ... a superexposição de nossas pequenas ou grandes fraquezas morais ao julgamento da comunidade...
- (C) ... a ansiedade e o sentimento de pânico experimentados por um número crescente de pessoas quando acaba a bateria do dispositivo móvel...
- (D) ... os usuários precisam ter a habilidade de identificar e estimar parâmetros, aprender a extrair informações relevantes...
- (E) O fluxo de informação que percorre as artérias das redes sociais é um poderoso fármaco viciante.

05. As expressões destacadas nos trechos – **meter o bedelho** / **estimar** parâmetros / **embotar** a razão – têm sinônimos adequados respectivamente em:

- (A) procurar / gostar de / ilustrar
- (B) imiscuir-se / avaliar / enfraquecer
- (C) interferir / propor / embrutecer
- (D) intrometer-se / prezar / esclarecer
- (E) contrapor-se / consolidar / iluminar

Leia o texto, para responder às questões de números **06 a 09**.

A República dos Estados Unidos da Bruzundanga tinha, como todas as repúblicas que se prezam, além do presidente e juizes de várias categorias, um Senado e uma Câmara de Deputados, ambos eleitos por sufrágio direto e temporários ambos, com certa diferença na duração do mandato: o dos senadores, mais longo; o dos deputados, mais curto.

O país vivia de expedientes, isto é, de cinquenta em cinquenta anos descobria-se nele um produto que ficava sendo a sua riqueza. Os governos taxavam-no a mais não poder, de modo que os países rivais, mais parcimoniosos na decretação de impostos sobre produtos semelhantes, acabavam, na concorrência, por derrotar a Bruzundanga; e, assim, ela fazia morrer a sua riqueza, mas não sem os estertores de uma valorização duvidosa. Daí vinha que a grande nação vivia aos solavancos, sem estabilidade financeira e econômica; e, por isso mesmo, dando campo a que surgissem, a toda hora, financeiros de todos os seus cantos e, sobretudo, do seu parlamento.

Naquele ano, isto dez anos atrás, surgiu na sua Câmara um deputado que falava muito em assuntos de finanças, orçamentos, impostos diretos e indiretos e outras coisas cabalísticas da ciência de obter dinheiro para o Estado.

Chamava-se o deputado Felixhimino ben Karpatoso. Se era advogado, médico, engenheiro ou mesmo dentista, não se sabia bem; todos tratavam-no de doutor, embora nada se conhecesse dele.

(Lima Barreto, Um grande financeiro. *Os bruzundangas*. Adaptado)

06. Assinale a alternativa que reescreve passagem do texto respeitando a norma-padrão de concordância verbal e nominal.

- (A) Bastava cinquenta anos para que fosse descoberto no país produtos novos, que acabava sendo a riqueza do país.
- (B) Os mandatos de senador e deputado durava tempo diferente, sendo mais longos o dos primeiros.
- (C) Na Bruzundanga haviam Senado e Câmara de Deputados, que o povo, em massa, apoiavam confiantes.
- (D) Naquele ano, isto já faziam dez anos, surgiu um deputado muito bem falante em assuntos financeiros.
- (E) Todas as repúblicas que se prezam possuem Senado e Câmara escolhidos pelos cidadãos, o mais possível confiantes em seus representantes.

07. Observe a relação de sentido entre os trechos (I) e (II), na passagem – (I) Os governos taxavam-no a mais não poder, (II) de modo que os países rivais, mais parcimoniosos na decretação de impostos sobre produtos semelhantes, acabavam, na concorrência, por derrotar a Bruzundanga.

É correto afirmar que

- (A) o trecho (I) expressa o tempo em que ocorre o que se afirma no trecho (II).
- (B) o trecho (II) expressa a maneira como ocorre o fato afirmado no trecho (I).
- (C) o trecho (II) expressa o efeito do que se afirma no trecho (I).
- (D) o trecho (I) expressa o modo como ocorre o fato afirmado no trecho (II).
- (E) o trecho (II) expressa a causa determinante do que se afirma no trecho (I).

08. Assinale a alternativa em que os sinais de pontuação estão empregados segundo os mesmos princípios da norma-padrão adotados na passagem – com certa diferença na duração do mandato: o dos senadores, mais longo; o dos deputados, mais curto.

- (A) A separação os fez perder muita coisa: ele, a guarda dos filhos; ela, a casa em que morava com as crianças.
- (B) Há algo importante a explicar: a perda de clientes, muitos deles inadimplentes; entretanto, ninguém fala nada.
- (C) Os meios de divulgação são os seguintes: internet, mensagem de celular e jornais; com eles, atingiremos o público.
- (D) Foi o que disse o funcionário: o carregamento não chegou, ainda; e os pedidos estão se acumulando, mais e mais.
- (E) Fui reticente, mas agora me explico: meu dinheiro acabou, nada me resta; e meu pai não pode me ajudar, coitado.

09. O contexto em que, segundo a norma-padrão, o pronome “se” pode ser colocado antes ou depois do verbo, é:

- (A) ... como todas as repúblicas que se prezam...
- (B) Chamava-se o deputado Felixhimino ben Karpatoso.
- (C) ... de cinquenta em cinquenta anos descobria-se nele um produto...
- (D) ... não se sabia bem...
- (E) ... embora nada se conhecesse dele.

10. Assinale a alternativa que preenche as lacunas do texto a seguir, observando o emprego do sinal de crase e a conjugação verbal, segundo a norma-padrão.

Implantaremos um sistema capaz de levar _____ consumidores fiéis informações sobre nossas promoções, _____ partir do momento em que forem lançadas. Se _____ de recursos suficientes, anunciaremos prêmios que atraiam clientes, para que _____ incondicionalmente _____ campanhas promocionais.

- (A) aqueles ... a ... dispormos ... aderem ... as
- (B) àqueles ... a ... dispusermos ... adiram ... às
- (C) àqueles ... à ... dispusermos ... aderem ... às
- (D) aqueles ... à ... dispormos ... adiram ... as
- (E) aqueles ... a ... dispormos ... adiram ... as

11. Pretende-se dividir um grupo de 216 pessoas, sendo 126 com formação na área de exatas e 90 com formação na área de humanas, em grupos menores contendo, obrigatoriamente, elementos de cada uma dessas áreas, de modo que: (1) o número de grupos seja o maior possível; (2) cada grupo tenha o mesmo número x de pessoas com formação na área de exatas e o mesmo número y de pessoas com formação na área de humanas; e (3) cada uma das 216 pessoas participe de um único grupo. Nessas condições, e sabendo-se que no grupo não há pessoa com ambas as formações, é correto afirmar que, em cada novo grupo, a diferença entre os números de pessoas com formação em exatas e em humanas, nessa ordem, será igual a
- (A) 1.
 - (B) 2.
 - (C) 3.
 - (D) 4.
 - (E) 5.
12. Um capital foi aplicado à taxa de juros simples de 21,6% ao ano, durante 5 meses, e rendeu juros de R\$ 153,00. Desconsiderando-se taxas ou outros encargos relativos a essa aplicação, no final desse período, o montante recebido pelo aplicador foi de
- (A) R\$ 1.823,00.
 - (B) R\$ 1.833,00.
 - (C) R\$ 1.843,00.
 - (D) R\$ 1.853,00.
 - (E) R\$ 1.863,00.
13. Uma pessoa comprou um determinado produto cujo preço à vista era de R\$ 825,00. Como forma de pagamento, ela deu uma entrada de 45% do preço à vista e pagou o restante com um cheque para 30 dias, com juros de 4% sobre esse restante. O valor que essa pessoa pagou de juros, nessa compra, correspondeu a
- (A) R\$ 18,05.
 - (B) R\$ 18,10.
 - (C) R\$ 18,15.
 - (D) R\$ 18,20.
 - (E) R\$ 18,25.

14. Em uma pesquisa realizada com 300 pessoas, o número das que se declararam ser doutores em alguma área de conhecimento correspondeu a quatro unidades a mais da nona parte das que se declararam ser apenas graduadas, e o número de pessoas que se declararam ser apenas mestres correspondeu a quatro vezes o número de pessoas que se declararam ser doutores. A razão entre o número das pessoas que se declararam ser apenas graduadas e o número das que se declararam ser doutores é igual a

(A) 7,5.

(B) 7.

(C) 6,5.

(D) 6.

(E) 5,5.

15. A média das idades de um grupo de 10 pessoas é 18,7 anos. Carlos e Ana não fazem parte desse grupo, mas, inserindo-os ao grupo, a média das idades das 12 pessoas passa a ser de 19 anos. Sabendo-se que Carlos é 5 anos mais velho que Ana, e que ambos nasceram no primeiro dia do mês de janeiro, é correto afirmar que Ana nasceu no ano de

(A) 1992.

(B) 1994.

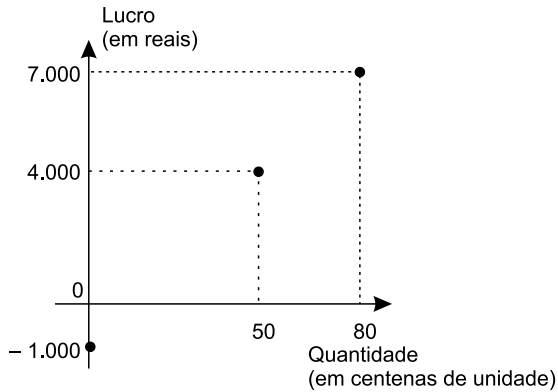
(C) 1996.

(D) 1998.

(E) 2000.

16. Em determinada casa comercial, o número de trabalhadores do gênero masculino é 4 unidades menor que o número de trabalhadores do gênero feminino. Nessa casa comercial, cada trabalhador recebeu, no final do ano passado, como brinde, um vale-presente para ser utilizado na própria loja: para os homens, o vale-presente tinha valor unitário de R\$ 120,00, e, para as mulheres, de R\$ 150,00. Sabendo-se que ao todo foi distribuído um total de R\$ 7.080,00 em vales-presentes, pode-se concluir corretamente que nessa casa comercial o valor total em vales-presentes distribuídos para os funcionários do gênero feminino foi de
- (A) R\$ 3.800,00.
 - (B) R\$ 3.900,00.
 - (C) R\$ 4.000,00.
 - (D) R\$ 4.100,00.
 - (E) R\$ 4.200,00.
17. Um terreno tem formato retangular, e a medida da sua lateral é 20% maior que a medida de sua frente. Sabendo-se que o perímetro desse terreno é 110 metros e que ele foi vendido pelo valor de R\$ 900,00 o metro quadrado, pode-se afirmar corretamente que o valor total de venda desse terreno foi
- (A) R\$ 625.500,00.
 - (B) R\$ 675.000,00.
 - (C) R\$ 700.500,00.
 - (D) R\$ 725.000,00.
 - (E) R\$ 750.500,00.
18. Todos os dias, são necessárias, em média, duas horas para cinco analistas, todos com a mesma força de trabalho, analisarem determinada quantidade Q de documentos. Em um dia em que um desses analistas não puder realizar essa tarefa, espera-se que os quatro demais, no mesmo ritmo de trabalho, realizem metade dessa tarefa em, no mínimo, 1 hora e
- (A) 15 minutos.
 - (B) 20 minutos.
 - (C) 25 minutos.
 - (D) 30 minutos.
 - (E) 35 minutos.

19. O gráfico apresenta informações do lucro, em reais, sobre a venda de uma quantidade, em centenas, de um produto em um hipermercado.



Sabendo-se que é constante a razão entre a variação do lucro e a variação da quantidade vendida e que se pretende ter um lucro total não menor que R\$ 90.500,00 em 10 dias de venda desse produto, então a média diária de unidades que deverão ser vendidas, nesse período, deverá ser, no mínimo, de

- (A) 8900.
 (B) 8950.
 (C) 9000.
 (D) 9050.
 (E) 9150.
20. Considere a seguinte tabela de desconto mensal de imposto de renda na fonte, de trabalhadores assalariados.

BASE DE CÁLCULO EM REAIS (R\$)	ALÍQUOTA EM PORCENTAGEM (%)	PARCELA A DEDUZIR EM REAIS (R\$)
Até 1.903,98	Isento	-
De 1.903,99 até 2.826,65	7,5	142,80
De 2.826,66 até 3.751,05	15	354,80
De 3.751,06 a 4.664,68	22,5	636,13
Acima de 4.664,68	27,5	869,36

Um trabalhador que teve como desconto de imposto de renda, em determinado mês de vigência da tabela, o valor de R\$ 185,20, teve uma base de cálculo que, para atingir R\$ 10.000,00, precisa ser adicionado a

- (A) R\$ 5.600,00.
 (B) R\$ 6.000,00.
 (C) R\$ 6.400,00.
 (D) R\$ 6.800,00.
 (E) R\$ 7.200,00.

21. *Justiça homologa acordo de leniência com Andrade Gutierrez*

O juiz federal Sérgio Moro homologou o acordo de leniência entre a empreiteira Andrade Gutierrez e o Ministério Público Federal.

(G1, 08.05.2016. Disponível em: <<http://goo.gl/oDf711>>. Adaptado)

Nos termos do acordo, em troca de poder continuar mantendo contratos com o poder público, a empresa

- (A) decidiu não mais financiar campanhas de candidatos e partidos políticos, assim como se comprometeu a desmontar o seu escritório de lobby em Brasília.
- (B) firmou que os seus executivos devem se manifestar apenas no que for estabelecido expressamente pelos contratos firmados, para evitar práticas de suborno e corrupção.
- (C) resolveu submeter todos os seus contratos a auditorias externas e, a título de transparência, repatriou os seus recursos depositados em paraísos fiscais.
- (D) aceitou pagar R\$ 1 bilhão em multas, além de garantir a colaboração em todas as investigações de corrupção em que possa estar envolvida.
- (E) estabeleceu limites para o valor das obras públicas das quais participará de agora em diante, evitando os projetos mais custosos e com maior risco de corrupção.

22. A Procuradoria-Geral da República ofereceu nesta sexta-feira (6 de maio) denúncia ao STJ (Superior Tribunal de Justiça) contra o governador pelos crimes de corrupção, lavagem de dinheiro e falsidade de documento particular. A acusação tem como base desdobramentos da Operação Acrônimo, que investiga um suposto esquema de financiamento ilegal de campanhas políticas.

(Folha de S.Paulo, 06.05.2016.

Disponível em: <<http://goo.gl/w0W4p1>>. Adaptado)

O governador denunciado foi

- (A) Geraldo Alckmin, de São Paulo.
- (B) Fernando Pimentel, de Minas Gerais.
- (C) Luiz Fernando Pezão, do Rio de Janeiro.
- (D) Beto Richa, do Paraná.
- (E) Flávio Dino, do Maranhão.

23. A Assembleia Legislativa de São Paulo está ocupada há mais de 36 horas por estudantes que querem a abertura de uma CPI (Comissão parlamentar de Inquérito) que investigue a máfia da merenda. Os manifestantes, em sua maioria alunos secundaristas, ocupam o plenário da Assembleia desde as 17h da última terça-feira (3 de maio).

(G1, 05.05.2016. Disponível em: <<http://goo.gl/CUUHUo>>. Adaptado)

A chamada “máfia da merenda” está relacionada à Operação Alba Branca, que investiga

- (A) o pagamento de propina por parte de grandes indústrias alimentícias de forma a se beneficiarem diretamente das compras de merenda realizadas pelo governo estadual e por algumas prefeituras municipais de São Paulo.
- (B) o superfaturamento, a lavagem de dinheiro e a evasão de divisas em direção a paraísos fiscais por parte de autoridades públicas responsáveis pela questão da merenda e da alimentação escolar.
- (C) a influência e a participação de grandes proprietários de terras, envolvidos na produção agrícola de alimentos, e que teriam subornado autoridades públicas responsáveis pela compra e fornecimento de merenda para as escolas.
- (D) a terceirização do serviço de fornecimento de merendas escolares, até então sob responsabilidade direta do Estado, e que agora, sob a alçada de empresas privadas, tem sido foco de suspeitas de corrupção.
- (E) a formação de cartel entre três cooperativas de agricultura familiar para definir vencedores em licitações de merenda escolar em municípios paulistas em um esquema de corrupção e superfaturamento no fornecimento de alimentos.

24. A polícia francesa entrou em confronto, neste sábado (9 de abril), com centenas de manifestantes em Paris, usando gás lacrimogêneo. O protesto foi um dos muitos realizados nos últimos tempos. Dezenas de milhares de manifestantes tomaram as ruas de Paris para protestar.

(Folha de S.Paulo, 09.04.2016.

Disponível em: <<http://goo.gl/ZcN4ZD>>. Adaptado)

Os protestos têm como alvo

- (A) a nova lei de refúgio e imigração, que transformou a França em um grande polo de atração de refugiados oriundos da Síria e da Líbia.
- (B) o estado de exceção, que suspende algumas garantias constitucionais em nome do combate ao terrorismo, em que a França se encontra desde os últimos atentados.
- (C) a reforma trabalhista defendida pelo governo, que pretende flexibilizar algumas leis trabalhistas tais como a duração da jornada semanal de trabalho.
- (D) a política externa francesa, bastante agressiva no Oriente Médio e muito alinhada com os EUA, o que tem provocado forte polêmica entre os franceses.
- (E) a fragilidade dos órgãos franceses de segurança, inteligência e informação, o que tem contribuído para fazer da França o alvo preferido de atentados do Isis.

25. Depois de diminuir de cinco para quatro os dias úteis do serviço público, o presidente anunciou nesta quinta-feira (14 de abril) que mudará o fuso horário do país para economizar energia. O horário de verão é mais uma medida do governo para tentar resolver a crise energética. Nos últimos meses, a seca provocada pelo El Niño diminuiu ainda mais a geração de energia, já afetada pela falta de infraestrutura.


(Folha de S.Paulo, 14.04.2016.
Disponível em: <<http://goo.gl/owB5vU>>. Adaptado)

A notícia trata da situação energética

- (A) na Venezuela.
- (B) na Bolívia.
- (C) no Paraguai.
- (D) no Peru.
- (E) no Equador.

NOÇÕES DE INFORMÁTICA

26. No Microsoft Windows 7, em sua configuração original, um usuário possui 2 arquivos texto em um diretório, chamados *notas* e *anotações*, conforme imagem a seguir.



Ao selecionar o arquivo *anotações* e pressionar a tecla F2 para renomeá-lo, o usuário digitou *notas*. Nesse caso, considerando que não é possível ter em um mesmo diretório dois arquivos com o mesmo nome e extensão, o Windows automaticamente

- (A) mescla o conteúdo dos 2 arquivos, mantendo apenas 1 arquivo chamado *notas*.
- (B) apaga o arquivo *notas* anterior e mantém apenas o novo arquivo renomeado.
- (C) sugere um novo nome *notas (2).txt* e aguarda confirmação do usuário.
- (D) altera o nome do arquivo anterior *notas* para *notas_velho* e efetua a alteração do outro arquivo de *anotações* para *notas*.
- (E) movimenta o arquivo *notas* para a pasta Meu Computador na Área de Trabalho e mantém apenas o novo arquivo renomeado.

27. Comparando dois documentos criados no Microsoft Word 2010, em sua configuração padrão, sendo um deles em modo paisagem e outro em modo retrato, mas ambos com a mesma fonte e tamanho de letra, e margens, assinale a alternativa correta.

- (A) O documento em modo paisagem tem mais caracteres por linha do que o documento em modo retrato.
- (B) O documento em modo retrato tem menos linhas do que o documento em modo paisagem.
- (C) Ambos os documentos têm a mesma quantidade de caracteres por linha.
- (D) O documento em modo paisagem tem menos caracteres por linha do que o documento em modo retrato.
- (E) O documento em modo paisagem só pode ser configurado como tamanho A4.

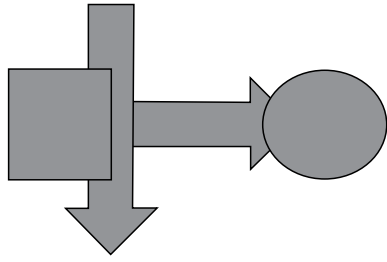
28. Uma planilha criada no Microsoft Excel 2010, em sua configuração padrão, está preenchida como se apresenta a seguir.

	A	B	C	
1	Atividade	Data Início	Cidade	
2	1	10/10/2015	São Paulo	
3	2	18/10/2015	Osasco	
4	3	22/10/2015	Guarulhos	
5	4	23/10/2015	São Paulo	
6	5	02/11/2015	São Paulo	
7	6	05/11/2015	Guarulhos	
8				
9				
10	3			
11				

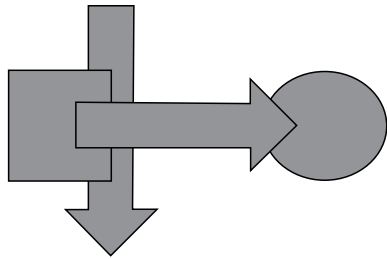
A fórmula =PROCV(A10;A2:C7;3;0), se digitada na célula B10, trará como resultado

- (A) #N/A
- (B) #ERRO
- (C) 3
- (D) Guarulhos
- (E) 22/10/2015

29. Têm-se as seguintes AutoFormas incluídas no Microsoft PowerPoint 2010, em sua configuração padrão, na sequência seta para a direita, seta para baixo, círculo, quadrado.



Assinale a alternativa que apresenta a sequência correta de operações de arrasto para alterar as AutoFormas de maneira que tenham a aparência apresentada a seguir.



- (A) Enviar para trás quadrado, enviar para trás seta para baixo, enviar para trás seta para direita.
- (B) Trazer para frente seta para direita, enviar para trás quadrado, enviar para trás seta para baixo.
- (C) Enviar para trás círculo, enviar para trás seta para baixo.
- (D) Trazer para frente seta para direita, trazer para frente seta para baixo, trazer para frente quadrado.
- (E) Enviar para trás círculo, enviar para trás seta para direita, enviar para trás quadrado.
30. No site de pesquisas Google, quando é usado(a) um(a) _____ antes de uma palavra ou site, ele exclui os resultados de pesquisas que incluem essa palavra ou site. Assinale a alternativa que preenche, corretamente, a lacuna do enunciado.
- (A) asterisco
- (B) apóstrofo
- (C) símbolo de \$
- (D) hashtag
- (E) traço

CONHECIMENTOS ESPECÍFICOS

31. A função da camada de ligação, também conhecida como *binder*, em um pavimento flexível com revestimento asfáltico, é
- (A) bloquear a penetração lateral das águas subsuperficiais existentes na estrutura do solo.
- (B) enrijecer a estrutura do pavimento, com o objetivo de atenuar significativamente as cargas transmitidas ao subleito.
- (C) garantir a drenagem das águas subsuperficiais que penetrem na estrutura do pavimento pelas suas laterais.
- (D) proporcionar flexibilidade à estrutura do pavimento, por apresentar uma composição granulométrica mais aberta que a capa asfáltica.
- (E) proporcionar flexibilidade à estrutura do pavimento, por apresentar uma composição granulométrica mais fechada que a capa asfáltica.
32. A camada de sub-base, em um pavimento rígido de concreto de cimento portland, tem, entre outras, a finalidade de
- (A) complementar a atuação da base na dissipação de cargas para o subleito e garantir a drenagem, em relação à água infiltrada através do pavimento.
- (B) controlar a deformação do pavimento, de forma associada à base, evitando que esta apresente camadas espessas.
- (C) eliminar a possibilidade do bombeamento de solos finos e plásticos e incrementar a transferência de carga nas juntas.
- (D) substituir, de forma parcial, a camada de base, sendo essa substituição definida por um estudo econômico que avalia a disponibilidade de materiais de jazidas naturais para sua constituição.
- (E) funcionar como camada de bloqueio, evitando a ascensão de umidade do solo sob a forma de vapor.

- 33.** Segundo o DNIT, na execução dos estudos geotécnicos para o projeto de pavimentação, devem ser feitos os seguintes ensaios:
- (A) Granulometria por peneiramento com lavagem do material nas peneiras de 2,00 mm e de 0,075 mm, Limite de Liquidez, Limite de Plasticidade, Compactação, Massa Específica Aparente "in situ", Índice Suporte Califórnia (ISC), Expansibilidade, no caso de solos lateríticos, e Limite de Construção, em casos específicos de materiais de subleito.
 - (B) Granulometria por peneiramento com lavagem do material nas peneiras de 2,00 mm e de 0,075 mm, Limite de Liquidez, Índice de Plasticidade, Compactação, CBR e Expansibilidade, no caso de solos lateríticos.
 - (C) Granulometria, Limite de Liquidez, Limite de Plasticidade, Compactação, Ensaio de Compressão Triaxial, Índice Suporte Califórnia (ISC) e Expansibilidade.
 - (D) Granulometria por peneiramento com lavagem do material nas peneiras de 2,00 mm e de 0,075 mm, Limite de Liquidez, Índice de Plasticidade, Compactação, CBR, Expansibilidade, no caso de solos lateríticos, e Limite de Construção, em casos específicos de materiais de subleito.
 - (E) Granulometria, Limite de Liquidez, Limite de Plasticidade, CBR e Expansibilidade.
- 34.** As distâncias de transporte dos empréstimos e bota-foras devem ser consideradas
- (A) como a somatória dos percursos totais dos veículos, do ponto de extração ao ponto de depósito do material escavado.
 - (B) como a distância em linha reta entre os centros de gravidade de extração e o centro de gravidade de depósito.
 - (C) como a distância média percorrida pelos veículos de transporte de material.
 - (D) de centro de gravidade de extração a centro de gravidade de depósito, considerando o percurso de ida e volta.
 - (E) de centro de gravidade de extração a centro de gravidade de depósito, considerando apenas o percurso de ida.
- 35.** No manejo ambiental de obras de pavimentação asfáltica, entre os cuidados a serem considerados, está:
- (A) acionar os equipamentos de controle de poluição de ar imediatamente após o início de operação da usina de asfalto.
 - (B) exigir do empreiteiro um programa de queimadas controladas, quando estas forem necessárias para a adequada exploração de uma jazida de agregados.
 - (C) exigir a instalação de filtros para elementos particulados no misturador de asfalto.
 - (D) no caso de aquisição de agregados, exigir a apresentação da licença ambiental de operação da pedreira/areal, cuja cópia deve ser arquivada junto ao Livro de Ocorrências da Obra.
 - (E) não permitir a instalação de usinas de asfalto a quente a uma distância inferior a 500 m, medidos a partir da base da chaminé, de residências, hospitais, clínicas, entre outros.
- 36.** Em um empreendimento rodoviário, os impactos ambientais são analisados a partir
- (A) do impacto socioeconômico do empreendimento rodoviário.
 - (B) da vida útil prevista para o empreendimento, considerado o tempo de atuação sobre o bioma em que se insere.
 - (C) dos parâmetros geométricos da classe de rodovia que se pretende implantar.
 - (D) dos volumes de terraplenagem estimados no anteprojeto da obra.
 - (E) de dois atributos principais: magnitude e importância.
- 37.** Um dos principais fatores que determinam a altura do trilho e seu peso linear é
- (A) a bitola adotada no projeto.
 - (B) a carga por eixo da composição ferroviária.
 - (C) a capacidade de suporte do lastro ferroviário.
 - (D) o comportamento elástico do material constituinte do dormente.
 - (E) a velocidade operacional da via.

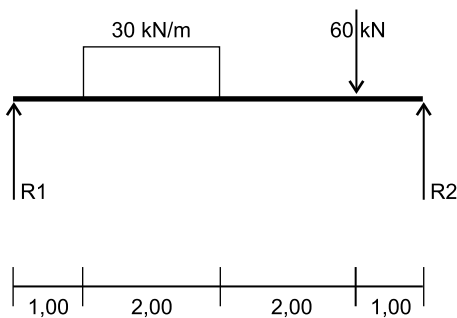
- 38.** Mediante procedimento administrativo e a pedido do interessado, a Prefeitura Municipal de São Paulo (PMSP) concederá Alvará de Autorização. Ele
- (A) é obrigatório para a execução de movimento de terra e muro de arrimo e outras obras correspondentes, e poderá ser revogado a qualquer tempo, mediante ato da autoridade competente, atendendo a relevante interesse público ou ser cassado, juntamente com o Alvará de Execução, em caso de desvirtuamento, por parte do interessado, da licença concedida.
 - (B) é obrigatório para a implantação e/ou utilização de edificação transitória ou equipamento transitório, e poderá ser revogado a qualquer tempo, mediante ato da autoridade competente, atendendo a relevante interesse público ou ser cassado, juntamente com o Alvará de Execução, em caso de desvirtuamento, por parte do interessado, da licença concedida.
 - (C) será concedido a título precário, podendo ser cancelado a qualquer tempo, quando houver desvirtuamento do seu objeto inicial, ou quando a PMSP não tiver interesse na sua manutenção ou renovação, sendo obrigatório para a implantação e/ou utilização de canteiro de obras ou execução de reforma.
 - (D) será concedido a título precário, podendo ser cancelado a qualquer tempo, quando houver desvirtuamento do seu objeto inicial, ou quando a PMSP não tiver interesse na sua manutenção ou renovação, sendo obrigatório para a implantação e/ou utilização de edificação transitória ou equipamento transitório.
 - (E) terá o seu pedido instruído com peças gráficas e descritivas que permitam a perfeita compreensão e análise do projeto, em especial quanto ao atendimento das condições mínimas previstas na legislação pertinente e apresentação de levantamento topográfico para verificação das dimensões, área e localização do imóvel, quando necessário.
- 39.** A diferença entre intermodalidade e multimodalidade, no transporte de cargas, é
- (A) inexistente, pois os dois conceitos foram unificados pela legislação federal.
 - (B) funcional, pois o transporte intermodal considera a carga não unitizada, o que diminui a agilização na conexão entre modais, enquanto o transporte multimodal considera a carga unitizada, com a consequente agilização na conexão entre modais.
 - (C) funcional, pois o transporte multimodal considera a carga não unitizada, o que diminui a agilização na conexão entre modais, enquanto o transporte intermodal considera a intermodalidade da carga unitizada, organizada pelo Operador Logístico – OP, com a consequente agilização na conexão entre modais.
 - (D) administrativa e legal, pois, enquanto o transporte multimodal é um transporte segmentado, que se utiliza de diversos modais para o transporte de mercadoria, sem uma integração documental e legal, o transporte intermodal considera todos os modais envolvidos sob o aspecto de cadeia de transporte, em que o gerenciamento da origem ao destino é feito apenas por um único transportador, o Operador de Transporte Intermodal (OTI).
 - (E) administrativa e legal, pois enquanto o transporte intermodal é um transporte segmentado, que se utiliza de diversos modais para o transporte de mercadoria, sem uma integração documental e legal, o transporte multimodal considera todos os modais envolvidos sob o aspecto de cadeia de transporte, em que o gerenciamento da origem ao destino é feito apenas por um único transportador, o Operador de Transporte Multimodal (OTM).
- 40.** O traço de concreto pode ser estabelecido empiricamente para o concreto das classes
- (A) C10 a C15.
 - (B) C10 a C18.
 - (C) C15 a C20.
 - (D) C18 a C22.
 - (E) C20 a C25.

41. Na dosagem de concreto de cimento portland com finalidade estrutural, quando não é possível determinar o valor do Desvio Padrão a partir de resultados de ruptura de exemplares, adotam-se valores determinados a partir
- (A) da composição do traço.
 - (B) das características dos agregados.
 - (C) das características dos cimentos.
 - (D) das condições de preparo.
 - (E) do treinamento da equipe.
42. Os escoramentos de OAEs serão medidos pelo volume
- (A) de material consumido para a execução do escoramento, quando executado em estrutura de madeira, ou em peso de material, quando executado em estrutura metálica.
 - (B) de material consumido, considerando a área de projeção do tabuleiro a ser escorado e a carga transitória incidente sobre a estrutura durante a operação de concretagem (carga de trabalho).
 - (C) determinado pela área do tabuleiro inferior e pela altura compreendida entre o plano inferior da laje e o terreno, em metros cúbicos.
 - (D) determinado pela projeção do tabuleiro e pela altura compreendida entre o plano superior da superfície escorada e o terreno, após a conformação dos taludes dos encontros, em metros cúbicos.
 - (E) determinado pela projeção do tabuleiro e pela altura compreendida entre os planos inferiores da estrutura escorada e o terreno, em metros cúbicos.
43. Para se qualificar como Inspetor I de Estruturas de Concreto, segundo a ABNT NBR 16230, um dos requisitos mínimos de escolaridade é ter
- (A) curso superior na área da construção civil.
 - (B) curso superior em Engenharia Civil, com dois anos de experiência em patologia e terapia das estruturas de concreto.
 - (C) ensino médio profissionalizante em construção civil com dois anos de experiência em patologia e terapia das estruturas de concreto.
 - (D) ensino médio profissionalizante em construção civil com cinco anos de experiência em patologia e terapia das estruturas de concreto.
 - (E) ensino médio com quatro anos de experiência em patologia e terapia das estruturas de concreto.
44. Segundo a Norma DNIT 010/2004 – PRO, a inspeção rotineira de uma ponte ou viaduto deve ser realizada a intervalos de tempo não superiores a
- (A) 1 ano, para ambientes considerados de alta agressividade ao concreto (CAA III e IV).
 - (B) 2 anos.
 - (C) 3 anos.
 - (D) 5 anos, para ambientes considerados de baixa agressividade ao concreto (CAA I e II).
 - (E) 8 anos, para ambientes considerados de baixa agressividade ao concreto (CAA I e II).
45. Segundo a ABNT NBR 9607, uma estrutura, em condições normais de projeto e construção em relação às cargas de serviço, pode ser recebida por meio da realização de uma prova de carga, para comprovar seu desempenho. Nesse caso, o ensaio deve ser feito com um Fator de Carregamento (ψ_c)
- (A) entre 0,7 e 1,0.
 - (B) entre 0,8 e 1,1.
 - (C) igual a 1,0.
 - (D) entre 1,0 e 1,1.
 - (E) superior a 1,1.
46. Para determinação da capacidade de carga de estacas, um dos métodos utilizados é o Decourt-Quaresma, que se baseia
- (A) exclusivamente em resultados de ensaios de SPT, sendo aplicado apenas em fundações executadas com estacas pré-moldadas de concreto cravadas.
 - (B) exclusivamente em resultados de ensaios de SPT, sendo aplicado em fundações executadas com estacas cravadas ou escavadas.
 - (C) no resultado de ensaios estáticos CPT, sendo aplicado em fundações executadas com estacas cravadas ou escavadas.
 - (D) no resultado de ensaios de SPT e CPT, sendo aplicado em fundações executadas com estacas cravadas ou escavadas.
 - (E) no resultado de ensaios de SPT e análise granulométrica das amostras de solo, sendo aplicado apenas em fundações executadas com estacas cravadas.

47. A diferença básica entre o Projeto Básico e o Projeto Executivo é que, enquanto o Projeto Básico

- (A) apresenta somente os quantitativos de serviços, o Projeto Executivo apresenta também a especificação de materiais e serviços a serem executados.
- (B) apresenta somente os quantitativos de serviços, o Projeto Executivo apresenta a especificação dos serviços a serem executados.
- (C) apresenta o conjunto de elementos necessários para a execução da obra, o Projeto Executivo apresenta o detalhamento orçamentário da obra.
- (D) apresenta, pelo seu detalhamento, ao final, uma estimativa de custo da obra, o Projeto Executivo, ao final, apresenta o custo final para a implantação da obra.
- (E) é definido como o conjunto de elementos necessários e suficientes para caracterizar a obra ou serviço, o Projeto Executivo é o conjunto de elementos necessários e suficientes à sua execução.

48. Considere a figura seguinte, na qual as medidas lineares são dadas em metros.



As reações de apoio R1 e R2 e o momento fletor no ponto de aplicação da carga concentrada de 60 kN têm, respectivamente, os valores de

- (A) 50kN, 70 kN e 50 kNm.
- (B) 50 kN, 70 kN e 70 kNm.
- (C) 60 kN, 60 kN e 60 kNm.
- (D) 70 kN, 50 kN e 50 kNm.
- (E) 70 kN, 50 kN e 70 kNm.

49. Uma curva "S" pode ser criada a partir dos

- (A) histogramas representativos de um ou mais recursos utilizados em um empreendimento, com os valores acumulados período a período, sendo assim a alocação de recursos representada como um todo.
- (B) histogramas representativos de um ou mais recursos utilizados em um empreendimento, com os valores isolados por período, sendo assim a alocação de recursos representada de forma individualizada.
- (C) valores obtidos de uma curva de Gauss, considerando o desvio padrão como o grau de imprecisão na previsão de gastos financeiros ou de insumos.
- (D) valores previstos de uma curva de Gauss, representando, ao final, os valores de gastos financeiros ou de volume de insumos, isolados em cada período de tempo considerado.
- (E) valores previstos de uma curva de Gauss, que considere isoladamente aportes financeiros, insumos ou mão de obra, permitindo sua discretização a cada período de tempo que se queira analisar.

50. Uma estrutura só pode ser reutilizada após um incêndio se ela for vistoriada,

- (A) tiver sua capacidade remanescente verificada e sua recuperação for projetada e executada, de forma a que a estrutura volte a ter as características que apresentava antes do incêndio, recuperando todas as capacidades de serviço exigidas.
- (B) tiver sua capacidade remanescente verificada e sua recuperação for projetada e executada, de forma a que a estrutura volte a ter as características que apresentava antes do incêndio, recuperando todas as capacidades últimas e de serviço exigidas.
- (C) tiver sua capacidade remanescente verificada e sua recuperação se mostre desnecessária, pela baixa severidade do incêndio e pelo não comprometimento de sua capacidade de carga.
- (D) e se verifique, através de uma força de carga, que a capacidade de serviço exigida não foi afetada, no caso de incêndio de pequena severidade.
- (E) tiver sua capacidade remanescente verificada e sua recuperação for projetada e executada, de forma a que a estrutura recupere toda a sua capacidade de carga.

- 51.** Segundo a Lei Federal nº 6.766/79, não será permitido o parcelamento do solo em
- (A) áreas federais classificadas como de uso estratégico.
 - (B) áreas com situação fundiária regularizada.
 - (C) terrenos com declividade igual ou superior a 30%, salvo se atendidas exigências específicas das autoridades competentes.
 - (D) terrenos com declividade igual ou superior a 45%, dos quais tenha sido suprimida mata nativa.
 - (E) terrenos que tenham sido aterrados com materiais de 2ª categoria.
- 52.** Em um processo de regularização fundiária, os imóveis só podem ser selados ou adequadamente identificados para regularização se
- (A) forem localizados em lotes independentes.
 - (B) não se localizarem em áreas de preservação permanente.
 - (C) possuírem acesso independente e, pelo menos, banheiro e espaço para cozinhar e dormir.
 - (D) possuírem pelo menos, sala, quarto, cozinha e banheiro, independentemente das dimensões desses cômodos.
 - (E) tiverem acesso independente a uma via pública.
- 53.** Segundo a Resolução Conama nº 369, o órgão ambiental competente estabelecerá, previamente à emissão de autorização para supressão de vegetação em Áreas de Preservação Permanente,
- (A) as medidas administrativas e técnicas para elaboração do EIA.
 - (B) as contrapartidas econômicas, quando se tratar de empreendimento particular.
 - (C) as contrapartidas ambientais, quando se tratar de empreendimento com finalidade social.
 - (D) as medidas ecológicas de caráter mitigador e compensatório que deverão ser adotadas pelo requerente.
 - (E) quais medidas técnicas deverão ser tomadas para garantir a reposição das espécies vegetais suprimidas.
- 54.** Considerando a classificação de desastres, pode-se afirmar que as inundações que ocorrem em regiões urbanas são
- (A) desastres de evolução aguda de natureza mista.
 - (B) desastres súbitos antropogênicos.
 - (C) desastres graduais.
 - (D) desastres por somação de efeitos parciais de natureza tecnológica.
 - (E) desastres por somação parcial de origem natural.
- 55.** As voçorocas são o estágio mais avançado da erosão linear, que ocorre com o aprofundamento das ravinas até a interceptação do lençol freático e as camadas ainda mais inferiores, intensificando a velocidade de carreamento de partículas do solo. Entre os tipos de solos mais propensos ao desenvolvimento desse processo erosivo, estão
- (A) os organossolos.
 - (B) os solos litólicos.
 - (C) as areias quartzosas.
 - (D) os solos aluviais.
 - (E) os luvisolos.
- 56.** Quanto à realização de tratamento, procedimento, hospitalização e pesquisa científica relacionados à pessoa com deficiência, a Lei nº 13.146/2015 estabelece que
- (A) é indispensável o seu consentimento prévio, livre e esclarecido, podendo, no entanto, ser suprido em situação de curatela, na forma da lei.
 - (B) é dispensável o seu consentimento, desde que o objetivo a ser alcançado seja para o seu próprio bem-estar.
 - (C) se exige o seu prévio e livre consentimento por escrito, não podendo ser suprido mesmo em situação de curatela.
 - (D) não se exigirá o seu consentimento pessoal, no caso de pesquisa científica, se os seus pais ou responsáveis legais assim se manifestarem em seu lugar.
 - (E) será exigido o seu prévio e livre consentimento apenas para a hipótese de pesquisa científica, podendo ser dispensado nos demais casos.

57. Fulana, pessoa com deficiência, foi atendida em hospital particular com vários hematomas em seu corpo, levando o agente de saúde a suspeitar que ela teria sido vítima de violência. Nessa situação, a Lei nº 13.146/2015 estabelece que
- (A) o agente de saúde deverá envidar todos os esforços para confirmar a violência sofrida pela pessoa com deficiência e, uma vez confirmada, deverá notificar compulsoriamente o Ministério da Saúde.
 - (B) o agente de saúde nada poderá fazer nesse caso, uma vez que se trata apenas de uma suspeita.
 - (C) deverá ser feita a notificação compulsória do fato suspeito à autoridade policial e ao Ministério Público, além dos Conselhos dos Direitos da Pessoa com Deficiência.
 - (D) o hospital, por ser particular, não está obrigado a notificar as autoridades, uma vez que a notificação compulsória é imposta apenas aos hospitais públicos.
 - (E) o hospital deve, assim que teve conhecimento do fato, tomar o depoimento por escrito da vítima e notificar o juiz da Comarca para as devidas providências.
58. De acordo com a Lei nº 13.146/2015, os hotéis, pousadas e similares devem ser construídos observando-se os princípios do desenho universal, além de adotar todos os meios de acessibilidade, conforme legislação em vigor. Com relação aos estabelecimentos já existentes, os meios de acessibilidade
- (A) devem ser garantidos na ordem de 20%, pelo menos, do total de seus dormitórios, garantidas, ao menos, duas unidades acessíveis.
 - (B) não serão obrigatórios, podendo ser adaptadas suas unidades em livre proporção.
 - (C) devem ser garantidos em, pelo menos, 10% de seus dormitórios, garantida, no mínimo, uma unidade acessível.
 - (D) devem ser garantidos na mesma proporção que os novos empreendimentos, devendo ser efetuadas as obras necessárias para atender às exigências da Lei.
 - (E) não são obrigatórios, devendo a lei de cada Estado da Federação oferecer vantagens e benefícios para que esses estabelecimentos possam oferecer a mesma acessibilidade.
59. Nos termos do que dispõe a Lei nº 12.527/2011 – Lei de Acesso à Informação, é correto afirmar que
- (A) dados, processados ou não, que podem ser utilizados para produção e transmissão de conhecimento, contidos em qualquer meio, suporte ou formato, são considerados integridade.
 - (B) os Municípios com população igual ou superior a 12000 (doze mil) habitantes ficam dispensados da divulgação obrigatória na internet, ou de divulgação em tempo real, de informações relativas à execução orçamentária e financeira.
 - (C) a informação em poder dos órgãos e entidades públicas, observado o seu teor e em razão de sua imprescindibilidade à segurança da sociedade ou do Estado, poderá ser classificada, dentre outras, como reservada, pelo prazo de 5 (cinco) anos, a partir da data de sua produção.
 - (D) os interessados terão amplo acesso às informações pessoais, independentemente de classificação de sigilo como ultrassecreta, pelo prazo máximo de 10 (dez) anos, a contar da sua data de produção.
 - (E) qualquer interessado poderá apresentar pedido de acesso à informação de interesse público aos órgãos e entidades públicas, por qualquer meio legítimo, devendo o pedido conter a identificação do requerente e os motivos determinantes da solicitação.
60. De acordo com o Decreto Estadual nº 58.052/2012, será o órgão responsável pela fiscalização da aplicação da Lei Federal nº 12.527/2011, e desse Decreto, no âmbito da Administração Pública Estadual, sem prejuízo da atuação dos órgãos de controle interno,
- (A) a Comissão de Acesso à Informação.
 - (B) a Corregedoria Geral da Administração.
 - (C) o Serviço de Informação ao Cidadão.
 - (D) o Grupo Especial de Apoio ao Cidadão.
 - (E) a Secretaria de Gestão Pública.

