

Concurso Público

003. PROVA OBJETIVA

ANALISTA TÉCNICO CIENTÍFICO (Engenheiro Agrônomo)

- ◆ Você recebeu sua folha de respostas, este caderno, contendo 60 questões objetivas, e o caderno de prova dissertativa.
- ◆ Confira seus dados impressos na capa deste caderno e na folha de respostas.
- ◆ Quando for permitido abrir o caderno, verifique se está completo ou se apresenta imperfeições. Caso haja algum problema, informe ao fiscal da sala.
- ◆ Leia cuidadosamente todas as questões e escolha a resposta que você considera correta.
- ◆ Marque, na folha de respostas, com caneta de tinta azul ou preta, a letra correspondente à alternativa que você escolheu.
- ◆ A duração das provas objetiva e dissertativa é de 5 horas, já incluído o tempo para o preenchimento da folha de respostas e para a transcrição da resposta definitiva.
- ◆ Só será permitida a saída definitiva da sala e do prédio após transcorridos 75% do tempo de duração das provas.
- ◆ Deverão permanecer em cada uma das salas de prova os 3 últimos candidatos, até que o último deles entregue sua prova, assinando termo respectivo.
- ◆ Ao sair, você entregará ao fiscal o caderno de prova dissertativa, a folha de respostas e este caderno, podendo levar apenas o rascunho de gabarito, localizado em sua carteira, para futura conferência.
- ◆ Até que você saia do prédio, todas as proibições e orientações continuam válidas.

AGUARDE A ORDEM DO FISCAL PARA ABRIR ESTE CADERNO DE QUESTÕES.

Nome do candidato

RG

Inscrição

Prédio

Sala

Carteira

CONHECIMENTOS GERAIS

LÍNGUA PORTUGUESA

Leia o texto, para responder às questões de números 01 a 05.

McLuhan já alertava que a aldeia global resultante das mídias eletrônicas não implica necessariamente harmonia, implica, sim, que cada participante das novas mídias terá um envolvimento gigantesco na vida dos demais membros, que terá a chance de meter o bedelho onde bem quiser e fazer o uso que quiser das informações que conseguir. A aclamada transparência da coisa pública carrega consigo o risco de fim da privacidade e a superexposição de nossas pequenas ou grandes fraquezas morais ao julgamento da comunidade de que escolhemos participar.

Não faz sentido falar de dia e noite das redes sociais, apenas em número de atualizações nas páginas e na capacidade dos usuários de distinguir essas variações como relevantes no conjunto virtualmente infinito das possibilidades das redes. Para achar o fio de Ariadne no labirinto das redes sociais, os usuários precisam ter a habilidade de identificar e estimar parâmetros, aprender a extrair informações relevantes de um conjunto finito de observações e reconhecer a organização geral da rede de que participam.

O fluxo de informação que percorre as artérias das redes sociais é um poderoso fármaco viciante. Um dos neologismos recentes vinculados à dependência cada vez maior dos jovens a esses dispositivos é a “nomobofobia” (ou “pavor de ficar sem conexão no telefone celular”), descrito como a ansiedade e o sentimento de pânico experimentados por um número crescente de pessoas quando acaba a bateria do dispositivo móvel ou quando ficam sem conexão com a Internet. Essa informação, como toda nova droga, ao embotar a razão e abrir os poros da sensibilidade, pode tanto ser um remédio quanto um veneno para o espírito.

(Vinicius Romanini, Tudo azul no universo das redes. Revista USP, nº 92. Adaptado)

01. Do ponto de vista do autor, as redes sociais

- (A) são um universo ao qual os usuários resistem porque são afeitos à discrição nos relacionamentos.
- (B) preservam identidades e opiniões, sendo, portanto, ponto de referência para a busca de informações qualificadas.
- (C) garantem julgamentos justos, pela comunidade, dos usuários que nelas expõem seus hábitos e ideologias.
- (D) disponibilizam abundantes informações, o que exige que seus usuários filtrem o que de fato interessa.
- (E) condensam a infinidade de dados nelas circulantes, caracterizando-se como um meio confiável de exposição pessoal.

02. Entre os aspectos negativos que se apontam para usuários das mídias eletrônicas estão

- (A) a possibilidade de exibição da intimidade e a ansiedade devida à falta de conexão em rede.
- (B) a superposição de virtudes a grandes fraquezas morais e a ênfase ao cultivo da individualidade.
- (C) a possibilidade de imiscuir-se na vida alheia e o consumo de remédios viciantes.
- (D) o convívio ilimitado com os demais usuários da rede e o uso regulado de informações.
- (E) o envenenamento do espírito e a harmonia entre os membros do grupo de usuários.

03. A substituição do trecho destacado por aquele colocado entre parênteses está de acordo com a norma-padrão de regência verbal em:

- (A) ... e fazer o uso **que quiser** das informações que conseguir. (a que achar conveniente)
- (B) ... superexposição [...] ao julgamento da comunidade **de que escolhemos participar**. (com a qual escolhemos conviver)
- (C) ... terá a chance de **meter o bedelho onde bem quiser**... (intrometer-se aonde desejar)
- (D) McLuhan já **alertava que** a aldeia global... (prenunciava de que)
- (E) O fluxo de informação **que percorre** as artérias das redes sociais... (ao qual atravessa)

04. Assinale a alternativa em que se caracteriza o emprego de palavras em sentido figurado.

- (A) Um dos neologismos recentes vinculados à dependência cada vez maior dos jovens a esses dispositivos é a “nomobofobia”...
- (B) ... a superexposição de nossas pequenas ou grandes fraquezas morais ao julgamento da comunidade...
- (C) ... a ansiedade e o sentimento de pânico experimentados por um número crescente de pessoas quando acaba a bateria do dispositivo móvel...
- (D) ... os usuários precisam ter a habilidade de identificar e estimar parâmetros, aprender a extrair informações relevantes...
- (E) O fluxo de informação que percorre as artérias das redes sociais é um poderoso fármaco viciante.

05. As expressões destacadas nos trechos – **meter o bedelho** / **estimar** parâmetros / **embotar** a razão – têm sinônimos adequados respectivamente em:

- (A) procurar / gostar de / ilustrar
- (B) imiscuir-se / avaliar / enfraquecer
- (C) interferir / propor / embrutecer
- (D) intrometer-se / prezar / esclarecer
- (E) contrapor-se / consolidar / iluminar

Leia o texto, para responder às questões de números **06 a 09**.

A República dos Estados Unidos da Bruzundanga tinha, como todas as repúblicas que se prezam, além do presidente e juizes de várias categorias, um Senado e uma Câmara de Deputados, ambos eleitos por sufrágio direto e temporários ambos, com certa diferença na duração do mandato: o dos senadores, mais longo; o dos deputados, mais curto.

O país vivia de expedientes, isto é, de cinquenta em cinquenta anos descobria-se nele um produto que ficava sendo a sua riqueza. Os governos taxavam-no a mais não poder, de modo que os países rivais, mais parcimoniosos na decretação de impostos sobre produtos semelhantes, acabavam, na concorrência, por derrotar a Bruzundanga; e, assim, ela fazia morrer a sua riqueza, mas não sem os estertores de uma valorização duvidosa. Daí vinha que a grande nação vivia aos solavancos, sem estabilidade financeira e econômica; e, por isso mesmo, dando campo a que surgissem, a toda hora, financeiros de todos os seus cantos e, sobretudo, do seu parlamento.

Naquele ano, isto dez anos atrás, surgiu na sua Câmara um deputado que falava muito em assuntos de finanças, orçamentos, impostos diretos e indiretos e outras coisas cabalísticas da ciência de obter dinheiro para o Estado.

Chamava-se o deputado Felixhimino ben Karpatoso. Se era advogado, médico, engenheiro ou mesmo dentista, não se sabia bem; todos tratavam-no de doutor, embora nada se conhecesse dele.

(Lima Barreto, Um grande financeiro. *Os bruzundangas*. Adaptado)

06. Assinale a alternativa que reescreve passagem do texto respeitando a norma-padrão de concordância verbal e nominal.

- (A) Bastava cinquenta anos para que fosse descoberto no país produtos novos, que acabava sendo a riqueza do país.
- (B) Os mandatos de senador e deputado durava tempo diferente, sendo mais longos o dos primeiros.
- (C) Na Bruzundanga haviam Senado e Câmara de Deputados, que o povo, em massa, apoiavam confiantes.
- (D) Naquele ano, isto já faziam dez anos, surgiu um deputado muito bem falante em assuntos financeiros.
- (E) Todas as repúblicas que se prezam possuem Senado e Câmara escolhidos pelos cidadãos, o mais possível confiantes em seus representantes.

07. Observe a relação de sentido entre os trechos (I) e (II), na passagem – (I) Os governos taxavam-no a mais não poder, (II) de modo que os países rivais, mais parcimoniosos na decretação de impostos sobre produtos semelhantes, acabavam, na concorrência, por derrotar a Bruzundanga.

É correto afirmar que

- (A) o trecho (I) expressa o tempo em que ocorre o que se afirma no trecho (II).
- (B) o trecho (II) expressa a maneira como ocorre o fato afirmado no trecho (I).
- (C) o trecho (II) expressa o efeito do que se afirma no trecho (I).
- (D) o trecho (I) expressa o modo como ocorre o fato afirmado no trecho (II).
- (E) o trecho (II) expressa a causa determinante do que se afirma no trecho (I).

08. Assinale a alternativa em que os sinais de pontuação estão empregados segundo os mesmos princípios da norma-padrão adotados na passagem – com certa diferença na duração do mandato: o dos senadores, mais longo; o dos deputados, mais curto.

- (A) A separação os fez perder muita coisa: ele, a guarda dos filhos; ela, a casa em que morava com as crianças.
- (B) Há algo importante a explicar: a perda de clientes, muitos deles inadimplentes; entretanto, ninguém fala nada.
- (C) Os meios de divulgação são os seguintes: internet, mensagem de celular e jornais; com eles, atingiremos o público.
- (D) Foi o que disse o funcionário: o carregamento não chegou, ainda; e os pedidos estão se acumulando, mais e mais.
- (E) Fui reticente, mas agora me explico: meu dinheiro acabou, nada me resta; e meu pai não pode me ajudar, coitado.

09. O contexto em que, segundo a norma-padrão, o pronome “se” pode ser colocado antes ou depois do verbo, é:

- (A) ... como todas as repúblicas que se prezam...
- (B) Chamava-se o deputado Felixhimino ben Karpatoso.
- (C) ... de cinquenta em cinquenta anos descobria-se nele um produto...
- (D) ... não se sabia bem...
- (E) ... embora nada se conhecesse dele.

10. Assinale a alternativa que preenche as lacunas do texto a seguir, observando o emprego do sinal de crase e a conjugação verbal, segundo a norma-padrão.

Implantaremos um sistema capaz de levar _____ consumidores fiéis informações sobre nossas promoções, _____ partir do momento em que forem lançadas. Se _____ de recursos suficientes, anunciaremos prêmios que atraiam clientes, para que _____ incondicionalmente _____ campanhas promocionais.

- (A) aqueles ... a ... dispormos ... aderem ... as
- (B) àqueles ... a ... dispusermos ... adiram ... às
- (C) àqueles ... à ... dispusermos ... aderem ... às
- (D) aqueles ... à ... dispormos ... adiram ... as
- (E) aqueles ... a ... dispormos ... adiram ... as

11. Pretende-se dividir um grupo de 216 pessoas, sendo 126 com formação na área de exatas e 90 com formação na área de humanas, em grupos menores contendo, obrigatoriamente, elementos de cada uma dessas áreas, de modo que: (1) o número de grupos seja o maior possível; (2) cada grupo tenha o mesmo número x de pessoas com formação na área de exatas e o mesmo número y de pessoas com formação na área de humanas; e (3) cada uma das 216 pessoas participe de um único grupo. Nessas condições, e sabendo-se que no grupo não há pessoa com ambas as formações, é correto afirmar que, em cada novo grupo, a diferença entre os números de pessoas com formação em exatas e em humanas, nessa ordem, será igual a
- (A) 1.
 - (B) 2.
 - (C) 3.
 - (D) 4.
 - (E) 5.
12. Um capital foi aplicado à taxa de juros simples de 21,6% ao ano, durante 5 meses, e rendeu juros de R\$ 153,00. Desconsiderando-se taxas ou outros encargos relativos a essa aplicação, no final desse período, o montante recebido pelo aplicador foi de
- (A) R\$ 1.823,00.
 - (B) R\$ 1.833,00.
 - (C) R\$ 1.843,00.
 - (D) R\$ 1.853,00.
 - (E) R\$ 1.863,00.
13. Uma pessoa comprou um determinado produto cujo preço à vista era de R\$ 825,00. Como forma de pagamento, ela deu uma entrada de 45% do preço à vista e pagou o restante com um cheque para 30 dias, com juros de 4% sobre esse restante. O valor que essa pessoa pagou de juros, nessa compra, correspondeu a
- (A) R\$ 18,05.
 - (B) R\$ 18,10.
 - (C) R\$ 18,15.
 - (D) R\$ 18,20.
 - (E) R\$ 18,25.

14. Em uma pesquisa realizada com 300 pessoas, o número das que se declararam ser doutores em alguma área de conhecimento correspondeu a quatro unidades a mais da nona parte das que se declararam ser apenas graduadas, e o número de pessoas que se declararam ser apenas mestres correspondeu a quatro vezes o número de pessoas que se declararam ser doutores. A razão entre o número das pessoas que se declararam ser apenas graduadas e o número das que se declararam ser doutores é igual a

(A) 7,5.

(B) 7.

(C) 6,5.

(D) 6.

(E) 5,5.

15. A média das idades de um grupo de 10 pessoas é 18,7 anos. Carlos e Ana não fazem parte desse grupo, mas, inserindo-os ao grupo, a média das idades das 12 pessoas passa a ser de 19 anos. Sabendo-se que Carlos é 5 anos mais velho que Ana, e que ambos nasceram no primeiro dia do mês de janeiro, é correto afirmar que Ana nasceu no ano de

(A) 1992.

(B) 1994.

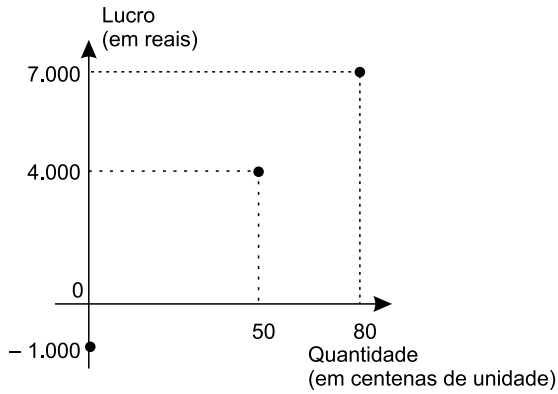
(C) 1996.

(D) 1998.

(E) 2000.

16. Em determinada casa comercial, o número de trabalhadores do gênero masculino é 4 unidades menor que o número de trabalhadores do gênero feminino. Nessa casa comercial, cada trabalhador recebeu, no final do ano passado, como brinde, um vale-presente para ser utilizado na própria loja: para os homens, o vale-presente tinha valor unitário de R\$ 120,00, e, para as mulheres, de R\$ 150,00. Sabendo-se que ao todo foi distribuído um total de R\$ 7.080,00 em vales-presentes, pode-se concluir corretamente que nessa casa comercial o valor total em vales-presentes distribuídos para os funcionários do gênero feminino foi de
- (A) R\$ 3.800,00.
 - (B) R\$ 3.900,00.
 - (C) R\$ 4.000,00.
 - (D) R\$ 4.100,00.
 - (E) R\$ 4.200,00.
17. Um terreno tem formato retangular, e a medida da sua lateral é 20% maior que a medida de sua frente. Sabendo-se que o perímetro desse terreno é 110 metros e que ele foi vendido pelo valor de R\$ 900,00 o metro quadrado, pode-se afirmar corretamente que o valor total de venda desse terreno foi
- (A) R\$ 625.500,00.
 - (B) R\$ 675.000,00.
 - (C) R\$ 700.500,00.
 - (D) R\$ 725.000,00.
 - (E) R\$ 750.500,00.
18. Todos os dias, são necessárias, em média, duas horas para cinco analistas, todos com a mesma força de trabalho, analisarem determinada quantidade Q de documentos. Em um dia em que um desses analistas não puder realizar essa tarefa, espera-se que os quatro demais, no mesmo ritmo de trabalho, realizem metade dessa tarefa em, no mínimo, 1 hora e
- (A) 15 minutos.
 - (B) 20 minutos.
 - (C) 25 minutos.
 - (D) 30 minutos.
 - (E) 35 minutos.

19. O gráfico apresenta informações do lucro, em reais, sobre a venda de uma quantidade, em centenas, de um produto em um hipermercado.



Sabendo-se que é constante a razão entre a variação do lucro e a variação da quantidade vendida e que se pretende ter um lucro total não menor que R\$ 90.500,00 em 10 dias de venda desse produto, então a média diária de unidades que deverão ser vendidas, nesse período, deverá ser, no mínimo, de

- (A) 8900.
- (B) 8950.
- (C) 9000.
- (D) 9050.
- (E) 9150.

20. Considere a seguinte tabela de desconto mensal de imposto de renda na fonte, de trabalhadores assalariados.

BASE DE CÁLCULO EM REAIS (R\$)	ALÍQUOTA EM PORCENTAGEM (%)	PARCELA A DEDUZIR EM REAIS (R\$)
Até 1.903,98	Isento	-
De 1.903,99 até 2.826,65	7,5	142,80
De 2.826,66 até 3.751,05	15	354,80
De 3.751,06 a 4.664,68	22,5	636,13
Acima de 4.664,68	27,5	869,36

Um trabalhador que teve como desconto de imposto de renda, em determinado mês de vigência da tabela, o valor de R\$ 185,20, teve uma base de cálculo que, para atingir R\$ 10.000,00, precisa ser adicionado a

- (A) R\$ 5.600,00.
- (B) R\$ 6.000,00.
- (C) R\$ 6.400,00.
- (D) R\$ 6.800,00.
- (E) R\$ 7.200,00.

21. *Justiça homologa acordo de leniência com Andrade Gutierrez*

O juiz federal Sérgio Moro homologou o acordo de leniência entre a empreiteira Andrade Gutierrez e o Ministério Público Federal.

(G1, 08.05.2016. Disponível em: <<http://goo.gl/oDf711>>. Adaptado)

Nos termos do acordo, em troca de poder continuar mantendo contratos com o poder público, a empresa

- (A) decidiu não mais financiar campanhas de candidatos e partidos políticos, assim como se comprometeu a desmontar o seu escritório de lobby em Brasília.
- (B) firmou que os seus executivos devem se manifestar apenas no que for estabelecido expressamente pelos contratos firmados, para evitar práticas de suborno e corrupção.
- (C) resolveu submeter todos os seus contratos a auditorias externas e, a título de transparência, repatriou os seus recursos depositados em paraísos fiscais.
- (D) aceitou pagar R\$ 1 bilhão em multas, além de garantir a colaboração em todas as investigações de corrupção em que possa estar envolvida.
- (E) estabeleceu limites para o valor das obras públicas das quais participará de agora em diante, evitando os projetos mais custosos e com maior risco de corrupção.

22. A Procuradoria-Geral da República ofereceu nesta sexta-feira (6 de maio) denúncia ao STJ (Superior Tribunal de Justiça) contra o governador pelos crimes de corrupção, lavagem de dinheiro e falsidade de documento particular. A acusação tem como base desdobramentos da Operação Acrônimo, que investiga um suposto esquema de financiamento ilegal de campanhas políticas.

(Folha de S.Paulo, 06.05.2016.

Disponível em: <<http://goo.gl/w0W4p1>>. Adaptado)

O governador denunciado foi

- (A) Geraldo Alckmin, de São Paulo.
- (B) Fernando Pimentel, de Minas Gerais.
- (C) Luiz Fernando Pezão, do Rio de Janeiro.
- (D) Beto Richa, do Paraná.
- (E) Flávio Dino, do Maranhão.

23. A Assembleia Legislativa de São Paulo está ocupada há mais de 36 horas por estudantes que querem a abertura de uma CPI (Comissão parlamentar de Inquérito) que investigue a máfia da merenda. Os manifestantes, em sua maioria alunos secundaristas, ocupam o plenário da Assembleia desde as 17h da última terça-feira (3 de maio).

(G1, 05.05.2016. Disponível em: <<http://goo.gl/CUUHUo>>. Adaptado)

A chamada “máfia da merenda” está relacionada à Operação Alba Branca, que investiga

- (A) o pagamento de propina por parte de grandes indústrias alimentícias de forma a se beneficiarem diretamente das compras de merenda realizadas pelo governo estadual e por algumas prefeituras municipais de São Paulo.
- (B) o superfaturamento, a lavagem de dinheiro e a evasão de divisas em direção a paraísos fiscais por parte de autoridades públicas responsáveis pela questão da merenda e da alimentação escolar.
- (C) a influência e a participação de grandes proprietários de terras, envolvidos na produção agrícola de alimentos, e que teriam subornado autoridades públicas responsáveis pela compra e fornecimento de merenda para as escolas.
- (D) a terceirização do serviço de fornecimento de merendas escolares, até então sob responsabilidade direta do Estado, e que agora, sob a alçada de empresas privadas, tem sido foco de suspeitas de corrupção.
- (E) a formação de cartel entre três cooperativas de agricultura familiar para definir vencedores em licitações de merenda escolar em municípios paulistas em um esquema de corrupção e superfaturamento no fornecimento de alimentos.

24. A polícia francesa entrou em confronto, neste sábado (9 de abril), com centenas de manifestantes em Paris, usando gás lacrimogêneo. O protesto foi um dos muitos realizados nos últimos tempos. Dezenas de milhares de manifestantes tomaram as ruas de Paris para protestar.

(Folha de S.Paulo, 09.04.2016.

Disponível em: <<http://goo.gl/ZcN4ZD>>. Adaptado)

Os protestos têm como alvo

- (A) a nova lei de refúgio e imigração, que transformou a França em um grande polo de atração de refugiados oriundos da Síria e da Líbia.
- (B) o estado de exceção, que suspende algumas garantias constitucionais em nome do combate ao terrorismo, em que a França se encontra desde os últimos atentados.
- (C) a reforma trabalhista defendida pelo governo, que pretende flexibilizar algumas leis trabalhistas tais como a duração da jornada semanal de trabalho.
- (D) a política externa francesa, bastante agressiva no Oriente Médio e muito alinhada com os EUA, o que tem provocado forte polêmica entre os franceses.
- (E) a fragilidade dos órgãos franceses de segurança, inteligência e informação, o que tem contribuído para fazer da França o alvo preferido de atentados do Isis.

25. Depois de diminuir de cinco para quatro os dias úteis do serviço público, o presidente anunciou nesta quinta-feira (14 de abril) que mudará o fuso horário do país para economizar energia. O horário de verão é mais uma medida do governo para tentar resolver a crise energética. Nos últimos meses, a seca provocada pelo El Niño diminuiu ainda mais a geração de energia, já afetada pela falta de infraestrutura.


(Folha de S.Paulo, 14.04.2016.
Disponível em: <<http://goo.gl/owB5vU>>. Adaptado)

A notícia trata da situação energética

- (A) na Venezuela.
- (B) na Bolívia.
- (C) no Paraguai.
- (D) no Peru.
- (E) no Equador.

NOÇÕES DE INFORMÁTICA

26. No Microsoft Windows 7, em sua configuração original, um usuário possui 2 arquivos texto em um diretório, chamados *notas* e *anotações*, conforme imagem a seguir.



Ao selecionar o arquivo *anotações* e pressionar a tecla F2 para renomeá-lo, o usuário digitou *notas*. Nesse caso, considerando que não é possível ter em um mesmo diretório dois arquivos com o mesmo nome e extensão, o Windows automaticamente

- (A) mescla o conteúdo dos 2 arquivos, mantendo apenas 1 arquivo chamado *notas*.
- (B) apaga o arquivo *notas* anterior e mantém apenas o novo arquivo renomeado.
- (C) sugere um novo nome *notas (2).txt* e aguarda confirmação do usuário.
- (D) altera o nome do arquivo anterior *notas* para *notas_velho* e efetua a alteração do outro arquivo de *anotações* para *notas*.
- (E) movimenta o arquivo *notas* para a pasta Meu Computador na Área de Trabalho e mantém apenas o novo arquivo renomeado.

27. Comparando dois documentos criados no Microsoft Word 2010, em sua configuração padrão, sendo um deles em modo paisagem e outro em modo retrato, mas ambos com a mesma fonte e tamanho de letra, e margens, assinale a alternativa correta.

- (A) O documento em modo paisagem tem mais caracteres por linha do que o documento em modo retrato.
- (B) O documento em modo retrato tem menos linhas do que o documento em modo paisagem.
- (C) Ambos os documentos têm a mesma quantidade de caracteres por linha.
- (D) O documento em modo paisagem tem menos caracteres por linha do que o documento em modo retrato.
- (E) O documento em modo paisagem só pode ser configurado como tamanho A4.

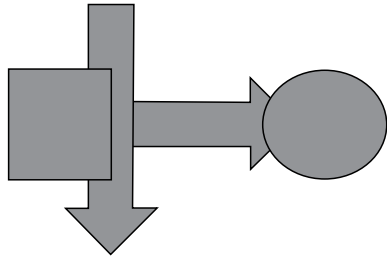
28. Uma planilha criada no Microsoft Excel 2010, em sua configuração padrão, está preenchida como se apresenta a seguir.

	A	B	C	
1	Atividade	Data Início	Cidade	
2	1	10/10/2015	São Paulo	
3	2	18/10/2015	Osasco	
4	3	22/10/2015	Guarulhos	
5	4	23/10/2015	São Paulo	
6	5	02/11/2015	São Paulo	
7	6	05/11/2015	Guarulhos	
8				
9				
10	3			
11				

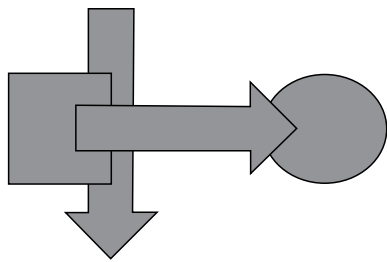
A fórmula =PROCV(A10;A2:C7;3;0), se digitada na célula B10, trará como resultado

- (A) #N/A
- (B) #ERRO
- (C) 3
- (D) Guarulhos
- (E) 22/10/2015

29. Têm-se as seguintes AutoFormas incluídas no Microsoft PowerPoint 2010, em sua configuração padrão, na sequência seta para a direita, seta para baixo, círculo, quadrado.



Assinale a alternativa que apresenta a sequência correta de operações de arrasto para alterar as AutoFormas de maneira que tenham a aparência apresentada a seguir.



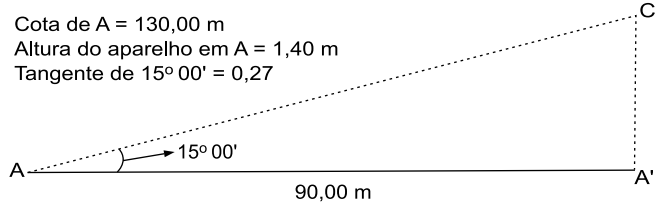
- (A) Enviar para trás quadrado, enviar para trás seta para baixo, enviar para trás seta para direita.
- (B) Trazer para frente seta para direita, enviar para trás quadrado, enviar para trás seta para baixo.
- (C) Enviar para trás círculo, enviar para trás seta para baixo.
- (D) Trazer para frente seta para direita, trazer para frente seta para baixo, trazer para frente quadrado.
- (E) Enviar para trás círculo, enviar para trás seta para direita, enviar para trás quadrado.
30. No site de pesquisas Google, quando é usado(a) um(a) _____ antes de uma palavra ou site, ele exclui os resultados de pesquisas que incluem essa palavra ou site.
- Assinale a alternativa que preenche, corretamente, a lacuna do enunciado.
- (A) asterisco
- (B) apóstrofo
- (C) símbolo de \$
- (D) hashtag
- (E) traço

CONHECIMENTOS ESPECÍFICOS

31. Determine a diferença dos rumos magnéticos sabendo que: S $44^{\circ} 41' W$ e S $43^{\circ} 17' W$.

- (A) $1^{\circ} 44'$
- (B) $-1^{\circ} 44'$
- (C) $90'$
- (D) $87^{\circ} 58'$
- (E) $84'$

32. Considere a seguinte situação encontrada no levantamento topográfico:



Calcule e assinale a cota correta de C.

- (A) 131,67 m.
- (B) 150,30 m.
- (C) 155,70 m.
- (D) 220,00 m.
- (E) 221,40 m.
33. É planta propagada por rizoma:
- (A) Bico-de-Papagaio (*Euphorbia pulcherrima*).
- (B) Espada-de-São-Jorge (*Sansevieria trifasciata*).
- (C) Camélia (*Camellia japonica*).
- (D) Cróton (*Codiaeum variegatum*).
- (E) Hibisco (*Hibiscus rosa-sinensis*).
34. Assinale a alternativa correta que apresenta a espécie arbórea que atrai fauna (mastofauna ou avifauna) de maneira comprovada e é de porte grande (acima de 10 metros).
- (A) *Bauhinia variegata* (pata-de-vaca).
- (B) *Nectandra megapotamica* (canela-preta).
- (C) *Cassia leptophylla* (falso-barbatimão).
- (D) *Handroanthus chrysotrichus* (ipê-amarelo).
- (E) *Tibouchina granulosa* (quaresmeira).

35. O cupim subterrâneo é uma das principais pragas na arborização urbana. A espécie que causa maiores lesões às plantas é a
- (A) *Cornitermes cumulans*.
 (B) *Syntermes spinosus*.
 (C) *Heterotermes tenuis*.
 (D) *Tetimatermes oliveirae*.
 (E) *Velocitermes* sp.
36. Em relação ao controle geral de pragas em plantas, é correto afirmar que
- (A) as cochinhilhas têm como inimigo natural a *Bemisia argentifolii*.
 (B) os percevejos são controlados por viroides já utilizados na agricultura.
 (C) ácaros predadores e nematoides não são utilizados no controle de pragas.
 (D) os pulgões são controlados por vespas parasitoides.
 (E) o trips não possui elemento de controle biológico.
37. Quando se aplicam 2 toneladas de calcário/ha no solo (CaO = 30%; MgO = 10%), o correspondente, em quilogramas por hectare, de cálcio tem valor igual a
- Adote:** conversão de CaO para Ca igual a 0,80
- (A) 160.
 (B) 480.
 (C) 600.
 (D) 960.
 (E) 1600.
38. Em relação as perdas totais máximas de herbicidas aplicados no solo em condições normais, é correto afirmar que
- (A) os processos de lixiviação não interferem nessa perda.
 (B) elas são maiores no escoamento superficial e na absorção.
 (C) a maior parte ocorre por volatilização.
 (D) a fotólise é a grande responsável por essas perdas.
 (E) a degradação biológica das moléculas aumenta significativamente as perdas.
39. Em relação a evapotranspiração da cultura (ETc), que pode ser calculada pela fórmula $ETc = (Kc) \times (ETo)$, é correto afirmar que
- (A) o valor de Kc é uma constante que não varia durante o desenvolvimento da cultura.
 (B) quando uma cultura fica em condições de umidade do solo acima de um ponto crítico, tem-se a evapotranspiração real menor do que a ETc.
 (C) ela também é denominada de evapotranspiração máxima quando definida para condições específicas que não afetem o crescimento/desenvolvimento da cultura.
 (D) fatores como diferenças na anatomia da folha e nas características dos estômatos não alteram os valores do ETc.
 (E) durante as fases de crescimento da área foliar, de senescência de folhas e de maturação da cultura, o Kc é sempre crescente, elevando o valor do ETc.
40. Em relação ao receituário agrônomo, é correto afirmar que
- (A) a receita poderá conter a modalidade de aplicação, com anotação de instruções específicas, quando necessário, e, obrigatoriamente, nos casos de aplicação aérea.
 (B) mediante os seus conhecimentos fitotécnicos e fitosanitários, o agrônomo pode indicar uma utilização do agrotóxico diferente daquela estabelecida no rótulo ou bula do produto.
 (C) para aplicação aérea, é obrigatória a existência na receita de pelo menos duas das quatro informações relacionadas à modalidade de aplicação.
 (D) com a utilização de papel timbrado, número nacional do CRE e CPF, a receita pode ser rubricada, dispensando-se a assinatura cartorial.
 (E) a receita só se justifica se houver efetiva participação do profissional que a subscreve.
41. Assinale a alternativa correta quanto aos índices de quantificação da diversidade de um ecossistema.
- (A) Quanto menor for o valor de H' no índice de Shannon-Weaver, maior será a diversidade florística da população em estudo.
 (B) O índice de Shannon-Weaver considera igual peso entre as espécies raras e abundantes.
 (C) O índice de dominância de Shannon-Weaver mede a probabilidade de 2 (dois) indivíduos, selecionados ao acaso na amostra, pertencer à mesma espécie.
 (D) O índice de Simpson (C) pertence ao intervalo [0,1], no qual 1 representa a máxima diversidade, ou seja, todas as espécies são igualmente abundantes.
 (E) O índice de Pielou (J') dá uma ideia geral da composição florística de uma floresta, pois indica, em média, o número de indivíduos de cada espécie que é encontrado no povoamento.

42. O princípio que define que a proteção ao meio ambiente deve ser amplamente observada pelos estados, de acordo com suas capacidades, e que, quando houver ameaça de danos sérios ou irreversíveis, a ausência de absoluta certeza científica não deve ser utilizada como razão para postergar medidas eficazes e economicamente viáveis para prevenir a degradação ambiental é o princípio
- (A) da precaução.
 - (B) do poluidor-pagador.
 - (C) de ação e casualidade.
 - (D) do contraditório.
 - (E) da insignificância.
43. O documento técnico que tem por finalidade determinar a abrangência, os procedimentos e os critérios gerais para a elaboração de estudos ambientais é o
- (A) Termo de Referência.
 - (B) Estudo Ambiental Simplificado.
 - (C) Estudo de Impacto Ambiental.
 - (D) Relatório Ambiental Preliminar.
 - (E) Relatório de Impacto Ambiental.
44. Os projetos de restauração vegetal de áreas degradadas baseiam-se no desencadeamento ou na aceleração do processo de sucessão ecológica, que
- (A) independem da presença de bancos de germoplasma no solo.
 - (B) é o processo através do qual uma espécie evolui no tempo, tendendo a se tornar, progressivamente, ocupante única de uma determinada região.
 - (C) independem da diversidade biológica.
 - (D) é o processo através do qual, espécies florestais raras ocupam determinado local, estabelecendo processo de colonização.
 - (E) é o processo por meio do qual uma comunidade evolui no tempo, tendendo a se tornar, progressivamente, mais complexa, diversificada e estável.
45. É característica do estágio sucessionial médio das formações vegetais que ocorrem na região de Mata Atlântica a
- (A) presença de epífitas, que, quando existentes, são representadas, principalmente, por líquens, briófitas e pteridófitas com baixa diversidade.
 - (B) presença de trepadeiras que, se presentes, são geralmente herbáceas.
 - (C) ausência de subosque.
 - (D) presença de fisionomia que varia de savânica a floresta baixa, podendo ocorrer estrato herbáceo e pequenas árvores, como a *Copaifera langsdorffii*, a *Myrcia spp.* e a *Tabebuia cassinoides*.
 - (E) ocorrência de arbustos ombrófilos, principalmente de espécies de rubiáceas, mirtáceas, melastomatáceas e meliáceas no subosque.
46. É categorizada como unidade de conservação de uso sustentável:
- (A) Estação Ecológica.
 - (B) Refúgio de Vida Silvestre.
 - (C) Monumento Natural.
 - (D) Parque Nacional
 - (E) Floresta Nacional.
47. Durante o processo de cadastramento de uma área rural no CAR (Cadastro Ambiental Rural) por meio dos sites dos governos estaduais, é permitido
- (A) realizar *download* da imagem do município onde está inserida a propriedade, não sendo mais possível, nessa etapa, removê-la.
 - (B) a qualquer técnico, o cadastramento de áreas de terceiros sem a necessidade de autorização por escrito.
 - (C) desenhar a sua área no mapa com imagem de base fornecida pelo sistema.
 - (D) excluir, após a finalização do processo, anexos inseridos durante o processo de cadastramento.
 - (E) declarar Autos de Infração Ambiental que não tenham relação com a adequação ambiental do imóvel.
48. Em relação a agroecologia, é correto afirmar que
- (A) ela se orienta exclusivamente pelo mercado e pela expectativa de um prêmio econômico e ambiental.
 - (B) se trata de nova tecnologia a ser aplicada em monoculturas agrícolas.
 - (C) ela troca a utilização de certos insumos de produção para atender a convenções de mercado.
 - (D) é um novo caminho para a construção de agriculturas de base ecológica ou sustentável.
 - (E) é mais produtiva e mais rentável que a agricultura tradicional.
49. O termo **malacocultura** refere-se ao cultivo de
- (A) ostras e mexilhões.
 - (B) peixes de água doce.
 - (C) peixes de água salgada.
 - (D) caranguejos.
 - (E) camarões de água doce.
50. Os valores para turbidez da água são expressos em:
- (A) UNT
 - (B) ppt
 - (C) t/km²/ano
 - (D) °C
 - (E) μS/cm

51. Na estatística, são consideradas medidas de dispersão:
- (A) média e moda.
 - (B) percentil e coeficiente de variação.
 - (C) amplitude total e percentil.
 - (D) amplitude total e desvio padrão.
 - (E) variância e média.
52. É sintoma crônico da presença da *Xanthomonas albilineans* na cana-de-açúcar:
- (A) crescimento irregular e encurtamento de colmos.
 - (B) colmos com sintomas de riscas e estrias deprimidas que podem evoluir até a necrose do tecido subepidérmico.
 - (C) coloração de pústula na página inferior das folhas que varia de amarelo a marrom-escuro.
 - (D) estrias brancas estendidas por extensas áreas do limbo foliar, podendo atingir a bainha.
 - (E) podridão vermelha interna no colmo.
53. O enrolamento da folha da batateira é causado pela presença do *Potato leafroll*, trata-se de
- (A) uma bactéria.
 - (B) um fungo.
 - (C) um príon.
 - (D) um nematoide.
 - (E) um vírus.
54. O grupo de peixes actinoptérgios caracterizado por possuir apenas uma barbatana dorsal sem espinhos, barbatana caudal furcada e uma câmara na região ótica do neurocrânio, da qual convergem canais sensoriais, é chamado de:
- (A) *clupeiformes*.
 - (B) *siluriformes*.
 - (C) *cyprinodontiformes*.
 - (D) *stephanoberyciformes*.
 - (E) *beloniformes*.
55. Uma das principais massas de ar existente sobre a América do Sul é a mEc – equatorial continental, caracterizada por formar-se
- (A) sobre o oceano, causando chuvas.
 - (B) na região amazônica (quente e úmida), causando chuvas.
 - (C) na região do Chaco (quente e seca), causando poucas chuvas.
 - (D) sobre os oceanos, causando poucas chuvas.
 - (E) na região subantártica (fria e seca), causando chuvas frontais.
56. O instrumento utilizado para medir a radiação solar, que possui como elemento sensor uma placa com uma série de termopares (termopilha) e tem parte das junções enegrecida (junções quentes) e parte branca (junções frias), é o
- (A) Piranômetro de Termopar.
 - (B) Actinógrafo de Robitzsch.
 - (C) Piranômetro de Fotodiodo de Silício.
 - (D) Heliógrafo tipo Campbell-Stokes.
 - (E) Sensor Quântico.
57. Para que ocorra evaporação da água há a necessidade de energia. Essa energia é chamada de calor latente de vaporização (λE), que, em média, corresponde a:
- (A) 0,75 MJ/kg (a 28 °C).
 - (B) 1,45 MJ/kg (a 28 °C).
 - (C) 2,45 MJ/kg (a 20 °C).
 - (D) 8,35 MJ/kg (a 20 °C).
 - (E) 10,35 MJ/kg (a 24 °C).
58. A importância do contexto espacial sobre os processos ecológicos e a sua relação com a conservação biológica, aliadas à gestão de territórios, são conceitos que definem a
- (A) Biologia da Conservação.
 - (B) Ecofisiologia.
 - (C) Agroecologia.
 - (D) Demoecologia.
 - (E) Ecologia da Paisagem.

59. Nos termos do que dispõe a Lei nº 12.527/2011 – Lei de Acesso à Informação, é correto afirmar que

- (A) dados, processados ou não, que podem ser utilizados para produção e transmissão de conhecimento, contidos em qualquer meio, suporte ou formato, são considerados integridade.
- (B) os Municípios com população igual ou superior a 12000 (doze mil) habitantes ficam dispensados da divulgação obrigatória na internet, ou de divulgação em tempo real, de informações relativas à execução orçamentária e financeira.
- (C) a informação em poder dos órgãos e entidades públicas, observado o seu teor e em razão de sua imprescindibilidade à segurança da sociedade ou do Estado, poderá ser classificada, dentre outras, como reservada, pelo prazo de 5 (cinco) anos, a partir da data de sua produção.
- (D) os interessados terão amplo acesso às informações pessoais, independentemente de classificação de sigilo como ultrassecreta, pelo prazo máximo de 10 (dez) anos, a contar da sua data de produção.
- (E) qualquer interessado poderá apresentar pedido de acesso à informação de interesse público aos órgãos e entidades públicas, por qualquer meio legítimo, devendo o pedido conter a identificação do requerente e os motivos determinantes da solicitação.

60. De acordo com o Decreto Estadual nº 58.052/2012, será o órgão responsável pela fiscalização da aplicação da Lei Federal nº 12.527/2011, e desse Decreto, no âmbito da Administração Pública Estadual, sem prejuízo da atuação dos órgãos de controle interno,

- (A) a Comissão de Acesso à Informação.
- (B) a Corregedoria Geral da Administração.
- (C) o Serviço de Informação ao Cidadão.
- (D) o Grupo Especial de Apoio ao Cidadão.
- (E) a Secretaria de Gestão Pública.

