



PREFEITURA DO MUNICÍPIO DE SÃO PAULO
SECRETARIA DE SERVIÇOS
AUTORIDADE MUNICIPAL DE LIMPEZA URBANA – AMLURB

CONCURSO PÚBLICO

006. PROVA OBJETIVA

ANALISTA FISCAL DE SERVIÇOS

- ◆ Você recebeu sua folha de respostas e este caderno contendo 60 questões objetivas.
- ◆ Confira seus dados impressos na capa deste caderno e na folha de respostas.
- ◆ Quando for permitido abrir o caderno, verifique se está completo ou se apresenta imperfeições. Caso haja algum problema, informe ao fiscal da sala.
- ◆ Leia cuidadosamente todas as questões e escolha a resposta que você considera correta.
- ◆ Marque, na folha de respostas, com caneta de tinta azul ou preta, a letra correspondente à alternativa que você escolheu.
- ◆ A duração da prova é de 3 horas e 30 minutos, já incluído o tempo para o preenchimento da folha de respostas.
- ◆ Só será permitida a saída definitiva da sala e do prédio após transcorridos 75% do tempo de duração da prova.
- ◆ Deverão permanecer em cada uma das salas de prova os 3 últimos candidatos, até que o último deles entregue sua prova, assinando termo respectivo.
- ◆ Ao sair, você entregará ao fiscal a folha de respostas e este caderno, podendo levar apenas o rascunho de gabarito, localizado em sua carteira, para futura conferência.
- ◆ Até que você saia do prédio, todas as proibições e orientações continuam válidas.

AGUARDE A ORDEM DO FISCAL PARA ABRIR ESTE CADERNO DE QUESTÕES.

Nome do candidato

Prédio

Sala

Carteira

Inscrição

- 55.** A prestação de serviços pode ser centralizada ou descentralizada, este último caso se dá quando o Estado transfere a titularidade ou a execução a outras pessoas, por outorga ou por delegação, às autarquias, entidades paraestatais ou empresas privadas, podendo ser, por delegação, da seguinte forma:
- (A) desconcentrado, quando o poder de decisão e os serviços são distribuídos por vários órgãos distribuídos por todo o território da administração centralizada. Não ocorre no Brasil.
 - (B) concessão, por meio da qual o Estado transfere a alguém o desempenho de um serviço público, proporcionando ao concessionário a possibilidade de cobrança de tarifa aos usuários.
 - (C) autorização, que compreende administrativo discricionário e precário pelo qual o Poder Público torna possível ao particular a realização de certa atividade, serviço ou utilização de determinados bens particulares ou públicos.
 - (D) concentrada, quando apenas os órgãos centrais detêm o poder de decisão e da prestação dos serviços, sendo uma das formas mais frequentemente adotadas no Brasil.
 - (E) permissão de serviço público, ato unilateral, precário e discricionário, por meio do qual o Poder Público delega a alguém o exercício de um serviço público e este aceita prestá-lo em nome do Poder Público sob condições fixadas e alteráveis unilateralmente pelo Estado, mas por sua conta e risco.
- 56.** Os resíduos da construção civil, classificados nas Classes A, B, C e D, deverão ser triados nos locais de geração ou em áreas receptoras e deverão receber a destinação prevista nas normas técnicas. Assim,
- (A) os resíduos designados como Classe D poderão ser destinados a organizações sociais ou empreendimentos responsáveis pelo seu adequado manejo e encaminhamento para reutilização ou reciclagem.
 - (B) ficarão dispensadas dessa exigência as obras de caráter paisagístico, as situações em que ocorra a oferta de agregados reciclados e situações em que estes agregados tenham preços inferiores aos dos agregados naturais.
 - (C) as especificações técnicas e editais de licitação para obras públicas municipais e estaduais deverão fazer, quando possível, menção ao dispositivo da lei e a sua regulamentação.
 - (D) resíduos designados como Classe A deverão ser prioritariamente reutilizados ou reciclados, obedecendo as normas técnicas, sendo, se inviáveis estas operações, conduzidos a Aterros de Resíduos da Construção Civil licenciados.
 - (E) os resíduos de natureza orgânica, designados como Classe C, deverão ser reutilizados ou reciclados, sendo, se inviáveis estas operações, conduzidos a Aterros de Resíduos da Construção Civil licenciados.
- 57.** Entende-se como Resíduos Gerais Não Recicláveis aqueles que não podem ser reutilizados após transformação química ou física, por ainda não existir tecnologia para o tipo específico de material, tais como, entre outros:
- (A) adesivos, etiquetas, fita crepe, papel carbono, fotografias, livros e jornais.
 - (B) espelhos, cristal, copos de vidro e potes de vidro para conservas alimentícias.
 - (C) cabos plásticos de painéis, caixas plásticas de tomadas e madeiras em geral.
 - (D) baterias de celulares, pilhas, teclados plásticos de computadores e fios da rede elétrica.
 - (E) clipes, grampos, esponjas de aço, latas de tinta e de combustíveis.
- 58.** A rota tecnológica do Plano de Gestão Integrada de Resíduos Sólidos (PGIRS) da Cidade de São Paulo implica
- (A) na instalação de locais específicos para entrega de resíduos urbanos recicláveis.
 - (B) na mínima retenção dos resíduos sólidos domiciliares orgânicos nas fontes geradoras.
 - (C) no fim da coleta indiferenciada de resíduos urbanos e resíduos a eles equiparados.
 - (D) na redução do volume de rejeitos em lixões pelo tratamento físico dos resíduos urbanos oriundos da coleta seletiva.
 - (E) na punição, por meio de multa e restrição de direitos, ao consumo público de produtos não recicláveis.
- 59.** Para atrair clientes, um estabelecimento comercial anunciou a distribuição gratuita de sacolas plásticas descartáveis. Houve uma denúncia, e a fiscalização foi acionada. Nesse caso, o estabelecimento pode ser notificado por cometer uma infração administrativa com base na Lei Municipal
- (A) nº 54.991/2014.
 - (B) nº 13.847/2004.
 - (C) nº 55.827/2015.
 - (D) nº 15.374/2011.
 - (E) nº 13.298/2002.
- 60.** A responsabilidade pelo gerenciamento do lixo domiciliar, comercial e industrial em quantidade até 50 kg ou 100 L é, respectivamente, do/da
- (A) gerador, prefeitura e gerador.
 - (B) prefeitura, prefeitura e gerador.
 - (C) prefeitura, prefeitura e prefeitura.
 - (D) gerador, gerador e prefeitura.
 - (E) prefeitura, gerador e prefeitura.

49. O Município abriu um processo licitatório para a contratação de determinado serviço, mas não acudiram interessados nessa licitação. Caso o Município não possa, justificadamente, repetir a licitação sem prejuízo para a Administração, mantidas, neste caso, todas as condições preestabelecidas, é correto afirmar, nos termos da Lei nº 8.666/93, que

- (A) o contrato anterior deverá ser renovado por prazo indeterminado, até que haja uma nova contratação.
- (B) a contratação do serviço poderá ser feita diretamente, por inexigibilidade de licitação.
- (C) a contratação poderá ser feita diretamente, sendo dispensável a licitação.
- (D) deverá ser contratada uma nova empresa para prestar o serviço em caráter emergencial por tempo indeterminado.
- (E) o serviço deverá ser prestado pelos servidores efetivos do Município.

50. A Administração Pública atrasou os pagamentos devidos por serviços prestados, contratados por meio de processo licitatório. A Lei nº 8.666/93 estabelece, nessa hipótese, que

- (A) o contratado poderá rescindir unilateralmente o contrato a qualquer tempo, pelo princípio do contrato não cumprido, independentemente do tempo de atraso dos pagamentos.
- (B) o contratado deverá continuar prestando o serviço até o final do contrato, uma vez que o princípio da continuidade do serviço público impede que haja interrupção do contrato.
- (C) o contratado deverá continuar prestando o serviço até o prazo máximo de 120 dias, sem interrupção, mas a Administração deverá ressarcir todos os eventuais prejuízos que o contratado possa ter tido com o atraso no recebimento.
- (D) o contrato poderá ser rescindido, caso o atraso seja superior a 60 dias, assegurado ao contratado o direito de optar pela suspensão do cumprimento de suas obrigações até que seja normalizada a situação.
- (E) se o atraso for superior a 90 dias, o contrato poderá ser rescindido, assegurado ao contratado o direito de optar pela suspensão do cumprimento de suas obrigações até que seja normalizada a situação.

51. São obrigados a elaborar e cumprir um Plano de Gerenciamento de Resíduos Sólidos (PGRS):

- (A) supermercados, distribuidores de água de reúso e construtoras.
- (B) empresas de saneamento, mineradoras e hospitais.
- (C) parques públicos, praças e zoológicos.
- (D) clínicas de vacinação, bares e restaurantes.
- (E) museus, condomínios empresariais e beneficiadoras de grãos.

52. A elaboração de plano municipal de gestão integrada de resíduos sólidos é condição para que os entes federados tenham acesso a recursos da União, sendo priorizados, nesse sentido, os municípios que

- (A) optarem por soluções consorciadas intermunicipais para a gestão dos resíduos sólidos.
- (B) implantarem a coleta seletiva com a participação de empresas, públicas ou privadas, de materiais reutilizáveis e recicláveis.
- (C) tiverem mais de 20 000 habitantes.
- (D) estiverem inseridos na área de influência direta de empreendimentos ou atividades com significativo impacto ambiental.
- (E) tenham seu território abrangendo, total ou parcialmente, uma Unidade de Conservação Integral.

53. Pela legislação do Município de São Paulo, os grandes geradores de resíduos sólidos inertes, tais como entulhos, terra e materiais de construção,

- (A) são aqueles proprietários, possuidores ou titulares de estabelecimentos comerciais ou industriais que gerem resíduos sólidos Classe 1 em quantidade superior a 1 000 L ou 100 kg diários.
- (B) devem atualizar o cadastro junto à AMLURB em 30 dias, sempre que houver alteração na quantidade de resíduos sólidos gerados.
- (C) deverão contratar órgãos públicos para a execução dos serviços de coleta, transporte, tratamento e destinação final dos resíduos.
- (D) podem depositar seus resíduos em locais próprios para coleta de resíduos domiciliares ou de serviços de saúde, dependendo da quantidade gerada por dia.
- (E) ficam obrigados a se cadastrar junto à AMLURB quando a geração de resíduos Classe C for superior a 5 000 L ou 500 kg diários.

54. Visando minimizar odores e atração de animais sinantrópicos, entre outras finalidades, a colocação de resíduos sólidos acondicionados na calçada, no período diurno, deve ser feita até no máximo _____ hora(s) imediatamente antes do horário previsto da coleta regular.

Assinale a alternativa cuja palavra preenche, corretamente, a lacuna do texto.

- (A) quatro
- (B) uma
- (C) duas
- (D) oito
- (E) doze

CONHECIMENTOS GERAIS

LÍNGUA PORTUGUESA

01. Leia a charge.



(Gazeta do Povo, 03.02.2016)

O pensamento da personagem sugere que ela

- (A) apresenta autoestima baixa.
- (B) vangloria-se perante o mundo.
- (C) despreza qualquer forma de lixo.
- (D) exige o melhor para si.
- (E) é avessa à humildade.

Leia o texto para responder às questões de números 02 a 08.

O mundo vive hoje um turbilhão de sentimentos e reações no que diz respeito aos refugiados. Trata-se de uma enorme tragédia humana, à qual temos assistido pela TV no conforto de nossas casas.

Imagens dramáticas mostram famílias inteiras, jovens, crianças e idosos chegando à Europa em busca de um lugar supostamente mais seguro para viver. Embora os refugiados da Síria tenham ganhado maior destaque, existem ainda os refugiados africanos e os latino-americanos.

Dentro da América Latina, vemos grandes migrações, uma marcha de pessoas que buscam o refúgio, mas que terminam em uma espécie de exílio.

O Brasil, que sempre se destacou por sua capacidade de acolher diferentes culturas, apresenta uma das sociedades com maior diversidade. Podemos afirmar nossa capacidade de lidar com o multiculturalismo com bastante naturalidade, embora, muitas vezes, a questão seja tratada de maneira superficial. Por outro lado, o preconceito existente, antes disfarçado, deixou de ser tímido e passou a se manifestar de forma aberta e hostil.

Comparado a outros países, o Brasil não recebe um número elevado de refugiados, e a maioria da sociedade brasileira aceita-os, acreditando que é possível fazer algo para ajudá-los, mesmo diante do momento crítico da economia e da política.

Diante desse cenário, destacam-se as iniciativas de solidariedade, de forma objetiva e praticada por jovens estudantes de nossas universidades. Com a cabeça aberta e o respeito ao diferente, muitos deles manifestam uma visão de mundo que permite acreditar em transformações sociais de base.

(Soraia Smaili, Refugiados no Brasil: entre o exílio e a solidariedade. Em: cartacapital.com.br. 02.02.2016. Adaptado)

02. De acordo com o texto, a situação vivenciada pelos refugiados, no Brasil, é

- (A) encarada, muitas vezes, sem levar em consideração a profundidade que o problema implica, e contaminada de certas atitudes de preconceito.
- (B) menos traumática, porque aqui as pessoas entendem as dificuldades a que estão expostos e é notória a inexistência de preconceito.
- (C) amenizada pelo acolhimento que recebem da maior parte da sociedade, ainda que eles se mostrem hostis com aqueles que querem ajudá-los.
- (D) normal para a maior parte das pessoas que, saindo de sua zona de conforto, dedicam-se a acolher, sem restrições, aqueles que buscam uma vida melhor.
- (E) conturbada com frequência, pois aqui, cada vez mais, cresce o preconceito velado em relação às pessoas que buscam uma vida melhor.

03. Observe as passagens do texto:

O mundo vive hoje um **turbilhão** de sentimentos e reações... (1º parágrafo);

... em busca de um lugar **supostamente** mais seguro para viver. (2º parágrafo);

... e passou a se manifestar de forma **aberta** e hostil. (4º parágrafo).

No contexto em que estão empregados, os termos em destaque significam, respectivamente:

- (A) bonança, provavelmente e manifesta.
- (B) reviravolta, indubitavelmente e transparente.
- (C) serenidade, possivelmente e exposta.
- (D) intensidade, hipoteticamente e latente.
- (E) agitação, pretensamente e declarada.

04. Em conformidade com a norma-padrão, assinale a alternativa que dá correta sequência à frase: Trata-se de uma enorme tragédia humana,

- (A) de cujas informações recebemos no conforto de nossas casas.
- (B) a qual buscamos informações no conforto de nossas casas.
- (C) sobre a qual obtemos informações no conforto de nossas casas.
- (D) à qual ficamos sabendo a respeito no conforto de nossas casas.
- (E) pela qual ouvimos falar na mídia no conforto de nossas casas.

05. Nas universidades, as iniciativas de solidariedade visam oferecer apoio _____ precisa, com respeito _____ diferenças, entendendo-se que não se deve negar _____ um refugiado _____ esperança por uma vida melhor.

De acordo com a norma-padrão, as lacunas da frase devem ser preenchidas, respectivamente, com:

- (A) aquele que ... à ... a ... à
- (B) àquele que ... às ... a ... a
- (C) à quem ... às ... à ... à
- (D) a quem ... as ... à ... a
- (E) àquele que ... as ... a ... à

06. Mantendo-se o sentido da conjunção e respeitando-se a norma-padrão, o trecho – Embora os refugiados da Síria tenham ganhado maior destaque, existem ainda os refugiados africanos e os latino-americanos. – está corretamente reescrito com os verbos no pretérito em:

- (A) Ainda que os refugiados da Síria tivessem ganhado maior destaque, havia ainda os refugiados africanos e os latino-americanos.
- (B) Posto que os refugiados da Síria tiveram ganhado maior destaque, têm ainda os refugiados africanos e os latino-americanos.
- (C) Se bem que os refugiados da Síria teriam ganhado maior destaque, haviam ainda os refugiados africanos e os latino-americanos.
- (D) À medida que os refugiados da Síria tinham ganhado maior destaque, tinha ainda os refugiados africanos e os latino-americanos.
- (E) Já que os refugiados da Síria tiveram ganhado maior destaque, haveria ainda os refugiados africanos e os latino-americanos.

07. Assinale a alternativa correta quanto à colocação pronominal, conforme a norma-padrão.

- (A) Quando dão-se conta da situação dos refugiados, as pessoas já põem-se a acolhê-los sem discriminação.
- (B) No Brasil, vê-se que o número de refugiados não é tão grande. Aceita-os, sem restrição, boa parte da população.
- (C) Se veem imagens dramáticas dos refugiados na TV. Não trata-se de ficção: é a pura realidade.
- (D) Têm visto-se turbilhões de refugiados. O mundo os vê se deslocarem em busca de uma vida melhor.
- (E) Os refugiados buscam uma vida melhor. Discriminaria-os aqueles que desconhecem a solidariedade.

08. Observando as grandes migrações na América Latina, fica evidente que _____, apesar de todos _____.

Assinale a alternativa cujas informações preenchem, correta e respectivamente, as lacunas da frase, de acordo com a norma-padrão.

- (A) ainda está presente a discriminação e a falta de solidariedade ... ser herdeiro dos mesmos processos colonizador
- (B) a discriminação e a falta de solidariedade ainda estão presente ... sermos herdeiros dos mesmos processos colonizadores
- (C) a discriminação e a falta de solidariedade ainda estão presentes ... sermos herdeiros dos mesmos processos colonizadores
- (D) a discriminação e a falta de solidariedade ainda está presente ... sermos herdeiro dos mesmos processos colonizadores
- (E) ainda estão presentes a discriminação e a falta de solidariedade ... ser herdeiros dos mesmos processos colonizador

Leia a tira para responder às questões de números 09 e 10.



(Jim Daves. Folha de S.Paulo, 27.01.2016. Adaptado)

09. De acordo com a norma-padrão, a frase que completa adequadamente o balão do segundo quadrinho é:

- (A) Ei, Garfield, quer me ver arrumar a gaveta de meias?
- (B) Ei, quer ver eu arrumar, a gaveta de meias Garfield!?
- (C) Ei Garfield, quer me ver arrumar, a gaveta de meias?
- (D) Ei, quer ver eu, arrumar a gaveta de meias, Garfield.
- (E) Ei Garfield quer ver eu arrumar, a gaveta de meias?

10. Os pensamentos do gato, no 1º e no 3º quadrinhos, revelam que ele

- (A) lamenta a ojeriza que o dono desenvolveu por ele com o passar do tempo.
- (B) pretende viver em um clima bastante amistoso com o seu dono.
- (C) considera que todo momento junto ao dono tem seu lado positivo.
- (D) explicita sua crítica ao dono em relação ao convite que este lhe fez.
- (E) mostra a convergência entre os seus interesses e os do seu dono.

43. De acordo com as normas gerais para licitação e contratação de parceria público-privada no âmbito da administração pública, é hipótese permitida de celebração desse tipo de contrato

- (A) que tenha como objeto único o fornecimento e instalação de equipamentos.
- (B) cujo valor seja inferior a vinte milhões de reais.
- (C) que tenha como objeto único o fornecimento de mão de obra.
- (D) que tenha como objeto único a execução de obra pública.
- (E) cujo período de prestação do serviço seja superior a cinco anos.

44. Assinale a alternativa que contempla duas áreas em que a Administração Pública pode firmar um contrato de gestão com uma organização social.

- (A) Cultura e saúde.
- (B) Preservação do meio ambiente e administração da justiça.
- (C) Administração e gerenciamento de rodovias e pesquisa científica.
- (D) Ensino universitário e administração de obras públicas.
- (E) Desenvolvimento tecnológico e segurança pública.

45. Considerando o que dispõe a legislação brasileira, na hipótese de a Administração Pública constatar a ilegalidade de um ato administrativo praticado por um servidor público, é correto firmar que o ato

- (A) deve ser revogado pela administração, e o servidor deve responder pelos danos causados.
- (B) é passível de ser anulado pela própria administração.
- (C) pode ser anulado pela própria administração, desde que tenha causado danos materiais a terceiros.
- (D) deve ser revogado pela Administração, e o poder público responderá pelos danos causados, podendo cobrar os prejuízos do servidor em ação regressiva.
- (E) somente pode ser anulado pelo Poder Judiciário, mas a Administração e o servidor responderão pelos danos causados a terceiros.

46. Considerando as diferentes espécies de processos administrativos, quando a Administração apura e pune as faltas cometidas pelos servidores públicos no exercício de sua função administrativa, ela o faz por meio

- (A) do processo administrativo disciplinar.
- (B) da sindicância administrativa.
- (C) da apuração preliminar administrativa.
- (D) do processo administrativo inquisitivo.
- (E) do processo jurídico-administrativo sancionador.

47. Conforme o que dispõe o Plano Diretor Estratégico do Município de São Paulo, o Imposto Predial e Territorial Urbano Progressivo no Tempo é um instrumento que tem por objetivo

- (A) induzir os proprietários de imóveis a regularizarem suas construções.
- (B) cobrar os valores de impostos municipais em atraso.
- (C) implantar uma política que vise punir os proprietários de imóveis de maior valor em benefício dos mais pobres.
- (D) induzir ao atendimento da função social da propriedade.
- (E) exigir dos proprietários dos imóveis que usem estrategicamente seus imóveis.

48. O Plano Diretor Estratégico do Município de São Paulo estabelece, quanto ao direito de preempção:

- (A) não poderá ser exercido para aquisição de imóvel urbano objeto de alienação onerosa entre particulares.
- (B) serão definidos em decreto do Chefe do Poder Executivo Municipal os imóveis ou áreas que estarão sujeitos a incidência do direito de preempção.
- (C) poderá ser utilizado apenas para a aquisição de áreas ou terrenos não edificados e prédios desocupados ou abandonados.
- (D) é vedada a utilização do direito de preempção em áreas ainda sujeitas à regularização fundiária.
- (E) poderá ser utilizado, entre outros objetivos, para a criação de espaços públicos de lazer ou áreas verdes.

37. Assinale a alternativa que contempla uma atribuição privativa do Presidente da República que a Constituição permite seja delegada aos Ministros de Estado, ao Procurador-Geral da República ou ao Advogado-Geral da União.

- (A) Vetar projetos de lei, total ou parcialmente.
- (B) Editar medidas provisórias com força de lei, nos termos do art. 62 da Constituição Federal.
- (C) Iniciar o processo legislativo, na forma e nos casos previstos na Constituição.
- (D) Conferir condecorações e distinções honoríficas.
- (E) Conceder indulto e comutar penas, com audiência, se necessário, dos órgãos instituídos em lei.

38. Segundo o que dispõe a Constituição Federal, a ação direta de inconstitucionalidade de lei ou ato normativo federal ou estadual

- (A) poderá ser ajuizada por qualquer cidadão para anular ato que atente contra a moralidade administrativa.
- (B) poderá ser ajuizada, dentre outras pessoas e órgãos, pelo Advogado-Geral da União.
- (C) será ajuizada, privativamente, pelo Procurador-Geral da República perante o Supremo Tribunal Federal.
- (D) produzirá efeito vinculante, após decisão definitiva de mérito, relativamente aos demais órgãos do Judiciário e à administração pública.
- (E) será processada e julgada, originariamente, perante o Superior Tribunal de Justiça.

39. Considerando os inúmeros casos de doenças causadas pelo mosquito *Aedes aegypti* que assolam o país, determinada Prefeitura pretende contratar agentes comunitários de saúde e agentes de combate às endemias, emergencialmente, com o objetivo de minorar esse problema dentro do território do Município. Considerando o que dispõe a Constituição Federal sobre a matéria, é correto afirmar que a pretendida contratação

- (A) pode ser feita por meio de processo seletivo público, de acordo com a natureza e complexidade de suas atribuições e requisitos específicos para sua atuação.
- (B) pode ser feita sem concurso ou processo seletivo públicos, uma vez que os cargos, empregos e funções na área da saúde dispensam essa exigência para as respectivas contratações.
- (C) deve ser feita, obrigatoriamente, por meio de concurso público de provas ou de provas e títulos, mas por tempo determinado, até que o problema de saúde pública seja debelado.
- (D) pode ser feita sem concurso público, por contratação direta para cargo em comissão de livre nomeação e exoneração.
- (E) deve ser feita, obrigatoriamente, por meio de concurso público de provas ou de provas e títulos, exigido para o preenchimento de cargo, função ou emprego públicos.

40. Em relação a esse tipo de serviço público, o Estado reconhece sua conveniência à comunidade, embora não essencial, e o Estado o presta diretamente ou por terceiros delegados, mediante remuneração, regulamentado e controlado pelo poder público, por conta e risco dos prestadores. Considerando a sua classificação e as suas características, a definição acima diz respeito aos serviços públicos denominados de

- (A) *uti universi*.
- (B) próprios do Estado.
- (C) utilidade pública.
- (D) privativos do Estado.
- (E) administrativos.

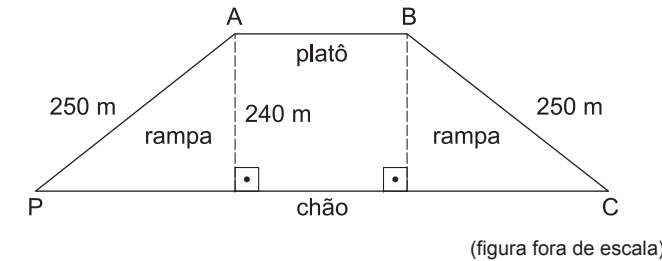
41. Firmado um contrato de concessão de serviço público, surge, durante sua execução, uma disputa entre as partes relacionada ao contrato. Nos termos da legislação vigente no Brasil, é correto afirmar que essa disputa

- (A) deve ser resolvida ao final do contrato.
- (B) deve resultar no desfazimento do contrato.
- (C) deve, obrigatoriamente, ser resolvida pelo Poder Judiciário.
- (D) pode ser resolvida por arbitragem.
- (E) autoriza a rescisão unilateral do contrato por qualquer uma das partes.

42. Extinta a concessão do serviço público, a lei estabelece que os bens reversíveis

- (A) devem ser vendidos em leilão, e o produto de sua arrecadação reverterá em favor do poder público.
- (B) retornam ao poder concedente, conforme previsto no edital e estabelecido no contrato.
- (C) devem ser vendidos em leilão, e o produto de sua arrecadação reverterá em favor da concessionária.
- (D) devem ser vendidos em leilão, e o produto de sua arrecadação reverterá metade em favor do poder público e metade em favor da concessionária.
- (E) continuarão sendo de propriedade da concessionária que, no entanto, poderá reverter em favor do poder concedente mediante a devida indenização.

11. No percurso de um ponto de partida P até um ponto de chegada C, passando pelos pontos A e B, percorrem-se duas rampas oblíquas e retas, de 250 metros cada uma, e com mesma inclinação em relação ao chão retilíneo. Sabe-se que a altura do platô retilíneo, paralelo ao chão, é de 240 metros, como indica a figura.

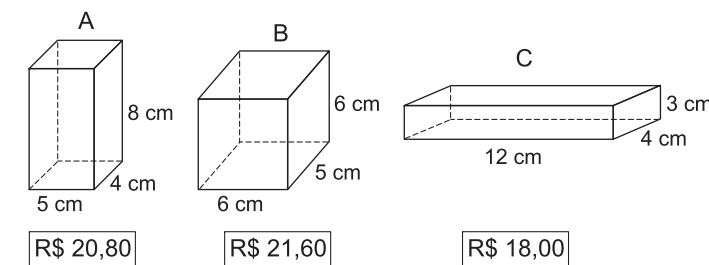


(figura fora de escala)

Sabe-se que a extensão do platô (segmento AB) é igual à altura do platô em relação ao chão. Nas condições dadas, se o percurso entre P e C pudesse ser realizado diretamente sobre o chão, seu comprimento seria menor do que o percurso de P até C, que passa pelas duas rampas e pelo platô, em exatos

- (A) 420 m.
- (B) 360 m.
- (C) 380 m.
- (D) 350 m.
- (E) 400 m.

12. Um mesmo chocolate culinário é vendido em barras com três opções de tamanhos (A, B e C), todas em forma de paralelepípedo reto retângulo, com medidas das barras e respectivos preços de cada uma indicados na figura a seguir.



(figuras fora de escala)

Sabendo-se que cada cm^3 dessas barras contém a mesma massa de chocolate e considerando o valor pago por cm^3 , as barras que são menos e mais vantajosas são, respectivamente,

- (A) C e B.
- (B) C e A.
- (C) A e C.
- (D) B e C.
- (E) A e B.

13. No depósito de uma empresa existem 4 620 peças idênticas. Para envio das peças ao distribuidor, todas elas serão acondicionadas em caixas pequenas que, por sua vez, serão acondicionadas em caixas médias que, por sua vez, serão acondicionadas em caixas grandes. Serão 12 peças por caixa pequena, x caixas pequenas por caixa média, e 7 caixas médias por caixa grande. Sabe-se que x é um número menor do que o número de peças por caixa pequena, e maior do que o número de caixas médias por caixa grande. O número de caixas grandes para realizar a tarefa sem que falem ou sobrem peças é igual a

- (A) 2.
- (B) 7.
- (C) 6.
- (D) 3.
- (E) 5.

14. Cinquenta tachinhas coloridas (brancas, azuis, vermelhas, verdes e amarelas) foram soltas ao acaso no chão, sendo verificado se elas caíram com a ponta virada para cima ou para baixo. Os dados do experimento estão indicados na tabela a seguir.



COR	PONTA PARA CIMA	TOTAL NA COR
branca	10	13
azul	6	8
vermelha	9	16
verde	6	7
amarela	4	6

De acordo com a tabela, a porcentagem de tachinhas brancas, dentre as que caíram com a ponta virada para baixo, no experimento, foi igual a

- (A) 20%.
- (B) 26%.
- (C) 15%.
- (D) 16%.
- (E) 9%.

CONHECIMENTOS ESPECÍFICOS

31. “Esse princípio acaba completando a ideia já analisada de que o administrador é um executor do ato, que serve de veículo de manifestação da vontade estatal e, portanto, as realizações administrativo-governamentais não são do agente político, mas da entidade pública em nome da qual atuou” (José Afonso da Silva). O autor, na conceituação supra, está tratando do princípio constitucional da Administração Pública denominado de princípio da

- (A) eficiência.
- (B) identidade física do administrador.
- (C) supremacia do interesse público.
- (D) moralidade.
- (E) impessoalidade.

32. Considerando o que estabelece a Constituição Federal a respeito dos Direitos e Garantias Fundamentais, é correto afirmar que

- (A) todos podem reunir-se pacificamente, sem armas, em locais abertos ao público, desde que não frustrem outra reunião anteriormente convocada para o mesmo local, sendo, todavia, exigida a prévia autorização da autoridade competente.
- (B) a casa é asilo inviolável do indivíduo, ninguém nela podendo penetrar sem consentimento do morador, salvo em caso de flagrante delito ou desastre, ou para prestar socorro, ou, durante a noite, por determinação judicial.
- (C) no caso de iminente perigo público, a autoridade competente poderá usar de propriedade particular, não cabendo, neste caso, qualquer tipo de indenização ao proprietário, mesmo se houver dano.
- (D) as associações só poderão ser compulsoriamente dissolvidas ou ter suas atividades suspensas por decisão judicial, exigindo-se, no primeiro caso, o trânsito em julgado.
- (E) é assegurado a todos o acesso à informação e resguardado o sigilo da fonte, quando necessário ao exercício profissional, exceto nas hipóteses previstas em lei federal.

33. Nos termos da Constituição da República, sempre que a falta de norma regulamentadora torne inviável o exercício dos direitos e das liberdades constitucionais e das prerrogativas inerentes à nacionalidade, à soberania e à cidadania,

- (A) conceder-se-á mandado de injunção.
- (B) será cabível o ajuizamento do *habeas data*.
- (C) o prejudicado poderá impetrar *habeas corpus*.
- (D) caberá ação popular.
- (E) o cidadão poderá impetrar mandado de segurança.

34. Fulano da Silva tem 16 anos de idade e pretende conseguir um trabalho remunerado com registro em carteira. Considerando o que dispõe o texto constitucional, é correto afirmar que Fulano

- (A) somente poderá trabalhar, com essa idade, na condição de aprendiz.
- (B) não poderá trabalhar legalmente, uma vez que a Constituição Federal proíbe o trabalho de menores de dezessete anos.
- (C) poderá obter um trabalho formal, mas não poderá trabalhar no período noturno nem em trabalho perigoso ou insalubre.
- (D) poderá trabalhar, normalmente, não havendo qualquer restrição quanto ao tipo ou horário de trabalho.
- (E) poderá trabalhar formalmente, havendo somente restrição quanto ao trabalho perigoso.

35. Nos termos da Constituição Federal, a cassação de direitos políticos

- (A) se dá na hipótese de cancelamento da naturalização.
- (B) é vedada.
- (C) é decorrência da condenação criminal transitada em julgado.
- (D) é consequência da condenação definitiva do réu por crime eleitoral.
- (E) é uma das hipóteses de pena por improbidade administrativa.

36. A Mesa do Senado Federal encaminhou pedido escrito de informações a um Ministro de Estado, concedendo-lhe prazo de trinta dias para resposta. No entanto, o Ministro, sem justificativa, deixou de atender o pedido do Legislativo no prazo estabelecido. Nessa hipótese, a Constituição Federal reza que o Ministro

- (A) ficará sujeito à pena de prisão.
- (B) não poderá sofrer qualquer penalidade, já que o texto constitucional não prevê consequência para essa omissão.
- (C) deverá ser indiciado pelo Ministério Público por crime de desobediência.
- (D) não sofrerá qualquer consequência, pois o Ministro do Estado não está obrigado a atender esse tipo de pedido.
- (E) ficará sujeito a responder por crime de responsabilidade.

NOÇÕES DE INFORMÁTICA






26. Observe a imagem a seguir, que mostra um ícone retirado do MS-Windows 7, em sua configuração padrão.



Assinale a alternativa que contém o nome do aplicativo associado ao ícone da imagem.

- (A) Prompt de Comando.
- (B) Drive C.
- (C) Executador.
- (D) Windows Explorer.
- (E) Painel de Controle.

27. Assinale a alternativa que contém o ícone do MS-Word 2010, em sua configuração padrão, usado para mostrar marcas de parágrafo e outros símbolos de formatação ocultos.

- (A) 
- (B) 
- (C) 
- (D) 
- (E) 

28. A planilha mostrada a seguir está sendo editada por meio do MS-Excel 2010, em sua configuração padrão.

	A	B	C	D
1	6	3	4	
2	5	1	2	
3	2	5	2	

Assinale a alternativa que contém o valor que será exibido na célula D1, após esta ser preenchida com a fórmula =SE(MAIOR(A1:C3;4)>4;MENOR(B1:B3;3);MAIOR(B1:B3;3)).

- (A) 2
- (B) 4
- (C) 1
- (D) 5
- (E) 3

29. O MS-PowerPoint 2010, em sua configuração padrão, possui um recurso que permite inserir uma imagem de qualquer programa que não esteja minimizado na barra de tarefas, sem a necessidade de, antes, criar um arquivo com tal imagem, ou seja, a imagem é inserida na apresentação diretamente da janela do outro programa.

Assinale a alternativa que mostra o ícone relacionado ao recurso descrito no enunciado.

- (A) 
- (B) 
- (C) 
- (D) 
- (E) 

30. Um analista, ao usar o recurso _____ sobre um e-mail recebido que possui 1 endereço de e-mail no campo "De", mais 3 endereços de e-mail no campo "Para" e mais 1 endereço no campo "Cc", o e-mail preparado será enviado para 5 endereços, considerando que todos os endereços são distintos e que o próprio endereço do usuário já foi excluído da contagem de endereços nos campos.

Assinale a alternativa que preenche corretamente a lacuna do enunciado.

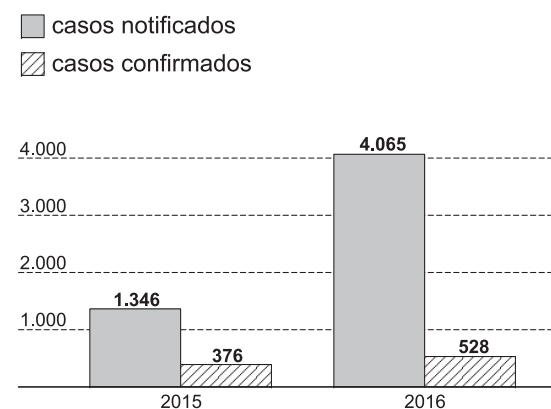
- (A) encaminhar
- (B) responder
- (C) arquivar tudo
- (D) responder a todos
- (E) enviar para spam

15. A média das idades de um grupo de 20 homens e algumas mulheres é de 37,2 anos. Sabe-se, também, que a média das idades das mulheres desse grupo é de 32 anos. Denotando-se por S a soma das idades de todos os homens do grupo, o número total de mulheres no grupo é corretamente dado pela expressão

- (A) $\frac{S + 37,2}{30}$
- (B) $\frac{S - 800}{6,4}$
- (C) $\frac{S - 744}{6,4}$
- (D) $\frac{S - 744}{5,2}$
- (E) $\frac{S + 74,4}{32}$

16. Observe o gráfico divulgado pelo jornal Folha de S.Paulo, com dados oficiais da Prefeitura de São Paulo.

MEDO DE OUTRAS DOENÇAS IMPULSIONA REGISTROS DE DENGUE



(www1.folha.uol.com.br, consultado em 13.02.2016)

De acordo com o gráfico, de 2015 para 2016 houve um aumento de pouco mais do que _____ % nos casos confirmados de dengue, e os casos notificados, aproximadamente _____.

A primeira e a segunda lacunas do texto são, respectivamente, mais bem preenchidas com:

- (A) 30 ... triplicaram
- (B) 40 ... triplicaram
- (C) 30 ... dobraram
- (D) 40 ... quadruplicaram
- (E) 50 ... dobraram

17. Em outubro de 2015, uma academia de ginástica tinha 416 alunos matriculados no período da noite e 132 no período da tarde. As projeções dessa academia indicam que, mensalmente, ela terá duas novas matrículas no período da noite e cinco no período da tarde. Confirmadas as projeções, e admitindo-se que alunos matriculados sempre permanecem matriculados, o número de alunos matriculados no período da noite será o dobro do número de alunos matriculados no período da tarde em

- (A) setembro de 2016.
- (B) março de 2017.
- (C) novembro de 2016.
- (D) agosto de 2017.
- (E) maio de 2017.

18. Em um posto de combustíveis, para abastecer um carro com 20 litros de gasolina aditivada e 35 litros de gasolina comum gastam-se R\$ 185,50, ao passo que para abastecer com 35 litros de gasolina aditivada e 20 litros de gasolina comum gastam-se R\$ 188,50. Nesse posto, o custo total ao abastecer um carro com 22 litros de gasolina aditivada e 22 litros de gasolina comum é igual a

- (A) R\$ 148,80.
- (B) R\$ 149,60.
- (C) R\$ 146,40.
- (D) R\$ 152,60.
- (E) R\$ 151,40.

19. A quantidade Q de bicicletas produzidas por ano, em função do tempo t , é dada pela fórmula $Q = -t^2 + 17t + 60$, sendo que t representa o total de anos decorridos desde 1995, ano em que foram produzidas 60 bicicletas. Por exemplo, no ano 2005, t é igual a 10, e Q é igual a 130. Esse modelo prevê que, em algum momento, nenhuma bicicleta será produzida e, a partir de então, terá sua produção interrompida. O último ano em que essas bicicletas serão produzidas será

- (A) 2009.
- (B) 2010.
- (C) 2014.
- (D) 2012.
- (E) 2015.

20. Meu despertador de pulso emite um sinal sonoro todos os dias às 7h00, e meu despertador de mesa emite um sinal sonoro todos os dias às 7h10. Sabendo-se que meu despertador de pulso começou a adiantar 5 segundos por dia em relação ao horário do meu despertador de mesa, então, daqui a x dias eles emitirão o sinal sonoro ao mesmo tempo. De acordo com os dados, x é igual a

- (A) 240.
- (B) 150.
- (C) 180.
- (D) 120.
- (E) 250.

R A S C U N H O

ATUALIDADES

21. *Começa na Alemanha julgamento de ex-guarda de 94 anos*

O julgamento de Reinhold Hanning, de 94 anos, começou nesta quinta-feira (11 de fevereiro), na Alemanha. Devido à enorme atenção midiática que o caso gera, o julgamento não é realizado na sede do tribunal e foi transferido à sede da Câmara de Comércio e Indústria, em local afastado.

(G1, 11 fev.16. Disponível em: <<http://goo.gl/ejDGwi>> Adaptado)

Reinhold Hanning foi levado a julgamento por ser ex-guarda

- (A) da polícia secreta da Alemanha Ocidental e acusado de matar alemães que tentaram atravessar o Muro de Berlim.
- (B) do campo de concentração nazista de Auschwitz e acusado de cumplicidade na morte de milhares de pessoas.
- (C) do exército alemão e acusado de ter participado de graves crimes de guerra no contexto da Segunda Guerra Mundial.
- (D) da polícia política nazista e acusado de ter perseguido e torturado opositores políticos à época da ditadura nazista.
- (E) do alto oficialato germânico à época do nazismo e acusado de matar judeus e comunistas a mando de Hitler.

22. *Encontro histórico: Papa e patriarca ortodoxo se reúnem em Cuba*

O encontro ecumênico entre o papa Francisco, chefe da igreja católica romana, e o patriarca Kirill, líder espiritual da igreja ortodoxa russa, que acontece em Havana (Cuba), nesta sexta-feira (12 de fevereiro), é um evento histórico.

(EBC, 12 fev.16. Disponível em: <<http://goo.gl/kdJUlu>> Adaptado)

Trata-se de um evento histórico, pois

- (A) sacramentou a retomada das relações diplomáticas entre Cuba e os EUA, ajudando a retirar o país latino-americano do isolamento.
- (B) indica o fim do governo dos irmãos Castro, em Cuba, que agora será substituído por governos democraticamente eleitos.
- (C) constituiu-se como a primeira tentativa das igrejas cristãs de ajudarem na reconciliação entre o governo cubano e o governo dos EUA.
- (D) foi o primeiro encontro entre o chefe católico e o ortodoxo russo, líderes de dois dos principais ramos do cristianismo, desde sua separação no ano de 1054.
- (E) representou a retomada do cristianismo em Cuba, depois de muitas décadas em que o país se declarou oficialmente ateu.

23. *Dinamarca aprova lei que permite confiscar bens de refugiados*

O Parlamento da Dinamarca aprovou, nesta terça-feira (26 de janeiro), uma polêmica lei que permite ao governo confiscar de refugiados no país bens de valor superior a 10 mil coroas dinamarquesas (cerca de R\$ 5.900).

(Folha de S.Paulo, 26 jan.16. Disponível em: <<http://goo.gl/BMJrNw>>. Adaptado)

A polêmica lei dinamarquesa tem como justificativa

- (A) cobrir os custos com habitação e alimentação enquanto os pedidos de asilo são julgados.
- (B) custear as forças de segurança e imigração dinamarquesas, reforçadas neste ano.
- (C) igualar a cobrança de impostos entre os cidadãos dinamarqueses e os refugiados.
- (D) aumentar a arrecadação do Estado dinamarquês, que vive grave crise financeira.
- (E) angariar fundos para financiar a guerra na Síria, de forma a reduzir a imigração.

24. *Estudantes ocuparam na manhã desta segunda-feira (14 de dezembro) mais quatro escolas da rede estadual de Educação em Goiás. Em seis dias, o movimento fechou oito unidades.*

(G1, 14 dez.15. Disponível em: <<http://goo.gl/oxGNAs>> Adaptado)

Os estudantes protestam contra

- (A) a redução de investimentos, que tirou dos estudantes a possibilidade de continuarem os estudos no Ensino Superior público.
- (B) o corte radical de verbas na educação, que levou muitas escolas a sofrerem com a falta de produtos básicos para o seu funcionamento.
- (C) o projeto do governo de Goiás de terceirizar a gestão da rede pública de ensino por meio de organizações sociais.
- (D) a proposta de reorganização escolar do governo de Goiás, que inclui a privatização de escolas a partir da realização de leilões e licitações.
- (E) a estagnação salarial vivida nos últimos anos por professores da rede pública, atualmente proibidos de fazerem greve por salários.

25. *“Primeira grande epidemia de zika vírus acontece no Brasil”, diz infectologista*

(IG, 13 jan.16. Disponível em: <<http://goo.gl/yQ2rNr>> Adaptado)

Entre as doenças possivelmente causadas pelo zika vírus, encontra-se

- (A) a anencefalia.
- (B) a paralisia infantil.
- (C) a síndrome de Guillain-Barré.
- (D) a malária.
- (E) a febre amarela.