



## CÂMARA MUNICIPAL DE DESCALVADO

ESTADO DE SÃO PAULO

CONCURSO PÚBLICO

### 002. PROVA OBJETIVA

TESOUREIRO

- ◆ Você recebeu sua folha de respostas e este caderno contendo 50 questões objetivas.
- ◆ Confira seus dados impressos na capa deste caderno e na folha de respostas.
- ◆ Quando for permitido abrir o caderno, verifique se está completo ou se apresenta imperfeições. Caso haja algum problema, informe ao fiscal da sala.
- ◆ Leia cuidadosamente todas as questões e escolha a resposta que você considera correta.
- ◆ Marque, na folha de respostas, com caneta de tinta azul ou preta, a letra correspondente à alternativa que você escolheu.
- ◆ A duração da prova é de 3 horas, já incluído o tempo para o preenchimento da folha de respostas.
- ◆ Só será permitida a saída definitiva da sala e do prédio após transcorridos 75% do tempo de duração da prova.
- ◆ Ao sair, você entregará ao fiscal a folha de respostas e este caderno, podendo levar apenas o rascunho de gabarito, localizado em sua carteira, para futura conferência.
- ◆ Até que você saia do prédio, todas as proibições e orientações continuam válidas.

**AGUARDE A ORDEM DO FISCAL PARA ABRIR ESTE CADERNO DE QUESTÕES.**

Nome do candidato \_\_\_\_\_

Prédio \_\_\_\_\_

Sala \_\_\_\_\_

Carteira \_\_\_\_\_

Inscrição \_\_\_\_\_



## CONHECIMENTOS GERAIS

### LÍNGUA PORTUGUESA

Leia o texto a seguir para responder às questões de números 01 a 07.

#### *O potencial de consumo dos idosos*

No Censo de 2010, a participação das pessoas com mais de 65 anos de idade atingiu 7,4%. Isso representa mais de 14 milhões de brasileiros.

Além de numeroso, esse grupo representa um grande potencial de vendas para o varejo e empresas em geral. Afinal, essas pessoas já passaram pelas maiores despesas da vida: educaram os filhos e construíram e mobiliaram a casa onde vivem. A renda agora é para alimentação, saúde e lazer e para continuar presenteando os familiares.

Como entender e atender esses consumidores? A pior coisa que uma empresa pode fazer é usar eufemismos como “melhor idade” para se comunicar com eles. “Melhor idade é quando eu tinha 20”, muitos vão dizer.

Mesmo assim, o estereótipo da velhinha de cabelos brancos usando bengala é absolutamente rejeitado por eles – e com toda a razão.

Hoje em dia, pessoas perto dos 70 anos não têm cara de velhinha de bengala, afinal foram culturalmente ativas e pioneiras: viram o homem pisar na Lua, viveram como hippies, passaram pelo regime militar, pela revolução sexual, da informática e da internet, entre tantas outras modificações.

Para elas, a idade é um estado de espírito, e não um número.

Entre os 20 e os 40 anos, as pessoas sentem-se imortais. O esforço pessoal é focado em ser alguém, em destacar-se. Acredita-se que é possível moldar o mundo às nossas necessidades.

Depois dos 40 anos, percebe-se que a realidade não é tão boa assim, e as pessoas iniciam uma busca por significado na vida, que se estende até seus últimos dias.

De maneira geral, até os 40, o foco é no “ser social”. Depois dessa idade, o foco passa a ser o “eu interior”.

Produtos e serviços que satisfaçam essa necessidade têm mais chances junto a esse público. Mas será que nossas lojas sabem atender esses consumidores?

Não, pois os consumidores mais velhos, apesar da mentalidade jovem, sentem desconforto em ambientes com excesso de estímulos, sua visão perde a capacidade de discernir cores (sem falar nas letras pequenas), sua agilidade para manusear objetos fica reduzida, além de sofrerem mais com as consequências da obesidade.

É patente que as lojas e os produtos não são desenhados para ajudá-los a superar essas dificuldades. No quesito atendimento, os mais velhos odeiam ser um número. Querem tratamento diferenciado, alguém treinado para ouvi-los e que os trate como indivíduos, coisas cada vez mais raras no varejo de hoje.

Além disso, não valorizam lojas, produtos e marcas pelo prestígio social que trazem. Querem algo autêntico, personalizado e, hoje, poucas marcas podem disputar esse lugar no mercado.

Em poucas palavras, o potencial dos consumidores mais velhos é grande, mas quase ninguém está preparado para atendê-los.

(Maurício Morgado. *Folha de S.Paulo*, 10.06.2012. Adaptado)

01. De acordo com a leitura do texto, é correto afirmar que

- (A) as lojas e as prestadoras de serviços vêm disponibilizando altas somas para adequar suas instalações às expectativas dos clientes idosos.
- (B) as pessoas com mais de 65 anos estão dispostas a consumir mais, embora parte significativa de seus rendimentos esteja comprometida com a formação dos filhos.
- (C) os idosos querem consumir diferentes produtos e serviços, mas os valores recebidos da aposentaria restringem sensivelmente os gastos dessas pessoas.
- (D) o mercado brasileiro está perdendo a oportunidade de aumentar os lucros, pois não tem conseguido atender adequadamente o público idoso.
- (E) as pessoas que já passaram dos 65 anos negam a imagem dos velhinhos de bengala, por isso preferem frequentar lojas direcionadas ao consumidor jovem.

02. Segundo o autor do texto,

- (A) dos 20 aos 40 anos, as pessoas acreditam na eternidade da vida e na impossibilidade de transformar a sociedade.
- (B) dos 20 aos 40 anos, as pessoas dedicam-se a cultivar a vida interior, já que o objetivo nessa fase é dar sentido à própria existência.
- (C) depois dos 40 anos, as pessoas são obrigadas a limitar suas atividades, pois não se adaptam às mudanças sociais que ocorrem com muita rapidez.
- (D) perto dos 70 anos, as pessoas veem a realidade com otimismo e querem se tornar indivíduos bem-sucedidos profissionalmente.
- (E) perto dos 70 anos, as pessoas definem a idade como um estado de espírito e refutam padrões tradicionalmente associados à velhice.

03. Assinale a alternativa em que os termos entre parênteses sejam, respectivamente, sinônimos dos termos destacados no trecho do texto.

- (A) A **renda** agora é para alimentação, saúde e lazer e para continuar **presenteando** os familiares. (pensão; sustentando)
- (B) ... sentem desconforto em ambientes com **excesso** de estímulos, sua visão perde a capacidade de **discernir** cores... (profusão; discriminar)
- (C) É **patente** que as lojas e os produtos não são **deseenhados** para ajudá-los a superar essas dificuldades. (questionável; projetados)
- (D) ... alguém **treinado** para ouvi-los e que os trate como indivíduos, coisas cada vez mais **raras** no varejo de hoje. (preparado; corriqueiras)
- (E) Querem algo autêntico, **personalizado** e, hoje, poucas marcas podem **disputar** esse lugar no mercado. (trivial; pleitear)

04. Assinale a alternativa que completa a frase com o trecho em que o sinal indicativo de crase foi empregado corretamente.

É necessário que as lojas se adaptem

- (A) à esse novo grupo de consumidores.
- (B) à uma parcela significativa dos idosos que está disposta a comprar.
- (C) à expectativa das pessoas mais velhas de verem seus direitos respeitados.
- (D) à todas as limitações físicas de que essas pessoas sejam portadoras.
- (E) à interesses de uma geração que já passou por várias transformações sociais.

05. Leia as frases.

Os profissionais \_\_\_\_\_ quem cabe a função de atender os idosos devem tratar esses clientes de maneira diferenciada.

Os rendimentos \_\_\_\_\_ que dispõem as pessoas mais velhas são gastos, sobretudo, com alimentação, saúde e lazer.

As agências de publicidade, \_\_\_\_\_ as quais as empresas contam para atrair consumidores idosos, devem estar cientes de que essas pessoas não querem ser vistas como um número.

De acordo com a norma-padrão da língua portuguesa, as preposições que preenchem, correta e respectivamente, as lacunas das frases são:

- (A) a – com – para
- (B) a – de – com
- (C) de – a – para
- (D) de – a – com
- (E) em – de – para

06. As pessoas que hoje estão na faixa dos 70 anos são culturalmente ativas e pioneiras, **visto que** participaram de fatos históricos marcantes, como a revolução sexual e da internet, **portanto, embora** tenham de lidar com algumas limitações físicas, para elas a idade está relacionada à vitalidade e não à passagem do tempo.

No trecho reescrito a partir das informações do texto, as conjunções destacadas estabelecem, respectivamente, as relações de

- (A) condição, causa e concessão.
- (B) causa, concessão e tempo.
- (C) causa, conclusão e concessão.
- (D) consequência, conclusão e finalidade.
- (E) consequência, causa e tempo.

07. Assinale a alternativa em que a concordância verbal e nominal está em conformidade com a norma-padrão da língua portuguesa.

- (A) Contestadores, alguns desses idosos foram hippies e se opuseram a guerras, como a do Vietnã, e a regimes ditatoriais.
- (B) Segundo dados do Censo realizado em 2010, existe 14 milhões de brasileiros com mais de 65 anos.
- (C) Essas pessoas já conquistaram certa estabilidade e dispõe de casa própria e do conforto necessário.
- (D) A população mundial está envelhecendo, por isso é preciso reformular conceitos a fim de que jovens e idosos tenham convivência harmoniosas.
- (E) Compreender esses consumidores é saber se comunicar com pessoas que, apesar da idade, não se sentem excluída da sociedade.

Para responder às questões de números 08 a 10, leia a charge, supondo que as personagens retratadas sejam pai e filha.

“- E eles viveram livres de dívidas para sempre...”



(Folha de S. Paulo, 27.08.2015)

08. Analisando a charge, é correto concluir que contribui para dar humor à cena o fato de

- (A) o pai estar lendo histórias para a filha, quando é a mãe que habitualmente realiza essa tarefa.
- (B) a narrativa tratar de tesouros e de reinos distantes, o que é inusitado em histórias para crianças.
- (C) a filha estar desatenta, enquanto o pai se empenha em narrar os acontecimentos.
- (D) as personagens do conto encontrarem a felicidade graças ao amor que as une.
- (E) a história contada pelo pai à filha apresentar um desfecho que foge ao clichê.

09. Na frase que finaliza a história infantil, a forma verbal **viveram** indica ação

- (A) iniciada no passado, mas a ser concluída no presente, como em: A autora autografaria seu novo livro de contos de fadas.
- (B) iniciada no passado, mas a ser concluída no presente, como em: A autora autografara seu novo livro de contos de fadas.
- (C) realizada habitualmente, como em: A autora autografava seu novo livro de contos de fadas.
- (D) concluída no passado, como em: A autora autografou seu novo livro de contos de fadas.
- (E) concluída no passado, como em: A autora autografa seu novo livro de contos de fadas.

10. Leia a frase a seguir.

Os pais, contando histórias para os filhos, despertam nas crianças o prazer pela leitura.

Considerando que, nas alternativas a seguir, o pronome está substituindo apenas uma das expressões grifadas na frase, é correto afirmar que ele está empregado corretamente, mantendo-se o sentido da frase, em:

- (A) Os pais, contando-lhes para os filhos, despertam nas crianças o prazer pela leitura.
- (B) Os pais, contando-lhes histórias, despertam nas crianças o prazer pela leitura.
- (C) Os pais, contando-se histórias, despertam nas crianças o prazer pela leitura.
- (D) Os pais, contando histórias para os filhos, despertam-lhe nas crianças.
- (E) Os pais, contando histórias para os filhos, despertam-se o prazer pela leitura.

11. Uma empresa tabulou o número de defeitos apresentados por cada uma de suas máquinas durante o mês de setembro.

Setembro	
Número de defeitos	% de máquinas
0	65%
1	15%
2	7,5%
3	5%
4	2,5%
5 ou mais	5%

Sabendo que, no mês de setembro, 88 máquinas apresentaram 2 ou mais defeitos, o número de máquinas, nesse mês, que não apresentaram defeito foi igual a

- (A) 247.
- (B) 260.
- (C) 273.
- (D) 286.
- (E) 299.

12. A razão entre o número de meninos e meninas que estudam em uma escola é igual a 0,75. Sendo o total de estudantes dessa escola igual a 315, o número de meninas excede o número de meninos em

- (A) 30.
- (B) 35.
- (C) 40.
- (D) 45.
- (E) 50.

13. Um museu tem 3 seguranças para cuidar de 10 instalações. Um dos seguranças deve ficar em cada instalação por 2 minutos; outro, por 6 minutos; e o terceiro, por 10 minutos. A ronda começa na primeira instalação, passa para a segunda e assim por diante até a décima. Após ficar o tempo determinado na décima instalação, o segurança volta para a primeira e reinicia a ronda. Considerando-se desprezível o tempo de passar de uma instalação para a outra e que esses 3 seguranças encontraram-se na primeira instalação às 9h para iniciar uma ronda, o próximo horário em que os três entrarão em uma mesma instalação, ao mesmo tempo, será às
- (A) 9h 30min.
  - (B) 10h.
  - (C) 10h 30min.
  - (D) 11h.
  - (E) 11h 30min.
14. Augusto planeja juntar dinheiro para comprar um videogame. No mês de janeiro, guardou o triplo do que conseguiu guardar em março e, no mês de fevereiro, guardou a nona parte do que conseguiu guardar em janeiro. Em abril, Augusto não juntou nada e ainda precisou gastar R\$ 250,00 do dinheiro que havia guardado. Em maio, ele guardou a metade do que guardou em janeiro, conseguindo assim os R\$ 2.200,00 de que precisava. O dinheiro economizado em março representa, do valor total do videogame, aproximadamente
- (A) 10%.
  - (B) 15%.
  - (C) 20%.
  - (D) 25%.
  - (E) 30%.
15. Uma oficina especializada em bicicletas treina seus funcionários para que, por hora, cada um repare 10 pneus furados ou para que, a cada duas horas, faça a revisão completa em 3 bicicletas. Um mesmo funcionário pode, no mesmo dia, fazer revisões completas e reparos em pneus. Se essa oficina estima que, a cada 8 horas, irá reparar 100 pneus e fazer revisões completas em 105 bicicletas, deverá contar com um número de funcionários, no mínimo, igual a
- (A) 9.
  - (B) 10.
  - (C) 11.
  - (D) 12.
  - (E) 13.
16. João lançou 12 vezes um dado de 12 faces numeradas de 1 a 12, cada face com um número. A média aritmética simples dos números obtidos é igual a 9, o que permite concluir que, por pelo menos
- (A) 9 vezes, saiu um número maior que 9.
  - (B) 8 vezes, saiu um número maior que 4.
  - (C) 3 vezes, saiu o número 12.
  - (D) 3 vezes, saiu o número 3.
  - (E) 1 vez, saiu um número menor que 6.

17. Seja  $x$  o menor de todos os números de 5 algarismos maiores que 87777 que tenham 4 algarismos iguais, a soma dos algarismos do número que resulta da operação  $x - 87777$  é igual a
- (A) 3.
  - (B) 5.
  - (C) 8.
  - (D) 11.
  - (E) 16.
18. Uma sala retangular tem um comprimento que é o triplo de sua largura. Em um dos cantos dessa sala, será construído um escritório com  $16,2 \text{ m}^2$  de área, que equivale a 15% da área da sala. O perímetro dessa sala, em metros, é igual a
- (A) 36.
  - (B) 39.
  - (C) 42.
  - (D) 45.
  - (E) 48.
19. Dois reservatórios A e B têm a forma de um paralelepípedo, com bases quadradas de arestas internas iguais a 2 m e 3 m, respectivamente. Inicialmente o reservatório A tem 3,25 m a mais de altura de coluna de água do que o reservatório B. Para que os dois reservatórios fiquem com a mesma altura de coluna de água, deve ser passado do reservatório A para o reservatório B um volume de água, em litros, igual a
- (A) 9000.
  - (B) 7750.
  - (C) 6500.
  - (D) 4000.
  - (E) 3250.
20. Uma cooperativa de lavradores recebeu uma certa quantia em dinheiro para a realização de um serviço. Foram designados  $n$  trabalhadores para o serviço, que dividiram igualmente entre si todo o dinheiro recebido. Caso 3 trabalhadores a mais tivessem sido designados para o serviço, o valor pago por trabalhador teria sido R\$ 66,00 a menos. Caso 2 trabalhadores a menos tivessem sido designados, o valor por trabalhador seria R\$ 66,00 a mais. O número  $n$  de trabalhadores designados para o serviço foi
- (A) 9.
  - (B) 11.
  - (C) 12.
  - (D) 14.
  - (E) 15.

## LEGISLAÇÃO

21. São princípios da organização do Município de Descalvado, dentre outros,

- (A) a moralidade, a legalidade, a impessoalidade, a publicidade, a motivação, a proporcionalidade, a razoabilidade e a eficiência.
- (B) a soberania do Prefeito e do Presidente da Câmara Municipal.
- (C) o sigilo e o controle interno dos atos de governo.
- (D) a garantia do acesso, a todos os munícipes, de modo prioritário e individualizado aos bens e serviços.
- (E) o tratamento diferenciado a todo cidadão que se instale no Município em busca de oportunidade.

22. Segundo a Lei Orgânica do Município de Descalvado, fomentar a produção agropecuária e organizar o abastecimento alimentar, promover programas de construção de moradias e a melhoria das condições habitacionais e de saneamento básico, são competências

- (A) exclusivas do Município de Descalvado.
- (B) privativas da União.
- (C) concorrentes entre a União e os Estados.
- (D) concorrentes entre a União, os Estados, o Distrito Federal e o Município de Descalvado.
- (E) comuns entre a União, os Estados, o Distrito Federal e o Município de Descalvado.

23. As contas do Município ficarão à disposição dos contribuintes

- (A) durante trinta dias, a partir de dez de março de cada exercício.
- (B) que poderão consultá-las em horário pré-determinado pelo Presidente da Câmara Municipal.
- (C) durante sessenta dias, a partir de quinze de abril de cada exercício, no horário de funcionamento da Câmara, em local de fácil acesso ao público.
- (D) sendo necessário requerimento do contribuinte, autorizado ou despachado pelo Prefeito, para consulta às contas públicas.
- (E) e a consulta às contas públicas poderá ser feita no recinto da Câmara, onde deverão constar mais de seis cópias à disposição do público.

24. Com vistas ao que dispõe a Lei Orgânica do Município de Descalvado, em relação ao Processo Legislativo, assinale a alternativa correta.

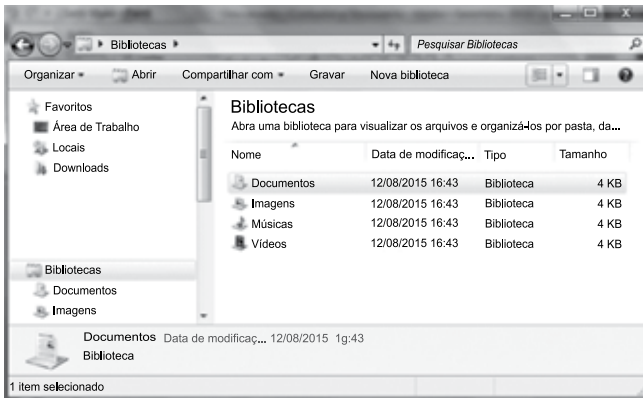
- (A) A Lei Orgânica poderá ser emendada mediante proposta de, no máximo, 1/3 (um terço) dos membros da Câmara Municipal.
- (B) A Lei Orgânica não poderá ser emendada na vigência de intervenção estadual no Município de Descalvado, de estado de defesa ou de estado de sítio.
- (C) As leis ordinárias exigem, para sua aprovação, o voto favorável da maioria absoluta dos membros da Câmara Municipal presentes à sessão.
- (D) Os projetos de decreto legislativo e de resolução, aprovados pelo Plenário, em duas votações, dependem da sanção do Prefeito.
- (E) Compete privativamente ao Presidente da Câmara Municipal a iniciativa de lei que disponha sobre o regime jurídico, provimento de cargos, estabilidade e aposentadoria dos servidores municipais.

25. O controle externo da Câmara Municipal será exercido com o auxílio do Tribunal de Contas do Estado, que emitirá parecer prévio sobre as contas que o Prefeito Municipal de Descalvado deve prestar,

- (A) mensalmente, devendo o parecer prevalecer por decisão de um terço dos Membros da Câmara Municipal.
- (B) semestralmente, devendo o parecer prevalecer por decisão de dois terços dos Membros da Câmara Municipal.
- (C) anualmente, devendo o parecer prevalecer por decisão de um terço dos Membros da Câmara Municipal, cujo julgamento não deverá garantir ao Prefeito Municipal a ampla defesa.
- (D) anualmente, e só deixará de prevalecer o parecer prévio por decisão de dois terços dos Membros da Câmara Municipal, cujo julgamento deverá garantir ao Prefeito Municipal o contraditório e a ampla defesa.
- (E) semestralmente, e só deixará de prevalecer o parecer prévio por decisão da maioria absoluta dos Membros da Câmara Municipal, cujo julgamento deverá garantir ao Prefeito Municipal o contraditório e a ampla defesa.

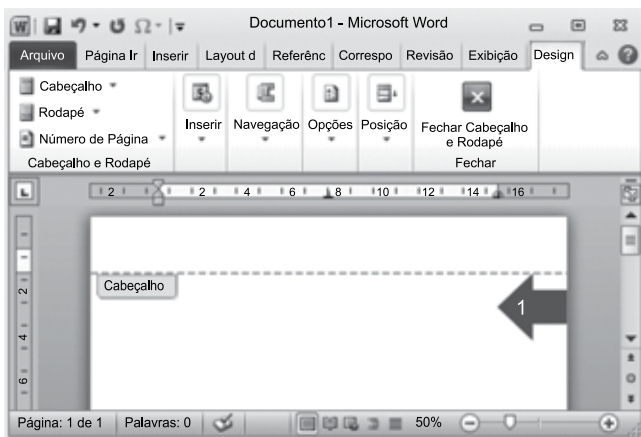



26. Observe a janela do Windows Explorer do MS-Windows 7, instalado em sua configuração original, apresentada parcialmente na figura a seguir.



Assinale a alternativa que contém o modo de exibição aplicado na janela.


- (A) Conteúdo com painel de visualização.  
 (B) Lista com painel de visualização.  
 (C) Lista sem painel de visualização.  
 (D) Detalhes com painel de visualização.  
 (E) Detalhes sem painel de visualização.
27. Considere o documento do MS-Word 2010, em sua configuração original, apresentado na figura seguinte.








A numeração foi aplicada no cabeçalho do documento ao se clicar em  Número de Página e escolher a opção

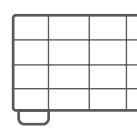
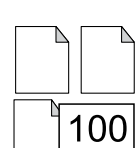
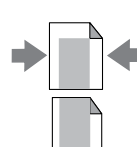
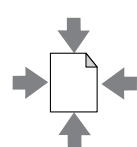
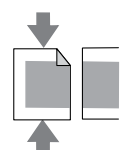
- (A) Início de Página.  
 (B) Margens da Página.  
 (C) Seção da Página.  
 (D) Tabulação da Página.  
 (E) Fim da Página.

28. Observe uma das bibliotecas do MS-Word 2010, em sua configuração padrão, apresentada parcialmente na figura a seguir.

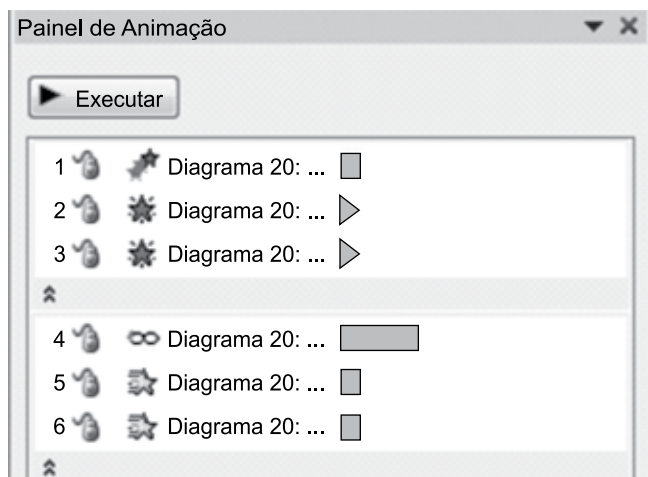


Essas opções estão disponíveis ao se clicar no seguinte botão do grupo Parágrafo, da guia Página Inicial:

- (A)   
 (B)   
 (C)   
 (D)   
 (E) 
29. No MS-Excel 2010, em sua configuração original, para imprimir uma planilha de forma a ajustá-la em uma única página, é necessário que seja utilizada a seguinte opção do grupo Configurações da janela Imprimir, da guia Arquivo:

- (A)   
 (B)   
 (C)   
 (D)   
 (E) 

30. A seguir, observe o painel de animação de uma apresentação do MS-PowerPoint 2010, em sua configuração original:



Dentre as animações apresentadas no painel, numeradas de 1 a 6, assinale a alternativa que contém aquela que contém o efeito de trajetória.

- (A) 1.
- (B) 3.
- (C) 4.
- (D) 5.
- (E) 6.

## CONHECIMENTOS ESPECÍFICOS

31. Conforme a Lei Complementar nº 101/2000, para fins de observância da ordem cronológica determinada na constituição federal, a execução orçamentária e financeira identificará os beneficiários de pagamento de sentenças judiciais por meio de

- (A) sistema de contabilidade e administração financeira.
- (B) controle extracontábil e financeiro.
- (C) controle de cobrança judicial.
- (D) inscrição das sentenças em dívida ativa.
- (E) sistema de controle de processos em curso.

32. Entende-se como despesa total com pessoal: o somatório dos gastos do Ente da Federação com os ativos, os inativos e os pensionistas, relativos a mandatos eletivos, cargos, funções ou empregos, civis, militares e de membros de Poder, com quaisquer espécies remuneratórias, tais como vencimentos e vantagens, fixas e variáveis, subsídios, proventos da aposentadoria, reformas e pensões, inclusive adicionais, gratificações, horas extras e vantagens pessoais de qualquer natureza, bem como encargos sociais e contribuições recolhidas pelo ente às entidades de previdência.

Nesse caso, conforme explicitado na Lei Complementar nº 101/2000, a despesa total com pessoal em cada período de apuração e em cada Ente da Federação não poderá exceder os percentuais de (i) União – 50%, (ii) Estados – 60% e (iii) Municípios – 60%

- (A) dos custos totais operacionais do Ente da Federação.
- (B) do orçamento anual de cada Ente da Federação.
- (C) dos custos determinados conforme plano plurianual federal.
- (D) da receita corrente líquida do referido Ente da Federação.
- (E) dos recursos destinados a cada Ente da Federação.

33. As receitas de Operação de Crédito, de Alienação de Bens Móveis e Imóveis e de Amortização de Empréstimos Concedidos, conforme determina a Lei nº 4.320/64, serão classificadas em qual categoria de receita?

- (A) Imobiliárias.
- (B) De capital.
- (C) Financeiras.
- (D) Industriais.
- (E) Patrimonial.

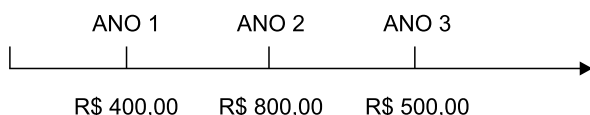
- 34.** Por ocasião da elaboração da proposta orçamentária, de que trata a Lei nº 4.320/64, as receitas e despesas de capital serão objeto de um Quadro de Recursos e de Aplicação de Capital, aprovado por decreto do Poder Executivo, abrangendo, no mínimo, um
- (A) semestre.
  - (B) ano.
  - (C) biênio.
  - (D) triênio.
  - (E) mandato.
- 35.** Os \_\_\_\_\_ são autorizações de despesas não computadas ou insuficientemente dotadas na Lei de Orçamento, e que se classificam em: I – suplementares, os destinados a reforço de dotação orçamentária; II – especiais, os destinados a despesas para as quais não haja dotação orçamentária específica; III – extraordinários, os destinados a despesas urgentes e imprevistas, em caso de guerra, comoção intestina ou calamidade pública.
- Assinale a alternativa que preenche corretamente a lacuna do texto.
- (A) créditos parciais
  - (B) débitos complementares
  - (C) créditos adicionais
  - (D) créditos extracontábeis
  - (E) débitos suplementares
- 36.** A contabilidade deverá evidenciar, em seus registros, o montante dos créditos orçamentários vigentes, a despesa empenhada e a despesa realizada, à conta dos mesmos créditos, e as dotações disponíveis. O registro contábil da receita e da despesa far-se-á de acordo com as especificações constantes da Lei de Orçamento e dos créditos adicionais. Nesse caso, a dívida flutuante compreenderá: os serviços da dívida a pagar, os depósitos e os débitos de tesouraria, bem como:
- (A) os créditos adicionais, incluindo os juros da dívida.
  - (B) as despesas antecipadas por créditos interdependentes.
  - (C) os créditos de compensação, por intermediação.
  - (D) os empenhos a pagar de dívidas fundadas.
  - (E) os restos a pagar, excluídos os serviços da dívida.
- 37.** A Lei nº 10.520/02, que instituiu, no âmbito da União, Estados, Distrito Federal e Municípios, a licitação denominada pregão, para aquisição de bens e serviços comuns, entre outras providências, menciona, no artigo 4º, que a fase externa do pregão será iniciada com a convocação dos interessados e observará, entre várias regras, o prazo fixado para a apresentação das propostas, contado a partir da publicação do aviso, que não será inferior a
- (A) 5 (cinco) dias úteis.
  - (B) 8 (oito) dias úteis.
  - (C) 10 (dez) dias úteis.
  - (D) 13 (treze) dias úteis.
  - (E) 15 (quinze) dias úteis.
- 38.** Seguindo as disposições gerais de que trata o art. 37, inciso XXI, da Constituição Federal, a Lei nº 8.666/93
- (A) implementa controles necessários de monitoramento das licitações públicas, em especial na modalidade de pregão eletrônico.
  - (B) dispõe sobre a organização da Administração Federal, estabelece diretrizes para a Reforma Administrativa e dá outras providências.
  - (C) estabelece normas gerais sobre licitações e contratos administrativos pertinentes a obras, serviços, inclusive de publicidade, compras, alienações e locações no âmbito dos Poderes da União, dos Estados, do Distrito Federal e dos Municípios.
  - (D) estatui Normas Gerais de Direito Financeiro para elaboração e controle dos orçamentos e balanços da União, dos Estados, dos Municípios e do Distrito Federal.
  - (E) estabelece normas de finanças públicas voltadas para a responsabilidade na gestão fiscal e dá outras providências.
- 39.** Risco é conceituado como a possibilidade de prejuízo financeiro. Quanto ao retorno, é medido como o total de ganhos ou prejuízos dos proprietários decorrentes de um investimento durante um determinado período de tempo. Diante dessa afirmação, para reduzir o risco total de uma carteira que tenha uma correlação negativa, o investidor deverá
- (A) diversificar a carteira.
  - (B) resgatar o portfólio.
  - (C) focar em carteira de variáveis.
  - (D) não correlacionar títulos.
  - (E) antecipar a data de vencimento dos títulos.

40. Um comprador deseja calcular o valor presente da compra de um televisor, cujo valor futuro da compra é R\$ 1.700,00, que serão pagos em 8 parcelas mensais. O custo de oportunidade equivale a 8% ao mês. Isto posto, qual será o valor presente da operação, em Reais?

**Obs:** Para o cálculo, considere quatro casas decimais depois da vírgula e despreze os centavos.

- (A) 754
- (B) 898
- (C) 918
- (D) 999
- (E) 1.005

41. Qual o valor presente, em Reais, de uma série mista de pagamentos, com as seguintes informações, conforme gráfico de fluxo de caixa a seguir?



- Anos = 3
- Fluxo de caixa – série mista de:
  - 1º ano R\$ 400,00
  - 2º ano R\$ 800,00
  - 3º ano R\$ 500,00
- Taxa anual de desconto = 9%

**Obs:** Para o cálculo, considere quatro casas decimais depois da vírgula e despreze os centavos.

- (A) 1.356
- (B) 1.426
- (C) 1.499
- (D) 1.512
- (E) 1.526

Com base nas informações obtidas a partir do balancete de verificação da empresa Topa em Tudo Ltda., em 30 de junho de 2015, classifique as contas contábeis e responda às questões de números 42 a 44.

**Balancete contábil em 30.06.2015**

Descrição da conta contábil	Reais
Lucros a destinar	(25.000,00)
Duplicatas descontadas	(5.000,00)
Bancos	7.500,00
Adiantamento a fornecedores	3.000,00
Empréstimos e financiamentos (LP)	(23.000,00)
Demais contas a receber	2.300,00
Fornecedores	(23.000,00)
Empréstimos e financiamentos	(18.500,00)
Provisão para devedores duvidosos	(3.500,00)
Mútuos com empresas ligadas (LP)	8.900,00
Estoques	34.000,00
Impostos a recuperar de LP	2.100,00
Provisões diversas	(2.400,00)
Investimentos	13.900,00
Impostos a recolher	(12.000,00)
Contas a pagar	(1.200,00)
Aplicações financeiras	23.800,00
IR e CSL a pagar	(7.000,00)
Contas a pagar (LP)	(500,00)
Ativos intangíveis	4.300,00
Contingências trabalhistas de LP	(7.700,00)
Lucro líquido do exercício	(11.900,00)
Ajustes patrimoniais	(15.000,00)
Caixa	1.300,00
Títulos a receber de LP	3.500,00
Salários a pagar	(7.500,00)
Capital	(20.000,00)
Contas a receber de clientes	35.000,00
Imobilizado	67.000,00
Reservas de capital	(10.000,00)
Depreciação acumulada	(13.400,00)

Informações adicionais ocorridas no semestre:

- Vendas brutas – R\$ 170.000,00
- Recita líquida de vendas – R\$ 147.400,00
- Lucro bruto – R\$ 69.400,00
- Despesas de vendas – R\$ 17.000,00
- Despesas administrativas – R\$ 26.000,00
- Despesas financeiras – R\$ 7.500,00
- Receitas financeiras – R\$ 2.000,00
- Outras despesas – R\$ 1.000,00
- Imposto de renda corrente – R\$ 5.000,00
- Contribuição social sobre o lucro líquido corrente – R\$ 3.000,00

42. O valor do Capital Circulante Líquido em 30 de junho de 2015, em Reais, é:

- (A) 26.800,00.
- (B) 26.900,00.
- (C) 27.120,00.
- (D) 27.500,00.
- (E) 28.140,00.

43. Assinale a alternativa que contém o índice de cobertura de juros que mede a capacidade da empresa para realizar pagamento de juros contratuais.

**Obs:** Para o cálculo, considere apenas duas casas decimais depois da vírgula.

- (A) 1,90
- (B) 2,15
- (C) 3,45
- (D) 3,65
- (E) 4,15

44. Assinale a alternativa que contém o índice de liquidez seca, em Reais.

**Obs:** Para o cálculo, considere apenas duas casas decimais depois da vírgula.

- (A) 1,89
- (B) 1,50
- (C) 1,30
- (D) 1,10
- (E) 0,90

45. Trata-se da taxa de juros que iguala, numa única data, os fluxos de entrada e saída de caixa produzidos por uma operação financeira (aplicação ou captação). É a taxa de juros que, se utilizada para descontar um fluxo de caixa, produz um resultado nulo.

O conceito está representado pela fórmula:

$$FV = PF \times (1 + i)^n$$

O texto trata

- (A) da taxa de remuneração do capital.
- (B) da convenção linear e exponencial para períodos não inteiros.
- (C) do valor futuro de uma operação financeira.
- (D) do Payback.
- (E) da taxa interna de retorno.

46. Um investidor deseja obter R\$ 30.000,00 ao final de uma aplicação financeira, que lhe foi oferecida a uma taxa mensal de juros compostos de 1% por um período de 6 meses. Nesse caso, quanto o investidor deverá depositar, em Reais, desprezando os centavos, de capital a investir?

**Obs:** Para cálculo, considere apenas duas casas decimais após a vírgula, sem arredondamento.

- (A) 26.400
- (B) 27.430
- (C) 28.301
- (D) 29.001
- (E) 29.800

47. Assinale a alternativa que corresponde corretamente ao sistema de amortização de financiamento no qual os juros são decrescentes e as amortizações são crescentes, conforme modelo descrito a seguir.

Períodos (Semestres)	Saldo Devedor - R\$	Amortização R\$	Juros R\$	Prestação R\$
0	100.000,00	-	-	-
1	94.833,10	5.166,90	17.017,50	19.184,40
2	88.941,80	5.891,20	13.293,20	19.184,40
3	82.224,80	6.717,00	12.467,40	19.184,40
4	74.566,20	7.658,60	11.525,90	19.184,40

- (A) Sistema de Amortização Constante – SAC.
- (B) Sistema Misto de Amortização – SMA.
- (C) Sistema de Amortização Crescente – SACRE.
- (D) Sistema de Amortização Francês – SAF.
- (E) Sistema Americano de Amortização – SAA.

Utilize as informações que foram extraídas de determinados demonstrativos e controles contábeis, referentes ao período de seis meses, findo em 30 de junho de 2015, da Empresa Cash Flower Ltda., em comparação com o exercício imediatamente anterior, ou seja, 31 de dezembro de 2014, para responder às questões de números **48 e 49**.

Despesa de Depreciação	R\$ 3.950
Despesa de Amortização	R\$ 1.230
Resultado negativo de equivalência patrimonial em investida	R\$ 6.300
Aumento das contas a receber	R\$ 8.435
Redução nos estoques	R\$ 1.980
Aumento de fornecedores	R\$ 4.315
Aumento em salários a pagar	R\$ 2.740
Prejuízo líquido do período	R\$ 6.730

**48.** Após análise, é correto afirmar que o valor, em Reais, do prejuízo do período ajustado pelos valores que não afetam o capital circulante líquido é

- (A) 3.450.
- (B) 4.750.
- (C) 5.100.
- (D) 5.780.
- (E) 6.050.

**49.** Com base nos dados fornecidos, é correto afirmar que o caixa líquido obtido das atividades operacionais da empresa, em Reais, é de

- (A) 5.350.
- (B) 5.070.
- (C) 4.990.
- (D) 4.750.
- (E) 4.180.

**50.** O fluxo de caixa \_\_\_\_\_ é o fluxo de caixa relevante, resultante da liquidação de um investimento a longo prazo no final de sua vida. Representa o fluxo de caixa após o imposto de renda, excluindo as entradas de caixa operacionais que ocorrem no ano final do projeto.

Assinale a alternativa que preenche corretamente a lacuna.

- (A) operacional
- (B) não operacional
- (C) financeiro
- (D) de investimento
- (E) residual



