



## COMPANHIA DE DESENVOLVIMENTO DE ARAPONGAS - CODAR

**CARGO: OPERADOR DE MOTONIVELADORA**

**EDITAL N° 001/2015**

**DATA: 31/01/2016 - PERÍODO: MANHÃ**

**LEIA AS INSTRUÇÕES ABAIXO:**

- Você deve receber do fiscal o material abaixo:
  - Este caderno com 40 questões objetivas sem repetição ou falha.
  - Um **CARTÃO-RESPOSTA** destinado às respostas da prova.
  - Para realizar sua prova, use apenas o material mencionado acima e em hipótese alguma, papéis para rascunho.
- Verifique se este material está completo, em ordem e se seus dados pessoais conferem com aqueles constantes no **CARTÃO-RESPOSTA**, caso haja alguma divergência, você deve comunicar ao fiscal de sala.
- Após a conferência, você deverá assinar o seu nome completo, no espaço próprio do **CARTÃO-RESPOSTA** utilizando caneta esferográfica de tinta de cor azul ou preta.
- Escreva o seu nome e assine nos espaços indicados neste **CADERNO DE QUESTÕES**, bem como o preenchimento do campo reservado à informação de seu número de inscrição.
- No **CARTÃO-RESPOSTA**, a marcação das letras, correspondentes às respostas de sua opção, deve ser feita com o preenchimento de todo o espaço do campo reservado para tal fim.
- Tenha muito cuidado com o **CARTÃO-RESPOSTA**, para não dobrar, amassar ou manchar, pois este é personalizado e em hipótese alguma poderá ser substituído.
- Não será permitido o uso de borracha ou corretivo de qualquer espécie no **CARTÃO-RESPOSTA**, bem como qualquer outro tipo de rasura.
- Para cada uma das questões são apresentadas 4 (quatro) alternativas classificadas com as letras (a), (b), (c), e (d); somente uma responde adequadamente ao quesito proposto. Você deve assinalar **apenas uma alternativa para cada questão**; a marcação em mais de uma alternativa anula a questão, **mesmo que uma das respostas esteja correta**; também serão nulas as marcações rasuradas.
- As questões são identificadas pelo número que fica à esquerda de seu enunciado.
- Os fiscais não estão autorizados a emitir opinião nem a prestar esclarecimentos sobre o conteúdo da Prova. Cabe única e exclusivamente ao candidato interpretar e decidir a este respeito.
- Reserve os 30 (trinta) minutos finais do tempo de prova para marcar seu **CARTÃO-RESPOSTA**. Os rascunhos e as marcações assinaladas no **CADERNO DE QUESTÕES** não serão levados em conta.
- Quando terminar sua prova, entregue ao Fiscal de Sala, obrigatoriamente o **CARTÃO-RESPOSTA** devidamente assinado e o **CADERNO DE QUESTÕES**.
- O TEMPO DE DURAÇÃO PARA ESTA PROVA É DE **3hs00min.**
- Por motivos de segurança, você somente poderá ausentar-se da sala de prova após decorrida **1 (uma) hora**.

N.º DE INSCRIÇÃO						

\_\_\_\_\_  
ASSINATURA

\_\_\_\_\_  
NOME DO CANDIDATO (Letra de Forma)

Corte na linha pontilhada-----

01	02	03	04	05	06	07	08	09	10	11	12	13	14	15	16	17	18	19	20
21	22	23	24	25	26	27	28	29	30	31	32	33	34	35	36	37	38	39	40

Leia o texto para responder às questões de 01 a 05.

## A RÃ E O TOURO



Uma tarde, um touro muito grande estava passeando perto de um lago. Lá, havia várias rãs. Uma delas, viu esse touro e ficou com muita inveja dele, porque ele era enorme.

Essa rã, então, começou a comer muito e a inchar, na tentativa de ficar igual ao touro. Depois, ela perguntou as outras rãs se já estava tão grande como ele. Elas responderam que não.

Assim, a rã invejosa comeu mais e mais. Foi inchando, inchando! Mesmo assim, ela não conseguia ficar tão grande igual ao touro. Muito aborrecida, tentou mais uma vez. Comeu bastante e inchou mais ainda. Mas, nada de ficar enorme como o touro.

De repente, de tão inchada, a rã parou de respirar. Foi quando ela fez um estrondoso barulho! Sabem o que aconteceu? Arrebentou de tão inchada que estava. Coitada! Os pedaços dela foram parar em outro lago perto dali.

**Fonte:** Texto adaptado. Versão original disponível em: <http://goo.gl/UqkAEG>

**01 - A rã invejosa revelou ser muito:**

- a) Gentil.
- b) Gananciosa.
- c) Grata.
- d) Generosa.

**02 - A forma plural CORRETA de “ela arrebentou” é:**

- a) elas arrebetaram.
- b) elas arrenbentaram.
- c) elas arrebentaram.
- d) elas arrenbentou.

**03 - Assinale a alternativa em que a palavra encontra-se no gênero MASCULINO:**

- a) Tentativa.

- b) Inveja.
- c) Coitada.
- d) Lago.

**04 - Assinale a alternativa em que a palavra encontra-se com a grafia INCORRETA:**

- a) Enxarcar.
- b) Inchar.
- c) Enchumaçar.
- d) Mexer.

**05 - Assinale a alternativa CORRETA: O texto A Rã e o Touro é uma:**

- a) Lenda.
- b) História.
- c) Poesia.
- d) Novela.

**06 - Em todas as opções abaixo as palavras foram classificadas corretamente quanto à separação silábica, EXCETO em:**

- a) Ameixa = polissílaba.
- b) Caminhonete = polissílaba.
- c) Carreta = trissílaba.
- d) Casa = dissílaba.

**07 - Leia o texto abaixo e complete as lacunas com a pontuação adequada. Em seguida, assinale a alternativa CORRETA:**

Fui na feira e comprei frutas\_\_verduras\_\_ leite e carne\_\_ Quando cheguei em casa\_\_ minha mãe perguntou\_\_  
\_\_ Meu filho\_\_ você não esqueceu nada\_\_

- a) , , . , : - , ?
- b) , . . , . - ; !
- c) . . . , : - , ...
- d) , , . - : “ , .

**08 - Assinale a alternativa em que todas as palavras foram escritas CORRETAMENTE:**

- a) Passarela Palco Nhoque Xícara.
- b) Passarela Pauco Enhoque Chícara.
- c) Paçarela Palco Nhoque Xicara.
- d) Paçarela Pauco Nhoque Chicara.

**09 - Assinale a alternativa que completa corretamente as lacunas na frase: Repartia os \_\_\_\_\_ entre os \_\_\_\_\_.**

- a) pães \_ cidadãos.
- b) pães \_ cidadões.
- c) pãos \_ cidadãos.
- d) pãos \_ cidadões.

**10 - O plural de “cão” é “cães”. Qual dos substantivos abaixo faz o plural como “cão”?**

- a) anfitrião.
- b) capitão.
- c) cidadão.
- d) corrimão.

**11 - O valor da expressão  $1/6 + 0,666... + 0,6$  é:**

- a) 28/30.
- b) 11/10.
- c) 43/30.
- d) 47/30.

**12 - Um triângulo possui altura medindo 8 cm e base medindo  $7/5$  da medida da altura. A área desse triângulo mede:**

- a)  $44,8 \text{ cm}^2$ .
- b)  $67,2 \text{ cm}^2$ .
- c)  $78,4 \text{ cm}^2$ .
- d)  $89,6 \text{ cm}^2$ .

**13 - A sequência numérica (5, 11, 23, 47, 95, ?) possui determinada lógica em sua formação. O número correspondente ao símbolo “?” nessa sequência é igual a:**

- a) 189.
- b) 190.
- c) 191.
- d) 193.

**14 - Um produto que custava R\$ 140,00 recebeu dois aumentos de preço consecutivos, sendo o primeiro de 5% e o segundo de 10%. O valor desse produto após esses dois aumentos de preço é igual a:**

- a) R\$ 155,00.
- b) R\$ 159,00.
- c) R\$ 161,00.
- d) R\$ 161,70.

**15 - Oito máquinas produzem, diariamente, 10,8 centenas de unidades de determinado componente eletrônico. Com a quebra de cinco dessas máquinas, a produção diária desse componente eletrônico passou a ser de:**

- a) 405 unidades.
- b) 415 unidades.
- c) 425 unidades.
- d) 450 unidades.

**16 - Reinaldo pretende cercar com tela um terreno retangular com comprimento de 23,5 m e largura de 10,4 m, deixando apenas um espaço de 1,5 m em um dos lados do terreno, para a colocação de**

**um portão. Dessa forma, a quantidade de tela necessária para fazer esse cercamento no terreno é igual a:**

- a) 33,9 m.
- b) 60,6 m.
- c) 66,3 m.
- d) 67,8 m.

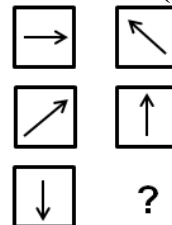
**17 - Considere que a distância entre os pontos A e B mede 0,2 dm e que a distância entre os pontos B e C mede 15 mm. Portanto, a distância entre os pontos A e C, passando por B é igual a:**

- a) 2,15 cm.
- b) 3,5 cm.
- c) 21,5 cm.
- d) 35 cm.





**18 - Gilson foi a uma mercearia e comprou dois refrigerantes por R\$ 4,50 cada, 750g de café por R\$ 6,80 o kg, e um pacote de feijão por R\$ 4,15. Para pagar por essa compra, ele deu ao caixa uma nota de 20 reais. O troco recebido por Gilson foi de:**

- a) R\$ 0,05.
- b) R\$ 1,25.
- c) R\$ 1,75.
- d) R\$ 6,25.

**19 - Observe a figura que segue, formada por símbolos distribuídos em duas colunas (vertical) e três linhas (horizontal).**



**Sabe-se que a figura representada na coluna da direita se dá de acordo com determinada lógica, em relação à figura representada na mesma linha, na coluna da esquerda. Assim, é correto afirmar que a figura que representa o símbolo “?” na coluna da direita, na terceira linha é:**

- a) 
- b) 
- c) 
- d) 

**20 - Juca aplicou um capital à taxa de juros simples de 1,25% a.m. por um período de 2,5 anos. Ao final desse período, o montante retirado foi de R\$ 1.045,00. O capital aplicado por Juca é igual a:**

- a) R\$ 680,00.
- b) R\$ 720,00.
- c) R\$ 740,00.
- d) R\$ 760,00.

**21 - Até algum tempo atrás todas as cédulas do Real tinham o mesmo tamanho. Atualmente toda a “família” do Real ganhou novas versões, EXCETO a cédula de:**

- a) R\$ 1,00.
- b) R\$ 2,00.
- c) R\$ 5,00.
- d) R\$ 10,00.

**22 - Bioma brasileiro que é conhecido como “pulmão do mundo”?**

- a) Floresta Amazônica.
- b) Mata Atlântica.
- c) Pampas Gaúcho.
- d) Pantanal Mato-Grossense.

**23 - Dos municípios limítrofes de Arapongas, qual deles possui a menor população?**

- a) Apucarana.
- b) Londrina.
- c) Rolândia.
- d) Sabáudia.

**24 - Em meados da década de 1.940 o crescimento de Arapongas estava abaixo da expectativa. A falta de transporte agravou ainda mais o quadro. Que fator externo influenciou esta crise passageira na história de nosso município?**

- a) A I Guerra Mundial.
- b) A II Guerra Mundial.
- c) A imposição do Estado Novo por parte de Getúlio Vargas.
- d) A quebra da Bolsa de Valores de Nova Iorque.

**25 - O Estado de Tocantins está localizado em que Região Geográfica Brasileira?**

- a) Centro-Oeste.
- b) Nordeste.
- c) Norte.
- d) Planalto Central.

**26 - O Jogador de Futebol do Londrina, Carlos Vitor da Costa Ressurreição, ou simplesmente Vitor, tomou uma decisão inusitada no final do**

**ano passado, decidiu que não atuaria entre o pôr-do-sol da sexta-feira e o pôr-do-sol de sábado, por motivos religiosos. Vitor joga em que posição no Londrina desde a sua contratação?**

- a) Atacante.
- b) Goleiro.
- c) Lateral.
- d) Zagueiro.

**27 - Quem ocupa atualmente a presidência da Câmara dos Deputados?**

- a) Aldo Rebelo.
- b) Eduardo Alves.
- c) Marco Maia.
- d) Michel Temer.

**28 - René Cellot, pioneiro de Arapongas, era de que nacionalidade?**

- a) Alemã.
- b) Espanhola.
- c) Francesa.
- d) Italiana.

**29 - São Capitais do Nordeste banhadas pelo mar, EXCETO:**

- a) Fortaleza e João Pessoa.
- b) Maceió e Natal.
- c) Recife e Salvador.
- d) São Luis e Teresina.

**30 - William da Fonseca Brabason Davids, quando criou Arapongas, era prefeito de que município?**

- a) Apucarana.
- b) Cambé.
- c) Londrina.
- d) Tamarana.

**31 - A aprendizagem NÃO poderá realizar-se:**

- a) Acompanhado o aprendiz por instrutor habilitado.
- b) Nos horários estabelecidos pelo órgão executivo de trânsito.
- c) Nos locais estabelecidos pelo órgão executivo de trânsito.
- d) Nos termos estabelecidos pelo órgão executivo de trânsito.

**32 - De acordo com o Artigo 138, da Lei 9.503, o condutor de veículo destinado à condução de escolares NÃO deve ter cometido nenhuma infração grave ou gravíssima, ou ser reincidente em infrações médias durante os últimos:**

- a) 06 (seis) meses.
- b) 12 (doze) meses.

- c) 18 (dezoito) meses.
- d) 24 (vinte e quatro) meses.

**33 - É uma infração gravíssima:**

- a) Deixar o condutor de prestar socorro à vítima de acidente de trânsito quando solicitado pela autoridade e seus agentes.
- b) Deixar o condutor envolvido em acidente com vítima de preservar o local, de forma a facilitar os trabalhos da polícia e da perícia.
- c) Estacionar o veículo afastado da guia da calçada a mais de um metro.
- d) Fazer ou deixar que se faça reparo em veículo na via pública, salvo nos casos de impedimento absoluto de sua remoção e em que o veículo esteja devidamente sinalizado em pista de rolamento de rodovias e vias de trânsito rápido.

**34 - NÃO será obrigatória a expedição de novo Certificado de Registro de Veículo quando:**

- a) For alterada qualquer característica do veículo.
- b) For transferida a propriedade.
- c) Houver mudança de categoria.
- d) O proprietário mudar de endereço dentro do mesmo município.

**35 - São penalidades e medidas administrativas aplicadas ao condutor que dirigir veículo com a validade da Carteira Nacional de Habilitação vencida há mais de trinta dias, EXCETO:**

- a) Apreensão do Veículo.
- b) Multa.
- c) Recolhimento da Carteira Nacional de Habilitação.
- d) Retenção do veículo até a apresentação de condutor habilitado.

**36 - São vias urbanas, EXCETO:**

- a) Arteriais.
- b) Coletoras.
- c) Estradas.
- d) Locais.

**37 - Como é denominado o implemento utilizado na Motoniveladora que aparece na imagem abaixo?**



- a) Arado.

- b) Braço.
- c) Dente.
- d) Escarificador.

**38 - Na Motoniveladora, para se realizar um valetamento, o pino da cela deve estar em que posição?**

- a) À direita, totalmente.
- b) À esquerda, totalmente.
- c) Centralizado.
- d) Nenhuma alternativa responde corretamente ao enunciado da questão.

**39 - NÃO é uma finalidade da Motoniveladora:**

- a) Compactar terrenos.
- b) Dar inclinações em terrenos.
- c) Espalhar materiais no terreno.
- d) Nivelar terrenos.

**40 - Todas as alternativas abaixo apresentam ações que devem ser executadas quando o Operador for dar a partida em uma Motoniveladora antes de girar a chave na ignição. Assinale a que deve ser feita inicialmente:**

- a) Certificar-se que todos os implementos da máquina estão apoiados no solo.
- b) Colocar e ajustar o cinto de segurança.
- c) Ligar o interruptor da corrente elétrica que vem da bateria.
- d) Mover todas as alavancas de acessórios para a posição neutra.