

**REPUBLICADO - EDITAL Nº 001-2015 - PROCESSO SELETIVO**

**VESPERTINO -24/01/2016**  
**NÍVEL MÉDIO TÉCNICO**

**PROVA OBJETIVA**

**CARGO: TÉCNICO DE ENFERMAGEM 12 HORAS**

**Leia atentamente as INSTRUÇÕES:**

1. Confira seus dados no cartão-resposta: nome, número de inscrição e o cargo para o qual se inscreveu.
2. Assine seu cartão-resposta.
3. Aguarde a autorização do Fiscal para abrir o caderno de provas. Ao receber a ordem do fiscal, confira o caderno de provas com muita atenção. Nenhuma reclamação sobre o total de questões ou falha de impressão será aceita depois de iniciada a prova.
4. O cartão-resposta não será substituído, salvo se contiver erro de impressão.
5. Preencha toda a área do cartão-resposta correspondente à alternativa de sua escolha, com caneta esferográfica (tinta azul ou preta), sem ultrapassar as bordas. As marcações duplas, ou rasuradas, com corretivo, ou marcadas diferentemente do modelo estabelecido no cartão-resposta poderão ser anuladas.
6. Sua prova tem **30** questões, com **4** alternativas.
7. Cabe apenas ao candidato a interpretação das questões, **o fiscal** não poderá fazer nenhuma interferência.
8. A prova será realizada com duração máxima de **3 (três) horas**, incluído o tempo para a realização da Prova Objetiva e o preenchimento do cartão-resposta.
9. O candidato poderá retirar-se do local de realização das provas somente **1 (uma) hora** após o seu início, sem levar o caderno de provas.
10. O candidato poderá levar o caderno de provas, assim como anotação contendo transcrição do seu cartão-resposta, somente **1h30min** (uma hora e trinta minutos) após o início da realização das provas.
11. Ao terminar a prova, o candidato deverá entregar ao fiscal de sala o cartão-resposta preenchido e assinado.
12. Os **3 (três)** candidatos, que terminarem a prova por último, deverão permanecer na sala, e só poderão sair juntos após o fechamento do envelope, contendo os cartões-resposta dos candidatos presentes e ausentes, e assinarem no lacre do referido envelope, atestando que este foi devidamente lacrado.
13. Durante todo o tempo em que permanecer no local onde está ocorrendo o concurso, o candidato deverá, manter o celular desligado e sem bateria, só sendo permitido ligar depois de ultrapassar o portão de saída do prédio.
14. Não será permitido ao candidato fumar na sala de provas, bem como nas dependências.

**BOA PROVA!**

## LÍNGUA PORTUGUESA

Leia o texto abaixo e, depois, responda às próximas cinco questões.

### As algas

As algas  
das águas salgadas  
são mais amadas,  
são mais amargas

As algas marinhas  
não andam sozinhas,  
de um reino maravilhoso  
são as rainhas.

As algas muito amigas  
inventam cantigas  
pra embalar  
os habitantes do mar.

As algas tão sábias  
são cheias de lábias  
se jogam sem medo  
e descobrem  
o segredo  
mais profundo  
que há bem no fundo  
do mar.

As algas em seus verdores  
são plantas e são flores.

**Um pouco de tudo: de bichos, de gente, de flores,** de Elias José. São Paulo: Paulinas, 1982. p. 17.

### 01. Escolha a alternativa que mencione, de forma sucinta, o assunto tratado no texto.

- a) Algas
- b) Fundo do mar
- c) Águas salgadas
- d) Um reino maravilhoso

### 02. Qual a finalidade do texto e que outra característica indica a que gênero pertence?

- a) Apresentar uma informação sobre acontecimentos do dia a dia. É escrito de forma a não ocupar todo o espaço na página.
- b) Narrar uma história fantástica. Tem sonoridade e sugere cores.
- c) Ser lido e apreciado por sua sonoridade, ritmo e pelo modo incomum como trata de algo. Apresenta repetição de sons de vogais e de consoantes de modo que se perceba que foi intencional por parte do autor.
- d) Argumentar sobre um assunto polêmico. Descreve seres vivos e situações de modo incomum.

### 03. O poema, ao falar das plantas aquáticas, descreve-as de uma determinada maneira. Escolha a alternativa cuja descrição dessas plantas esteja correta, de acordo com o texto.

- a) Sensível, especial, incomum, porque as algas são descritas por meio das emoções que sentem, das relações afetivas que têm e da forma como se comportam no mar.
- b) Direta e clara, pois as algas são apresentadas da forma como realmente existem na natureza.
- c) Incompreensível, uma vez que não é possível entender do que trata o texto.
- d) Humorística, conforme se pode perceber pela escolha das palavras do texto.

### 04. Escolha a alternativa em que a palavra retirada do texto apresenta-se com a sua correta justificativa de acentuação gráfica.

- a) “águas” – oxítone terminada em ditongo.
- b) “sábias” – proparoxítone terminada em ditongo.
- c) “lábias” – paroxítone terminada em s.
- d) “há” – monossílabo tônica terminada em a(s).

### 05. Considerando as palavras mencionadas em cada alternativa, escolha aquela em que há correspondência entre o número de fonemas e o de letras.

- a) “há”; “de”.
- b) “bem”; “mar”.
- c) “fundo”; “algas”.

d) “que”; “são”.

## MATEMÁTICA

06. Simplificando a expressão  $(2a - b^2)^2$ , temos:

- a)  $4a(1 + b^3) + b^6$
- b)  $4a(1 - b^3) + b^6$
- c)  $4a(1 - b^3) - b^6$
- d)  $4a(1 - b^3) + b^9$

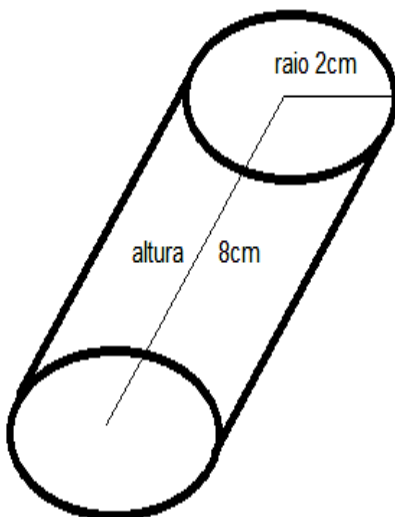
07. Sabe-se que a taxa de juros praticada por uma operadora de cartão de crédito é de 12,5% ao mês, que em um determinado mês o valor da fatura da Dona Maria foi de R\$ 1.100,00 e que, por motivos diversos, ela conseguiu pagar somente R\$ 300,00 desse valor e não teve condições de pagar nada a mais nos 3 seguintes meses. Pergunta-se: qual o valor total da dívida desse cartão após esse período, sabendo que o sistema praticado por essa operadora é no regime composto?

- a) R\$ 1.100,00
- b) R\$ 1.110,00
- c) R\$ 1.129,06
- d) R\$ 1.139,06

08. Sabe-se que uma corrida de táxi é cobrada conforme a quilometragem percorrida pelo cliente acrescida de uma taxa inicial, ou seja, cada corrida de táxi de uma determinada cidade é cobrada a partir da taxa inicial de R\$ 6,00 para a bandeira 1 e de R\$ 10,00 para a bandeira 2, acrescida de R\$ 1,03 por quilômetro rodado na bandeira 1 e R\$ 1,23 por quilômetro rodado na bandeira 2. Sabe-se ainda que, ao final da corrida contratada pelo senhor Reis, ele pagou o valor total de R\$ 32,78. Como não sabemos em qual bandeira o senhor Reis fez essa corrida, pergunta-se: qual a distância, em quilômetros, percorrida no caso de ambas as bandeiras?

- a) Bandeira 1 – 26 quilômetros percorridos; Bandeira 2 – 18,5 quilômetros percorridos.
- b) Bandeira 1 – 18,5 quilômetros percorridos; Bandeira 2 – 26 quilômetros percorridos.
- c) Bandeira 1 – 36 quilômetros percorridos; Bandeira 2 – 28,5 quilômetros percorridos.
- d) Bandeira 1 – 16 quilômetros percorridos; Bandeira 2 – 28,5 quilômetros percorridos.

09. Observe o objeto cilíndrico que dona Ana deseja revestir, na figura seguinte:



Pergunta-se: qual a metragem mínima necessária para revestir todo esse cilindro?

- a)  $34\pi \text{ cm}^2$
- b)  $36\pi \text{ cm}^2$
- c)  $38\pi \text{ cm}^2$
- d)  $40\pi \text{ cm}^2$

10. Em uma escola regular, um grupo de alunos do terceiro ano decidiu fazer uma pesquisa a fim de verificar a pretensão de curso superior dos estudantes do último ano do ensino regular. Diante dos dados obtidos, observaram que o grupo pesquisado era composto de 500 estudantes, no qual 150 pretendiam cursar Matemática, 80 cursar Física e 10 Matemática e Física. Pergunta-se: Se um aluno for escolhido aleatoriamente nesse grupo, a probabilidade de ele não querer estudar Matemática ou Física é:

- a) 2%

- b) 14%
- c) 44%
- d) 56%

## INFORMÁTICA BÁSICA

11. Sobre o conceito de Hardware, podemos afirmar que:

- a) É a parte física do computador.
- b) É um software utilitário.
- c) É um software aplicativo.
- d) É a parte lógica do computador.





12. O Microsoft Word 2010 possui teclas de atalho que auxiliam o usuário em suas atividades. As teclas de atalho que representam a sequência NEGRITO, ITÁLICO e SUBLINHADO, respectivamente, são:

- a) CTRL + X, CTRL + S e CTRL + N
- b) CTRL + N, CTRL + Z e CTRL + C
- c) CTRL + S, CTRL + N e CTRL + A
- d) CTRL + N, CTRL + I e CTRL + S

13. Um professor utilizava o Microsoft Excel 2010 para avaliar a situação de seus alunos, sendo que os alunos com nota acima de 70 (setenta) estariam APROVADOS e os alunos com nota abaixo de 70 (setenta) estariam REPROVADOS. Diante dessa situação, assinale a alternativa que apresenta a função que possui a estrutura da fórmula correta, e que, portanto, poderia ser utilizada pelo professor.

- a) SE(C1<70;"REPROVADO";"APROVADO")
- b) =SE(C1<70;"REPROVADO";"APROVADO")
- c) =SE(C1<70;REPROVADO;APROVADO)
- d) =SE("C1<70";REPROVADO;APROVADO)

14. Um usuário do Microsoft Word 2010, após digitar uma frase com fonte "minúscula", necessita alterar a frase digitada para fonte "maiúscula". Para que a frase fique com fonte "maiúscula", bastaria:

- a) Selecionar o texto, marcar a opção  e marcar a opção "MAIÚSCULAS".
- b) Selecionar o texto, marcar a opção  e marcar a opção "MAIÚSCULAS".
- c) Selecionar o texto, marcar a opção  e marcar a opção "MAIÚSCULAS".
- d) Selecionar o texto, marcar a opção  e marcar a opção "MAIÚSCULAS".

15. Com base no Microsoft Excel 2010, a opção "Mesclar e Centralizar" permite, entre outros, que as células sejam mescladas em uma linha ou uma coluna, e o conteúdo das células seja centralizado na célula mesclada. Assinale abaixo a guia onde é possível localizar a opção "Mesclar e Centralizar".

- a) Inserir
- b) Página Inicial
- c) Revisão
- d) Fórmulas

## CONHECIMENTOS GERAIS

16. A Assembleia Legislativa de Mato Grosso do Sul teve origem na instalação da Assembleia Estadual Constituinte, para elaborar a primeira Constituição do recém-criado Estado de Mato Grosso do Sul pelo então Presidente da República, General Ernesto Geisel, através da Lei Complementar nº 31.

Qual o nome do atual 1º vice-presidente presidente dessa Assembleia?

- a) Professor Rinaldo
- b) Pedro Kemp
- c) Onevan de Matos
- d) Maurício Picarelli

17. Foi inaugurado no dia 17/12/2015, no Rio de Janeiro, um museu que oferece uma visão do que pode ser o nosso futuro. O projeto é do arquiteto espanhol Santiago Calatrava, um dos arquitetos mais arrojados do mundo.

Esse Museu recebeu o nome de

- a) Museu do Amanhã
- b) Museu da Arte Moderna
- c) Museu do Futuro
- d) Museu Contemporâneo

18. Analise os seguintes itens sobre Direito do Consumidor:

1. A adequada e eficaz prestação dos serviços públicos em geral é um dos direitos básicos do consumidor.

**2. O produto é considerado defeituoso pelo fato de outro de melhor qualidade ter sido colocado no mercado.**

**3. São impróprios os serviços que se mostrem inadequados para os fins que razoavelmente deles se esperam, bem como aqueles que não atendam as normas regulamentares de prestabilidade.**

**São corretas as afirmações**

- a) 1 e 2, somente.
- b) 1, 2 e 3.
- c) 1 e 3, somente.
- d) 2 e 3, somente.

**19. Tendo em mente a Lei nº 11.340/2006 (Lei Maria da Penha), analise as alternativas e marque a incorreta.**

- a) As relações pessoais enunciadas no art. 5º da Lei Maria da Penha dependem de orientação sexual.
- b) A violência doméstica e familiar contra a mulher constitui uma das formas de violação dos direitos humanos.
- c) São formas de violência doméstica e familiar contra a mulher, entre outras a violência moral, entendida como qualquer conduta que configure calúnia, difamação ou injúria.
- d) O juiz determinará, por prazo certo, a inclusão da mulher em situação de violência doméstica e familiar no cadastro de programas assistenciais do governo federal, estadual e municipal.

**20. Qual alternativa completa a lacuna do texto estabelecido no § 2º do art. 15 da Lei nº 10.714, de outubro de 2003, que dispõe sobre o Estatuto do Idoso?**

**Incumbe \_\_\_\_\_ fornecer aos idosos, gratuitamente, medicamentos, especialmente os de uso continuado, assim como próteses, órteses e outros recursos relativos ao tratamento, habilitação ou reabilitação.**

- a) ao SUS
- b) aos hospitais públicos
- c) ao Ministério da Saúde
- d) ao Poder Público

#### **CONHECIMENTOS ESPECÍFICOS**

**21. São exemplos de sistemas de baixo fluxo em oxigenoterapia:**

- a) Máscara de Venturi, cânula nasal e cateter nasal.
- b) Cânula nasal, cateter nasal e cateter transtraqueal.
- c) Cateter transtraqueal, máscara de Venturi e cateter nasal.
- d) Inaloterapia, máscara de Venturi e cateter trastraqueal.

**22. Acredita-se que grande parte dos casos de Úlcera por Pressão (UPP) podem ser evitados por meio da identificação dos pacientes em risco e da implantação de estratégias de prevenção. Assinale a alternativa que contém as seis estratégias recomendadas pelo Ministério da Saúde (2013) para prevenção das UPP.**

- a) Avaliação de úlcera por pressão na admissão de todos os pacientes, reavaliação diária de risco de desenvolvimento de UPP de todos os pacientes internados, inspeção diária da pele, manejo da umidade, otimização da nutrição e hidratação e minimizar a pressão.
- b) Avaliação de úlcera por pressão na admissão de todos os pacientes, reavaliação semanal do risco de desenvolvimento de UPP, inspeção diária da pele, manejo da umidade, otimização da nutrição e hidratação e minimizar a pressão.
- c) Avaliação de úlcera por pressão na admissão de todos os pacientes, reavaliação semanal do risco de desenvolvimento de UPP de todos os pacientes internados, inspeção diária da pele, aumento da umidade, otimização da nutrição e hidratação e minimizar a pressão.
- d) Avaliação de úlcera por pressão na admissão de todos os pacientes, reavaliação diária de risco de desenvolvimento de UPP apenas dos pacientes classificados com risco para UPP, inspeção da pele a cada 48 horas, manejo da umidade, otimização da nutrição e hidratação e aumento da pressão.

**23. O posicionamento do paciente é importante, pois possibilita a execução de exames, a realização de procedimentos cirúrgicos e a manutenção do conforto do paciente acamado. São exemplos de posições que o paciente pode adotar:**

- a) Litotomia, decúbito em pé e posição de Fowler.
- b) Posição deitada, posição de Fowler e posição cefálica.
- c) Genupeitoral, ginecológica e decúbito dorsal.
- d) Decúbito de pé, ortostática e posição semi Fowler.

**24. Ao nascerem, algumas crianças, apresentam características associadas a um maior risco de adoecer e morrer. É considerado fator de risco ao nascer:**

- a) Mãe com baixa instrução, menos de 10 anos de estudo.
- b) Peso abaixo de 3.500 gramas.
- c) Apgar maior que 05 ao nascer.
- d) História de morte de crianças com menos de cinco anos na família.

**25. Assinale a alternativa correta em relação à administração de medicamentos.**

- a) Os medicamentos devem ser preparados com 05 horas de antecedência do horário de administração.
- b) Não se faz necessário comunicar ao paciente o medicamento que será administrado e sua possível ação no momento da administração.
- c) Não se faz necessário o registro e a comunicação caso ocorra omissão de doses.
- d) Levar ao leito do paciente, no horário da administração de medicamentos, apenas o que está prescrito a um único paciente, não fazendo uso de bandeja contendo diversos medicamentos para diferentes pacientes.

**26. Sempre que as condições da mãe e do recém-nascido permitirem, estes devem permanecer juntos após o parto. O alojamento conjunto vem sendo recomendado e valorizado desde a década de 70. Assinale a alternativa incorreta em relação ao alojamento conjunto.**

- a) O alojamento conjunto aumenta o risco de infecção hospitalar pela proximidade do binômio mãe-filho.
- b) O alojamento conjunto possibilita maior interação entre a mãe e sua família e os profissionais de saúde responsáveis pela atenção à criança.
- c) O alojamento conjunto possibilita a troca de experiências com outras mães quando compartilham o mesmo quarto, em especial com mães mais experientes que também estão cuidando dos seus filhos.
- d) O alojamento conjunto possibilita maior envolvimento dos pais e/ou de outras pessoas significativas no futuro cuidado com a criança.

**27. A vacina contra a Febre Amarela é contraindicada para indivíduos:**

- a) Residentes nos estados das regiões Norte e Centro-Oeste.
- b) Menores de 06 meses.
- c) Maiores de 60 anos.
- d) Hipertensos e Diabéticos.

**28. A Política Nacional de Humanização (PNH) busca produzir mudanças na forma de gerir e cuidar, estimulando a comunicação entre gestores, trabalhadores e usuários dos serviços de saúde. A PNH é orientada por princípios e diretrizes, sendo uma das diretrizes a ambiência. Entende-se por ambiência:**

- a) É uma ferramenta teórica e prática, cuja finalidade é contribuir para uma abordagem clínica do adoecimento e do sofrimento, que considere a singularidade do sujeito e a complexidade do processo saúde/doença.
- b) Dar visibilidade à experiência dos trabalhadores e incluí-los na tomada de decisão.
- c) Criação de espaços saudáveis, acolhedores e confortáveis, que respeitem a privacidade, propiciem mudanças no processo de trabalho e sejam lugares de encontro entre as pessoas.
- d) Inclusão de novos sujeitos nos processos de análise e decisão quanto à ampliação das tarefas da gestão.

**29. Os nebulizadores, umidificadores, inaladores e os circuitos respiratórios são equipamentos que entram em contato com mucosas íntegras colonizadas, exigindo, no mínimo, uma desinfecção de alto nível, e por isso são classificados como:**

- a) Equipamentos de assistência respiratória críticos.
- b) Equipamentos de assistência respiratória limpos.
- c) Equipamentos de assistência respiratória semi-críticos.
- d) Equipamentos de assistência respiratória não-críticos.

**30. Assinale a alternativa correta em relação às vacinas que compõem o calendário nacional de vacinação para gestante.**

- a) Hepatite B, dupla adulto e vacina dTpa.
- b) Duplo adulto, vacina HPV e vacina tríplice viral.
- c) Febre Amarela, vacina HPV e vacina dTpa.
- d) Hepatite B, febre amarela e dupla adulto.

**RASCUNHO**