

ESTADO DE PERNAMBUCO
PREFEITURA MUNICIPAL DE CARNAÍBA

CONCURSO PÚBLICO

PROVA PARA CARGO DE:

Ag.de Desenvolvimento Comunitário

* ATENÇÃO - CONFIRA SE ESTA PROVA CORRESPONDE AO CARGO QUE VOCÊ CONCORRE

* Neste Caderno de Questões, você encontra:

- 20 questões ESPECÍFICAS
- 10 questões de Português
- 10 questões de Matemática

* Só inicie a prova após a autorização do Fiscal de Sala.

* Duração da prova: 3 horas. O Candidato só poderá retirar-se do recinto das provas após 01 hora, contada a partir do seu efetivo início.

* O candidato só terá o direito de levar o caderno de prova após 02:00 horas do início dos trabalhos, e deixará apenas o Cartão de Respostas.

* Caso o candidato opte em sair antes de 02:00 horas do início dos trabalhos; NÃO será permitido a anotação do gabarito seja qual for a forma.

* Os Fiscais de Sala não estão autorizados a prestar quaisquer esclarecimentos sobre a resolução das questões; esta tarefa é obrigação do candidato.

* Não é permitido que os candidatos se comuniquem entre si. É proibida também a utilização de quaisquer equipamentos eletrônicos.

* O candidato receberá do Fiscal de Sala, 01 (hum) Cartão de Respostas correspondente às questões objetivas.

* Assine o seu Cartão de Respostas (Gabarito). Assinale apenas uma opção em cada questão. Não deixe questão em branco, nem assinale mais de uma opção, para seu Cartão não ter questões anuladas.

* O seu Cartão de Respostas é pessoal e insubstituível. Portanto, CUIDADO, não rasure, dobre ou amasse seu Cartão de Respostas pois em hipótese alguma ele será substituído, salvo por erro do fiscal ou por falha de impressão. Confira seus dados, leia as instruções para seu preenchimento e assinale no local indicado.

* A assinatura no Cartão de Respostas é obrigatória.

* O Gabarito desta prova estará disponível no dia 26/11/2012, no site www.compass.com.br.

* Para exercer o direito de recorrer contra qualquer questão, o candidato deve seguir as orientações constantes da Cláusula XI do Edital do Concurso Público nº 001/2012 da PREFEITURA MUNICIPAL DE CARNAÍBA de 17/09/2012.

* Após o término da prova, o candidato deverá deixar a sala e em hipótese alguma poderá permanecer no estabelecimento onde realizou a mesma.

BOA PROVA!!

DATA: 25 DE NOVEMBRO DE 2012

COMPASS

Concursos Públicos
e Assessorias

PARTE I – AG.DE DESENV.COMUNITÁRIO

01 - O Estatuto da Criança e do Adolescente – ECA (1990), ao tratar da informação, cultura, lazer, esportes, diversões e espetáculos direcionados ao segmento infanto-juvenil assegura em seu Capítulo II que trata da prevenção especial, artigo 78:

- A) As revistas e publicações não necessitam ser comercializadas em embalagens lacradas, nem tão pouco conter advertência.
- B) As revistas e publicações contendo material impróprio ou inadequado a crianças e adolescentes deverão ser comercializadas em embalagem lacrada, com a advertência de seu conteúdo.
- C) O descumprimento das normas de prevenção importará na prisão e julgamento da pessoa jurídica ou física que desobedecer ao que prevê esse artigo.
- D) Os responsáveis por locais de shows, cinemas e outros tipos de espetáculos não estão sujeitos a fiscalização.
- E) Toda criança e adolescente terá acesso às diversões e espetáculos, independente da classificação ser adequada ou não a sua idade.

02 - Conforme o Capítulo II do Estatuto da Criança e do Adolescente, as entidades de atendimento responsáveis pela execução de programas de proteção e socioeducativos, destinados às crianças e adolescentes funcionam em regime de:

- I. Abrigo
- II. Liberdade Assistida
- III. Semiliberdade
- IV. Internação
- V. Apoio Socioeducativo em Meio Aberto

A partir dos pontos acima, assinale apenas a alternativa que indica o conjunto de itens corretos.

- A) Todas estão corretas
- B) Estão corretas II, IV, exceto a V
- C) Somente está correta a III
- D) Somente estão corretas I e III
- E) Todas estão incorretas

03 - As entidades que desenvolvem programas de abrigamento poderão, em caráter excepcional e de urgência:

- A) Abrigar crianças e adolescentes sem prévia determinação da autoridade competente, fazendo comunicação do fato até o segundo dia útil imediato.
- B) Abrigar crianças e adolescentes somente com a determinação da autoridade competente, independente, da gravidade do caso.
- C) Esperar a determinação judicial para fazer a inclusão da criança e do adolescente no programa de abrigo.
- D) Abrigar a criança e o adolescente, sem prévia determinação da autoridade competente, fazendo a comunicação do fato até três dias úteis após o abrigamento.
- E) O dirigente da entidade de abrigo é equiparado ao guardião da criança e do adolescente, sendo assim, esta desobrigada da autorização da autoridade judicial.

04 - Ao tratar da proteção à criança e ao adolescente o ECA estabelece em parágrafo único do Art. 4º algumas prioridades como:

- A) Participar da vida familiar e comunitária da criança.
- B) Preferência na formulação e na execução das políticas sociais públicas.
- C) Os casos de maus-tratos não devem ser prioritariamente comunicados ao Conselho Tutelar.
- D) Oferecer refúgio ou auxílio à criança negligenciada.
- E) Participar da vida política do país na forma da lei.

05 - O Conselho Tutelar é órgão permanente e autônomo, não jurisdicional, todavia, o candidato a membro do conselho deve apresentar determinados requisitos como:

- I. Reconhecida idoneidade moral;
- II. Idade superior a vinte e um anos;
- III. Residir no município;
- IV. Ter o nível superior completo;
- V. Ter trabalhos comunitários reconhecidos.

A partir dos pontos acima, assinale apenas a alternativa que indica o conjunto de itens corretos.

- A) I, II, III
- B) IV, II, I
- C) II, III, IV
- D) III, IV, V
- E) I, II, V

06 - O Estatuto da Criança e do Adolescente consagra a doutrina da:

- A) Proteção irregular
- B) Proteção punitiva
- C) Proteção integral
- D) Proteção complementar
- E) Proteção pública

07 - O Programa de Erradicação do Trabalho Infantil – PETI é um programa do governo federal que:

- A) Articula um conjunto de ações que tem como foco retirar crianças e adolescentes com idade até 14 anos do trabalho infantil.
- B) Articula um conjunto de ações visando retirar crianças e adolescentes com idade inferior a 16 anos da prática do trabalho precoce.
- C) Reconhece a criança e o adolescente como sujeito de direito, mas não objetiva coibir a prática do trabalho infantil.
- D) Protege a criança, o adolescente e sua família contra o trabalho infantil.
- E) Articula ações voltadas para o combate do trabalho infanto-juvenil até 15 anos incompletos.

08 - O Programa de Erradicação do Trabalho Infantil – PETI articula-se com outro programa de transferência de renda para as famílias. A questão faz referência ao:

- A) Programa Projovem
- B) Programa de Segurança Alimentar
- C) Programa cozinha Solidária
- D) Programa Agente Jovem
- E) Programa Bolsa Família

09 - O Programa de Erradicação do Trabalho Infantil – PETI possui dentre seus objetivos a:

- A) Mobilização, participação e orientações sobre o trabalho infantil.
- B) Centralidade no núcleo familiar, independente de sua origem e composição.
- C) Garantia de espaços de participação e controle social da sociedade civil no enfrentamento do trabalho infantil.
- D) Oferta de atividades continuadas sem necessariamente ter horário nem espaços pré-definidos.
- E) Convivência comunitária como forma de prevenir o trabalho precoce.

10 - A assistência social foi definida na Constituição Federal de 1988 como política pública de direitos e não contributiva regulamentada pela:

- A) Lei Orgânica da Assistência Social
- B) Lei Geral da Assistência Social
- C) Lei Inorgânica da Assistência Social
- D) Lei Orgânica da Assistência
- E) Plano Nacional de Assistência Social

11 - O Serviço de Convivência e Fortalecimento de vínculos do PETI tem por objetivos:

- I. Ampliar trocas culturais e de vivência;
- II. Desenvolver o sentimento de pertença e de identidade;
- III. Fortalecer vínculos familiares e incentivar a socialização e a convivência comunitária;
- IV. Incentivar a socialização independente dos vínculos familiares;
- V. Fortalecer práticas de esporte sempre que possível.

A partir dos pontos acima, assinale apenas a alternativa que indica o conjunto de itens corretos.

- A) I, III, IV
- B) III, IV, V
- C) II, IV, V
- D) I, IV, V
- E) I, II, III

12 - A Lei n. 11.692 de 10 de Junho de 2008 dispõe sobre o:

- A) Programa de Erradicação do Trabalho Infantil – PETI
- B) Programa de Transferência de Renda – Bolsa família
- C) Programa Socioeducativo para Jovens
- D) Programa Nacional de Inclusão de Jovens – PROJOVEM
- E) Programa Nacional de Direitos Humanos

13 - O PROJOVEM ADOLESCENTE – Serviço Socioeducativo destina-se a:

- A) Jovens de 15 a 17 anos
- B) Jovens de 13 a 16 anos
- C) Jovens de 15 a 18 anos
- D) Jovens de 14 a 17 anos
- E) Jovens de 15 a 19 anos

14 - Objetiva preparar para o mercado de trabalho e ocupações alternativas geradoras de renda, por meio da qualificação social e profissional e do estímulo à sua inserção. Esse objetivo refere-se ao:

- A) Projovem Campo – Saberes da Terra
- B) Projovem Urbano
- C) Projovem Adolescente
- D) Projovem Socioeducativo
- E) Projovem Trabalhador

15 - O Projovem Adolescente – Serviço Socioeducativo destina-se prioritariamente aos jovens:

- A) Egressos do Programa de Erradicação do Trabalho Infantil – PETI
- B) Egressos do Programa Agente Jovem
- C) Egressos das Medidas Socioeducativas
- D) Egressos de Casa Abrigo
- E) Encaminhados pelo Poder Judiciário

16 - O direito à liberdade de crianças e adolescentes compreende, dentre outros, o direito de:

- A) Brincar, praticar esportes e divertir-se.
- B) Trabalhar e contribuir com a renda familiar
- C) Ter cela especial nos presídios de alta segurança
- D) Omitir opinião e expressão.
- E) Viajar para fora de sua comarca, desacompanhada dos pais.

17 - No Brasil a partir da Lei n.10.741/2003, são considerados idosos:

- A) pessoas com idade acima de sessenta anos
- B) pessoas com idade igual ou superior a sessenta anos
- C) pessoas acima de sessenta e cinco anos
- D) pessoas acima de setenta anos
- E) pessoas com idade entre setenta e setenta e cinco anos

18 - O Plano Nacional de Enfrentamento à Violência Contra Crianças e Adolescentes, elaborado em junho de 2000 tem como foco à violência:

- A) Psicológica
- B) Doméstica
- C) Moral
- D) Sexual
- E) Agressiva

19 - Conforme prevê o ECA as medidas socioeducativas quando verificado a prática do ato infracional pode ser:

- I. Advertência
- II. Obrigação de reparar o dano
- III. Liberdade Assistida
- IV. Privação total de liberdade sem direito à visita
- V. Não prevê continuidade educacional

A partir dos pontos acima, assinale apenas a alternativa que indica o conjunto de itens corretos.

- A) I, II, III
- B) II, III, IV
- C) I, II, V
- D) I, II, IV
- E) III, IV, V

20 - O Plano Nacional de Promoção, Proteção e Defesa do Direito de Crianças e Adolescentes à Convivência Familiar e Comunitária apresenta como um dos seus objetivos:

- A) Assegurar o acolhimento institucional como medida excepcional e provisória, proporcionando atendimento coletivo, independente do tamanho do grupo.
- B) Assegurar estratégias e ações que favoreçam programas de acolhimento, independente do vínculo familiar.
- C) Políticas e programas que venham assegurar o atendimento a esse segmento e sua família.
- D) Proporcionar, por meio de apoio psicossocial a manutenção da criança e do adolescente em seu ambiente familiar e comunitário, considerando os recursos e potencialidades da família natural, da família extensa e da rede social de apoio.
- E) Proporcionar por meio de apoio psicossocial a manutenção da criança e do adolescente em seu ambiente familiar e comunitário, desconsiderando assim, os recursos e potencialidades da sua família.

PARTE II - PORTUGUÊS

As questões 21 e 22 referem-se ao texto seguinte:

Passei a vida atrás de eleitores e agora busco os leitores.

(José Sarney, na Veja, dez/97)

21- Das afirmações seguintes:

- I- Através do texto é possível deduzir uma mudança na vida profissional.
- II- O vocábulo “recentemente” pode substituir o termo “AGORA” sem alteração semântica.
- III- Infere-se do texto que a atividade inicial do autor foi passageira.

- A) Estão corretos os itens I e II.
- B) Estão corretos os itens I e III.
- C) Estão corretos os itens II e III.
- D) Todos estão corretos.
- E) Apenas o item I está correto.

22- O autor do texto sugere estar passando de:

- A) senador a escritor
- B) político a romancista
- C) político a escritor
- D) político a jornalista
- E) escritor a político

As questões 23 e 24 referem-se a tira seguinte:



23- Das afirmações seguintes:

I- Podemos afirmar que há nos quadinhos uma crítica em relação a alguns problemas da sociedade moderna.

II- O autor refere-se a certos fatos da vida social e econômica do brasileiro que ocorrem constantemente, exceto o mau humor que raramente ocorre.

III- De acordo com o primeiro quadrinho a suposição de que o valor do real possa se equiparar ao do dólar constituiu uma esperança remota na sociedade brasileira.

- A) Estão corretos apenas os itens I e III.
- B) Estão corretos apenas os itens I e II.
- C) Estão corretos apenas os itens II e III.
- D) Todos estão corretos.
- E) Apenas o item I está correto.

24- Os vocábulos seguintes, presentes no texto, são substantivos abstratos, exceto:

- A) milagres
- B) transformação
- C) aparição
- D) multiplicação
- E) policial

25- Assinale a alternativa cuja classificação do elemento mórfico destacado está incorreto:

- A) inquietar (vogal temática)
- B) esclarecimento (radical)
- C) relembrando (prefixo)
- D) cafeteria (sufixo)
- E) supersensível (vogal de ligação)

26- Assinale a única alternativa que apresenta erro no que diz respeito ao gênero das palavras:

- A) A derme
- B) O comichão
- C) O eczema
- D) O clã
- E) A omoplata

27- Assinale a alternativa correta quanto à concordância:

- A) O motorista foi um dos que ajudou os acidentados.
- B) Haviam instrumentos exóticos na orquestra.
- C) Necessitam-se de corretores experientes.
- D) Fazem dias que chegaram os convites para a exposição.
- E) Duas folhas eram bastante para o relatório.

28- Identifique a alternativa em que o emprego do hífen está incorreto:

- A) anti-higiênico
- B) Grã-Bretanha
- C) pan-africano
- D) anti-religioso
- E) couve-flor

29- Identifique nas frases seguintes, a que apresenta o vocábulo destacado empregado de forma incorreta:

- A) Com o calor ele passou a suar mais.
- B) Saiu sem dar um cumprimento sequer.
- C) Aquela atitude não surtiu efeito.
- D) Esse produto difere muito daquele que eu costume usar.
- E) Por causa do peso, o teto arriou.

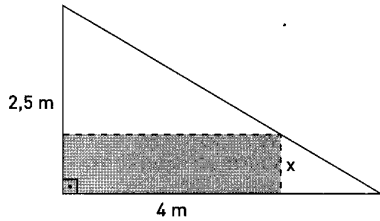
30- A crase foi usada de forma correta apenas em:

- A) Esta é a cidade à que iremos.
- B) Este é o autor à cuja obra me refiro.
- C) Esta é a posição à que aspiro.
- D) Vou à Brasília.
- E) Esta comida é igual à que comprei.

PARTE III - MATEMÁTICA

31 - Uma chapa de aço na forma de triângulo retângulo de catetos 4 m e 2,5 m será recortada de modo a obter uma placa retangular como indica a figura. Qual a área máxima que esta placa retangular pode ter?

- A) 2,5 m²
- B) 3,5 m²
- C) 1,5 m²
- D) 2,0 m²
- E) 3,0 m²

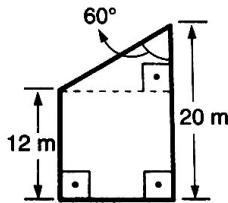


32 - A assinatura mensal de um telefone celular na empresa "Roubotel" é de R\$ 36,00 e cada minuto falado custa R\$ 3,00. Qual o limite máximo de minutos que posso usar durante um mês para que a conta seja inferior a R\$ 72,00?

- A) 15 minutos
- B) 12 minutos
- C) 10 minutos
- D) 20 minutos
- E) 24 minutos

33 - Qual a área do trapézio abaixo em m² ?

- A) 128√3
- B) 160√3
- C) 60√3
- D) 120√3
- E) 64√3



34 - Quando estamos caminhando é possível observar, nas calçadas, algumas fissuras deixadas de propósito durante sua construção. Essas fissuras são necessárias devido a um fenômeno físico chamado dilatação térmica, o qual consiste no aumento ou diminuição do tamanho de um sólido de acordo com a temperatura em que é submetido. Consideremos uma placa de concreto cujo comprimento (l) varia de acordo com a temperatura (T) em que é submetida. Sabendo que:

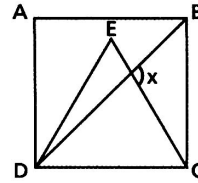
- T₁ = 25 °C e l₁ = 31,15 cm;
- T₂ = 100 °C e l₂ = 31,25 cm;

Determine a função afim que expresse l em função de T.

- A) $l(T) = 750T + \frac{1867}{60}$
- B) $l(T) = \frac{1}{70}T + \frac{1867}{70}$
- C) $l(T) = \frac{1}{750}T + \frac{1867}{750}$
- D) $l(T) = \frac{1}{750}T + \frac{1867}{60}$
- E) $l(T) = \frac{7}{750}T + \frac{1867}{60}$

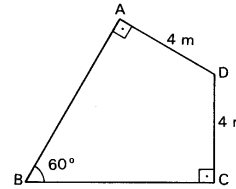
35 - Na figura, ABCD é um quadrado e CDE é um triângulo equilátero. A medida do ângulo x é:

- A) 105°
- B) 45°
- C) 60°
- D) 75°
- E) 110°



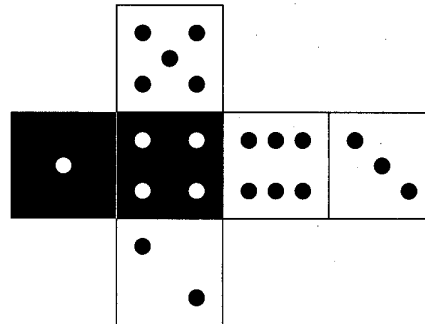
36 - A área do quadrilátero abaixo, em m², é ?

- A) 4√3
- B) 20√3
- C) 8√3
- D) 25√3
- E) 16√3



37 - A tabela abaixo indica as apostas feitas por 5 amigos em relação ao resultado decorrente do lançamento de um dado, cuja planificação está indicada na figura a seguir.

Ana	Face branca ou número par.
Bruna	Face branca ou número 5.
Carlos	Face preta ou número menor que 2.
Diego	Face preta ou número maior que 2.
Érica	Face branca ou número menor que 4.

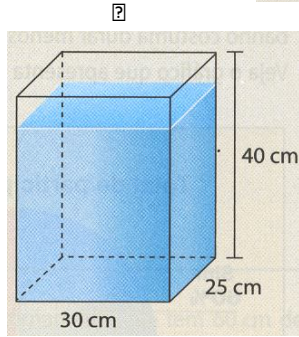
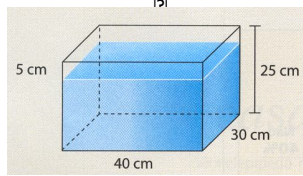


Se trocarmos o conectivo "ou" pelo conectivo "e" na aposta de cada um, o jogador que terá maior redução em suas chances de acertar o resultado, em decorrência dessa troca, será:

- A) Ana
- B) Brunna
- C) Carlos
- D) Diego
- E) Érica

38 - Temos uma caixa de vidro inteiramente fechada e quase cheia de água, como mostra a figura 1. Observe que o nível da água está a 5 cm abaixo do máximo. Agora, vamos colocar a caixa em pé, como mostra a figura 2, para que ela fique com 40 cm de altura. Nesse caso, o nível da água ficará quantos centímetros abaixo do máximo?

- A) 5 cm
- B) 6 cm
- C) 8 cm
- D) 10 cm
- E) 4 cm



39 - Em 2010, a seleção brasileira de vôlei conquistou o mundial masculino pela terceira vez consecutiva. O feito tem um sabor especial, já que o time de Bernardinho se igualou à rival Itália em número de conquistas, e ainda por cima fez isso na casa dos italianos, passando por eles na semifinal.

Disponível em:

<http://www.esporteinterativo.com.br/brasil-de-ouro/conheca-os-jogadores-campeoes-do-mundial-masculino-de-volei-na-italia/> Acesso em: 12 nov. 2011

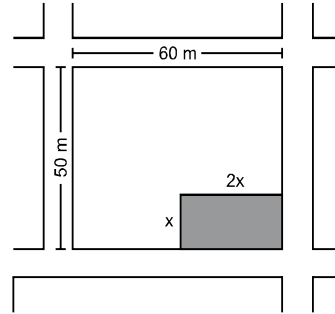
A média das alturas dos jogadores brasileiros está entre as mais altas das seleções participantes do mundial. Veja na tabela a seguir as alturas dos jogadores que foram campeões mundiais em 2010:

Jogadores	Altura
Alan	1,89 m
Bruno	1,90 m
Giba	1,92 m
João Paulo Bravo	1,96 m
João Paulo Tavares	2,04 m
Leandro Vissotto	2,11 m
Lucas	2,09 m
Mario Jr.	1,92 m
Marlon	1,90 m
Murilo	1,90 m
Rodrigão	2,05 m
Sidão	2,03 m
Théo	1,99 m

Qual é a alternativa correta?

- A) A média dessa seleção é de 2,10 m.
- B) Se os jogadores Alan, Giba, Marlon, Rodrigão, Theo e Murilo fossem retirados dessa lista, a média das alturas seria de 2,10 m.
- C) A mediana das alturas é menor que a média se tirarmos os jogadores Alan e Bruno.
- D) A média dos cinco jogadores mais altos é de 2,02 m.
- E) A moda das alturas sem os jogadores Giba, Sidão e Leandro Vissotto seria 1,90 m.

40 - O esquema abaixo representa parte do mapa de uma cidade. Nele, podemos observar um terreno retangular que será vendido em lotes menores, também retangulares. Um desses lotes está indicado em **cinza** no esquema.



Para que a área restante do terreno seja 1750 m^2 , qual deve ser a medida x ?

- A) 30 metros
- B) 20 metros
- C) 25 metros
- D) 45 metros
- E) 15 metros