

ESTADO DE PERNAMBUCO
PREFEITURA MUNICIPAL DE CARNAÍBA

CONCURSO PÚBLICO

PROVA PARA CARGO DE:

AGENTE DE CONTROLE INTERNO

* ATENÇÃO - CONFIRA SE ESTA PROVA CORRESPONDE AO CARGO QUE VOCÊ CONCORRE

* Neste Caderno de Questões, você encontra:

- 20 questões **ESPECÍFICAS**
- 10 questões de Português
- 10 questões de Matemática

* Só inicie a prova após a autorização do Fiscal de Sala.

* Duração da prova: 3 horas. O Candidato só poderá retirar-se do recinto das provas após 01 hora, contada a partir do seu efetivo início.

* O candidato só terá o direito de levar o caderno de prova após 02:00 horas do início dos trabalhos, e deixará apenas o Cartão de Respostas.

* Caso o candidato opte em sair antes de 02:00 horas do início dos trabalhos; NÃO será permitido a anotação do gabarito seja qual for a forma.

* Os Fiscais de Sala não estão autorizados a prestar quaisquer esclarecimentos sobre a resolução das questões; esta tarefa é obrigação do candidato.

* Não é permitido que os candidatos se comuniquem entre si. É proibida também a utilização de quaisquer equipamentos eletrônicos.

* O candidato receberá do Fiscal de Sala, 01 (hum) Cartão de Respostas correspondente às questões objetivas.

* Assine o seu Cartão de Respostas (Gabarito). Assinale apenas uma opção em cada questão. Não deixe questão em branco, nem assinale mais de uma opção, para seu Cartão não ter questões anuladas.

* O seu Cartão de Respostas é pessoal e insubstituível. Portanto, CUIDADO, não rasure, dobre ou amasse seu Cartão de Respostas pois em hipótese alguma ele será substituído, salvo por erro do fiscal ou por falha de impressão. Confira seus dados, leia as instruções para seu preenchimento e assinale no local indicado.

* A assinatura no Cartão de Respostas é obrigatória.

* O Gabarito desta prova estará disponível no dia 26/11/2012, no site www.compass.com.br.

* Para exercer o direito de recorrer contra qualquer questão, o candidato deve seguir as orientações constantes da Cláusula XI do Edital do Concurso Público nº 001/2012 da PREFEITURA MUNICIPAL DE CARNAÍBA de 17/09/2012.

* Após o término da prova, o candidato deverá deixar a sala e em hipótese alguma poderá permanecer no estabelecimento onde realizou a mesma.

BOA PROVA!!

DATA: 25 DE NOVEMBRO DE 2012

COMPASS

Concursos Públicos
e Assessorias

PARTE I – CONHECIMENTOS ESPECÍFICOS

01 - “Trazer ao conhecimento público e geral dos administrados a forma como o serviço foi prestado, os gastos e a disponibilidade de atendimento”. Esta afirmação é referendada em qual princípio da administração pública:

- A) Continuidade
- B) Transparência
- C) Universalidade
- D) Unidade
- E) Singularidade

02 - De esfera federal, incide sobre o preço de venda total, tendo por base a receita bruta, excluída do IPI. Até fevereiro de 2011 consistia em tributo cumulativo. Assinale a alternativa que melhor corresponde à definição apresentada.

- A) Imposto sobre Serviços
- B) Imposto sobre a Circulação de Mercadorias e Prestação de Serviços de Transporte Interestadual e Intermunicipal e de Comunicação
- C) Imposto sobre Produtos Industrializados
- D) Imposto de Renda Pessoa Jurídica
- E) Contribuição para o Financiamento da Seguridade Social

03 - De esfera municipal e possui a prestação de serviços de qualquer natureza como fato gerador. Sua incidência ocorre sobre o preço de venda total do serviço prestado. Assinale a alternativa que melhor corresponde à definição apresentada.

- A) Imposto sobre Serviços
- B) Imposto sobre a Circulação de Mercadorias e Prestação de Serviços de Transporte Interestadual e Intermunicipal e de Comunicação
- C) Imposto sobre Produtos Industrializados
- D) Contribuição para o Financiamento da Seguridade Social
- E) Imposto de Renda Pessoa Jurídica

04 - Uma empresa que contabiliza suas operações pelo regime de caixa, quando as comparar com o princípio da competência, para fins de balanço, vai verificar que as despesas incorridas, mas não pagas no exercício, provocaram

- A) um passivo menor que o real e um lucro maior que o real
- B) um passivo maior que o real e um lucro menor que o real
- C) um ativo maior que o real e um lucro maior que o real
- D) um ativo maior que o real e um lucro menor que o real
- E) um ativo maior que o real e um passivo menor que o real

05 - Observe as seguintes proposições e verifique se cada uma delas é verdadeira (V) ou falsa (F). Em seguida, assinale a opção que ofereça a sequência correta.

- I. O sistema orçamentário registra a receita prevista e as autorizações legais da despesa constantes na Lei Orçamentária Anual e dos créditos adicionais, demonstrando a despesa fixada e a realizada no exercício, comparando, ainda, a receita prevista com a arrecadada.
 - II. O resultado dos atos e fatos ocorridos no sistema orçamentário é demonstrado no balanço orçamentário.
 - III. O sistema orçamentário é representado somente pelos atos de natureza orçamentária, portanto, nenhum ato ou fato extra-orçamentário está inserido nesse sistema.
- A) F, V, V
 - B) F, F, F
 - C) V, V, V
 - D) V, F, F
 - E) F, F, V

06 - Com relação à agente público julgue a alternativa correta:

- A) Podem ser divididos em agentes: políticos; administrativos; honoríficos e institucionais.
- B) Agentes públicos são apenas as pessoas em caráter definitivo, do exercício de alguma função estatal.
- C) Podem ser pessoas físicas e jurídicas.
- D) Agentes públicos são todas as pessoas físicas incumbidas, definitiva ou transitoriamente, do exercício de alguma função estatal.
- E) Agentes públicos são todas as pessoas físicas e jurídicas incumbidas, definitiva ou transitoriamente, do exercício de alguma função estatal.

07 - Orçamento público no Brasil, a Constituição Federal do Brasil de 1988 estabeleceu que as leis, de iniciativa do Poder Executivo, estabelecerão: marque a incorreta:

- A) o Plano Plurianual; as Diretrizes Orçamentárias; os Orçamentos trimestrais.
- B) o Plano Plurianual; as Diretrizes Orçamentárias; os Orçamentos Anuais.
- C) o Plano Plurimensal; as Diretrizes Orçamentárias; os Orçamentos trimestrais
- D) Diretrizes de acompanhamento; Custos de produção; aviamentos.
- E) Diretrizes Orçamentárias; Orçamentos; Planos de trabalhos.

08 - São atribuições do controle interno em consonância com art.74 C.F.:

- A) avaliar o cumprimento das metas previstas no Plano Plurianual, a execução dos programas de governo e dos orçamentos municipais.
- B) não auxiliar o controle externo no exercício de sua missão constitucional.
- C) exercer o controle das operações de créditos, avais e garantias, bem como dos direitos e haveres apenas da União.
- D) exercer o controle das operações de créditos, avais e garantias, bem como dos direitos e haveres da União, dos Estados e Municípios.
- E) Estabelecer relação direta com a população sobre os controles exercidos.

09 - Julgue V para verdadeiro e F para Falso.

- I. Transferências de Capital são recursos financeiros de pessoas jurídicas ou físicas, independentes de contraprestação direta em bens ou serviços, e que serão aplicados no atendimento de despesas de capital: transferências constitucionais e legais, convênios, doações.
- II. Alienações de Bens são receitas proveniente de produto resultante da venda de componentes do ativo permanente: bens móveis e imóveis, ações etc.
- III. Outras Receitas de Capital são receitas constituídas de outras receitas previamente enquadradas nas classificações anteriores: integralização do capital social, resultado Banco Central do Brasil, remuneração das disponibilidades do Tesouro Nacional.
A) V; V e V
B) F; F e F
C) V; V e F
D) F; F e V
E) V; F e V

10 - Sobre o papel da controladoria Julgue V para verdadeiro e F para Falso:

- I. O processo decisório é influenciado pela atuação da Controladoria através das informações de planejamento e controle.
- II. A missão da Controladoria é otimizar os resultados econômicos da empresa através da definição de um modelo de informações baseado no modelo de gestão..
- III. O papel da Controladoria é assessorar a gestão da empresa, fornecendo mensuração das alternativas econômicas e, através da visão sistêmica, integrar informações e reportá-las para facilitar o processo decisório.
A) V; V e V
B) V; V e F
C) F; F e F
D) F; F e V
E) V; F e V

11 - Julgue os itens abaixo V para verdadeiro e F para falso:

- I. A prática do nepotismo na administração pública, não é caracterizada pela nomeação de parentes para funções públicas, pode ser considerada prática comum.
- II. O nepotismo, por ofender os princípios constitucionais da impessoalidade e da moralidade, caracteriza abuso de direito, porquanto se trata de manifesto exercício do direito fora dos limites impostos pelo seu fim econômico ou social, o que acarreta a nulidade do ato.
- III. O princípio da impessoalidade prevê que o administrador público deve buscar, por suas ações, sempre o interesse público, evitando deste modo a subjetividade.
A) F;V;V
B) V;V;V
C) F;F;F
D) V;V;F
E) F;V;F

12 - Julgue os itens abaixo V para verdadeiro e F para falso:

- I. Devido à natureza privada das empresas públicas e sociedades de economia mista exploradoras de atividade econômica, não há espaço para que essas entidades sejam fiscalizadas pelo TCU.
- II. Prevalece o entendimento de que as fundações públicas com personalidade jurídica de direito público não podem ser conhecidas como autarquias.
- III. As autarquias são caracterizadas pela sua subordinação hierárquica a determinada pasta da administração pública direta. Dessa forma, contra a decisão proferida por elas cabe recurso hierárquico próprio para o chefe da pasta.
A) F;V;V
B) V;F;F
C) V;F;V
D) F;F;F
E) F;V;F

13 - Julgue os itens abaixo V para verdadeiro e F para falso:

- I. Com fundamento no poder disciplinar, a administração pública, ao ter conhecimento de prática de falta por servidor público, pode escolher entre a instauração ou não de procedimento destinado a promover a correspondente apuração de infração.
- II. Considere que a Constituição da República determina que as polícias civis sejam dirigidas por delegados de polícia de carreira. Essa determinação confere aos delegados poder hierárquico e poder disciplinar sobre os servidores da polícia civil que lhes são subordinados.
- III. O poder de polícia administrativo não se confunde com a discricionariedade.
A) V;V;V
B) V;F;F
C) V;F;V
D) F;V;F
E) F;F;V

14 - Julgue os itens abaixo V para verdadeiro e F para falso:

- I. O pregão eletrônico não pode ser aplicado às licitações para locações imobiliárias e alienações em geral.
- II. As minutas de editais de licitação devem ser previamente examinadas por assessoria jurídica da administração. A aprovação do procedimento, contudo, é ato exclusivo do administrador.
- III. O servidor militar pode exercer as funções de pregoeiro.
A) V;V;V
B) V;F;F
C) F;F;V
D) V;F;V
E) F;V;F

15 - Julgue os itens abaixo V para verdadeiro e F para falso. Com relação à agente público:

- I. Podem ser divididos em agentes: políticos; administrativos; honoríficos e institucionais.
- II. Agentes públicos são apenas as pessoas em caráter definitivo, do exercício de alguma função estatal.
- III. Agentes públicos são todas as pessoas físicas e jurídicas incumbidas, definitiva ou transitoriamente, do exercício de alguma função estatal.
 - A) F;V;V
 - B) V;F;F
 - C) F;F;F
 - D) V;F;V
 - E) F;V;F

16 - Julgue os itens abaixo V para verdadeiro e F para falso. Com relação à orçamento público:

- I. é uma série de etapas que se repetem em períodos prefixados;
- II. a execução orçamentária, o controle da avaliação da execução orçamentária são partes integrantes do ciclo orçamentário.
- III. a fase de preparação da proposta orçamentária e sua elaboração legislativa precedem o exercício financeiro.
 - A) F;F;F
 - B) F;V;V
 - C) V;F;F
 - D) V;F;V
 - E) F;V;F

17 - Julgue os itens abaixo V para verdadeiro e F para falso:

- I. A sociedade de economia mista, diferentemente das empresas pública é obrigada a licitar.
- II. Devem obediência à Lei de Licitações a União, os estados, o Distrito Federal, os municípios, bem como os fundos especiais, as autarquias, as fundações públicas, as empresas públicas, as sociedades de economia mista, salvo as demais entidades controladas direta ou indiretamente pelos órgãos da administração pública.
- III. No que tange à dispensa de licitação, a Lei n.º 8.666/1993 é discricionário e, portanto, depende da autoridade administrativa.
 - A) F;F;F
 - B) V;V;V
 - C) V;V;F
 - D) V;F;F
 - E) V;F;V

18 - União para instituir outros impostos além dos expressamente previstos na Constituição, diz-se competência:

- A) Residual
- B) Privativa
- C) Comum
- D) Cumulativa
- E) Discricionária

19 - A despesa orçamentária deve passar por estágios. Com relação ao estágio empenho, Julgue V para verdadeiro e F para falso.

- I. Existem três modalidades de empenho, que são extraordinário, por estimativa e global.
- II. É o ato emanado de autoridade competente que cria para o Estado obrigação de pagamento pendente exclusivamente de implemento de condição.
- III. Uma vez autorizado o empenho, pela autoridade competente, fica criada a obrigação de pagamento para o Estado, podendo ficar dependendo de algumas condições ou não.
 - A) V;V;V
 - B) V;F;V
 - C) F;V;F
 - D) F;F;F
 - E) V;V;F

20 - Os serviços não devem ser suspensos ou interrompidos afetando o direito dos usuários esta afirmação é referendada em qual princípio da administração pública:

- A) Continuidade
- B) Universalidade
- C) Impessoalidade
- D) Unidade
- E) Transparência

PARTE II - PORTUGUÊS

As questões 21 e 22 referem-se ao texto seguinte:

Passei a vida atrás de eleitores e agora busco os leitores.

(José Sarney, na Veja, dez/97)

21- Das afirmações seguintes:

I- Através do texto é possível deduzir uma mudança na vida profissional.

II- O vocábulo “recentemente” pode substituir o termo “AGORA” sem alteração semântica.

III- Infere-se do texto que a atividade inicial do autor foi passageira.

- A) Estão corretos os itens I e II.
- B) Estão corretos os itens I e III.
- C) Estão corretos os itens II e III.
- D) Todos estão corretos.
- E) Apenas o item I está correto.

22- O autor do texto sugere estar passando de:

- A) senador a escritor
- B) político a romancista
- C) político a escritor
- D) político a jornalista
- E) escritor a político

As questões 23 e 24 referem-se a tira seguinte:



23- Das afirmações seguintes:

I- Podemos afirmar que há nos quadrinhos uma crítica em relação a alguns problemas da sociedade moderna.

II- O autor refere-se a certos fatos da vida social e econômica do brasileiro que ocorrem constantemente, exceto o mau humor que raramente ocorre.

III- De acordo com o primeiro quadrinho a suposição de que o valor do real possa se equiparar ao do dólar constituiu uma esperança remota na sociedade brasileira.

- A) Estão corretos apenas os itens I e III.
- B) Estão corretos apenas os itens I e II.
- C) Estão corretos apenas os itens II e III.
- D) Todos estão corretos.
- E) Apenas o item I está correto.

24- Os vocábulos seguintes, presentes no texto, são substantivos abstratos, exceto:

- A) milagres
- B) transformação
- C) aparição
- D) multiplicação
- E) policial

25- Assinale a alternativa cuja classificação do elemento mórfico destacado está incorreto:

- A) inquietar (vogal temática)
- B) esclarecimento (radical)
- C) relembando (prefixo)
- D) cafeteria (sufixo)
- E) supersensível (vogal de ligação)

26- Assinale a única alternativa que apresenta erro no que diz respeito ao gênero das palavras:

- A) A derme
- B) O comichão
- C) O eczema
- D) O clã
- E) A omoplata

27- Assinale a alternativa correta quanto à concordância:

- A) O motorista foi um dos que ajudou os acidentados.
- B) Haviam instrumentos exóticos na orquestra.
- C) Necessitam-se de corretores experientes.
- D) Fazem dias que chegaram os convites para a exposição.
- E) Duas folhas eram bastante para o relatório.

28- Identifique a alternativa em que o emprego do hífen está incorreto:

- A) anti-higiênico
- B) Grã-Bretanha
- C) pan-africano
- D) anti-religioso
- E) couve-flor

29- Identifique nas frases seguintes, a que apresenta o vocábulo destacado empregado de forma incorreta:

- A) Com o calor ele passou a suar mais.
- B) Saiu sem dar um cumprimento sequer.
- C) Aquela atitude não sortiu efeito.
- D) Esse produto difere muito daquele que eu costume usar.
- E) Por causa do peso, o teto arriou.

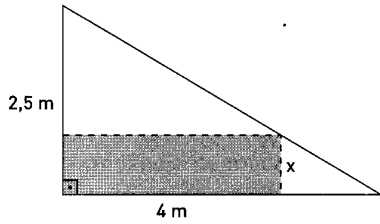
30- A crase foi usada de forma correta apenas em:

- A) Esta é a cidade à que iremos.
- B) Este é o autor à cuja obra me refiro.
- C) Esta é a posição à que aspiro.
- D) Vou à Brasília.
- E) Esta comida é igual à que comprei.

PARTE III - MATEMÁTICA

31 - Uma chapa de aço na forma de triângulo retângulo de catetos 4 m e 2,5 m será recortada de modo a obter uma placa retangular como indica a figura. Qual a área máxima que esta placa retangular pode ter?

- A) 2,5 m²
- B) 3,5 m²
- C) 1,5 m²
- D) 2,0 m²
- E) 3,0 m²

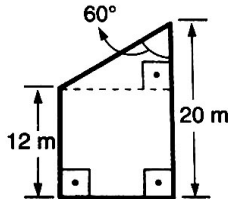


32 - A assinatura mensal de um telefone celular na empresa "Roubotel" é de R\$ 36,00 e cada minuto falado custa R\$ 3,00. Qual o limite máximo de minutos que posso usar durante um mês para que a conta seja inferior a R\$ 72,00?

- A) 15 minutos
- B) 12 minutos
- C) 10 minutos
- D) 20 minutos
- E) 24 minutos

33 - Qual a área do trapézio abaixo em m² ?

- A) 128√3
- B) 160√3
- C) 60√3
- D) 120√3
- E) 64√3



34 - Quando estamos caminhando é possível observar, nas calçadas, algumas fissuras deixadas de propósito durante sua construção. Essas fissuras são necessárias devido a um fenômeno físico chamado dilatação térmica, o qual consiste no aumento ou diminuição do tamanho de um sólido de acordo com a temperatura em que é submetido. Consideremos uma placa de concreto cujo comprimento (l) varia de acordo com a temperatura (T) em que é submetida. Sabendo que:

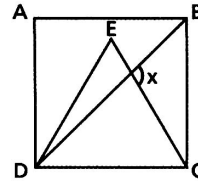
- T₁ = 25 °C e l₁ = 31,15 cm;
- T₂ = 100 °C e l₂ = 31,25 cm;

Determine a função afim que expresse l em função de T.

- A) $l(T) = 750T + \frac{1867}{60}$
- B) $l(T) = \frac{1}{70}T + \frac{1867}{70}$
- C) $l(T) = \frac{1}{750}T + \frac{1867}{750}$
- D) $l(T) = \frac{1}{750}T + \frac{1867}{60}$
- E) $l(T) = \frac{7}{750}T + \frac{1867}{60}$

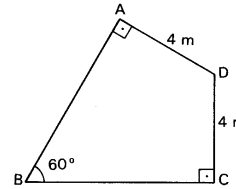
35 - Na figura, ABCD é um quadrado e CDE é um triângulo equilátero. A medida do ângulo x é:

- A) 105°
- B) 45°
- C) 60°
- D) 75°
- E) 110°



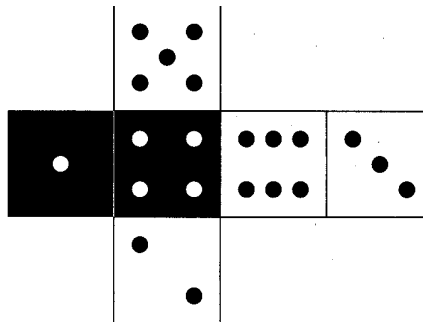
36 - A área do quadrilátero abaixo, em m², é ?

- A) 4√3
- B) 20√3
- C) 8√3
- D) 25√3
- E) 16√3



37 - A tabela abaixo indica as apostas feitas por 5 amigos em relação ao resultado decorrente do lançamento de um dado, cuja planificação está indicada na figura a seguir.

Ana	Face branca ou número par.
Bruna	Face branca ou número 5.
Carlos	Face preta ou número menor que 2.
Diego	Face preta ou número maior que 2.
Érica	Face branca ou número menor que 4.

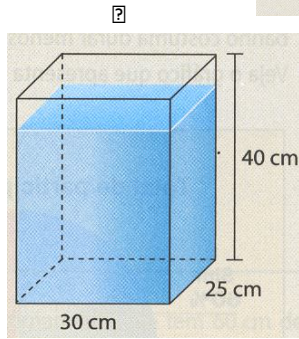
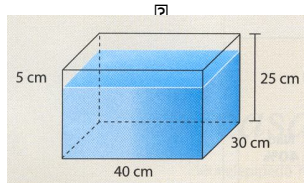


Se trocarmos o conectivo "ou" pelo conectivo "e" na aposta de cada um, o jogador que terá maior redução em suas chances de acertar o resultado, em decorrência dessa troca, será:

- A) Ana
- B) Bruna
- C) Carlos
- D) Diego
- E) Érica

38 - Temos uma caixa de vidro inteiramente fechada e quase cheia de água, como mostra a figura 1. Observe que o nível da água está a 5 cm abaixo do máximo. Agora, vamos colocar a caixa em pé, como mostra a figura 2, para que ela fique com 40 cm de altura. Nesse caso, o nível da água ficará quantos centímetros abaixo do máximo?

- A) 5 cm
- B) 6 cm
- C) 8 cm
- D) 10 cm
- E) 4 cm



39 - Em 2010, a seleção brasileira de vôlei conquistou o mundial masculino pela terceira vez consecutiva. O feito tem um sabor especial, já que o time de Bernardinho se igualou à rival Itália em número de conquistas, e ainda por cima fez isso na casa dos italianos, passando por eles na semifinal.

Disponível em:

<http://www.esporteinterativo.com.br/brasil-de-ouro/conheca-os-jogadores-campeoes-do-mundial-masculino-de-volei-na-italia/> Acesso em: 12 nov. 2011

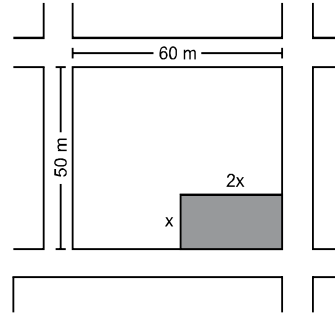
A média das alturas dos jogadores brasileiros está entre as mais altas das seleções participantes do mundial. Veja na tabela a seguir as alturas dos jogadores que foram campeões mundiais em 2010:

Jogadores	Altura
Alan	1,89 m
Bruno	1,90 m
Giba	1,92 m
João Paulo Bravo	1,96 m
João Paulo Tavares	2,04 m
Leandro Vissotto	2,11 m
Lucas	2,09 m
Mario Jr.	1,92 m
Marlon	1,90 m
Murilo	1,90 m
Rodrigão	2,05 m
Sidão	2,03 m
Théo	1,99 m

Qual é a alternativa correta?

- A) A média dessa seleção é de 2,10 m.
- B) Se os jogadores Alan, Giba, Marlon, Rodrigão, Theo e Murilo fossem retirados dessa lista, a média das alturas seria de 2,10 m.
- C) A mediana das alturas é menor que a média se tirarmos os jogadores Alan e Bruno.
- D) A média dos cinco jogadores mais altos é de 2,02 m.
- E) A moda das alturas sem os jogadores Giba, Sidão e Leandro Vissotto seria 1,90 m.

40 - O esquema abaixo representa parte do mapa de uma cidade. Nele, podemos observar um terreno retangular que será vendido em lotes menores, também retangulares. Um desses lotes está indicado em **cinza** no esquema.



Para que a área restante do terreno seja 1750 m^2 , qual deve ser a medida x ?

- A) 30 metros
- B) 20 metros
- C) 25 metros
- D) 45 metros
- E) 15 metros