

LÍNGUA PORTUGUESA

O Tamanho das Pessoas...

Os Tamanhos variam conforme o grau de envolvimento...

Uma pessoa é enorme para ti, quando fala do que leu e viveu, quando te trata com carinho e respeito, quando te olha nos olhos e sorri.

É pequena para ti quando só pensa em si mesma, quando se comporta de uma maneira pouco gentil, quando fracassa justamente no momento em que teria que demonstrar o que há de mais importante entre duas pessoas: a amizade, o carinho, o respeito, o zelo e até mesmo o amor.

Uma pessoa é gigante para ti quando se interessa pela tua vida, quando procura alternativas para o seu crescimento, quando sonha junto contigo. E pequena quando se desvia do assunto.

Uma pessoa é grande quando perdoa, quando compreende, quando se coloca no lugar do outro, quando age não de acordo com o que esperam dela, mas de acordo com o que espera de si mesma.

Uma pessoa é pequena quando se deixa reger por comportamentos da moda.

Uma mesma pessoa pode aparentar grandeza ou miudeza dentro de um relacionamento, pode crescer ou decrescer num espaço de poucas semanas.

Uma decepção pode diminuir o tamanho de um amor que parecia ser grande. Uma ausência pode aumentar o tamanho de um amor que parecia ser ínfimo.

É difícil conviver com esta elasticidade: as pessoas se agigantam e se encolhem aos nossos olhos. O nosso julgamento é feito não através de centímetros e metros, mas de ações e reações, de expectativas e frustrações.

Uma pessoa é única ao estender a mão, e ao recolhê-la inesperadamente torna-se mais uma.

O egoísmo unifica os insignificantes.

Não é a altura, nem o peso, nem os músculos que tornam uma pessoa grande... é a sua sensibilidade, sem tamanho...

Martha Medeiros

1. Com base no texto, pode-se afirmar que:
 - a) As pessoas são julgadas através de centímetros e metros, além de ações e reações.
 - b) Uma pessoa grande é sempre alta, pesada e musculosa.
 - c) A amizade, o carinho, o respeito, o zelo e até mesmo o amor, são demonstrações do que há de mais importante entre duas pessoas.
 - d) Independentemente do grau de envolvimento, as pessoas terão sempre o mesmo tamanho.

2. Analise as afirmações a seguir:
 - I. Uma decepção pode diminuir o tamanho de um amor que parecia ser grande.
 - II. Não é difícil conviver com esta elasticidade: já que as pessoas se agigantam e se encolhem aos nossos olhos.
 - III. Uma pessoa é pequena quando não se deixa reger por comportamentos da moda.

Em relação ao texto, está **incorreto** o que se afirma em:

- a) I, somente
 - b) I e II, apenas
 - c) II, somente
 - d) II e III, apenas
3. “Uma ausência pode aumentar o tamanho de um amor que parecia ser ínfimo”. Indique corretamente o sinônimo da palavra sublinhada:
 - a) grande
 - b) mínimo
 - c) apaixonado
 - d) presente

4. O cardeal visitou a igreja da cidade de Maricá. Indique o pronome de tratamento que se coaduna com a palavra sublinhada:

- a) Vossa Majestade
- b) Vossa Eminência
- c) Vossa Alteza
- d) Vossa Magnificência

5. Assinale a frase **correta**:

- a) Você não é mal.
- b) Correu muito, mais não se cansou.
- c) A maledicência é um grande mau.
- d) Ele ficou a cerca de cem metros.

6. Considere as frases a seguir:

- I. Pedro trabalha na _____ de artigos masculinos.
- II. O pai _____ a saída do filho da academia, para que ele chegasse cedo ao médico.
- III. No ano passado o IBGE fez o _____ da população.

Indique a resposta que completa corretamente - pela ordem - as lacunas.

- a) cessão / apreçou / senso
- b) sessão / apressou / censo
- c) seção / apressou / censo
- d) cessão / apreçou / senso

7. Só está **correto** o emprego do plural em:

- a) primeiros-ministros
- b) laranja-limas
- c) alto-relevos
- d) lusos-brasileiros

8. Há **erro** de separação silábica em:

- a) joi-a
- b) a-dvo-ca-ci-a
- c) ru-im
- d) gré-cia

9. As palavras **cozer**, **imergir**, **mandado**, **ascender** significam, respectivamente:

- a) costurar, vir à tona, procuração, subir
- b) cozinhar, vir à tona, ordem, iluminar
- c) cozinhar, mergulhar, ordem, subir
- d) costurar, aparecer, gestão, iluminar

10. Está **correta** a regência em:

- a) Todos aspiravam a um cargo melhor.
- b) Científico-lhe de que há pouco tempo.
- c) Não desobedeça o regulamento.
- d) Lembrei do jogo.

RACIOCÍNIO MATEMÁTICO

11. O tanque de combustível da garagem da EPT é alimentado por dois dutos de entrada de diesel. O primeiro despeja 14 litros por minuto e o segundo 26 litros por minuto. A saída de combustível deste tanque corresponde a 34 litros por minuto. Sabe-se que se ficarem abertos os dois dutos de entrada e o de saída, o tanque ficará cheio em 8 horas e meia.

Indique a capacidade do tanque de combustível:

- a) 3400
- b) 3060
- c) 2890
- d) 2040

12. Para instalar a sua sede administrativa a EPT adquiriu dois terrenos quadrados com áreas iguais. Sabe-se que se for acrescido 4 metros em cada lado de um dos terrenos e reduzido 4 metros em cada lado do outro, os dois juntos ocuparão uma área de 232 m². Pode-se afirmar que o perímetro dos terrenos originais corresponde a:

- a) 16
- b) 29
- c) 40
- d) 58

13. No concurso público de uma cidade da região metropolitana, inscreveram-se 20.000 (vinte mil) pessoas. Do quantitativo de inscritos, 2/5 (dois quintos) dos candidatos foram reprovados e 30% faltaram no dia da prova. Pode-se afirmar que foram aprovados quantos candidatos?

- a) 6000
- b) 8000
- c) 12000
- d) 14000

14. No aeroporto de Maricá existe uma torre sinalizadora com duas luzes, uma verde e outra vermelha, que piscam com frequências diferentes. A verde pisca 15 vezes por minuto e a vermelha 10 vezes por minuto. Ciente que num determinado instante as luzes piscam simultaneamente, pode-se afirmar que ambas voltarão a piscar simultaneamente após quantos segundos?
- 30
 - 10
 - 12
 - 24
15. Luiz mora em Maricá e pretende comemorar as festas de final de ano em Florianópolis. A viagem de ida e volta, de ônibus, custa R\$ 90,00, mas Luiz está querendo ir com o seu carro, que consome, em média, 12 quilômetros com um litro de combustível. O litro do combustível custa, em média, R\$ 3,60 e Luiz calcula que terá que rodar cerca de 900 quilômetros com seu carro e pagar R\$ 60,00 de pedágio. Ficou decidido que ele irá de carro e para reduzir suas despesas, convidou dois amigos, que irão repartir com ele todos os gastos. Desconsiderando o desgaste do carro e outras despesas inesperadas, Luiz irá:
- economizar R\$ 180,00.
 - gastar R\$ 20,00 a mais.
 - economizar R\$ 30,00.
 - gastar o mesmo que se fosse de ônibus.
17. São características da administração pública burocrática, **exceto**:
- Acesso ao serviço público por mérito.
 - Divisão do trabalho a partir da definição de cargos.
 - Os cargos públicos são considerados prebendas.
 - Controle rígido e *a priori* dos processos administrativos.
18. Sobre os princípios e normas de administração pública no Brasil, considere as afirmativas a seguir:
- Na órbita do direito público, tudo o que a lei não proíbe é lícito fazer.
 - Permitir maior participação dos agentes privados e/ou das organizações da sociedade civil é uma característica da administração gerencial.
 - Tornar obrigatória a divulgação de todos os atos e contratos da Administração Pública caracteriza o princípio da legitimidade.
- Está **correto** somente o que se aponta em:
- I
 - II
 - II e III
 - I, II, III
19. As diretrizes, objetivos e metas da administração pública para as despesas de capital e outras delas decorrentes e para as relativas aos programas de duração continuada, são estabelecidas, de forma regionalizada, na lei:
- do Plano plurianual
 - do orçamento anual
 - de diretrizes orçamentárias
 - do orçamento fiscal
20. É o indicador de desempenho que consiste em aferir o grau de atendimento e satisfação das demandas da sociedade.
- efetividade
 - legalidade
 - legitimidade
 - eficiência

NOÇÕES DE ADMINISTRAÇÃO

16. Sobre as receitas e as despesas públicas aponte a afirmativa **correta**:
- Aquisição de imóveis é classificada como receita corrente extraorçamentária.
 - As receitas provenientes da cobrança de tributos e da alienação de bens classificam-se, respectivamente, em orçamentárias e extraorçamentárias.
 - A lei orçamentária anual conterà todas as despesas e receitas públicas orçamentárias e extraorçamentárias.
 - Compete ao ordenador de despesas autorizar a emissão do empenho.

LEGISLAÇÃO E HISTÓRIA DO MUNICÍPIO

Com base na Lei Orgânica de Maricá, responda as questões de números 21 e 22.

21. A entidade dotada de personalidade jurídica de direito privado, com patrimônio e capital do Município, criada por lei, para exploração de atividades econômicas que o Município seja levado a exercer, por força de contingência ou conveniência administrativa, podendo revestir-se de qualquer das formas admitidas em direito. De acordo com o Art. 143, § 2º, II, é denominada:
- Autarquia
 - Fundação pública
 - Empresa pública
 - Sociedade de economia mista
22. Conforme a inteligência do Art. 266 “Compete ao Município organizar e prestar diretamente ou sob o regime de concessão ou permissão, os serviços públicos de interesse local”. Neste contexto, indique o serviço que é considerado de caráter essencial, como define o inciso V do artigo 30 da Constituição Federal, e passível de concessão:
- Guarda municipal
 - Transporte coletivo
 - Cobrança de tributos
 - Varrição de rua
23. Atualmente, o Município de Maricá é considerado produtor de petróleo, já que o seu litoral está defronte a:
- Baía de Guanabara
 - Bacia de Campos
 - Bacia do Recôncavo
 - Bacia de Santos
24. Segundo a história da atual cidade de Maricá, a capela de São José do Imbassaí, foi erguida no ano de:
- 1675
 - 1788
 - 1755
 - 1815

25. Conforme a inteligência do Art.14, XXXIII, do Decreto Municipal nº 109, de 22 de outubro de 2.014, **representar a EPT junto ao Sindicato das Empresas de Transporte Rodoviário do Estado do Rio de Janeiro – SETRERJ** é competência da seguinte Diretoria:
- Jurídica
 - Administração e Finanças
 - Planejamento e Tecnologia
 - Operações de Transportes Coletivos

CONHECIMENTOS ESPECÍFICOS DO CARGO




26. Considere a gravura a seguir:



Ciente que as cores utilizadas em sinalizações viárias são normatizadas pela Associação Brasileira de Normas Técnicas (ABNT), pode-se afirmar que na demarcação de obstáculos transversais à pista como a lombada física apresentada acima, deve ser utilizada tinta apropriada na cor:

- amarela
 - branca
 - azul
 - verde
27. Sabe-se que o Sistema Nacional de Mobilidade Urbana é o conjunto organizado e coordenado dos modos de transporte, de serviços e de infraestruturas que garante os deslocamentos de pessoas e cargas no território do Município. Neste contexto é **incorreto** afirmar que se classifica como infraestrutura de mobilidade urbana, o disposto na alternativa:
- estacionamentos
 - metroferrovias, hidrovias e ciclovias
 - sinalização viária e de trânsito
 - combate ao transporte ilegal de passageiros

28. Na qualidade de instrumento de efetivação da Política Nacional de Mobilidade Urbana, o Plano de Mobilidade deve contemplar além dos princípios, os objetivos e as diretrizes legais, a sistemática de avaliação, revisão e atualização periódica:
- a) em prazo não superior a 10 (dez) anos.
 - b) a cada 15 (quinze) anos.
 - c) no prazo de 20 (vinte) anos.
 - d) a cada 12 (doze) anos.
29. Ao elaborar a montagem da escala de serviços, o Assistente Operacional deve observar o disposto no § 3º, do Art. 67-C da Lei nº 9.503/97, uma vez que tal dispositivo determina que o condutor é obrigado, dentro do período de 24 (vinte e quatro) horas, a observar o mínimo de 11 (onze) horas de descanso, que podem ser fracionadas, usufruídas no veículo e coincidir com os intervalos mencionados no § 1º, observadas no primeiro período ____ (____) horas ininterruptas de descanso.
Complete **corretamente** a lacuna:
- a) 5 (cinco)
 - b) 10 (dez)
 - c) 8 (oito)
 - d) 12 (doze)
30. Segundo o Art. 95 e § 2º da Lei nº 9.503/1997, nenhuma obra ou evento que possa perturbar ou interromper a livre circulação de veículos e pedestres, ou colocar em risco sua segurança, será iniciada sem permissão prévia do órgão ou entidade de trânsito com circunscrição sobre a via. Estabelece ainda que salvo em casos de emergência, a autoridade de trânsito com circunscrição sobre a via avisará a comunidade, por intermédio dos meios de comunicação social, de qualquer interdição da via, indicando-se os caminhos alternativos a serem utilizados com antecedência de:
- a) quarenta e oito horas
 - b) doze horas
 - c) vinte e quatro horas
 - d) oito horas
31. Sabe-se que o Sistema Nacional de Viação (SNV), é constituído pela infraestrutura física e operacional dos vários modos de transporte de pessoas e bens, sob jurisdição dos diferentes entes da Federação. Quanto aos modos de transporte, a legislação do SNV não faz menção explícita ao modo:
- a) dutoviário
 - b) aquaviário
 - c) rodoviário
 - d) aeroviário
32. Conforme o Art. 329 da Lei nº 9.503/1997, os condutores dos veículos de aluguel, destinados ao transporte individual ou coletivo de passageiros de linhas regulares, para exercerem suas atividades deverão apresentar, previamente, certidão negativa do registro de distribuição criminal relativamente aos crimes de homicídio, roubo, estupro e corrupção de menores, renovável junto ao órgão responsável pela respectiva concessão ou autorização, a cada:
- a) dez anos
 - b) cinco anos
 - c) sete anos
 - d) dois anos
33. Sobre o Decreto municipal nº 47/2013, considere as afirmativas a seguir:
- I. Estabelece o Art. 1º que, os processos de licitação, de contratação direta, de celebração de convênios e de pagamento, obedecerão ao disposto no presente Decreto, com exceção da Autarquia Municipal - EPT, por se tratar de órgão da Administração Indireta.
 - II. Dispõe o Art. 2º que, todo procedimento de licitação, dispensa ou inexigibilidade será iniciado com a Solicitação de Compra.
 - III. O procedimento de contratação direta, seja por dispensa, seja por inexigibilidade, não necessita seguir a forma estabelecida nos Arts. 1º e 2º.
- Está **correto** o que se afirma em:
- a) I, apenas
 - b) II, somente
 - c) I e III, apenas
 - d) II e III, somente

34. Conforme a inteligência do Art. 21 da Lei nº 8.666/1993, o aviso de licitação publicado, conterà a indicação do local em que os interessados poderão ler e obter o texto integral do edital e todas as informações sobre o certame. Certo é que na modalidade tomada de preços, quando a licitação for do tipo "melhor técnica" ou "técnica e preço", o prazo mínimo até o recebimento das propostas ou da realização do evento será de:
- 5 dias
 - 15 dias
 - 30 dias
 - 45 dias
35. Dispõe o Art. 62 da Lei complementar municipal nº 260/2015 que, à Controladoria Geral do Município compete, **exceto**:
- Avaliar o cumprimento das metas previstas no plano plurianual, a execução dos programas de governo e dos orçamentos do Município.
 - Exercer o controle das operações de crédito, avais e garantias, bem como dos direitos e haveres do Município.
 - Apoiar o controle externo no exercício de sua missão institucional.
 - Aprovar as contas anuais do Chefe do Poder Legislativo municipal, mediante parecer.
36. Sobre noções de informática, considere as afirmativas a seguir:
- Cada computador na *Internet* possui um IP, que consiste num código identificador de endereço único.
 - Para mudar a cor de uma linha no MS Word, versão em português, pode-se afirmar que deverá ser utilizado o botão  da barra de ferramentas.
 - Os ícones  e  ao lado de uma mensagem de e-mail, no uso do Outlook, indicam que possui anexo e já foi respondida.
- Está **correto** o que se afirma em:
- I e II, apenas
 - III, somente
 - I e III, apenas
 - I, II e III
37. O Art. 3º do Decreto Municipal nº 135/2013, **não** prevê a possibilidade de adoção do Sistema de Registro de Preços, quando:
- Pelas características do bem ou serviço, houver necessidade de contratações frequentes.
 - For conveniente a aquisição de bens ou a contratação de serviços para atendimento a mais de um órgão ou entidade, ou a programas de governo.
 - Pela natureza do objeto, não for possível definir previamente o quantitativo a ser demandado pela Administração.
 - A Licitação for realizada na modalidade convite.
38. Considere o texto a seguir:
- “A lama liberada pelo rompimento de duas barragens da mineradora Samarco no distrito de Bento Rodrigues, em Mariana, atinge áreas a até 100 km de distância do local do acidente, ocorrido na tarde desta quinta-feira (5/11/2015). Centenas de pessoas estão desabrigadas, uma morte foi confirmada e 13 funcionários da empresa estão desaparecidos”. O enunciado faz referência ao acidente ocorrido recentemente, no Brasil, no seguinte Estado:
- Rondônia
 - Mato Grosso
 - Minas Gerais
 - Rio Grande do Sul
39. As dimensões autorizadas para veículos não-articulados de transporte coletivo urbano de passageiros que possuam 3º eixo de apoio direcional, será de no:
- máximo 15 metros
 - mínimo 16 metros
 - mínimo 20 metros
 - máximo 10 metros
40. No preenchimento do Auto de Infração, dispõe a Portaria Denatran nº 59/2007 que, no BLOCO 2 - IDENTIFICAÇÃO DO VEÍCULO, é de preenchimento facultativo, o Campo:
- 1 – ‘PLACA’
 - 2 – ‘MARCA’
 - 3 – ‘ESPÉCIE’
 - 4 – ‘PAÍS’