



PREFEITURA DO MUNICÍPIO DE SÃO PAULO
SECRETARIA MUNICIPAL DE GESTÃO – SMG

Concurso Público

001. PROVA OBJETIVA
(Conhecimentos Gerais)

Analista de Políticas Públicas e Gestão Governamental – APPGG-1

- ◆ Você recebeu sua folha de respostas e este caderno contendo 70 questões objetivas.
- ◆ Confira seus dados impressos na capa deste caderno e na folha de respostas.
- ◆ Quando for permitido abrir o caderno, verifique se está completo ou se apresenta imperfeições. Caso haja algum problema, informe ao fiscal da sala.
- ◆ Leia cuidadosamente todas as questões e escolha a resposta que você considera correta.
- ◆ Marque, na folha de respostas, com caneta de tinta azul ou preta, a letra correspondente à alternativa que você escolheu.
- ◆ A duração da prova é de 4 horas, já incluído o tempo para o preenchimento da folha de respostas.
- ◆ Só será permitida a saída definitiva da sala e do prédio após transcorridos 75% do tempo de duração da prova.
- ◆ Deverão permanecer em cada uma das salas de prova os 3 últimos candidatos, até que o último deles entregue sua prova, assinando termo respectivo.
- ◆ Ao sair, você entregará ao fiscal a folha de respostas e este caderno, podendo levar apenas o rascunho de gabarito, localizado em sua carteira, para futura conferência.
- ◆ Até que você saia do prédio, todas as proibições e orientações continuam válidas.

AGUARDE A ORDEM DO FISCAL PARA ABRIR ESTE CADERNO DE QUESTÕES.

Nome do candidato _____

Prédio _____

Sala _____

Carteira _____

Inscrição _____

CONHECIMENTOS GERAIS

LÍNGUA PORTUGUESA

Leia a tira para responder às questões de números 01 e 02.



(Dik Browne. Hagar, o Horrível. Folha de S.Paulo, 27.09.2015)

01. A fala da mulher permite inferir que, ao treinar o cão, ela pretendeu

- (A) manter-se submissa ao marido.
- (B) tornar-se superior ao marido.
- (C) mostrar-se preocupada com o marido.
- (D) contestar a autoridade do marido.
- (E) reproduzir as ordens do marido.

02. Em norma-padrão da língua portuguesa e em conformidade com os sentidos da tira, a resposta da mulher à pergunta “O que ensinou a ele?” poderia ser:

- (A) Ensinei-o o questionamento da autoridade.
- (B) Lhe ensinei a questionar a autoridade.
- (C) Eu ensinei-lhe que questionasse a autoridade.
- (D) Eu ensinei ele a questionar a autoridade.
- (E) Eu o ensinei que questionasse a autoridade.

Leia o texto para responder às questões de números 03 e 04.

A atual falta de água em São Paulo já virou motivo de piada. Charges, montagens e até samba (“Saudade dos tempos de enchente”) foram criados para chamar a atenção sobre o tema. É, “a coisa tá feia... mas, se você quer chorar, chora lá na Cantareira”, brincam os autores do samba. Você sabia que, já no início do século 20, o humor também foi usado para retratar o mesmo problema? O choque da urbanização da cidade, o aumento da população com a vinda dos imigrantes, o crescimento desordenado e a falta de estrutura local _____ em uma grande crise hídrica. A Cantareira, _____ recursos ficam cada vez mais escassos, não deu conta de abastecer parte da população naquela época.

(Bruna S. Cruz. UOL educação. <http://goo.gl/4GqxXD>. 26.01.15. Adaptado)

03. De acordo com a norma-padrão da língua portuguesa, as lacunas do texto devem ser preenchidas, respectivamente, com:

- (A) resultaram ... aonde os
- (B) resultou ... que os
- (C) resultou ... onde os
- (D) resultou ... cujo os
- (E) resultaram ... cujos

04. Na voz ativa, a passagem – Charges, montagens e até samba [...] foram criados para chamar a atenção sobre o tema. – assume a seguinte redação:

- (A) Para chamar a atenção sobre o tema, criaram charges, montagens e até samba.
- (B) Criaram-se charges, montagens e até samba para chamar a atenção sobre o tema.
- (C) A atenção sobre o tema foi chamada com a criação de charges, montagens e até samba.
- (D) Criou-se charges, montagens e até samba para chamar-se a atenção sobre o tema.
- (E) A chamada de atenção sobre o tema fez-se com criação de charges, montagens e até samba.

Leia o texto para responder às questões de números **05 a 11**.

Para avaliar a importância da diversidade nas cidades, é preciso entender a extensão de sua conceituação. Seu significado vai desde a mistura de usos e atividades até a existência de uma grande variedade de estruturas urbanas e a garantia do direito à cidade pelos mais diversos grupos sociais.

Esse conceito contraria o modelo de planejamento voltado à segregação de áreas homogêneas no tecido urbano. O encorajamento do pluralismo, em busca da diversidade, pode, de fato, ser mais um ativo importante do que uma ameaça.

Estabelecer mecanismos que permitam às pessoas dos mais variados grupos étnicos e sociais terem direitos iguais aos espaços da cidade vai além da eficiência urbana e equidade. Conduz à urbanidade. A diversidade tem sido apontada como fator essencial para o funcionamento, o crescimento econômico e a atratividade das cidades.

Para alguns pesquisadores, a diversidade deve ser focada nos espaços públicos, tornando cada área residencial um microcosmo da cidade, enfatizando-se a importância de prover espaços que ofereçam elevados níveis de interação entre as pessoas dos mais diferentes espectros sociais.

Todavia, outras formas de diversidade são igualmente importantes no desenvolvimento urbano.

As metrópoles de hoje estão se desenvolvendo rapidamente em cidades criativas, principalmente no que diz respeito às suas funções e ao capital humano. Elas são socialmente diversificadas como resultado da intensificação da migração e das diferenças socioeconômicas, revelando, ainda, múltiplas dimensões da identidade individual.

A convivência com a diversidade, que toca em várias áreas da vida urbana, embora se constitua em um enorme desafio, ao mesmo tempo pode ser um recurso significativo das cidades contemporâneas.

Portanto, embora seja importante descobrir caminhos para planejar a cidade plural, não menos importante é encontrar ferramentas que possam medir essa diversidade, de tal forma que ela possa ser avaliada e comparada em suas várias regiões.

(Claudio Bernardes. Opinião. *Folha de S.Paulo*, 03.08.2015)

05. As informações do texto mostram que a diversidade é um tema

- (A) de questionável validade para as políticas públicas, considerando-se que elas dificilmente podem romper com a desigualdade social vigente.
- (B) de interesse para as políticas públicas, pensando-se nas possibilidades de uso dos espaços públicos na promoção de interação entre as pessoas.
- (C) de amplitude para as políticas públicas, efetivando-se na análise dos diferentes grupos sociais de modo a promover a homogeneização cultural.
- (D) de expressivo valor para as políticas públicas, propondo-se ações que visem minimizar o impacto social das subjetividades dos cidadãos nos espaços públicos.
- (E) de pouco interesse para as políticas públicas, avaliando-se que a migração e as diferenças socioeconômicas atrapalham ações voltadas para os espaços públicos.

06. A conceituação de “diversidade” apresentada no primeiro parágrafo do texto harmoniza-se com a ideia de que ela pode

- (A) sustentar a segregação de áreas homogêneas das cidades.
- (B) minimizar a intensificação da migração nas cidades.
- (C) constituir-se em ameaça à organização das cidades.
- (D) recrudescer as diferenças econômicas e sociais nas cidades.
- (E) tornar-se um diferencial na organização das cidades.

07. Nas passagens “vai além da eficiência urbana e **equidade**” (3º parágrafo), “tornando cada área residencial um **microcosmo** da cidade” (4º parágrafo) e “pode ser um recurso **significativo**” (7º parágrafo), os termos em destaque significam, respectivamente,

- (A) retidão, individualidade e interessante.
- (B) injustiça, espaço ampliado e imprescindível.
- (C) contraposição, novo mundo e vivaz.
- (D) imparcialidade, pequena sociedade e expressivo.
- (E) equilíbrio, mundo interior e relevante.

08. Assinale a alternativa em que as informações se organizam em relação de causa e consequência.

- (A) Todavia, outras formas de diversidade são igualmente importantes no desenvolvimento urbano.
- (B) Elas são socialmente diversificadas como resultado da intensificação da migração e das diferenças socioeconômicas, revelando, ainda, múltiplas dimensões da identidade individual.
- (C) Seu significado vai desde a mistura de usos e atividades até a existência de uma grande variedade de estruturas urbanas e a garantia do direito à cidade pelos mais diversos grupos sociais.
- (D) O encorajamento do pluralismo, em busca da diversidade, pode, de fato, ser mais um ativo importante do que uma ameaça.
- (E) As metrópoles de hoje estão se desenvolvendo rapidamente em cidades criativas, principalmente no que diz respeito às suas funções e ao capital humano.

09. Assinale a alternativa correta quanto à pontuação.

- (A) O encorajamento do pluralismo, pode, em busca da diversidade, ser de fato, mais um ativo importante do que uma ameaça.
- (B) O encorajamento do pluralismo, pode em busca da diversidade de fato, ser mais um ativo importante do que uma ameaça.
- (C) Em busca da diversidade, o encorajamento do pluralismo pode ser, de fato, mais um ativo importante do que uma ameaça.
- (D) De fato, o encorajamento do pluralismo pode, ser mais um ativo importante do que uma ameaça, em busca da diversidade.
- (E) Em busca da diversidade, pode, de fato, o encorajamento do pluralismo, ser mais um ativo importante do que uma ameaça.

10. Considerando o sentido do texto, na oração “Conduz à urbanidade.” (3º parágrafo), o acento indicativo da crase será mantido se o verbo for substituído por

- (A) Exerce.
- (B) Rege.
- (C) Transmite.
- (D) Implica.
- (E) Leva.

11. Assinale a alternativa correta quanto aos aspectos de colocação pronominal, concordância verbal e concordância nominal.

- (A) Tem-se apontado a diversidade como fator essencial para o funcionamento, o crescimento econômico e a atratividade das cidades. Além disso, outras formas de diversidade têm sido apontadas como importantes no desenvolvimento urbano.
- (B) Têm-se apontado a diversidade como fator essencial para o funcionamento, o crescimento econômico e a atratividade das cidades. Além disso, outras formas de diversidade tem sido apontado como importante no desenvolvimento urbano.
- (C) Tem-se apontado a diversidade como fator essencial para o funcionamento, o crescimento econômico e a atratividade das cidades. Além disso, outras formas de diversidade têm sido apontadas como importante no desenvolvimento urbano.
- (D) Tem apontado-se a diversidade como fator essencial para o funcionamento, o crescimento econômico e a atratividade das cidades. Além disso, outras formas de diversidade têm sido apontada como importantes no desenvolvimento urbano.
- (E) Têm apontado-se a diversidade como fator essencial para o funcionamento, o crescimento econômico e a atratividade das cidades. Além disso, outras formas de diversidade tem sido apontados como importante no desenvolvimento urbano.

12. Leia a charge.



(Duke. Charges. www.otempo.com.br. Adaptado)

De acordo com a norma-padrão da língua portuguesa, as lacunas do texto devem ser preenchidas, respectivamente, com:

- (A) Porquanto vai ... que
- (B) Quando ir ... de que
- (C) Se for ... de que
- (D) Caso fores ... de que
- (E) Embora vá ... que

Leia o poema para responder às questões de números 13 a 15.

Soneto Sentimental à Cidade de São Paulo

Ó cidade tão lírica e tão fria!
Mercenária, que importa – basta! – importa
Que à noite, quando te repousas morta
Lenta e cruel te envolve uma agonia

Não te amo à luz plácida do dia
Amo-te quando a neblina te transporta
Nesse momento, amante, abres-me a porta
E eu te possuo nua e frígida.

Sinto como a tua íris fosforeja
Entre um poema, um riso e uma cerveja
E que mal há se o lar onde se espera

Traz saudade de alguma Baviera
Se a poesia é tua, e em cada mesa
Há um pecador morrendo de beleza?

(Vinicius de Moraes, *Poemas esparsos*. 2008)

13. Para o eu lírico, São Paulo é uma cidade

- (A) sem atrativos naturais, estando ele cada vez mais distante dela.
- (B) bastante complexa, afastando os cidadãos com suas ambiguidades.
- (C) obscura por natureza, vendo ele a real beleza dela na tristeza.
- (D) marcada pelas multifaces, sendo ele seduzido pelas suas noites.
- (E) simples e envolvente, levando bem-estar a todos a qualquer hora.

14. Ao descrever a cidade, o eu lírico vale-se de termos e expressões em sentido

- (A) próprio, por meio dos quais idealiza São Paulo.
- (B) figurado, por meio dos quais personifica São Paulo.
- (C) figurado, por meio dos quais questiona as belezas de São Paulo.
- (D) próprio, por meio dos quais desqualifica São Paulo.
- (E) figurado, por meio dos quais desdenha de São Paulo.

15. Nos versos “**Mercenária**, que importa – basta! – importa” e “Não te amo à luz **plácida** do dia”, os termos em destaque têm como antônimos, respectivamente,

- (A) Desinteressada e agitada.
- (B) Ambiciosa e cruel.
- (C) Interesseira e violenta.
- (D) Abnegada e serena.
- (E) Altruísta e pacífica.

GESTÃO DE PROJETOS, PROCESSOS E TI

16. Na modelagem de processos, os eventos acontecem durante o curso do processo de negócios, afetam o fluxo e podem ter uma determinada causa. Entre os eventos de início, aquele que também é chamado de condicional, e é utilizado para iniciar um processo quando uma condição verdadeira for cumprida, é denominado


- (A) múltiplo início.
- (B) temporizador de início.
- (C) sinal de início.
- (D) regra de início.
- (E) mensagem de início.

17. Considerando os objetos de conexão, faça a correlação correta entre as colunas.


1 – Fluxo de Sequência	A – É usado(a) para o fluxo de uma mensagem entre dois atores do processo.
2 – Fluxo de Montagem	B – É usado(a) para relacionar informações com objetos de fluxo.
3 – Associação	C – É usado(a) para mostrar a ordem em que as atividades são processadas.

A correlação correta é:


- (A) 1A, 2C e 3B.
- (B) 1A, 2B e 3C.
- (C) 1B, 2A e 3C.
- (D) 1C, 2B e 3A.
- (E) 1C, 2A e 3B.

18. Na modelagem de processos, as decisões são usadas para definir que rumo o fluxo vai seguir e controlar suas ramificações. A decisão de gateway paralelo é caracterizada pelo símbolo  e é utilizada quando _____.


Assinale a alternativa que preenche corretamente as lacunas.

(A) I – ... II – só há um caminho a ser escolhido.


Mas, necessariamente, haverá eventos intermediários em cada um dos caminhos a ser escolhido para estabelecer uma condição de decisão. Quando um for escolhido, as demais opções são eliminadas.

(B) I – ... II – várias atividades convergem para uma


atividade posterior comum. Nesse caso, esse elemento será utilizado antes da atividade comum para demonstrar que todas as anteriores seguirão um mesmo caminho.

(C) I – ... II – não há decisão a ser tomada, todos os

caminhos devem ser seguidos simultaneamente. Quando for necessário sincronizar os fluxos, utiliza-se o mesmo gateway.

(D) I – ... II – houver várias opções a serem segui-

das, vários caminhos. Antes da decisão, deverá haver uma atividade que forneça os dados para a tomada de decisão.

(E) I – ... II – houver várias opções a serem segui-

das, vários caminhos. Antes da decisão, deverá haver uma atividade que forneça os dados para a tomada de decisão. Para sincronizar os fluxos, utiliza-se o mesmo gateway.

19. Atividades representam um termo genérico para o trabalho que a organização realiza. Podem conter uma ou mais tarefas em níveis mais detalhados. O tipo de múltiplas instâncias indica

(A) que a atividade é normalmente utilizada nos estágios iniciais do desenvolvimento do processo.

(B) que a atividade possui vários dados a serem verificados, e deve ser especificado o número de vezes que a atividade se repetirá.

(C) que uma atividade deverá ser repetida até que uma condição estabelecida anteriormente seja cumprida.

(D) atividade não automática, realizada por uma pessoa, sem uso do sistema.

(E) que no desempenho de uma atividade existe um check-list a ser adotado.

20. Entre os Stakeholders de um projeto, aquele que tem por funções e responsabilidades criar planos de projeto e planos de gerenciamento relacionados ao projeto, mede o desempenho do projeto, aplica ações corretivas, controla os resultados do projeto, coordena a equipe e relata sua situação é o

(A) fornecedor.

(B) gerente de projeto.

(C) cliente.

(D) patrocinador do projeto.

(E) gerente funcional.

21. No nível mais baixo em uma estrutura analítica de projetos – EAP, são definidas as atribuições dos recursos e as estimativas de tempo e de custo. Independentemente de a EAP possuir três ou cinco níveis, o nível mais baixo em qualquer um dos casos é considerado o nível de

(A) sistema de filtragem.

(B) código de identificação.

(C) opinião especializada.

(D) estimativa paramétrica.

(E) pacote de trabalho.

22. Considerando uma sequência linear do processo regular de implantação de software, assinale a alternativa que apresenta a etapa constituída por: (a) realizar o check-list de infraestrutura dos usuários; (b) verificar a disponibilidade dos ambientes de treinamento e produção; e (c) realizar cargas iniciais de dados.

(A) Levantamento de requisitos.

(B) Expansão na organização.

(C) Preparação do ambiente.

(D) Execução do primeiro ciclo.

(E) Conclusão e aceite.

- 23.** Os processos organizacionais podem ser classificados em três categorias: gerenciais, finalísticos e meios. Os processos gerenciais são aqueles ligados à estratégia da organização. Estão diretamente relacionados à formulação de políticas e diretrizes para se estabelecerem e concretizarem metas. Também referem-se
- (A) ao estabelecimento de indicadores de desempenho e às formas de avaliação dos resultados alcançados interna e externamente à organização.
 - (B) aos processos essenciais para a gestão efetiva da organização, garantindo o suporte adequado aos processos finalísticos.
 - (C) à essência de funcionamento do órgão e/ou departamento, e garantem o suporte adequado aos processos finalísticos.
 - (D) à essência de funcionamento do órgão e/ou departamento. Caracterizam a atuação do órgão e/ou departamento e recebem apoio de outros processos internos, gerando um produto ou serviço.
 - (E) à gestão dos recursos necessários ao desenvolvimento de todos os processos da instituição.
- 24.** As pessoas, instituições ou organizações que, de alguma forma, são influenciadas ou impactadas pelas ações de uma organização são chamadas de
- (A) fornecedores.
 - (B) clientes.
 - (C) gestores da mudança.
 - (D) stakeholders.
 - (E) gerentes de projeto.
- 25.** A especificação de requisitos representa o conjunto de todas as atividades realizadas para identificar, analisar, especificar e definir as necessidades de negócio que um aplicativo deve prover para a solução do problema levantado. A metodologia baseada em dinâmicas de grupo, uso de técnicas visuais, manutenção do processo organizado e racional e utilização de documentação padrão e cuja implementação permite aos desenvolvedores ajudar os usuários na formulação de problemas e na exploração de soluções é denominada
- (A) prototipagem.
 - (B) joint application design – JAD.
 - (C) reunião estruturada.
 - (D) etnografia.
 - (E) viewpoint-oriented requirements definition – VORD.
- 26.** Para realizar a leitura e a avaliação de todos os pedidos feitos pela população de uma região da cidade, foram designados 3 grupos de servidores. O primeiro grupo, com 15 servidores, fez a leitura e a avaliação de 840 pedidos em 60 horas. O segundo grupo, com 18 servidores e com a mesma produtividade do grupo anterior, trabalhou nesse serviço durante 20 horas. O terceiro grupo, com 25 servidores e com a mesma produtividade do grupo anterior, terminou o serviço em 18 horas de trabalho. O número total de pedidos que os três grupos de servidores leram e avaliaram é igual a
- (A) 1440.
 - (B) 1348.
 - (C) 1596.
 - (D) 1260.
 - (E) 1682.
- 27.** A prefeitura distribuirá a verba de R\$ 3.850.000,00 entre cinco subprefeituras. Essa distribuição será feita de forma diretamente proporcional ao número de projetos destinados ao desenvolvimento da educação. A subprefeitura da Penha apresentou 7 projetos; a subprefeitura da Sé apresentou 5 projetos; a subprefeitura de Perus apresentou 8 projetos; a subprefeitura da Lapa apresentou 2 projetos. A subprefeitura do Ipiranga quer que sua parte dessa verba seja de pelo menos R\$ 1.050.000,00. Para que pelo menos esse valor seja destinado à subprefeitura do Ipiranga, é necessário que ela apresente, no mínimo, uma quantidade de projetos igual a
- (A) 10.
 - (B) 11.
 - (C) 7.
 - (D) 8.
 - (E) 9.

28. A sequência (13; 14; 16; 18; 21; 24; 27; 31; 35; 39; 43; 48; 53; 58; 63; 68; 74; 80; 86; ...) foi criada com um padrão que adiciona um número natural de um termo para o seguinte. Dessa maneira, o único número, dos listados a seguir, que pertence a essa sequência é o número

- (A) 255.
- (B) 263.
- (C) 301.
- (D) 289.
- (E) 247.

29. Uma comissão foi criada para planejar as ações e decidir as prioridades de uma diretoria de ensino do município. A comissão foi formada apenas por professores, administradores escolares e técnicos da prefeitura. Várias dessas pessoas foram escolhidas por terem formação para exercer mais de uma dessas funções. Ao todo, são 24 os professores e 16 os administradores escolares, além dos técnicos da prefeitura. Considerando esses três grupos de pessoas, são 10 as que têm formação para exercer duas, e apenas duas, dessas funções, exceto ser apenas professor e administrador escolar, o que nenhuma dessas pessoas é. São 20 as pessoas com formação para exercer uma, e apenas uma, dessas funções, exceto ser apenas técnico da prefeitura, o que nenhuma dessas pessoas é. São 5 as pessoas com formação para exercer as três funções simultaneamente. Uma dessas pessoas será sorteada aleatoriamente para ocupar a presidência da comissão. A probabilidade de essa pessoa sorteada ser uma pessoa com formação para exercer apenas uma dessas funções é igual a

- (A) $\frac{4}{7}$
- (B) $\frac{3}{4}$
- (C) $\frac{2}{3}$
- (D) $\frac{4}{5}$
- (E) $\frac{9}{11}$

30. Um levantamento do número de atendimentos a pessoas carentes, no sistema de saúde de uma prefeitura, mostrou que, no primeiro ano de uma determinada gestão, esse número aumentou em 10% em relação ao ano anterior. No segundo ano, o aumento foi de 5%; no terceiro ano, o aumento foi de 9%, sempre em relação ao ano imediatamente anterior. A porcentagem acumulada que mais se aproxima do aumento dos atendimentos nesses três anos é
- (A) 22%.
 - (B) 26%.
 - (C) 23%.
 - (D) 24%.
 - (E) 25%.
31. Para avaliar o grau de satisfação dos clientes em relação ao serviço de transportes, a Secretaria de Transportes entrevistou 100 pessoas que utilizam a linha de ônibus A. Também foram entrevistadas 80 pessoas que utilizam a linha de ônibus B. Cada um dos entrevistados escolhia um dos números: 1; 2; 3; 4 e 5. Em relação à linha A, 13 pessoas escolheram o 1; 23 escolheram o 2; 12 escolheram o 3; 41 escolheram o 4; e 11 escolheram o 5. Em relação à linha B, 22 pessoas escolheram o 1; 11 escolheram o 2; 31 escolheram o 3; 9 escolheram o 4; e 7 escolheram o 5. Com esse levantamento realizado, os técnicos calculavam a média aritmética ponderada de cada situação e arredondavam o resultado, se necessário, para o décimo mais próximo. O resultado obtido mostra uma diferença entre as médias, em décimos, igual a
- (A) 5.
 - (B) 6.
 - (C) 4.
 - (D) 7.
 - (E) 8.
32. Em um bairro da cidade, foi feita uma enquete para verificar a preferência da comunidade em relação a dois projetos: construção de uma árvore de natal ou um espetáculo com um cantor popular. Os entrevistados deveriam optar por apenas uma dessas duas opções. Supondo que a chance de escolha de cada uma das opções é de 50%, a probabilidade de se conseguir 4 votos para o espetáculo e 2 votos para a construção da árvore, em um total de 6 votos, é, aproximadamente, igual a
- (A) 24,5%.
 - (B) 44,9%.
 - (C) 33,3%.
 - (D) 23,4%.
 - (E) 28,1%.

Utilize o texto e as tabelas para responder às questões de números 33 a 35.

Duas amostras de 8 pessoas foram escolhidas em duas escolas, A e B, para a realização de um estudo sobre a obesidade entre adolescentes. As 16 pessoas foram pesadas, e o resultado está expresso nas tabelas a seguir:

ESCOLA A		ESCOLA B	
Pessoas	Massa (kg)	Pessoas	Massa (kg)
1	62	1	73
2	63	2	66
3	65	3	70
4	60	4	71
5	64	5	72
6	63	6	71
7	66	7	72
8	61	8	73

33. Percentualmente, a média aritmética das massas dos alunos relacionados da escola B supera a média aritmética das massas dos alunos relacionados da escola A em, aproximadamente,

- (A) 17%.
- (B) 13%.
- (C) 21%.
- (D) 18%.
- (E) 9%.

34. A soma das variâncias obtidas em cada um dos grupos é igual a

- (A) 7.
- (B) 9.
- (C) 8.
- (D) 6.
- (E) 10.

35. A variabilidade dos dados da escola B é maior do que a variabilidade obtida com os dados da escola A. A diferença entre o desvio padrão obtido para a escola B e o desvio padrão obtido para a escola A está no intervalo entre

- (A) 0,17 kg e 0,21 kg.
- (B) 0,29 kg e 0,33 kg.
- (C) 0,13 kg e 0,17 kg.
- (D) 0,21 kg e 0,25 kg.
- (E) 0,25 kg e 0,29 kg.

36. O *caput* do artigo 37, na Constituição Federal de 1988, estabelece princípios constitucionais a serem observados e cumpridos pela administração pública direta e indireta. Um desses princípios refere-se à orientação, aos gestores públicos, de que o trato da coisa pública (*res publica*) tenha como objeto principal a prestação de serviços ao cidadão, cumprindo sua finalidade com qualidade. Esse princípio é o da

- (A) Moralidade.
- (B) Legalidade.
- (C) Publicidade.
- (D) Impessoalidade.
- (E) Eficiência.

37. Um dos direitos fundamentais garantidos pela Constituição Federal é o *habeas data*. Direito garantido à pessoa que o impetra para

- (A) conhecer as informações relativas à sua pessoa, constantes de registros ou bancos de dados de entidades governamentais ou de caráter público.
- (B) salvaguardar seu direito de sigilo em possíveis e futuras convocações para depor no âmbito da justiça.
- (C) prevenção antecipada para afastar qualquer tipo de ameaça ou constrangimento ilegal à sua pessoa.
- (D) prevenir uma possível ação criminal que, contra tal pessoa, esteja na iminência de acontecer.
- (E) se precaver quanto a informações pessoais, específicas do ponto de vista econômico-financeiro, que possam ser divulgadas pelos órgãos de imprensa.

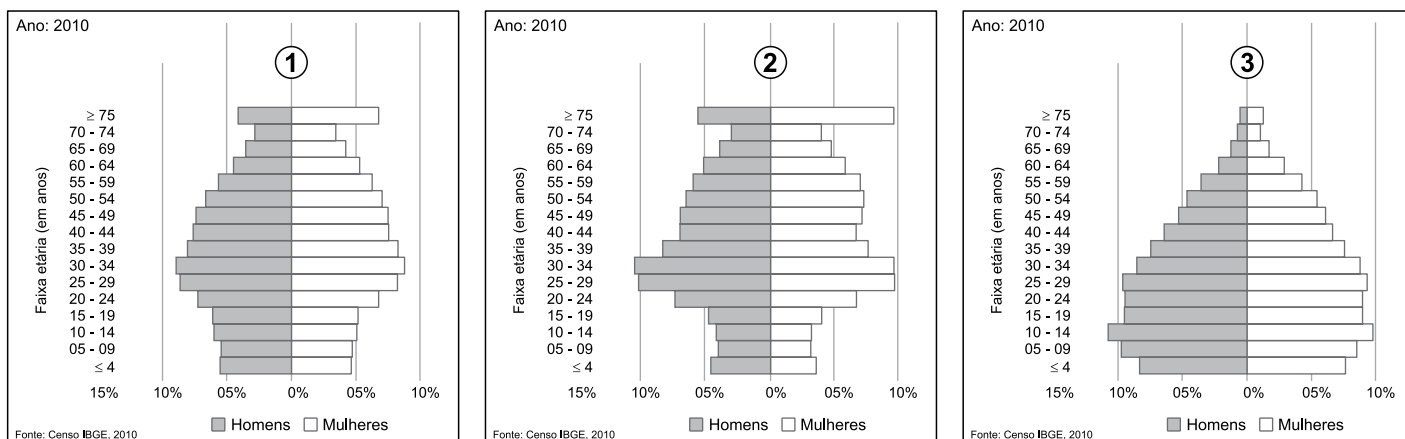
38. Quanto à organização político-administrativa da República Federativa do Brasil, apresentada no artigo 18 da Constituição Federal, é correto afirmar que

- (A) os Estados podem incorporar-se entre si, subdividir-se ou desmembrar-se para se anexarem a outros, ou formarem novos Estados ou Territórios Federais, exclusivamente, por meio de lei complementar.
- (B) a organização político-administrativa da República Federativa do Brasil compreende a União, os Estados, o Distrito Federal e os Municípios.
- (C) os Estados podem incorporar-se entre si, subdividir-se ou desmembrar-se para se anexarem a outros, ou formarem novos Estados ou Territórios Federais, mediante aprovação da população diretamente interessada, por meio de plebiscito, e do Congresso Nacional, por lei complementar.
- (D) a criação, transformação em Estado ou reintegração ao Estado de origem dos Territórios Federais podem acontecer mediante aprovação da população diretamente interessada, por meio de plebiscito em função de lei complementar, porém os Estados não podem sofrer transformação no sentido de formar novos Estados ou Territórios Federais.
- (E) a criação, a incorporação, a fusão e o desmembramento de Municípios far-se-ão por lei municipal.

- 39.** A iniciativa de leis que disponham sobre Conselhos de Representantes
- (A) pode ser proposta pelos cidadãos mediante iniciativa popular.
 - (B) é competência exclusiva de ambos, Câmara e Prefeito.
 - (C) é competência exclusiva de Comissão Permanente da Câmara Municipal.
 - (D) é competência exclusiva da Câmara Municipal.
 - (E) é competência exclusiva do Prefeito.
- 40.** Um projeto de lei enviado ao prefeito para ser sancionado e promulgado pode ser considerado, por ele, inconstitucional ou contrário ao interesse público, e ser vetado, no todo ou em partes. O prazo de 15 dias que o prefeito tem é para
- (A) receber o projeto.
 - (B) tomar a decisão sobre o projeto.
 - (C) comunicar seu veto à Câmara.
 - (D) devolver o projeto à Câmara.
 - (E) solicitar esclarecimentos sobre o projeto.
- 41.** João Bartolomeu é servidor público de uma autarquia municipal e foi eleito prefeito nas últimas eleições. A remuneração de seu cargo na autarquia é maior do que iria receber como prefeito. De acordo com a Constituição Federal, João
- (A) perceberá as vantagens de seu cargo, na autarquia, sem prejuízo da remuneração do cargo de prefeito.
 - (B) deve se afastar do cargo, na autarquia, e pode optar em manter a remuneração desse cargo.
 - (C) deverá apenas se afastar de seu cargo na autarquia.
 - (D) não precisará se afastar de seu cargo, na autarquia, porém receberá apenas a remuneração do cargo de prefeito, não podendo ter remuneração acumulada.
 - (E) deve se afastar do cargo, na autarquia, devendo optar pela remuneração de prefeito.
- 42.** As funções de confiança de qualquer um dos poderes, e que se destinam apenas às atribuições de direção, chefia e assessoramento, devem ser exercidas exclusivamente por
- (A) empregados públicos ocupantes de cargo em comissão.
 - (B) servidor público.
 - (C) servidores ocupantes de cargo em comissão.
 - (D) servidores ocupantes de cargo efetivo.
 - (E) servidores ocupantes de cargo de carreira.
- 43.** O prazo mínimo de 30 (trinta) dias até o recebimento da proposta, ou da realização do evento licitatório, quando for para “melhor técnica” ou “técnica e preço”, de acordo com a Lei nº 8.666/93, é estipulado para
- (A) a Tomada de Preços.
 - (B) a Concorrência.
 - (C) o Leilão.
 - (D) o Concurso.
 - (E) o Convite.
- 44.** Nos contratos administrativos, alguns privilégios que facultam à Administração Pública alterar, rescindir e aplicar penalidades, de forma unilateral, entre outros, aos contratados, são chamados de
- (A) prerrogativas contratuais.
 - (B) cláusulas contratuais.
 - (C) vantagens de permissão.
 - (D) vantagens de concessão.
 - (E) cláusulas exorbitantes.

45. Quando, aos administradores dos órgãos e entidades da administração direta e indireta, é dada a oportunidade de ampliar sua autonomia gerencial, orçamentária e financeira, fixando metas de desempenho, por meio de contratação dessas metas com o poder público, o instrumento definido e permitido, para tanto, pela Constituição Federal é o Contrato de
- (A) Atribuição.
 - (B) Controle.
 - (C) Gestão.
 - (D) Gerenciamento.
 - (E) Planejamento.
46. Em um contrato, sabe-se que as partes têm objetos almejados diferentes; fazem, portanto, um acordo de obrigações recíprocas. Mas, quando, em um acordo de vontade, os participantes têm interesses comuns e coincidentes, e há cooperação entre eles, chama-se isso de
- (A) convênio.
 - (B) conciliação.
 - (C) pacto.
 - (D) resolução conjunta.
 - (E) convenção.
47. O princípio constitucional da publicidade tem, entre outras funções, garantir aos cidadãos que todos os atos, fatos e medidas do poder público, em todos os seus níveis, estejam registrados. Esse registro do conjunto de medidas jurídicas e materiais praticadas pela Administração Pública, em todos os seus níveis, chama-se
- (A) Processo Gerencial.
 - (B) Acordo Administrativo.
 - (C) Convenção Administrativa.
 - (D) Processo Administrativo.
 - (E) Procedimento Protocolar.
48. Quanto a um determinado ato considerado vinculado exercido pelo administrador público, pode-se dizer que
- (A) o administrador público pode avaliar pelo critério de conveniência.
 - (B) é permitido o juízo de valor pelo administrador público.
 - (C) o administrador público tem o poder de escolha entre múltiplos caminhos.
 - (D) o mérito administrativo é o norteador na escolha do administrador público.
 - (E) não há liberdade de escolha para o administrador público.
49. O contrato administrativo de concessão, como uma das modalidades da parceria público-privada, que tem por objeto a concessão de serviços públicos ou de obras públicas, envolvendo, ainda, contraprestação pecuniária do parceiro público ao parceiro privado além da tarifa cobrada dos usuários, é a
- (A) concessão comum de obras públicas.
 - (B) concessão patrocinada.
 - (C) subvenção patrocinada.
 - (D) concessão comum de serviços públicos.
 - (E) parceria de prestação de serviço.
50. O que pode ser objeto de delegação ou, no sentido contrário, avocação de competências?
- (A) A edição de atos de caráter normativo.
 - (B) As matérias de competência exclusiva do órgão ou da entidade.
 - (C) A decisão de recursos administrativos.
 - (D) O conjunto total de competências a outros órgãos ou aos subordinados.
 - (E) Parte das atribuições de órgãos ou de seus titulares.

51. Analise as pirâmides etárias de três subprefeituras do município de São Paulo para responder à questão.



(http://infocidade.prefeitura.sp.gov.br/graficos/7_piramides_etarias_2010_10610.pdf)

Assinale a alternativa que apresenta a afirmação correta sobre uma das pirâmides.

- (A) A pirâmide 2 mostra uma subprefeitura com elevada proporção de migrantes que vivem na capital em situação precária.
- (B) A pirâmide 1 mostra uma subprefeitura com predomínio de população jovem, o que exige investimentos para a criação de empregos.
- (C) A pirâmide 3 mostra uma subprefeitura onde é elevado o grupo de faixa etária que necessita de políticas públicas ligadas à educação e ao emprego.
- (D) A pirâmide 1 mostra uma subprefeitura onde há elevada proporção de jovens com boas condições de vida e menor necessidade de investimentos públicos.
- (E) A pirâmide 3 mostra uma subprefeitura onde há homogeneidade na distribuição dos grupos etários, indicando boas condições de vida.

52. Analise a tabela para responder à questão.

Taxa de mortalidade infantil (TMI) no município de São Paulo (por mil nascidos vivos)

Ano	1980	1991	2000	2010	2013
TMI	50,62	26,03	15,80	11,51	11,04

(http://infocidade.prefeitura.sp.gov.br/htmls/7_taxas_de_mortalidade_geral_e_infantil_1980_10612.html)

A leitura da tabela e os conhecimentos sobre a dinâmica demográfica paulistana permitem afirmar que

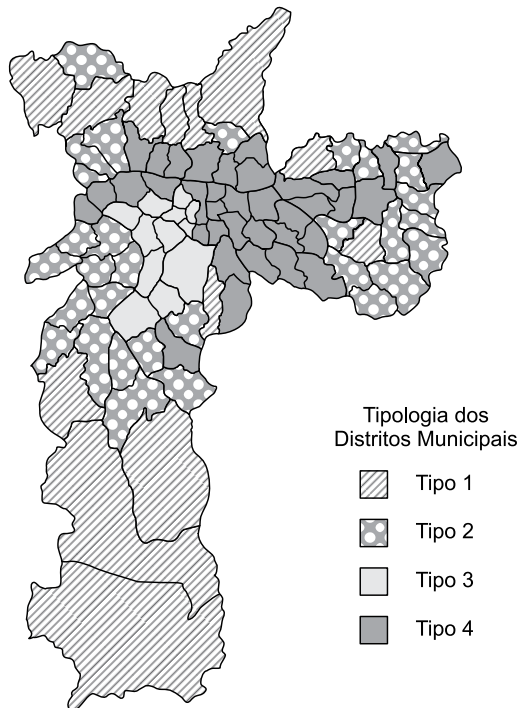
- (A) a TMI se caracteriza por sua homogeneidade entre os diferentes distritos da capital paulistana.
- (B) a meta dos Objetivos do Milênio que determinava a redução de 50% da TMI da capital a partir do ano 2000 não foi atingida.
- (C) a redução observada na TMI nas últimas décadas teve pouca influência sobre o crescimento vegetativo da população.
- (D) a redução da TMI tem forte relação com as políticas públicas implementadas nas últimas décadas.
- (E) a diminuição do ritmo de redução da TMI pode ser explicada pelos problemas econômico-financeiros do município.

53. Na atualidade, uma das características demográficas importantes do município de São Paulo é

- (A) o envelhecimento populacional como um processo progressivo que tende a atingir proporções alarmantes nas próximas décadas.
- (B) a expressiva presença de população jovem sobretudo na região central, onde há maior densidade demográfica.
- (C) a inexistência de população rural, uma vez que a expansão da mancha urbana fez desaparecer as áreas rurais do município.
- (D) a redução do processo de transição demográfica, em parte explicada pela ampliação dos movimentos migratórios para a capital.
- (E) a permanência de taxas de crescimento populacional entre 2 e 4% anuais devido aos processos migratórios internos.

54. A Secretaria do Verde e do Meio Ambiente do município de São Paulo elaborou um mapa-síntese das condições socioambientais da Capital. Foram criados quatro distritos, conforme se observa no mapa a seguir:

Tipos Socioambientais de Distritos na Cidade de São Paulo



(http://ww2.prefeitura.sp.gov.br/arquivos/secretarias/meio_ambiente/publicacoes/0008/indicadoresambientais.pdf)

De modo geral, os distritos Tipo 1 caracterizam-se por apresentarem

- (A) grandes extensões de cobertura vegetal e ocupação urbana muito precária.
 - (B) alto adensamento demográfico sustentado por boas condições de infraestrutura.
 - (C) ocupação urbana consolidada e recente implantação de infraestrutura.
 - (D) baixas densidades demográficas e recente verticalização das edificações.
 - (E) expressiva cobertura vegetal representada por parques urbanos e arborização viária.
55. Importantes órgãos de pesquisa frequentemente divulgam dados que analisam diferenças de gêneros no Brasil e, também, na capital paulista. Entre os dados apresentados, destaca-se
- (A) a superioridade das matrículas de homens no ensino superior em relação às de mulheres.
 - (B) a maior taxa de desemprego entre a população ativa masculina do que entre a feminina.
 - (C) a desigualdade de salários, sendo os rendimentos das mulheres menores do que os dos homens.
 - (D) o predomínio da população ativa feminina sobre a masculina no mercado de trabalho.
 - (E) a desproporção entre as matrículas escolares de meninos, muito superiores às matrículas de meninas.

56. Um determinado fato tem se observado na região central da cidade de São Paulo e pode ser entendido como sendo um processo de mudança imobiliária nos perfis residenciais e padrões culturais. Para muitos cientistas sociais, é um processo de redesenvolvimento urbano que leva à elitização social e à expulsão de grupos vulneráveis. Trata-se do processo de

- (A) conurbação.
- (B) categorização.
- (C) transição urbana.
- (D) higienização.
- (E) gentrificação.

57. Na cidade de São Paulo, diversos estudos vêm demonstrando a ocorrência das “ilhas de calor”, fenômeno que é diretamente relacionado

- (A) a inúmeras variáveis, como a maior proximidade das baixadas fluviais, inexistência de vegetação arbórea e fraca circulação de ventos.
- (B) às altas temperaturas e ao forte processo de evaporação encontrado nas áreas próximas de represas e mananciais que perderam a cobertura vegetal.
- (C) aos padrões de uso e ocupação do solo, tais como a grande concentração de edifícios, a pavimentação das vias e a rarefação de árvores.
- (D) à rápida expansão da mancha urbana, sobretudo nas áreas mais periféricas, onde há fortes adensamentos e menor intervenção do setor público.
- (E) ao avanço de massas de ar úmido, vindas do oceano, as quais, ao atingirem a capital, provocam elevação de temperatura e nebulosidade.

58. A produção e, principalmente, o destino final dos resíduos domésticos são problemas ambientais de grandes proporções para cidades como São Paulo, onde os resíduos são

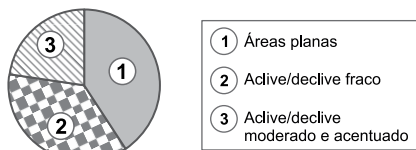
- (A) divididos: metade destina-se aos aterros e metade às cooperativas que trabalham com material reciclável.
- (B) enviados para os aterros sanitários, um deles na zona Leste e outro em Caieiras, na Grande São Paulo.
- (C) distribuídos por aterros localizados em municípios da região metropolitana, estando o maior deles em Caieiras.
- (D) transferidos para áreas periféricas, algumas das quais ainda contando com lixões a céu aberto.
- (E) enviados para vários aterros sanitários, entre os quais o Bandeirantes e o São João, já muito saturados.

59. A partir das últimas décadas do século XX, políticas macroeconômicas adotadas (abertura comercial abrupta, taxas de juros elevadas, câmbio sobrevalorizado) geraram consequências sobre a estrutura ocupacional da capital paulista, entre as quais:

- (A) a diminuição do trabalho no setor industrial e o forte crescimento do setor de serviços.
- (B) o crescimento dos empregos na indústria em detrimento das atividades do setor terciário.
- (C) a redução da precarização do trabalho com reflexo na diminuição das atividades informais.
- (D) a ampliação do setor industrial, que passou a absorver quase metade dos trabalhadores.
- (E) o aumento do emprego em setores tradicionais, como o comércio e a indústria de transformação.

60. No Censo de 2010, o Instituto Brasileiro de Geografia e Estatística (IBGE) realizou pesquisa sobre os aglomerados subnormais do Brasil. No município de São Paulo, foram contabilizados 1 198 aglomerados.

Observe, no gráfico, a distribuição desses aglomerados pelo espaço paulistano.



(IBGE. Censo 2010)

A leitura do gráfico e os conhecimentos sobre o sítio urbano do município de São Paulo permitem afirmar que

- (A) ocupantes das áreas planas concentram-se principalmente nas regiões Sudoeste e Oeste, ambas sujeitas a constantes inundações.
- (B) cerca de 50% dos moradores em aglomerados subnormais estão concentrados em áreas planas ou de baixo declive na região Central.
- (C) as maiores densidades de moradias subnormais são encontradas nas áreas pouco acidentadas, sujeitas a menor especulação imobiliária.
- (D) parte considerável dos moradores em aglomerados subnormais vive em situação de risco, principalmente nas regiões Norte e Sul.
- (E) os extremos Sul e Leste da mancha urbana abrigam os moradores das áreas com aclives/declives moderados e acentuados.

61. Por seu tamanho e complexidade, a gestão da cidade de São Paulo oferece desafios constantes ao poder público. O choque entre grupos de interesses diversos é uma constante no cotidiano da cidade. Como exemplo, pode(m)-se citar:

- (A) a disputa entre ônibus e caminhões pela utilização de corredores exclusivos. As empresas de ônibus defendem que somente ônibus possam utilizar os corredores, enquanto grupos que defendem os interesses dos proprietários de caminhões exigem que também existam corredores de carga.
- (B) o conflito entre os grupos que defendem a continuidade da atividade industrial na cidade, mesmo com o agravamento da poluição do ar, e aqueles que defendem a proibição de qualquer tipo de atividade industrial, ação considerada fundamental para reduzir a poluição e se atingir a melhoria da qualidade do ar na cidade.
- (C) a ação dos grupos ambientalistas, que desejam proibir a utilização da Guarapiranga como fonte de abastecimento da cidade de São Paulo, em razão dos impactos à fauna e à flora originais da represa e de seu entorno, contrariando o desejo das autoridades municipais e da maioria da população que necessita dessa fonte de abastecimento.
- (D) os sucessivos conflitos entre moradores dos bairros centrais e de bairros periféricos. Os moradores de bairros periféricos exigem maior número de eventos de rua na cidade, como forma primordial de lazer, enquanto os moradores das áreas centrais entendem que a prática do lazer deve ser restrita aos parques e praças.
- (E) as diferentes visões quanto à revitalização do centro antigo: uma que reivindica a inclusão da camada de menor renda, a qual está presente na esfera do comércio informal; outra que propõe a revitalização pelos mecanismos de mercado e que vê no comércio informal um fator de depreciação da área central.

62. Leia a notícia a seguir:

Responsabilidade sobre hidrantes é de Bombeiros e Sabesp, diz Prefeitura

Sabesp havia informado que responsabilidade era da Prefeitura.

O embate começou após um hidrante, que seria usado para ajudar na contenção do incêndio que atingiu uma favela na Avenida Jornalista Roberto Marinho, na Zona Sul da cidade, ter tido problemas. O local onde estaria o hidrante estava com entulho, o que impediu a água de sair e ser usada pelos Bombeiros.

Em nota, a Prefeitura informou que, segundo instrução técnica do Corpo de Bombeiros, “à concessionária local dos serviços de águas e esgotos é atribuída a competência para o projeto, instalação, substituição e manutenção dos hidrantes urbanos”. Ou seja, seria tarefa da Sabesp realizar a manutenção no local.

(<http://g1.globo.com/sao-paulo/noticia/2014/09/responsabilidade-sobre-hidrantes-e-de-bombeiros-e-sabesp-diz-prefeitura.html>)

O conteúdo da notícia reflete uma situação cotidiana na gestão do espaço urbano paulistano:

- (A) a falta de planejamento da expansão urbana, o que faz com que muitas pessoas ocupem áreas sujeitas a incêndios, como favelas localizadas às margens de córregos.
- (B) a disputa política entre o governo estadual e municipal sobre a oferta de bons serviços à população, em especial àquelas populações que vivem em situação de risco em favelas ou cortiços.
- (C) os diferentes níveis de gestão (municipal, metropolitano, estadual e federal) dos elementos que compõem a paisagem urbana, difíceis de perceber no cotidiano.
- (D) a falta de recursos financeiros do poder municipal, que sobrecarrega as funções de organismos estaduais, como o Corpo de Bombeiros, que não deveria atuar no espaço urbano.
- (E) o atraso tecnológico presente nas infraestruturas da cidade, como o uso de hidrantes, inviabilizando uma atuação mais efetiva de órgãos de segurança urbana.

63. Compreender a dinâmica demográfica e sua espacialização é primordial para o planejamento do futuro da cidade de São Paulo e sua região metropolitana. Sobre a dinâmica demográfica mais recente, é correto afirmar que

- (A) a chegada de imigrantes internacionais, como os bolivianos e os haitianos, especialmente a partir de 2000, produziu uma “explosão demográfica tardia” na cidade, acarretando o ressurgimento de problemas habitacionais nas áreas centrais, cuja ocupação já era considerada excessiva desde a década de 1970.
- (B) o maior crescimento populacional tem ocorrido às margens das represas e nos limites das áreas de proteção dos mananciais, como resultado da busca de grande parte da população por lugares que ofereçam melhor qualidade de vida e que estejam mais próximos da natureza, causando o esvaziamento do centro.
- (C) o crescimento da população tornou-se negativo a partir da década de 1990, com a migração das classes médias para condomínios fechados localizados em municípios vizinhos, fenômeno que tem provocado a saída de empresas da cidade e o aumento dos índices de desemprego e violência urbana.
- (D) a migração diminuiu, e a população cresceu pouco a partir de 1990, mas de uma forma muito desigual: as áreas mais bem urbanizadas perderam população, enquanto as regiões mais distantes, as áreas de interesse ambiental e os municípios mais pobres da região metropolitana continuaram com crescimento elevado.
- (E) a cidade continua sendo o destino de grandes fluxos migratórios nacionais, a maioria de municípios do interior do Nordeste do país, os quais são atraídos pelos empregos industriais e também pelo trabalho na construção civil, além de buscarem benefícios sociais, como creches, escolas e hospitais públicos.

64. Parcelamento, Edificação e Utilização Compulsórios (PEUC), IPTU Progressivo no Tempo e Desapropriação Mediante Pagamento em Títulos da Dívida Pública são todos instrumentos urbanísticos criados pela Constituição de 1988 que têm como finalidade

- (A) garantir a efetivação do princípio da função social da propriedade em áreas urbanas.
- (B) corrigir os problemas causados pela urbanização acelerada e sem planejamento.
- (C) coibir o surgimento de “loteamentos clandestinos” nas áreas periféricas das cidades.
- (D) dar suporte a programas de erradicação de favelas e moradias em condições precárias.
- (E) organizar o mercado imobiliário, impedindo a formação de cartéis no setor.

65. A questão habitacional na cidade de São Paulo apresenta uma historicidade em suas formas. Leia o texto a seguir e preencha corretamente as lacunas que explicam essas transformações.

O agravamento dos problemas que afetam a qualidade de vida da população em São Paulo não atinge a cidade em geral. Sobretudo no período compreendido entre as décadas de 1940 e 1970, surgem e se expandem os _____ I _____ que, juntamente com os tradicionais _____ II _____ e _____ III _____, alojam a população trabalhadora de menor poder aquisitivo.

- (A) I – edifícios ... II – cortiços ... III – bairros periféricos
- (B) I – bairros periféricos ... II – cortiços ... III – favelas
- (C) I – bairros planejados ... II – bairros operários ... III – cortiços
- (D) I – conjuntos habitacionais ... II – edifícios ... III – vilas operárias
- (E) I – condomínios fechados ... II – vilas operárias ... III – bairros planejados

66. Observe a imagem a seguir:



(<http://www.ibdu.org.br/imagens/AUTILIZAcAODEaREASVEDADASAO%20PARCELAMENTODOSOLO.pdf>)

Trata-se do Conjunto Habitacional Cidade Tiradentes, construído no início da década de 1980 no extremo Leste da capital paulista. A localização de conjuntos habitacionais como esse em áreas distantes do centro da cidade era justificada pela busca de terrenos grandes e com preços mais baixos. Alguns especialistas, no entanto, criticam esse modelo habitacional justificando que esses conjuntos habitacionais atuam como

- (A) condomínios fechados segregados, criando uma “bolha de proteção” em seu entorno, já que aí estão presentes todos os serviços urbanos, dificultando a integração dos moradores com a parcela da população que não mora em condomínios.
- (B) arquipélagos urbanos, recebendo tratamento diferenciado do restante da cidade, o que cria uma forma anômala de valorização do solo, enquanto as áreas do entorno sofrem com a falta de investimentos governamentais.
- (C) subcentros, obrigando que os agentes públicos e privados ofereçam para essas áreas mais distantes boas condições de moradia e infraestrutura, promovendo a degradação do meio ambiente.
- (D) assentamentos provisórios, pois sua ocupação tem curta duração, somente o tempo necessário para as famílias de menor renda serem incorporadas à economia da cidade e terem condições para adquirir a casa própria.
- (E) extensores urbanos, na medida em que trazem consigo a infraestrutura (rede viária, de energia, de água, de telecomunicações, entre outros benefícios) e, dessa forma, ajudam a valorizar áreas ainda não ocupadas, favorecendo a especulação imobiliária.

67. O Plano Diretor Estratégico do Município de São Paulo, recentemente aprovado pela Câmara Municipal, manteve vários objetivos definidos no Plano anterior, que vigorou desde 2002, pois considerou-se que tais objetivos ainda se mantinham como grandes desafios para a gestão urbana. Dentre eles, pode-se destacar a

- (A) criação de empregos em áreas mais próximas aos bairros periféricos, como forma de reduzir o intenso movimento pendular diário que resulta do deslocamento casa-trabalho.
- (B) construção de novas avenidas em fundos de vale, destinadas a melhorar o fluxo de veículos, garantindo uma melhor qualidade na circulação urbana e apoio ao transporte individual.
- (C) retomada de políticas de incentivos fiscais para a atração de indústrias para a cidade, privilegiando a geração de emprego e renda sobre todos os outros objetivos.
- (D) revogação de restrições ambientais para o loteamento e a construção de imóveis, com o intuito de promover moradia acessível em áreas distantes dos bairros mais centrais.
- (E) expansão dos recursos financeiros do município por meio de políticas de anistia a loteamentos clandestinos e moradias localizadas em áreas de risco ou de proteção aos mananciais.

68. “Desconcentração industrial” e “concentração financeira” são termos que alguns analistas têm utilizado para caracterizar a cidade de São Paulo, e mesmo sua região metropolitana, a partir da década de 1990. De acordo com essas expressões, a cidade de São Paulo passa por importantes transformações econômicas desde, pelo menos, a década de 1990, como

- (A) a criação do Mercosul, que favoreceu as importações de produtos industrializados e permitiu à cidade concentrar-se nos setores de comércio e serviços, cujos empregos são mais bem remunerados que os industriais.
- (B) a criação de muitas pequenas indústrias na cidade, aproveitando a existência de mercado consumidor, profissionais qualificados e incentivos fiscais. Já no setor financeiro, ocorreu uma fuga de empresas como resposta às sucessivas crises vividas pela economia do país.
- (C) a decadência econômica, em razão da saída das classes médias em direção às cidades do interior do estado, mantendo na cidade somente o circuito financeiro, ligado às atividades de comércio e serviços informais.
- (D) o predomínio da construção civil como setor que mais emprega e gera lucros para a cidade, em detrimento da indústria, que busca novas localizações em municípios do interior do estado, incentivada por leis ambientais e trabalhistas menos restritivas.
- (E) o deslocamento das fábricas para novas áreas no interior do estado ou em outros estados brasileiros; concentração das atividades de gestão (sedes das empresas), financeiras e de serviços especializados.

69. Leia o texto para responder à questão.

A “Rainha da Madrugada”, como é conhecida a linha de ônibus mais extensa de São Paulo, é cercada de números e estatísticas impressionantes. Ela liga o centro da capital ao extremo leste, o bairro Cidade Tiradentes.

A cada jornada, ela percorre exatos 103,272 km em sua volta completa, no trajeto circular de ida e volta centro-bairro-centro, enquanto a média das linhas da cidade é de 26 km.

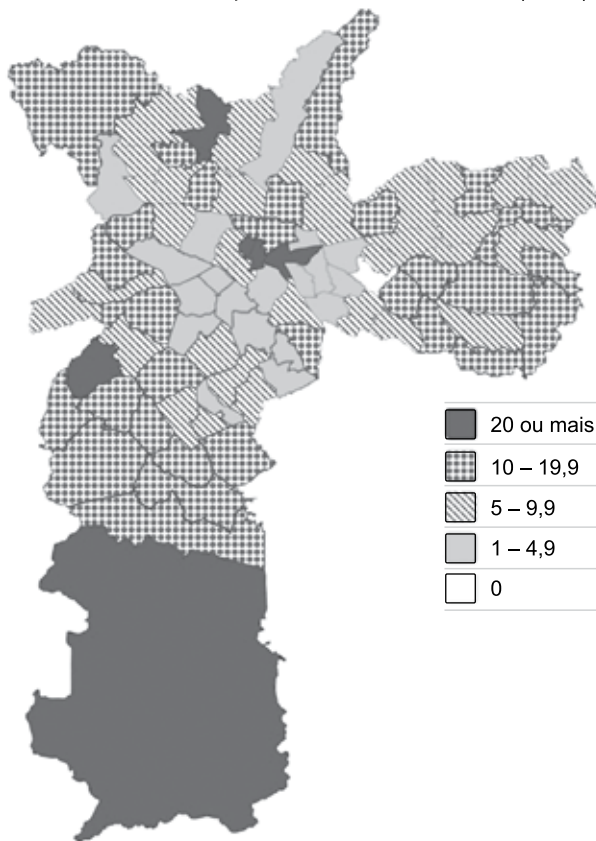
(<http://noticias.r7.com/sao-paulo/noticias/maior-linha-de-onibus-da-capital-percorre-103-3-km-em-seis-horas-20120813.html>)

Situações como a contida na notícia mostram a complexidade que é o planejamento dos transportes coletivos na cidade de São Paulo. Assim, o planejador enfrenta desafios como

- (A) construir corredores exclusivos que permitam maior fluidez na circulação dos coletivos e no transporte de cargas, sem causar impactos como a redução da velocidade por excesso de veículos na faixa destinada ao transporte individual.
- (B) diversificar, ao máximo, o número de linhas de ônibus, garantindo ao passageiro que ao menos uma linha passe muito próximo à sua residência/trabalho, ainda que ao custo da redução do número de viagens.
- (C) evitar a proposição de linhas de ônibus com trajetos muito longos, em razão dos custos da circulação, porém cuidar para que o usuário não seja obrigado a fazer muitas baldeações, o que poderia desestimular o uso do transporte coletivo.
- (D) sempre buscar a utilização de ônibus com grande capacidade de transporte de passageiros, como forma de reduzir os custos de operação do sistema, independentemente das condições do tráfego, da dimensão das ruas e do próprio relevo.
- (E) garantir que todas as linhas tenham como destino, pelo menos, uma estação que possibilite a baldeação para um meio de transporte de massa (metrô ou trem de subúrbio), pois é a única forma de reduzir os custos do transporte coletivo.

70. Observe o mapa a seguir.

Taxa de Homicídio por distrito de São Paulo (2013)



(<http://g1.globo.com/sao-paulo/homicidios-2013/index.html>)

A análise do mapa permite afirmar que os homicídios na cidade de São Paulo

- (A) são exagerados pelos meios de comunicação, pois estão em número significativo somente em bairros mais distantes e pouco povoados.
- (B) distribuem-se de modo desigual, com maior concentração em distritos do centro antigo e naqueles situados nos limites extremos da cidade.
- (C) mostram que os distritos centrais não podem ser considerados mais seguros, pois estão muito próximo de distritos muito violentos.
- (D) concentram-se nos distritos onde há maior presença de população migrante, com destaque para a violência familiar.
- (E) são uma epidemia e atingem igualmente as populações de maior e menor poder aquisitivo, pois existem registros em todos os distritos.

