



**SECRETARIA DE ESTADO DOS NEGÓCIOS DA SEGURANÇA PÚBLICA
POLÍCIA MILITAR DO ESTADO DE SÃO PAULO
DIRETORIA DE ENSINO E CULTURA**

CONCURSO INTERNO DE SELEÇÃO

001. PROVA OBJETIVA

CURSO DE FORMAÇÃO DE SARGENTOS (CFS/16)

- ◆ Você recebeu sua folha de respostas e este caderno contendo 60 questões objetivas.
- ◆ Confira seus dados impressos na capa deste caderno e na folha de respostas.
- ◆ Quando for permitido abrir o caderno, verifique se está completo ou se apresenta imperfeições. Caso haja algum problema, informe ao fiscal da sala.
- ◆ Leia cuidadosamente todas as questões e escolha a resposta que você considera correta.
- ◆ Marque, na folha de respostas, com caneta de tinta azul ou preta, a letra correspondente à alternativa que você escolheu.
- ◆ A duração da prova é de 3 horas, já incluído o tempo para o preenchimento da folha de respostas.
- ◆ Só será permitida a saída definitiva da sala e do prédio após transcorridas 2 horas do início da prova.
- ◆ Deverão permanecer em cada uma das salas de prova os 3 últimos candidatos, até que o último deles entregue sua prova, assinando termo respectivo.
- ◆ Ao sair, você entregará ao fiscal a folha de respostas e este caderno, podendo levar apenas o rascunho de gabarito, localizado em sua carteira, para futura conferência.
- ◆ Até que você saia do prédio, todas as proibições e orientações continuam válidas.

AGUARDE A ORDEM DO FISCAL PARA ABRIR ESTE CADERNO DE QUESTÕES.

Nome do candidato _____

Prédio _____

Sala _____

Carteira _____

Inscrição _____

LÍNGUA PORTUGUESA

Leia o quadrinho para responder às questões de números **01** e **02**.



(Folha de S.Paulo, 22.06.2014. Adaptado)

01. De acordo com a norma-padrão da língua portuguesa, as lacunas nas falas das personagens devem ser preenchidas, respectivamente, com:

- (A) de que ... vivia
- (B) que ... morar
- (C) de que ... estiver
- (D) que ... residisse

02. A leitura do quadrinho permite concluir que a filha chora porque

- (A) pensa que seu par romântico pode estar vivendo muito longe de onde ela está.
- (B) recebe uma advertência de sua mãe por estar pensando em seu par romântico.
- (C) acredita que pode não ter um par romântico, conforme o que lhe diz a mãe.
- (D) concorda com a mãe sobre o par romântico, que logo deverá aparecer-lhe.

Leia o texto para responder às questões de números **03** a **09**.

O Dedo

Inclinara-me para ver o estranho objeto quando notei o pequeno feixe de fibras emergindo na areia banhada pela espuma. Quando recorri aos óculos é que vi: não era algodão mas uma vértebra meio descarnada – a coluna vertebral de um grande peixe? Fiquei olhando. Espera, mas o que seria aquilo? Um aro de ouro? Agora que a água se retraíra eu podia ver um aro de ouro brilhando em torno da vértebra, enfeixando as fibras que tentavam se libertar, dissolutas. Com a ponta do cipó, revolvi a areia. Era um dedo anular com um anel de pedra verde preso ainda à raiz intumescida. Como lhe faltasse a última falange, faltava o que poderia me fazer recuar; a unha. Unha pintada de vermelho, o esmalte descascando, acessório fiel ao principal até no processo de desintegração. Unha de mulher burguesa, à altura do anel do joalheiro que se esmerou na cravação da esmeralda. Penso que se restasse a unha certamente eu teria fugido, mas naquele estado de despelamento o fragmento do dedo trabalhado pela água acabara por adquirir a feição de um simples fruto do mar. Mas havia o anel.

A dona do dedo? Mulher rica e de meia idade que as jovens não usam joias, só as outras. Afogada no mar? A onda começou inocente lá longe e foi se cavando cada vez mais alta, mais alta, Deus meu! A fuga na água e a praia tão longe, ah! mas o que é isso?... Explosão de espuma e sal. Sal.

(Lygia Fagundes Telles, *Um coração ardente*)

03. Ao tomar consciência de que encontrou um dedo na praia, o narrador

- (A) pensa em um joalheiro ao qual possa vender o anel de ouro com uma esmeralda incrustada.
- (B) passa a fazer conjecturas a respeito da pessoa e das circunstâncias em que ela pode ter morrido.
- (C) foge rapidamente do local, pois a unha pintada de vermelho o surpreende, despertando-lhe o medo.
- (D) começa a recuar, mas é tentado pela curiosidade de mexer no achado para encontrar pistas do incidente.

04. A frase final do primeiro parágrafo – Mas havia o anel. – permite concluir que a presença do adorno no achado

- (A) fazia-o parecer um simples fruto do mar.
- (B) era insignificante na situação vivida.
- (C) causava medo extremo ao narrador.
- (D) indicava a sua condição de dedo.

05. Nas passagens – ... quando notei o pequeno feixe de fibras **emergindo** na areia banhada pela espuma. –, – ... enfeixando as fibras que tentavam se libertar, **dissolutas**. – e – Com a ponta do cipó, **revolvi** a areia. –, os termos em destaque são sinônimos, respectivamente, de

- (A) subindo ... desfeitas ... remexi
- (B) escondendo-se ... dissolvidas ... ajeitei
- (C) submergindo ... decompostas ... espalhei
- (D) vindo à tona ... amarradas ... baguncei

06. Nos períodos – **Como** lhe faltasse a última falange, faltava o que poderia me fazer recuar; a unha. – e – Mulher rica e de meia idade **que** as jovens não usam joias, só as outras. –, as conjunções em destaque expressam, respectivamente, sentido de

- (A) conformidade e conclusão.
- (B) causa e consequência.
- (C) comparação e conclusão.
- (D) causa e explicação.

07. Assinale a alternativa em que o enunciado expressa uma situação hipotética.

- (A) Inclinar-me para ver o estranho objeto...
- (B) ... eu podia ver um aro de ouro brilhando em torno da vértebra...
- (C) Com a ponta do cipó, revolvi a areia.
- (D) ... se restasse a unha certamente eu teria fugido...


08. Assinale a alternativa correta quanto à colocação pronominal na frase reescrita do texto, de acordo com a norma-padrão da língua portuguesa.

- (A) Inclinar-me para ver o objeto e, quando olhei-o, notei o pequeno feixe de fibras.
- (B) O fragmento do dedo tornara-se semelhante à feição de um simples fruto do mar.
- (C) Provavelmente muito teria-se esmerado o joalheiro na cravação da esmeralda no anel.
- (D) Assim que retraiu-se a água, pude ver um aro de ouro brilhando em torno da vértebra.

09. Há termos empregados em linguagem figurada na seguinte frase reescrita do texto:

- (A) Vi que não era algodão: a vértebra meio descarnada seria a coluna vertebral de um grande peixe?
- (B) Agora que a água havia se retraído, eu via um aro de ouro em torno da vértebra que encontrara na praia.
- (C) Naquele estado, o fragmento do dedo trabalhado pela água era agora um simples fruto do mar.
- (D) Unha pintada de vermelho, cujo esmalte descascava, fidelidade do acessório ao principal até na desintegração.

10. Observe a imagem.



(Gazeta do Povo, 11.08.2015. Adaptado)

Em conformidade com a norma-padrão, a frase que completa coerentemente o balão da fala da personagem é:

- (A) Me veja um café com leite por favor. Ou melhor leite com café.
- (B) Veja-me um café com leite, por favor. Ou melhor, leite com café.
- (C) Veja-me um café com leite por favor? Ou melhor leite com café!
- (D) Me veja um café com leite por favor, ou melhor, leite com café.

Leia o texto para responder às questões de números 11 a 13.

O “Anuário Brasileiro de Segurança Pública” detalhou pela primeira vez os crimes que resultam em mortes nas capitais. O panorama é sombrio: 15932 vítimas em 2014, quase dois óbitos por hora nas principais cidades do país.

No levantamento do Fórum Brasileiro de Segurança Pública (organização privada que congrega especialistas na área), não se observa _____ com relação ao ano anterior. Em 2013, _____ sido 15804 mortos por violência intencional nas capitais, acréscimo de mero 0,8%.

Tal evolução acompanha de perto o crescimento populacional, o que manteve _____ a taxa de 33 por grupo de 100 mil habitantes. Quando se consideram as cifras de cada capital, por outro lado, _____ algumas evidências chocantes.

(Folha de S.Paulo, 03.10.2015. Adaptado)

11. De acordo com a norma-padrão da língua portuguesa, as lacunas do texto devem ser preenchidas, respectivamente, com:

- (A) variação muito significativa ... haviam ... inalterada ... despontam
- (B) variações muito significativa ... havia ... inalterada ... desponta
- (C) variação muito significativo ... haviam ... inalterado ... despontam
- (D) variações muito significativas ... havia ... inalterado ... desponta

12. Nas passagens – O panorama é **sombrio**... (1º parágrafo) – e – ...15804 mortos por violência **intencional** nas capitais... (2º parágrafo) –, os termos em destaque têm como antônimos, respectivamente:

- (A) auspicioso ... deliberado
- (B) desconsolador ... impremeditado
- (C) animador ... involuntário
- (D) infeliz ... proposital

13. Assinale a alternativa em que o uso ou não do acento indicativo da crase e a regência estão em conformidade com a norma-padrão da língua portuguesa.

- (A) A luz dos dados, vê-se que se chega em quase dois óbitos por hora nas principais capitais. Em 2013, por exemplo, 15804 foram mortos devido à violência intencional.
- (B) À luz dos dados, vê-se que se chega a quase dois óbitos por hora nas principais capitais. Em 2013, por exemplo, 15804 foram mortos devido à violência intencional.
- (C) À luz dos dados, vê-se que se chega em quase dois óbitos por hora nas principais capitais. Em 2013, por exemplo, 15804 foram mortos devido violência intencional.
- (D) A luz dos dados, vê-se que se chega à quase dois óbitos por hora nas principais capitais. Em 2013, por exemplo, 15804 foram mortos devido a violência intencional.

Leia a tira para responder às questões de números 14 e 15.



(Folha de S.Paulo, 02.10.2015. Adaptado)

14. Com sua fala, a personagem revela que
- (A) a violência era comum no passado.
 - (B) as pessoas lutam contra a violência.
 - (C) a violência está banalizada.
 - (D) o preço que pagou pela violência foi alto.
15. Observe a reescrita da fala da personagem: – Agora, temos pessoas tão agressivas que a violência é gratuita. – Nessa reescrita, o termo **tão** expressa sentido de
- (A) conclusão, em um período em que a segunda oração sintetiza o conteúdo expresso pela primeira.
 - (B) modo, em um período em que a segunda oração traz uma característica que se compara à primeira.
 - (C) oposição, em um período em que a segunda oração contrapõe uma ideia à outra expressa na primeira.
 - (D) intensidade, em um período em que a segunda oração apresenta a consequência da primeira.

Leia o texto para responder às questões de números 16 a 20.

Em um campo enlameado 16 quilômetros ao sul de Bruxelas, cerca de 200 000 soldados enfrentaram-se por oito horas. Homens e cavalos foram decapitados e estripados por baionetas, espadas e balas de canhão. À noite, 12 000 cadáveres espalhavam-se pelo chão. A Batalha de Waterloo, a terceira entre o exército francês e rivais europeus ao longo de três dias seguidos, completa 200 anos no próximo 18 de junho. Em 1815, Waterloo pôs fim às ambições do incansável Napoleão Bonaparte. O conflito desde então costuma ser lembrado como a mais emblemática das derrotas – a prova de que há limites mesmo para a ambição de um estrategista brilhante.

(Veja, 17.06.2015)

16. De acordo com o texto, a Batalha de Waterloo
- (A) pôs termo ao avanço do poder de Napoleão sobre os rivais europeus.
 - (B) comprova que não existem limites para uma ambição guerreira.
 - (C) dá novo fôlego para os intentos militares de Napoleão Bonaparte.
 - (D) representa o momento em que os rivais de Napoleão sucumbem.

17. As informações do texto permitem afirmar que

- (A) Napoleão era um comandante com poucos conhecimentos militares.
- (B) a Batalha de Waterloo é considerada a mais simbólica das derrotas.
- (C) poucos soldados tiveram um fim trágico na batalha de Waterloo.
- (D) Napoleão estava cansado das batalhas, quando lutou com seus rivais.

18. Nas passagens – **Em** um campo enlameado... – e – **Em** 1815... –, a preposição **Em** está formando expressões que reportam, respectivamente, às circunstâncias de

- (A) modo e tempo.
- (B) lugar e meio.
- (C) lugar e tempo.
- (D) modo e lugar.

19. Na oração – ...cerca de 200 000 soldados enfrentaram-se por oito horas.–, o pronome **se** está empregado com sentido de reciprocidade. Tal sentido também se verifica em:

- (A) Estavam muito apaixonados os noivos, quando se olharam e disseram “sim”.
- (B) A questão era complexa, tratava-se de um assunto bastante delicado para todos.
- (C) O jovem percebeu o inconveniente de sua canção e logo se retirou do recinto.
- (D) Todos se aproximaram do stand para ver se conseguiam um autógrafo do escritor.

20. Mantendo-se o sentido original do texto e atendendo-se à norma-padrão da língua portuguesa, a passagem – O conflito desde então costuma ser lembrado como a mais emblemática das derrotas – a prova de que há limites mesmo para a ambição de um estrategista brilhante. – está adequadamente reescrita em:

- (A) Desde então, costuma-se lembrar o conflito como a emblemática derrota – da qual se pode provar que a ambição de um estrategista brilhante têm limites.
- (B) O conflito, costuma ser lembrado desde então, como a mais emblemática derrota – a prova mesmo que a ambição de um brilhante estrategista é limitada.
- (C) O conflito costuma ser lembrado, desde então, como o emblema das derrotas – provando de que se impõe limites à ambição de um estrategista brilhante.
- (D) Desde então, o conflito costuma ser lembrado como a derrota mais emblemática – a prova de que mesmo a ambição de um estrategista brilhante tem limites.

21. Três câmeras de segurança estão instaladas em pontos distintos da área externa de uma residência, e somente a porta de entrada dessa residência é um local comum filmado por essas três câmeras. Sabe-se que essas câmeras não filmam pontos fixos, mas sim ângulos de visão distintos, e que, para cobrir esses ângulos, ida e volta, tendo como ponto de partida a referida porta, os tempos necessários para cada uma delas são 4, 5 e 6 minutos. Dessa forma, se exatamente às 19 horas e 17 minutos de um determinado dia essas três câmeras filmarem a porta de entrada dessa residência, então é verdade que a próxima vez em que isso ocorrerá será
- (A) 19 horas e 32 minutos.
(B) 19 horas e 47 minutos.
(C) 20 horas e 02 minutos.
(D) 20 horas e 17 minutos.
22. Considere um total de 150 policiais militares, sendo 90 soldados e 60 cabos. Pretende-se, com esses policiais, montar grupos de policiamento contendo cabos e soldados de modo que o número de grupos seja o maior possível, que em cada grupo haja o mesmo número de soldados e o mesmo número de cabos, e que cada um dos 150 policiais participe de um grupo apenas. Sendo assim, a diferença entre o número de soldados e o número de cabos em cada grupo de policiamento será igual a
- (A) 1.
(B) 2.
(C) 3.
(D) 4.
23. Em um concurso para um determinado cargo, a razão entre o número de candidatos homens e o número de candidatas mulheres podia ser representada pela fração $\frac{4}{5}$. Se nesse concurso o número de mulheres superava o número de homens em 210, então o correto número total de candidatas era
- (A) 1980.
(B) 1890.
(C) 1760.
(D) 1670.

24. Considere a seguinte informação:

“População carcerária [brasileira] cresce 7% ao ano e soma hoje 607 mil pessoas”.

(Folha de S.Paulo, 23.06.2015)

Com base nessa informação, é correto afirmar que, das alternativas a seguir, a que mais se aproxima do número da população carcerária brasileira, um ano antes da publicação da informação, é a alternativa:

(A) 564 milhões.

(B) 565 milhões.

(C) 566 milhões.

(D) 567 milhões.

25. Em uma promoção, Ana comprou um produto com 12% de desconto sobre o preço normal de venda, pagando o valor de R\$ 160,16. O valor em reais que Ana economizou nessa promoção foi

(A) R\$ 19,22.

(B) R\$ 20,68.

(C) R\$ 21,84.

(D) R\$ 22,46.

26. Uma caixa-d'água com capacidade total de 10 000 litros está com 60% de sua capacidade. Neste momento, ela passa a receber água a uma vazão constante de 60 litros por minuto e, ao mesmo tempo, fornece água para outra caixa a uma vazão constante de 35 litros por minuto, até atingir 100% de sua capacidade, quando, automaticamente, ela para de receber água. Do momento em que a caixa-d'água passa a receber água até o momento em que ela para de receber água, são contadas exatamente

(A) 2 horas e 28 minutos.

(B) 2 horas e 40 minutos.

(C) 3 horas e 6 minutos.

(D) 3 horas e 20 minutos.

27. Para realizar uma tarefa em 4 horas, são necessários 5 funcionários, todos com a mesma força de trabalho. Se nas primeiras 3 horas da realização dessa tarefa será possível contar com os 5 funcionários e, após esse tempo, somente será possível contar com 4 deles, então é verdade que o tempo total esperado para a realização completa da tarefa será igual a 4 horas e

(A) 5 minutos.

(B) 15 minutos.

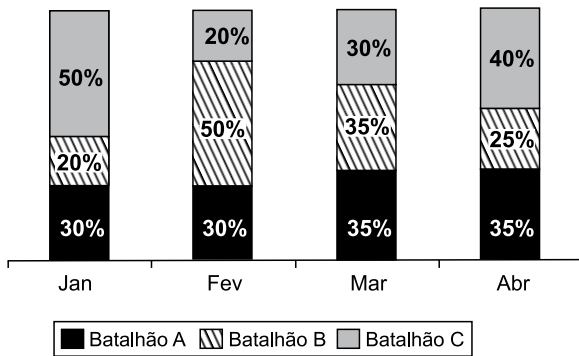
(C) 25 minutos.

(D) 35 minutos.

28. Sabe-se que a média das idades de 10 pessoas é 25 anos. Carlos é uma delas e, excluindo-se a idade dele, a média das idades das demais pessoas é 24 anos. Sendo assim, a idade correta de Carlos é
- (A) 30 anos.
 - (B) 32 anos.
 - (C) 34 anos.
 - (D) 36 anos.
29. Um concurso é composto por duas fases, e a média mínima para aprovação é 7,5. Cada fase é avaliada com notas variando de zero a dez, e a média final é ponderada, sendo 4 e 6 os pesos da primeira e da segunda fase, respectivamente. Um candidato que tirou 6,0 na primeira fase, para não ser desclassificado no concurso, deverá tirar, na segunda fase, no mínimo, uma nota igual a
- (A) 8,0.
 - (B) 8,5.
 - (C) 9,0.
 - (D) 9,5.
30. Um capital C , aplicado à taxa de juros simples de 15% ao ano, rendeu juros correspondentes a dois décimos de C . O número de meses em que esse capital ficou aplicado foi
- (A) 18.
 - (B) 17.
 - (C) 16.
 - (D) 15.
31. Marta comprou 20 unidades de determinado produto para revender. Se ela vender as 12 primeiras unidades com lucro unitário de R\$ 20,00, ela terá um lucro total de R\$ 720,00. Logo, o lucro que Marta terá em cada uma das últimas unidades vendidas será
- (A) R\$ 60,00.
 - (B) R\$ 65,00.
 - (C) R\$ 70,00.
 - (D) R\$ 75,00.

32. Em três batalhões de polícia, A, B e C, há, ao todo, 45 vagas para novos sargentos. No batalhão A, o número de vagas para sargento é 3 unidades maior que o dobro do número de vagas para sargento no batalhão B, ao passo que o número de vagas para sargento no batalhão C é igual à metade do número de vagas no batalhão B. Sendo assim, a soma do número de vagas para sargento nos batalhões B e C é
- (A) 21.
(B) 20.
(C) 19.
(D) 18.
33. Um terreno com formato retangular tem uma das suas dimensões medindo 5 metros a mais que a outra. Sabendo-se que esse terreno foi vendido pelo valor de R\$ 800,00 o metro quadrado, o que totalizou R\$ 600.000,00, é correto afirmar que seu perímetro, em metros, é igual a
- (A) 100.
(B) 110.
(C) 120.
(D) 130.
34. Carlos tem uma meta de lucro na venda de todas as unidades de um determinado produto. Se ele vender cada unidade desse produto a R\$ 50,00, essa meta de lucro será superada em R\$ 720,00. Se ele vender cada unidade desse produto a R\$ 60,00, a meta de lucro será superada em R\$ 2.160,00. Para Carlos atingir sua meta de lucro, ele terá que vender cada unidade do seu produto a
- (A) R\$ 45,00.
(B) R\$ 40,00.
(C) R\$ 35,00.
(D) R\$ 30,00.
35. Em uma determinada localidade, o número h de homens supera o número m de mulheres em três quartos de m . Nessa localidade, cada mulher contribuiu com R\$ 10,00 e cada homem contribuiu com R\$ 12,00 para a realização de um evento. Sabendo-se que o valor total da contribuição foi R\$ 3.720,00, pode-se concluir corretamente que, nessa localidade, a diferença entre o número de homens e o número de mulheres, nessa ordem, é
- (A) 70.
(B) 80.
(C) 90.
(D) 100.

36. O gráfico apresenta informações sobre a participação de três batalhões de uma determinada região no número total de prisões que eles realizaram nos quatro primeiros meses do ano de 2015.



Com base nas informações apresentadas, é correto afirmar que

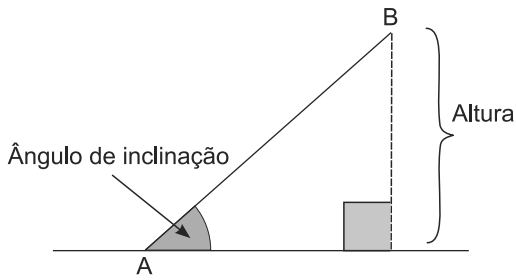
- (A) o número de prisões do batalhão B, em janeiro, foi necessariamente menor que o número de prisões do batalhão A, em abril.
- (B) os números de prisões do batalhão C, em fevereiro e em abril, foram necessariamente diferentes.
- (C) um dos batalhões prendeu necessariamente mais da metade de todos os presos desse quadrimestre.
- (D) no mês de março, os números de prisões dos batalhões A e B foram necessariamente iguais.
37. A tabela, montada a partir de dados publicados pelo Instituto Brasileiro de Geografia e Estatística (IBGE), apresenta informações sobre o número médio de anos de estudos da população brasileira, nos anos de 2009 e 2011.

	Homens	Mulheres
2009	7,0 anos	7,3 anos
2011	7,1 anos	7,5 anos

Com base nas informações apresentadas, assinale a alternativa que contém uma afirmação necessariamente verdadeira.

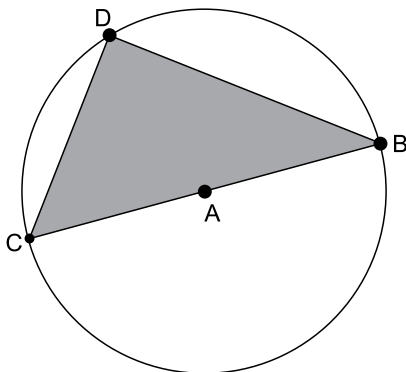
- (A) No ano de 2010, a média de anos de estudo dos homens era 7,05.
- (B) No ano de 2011, não existia mulher com mais de 8 anos de estudo.
- (C) No ano de 2009, a média de anos de estudo dos homens foi menor que a das mulheres em 3 meses e 18 dias, aproximadamente.
- (D) No ano de 2011, a média de anos de estudo das mulheres era maior que a dos homens em exatos 4 meses.

38. A figura representa uma rampa AB com ângulo de inclinação de 45 graus e altura de 50 centímetros.



Aproximando-se $\sqrt{2}$ para 1,4, o comprimento aproximado dessa rampa, em centímetros, é

- (A) 70.
 (B) 75.
 (C) 80.
 (D) 85.
39. Considere uma circunferência de centro A e um triângulo de vértices B, C e D pertencentes a essa circunferência, sendo o ponto A pertencente ao lado BC, conforme apresenta a figura.



Sabendo-se que o lado BD mede 8 centímetros e que a área da região plana limitada pelo triângulo mede 24 centímetros quadrados, então é verdade que o raio da circunferência, em centímetros, mede

- (A) $\frac{3}{2}$.
 (B) $\frac{5}{2}$.
 (C) 3.
 (D) 5.

40. Considere a sequência em que as primeiras figuras são apresentadas a seguir:

♣1 Figura 1	♥1 Figura 2	♦2 Figura 3
♦3 Figura 4	♥2 Figura 5	♣4 Figura 6
♣5 Figura 7	♥3 Figura 8	♦6 Figura 9
♦7 Figura 10	♥4 Figura 11	♣8 Figura 12

Mantendo-se a lógica apresentada, a figura 426 dessa sequência conterá os símbolos

- (A) ♣284.
 (B) ♥142.
 (C) ♦135.
 (D) ♥213.

R A S C U N H O

CONHECIMENTOS PROFISSIONAIS

41. Com relação ao direito de liberdade de reunião e de associação, previsto na Declaração Universal dos Direitos do Homem, é correto afirmar que
- (A) ninguém poderá ser obrigado a fazer parte de uma associação, exceto sindicatos e associações de classe.
 - (B) não há qualquer previsão sobre direito de liberdade de reunião.
 - (C) toda pessoa tem direito à liberdade de reunião e de associação pacíficas.
 - (D) há previsão sobre direito de liberdade de reunião, porém não há previsão sobre direito de liberdade de associação.
42. Nos termos do Art. 5º da Constituição Federal de 1988 (direitos e garantias fundamentais), é correto afirmar que
- (A) é assegurado a todos o acesso à informação, não se resguardando o sigilo da fonte.
 - (B) é assegurado o direito de resposta proporcional ao agravo, além da indenização por dano material, moral ou à imagem.
 - (C) é plena a liberdade de associação para quaisquer fins, vedada a de caráter paramilitar.
 - (D) ninguém será submetido a tortura nem a tratamento desumano ou degradante, senão em virtude de lei.
43. O Código Penal contempla como *tempo do crime e lei penal no tempo*, respectivamente, que se considera praticado o crime no momento
- (A) da ação ou omissão, ainda que outro seja o momento do resultado e que ninguém pode ser punido por fato que lei posterior deixa de considerar crime, cessando em virtude dela a execução e os efeitos penais da sentença condenatória.
 - (B) da ação, ainda que outro seja o momento da omissão e que ninguém pode ser punido por fato que lei posterior deixa de considerar crime, cessando em virtude dela a execução e os efeitos penais da sentença condenatória.
 - (C) da ação ou omissão, ainda que outro seja o momento do resultado e que ninguém pode ser punido por fato que lei posterior deixa de considerar crime, exceto nas hipóteses de crimes inafiançáveis.
 - (D) do resultado, ainda que outro seja o momento da ação ou omissão e que ninguém pode ser punido por fato que lei posterior deixa de considerar crime, cessando em virtude dela a execução e os efeitos penais da sentença condenatória.
44. Com relação aos crimes tentado e consumado previstos no Código Penal, é correto afirmar que
- (A) o crime será consumado quando nele se reúnam alguns elementos de sua definição legal.
 - (B) salvo disposição em contrário, pune-se o crime consumado com o dobro da pena correspondente à tentativa.
 - (C) o crime será tentado quando, iniciada a execução, não se consuma por circunstâncias da vontade do agente.
 - (D) salvo disposição em contrário, pune-se a tentativa com a pena correspondente ao crime consumado, diminuída de um a dois terços.
45. Nos termos do Código Penal, considera-se como crime de
- (A) feminicídio aquele cometido contra a mulher por razões da condição de sexo feminino.
 - (B) roubo qualificado o constrangimento de alguém, mediante violência ou grave ameaça, e com o intuito de obter para si ou para outrem indevida vantagem econômica, a fazer, tolerar que se faça ou deixar de fazer alguma coisa.
 - (C) estupro apenas a hipótese de constranger mulher à prática de conjunção carnal, mediante violência ou grave ameaça.
 - (D) concussão exigir ou solicitar, para si ou para outrem, direta ou indiretamente, ainda que fora da função ou antes de assumi-la, mas em razão dela, vantagem indevida.
46. Nos termos da Lei nº 11.340/2006, no atendimento à mulher em situação de violência doméstica e familiar, a autoridade policial, entre outras providências, deverá
- (A) garantir proteção policial, em qualquer hipótese, comunicando de imediato ao Ministério Público e ao Poder Judiciário.
 - (B) em todos os casos, acompanhar a ofendida para assegurar a retirada de seus pertences do local da ocorrência ou do domicílio familiar.
 - (C) tendo disponibilidade, fornecer transporte para a ofendida e seus dependentes para abrigo ou local seguro, quando houver risco de vida.
 - (D) encaminhar a ofendida ao hospital ou posto de saúde e ao Instituto Médico Legal.

47. Nos termos da Lei nº 9.455/97, que define os crimes de tortura, e da Lei nº 8.072/90, que dispõe sobre os crimes hediondos, é correto afirmar que
- (A) com relação ao crime de tortura, aquele que se omite em face das condutas previstas, quando tinha o dever de evitá-las ou apurá-las, não incorrerá em qualquer pena.
 - (B) o estupro de vulnerável não é considerado crime hediondo.
 - (C) a condenação pelo crime de tortura acarretará a perda do cargo, função ou emprego público e a interdição para seu exercício pelo dobro do prazo da pena aplicada.
 - (D) a prisão temporária de crimes hediondos terá o prazo de 10 (dez) dias, prorrogável por igual período em caso de extrema e comprovada necessidade.
48. O Cb PM "X", de folga, sabendo que sua esposa o está traindo com o Sgt PM "Z", dirige-se à Cia onde o Sgt PM "Z" está de serviço e, após breve discussão, saca uma arma e desfere vários tiros contra o graduado, provocando-lhe a morte. Diante dessa situação, pode-se afirmar que o Cb PM "X"
- (A) não cometeu crime militar, mas crime comum, e deverá ser julgado pelo Tribunal do Júri por crime de homicídio.
 - (B) cometeu crime militar, porém deverá ser julgado pelo Tribunal do Júri.
 - (C) cometeu crime comum, porém deverá ser julgado pela Justiça Militar.
 - (D) cometeu crime militar e deverá ser julgado pela Justiça Militar.
49. Nos termos do Código de Processo Penal Militar, com relação ao Inquérito Policial Militar (IPM), é correto afirmar que
- (A) o IPM poderá ser dispensado, sem prejuízo de diligência requisitada pelo Ministério Público, quando o fato e sua autoria já estiverem esclarecidos por documentos ou outras provas materiais.
 - (B) a autoridade militar somente poderá mandar arquivar autos de IPM quando verificar que o fato que está sendo apurado não se trata de crime militar.
 - (C) o arquivamento de IPM obsta a instauração de outro, mesmo se novas provas aparecerem em relação ao fato, ao indiciado ou a terceira pessoa.
 - (D) discordando da solução dada ao IPM, a autoridade que o delegou não poderá avocá-lo, devendo encaminhar, de imediato, para deliberação, à Justiça Militar.
50. Nos termos do Código Penal Militar, assinale a alternativa correta.
- (A) O crime de motim exige sempre a prática de violência contra pessoa para sua configuração.
 - (B) Na hipótese de vários policiais militares de uma mesma guarnição, todos, em coautoria, recusarem-se a cumprir a determinação de um Sgt PM, todos poderão responder pelo crime de recusa de obediência.
 - (C) Para a configuração do crime de abandono, não se exige que tenha havido efetivo prejuízo à Administração Militar.
 - (D) O crime de deserção admite, para a sua configuração, a modalidade culposa.
51. Com relação às sanções administrativas disciplinares previstas no Regulamento Disciplinar, é correto afirmar que a
- (A) advertência, forma mais branda de sanção, é aplicada, verbalmente ou por escrito, ao transgressor, sem constar de publicação ou dos assentamentos individuais e, exclusivamente, às faltas de natureza leve e média.
 - (B) repreensão é a sanção feita por escrito ao transgressor, publicada de forma reservada ou ostensiva, devendo sempre ser averbada nos assentamentos individuais.
 - (C) expulsão será aplicada, mediante processo regular, à praça ou ao oficial que atentar contra a segurança das instituições nacionais ou praticar atos desonrosos ou ofensivos ao decoro profissional.
 - (D) proibição do uso de uniformes policiais-militares será aplicada, temporariamente ou definitivamente, ao inativo que atentar contra o decoro ou a dignidade policial-militar.
52. Nos termos das I-7-PM, a correspondência oficial em uso na Polícia Militar classifica-se quanto
- (A) ao trânsito: interna ou externa.
 - (B) à natureza: normal ou urgente.
 - (C) à tramitação: ostensiva ou sigilosa.
 - (D) ao destinatário: particular ou profissional.

- 53.** As Instruções para continências, honras, sinais de respeito e cerimonial militar na Polícia Militar (I-21-PM) determinam que
- (A) os oficiais da reserva ou reformados e os militares estrangeiros não têm direito à continência da tropa, mesmo quando uniformizados.
 - (B) a Bandeira Nacional somente poderá ser hasteada e arriada durante o dia, sendo vedado seu hasteamento durante a noite.
 - (C) a cerimônia de compromisso dos Alunos-Sargentos será realizada na solenidade de início do respectivo Curso de Formação e na própria OPM formadora.
 - (D) a Bandeira Paulista, quando conduzida por tropa, não será abatida, sendo desfraldada em continência à Bandeira Nacional, ao Hino Nacional e ao Presidente da República.
- 54.** Quanto às normas de segurança para a utilização da Internet pelas OPM previstas nas I-30-PM, é correto afirmar que
- (A) em havendo suspeição da ocorrência de violação da segurança, por motivos direta ou indiretamente ligados à Internet, os serviços baseados naquela rede não devem ser suspensos, apenas deve ser comunicado o fato ao escalão superior.
 - (B) qualquer obtenção de arquivos da Internet limitar-se-á aos casos de interesse da Instituição, exceto quando autorizado pelo Oficial de Telemática.
 - (C) É vedado o uso de recursos de criptografia (hardwares e/ou softwares) não homologados pela PMESP.
 - (D) Sistemas de proteção e controle de fluxo de dados e detecção de intrusão, denominados firewall, além de outros similares, quando utilizados, devem ser adquiridos segundo requisitos mínimos definidos pelo Oficial de Telemática da OPM.
- 55.** Considerando o previsto na I-31-PM no que concerne à elaboração de mensagem de correio eletrônico, é correto afirmar que
- (A) deverá ter plano de fundo, papel de carta, temas ou figuras.
 - (B) a fonte a ser utilizada deverá ser "Arial", tamanho 12.
 - (C) a opção de solicitar a confirmação de envio e leitura deverá ser evitada e, se possível, desabilitada.
 - (D) sempre que possível, deverão ser anexados arquivos, evitando-se longos textos.
- 56.** Nos termos da ICC nº 139 (Uso de Arma de Incapacitação Neuromuscular), quanto ao seu emprego, é correto afirmar que
- (A) a distância de utilização deverá ser, em média, de 5 a 7 metros do agressor.
 - (B) não poderá ser empregada para a contenção de animais, mesmo que ofereçam risco iminente ao policial militar ou a terceiros.
 - (C) se deve seguir a ordem de prioridade quanto à região de disparo: 1º costas, 2º pernas e 3º centro do tórax do agressor.
 - (D) caso os dardos atinjam áreas sensíveis do corpo do agressor (cabeça, olhos, pescoço, genitais, mama feminina), deverão ser retirados imediatamente.
- 57.** Nos termos da ICC nº 144 (A Importância e as Principais Características do Policiamento Comunitário), a filosofia de Polícia Comunitária contempla, entre outras, as seguintes rotinas:
- (A) Visita Comunitária; Policial do mês da OPM e Visita Solidária.
 - (B) Visita Solidária; Visita Integrada e Programa de Vizinhança Solidária.
 - (C) Abordagem Comunitária; Visita Técnica da Corregedoria PM e Abordagem Integrada.
 - (D) Visita Integrada; Ações Sociais e/ou Projetos Sociais e Policial do mês da OPM.
- 58.** A autoridade competente para deliberar sobre criação e desativação de BCS (Base Comunitária de Segurança) é:
- (A) O Subcmt PM tanto para criação como para desativação.
 - (B) O Cmt da OPM para criação e o Subcmt PM para desativação.
 - (C) O Coord Op PM para criação e o Subcmt PM para desativação.
 - (D) O Diretor do DPCDH, tanto para criação como para desativação.

59. Com relação ao desenvolvimento do Policiamento Escolar previsto na Diretriz nº PM3-14/02/05, é correto afirmar que

- (A) o Programa será implantado nos municípios que possuam, no mínimo, 1 500 (um mil e quinhentos) habitantes.
- (B) o efetivo a ser empregado na Ronda Escolar poderá ser de 01 (um), 02 (dois) ou 03 (três) policiais militares, em viatura, em cada turno de serviço.
- (C) uma vez por mês, no mínimo, a guarnição (ou o PM) que compõe a RE deverá adentrar a escola e contatar sua direção.
- (D) na guarnição de 02 (dois) PM, um pode desembarcar e permanecer na escola, enquanto o outro se desloca para cobrir outras escolas com a viatura.

60. Pode-se afirmar que se trata de um modo de atuação do Programa ROCAM, previsto na Diretriz nº PM3-05/02/05:

- (A) Patrulha dedicada à via: policiamento realizado nas proximidades de escolas e estabelecimentos comerciais, nas cidades com população acima de 100 000 (cem mil) habitantes.
- (B) Patrulha atuando por área: policiamento efetuado por AISP do Batalhão ou do município que seja, no mínimo, sede de Cia PM, com frota fixada mínima de 04 (quatro) motocicletas.
- (C) Patrulha dedicada à via: policiamento realizado nos grandes corredores de trânsito, caracterizados pelo elevado índice de acidentes de trânsito e furto a pedestres, nas cidades com população acima de 500 000 (quinhentos mil) habitantes.
- (D) Patrulha atuando por área: policiamento efetuado por AISP do Batalhão ou do município que seja, no mínimo, sede de Pel PM, com frota fixada mínima de 02 (duas) motocicletas.

