

ENGENHEIRO NAVAL

TIPO 1

Atenção!

Você está recebendo um caderno de provas do tipo 1. Portanto, **verifique se sua folha de respostas é, também, do tipo 1.** Caso contrário, notifique imediatamente o fiscal de sala para que sejam tomadas as devidas providências.

Informações gerais

- Você receberá do fiscal de sala o material descrito a seguir:
 - a) uma folha destinada às respostas das questões objetivas formuladas na prova de tipo 1;
 - b) este caderno de prova tipo 1, com o enunciado das 80 (oitenta) questões, sem repetição ou falha.
- Não será permitida a permanência de candidato em sala de prova portando aparelhos eletrônicos como *pager*, telefone celular, relógio do tipo *data bank*, *walkman*, agenda eletrônica, *notebook*, *palmtop*, receptor, gravador, máquina fotográfica, máquina de calcular e/ou similares. **Tal infração pode acarretar eliminação sumária do candidato.**
- Verifique se o material está em ordem, se seu nome e número de inscrição são os que aparecem na folha de respostas.
- Ao receber a folha de respostas, é sua **obrigação**:
 - a) ler atentamente as instruções de preenchimento da folha de respostas;
 - b) assinar a folha de respostas.
- As questões da prova são identificadas pelo número que se situa acima do enunciado.
- Você deverá transcrever as respostas da prova para a folha de respostas, que será o único documento válido para a correção da prova.
- O preenchimento da folha de respostas, de inteira responsabilidade do candidato, dar-se-á mediante utilização de caneta esferográfica de cor preta ou azul.
- Em hipótese alguma haverá substituição das folhas de respostas por erro do candidato.
- O tempo disponível para esta prova será de cinco horas.
- Você somente poderá sair do local de prova 60 (sessenta) minutos após o seu início.
- Você somente poderá levar consigo o caderno de questões nos últimos 60 (sessenta) minutos de prova.
- Ao terminar a prova, chame o fiscal de sala mais próximo, entregue as folhas de respostas e deixe o local de prova.

Texto para as questões 1 a 15

Perda de oportunidades no trabalho

As empresas vinculadas ao setor de petróleo no Brasil treinaram e formaram mais de 80 mil profissionais desde 2007, em um programa de qualificação que abrange do nível básico a cursos de pós-graduação. Mesmo assim, não conseguiram atender a toda a demanda de pessoal qualificado identificada pelo setor. A exemplo do petróleo, vários outros ramos de atividade industrial, da construção ou de serviços têm se envolvido diretamente na formação e treinamento de profissionais que não estão disponíveis no mercado.

Nem por isso os índices de desemprego se tornaram irrelevantes no país. Há muitas pessoas que permanecem sem ocupação por serem inabilitadas às vagas e aos cargos que o mercado oferece. São numerosas oportunidades perdidas que se multiplicarão, se a economia brasileira continuar com seu impulso de crescimento – e a qualidade da educação continuar baixa. Afinal, a dificuldade de se formar e qualificar profissionais na velocidade que o mercado hoje demanda se deve, em grande parte, a deficiências do sistema de ensino brasileiro.

Um enorme contingente de jovens deixa as escolas ainda com falta de capacidade de aprender. O ensino técnico profissionalizante, com honrosas exceções, passou anos sem sintonia com o mundo real. A escassez de profissionais qualificados vem forçando uma transformação nesse sistema de ensino, e algumas iniciativas inovadoras começam a apresentar resultados, o que pode motivar a reprodução dessa experiência pelo país inteiro. No caso do Estado do Rio, merecem atenção os chamados Centros de Vocação Tecnológica, mais voltados para jovens da região metropolitana.

Esses centros se diferem do ensino técnico convencional porque ministram cursos de curta duração (de dois meses a um ano, essencialmente) e buscam atender a demandas específicas de grupos de empresas localizadas em suas proximidades. Os planos das autoridades responsáveis por esses centros são de ampliar o número de vagas para 54 mil alunos ainda este ano.

O ensino técnico profissionalizante de fato precisa hoje correr contra o relógio, pois, se persistir a falta de pessoal qualificado, as oportunidades acabam definitivamente perdidas

50 pela desistência dos potenciais empregadores. Mas, simultaneamente a essa premência de curto prazo, espera-se que a cadeia de ensino no país, da pré-escola à universidade, acelere ou implante programas que possibilitem um substancial salto de qualidade. Educadores já contam com ferramentas pedagógicas e tecnológicas que facilitam essa aceleração. O ensino a distância, mais acessível graças às telecomunicações e aos recursos da informática, pode romper barreiras que antes impediam a universalização de um sistema educacional de boa qualidade.

O aproveitamento das oportunidades que estão surgindo é valioso porque, além da realização pessoal na vida profissional, é um atalho para melhora dos níveis de renda e de bem-estar de fatias cada vez maiores da população brasileira.

Ao lado dos indicadores macroeconômicos, precisamos acompanhar os referentes ao sistema de ensino em geral, e, especificamente, os relativos ao ensino profissionalizante. Sem melhorar a educação pública, milhões continuarão prisioneiros do assistencialismo, e as empresas, desassistidas.

(O Globo, 28/04/2010)

1

Sem melhorar a educação pública, milhões continuarão prisioneiros do assistencialismo, e as empresas, desassistidas. (L.71-73)

A respeito da pontuação do período acima, analise as afirmativas a seguir:

- I. A segunda vírgula se justifica por separar sujeitos de orações diferentes.
- II. A terceira vírgula é caso de zeugma.
- III. Ao se retirar o E do período, no lugar da vírgula imediatamente anterior a ele seria melhor vir um ponto e vírgula.

Assinale

- (A) se apenas as afirmativas I e III estiverem corretas.
- (B) se apenas as afirmativas I e II estiverem corretas.
- (C) se apenas as afirmativas II e III estiverem corretas.
- (D) se todas as afirmativas estiverem corretas.
- (E) se nenhuma afirmativa estiver correta.

2

Os planos das autoridades responsáveis por esses centros são de ampliar o número de vagas para 54 mil alunos ainda este ano. (L.42-45)

Os pronomes destacados no período acima exercem, respectivamente, papel

- (A) anafórico e catafórico.
- (B) dêitico e catafórico.
- (C) anafórico e dêitico.
- (D) dêitico e anafórico.
- (E) catafórico e dêitico.

3

São numerosas oportunidades perdidas que se multiplicarão, se a economia brasileira continuar com seu impulso de crescimento – e a qualidade da educação continuar baixa. (L.17-20)

A respeito da composição do período acima, analise as afirmativas a seguir:

- I. Há uma oração principal.
 - II. Há duas orações subordinadas adverbiais.
 - III. O período é composto por coordenação e subordinação.
- Assinale
- (A) se apenas as afirmativas I e III estiverem corretas.
 - (B) se apenas as afirmativas I e II estiverem corretas.
 - (C) se todas as afirmativas estiverem corretas.
 - (D) se nenhuma afirmativa estiver correta.
 - (E) se apenas as afirmativas II e III estiverem corretas.

4

Assinale o par de vocábulos em que seus elementos mórficos destacados **NÃO** tenham o mesmo sentido.

- (A) metropolitana (L.36) – metrologia
- (B) economia (L.18) – ecologia
- (C) telecomunicações (L.59) – telepatia
- (D) petróleo (L.2) – petrificar
- (E) sintonia (L.28) – sinergia

5

Assinale o termo que exerça, no texto, a mesma função sintática que *a essa premência de curto prazo* (L.51-52).

- (A) pelo setor (L.7)
- (B) de pessoal qualificado (L.48)
- (C) do sistema de ensino brasileiro (L.23-24)
- (D) de grupos de empresas (L.40-41)
- (E) na formação e treinamento (L.10)

6

Mas, simultaneamente a essa premência de curto prazo, espera-se que a cadeia de ensino no país, da pré-escola à universidade, acelere ou implante programas que possibilitem um substancial salto de qualidade. (L.51-55)

Assinale a alternativa que **NÃO** pode substituir o termo grifado no período acima, sob pena de alteração de sentido.

- (A) Não obstante
- (B) Entretanto
- (C) Porquanto
- (D) Contudo
- (E) No entanto

7

Assinale a palavra que tenha sido acentuada por regra **DISTINTA** das demais.

- (A) relógio (L.47)
- (B) deficiências (L.23)
- (C) distância (L.58)
- (D) nível (L.4)
- (E) níveis (L.66)

8

O ensino técnico profissionalizante de fato precisa hoje correr contra o relógio, pois, se persistir a falta de pessoal qualificado, as oportunidades acabam definitivamente perdidas pela desistência dos potenciais empregadores. (L.46-50)

O termo sublinhado no período acima exerce a função sintática de

- (A) adjunto adverbial.
- (B) agente da passiva.
- (C) complemento nominal.
- (D) adjunto adnominal.
- (E) objeto indireto.

9

...algumas iniciativas inovadoras começam a apresentar resultados, o que pode motivar a reprodução dessa experiência pelo país inteiro. (L.31-33)

No trecho acima, há quantos artigos?

- (A) Um.
- (B) Nenhum.
- (C) Quatro.
- (D) Três.
- (E) Dois.

10

A exemplo do petróleo, vários outros ramos de atividade industrial, da construção ou de serviços têm se envolvido diretamente na formação e treinamento de profissionais que não estão disponíveis no mercado. (L.7-12)

Assinale a alternativa que, com a alteração do trecho acima, manteve integridade semântica em relação ao texto mas **NÃO** apresentou correção gramatical do ponto de vista do português brasileiro contemporâneo.

- (A) A exemplo do petróleo, vários outros ramos de atividade industrial, da construção ou de serviços têm-se envolvido diretamente na formação e treinamento de profissionais que não estão disponíveis no mercado.
- (B) A exemplo do petróleo, vários outros ramos de atividade industrial, da construção ou de serviços se têm envolvido diretamente na formação e treinamento de profissionais que não estão disponíveis no mercado.
- (C) A exemplo do petróleo, vários outros ramos de atividade industrial, da construção ou de serviços têm-se envolvido diretamente na formação e treinamento de profissionais, que não estão disponíveis no mercado.
- (D) A exemplo do petróleo, vários outros ramos de atividade industrial, da construção ou de serviços têm se envolvido diretamente na formação e treinamento de profissionais, que não estão disponíveis no mercado.
- (E) A exemplo do petróleo, vários outros ramos de atividade industrial, da construção ou de serviços têm envolvido-se diretamente na formação e treinamento de profissionais que não estão disponíveis no mercado.

11

Partindo da ideia de que o texto pode ser dividido em quatro partes, assinale a alternativa que apresente a delimitação correta de cada parte.

- (A) parte I: linhas 1 a 12 / parte II: linhas 13 a 62 / parte III: linhas 63 a 67 / parte IV: linhas 68 a 73
- (B) parte I: linhas 1 a 12 / parte II: linhas 13 a 45 / parte III: linhas 46 a 62 / parte IV: linhas 63 a 73
- (C) parte I: linhas 1 a 24 / parte II: linhas 25 a 50 / parte III: linhas 51 a 67 / parte IV: linhas 68 a 73
- (D) parte I: linhas 1 a 24 / parte II: linhas 25 a 45 / parte III: linhas 46 a 62 / parte IV: linhas 63 a 73
- (E) parte I: linhas 1 a 12 / parte II: linhas 13 a 50 / parte III: linhas 51 a 67 / parte IV: linhas 68 a 73

12

Mesmo assim, não conseguiram atender a toda a demanda de pessoal qualificado identificada pelo setor. (L.5-7)

Independentemente da mudança de sentido provocada em relação ao texto, assinale a alternativa que, com a alteração do verbo sublinhado no trecho acima, **NÃO** tenha mantido correção gramatical.

- (A) Mesmo assim, não conseguiram almejar toda a demanda de pessoal qualificado...
- (B) Mesmo assim, não conseguiram obedecer toda a demanda de pessoal qualificado...
- (C) Mesmo assim, não conseguiram aspirar a toda a demanda de pessoal qualificado...
- (D) Mesmo assim, não conseguiram assistir toda a demanda de pessoal qualificado...
- (E) Mesmo assim, não conseguiram assistir a toda a demanda de pessoal qualificado...

13

O texto classifica-se como

- (A) descritivo.
- (B) narrativo.
- (C) dissertativo expositivo.
- (D) dissertativo argumentativo.
- (E) descritivo-narrativo.

Texto para as questões 16 a 18



(Fernando Gonsales. Benedito Cujo.)

14

O aproveitamento das oportunidades que estão surgindo é valioso porque, além da realização pessoal na vida profissional, é um atalho para melhora dos níveis de renda e de bem-estar de fatias cada vez maiores da população brasileira. (L.63-67)

No trecho acima, empregou-se corretamente uma das formas do porquê. Assinale a alternativa em que isso **NÃO** tenha ocorrido.

- (A) Sem ter por quê, em se falando de habilidades, discutir mais profundamente, calamo-nos.
- (B) Vamos destacar as habilidades por que somos conhecidos.
- (C) Ele esperava saber por que, naquele departamento, sua habilidade não era valorizada.
- (D) Porque nossa habilidade não era valorizada não íamos demonstrá-la?
- (E) Não conseguimos saber por quê, mas tentamos.

15

A respeito do que se pode inferir pelas ideias do texto, analise as afirmativas a seguir:

- I. Ocorre uma disparidade entre a economia brasileira e a qualidade da educação.
- II. A escola convencional não vem obtendo êxito em ensinar a aprender.
- III. Empresas privadas têm sido mais bem-sucedidas que a iniciativa pública na formação de jovens.

Assinale

- (A) se apenas as afirmativas I e III estiverem corretas.
- (B) se apenas as afirmativas I e II estiverem corretas.
- (C) se todas as afirmativas estiverem corretas.
- (D) se nenhuma afirmativa estiver correta.
- (E) se apenas as afirmativas II e III estiverem corretas.

16

No segundo quadrinho, adequando a linguagem ao padrão culto e em correspondência ao tratamento do interlocutor do primeiro quadrinho, assinale a alternativa correta. Despreze o uso das gírias.

- (A) Fala a verdade! Há outra na jogada!!
- (B) Fale a verdade! Tem outra na jogada!!
- (C) Fala a verdade! Existe outra na jogada!!
- (D) Fale a verdade! Há outra na jogada!!
- (E) Falai a verdade! Existe outra na jogada!!

17

Em relação à passagem da fala do primeiro quadrinho do discurso direto para o indireto, assinale a alternativa correta.

- (A) Ela disse ao coração dele que ele não liga mais para ela.
- (B) Ela lhe disse que ele não liga mais para ela.
- (C) Ela disse-lhe que ele, coração, não liga mais para ela.
- (D) Ela disse-lhe que ele, coração, não ligaria mais para ela.
- (E) Ela lhe disse que ele não ligava mais para ela.

18

Em relação à leitura do quadrinho, analise as afirmativas a seguir:

- I. No primeiro quadrinho há uma ambiguidade que não interfere no entendimento global do texto.
- II. Pode-se depreender que o rapaz anda envolvido com estudo e provas, provavelmente vestibulares.
- III. Pode-se inferir que o rapaz dissimulou e não respondeu ao questionamento da moça.

Assinale

- (A) se apenas as afirmativas I e III estiverem corretas.
- (B) se apenas as afirmativas I e II estiverem corretas.
- (C) se todas as afirmativas estiverem corretas.
- (D) se nenhuma afirmativa estiver correta.
- (E) se apenas as afirmativas II e III estiverem corretas.

19

Com base no *Manual de Redação da Presidência da República*, devem constar do cabeçalho ou do rodapé do ofício as seguintes informações do remetente:

- I. nome do órgão ou setor;
- II. endereço postal;
- III. telefone e endereço de correio eletrônico.

Analise os itens acima e assinale

- (A) se apenas os itens I e II estiverem corretos.
- (B) se apenas os itens I e III estiverem corretos.
- (C) se apenas o item I estiver correto.
- (D) se nenhum item estiver correto.
- (E) se todos os itens estiverem corretos.

20

Com base no *Manual de Redação da Presidência da República*, analise as afirmativas a seguir:

- I. O padrão culto nada tem contra a simplicidade de expressão, desde que não seja confundida com pobreza de expressão. De nenhuma forma o uso do padrão culto implica emprego de linguagem rebuscada.
- II. Não existe propriamente um “padrão oficial de linguagem”; o que há é o uso do padrão culto nos atos e comunicações oficiais. O jargão burocrático, como todo jargão, deve ser evitado, pois terá sempre sua compreensão limitada.
- III. A linguagem técnica deve ser empregada apenas em situações que a exijam, sendo de evitar o seu uso indiscriminado. Certos rebuscamentos acadêmicos, e mesmo o vocabulário próprio a determinada área, são de difícil entendimento por quem não esteja com eles familiarizado. Deve-se ter o cuidado, portanto, de explicitá-los em comunicações encaminhadas a outros órgãos da administração e em expedientes dirigidos aos cidadãos.

Assinale

- (A) se apenas as afirmativas I e III estiverem corretas.
- (B) se apenas as afirmativas I e II estiverem corretas.
- (C) se todas as afirmativas estiverem corretas.
- (D) se nenhuma afirmativa estiver correta.
- (E) se apenas as afirmativas II e III estiverem corretas.

RACIOCÍNIO LÓGICO

21

A negação da sentença “Se tenho dinheiro, então sou feliz” é

- (A) Se não tenho dinheiro, então não sou feliz.
- (B) Se não sou feliz, então não tenho dinheiro.
- (C) Não tenho dinheiro e sou feliz.
- (D) Não tenho dinheiro ou sou feliz.
- (E) Tenho dinheiro, e não sou feliz.

22

Observe a sequência numérica a seguir: “13527911413151761921238...”.

Mantida a lei de formação, os dois próximos algarismos na sequência serão

- (A) 25.
- (B) 37.
- (C) 27.
- (D) 15.
- (E) 05.


23

Antônio, Bernardo, Caetano, Dario e Eduardo estão, respectivamente, sobre os vértices A, B, C, D e E de um pentágono regular, onde os vértices aparecem nessa ordem no sentido horário. Em determinado momento, Bernardo, Caetano, Dario e Eduardo caminham em linha reta até Antônio. Sendo b , c , d , e e as distâncias percorridas, respectivamente, por Bernardo, Caetano, Dario e Eduardo, tem-se que

- (A) $b=c=d=e$.
- (B) $b<c=d<e$.
- (C) $b=e<c=d$.
- (D) $c<b=e<d$.
- (E) $c=d<b=e$.

24

Há seis contêineres diferentes que deverão ser empilhados, três mais pesados embaixo e três mais leves em cima, conforme sugere a figura:



O número de maneiras de se fazer essa arrumação, mantendo os três mais pesados embaixo e os três mais leves em cima é

- (A) 18.
- (B) 6.
- (C) 9.
- (D) 36.
- (E) 72.

25

Se A não é azul, então B é amarelo. Se B não é amarelo, então C é verde. Se A é azul, então C não é verde. Logo, tem-se obrigatoriamente que

- (A) A é azul.
- (B) B é amarelo.
- (C) C é verde.
- (D) A não é azul.
- (E) B não é amarelo.

26

Três amigos foram a um restaurante, e a conta, já incluídos os 10% de gorjeta, foi de R\$ 105,60. Se eles resolveram não pagar os 10% de gorjeta pois acharam que foram mal atendidos e dividiram o pagamento igualmente pelos três, cada um deles pagou a quantia de

- (A) R\$ 31,68.
- (B) R\$ 30,60.
- (C) R\$ 32,00.
- (D) R\$ 35,20.
- (E) R\$ 33,00.

27

Um contêiner tipo Dry Box 40 pés tem medidas internas aproximadas de 12,03m x 2,28m x 2,34m e suporta uma carga máxima de 26527kg. Há uma carga com grande quantidade de caixas rígidas, que podem ser empilhadas, com dimensões externas de 1,70m x 0,70m x 1,10m e pesando 650kg cada uma. O número máximo dessas caixas que podem ser colocadas em um contêiner tipo Dry Box 40 pés, atendendo a suas especificações de carga, é

- (A) 39.
- (B) 38.
- (C) 40.
- (D) 42.
- (E) 41.

28

De um conjunto de dezoito cartas vermelhas (copas ou ouros) de um baralho, sabe-se que:

- pelo menos uma carta é de copas;
- dadas duas quaisquer dessas cartas, pelo menos uma delas é de ouros.

Sobre esse conjunto de dezoito cartas tem-se que

- (A) exatamente nove são de copas.
- (B) exatamente doze são de ouros.
- (C) pelo menos onze são de copas.
- (D) exatamente dezessete são de ouros.
- (E) no máximo onze são de ouros.

29

Há três caixas A, B e C. Na caixa A há dez bolas amarelas, na caixa B há dez bolas azuis e na caixa C há dez bolas vermelhas. São retiradas aleatoriamente cinco bolas da caixa A e colocadas na caixa B. A seguir, são retiradas aleatoriamente cinco bolas da caixa B e colocadas na caixa C. Finalmente, são retiradas aleatoriamente cinco bolas da caixa C e colocadas na caixa A. Ao final, tem-se que

- (A) na caixa A há, no mínimo, seis bolas amarelas.
- (B) na caixa B há, no máximo, cinco bolas azuis.
- (C) na caixa C há, no mínimo, uma bola amarela.
- (D) na caixa A há, no mínimo, uma bola vermelha.
- (E) na caixa C há, no máximo, cinco bolas azuis.

30

Em cada uma de cinco portas A, B, C, D e E, está escrita uma sentença, conforme a seguir:

Porta A : "Eu sou a porta de saída."

Porta B : "A porta de saída é a porta C."

Porta C : "A sentença escrita na porta A é verdadeira."

Porta D : "Se eu sou a porta de saída, então a porta de saída não é a porta E."

Porta E : "Eu não sou a porta de saída."

Sabe-se que dessas cinco sentenças há uma única verdadeira e que há somente uma porta de saída. A porta de saída é a porta

- (A) D.
- (B) A.
- (C) B.
- (D) C.
- (E) E.

ATUALIDADES

31

Em relação ao pacote de medidas de estímulo às exportações anunciado pelo governo federal em maio de 2010, analise as afirmativas a seguir:

- I. Será criado um banco para financiar as operações de comércio exterior brasileiras.
- II. A devolução de crédito tributário para as empresas exportadoras será acelerada.
- III. As empresas inscritas no Simples Nacional não poderão ter seu poder de atuação ampliado.

Assinale

- (A) se apenas as afirmativas I e III estiverem corretas.
- (B) se apenas as afirmativas II e III estiverem corretas.
- (C) se todas as afirmativas estiverem corretas.
- (D) se nenhuma afirmativa estiver correta.
- (E) se apenas as afirmativas I e II estiverem corretas.

32

A petroleira responsável pela plataforma que explodiu recentemente no Golfo do México, causando um vazamento gigante de petróleo é de nacionalidade

- (A) americana.
- (B) mexicana.
- (C) brasileira.
- (D) britânica.
- (E) francesa.

33

Recentemente, um presidente entrou para o site de microblogs Twitter e atraiu rapidamente 250 mil seguidores. Trata-se do presidente

- (A) boliviano.
- (B) brasileiro.
- (C) venezuelano.
- (D) colombiano.
- (E) paraguaio.

34

Em relação à crise europeia, a chanceler alemã Angela Merkel apoiou os líderes da zona do euro na tentativa de evitar que a crise na Grécia se espalhe para outros países, principalmente como

- (A) Inglaterra e França.
- (B) Portugal e Espanha.
- (C) França e Alemanha.
- (D) Rússia e Índia.
- (E) Itália e Áustria.

35

As últimas eleições legislativas britânicas foram vencidas pelo

- (A) Partido Conservador.
- (B) Partido Trabalhista.
- (C) Partido Liberal Democrata.
- (D) Partido Unionista Democrático.
- (E) Sinn Fein.

36

Em relação à produção da Petrobras, analise as afirmativas a seguir:

- I. Foi alcançado um recorde de produção em abril.
- II. Dois poços no Amazonas começaram a produzir.
- III. Nos próximos meses o recorde pode melhorar, com a entrada em operação dos navios FPSO Cidade de Santos e Capixaba.

Assinale

- (A) se apenas as afirmativas I e III estiverem corretas.
- (B) se apenas as afirmativas II e III estiverem corretas.
- (C) se todas as afirmativas estiverem corretas.
- (D) se nenhuma afirmativa estiver correta.
- (E) se apenas as afirmativas I e II estiverem corretas.

37

O Projeto Ficha Limpa, que impede a candidatura de políticos condenados pela Justiça, teve iniciativa

- (A) da Câmara dos Deputados.
- (B) do Ministério Público.
- (C) do Senado Federal.
- (D) popular.
- (E) do Supremo Tribunal Federal.

38

A respeito da gripe A (H1N1), analise as afirmativas a seguir:

- I. A preocupação com uma epidemia da gripe começou após mais de 50 mortes no México em 2009.
- II. A gripe deixou de ser chamada "gripe suína" porque se identificou corretamente o vírus que causava a doença.
- III. Com a vacinação contra a gripe iniciando-se no Brasil em 2010, a expectativa é de que mais de 90 milhões de pessoas sejam vacinadas.

Assinale

- (A) se apenas as afirmativas I e III estiverem corretas.
- (B) se apenas as afirmativas II e III estiverem corretas.
- (C) se todas as afirmativas estiverem corretas.
- (D) se nenhuma afirmativa estiver correta.
- (E) se apenas as afirmativas I e II estiverem corretas.

39

Com o intuito de debater a criação de uma organização paralela às Nações Unidas para defender a Terra dos efeitos do aquecimento global, realizou-se em abril de 2010 uma cúpula mundial sobre o clima. O evento ocorreu

- (A) no Chile.
- (B) na Bolívia.
- (C) na Nova Zelândia.
- (D) no Canadá.
- (E) na Dinamarca.

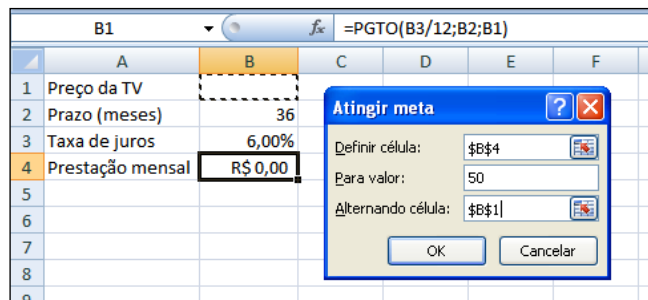
40

A menos de três meses para o início do Censo 2010, o IBGE estima que a população brasileira esteja por volta de

- (A) 160 milhões.
- (B) 170 milhões.
- (C) 200 milhões.
- (D) 180 milhões.
- (E) 190 milhões.

NOÇÕES DE INFORMÁTICA

41



Um rapaz deseja usar o Excel para analisar as condições de financiamento para compra de uma TV LCD em uma grande loja no shopping. A figura acima mostra uma parte da planilha Excel, assim como a caixa de diálogo **Atingir Meta**, já preenchida com as seguintes informações e referências a células:

Definir célula: \$B\$4

Para valor: 200

Alternando célula: \$B\$1

A fórmula na célula B4 é **=PGTO (B3/12;B2;B1)**.

Ao se pressionar o botão **OK** na caixa **Atingir Meta**, qual é o resultado esperado?

- (A) O valor da prestação mensal resultante do financiamento de uma TV de R\$ 50,00, num plano de 36 meses com juros mensais de 6,00%.
- (B) O valor da prestação mensal resultante do financiamento de uma TV de R\$ 50,00, num plano de 36 meses com juros anuais de 6,00%.
- (C) #VALOR, porque a célula B1, onde deveria ser informado o valor do preço da TV, está em branco.
- (D) O valor do preço da TV que resultará numa prestação mensal de R\$ 50,00, num plano de 36 meses com juros mensais de 6,00%.
- (E) O valor do preço da TV que resultará numa prestação mensal de R\$ 50,00, num plano de 36 meses com juros anuais de 6,00%.

42

A respeito do Word 2003, assinale a alternativa correta.

- (A) Planilhas eletrônicas e banco de dados podem servir como fonte de dados para Mala Direta.
- (B) Um documento Word não pode servir como fonte de dados para um documento de Mala Direta.
- (C) É possível usar a ferramenta de Mala Direta apenas para criar cartas, envelopes e etiquetas.
- (D) As informações contidas nos contatos do Outlook precisam ser exportadas para uma planilha Excel para servirem como fonte de dados para Mala Direta.
- (E) Uma vez selecionada a fonte de dados, todos os registros serão incluídos na Mala Direta, sem possibilidade de alteração, seleção ou exclusão.

43

Um servidor da CODESP – Companhia Docas do Estado de São Paulo está organizando as pastas e arquivos de seu computador e realizou as seguintes ações:

- I. Clicou com o botão esquerdo sobre o arquivo Planos.doc, localizado na pasta Documentos2009, e o arrastou para a pasta Documentos2010, localizada na mesma unidade de disco que a pasta Documentos2009.
- II. Clicou com o botão esquerdo sobre o arquivo Orcamento2009.xls, localizado na pasta Financeiro, e o arrastou para a pasta FinanceiroBKP, localizada em uma outra unidade de disco.
- III. Clicou com o botão esquerdo sobre o arquivo DSC00017.jpg, localizado na pasta Fotos2009, e o arrastou, mantendo a tecla CTRL pressionada, para a pasta Fotos2010, localizada na mesma unidade de disco que a pasta Fotos2009.
- IV. Clicou com o botão esquerdo sobre o arquivo Contatos.txt, localizado na pasta Pessoal, e o arrastou, mantendo a tecla SHIFT pressionada, para a pasta RH, localizada em uma outra unidade de disco.

Com base em seus conhecimentos acerca do Windows XP, assinale a afirmativa correta.

- (A) Ao realizar as ações descritas no item I, o servidor copiou o arquivo Planos.doc da pasta Documentos2009 para a pasta Documentos2010.
- (B) Ao realizar as ações descritas no item II, o servidor moveu o arquivo Orcamento2009.xls da pasta Financeiro para a pasta FinanceiroBKP e criou um atalho para o arquivo Orcamento2009.xls na pasta Financeiro.
- (C) Ao realizar as ações descritas no item III, o servidor moveu o arquivo DSC00017.jpg da pasta Fotos2009 para a pasta Fotos2010 e criou um atalho para o arquivo DSC00017.jpg na pasta Fotos2009.
- (D) Ao realizar as ações descritas no item IV, o servidor moveu o arquivo Contatos.txt da pasta Pessoal para a pasta RH.
- (E) As ações descritas em I e III são impossíveis.



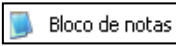


44

Em relação a uma página aberta no Internet Explorer, assinale a afirmativa **INCORRETA**.

- (A) Ao pressionarmos simultaneamente as teclas CTRL + A, todo o conteúdo da página será selecionado.
- (B) Ao pressionarmos simultaneamente as teclas CTRL + F, encontramos recursos para localizar palavras ou expressões na página que está sendo visitada.
- (C) Ao pressionarmos simultaneamente as teclas CTRL + T, será aberta uma nova guia com conteúdo exatamente igual à página que está sendo visitada.
- (D) Ao pressionarmos simultaneamente as teclas CTRL + N, será aberta uma nova janela com conteúdo exatamente igual à página que está sendo visitada.
- (E) Ao pressionarmos simultaneamente as teclas CTRL + W, a página que está sendo visitada será fechada.

45

Com base em seus conhecimentos acerca do Windows XP, analise as afirmativas abaixo:

- I. Ao clicarmos no botão  e posteriormente na opção , é apresentado um submenu, uma lista dos dez documentos recentes.
- II. Ao clicarmos no comando "Fonte" do menu Formatar do aplicativo , é mostrada uma caixa de diálogo com opções para aplicar formatos do tipo: fonte, tamanho da fonte, estilo da fonte, cor da fonte, e estilo de sublinhado.
- III. Ao clicarmos no botão , em seguida clicarmos com o botão direito do mouse na opção, , e selecionarmos a opção "Propriedades", é aberta a janela de "Propriedades do sistema".
- IV. A ferramenta de sistema "Limpeza de disco" do sistema operacional Windows XP reorganiza e otimiza os arquivos de programas utilizados com mais frequência, ajudando, dessa forma, a liberar espaço na sua unidade de disco rígido.

Assinale

- (A) se apenas a afirmativa I estiver correta.
(B) se apenas a afirmativa II estiver correta.
(C) se apenas a afirmativa III estiver correta.
(D) se apenas a afirmativa IV estiver correta.
(E) se nenhuma a afirmativa estiver correta.

INGLÊS BÁSICO

Towing ships is a dynastic business, hard to establish and harder still to give up. It's built on deep allegiance and cutthroat margins, and its inner workings are full of intrigue and successory drama: fistfights, lawsuits, power struggles, and disinheritances.

- 5 The early tugs were expensive to staff and almost comically difficult to steer. A twelve-hundred-horsepower boat might burn twenty tons of coal in a day and require ten men to shovel it. Every time the tug needed to reverse direction, the engine had to be stopped and re-started, by which point the boat might well have run aground.

- 10 Modern tugs are very different beasts. They can have ten thousand horsepower and carry a hundred thousand gallons of fuel. Their propulsion systems have evolved from coal to diesel, from paddle wheel to propeller. Now they may go five thousand miles without changing course. Then, when things finally get interesting - when land heaves into view and headlands rise, when currents intersect and wind barrel down from surrounding slopes, when a narrow channel must be negotiated under bridges, between

- 25 breakwaters, and into a crowded port - the tug captain assumes control.

The shipping industry has gone on a construction spree lately, building ships more than a thousand feet long with as much cargo space as eleven thousand trucks. It means that fewer but more powerful tugs are required to tow the same amount of cargo, and shipping schedules have accelerated dramatically. Tugs that could once afford to lie at port for a week or two now have turn-arounds of less than twenty-four hours. It is a new era for tugboats!

(from THE NEW YORKER, April 19, 2010)

46

From lines 1 to 6 we infer that towing ships is a business which

- (A) is passed over from father to son.
(B) is easily set up.
(C) is easily closed down.
(D) takes little effort to establish.
(E) guarantees high profit.

47

According to lines 1 to 6, all the following issues are likely to be inherent in the tugboating business, **EXCEPT**

- (A) inheritance struggles.
(B) family skirmishes.
(C) wrestling for company control.
(D) family acquiescence.
(E) bodily struggle.

48

From paragraph 2 we deduce that

- (A) operating a tug was like playing with toys.
(B) shifting directions was a risky move.
(C) it was an easy operation to reverse direction.
(D) the tug engine was mechanically fed with coal.
(E) tugs ran the risk of drifting when reversing direction.

49

According to paragraph 2, the first tugs

- (A) used up little fuel.
(B) steered easily.
(C) had a comic design.
(D) were quite maneuverable.
(E) were costly to man.

50

According to lines 20 to 26, we apprehend that things finally get interesting when the land and headlands

- (A) disappear in the horizon.
(B) come into sight.
(C) fade away gradually.
(D) vanish from sight.
(E) become hidden by the surrounding slopes.

51

In the passage *intersect* (line 22) means

- (A) overlap.
- (B) diverge.
- (C) run parallel to one another.
- (D) cross each other.
- (E) flow slowly.

52

In the passage, *breakwaters* (line 25) means

- (A) walls built to keep back water to form a reservoir.
- (B) structures built out into the sea to shelter part of a harbor.
- (C) floodgates used to let water in or out.
- (D) motor-boats able to skim very fast over the surface of water.
- (E) dredging machines used for bringing up mud.

53

According to paragraph 3, when things finally get interesting, the tug captain

- (A) runs away.
- (B) gives up.
- (C) takes over.
- (D) breaks down.
- (E) makes off.

54

According to paragraph 4,

- (A) the same amount of cargo is towed by as many tugboats as it was in the past.
- (B) the larger ships mean that more tugboats will be necessary to tow the same amount of cargo.
- (C) tugboats spend more and more time on sea.
- (D) tugboats take long hours to leave port.
- (E) a ship can take as much cargo as a truck.

55

From the passage as a whole we infer that

- (A) tug vessels remain the same.
- (B) the tugboat history has not evolved much.
- (C) the shipping industry is facing hard times.
- (D) the shipping industry is shrinking.
- (E) a tug captain must be an exceptional seaman.

CONHECIMENTOS ESPECÍFICOS

56

O *Guide to the PMBOK* agrupa processos em nove categorias denominadas *Áreas de Conhecimento do Gerenciamento de Projetos*. Assim, Seleção de Fornecedores e Gerenciamento de Contratos são dois processos incluídos na área de Gerenciamento

- (A) de Riscos do Projeto.
- (B) de Custos do Projeto.
- (C) de Integração do Projeto.
- (D) de Aquisições do Projeto.
- (E) de Comunicações do Projeto.

As questões 57 a 60 referem-se à embarcação cuja geometria é representada na figura 1.

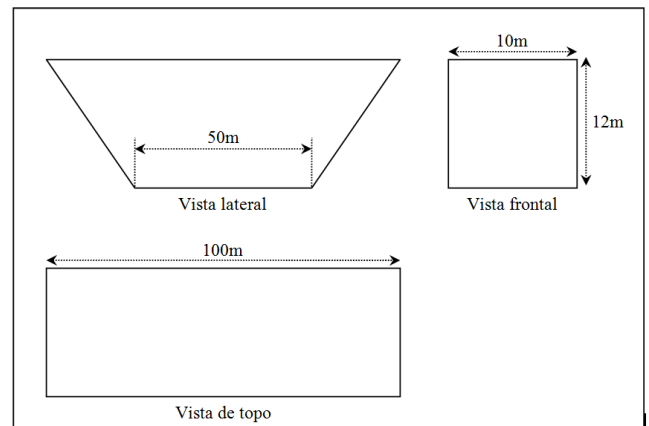


Figura 1: Geometria submersa da embarcação (vistas apresentadas sem escala)

57

Sendo o peso leve da embarcação, cuja geometria é representada na Figura 1, igual a 1.500t, a densidade da água 1.000kg/m^3 e o calado máximo de operação de 10 m, qual é a quantidade máxima de carga a ser transportada?

- (A) 6.000t.
- (B) 7.500t.
- (C) 9.000t.
- (D) 10.500t.
- (E) 12.000t.

58

Sendo o calado de projeto da embarcação, cuja geometria é representada na Figura 1, igual a 10m, quais são, respectivamente, os valores para o coeficiente de bloco, o coeficiente prismático (considerando a baliza de maior área) e o coeficiente de linha d'água?

- (A) 0,75; 0,75 e 0,75.
- (B) 0,75; 0,75 e 1,00.
- (C) 0,75; 1,00 e 1,00.
- (D) 1,00; 0,75 e 0,75.
- (E) 0,50; 0,50 e 1,00.

59

Considerando que o porão de carga tem seção transversal uniforme, comprimento igual ao comprimento do corpo paralelo médio da embarcação e largura igual à boca da embarcação, cuja geometria é representada na Figura 1, determine a altura mínima do porão a ser utilizado para o transporte de 3.000t de um granel com densidade de 1500kg/m^3 .

- (A) 2,0m
- (B) 2,5m
- (C) 4,0m
- (D) 3,0m
- (E) 3,5m

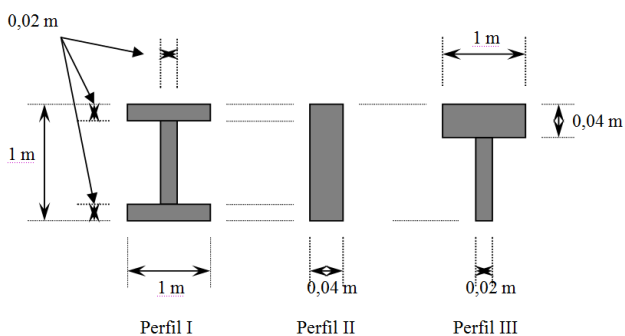
60

Sabendo-se que o peso leve da embarcação, cuja geometria é representada na Figura 1, é uniformemente distribuído ao longo do seu comprimento (CG do navio leve a meia nau); qual é o trim da embarcação considerando que o porão de carga tem seção transversal uniforme, comprimento igual ao comprimento do corpo paralelo médio da embarcação e largura igual à boca da embarcação e carregado com 1.500t?

- (A) 0 grau.
- (B) 0 metro.
- (C) entre 0 e 1 grau.
- (D) entre 0 e 1 metro.
- (E) superior a 1 grau.

61

Considere os três perfis de quilha apresentados abaixo e um determinado momento fletor. Qual apresentará a maior tensão secundária na sua base?



- (A) O perfil I.
- (B) O perfil II.
- (C) O perfil III.
- (D) Os perfis I e III, por apresentarem a maior área de seção.
- (E) O perfil II, por apresentar a menor área de seção.

62

Tendo o conhecimento de que se movimentando um bloco de 2000kg, 4 metros perpendicularmente ao eixo longitudinal de uma embarcação de deslocamento de 100t, provoca-se uma banda de 4 graus, qual é a altura metacêntrica inicial dessa embarcação?

- (A) 0,08m.
- (B) 80,00m.
- (C) 0,88m.
- (D) 5,60m.
- (E) 1,14m.

63

Assinale a alternativa que apresenta os dois fatores mais relevantes para a determinação da resistência ao avanço de uma embarcação.

- (A) velocidade de serviço e número de tripulantes
- (B) velocidade de serviço e forma da embarcação
- (C) forma da embarcação e sua boca
- (D) forma da embarcação e seu calado
- (E) boca e calado da embarcação

64

Considere um modelo de uma embarcação movendo-se com velocidade V_m , num ensaio de reboque. Suponha que, num certo instante, a força de reboque seja suprimida, medindo-se o tempo de parada t_m . Pode-se afirmar que o tempo de parada para um modelo duas vezes maior, partindo de uma velocidade correspondente ao mesmo número de Froude, será

- (A) maior do que $\sqrt{2} \cdot t_m$.
- (B) menor do que $\sqrt{2} \cdot t_m$.
- (C) igual a $\sqrt{2} \cdot t_m$.
- (D) maior do que t_m e menor que $\sqrt{2} \cdot t_m$.
- (E) maior do que $\sqrt{2} \cdot t_m$ e menor que $2 \cdot t_m$.

65

Qual é o tipo e a ordem de grandeza da rotação dos motores tipicamente utilizados em embarcações do tipo tanque?

- (A) Alta rotação / 500 rpm.
- (B) Alta rotação / 100 rpm.
- (C) Média rotação / 500 rpm.
- (D) Baixa rotação / 500 rpm.
- (E) Baixa rotação / 100 rpm.

66

Assinale a alternativa que apresenta características que podem ser apresentadas como vantagens dos motores "Low Speed" utilizados como motor principal em embarcações de grande porte.

- (A) alta eficiência e baixo custo operacional
- (B) durabilidade e possibilidade de uso do óleo diesel como combustível principal
- (C) baixo custo operacional em alta rotação
- (D) pequenas dimensões e alta eficiência
- (E) grandes dimensões e baixo custo operacional

67

Assinale a característica que **NÃO** pode ser vinculada a uma embarcação de apoio.

- (A) alta manobrabilidade
- (B) agilidade
- (C) grandes dimensões
- (D) veículo construído para realizar um conjunto restrito de tarefas
- (E) convés adequado ao transporte de carga

68

Para um navio porta-contêiner, qual é a faixa de variação típica para os parâmetros L/B (razão comprimento-boca), B/T (razão boca-calado) e velocidade em nós?

- (A) $7 < L/B < 8$; $2,8 < B/T < 2,9$; $20 < v < 25$.
- (B) $7 < L/B < 8$; $2,0 < B/T < 2,5$; $20 < v < 25$.
- (C) $5 < L/B < 6$; $2,8 < B/T < 2,9$; $20 < v < 25$.
- (D) $7 < L/B < 8$; $2,0 < B/T < 2,5$; $10 < v < 15$.
- (E) $5 < L/B < 6$; $2,8 < B/T < 2,9$; $10 < v < 15$.

69

Qual é a altura metacêntrica da embarcação que possui as Curvas Hidrostáticas apresentadas na figura a seguir quando ela se apresentar na condição de deslocamento total de 8.500t, sem banca e sem trim? Admita que, para essa condição de carregamento, a altura do centro de gravidade seja 20ft acima da quilha.

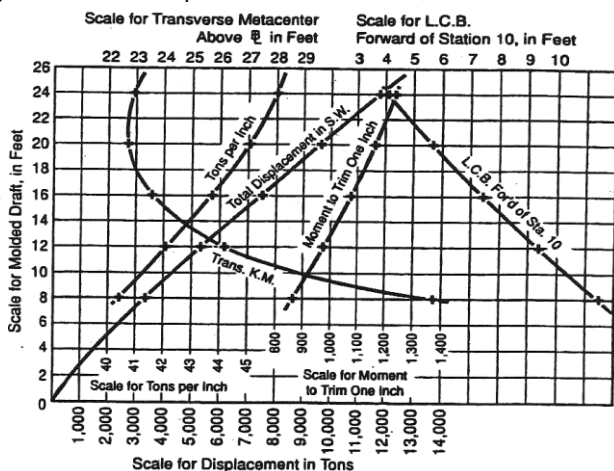


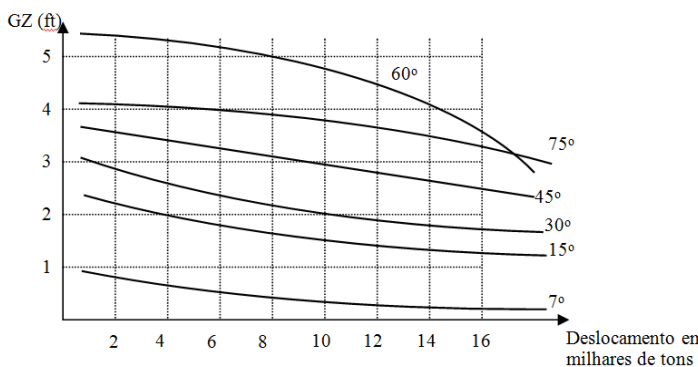
Figura: Curvas Hidrostáticas

Fonte: Benford, H.; Naval Architecture for Non-Naval Architects, pg. 57

- (A) Aproximadamente 3ft.
- (B) Aproximadamente 10ft.
- (C) Aproximadamente 18ft.
- (D) Aproximadamente 10ft.
- (E) Aproximadamente 23ft.

70

Qual é a altura metacêntrica inicial da embarcação que apresenta as curvas cruzadas de estabilidade da figura a seguir, quando ela apresentar um deslocamento total de 6.000t?



- (A) Aproximadamente 0,5ft.
- (B) Aproximadamente 1,8ft.
- (C) Aproximadamente 2,3ft.
- (D) Aproximadamente 3,2ft.
- (E) Aproximadamente 4,0ft.

71

Um modelo de navio foi ensaiado, obtendo-se os valores de resistência ao avanço para diferentes velocidades, conforme apresentado na tabela a seguir. O modelo ensaiado tinha 5,0m de comprimento, boca de 0,6m, calado de 0,2m e superfície molhada de 4,8m².

Qual deve ser a potência da máquina principal de um navio geometricamente semelhante ao modelo ensaiado, com comprimento total de 100m e que deverá viajar a uma velocidade de 15 nós?

Considere:

Densidade da água do mar: $\rho = 1025 \text{ kg/m}^3$

Viscosidade cinemática do mar: $\nu = 1 \cdot 10^{-6} \text{ m}^2/\text{s}$

Estimativa de C_f segundo ITTC-57: $C_f = \frac{0,075}{(\log_{10}^{Re_y} - 2)^2}$

Eficiência total do conjunto propulsor + sistema de transmissão igual a 50%

Coefficiente de redução da força propulsora e de esteira iguais a zero

Tabela: Resistência ao avanço do modelo ensaiado

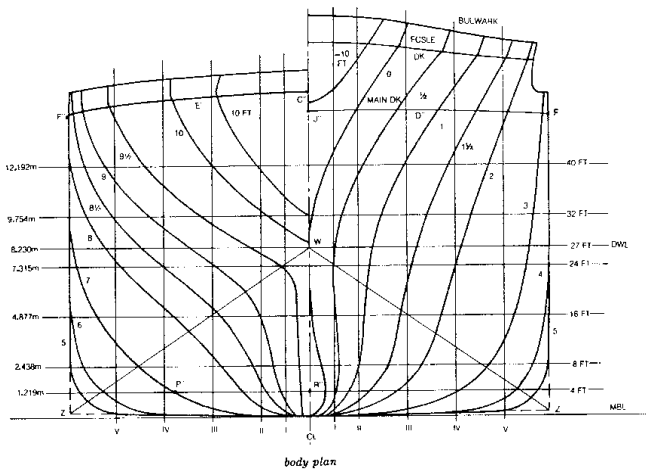
Velocidade ensaiada (m/s)	Resistência medida (N)
1,56	22,95
1,71	29,47
1,96	36,91
2,15	47,21
2,34	58,47
2,55	76,99
2,64	88,41
2,74	102,31

- (A) Inferior a 800kW.
- (B) Entre 800kW e 1000kW.
- (C) Entre 1000kW e 1500kW.
- (D) Entre 1500kW e 2000kW.
- (E) Acima de 2000kW.

72

Para uma embarcação com deslocamento correspondente a 500t, qual é a correção a ser feita no seu GM inicial em função do efeito de superfície livre em um tanque com comprimento de 10m, boca de 5m e profundidade de 3m, parcialmente cheio de óleo com densidade igual a 0,95 t/m³?

- (A) Aproximadamente 0,05m.
- (B) Nenhuma correção se faz necessária.
- (C) Aproximadamente 0,10m.
- (D) Aproximadamente 0,15m.
- (E) Aproximadamente 0,20m.



A partir do plano de balizas apresentado na figura acima, é correto afirmar que

- (A) a embarcação é um petroleiro.
- (B) a embarcação possui bulbo.
- (C) a embarcação possui um corpo paralelo médio de aproximadamente 50% do seu comprimento.
- (D) a baliza de maior área não é a meia nau.
- (E) o corpo de proa da embarcação tem comprimento maior do que o corpo de popa.

74

Assinale a alternativa que se refere às curvas de Bonjean.

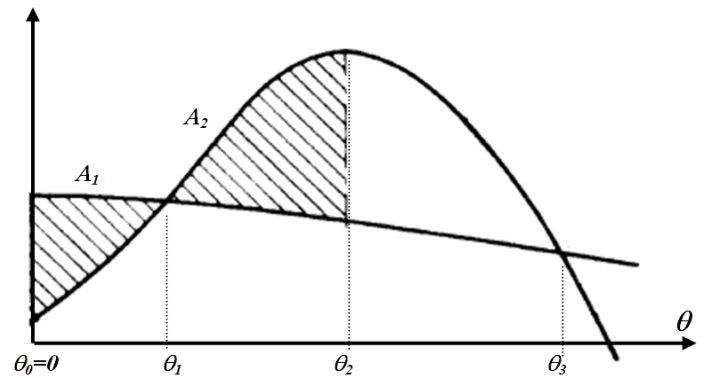
- (A) Conjunto de curvas que fornece as características hidrostáticas de uma embarcação em função do seu calado.
- (B) Conjunto de curvas que fornece o momento de endireitamento atuante na embarcação em função do ângulo de banda.
- (C) Conjunto de curvas que fornece o maior comprimento alagável em função do deslocamento da embarcação.
- (D) Conjunto de curvas que fornece as áreas das balizas em função do calado da embarcação.
- (E) Conjunto de curvas que fornece o momento de endireitamento atuante na embarcação em função do seu deslocamento total.

75

O termo docagem se refere à operação de

- (A) atracação da embarcação em um terminal portuário para carregamento e/ou descarregamento.
- (B) assentamento do navio sobre picadeiros em doca seca para realização de manutenção.
- (C) lançamento da âncora para manutenção do posicionamento da embarcação enquanto realiza operação de manutenção de sistemas a bordo.
- (D) manutenção de sistemas a bordo da embarcação que não impede sua operação normal.
- (E) manutenção de sistemas vitais a bordo da embarcação impossibilitando sua operação normal e, por esse motivo, deve ser realizada estando a embarcação atracada em um terminal portuário.

Momento restaurador
Momento externo



A figura acima apresenta a curva de estabilidade estática de uma dada embarcação e, no mesmo par de eixo, o momento externo atuante, em função do seu ângulo de banda, para uma dada condição ambiental. Nessa situação é correto afirmar que

- (A) os ângulos de banda θ_1 , θ_2 e θ_3 representam pontos de equilíbrio estáveis da embarcação quando submetida a tal condição ambiental.
- (B) apenas o ângulo de banda θ_3 representa um ponto de equilíbrio estável da embarcação quando submetida a tal condição ambiental.
- (C) o ângulo de banda θ_1 representa um ponto de equilíbrio instável da embarcação quando submetida a tal condição ambiental.
- (D) o ângulo de banda θ_2 representa o maior ângulo de banda que a embarcação pode apresentar sem que ocorra o emborcamento.
- (E) o ângulo de banda θ_2 representa o maior ângulo de banda que será verificado quando a embarcação for submetida a tal condição ambiental apenas se a área A_1 for igual à área A_2 .

77

Para fazer uma viagem, que custará R\$ 5.800 em 10 meses, um investidor deseja separar a quantia necessária em um banco que remunera seus depósitos com uma taxa de juros simples de 2,5% ao mês, juros simples. O menor valor a ser depositado por esse investidor é

- (A) R\$ 4.500,00.
- (B) R\$ 5.000,00.
- (C) R\$ 3.987,00.
- (D) R\$ 5.250,00.
- (E) R\$ 4.640,00.

78

O valor de um título com vencimento em dois anos é R\$ 5.760. Sabendo-se que a taxa de juros é de 20% ao ano, juros compostos, o valor presente desse título é

- (A) R\$ 4.000.
- (B) R\$ 4.500.
- (C) R\$ 4.800.
- (D) R\$ 5.000.
- (E) R\$ 4.200.

79

De um modo geral, os procedimentos executados para a manutenção de sistemas podem ser classificados em três categorias: corretiva, preventiva e preditiva, sendo **INCORRETO** afirmar que

- (A) o procedimento de manutenção corretiva é destinado a recuperar um componente falho reabilitando-o a executar sua função adequadamente.
- (B) a manutenção preventiva está associada à ação de manutenção executada em intervalos predeterminados ou de acordo com critérios prescritivos, com o intuito de reduzir a probabilidade de falha ou a degradação de componente.
- (C) a manutenção preditiva está associada ao processo de manutenção predial, ou das instalações físicas, de modo a garantir as condições necessárias para o adequado funcionamento do sistema.
- (D) mesmo com a execução de um processo de manutenção preventiva é possível que seja necessária a execução de uma eventual manutenção corretiva.
- (E) para viabilizar a utilização de um processo de manutenção preditiva, faz-se necessário o acompanhamento sistemático das variáveis que indicam o desempenho do equipamento ou sistema.

80

Um montante de R\$ 1.000 foi aplicado durante 1 ano em um banco à taxa de 20% ao ano, juros compostos e, a seguir, o montante resultante foi colocado em outro banco a juros de 25% ao ano, juros compostos, durante mais 2 anos. O valor final do montante é

- (A) R\$ 1.500.
- (B) R\$ 1.650.
- (C) R\$ 1.875.
- (D) R\$ 5.000.
- (E) R\$ 2.225.



F U N D A Ç Ã O
GETULIO VARGAS

FGV PROJETOS