

ENFERMEIRO DO TRABALHO TIPO 3

Atenção!

Você está recebendo um caderno de provas do tipo 3. Portanto, **verifique se sua folha de respostas é, também, do tipo 3.** Caso contrário, notifique imediatamente o fiscal de sala para que sejam tomadas as devidas providências.

Informações gerais

- Você receberá do fiscal de sala o material descrito a seguir:
 - a) uma folha destinada às respostas das questões objetivas formuladas na prova de tipo 3;
 - b) este caderno de prova tipo 3, com o enunciado das 80 (oitenta) questões, sem repetição ou falha.
- Não será permitida a permanência de candidato em sala de prova portando aparelhos eletrônicos como *pager*, telefone celular, relógio do tipo *data bank*, *walkman*, agenda eletrônica, *notebook*, *palmtop*, receptor, gravador, máquina fotográfica, máquina de calcular e/ou similares. **Tal infração pode acarretar eliminação sumária do candidato.**
- Verifique se o material está em ordem, se seu nome e número de inscrição são os que aparecem na folha de respostas.
- Ao receber a folha de respostas, é sua **obrigação**:
 - a) ler atentamente as instruções de preenchimento da folha de respostas;
 - b) assinar a folha de respostas.
- As questões da prova são identificadas pelo número que se situa acima do enunciado.
- Você deverá transcrever as respostas da prova para a folha de respostas, que será o único documento válido para a correção da prova.
- O preenchimento da folha de respostas, de inteira responsabilidade do candidato, dar-se-á mediante utilização de caneta esferográfica de cor preta ou azul.
- Em hipótese alguma haverá substituição das folhas de respostas por erro do candidato.
- O tempo disponível para esta prova será de cinco horas.
- Você somente poderá sair do local de prova 60 (sessenta) minutos após o seu início.
- Você somente poderá levar consigo o caderno de questões nos últimos 60 (sessenta) minutos de prova.
- Ao terminar a prova, chame o fiscal de sala mais próximo, entregue as folhas de respostas e deixe o local de prova.

Texto para as questões 1 a 15

Perda de oportunidades no trabalho

As empresas vinculadas ao setor de petróleo no Brasil treinaram e formaram mais de 80 mil profissionais desde 2007, em um programa de qualificação que abrange do nível básico a cursos de pós-graduação. Mesmo assim, não conseguiram atender a toda a demanda de pessoal qualificado identificada pelo setor. A exemplo do petróleo, vários outros ramos de atividade industrial, da construção ou de serviços têm se envolvido diretamente na formação e treinamento de profissionais que não estão disponíveis no mercado.

Nem por isso os índices de desemprego se tornaram irrelevantes no país. Há muitas pessoas que permanecem sem ocupação por serem inabilitadas às vagas e aos cargos que o mercado oferece. São numerosas oportunidades perdidas que se multiplicarão, se a economia brasileira continuar com seu impulso de crescimento – e a qualidade da educação continuar baixa. Afinal, a dificuldade de se formar e qualificar profissionais na velocidade que o mercado hoje demanda se deve, em grande parte, a deficiências do sistema de ensino brasileiro.

Um enorme contingente de jovens deixa as escolas ainda com falta de capacidade de aprender. O ensino técnico profissionalizante, com honrosas exceções, passou anos sem sintonia com o mundo real. A escassez de profissionais qualificados vem forçando uma transformação nesse sistema de ensino, e algumas iniciativas inovadoras começam a apresentar resultados, o que pode motivar a reprodução dessa experiência pelo país inteiro. No caso do Estado do Rio, merecem atenção os chamados Centros de Vocação Tecnológica, mais voltados para jovens da região metropolitana.

Esses centros se diferem do ensino técnico convencional porque ministram cursos de curta duração (de dois meses a um ano, essencialmente) e buscam atender a demandas específicas de grupos de empresas localizadas em suas proximidades. Os planos das autoridades responsáveis por esses centros são de ampliar o número de vagas para 54 mil alunos ainda este ano.

O ensino técnico profissionalizante de fato precisa hoje correr contra o relógio, pois, se persistir a falta de pessoal qualificado, as oportunidades acabam definitivamente perdidas

pela desistência dos potenciais empregadores. Mas, simultaneamente a essa premência de curto prazo, espera-se que a cadeia de ensino no país, da pré-escola à universidade, acelere ou implante programas que possibilitem um substancial salto de qualidade. Educadores já contam com ferramentas pedagógicas e tecnológicas que facilitam essa aceleração. O ensino a distância, mais acessível graças às telecomunicações e aos recursos da informática, pode romper barreiras que antes impediam a universalização de um sistema educacional de boa qualidade.

O aproveitamento das oportunidades que estão surgindo é valioso porque, além da realização pessoal na vida profissional, é um atalho para melhora dos níveis de renda e de bem-estar de fatias cada vez maiores da população brasileira.

Ao lado dos indicadores macroeconômicos, precisamos acompanhar os referentes ao sistema de ensino em geral, e, especificamente, os relativos ao ensino profissionalizante. Sem melhorar a educação pública, milhões continuarão prisioneiros do assistencialismo, e as empresas, desassistidas.

(O Globo, 28/04/2010)

1

O ensino técnico profissionalizante de fato precisa hoje correr contra o relógio, pois, se persistir a falta de pessoal qualificado, as oportunidades acabam definitivamente perdidas pela desistência dos potenciais empregadores. (L.46-50)

O termo sublinhado no período acima exerce a função sintática de

- (A) agente da passiva.
- (B) adjunto adverbial.
- (C) objeto indireto.
- (D) adjunto adnominal.
- (E) complemento nominal.

2

Os planos das autoridades responsáveis por esses centros são de ampliar o número de vagas para 54 mil alunos ainda este ano. (L.42-45)

Os pronomes destacados no período acima exercem, respectivamente, papel

- (A) catafórico e dêitico.
- (B) dêitico e anafórico.
- (C) anafórico e catafórico.
- (D) dêitico e catafórico.
- (E) anafórico e dêitico.

3

A respeito do que se pode inferir pelas ideias do texto, analise as afirmativas a seguir:

- I. Ocorre uma disparidade entre a economia brasileira e a qualidade da educação.
- II. A escola convencional não vem obtendo êxito em ensinar a aprender.
- III. Empresas privadas têm sido mais bem-sucedidas que a iniciativa pública na formação de jovens.

Assinale

- (A) se todas as afirmativas estiverem corretas.
- (B) se nenhuma afirmativa estiver correta.
- (C) se apenas as afirmativas II e III estiverem corretas.
- (D) se apenas as afirmativas I e III estiverem corretas.
- (E) se apenas as afirmativas I e II estiverem corretas.

4

Assinale a palavra que tenha sido acentuada por regra **DISTINTA** das demais.

- (A) nível (L.4)
- (B) relógio (L.47)
- (C) distância (L.58)
- (D) níveis (L.66)
- (E) deficiências (L.23)

5

São numerosas oportunidades perdidas que se multiplicarão, se a economia brasileira continuar com seu impulso de crescimento – e a qualidade da educação continuar baixa. (L.17-20)

A respeito da composição do período acima, analise as afirmativas a seguir:

- I. Há uma oração principal.
- II. Há duas orações subordinadas adverbiais.
- III. O período é composto por coordenação e subordinação.

Assinale

- (A) se apenas as afirmativas I e II estiverem corretas.
- (B) se nenhuma afirmativa estiver correta.
- (C) se apenas as afirmativas II e III estiverem corretas.
- (D) se apenas as afirmativas I e III estiverem corretas.
- (E) se todas as afirmativas estiverem corretas.

6

Partindo da ideia de que o texto pode ser dividido em quatro partes, assinale a alternativa que apresente a delimitação correta de cada parte.

- (A) parte I: linhas 1 a 12 / parte II: linhas 13 a 62 / parte III: linhas 63 a 67 / parte IV: linhas 68 a 73
- (B) parte I: linhas 1 a 12 / parte II: linhas 13 a 50 / parte III: linhas 51 a 67 / parte IV: linhas 68 a 73
- (C) parte I: linhas 1 a 24 / parte II: linhas 25 a 50 / parte III: linhas 51 a 67 / parte IV: linhas 68 a 73
- (D) parte I: linhas 1 a 12 / parte II: linhas 13 a 45 / parte III: linhas 46 a 62 / parte IV: linhas 63 a 73
- (E) parte I: linhas 1 a 24 / parte II: linhas 25 a 45 / parte III: linhas 46 a 62 / parte IV: linhas 63 a 73

7

Assinale o par de vocábulos em que seus elementos mórficos destacados **NÃO** tenham o mesmo sentido.

- (A) petróleo (L.2) – petrificar
- (B) telecomunicações (L.59) – telepatia
- (C) sintonia (L.28) – sinergia
- (D) economia (L.18) – ecologia
- (E) metropolitana (L.36) – metrologia

8

Sem melhorar a educação pública, milhões continuarão prisioneiros do assistencialismo, e as empresas, desassistidas. (L.71-73)

A respeito da pontuação do período acima, analise as afirmativas a seguir:

- I. A segunda vírgula se justifica por separar sujeitos de orações diferentes.
- II. A terceira vírgula é caso de zeugma.
- III. Ao se retirar o E do período, no lugar da vírgula imediatamente anterior a ele seria melhor vir um ponto e vírgula.

Assinale

- (A) se apenas as afirmativas I e III estiverem corretas.
- (B) se apenas as afirmativas II e III estiverem corretas.
- (C) se nenhuma afirmativa estiver correta.
- (D) se todas as afirmativas estiverem corretas.
- (E) se apenas as afirmativas I e II estiverem corretas.

9

O aproveitamento das oportunidades que estão surgindo é valioso porque, além da realização pessoal na vida profissional, é um atalho para melhora dos níveis de renda e de bem-estar de fatias cada vez maiores da população brasileira. (L.63-67)

No trecho acima, empregou-se corretamente uma das formas do porquê. Assinale a alternativa em que isso **NÃO** tenha ocorrido.

- (A) Não conseguimos saber por quê, mas tentamos.
- (B) Porque nossa habilidade não era valorizada não íamos demonstrá-la?
- (C) Sem ter por quê, em se falando de habilidades, discutir mais profundamente, calamo-nos.
- (D) Ele esperava saber por que, naquele departamento, sua habilidade não era valorizada.
- (E) Vamos destacar as habilidades por que somos conhecidos.

10

Assinale o termo que exerça, no texto, a mesma função sintática que *a essa premência de curto prazo* (L.51-52).

- (A) do sistema de ensino brasileiro (L.23-24)
- (B) na formação e treinamento (L.10)
- (C) de grupos de empresas (L.40-41)
- (D) de pessoal qualificado (L.48)
- (E) pelo setor (L.7)

11

A exemplo do petróleo, vários outros ramos de atividade industrial, da construção ou de serviços têm se envolvido diretamente na formação e treinamento de profissionais que não estão disponíveis no mercado. (L.7-12)

Assinale a alternativa que, com a alteração do trecho acima, manteve integridade semântica em relação ao texto mas **NÃO** apresentou correção gramatical do ponto de vista do português brasileiro contemporâneo.

- (A) A exemplo do petróleo, vários outros ramos de atividade industrial, da construção ou de serviços têm se envolvido diretamente na formação e treinamento de profissionais, que não estão disponíveis no mercado.
- (B) A exemplo do petróleo, vários outros ramos de atividade industrial, da construção ou de serviços têm-se envolvido diretamente na formação e treinamento de profissionais, que não estão disponíveis no mercado.
- (C) A exemplo do petróleo, vários outros ramos de atividade industrial, da construção ou de serviços têm-se envolvido diretamente na formação e treinamento de profissionais que não estão disponíveis no mercado.
- (D) A exemplo do petróleo, vários outros ramos de atividade industrial, da construção ou de serviços têm envolvido-se diretamente na formação e treinamento de profissionais que não estão disponíveis no mercado.
- (E) A exemplo do petróleo, vários outros ramos de atividade industrial, da construção ou de serviços se têm envolvido diretamente na formação e treinamento de profissionais que não estão disponíveis no mercado.

12

O texto classifica-se como

- (A) dissertativo argumentativo.
- (B) narrativo.
- (C) descritivo-narrativo.
- (D) descritivo.
- (E) dissertativo expositivo.

13

Mas, simultaneamente a essa premência de curto prazo, espera-se que a cadeia de ensino no país, da pré-escola à universidade, acelere ou implante programas que possibilitem um substancial salto de qualidade. (L.51-55)

Assinale a alternativa que **NÃO** pode substituir o termo grifado no período acima, sob pena de alteração de sentido.

- (A) Entretanto
- (B) Não obstante
- (C) Contudo
- (D) No entanto
- (E) Porquanto

14

...algumas iniciativas inovadoras começam a apresentar resultados, o que pode motivar a reprodução dessa experiência pelo país inteiro. (L.31-33)

No trecho acima, há quantos artigos?

- (A) Um.
- (B) Nenhum.
- (C) Quatro.
- (D) Dois.
- (E) Três.

15

Mesmo assim, não conseguiram atender a toda a demanda de pessoal qualificado identificada pelo setor. (L.5-7)

Independentemente da mudança de sentido provocada em relação ao texto, assinale a alternativa que, com a alteração do verbo sublinhado no trecho acima, **NÃO** tenha mantido correção gramatical.

- (A) Mesmo assim, não conseguiram obedecer toda a demanda de pessoal qualificado...
- (B) Mesmo assim, não conseguiram assistir a toda a demanda de pessoal qualificado...
- (C) Mesmo assim, não conseguiram assistir toda a demanda de pessoal qualificado...
- (D) Mesmo assim, não conseguiram aspirar a toda a demanda de pessoal qualificado...
- (E) Mesmo assim, não conseguiram almejar toda a demanda de pessoal qualificado...

Texto para as questões 16 a 18



(Fernando Gonsales. Benedito Cujo.)

16

Em relação à leitura do quadrinho, analise as afirmativas a seguir:

- I. No primeiro quadrinho há uma ambiguidade que não interfere no entendimento global do texto.
- II. Pode-se depreender que o rapaz anda envolvido com estudo e provas, provavelmente vestibulares.
- III. Pode-se inferir que o rapaz dissimulou e não respondeu ao questionamento da moça.

Assinale

- (A) se apenas as afirmativas I e III estiverem corretas.
- (B) se apenas as afirmativas II e III estiverem corretas.
- (C) se apenas as afirmativas I e II estiverem corretas.
- (D) se todas as afirmativas estiverem corretas.
- (E) se nenhuma afirmativa estiver correta.

17

Em relação à passagem da fala do primeiro quadrinho do discurso direto para o indireto, assinale a alternativa correta.

- (A) Ela disse ao coração dele que ele não liga mais para ela.
- (B) Ela lhe disse que ele não ligava mais para ela.
- (C) Ela disse-lhe que ele, coração, não ligaria mais para ela.
- (D) Ela lhe disse que ele não liga mais para ela.
- (E) Ela disse-lhe que ele, coração, não liga mais para ela.

18

No segundo quadrinho, adequando a linguagem ao padrão culto e em correspondência ao tratamento do interlocutor do primeiro quadrinho, assinale a alternativa correta. Despreze o uso das gírias.

- (A) Fala a verdade! Há outra na jogada!!
- (B) Falai a verdade! Existe outra na jogada!!
- (C) Fale a verdade! Há outra na jogada!!
- (D) Fala a verdade! Existe outra na jogada!!
- (E) Fale a verdade! Tem outra na jogada!!

19

Com base no *Manual de Redação da Presidência da República*, devem constar do cabeçalho ou do rodapé do ofício as seguintes informações do remetente:

- I. nome do órgão ou setor;
- II. endereço postal;
- III. telefone e endereço de correio eletrônico.

Analise os itens acima e assinale

- (A) se apenas o item I estiver correto.
- (B) se todos os itens estiverem corretos.
- (C) se apenas os itens I e II estiverem corretos.
- (D) se apenas os itens I e III estiverem corretos.
- (E) se nenhum item estiver correto.

20

Com base no *Manual de Redação da Presidência da República*, analise as afirmativas a seguir:

- I. O padrão culto nada tem contra a simplicidade de expressão, desde que não seja confundida com pobreza de expressão. De nenhuma forma o uso do padrão culto implica emprego de linguagem rebuscada.
- II. Não existe propriamente um “padrão oficial de linguagem”; o que há é o uso do padrão culto nos atos e comunicações oficiais. O jargão burocrático, como todo jargão, deve ser evitado, pois terá sempre sua compreensão limitada.
- III. A linguagem técnica deve ser empregada apenas em situações que a exijam, sendo de evitar o seu uso indiscriminado. Certos rebuscamentos acadêmicos, e mesmo o vocabulário próprio a determinada área, são de difícil entendimento por quem não esteja com eles familiarizado. Deve-se ter o cuidado, portanto, de explicitá-los em comunicações encaminhadas a outros órgãos da administração e em expedientes dirigidos aos cidadãos.

Assinale

- (A) se apenas as afirmativas I e II estiverem corretas.
- (B) se apenas as afirmativas II e III estiverem corretas.
- (C) se nenhuma afirmativa estiver correta.
- (D) se todas as afirmativas estiverem corretas.
- (E) se apenas as afirmativas I e III estiverem corretas.

RACIOCÍNIO LÓGICO

21

A negação da sentença “Se tenho dinheiro, então sou feliz” é

- (A) Não tenho dinheiro e sou feliz.
- (B) Tenho dinheiro, e não sou feliz.
- (C) Se não tenho dinheiro, então não sou feliz.
- (D) Se não sou feliz, então não tenho dinheiro.
- (E) Não tenho dinheiro ou sou feliz.

22

Observe a sequência numérica a seguir: “13527911413151761921238...”.

Mantida a lei de formação, os dois próximos algarismos na sequência serão

- (A) 05.
- (B) 15.
- (C) 27.
- (D) 37.
- (E) 25.

23

Se A não é azul, então B é amarelo. Se B não é amarelo, então C é verde. Se A é azul, então C não é verde. Logo, tem-se obrigatoriamente que

- (A) A é azul.
- (B) B não é amarelo.
- (C) A não é azul.
- (D) B é amarelo.
- (E) C é verde.

24

Um contêiner tipo Dry Box 40 pés tem medidas internas aproximadas de 12,03m x 2,28m x 2,34m e suporta uma carga máxima de 26527kg. Há uma carga com grande quantidade de caixas rígidas, que podem ser empilhadas, com dimensões externas de 1,70m x 0,70m x 1,10m e pesando 650kg cada uma. O número máximo dessas caixas que podem ser colocadas em um contêiner tipo Dry Box 40 pés, atendendo a suas especificações de carga, é

- (A) 41.
- (B) 42.
- (C) 40.
- (D) 38.
- (E) 39.

25

Três amigos foram a um restaurante, e a conta, já incluídos os 10% de gorjeta, foi de R\$ 105,60. Se eles resolveram não pagar os 10% de gorjeta pois acharam que foram mal atendidos e dividiram o pagamento igualmente pelos três, cada um deles pagou a quantia de

- (A) R\$ 31,68.
- (B) R\$ 35,20.
- (C) R\$ 32,00.
- (D) R\$ 33,00.
- (E) R\$ 30,60.

26

De um conjunto de dezoito cartas vermelhas (copas ou ouros) de um baralho, sabe-se que:

- pelo menos uma carta é de copas;
- dadas duas quaisquer dessas cartas, pelo menos uma delas é de ouros.

Sobre esse conjunto de dezoito cartas tem-se que

- (A) no máximo onze são de ouros.
- (B) pelo menos onze são de copas.
- (C) exatamente dezessete são de ouros.
- (D) exatamente nove são de copas.
- (E) exatamente doze são de ouros.

27

Há três caixas A, B e C. Na caixa A há dez bolas amarelas, na caixa B há dez bolas azuis e na caixa C há dez bolas vermelhas. São retiradas aleatoriamente cinco bolas da caixa A e colocadas na caixa B. A seguir, são retiradas aleatoriamente cinco bolas da caixa B e colocadas na caixa C. Finalmente, são retiradas aleatoriamente cinco bolas da caixa C e colocadas na caixa A. Ao final, tem-se que

- (A) na caixa A há, no mínimo, seis bolas amarelas.
- (B) na caixa B há, no máximo, cinco bolas azuis.
- (C) na caixa C há, no máximo, cinco bolas azuis.
- (D) na caixa C há, no mínimo, uma bola amarela.
- (E) na caixa A há, no mínimo, uma bola vermelha.

28

Antônio, Bernardo, Caetano, Dario e Eduardo estão, respectivamente, sobre os vértices A, B, C, D e E de um pentágono regular, onde os vértices aparecem nessa ordem no sentido horário. Em determinado momento, Bernardo, Caetano, Dario e Eduardo caminham em linha reta até Antônio. Sendo b , c , d , e e as distâncias percorridas, respectivamente, por Bernardo, Caetano, Dario e Eduardo, tem-se que

- (A) $c < b = e < d$.
- (B) $c = d < b = e$.
- (C) $b = e < c = d$.
- (D) $b = c = d = e$.
- (E) $b < c = d < e$.

29

Em cada uma de cinco portas A, B, C, D e E, está escrita uma sentença, conforme a seguir:

Porta A : "Eu sou a porta de saída."

Porta B : "A porta de saída é a porta C."

Porta C : "A sentença escrita na porta A é verdadeira."

Porta D : "Se eu sou a porta de saída, então a porta de saída não é a porta E."


Porta E : "Eu não sou a porta de saída."

Sabe-se que dessas cinco sentenças há uma única verdadeira e que há somente uma porta de saída. A porta de saída é a porta

- (A) D.
- (B) B.
- (C) E.
- (D) A.
- (E) C.

30

Há seis contêineres diferentes que deverão ser empilhados, três mais pesados embaixo e três mais leves em cima, conforme sugere a figura:



O número de maneiras de se fazer essa arrumação, mantendo os três mais pesados embaixo e os três mais leves em cima é

- (A) 18.
- (B) 72.
- (C) 6.
- (D) 36.
- (E) 9.

ATUALIDADES

31

A petroleira responsável pela plataforma que explodiu recentemente no Golfo do México, causando um vazamento gigante de petróleo é de nacionalidade

- (A) mexicana.
- (B) americana.
- (C) francesa.
- (D) britânica.
- (E) brasileira.

32

As últimas eleições legislativas britânicas foram vencidas pelo

- (A) Sinn Fein.
- (B) Partido Liberal Democrata.
- (C) Partido Trabalhista.
- (D) Partido Unionista Democrático.
- (E) Partido Conservador.

33

Recentemente, um presidente entrou para o site de microblogs Twitter e atraiu rapidamente 250 mil seguidores. Trata-se do presidente

- (A) brasileiro.
- (B) paraguaio.
- (C) colombiano.
- (D) boliviano.
- (E) venezuelano.

34

A respeito da gripe A (H1N1), analise as afirmativas a seguir:

- I. A preocupação com uma epidemia da gripe começou após mais de 50 mortes no México em 2009.
- II. A gripe deixou de ser chamada “gripe suína” porque se identificou corretamente o vírus que causava a doença.
- III. Com a vacinação contra a gripe iniciando-se no Brasil em 2010, a expectativa é de que mais de 90 milhões de pessoas sejam vacinadas.

Assinale

- (A) se apenas as afirmativas I e II estiverem corretas.
- (B) se apenas as afirmativas I e III estiverem corretas.
- (C) se todas as afirmativas estiverem corretas.
- (D) se apenas as afirmativas II e III estiverem corretas.
- (E) se nenhuma afirmativa estiver correta.

35

Em relação à produção da Petrobras, analise as afirmativas a seguir:

- I. Foi alcançado um recorde de produção em abril.
- II. Dois poços no Amazonas começaram a produzir.
- III. Nos próximos meses o recorde pode melhorar, com a entrada em operação dos navios FPSO Cidade de Santos e Capixaba.

Assinale

- (A) se todas as afirmativas estiverem corretas.
- (B) se apenas as afirmativas I e III estiverem corretas.
- (C) se apenas as afirmativas I e II estiverem corretas.
- (D) se nenhuma afirmativa estiver correta.
- (E) se apenas as afirmativas II e III estiverem corretas.

36

Em relação à crise europeia, a chanceler alemã Angela Merkel apoiou os líderes da zona do euro na tentativa de evitar que a crise na Grécia se espalhe para outros países, principalmente como

- (A) Itália e Áustria.
- (B) França e Alemanha.
- (C) Portugal e Espanha.
- (D) Inglaterra e França.
- (E) Rússia e Índia.

37

O Projeto Ficha Limpa, que impede a candidatura de políticos condenados pela Justiça, teve iniciativa

- (A) do Ministério Público.
- (B) do Senado Federal.
- (C) da Câmara dos Deputados.
- (D) do Supremo Tribunal Federal.
- (E) popular.

38

A menos de três meses para o início do Censo 2010, o IBGE estima que a população brasileira esteja por volta de

- (A) 190 milhões.
- (B) 200 milhões.
- (C) 170 milhões.
- (D) 180 milhões.
- (E) 160 milhões.

39

Com o intuito de debater a criação de uma organização paralela às Nações Unidas para defender a Terra dos efeitos do aquecimento global, realizou-se em abril de 2010 uma cúpula mundial sobre o clima. O evento ocorreu

- (A) na Dinamarca.
- (B) na Nova Zelândia.
- (C) na Bolívia.
- (D) no Chile.
- (E) no Canadá.

40

Em relação ao pacote de medidas de estímulo às exportações anunciado pelo governo federal em maio de 2010, analise as afirmativas a seguir:

- I. Será criado um banco para financiar as operações de comércio exterior brasileiras.
- II. A devolução de crédito tributário para as empresas exportadoras será acelerada.
- III. As empresas inscritas no Simples Nacional não poderão ter seu poder de atuação ampliado.

Assinale

- (A) se apenas as afirmativas I e II estiverem corretas.
- (B) se nenhuma afirmativa estiver correta.
- (C) se todas as afirmativas estiverem corretas.
- (D) se apenas as afirmativas I e III estiverem corretas.
- (E) se apenas as afirmativas II e III estiverem corretas.

41

Em relação a uma página aberta no Internet Explorer, assinale a afirmativa **INCORRETA**.

- (A) Ao pressionarmos simultaneamente as teclas CTRL + N, será aberta uma nova janela com conteúdo exatamente igual à página que está sendo visitada.
- (B) Ao pressionarmos simultaneamente as teclas CTRL + T, será aberta uma nova guia com conteúdo exatamente igual à página que está sendo visitada.
- (C) Ao pressionarmos simultaneamente as teclas CTRL + A, todo o conteúdo da página será selecionado.
- (D) Ao pressionarmos simultaneamente as teclas CTRL + W, a página que está sendo visitada será fechada.
- (E) Ao pressionarmos simultaneamente as teclas CTRL + F, encontramos recursos para localizar palavras ou expressões na página que está sendo visitada.

42

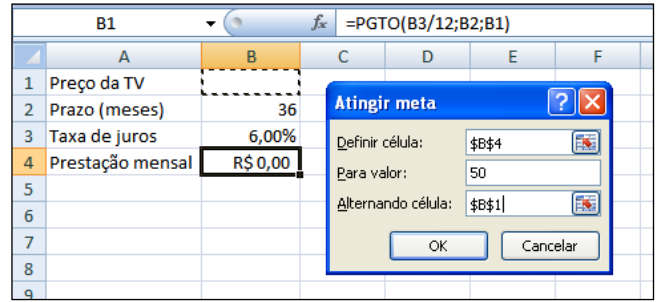
Um servidor da CODESP – Companhia Docas do Estado de São Paulo está organizando as pastas e arquivos de seu computador e realizou as seguintes ações:

- I. Clicou com o botão esquerdo sobre o arquivo Planos.doc, localizado na pasta Documentos2009, e o arrastou para a pasta Documentos2010, localizada na mesma unidade de disco que a pasta Documentos2009.
- II. Clicou com o botão esquerdo sobre o arquivo Orcamento2009.xls, localizado na pasta Financeiro, e o arrastou para a pasta FinanceiroBKP, localizada em uma outra unidade de disco.
- III. Clicou com o botão esquerdo sobre o arquivo DSC00017.jpg, localizado na pasta Fotos2009, e o arrastou, mantendo a tecla CTRL pressionada, para a pasta Fotos2010, localizada na mesma unidade de disco que a pasta Fotos2009.
- IV. Clicou com o botão esquerdo sobre o arquivo Contatos.txt, localizado na pasta Pessoal, e o arrastou, mantendo a tecla SHIFT pressionada, para a pasta RH, localizada em uma outra unidade de disco.

Com base em seus conhecimentos acerca do Windows XP, assinale a afirmativa correta.

- (A) As ações descritas em I e III são impossíveis.
- (B) Ao realizar as ações descritas no item I, o servidor copiou o arquivo Planos.doc da pasta Documentos2009 para a pasta Documentos2010.
- (C) Ao realizar as ações descritas no item IV, o servidor moveu o arquivo Contatos.txt da pasta Pessoal para a pasta RH.
- (D) Ao realizar as ações descritas no item II, o servidor moveu o arquivo Orcamento2009.xls da pasta Financeiro para a pasta FinanceiroBKP e criou um atalho para o arquivo Orcamento2009.xls na pasta Financeiro.
- (E) Ao realizar as ações descritas no item III, o servidor moveu o arquivo DSC00017.jpg da pasta Fotos2009 para a pasta Fotos2010 e criou um atalho para o arquivo DSC00017.jpg na pasta Fotos2009.

43



Um rapaz deseja usar o Excel para analisar as condições de financiamento para compra de uma TV LCD em uma grande loja no shopping. A figura acima mostra uma parte da planilha Excel, assim como a caixa de diálogo **Atingir Meta**, já preenchida com as seguintes informações e referências a células:

Definir célula: \$B\$4

Para valor: 200

Alternando célula: \$B\$1

A fórmula na célula B4 é **=PGTO (B3/12;B2;B1)**.

Ao se pressionar o botão **OK** na caixa **Atingir Meta**, qual é o resultado esperado?

- (A) O valor da prestação mensal resultante do financiamento de uma TV de R\$ 50,00, num plano de 36 meses com juros anuais de 6,00%.
- (B) O valor do preço da TV que resultará numa prestação mensal de R\$ 50,00, num plano de 36 meses com juros anuais de 6,00%.
- (C) O valor da prestação mensal resultante do financiamento de uma TV de R\$ 50,00, num plano de 36 meses com juros mensais de 6,00%.
- (D) O valor do preço da TV que resultará numa prestação mensal de R\$ 50,00, num plano de 36 meses com juros mensais de 6,00%.
- (E) #VALOR, porque a célula B1, onde deveria ser informado o valor do preço da TV, está em branco.






44

A respeito do Word 2003, assinale a alternativa correta.

- (A) Uma vez selecionada a fonte de dados, todos os registros serão incluídos na Mala Direta, sem possibilidade de alteração, seleção ou exclusão.
- (B) As informações contidas nos contatos do Outlook precisam ser exportadas para uma planilha Excel para servirem como fonte de dados para Mala Direta.
- (C) Um documento Word não pode servir como fonte de dados para um documento de Mala Direta.
- (D) É possível usar a ferramenta de Mala Direta apenas para criar cartas, envelopes e etiquetas.
- (E) Planilhas eletrônicas e banco de dados podem servir como fonte de dados para Mala Direta.

45

Com base em seus conhecimentos acerca do Windows XP, analise as afirmativas abaixo:

- I. Ao clicarmos no botão  e posteriormente na opção , é apresentado um submenu, uma lista dos dez documentos recentes.
- II. Ao clicarmos no comando "Fonte" do menu Formatar do aplicativo , é mostrada uma caixa de diálogo com opções para aplicar formatos do tipo: fonte, tamanho da fonte, estilo da fonte, cor da fonte, e estilo de sublinhado.
- III. Ao clicarmos no botão , em seguida clicarmos com o botão direito do mouse na opção , e selecionarmos a opção "Propriedades", é aberta a janela de "Propriedades do sistema".
- IV. A ferramenta de sistema "Limpeza de disco" do sistema operacional Windows XP reorganiza e otimiza os arquivos de programas utilizados com mais frequência, ajudando, dessa forma, a liberar espaço na sua unidade de disco rígido.

Assinale

- (A) se apenas a afirmativa II estiver correta.
(B) se apenas a afirmativa I estiver correta.
(C) se nenhuma a afirmativa estiver correta.
(D) se apenas a afirmativa IV estiver correta.
(E) se apenas a afirmativa III estiver correta.

INGLÊS BÁSICO

Towing ships is a dynastic business, hard to establish and harder still to give up. It's built on deep allegiance and cutthroat margins, and its inner workings are full of intrigue and successory drama: fistfights, lawsuits, power struggles, and disinheritances.

5

The early tugs were expensive to staff and almost comically difficult to steer. A twelve-hundred-horsepower boat might burn twenty tons of coal in a day and require ten men to shovel it. Every time the tug needed to reverse direction, the engine had to be stopped and re-started, by which point the boat might well have run aground.

10

Modern tugs are very different beasts.

- 15 They can have ten thousand horsepower and carry a hundred thousand gallons of fuel. Their propulsion systems have evolved from coal to diesel, from paddle wheel to propeller. Now they may go five thousand miles without changing course. Then, when things finally get interesting - when land heaves into view and headlands rise, when currents intersect and wind barrel down from surrounding slopes, when a narrow channel must be negotiated under bridges, between

- 25 breakwaters, and into a crowded port - the tug captain assumes control.

The shipping industry has gone on a construction spree lately, building ships more than a thousand feet long with as much cargo space as eleven thousand trucks. It means that fewer but more powerful tugs are required to tow the same amount of cargo, and shipping schedules have accelerated dramatically. Tugs that could once afford to lie at port for a week or two now have turn-arounds of less than twenty-four hours. It is a new era for tugboats!

35

(from THE NEW YORKER, April 19, 2010)

46

According to paragraph 2, the first tugs

- (A) were quite maneuverable.
(B) steered easily.
(C) had a comic design.
(D) were costly to man.
(E) used up little fuel.

47

From lines 1 to 6 we infer that towing ships is a business which

- (A) guarantees high profit.
(B) is easily set up.
(C) is passed over from father to son.
(D) is easily closed down.
(E) takes little effort to establish.

48

According to lines 1 to 6, all the following issues are likely to be inherent in the tugboating business, **EXCEPT**

- (A) bodily struggle.
(B) inheritance struggles.
(C) family acquiescence.
(D) wrestling for company control.
(E) family skirmishes.

49

From paragraph 2 we deduce that

- (A) shifting directions was a risky move.
(B) operating a tug was like playing with toys.
(C) it was an easy operation to reverse direction.
(D) tugs ran the risk of drifting when reversing direction.
(E) the tug engine was mechanically fed with coal.

50

In the passage, *breakwaters* (line 25) means

- (A) motor-boats able to skim very fast over the surface of water.
(B) structures built out into the sea to shelter part of a harbor.
(C) dredging machines used for bringing up mud.
(D) walls built to keep back water to form a reservoir.
(E) floodgates used to let water in or out.

51

According to paragraph 4,

- (A) tugboats take long hours to leave port.
- (B) tugboats spend more and more time on sea.
- (C) the larger ships mean that more tugboats will be necessary to tow the same amount of cargo.
- (D) a ship can take as much cargo as a truck.
- (E) the same amount of cargo is towed by as many tugboats as it was in the past.

52

According to paragraph 3, when things finally get interesting, the tug captain

- (A) makes off.
- (B) takes over.
- (C) runs away.
- (D) breaks down.
- (E) gives up.

53

In the passage *intersect* (line 22) means

- (A) flow slowly.
- (B) overlap.
- (C) cross each other.
- (D) run parallel to one another.
- (E) diverge.

54

From the passage as a whole we infer that

- (A) a tug captain must be an exceptional seaman.
- (B) the tugboat history has not evolved much.
- (C) the shipping industry is facing hard times.
- (D) tug vessels remain the same.
- (E) the shipping industry is shrinking.

55

According to lines 20 to 26, we apprehend that things finally get interesting when the land and headlands

- (A) come into sight.
- (B) disappear in the horizon.
- (C) fade away gradually.
- (D) become hidden by the surrounding slopes.
- (E) vanish from sight.

CONHECIMENTOS ESPECÍFICOS

56

A sentença a seguir, dita por um superior hierárquico no ambiente de trabalho, "Ou você trabalha ou você vai ao médico. Você é mole... Se você não tem capacidade para trabalhar... Então por que não fica em casa? Vá pra casa lavar roupa!", caracteriza

- (A) a ação irresponsável da chefia diante de um problema habitual.
- (B) a abordagem de assédio sexual no trabalho.
- (C) uma forma de assédio moral no trabalho.
- (D) a ação determinada da chefia para enquadrar a colaboradora.
- (E) uma forma equivocada de conduzir o colaborador a pedir demissão.

57

Para as análises mais profundas sobre os acidentes de trabalho, o Ministério da Saúde recomenda que

- (A) resgate a percepção dos trabalhadores envolvidos.
- (B) implemente técnicas inovadoras, ainda não conhecidas pelos integrantes da equipe.
- (C) adotem apenas a interpretação do técnico.
- (D) analisem a empresa como um sistema sociotécnico fechado.
- (E) sejam realizados por serviços de alta complexidade.

58

A presença de graxa nos ambientes de trabalho em oficinas mecânicas pode produzir uma doença denominada

- (A) siderose.
- (B) saturnismo.
- (C) desidrose.
- (D) elaioconiose.
- (E) benzenismo.

59

O bicromato de potássio é um potente sensibilizador capaz de provocar dermatoses ocupacionais em trabalhadores. Em qual atividade se pode encontrar tal substância?

- (A) Madeiras.
- (B) Serviço hospitalar.
- (C) Construção civil.
- (D) Indústria naval.
- (E) Indústria metalúrgica.

60

Entre os trabalhadores da construção civil, deve-se incluir obrigatoriamente a vacinação para

- (A) febre amarela.
- (B) rubéola.
- (C) meningite.
- (D) tétano.
- (E) sarampo.

61

Em um ambiente com ruído intermitente ou contínuo, acima dos padrões preconizados pela nossa legislação, o trabalhador deve se submeter ao exame audiométrico periodicamente. Que tipo de orientação o setor de enfermagem deve fazer para que o trabalhador realize o seu exame corretamente?

- (A) Solicitar a suspensão de medicação ototóxica por 12 horas.
- (B) Garantir o jejum de 2 horas.
- (C) Pedir que faça higiene no ouvido interno.
- (D) Afastar do ruído intenso durante 24 horas.
- (E) Solicitar repouso acústico de, no mínimo, 14 horas.

62

Ao tomar conhecimento da ocorrência ou agravamento de doença relacionada ao trabalho, por meio de exames médicos definidos pela NR-07, o serviço de saúde da empresa deve

- (A) encaminhar o trabalhador ao Ministério da Trabalho e Emprego.
- (B) conduzir o doente ao Ministério da Saúde, para a Renast.
- (C) denunciar a empresa ao Ministério do Trabalho e Emprego.
- (D) solicitar à empresa a emissão da Comunicação de Acidente do Trabalho – CAT.
- (E) eliminar o risco que causou o dano ao trabalhador.

63

O procedimento correto na biossegurança no momento do descarte de uma agulha, após sua utilização, é

- (A) colocá-lo em recipiente apropriado.
- (B) lavá-lo antes de descartar.
- (C) o recapeamento com cuidado.
- (D) esterilizá-lo antes de descartar.
- (E) realizar o descarte imediato no saco leitoso.

64

A doença infecciosa frequentemente associada à silicose é a

- (A) criptococose.
- (B) antracose.
- (C) filariose.
- (D) pneumocistose.
- (E) tuberculose.

65

A concessão do Certificado de Aprovação – CA para os EPIs, de acordo com a Portaria 37, de 16 de janeiro de 2008, do MTE, é fornecida

- (A) pelo Instituto Nacional de Controle de Qualidade da Fundação Oswaldo Cruz (Fiocruz).
- (B) pelo Ministério do Trabalho e Emprego (MTE).
- (C) pela Fundação Jorge Duprat (Fundacentro).
- (D) pelo Sistema Brasileiro de Avaliação da Conformidade (SBAC).
- (E) pelo Instituto Nacional de Metrologia (Inmetro).

66

A telerradiografia do tórax deve ser realizada no admissional e no periódico anualmente para os trabalhadores expostos aos

- (A) aerodispersóides não fibrogênicos em trabalhadores com até 05 anos de exposição.
- (B) aerodispersóides não fibrogênicos em trabalhadores com mais de 25 anos de exposição.
- (C) aerodispersóides não fibrogênicos em trabalhadores com mais de 10 anos de exposição.
- (D) aerodispersóides fibrogênicos.
- (E) aerodispersóides não fibrogênicos em trabalhadores com mais de 15 anos de exposição.

67

São considerados sugestivos de perda auditiva induzida por níveis de pressão sonora elevados nos ambientes de trabalho os casos cujos audiogramas, nas frequências de 3.000 e/ou 4.000 e/ou 6.000 Hz, apresentam limiares auditivos

- (A) acima de 10 dB(NA).
- (B) acima de 20 dB(NA).
- (C) entre 10 e 14 dB(NA).
- (D) acima de 25 dB(NA).
- (E) entre 15 e 20 dB(NA).

68

A Instrução Normativa 20 do Instituto do Seguro Social (INSS), de 10/10/2007, define

- (A) o Nexo Técnico Epidemiológico.
- (B) o Fator Acidentário Previdenciário.
- (C) o Perfil Profissiográfico Previdenciário.
- (D) a Doença Relacionada ao Trabalho.
- (E) a Comunicação do Acidente de Trabalho.

69

Qual grupo de trabalhadores deve preferencialmente receber a vacina para hepatite B?

- (A) Metalúrgicos.
- (B) Trabalhador de telecomunicações.
- (C) Motoristas de ônibus.
- (D) Profissionais de saúde.
- (E) Trabalhadores rurais.

70

Um procedimento obrigatório é a vacinação para a hepatite entre os profissionais de saúde. Qual hepatite tem sua transmissão via parenteral, por meio da urina, liquor e da relação sexual?

- (A) Hepatite AB.
- (B) Hepatite C.
- (C) Hepatite medicamentosa.
- (D) Hepatite B.
- (E) Hepatite A.

71

O diagnóstico das pneumoconioses entre trabalhadores da mineração é realizado por meio da

- (A) radiologia compatível, de acordo com a OIT/2000 e história de exposição ocupacional.
- (B) função pulmonar completa e tomografia pulmonar computadorizada de alta resolução.
- (C) história de exposição ocupacional e padrão radiológico de pneumocistose.
- (D) espirometria e biópsia céu aberto para identificar a presença de sílica.
- (E) espirometria e tomografia pulmonar computadorizada de alta resolução.

72

Segundo o dimensionamento para o Serviço Especializado em Segurança e Medicina do Trabalho para uma empresa de risco grau 2, tendo como base o número estimado de trabalhadores a serem tomados no ano, o número mínimo obrigatório de trabalhadores exigidos para a contratação de enfermeiro é entre

- (A) 751 e 2000 trabalhadores.
- (B) 2001 e 3500 trabalhadores.
- (C) 251 e 750 trabalhadores.
- (D) 3501 e 5000 trabalhadores.
- (E) 50 e 100 trabalhadores.

73

A atuação da enfermagem nos acidentes de trabalho é fundamental nos primeiros socorros. Medida importante a ser utilizada diante de um trabalhador que sofreu queda acima de 10 metros de altura e apresenta-se politraumatizado é

- (A) garantir a permeabilidade das vias aéreas.
- (B) garantir hidratação rápida.
- (C) verificar fratura de coluna cervical.
- (D) conduzi-lo para um local seguro.
- (E) realizar tamponamento imediato.

74

Um motorista de ônibus, alguns dias após se envolver em um acidente com morte, inicia um quadro de distúrbio do sono, acompanhado às vezes de sudorese, taquicardia e crises hipertensivas. Esse quadro pode caracterizar

- (A) uma crise depressiva, seguida de mania.
- (B) uma síndrome de fadiga crônica relacionada ao trabalho.
- (C) uma alteração de comportamento, tipo esquizoide.
- (D) um estresse pós-traumático.
- (E) uma alteração de comportamento, tipo paranoide.

75

A insalubridade representa um adicional de pagamento enquanto o trabalhador estiver exposto em ambientes insalubres. A NR-15 define um percentual para insalubridade de grau máximo. Esse percentual é de

- (A) 20%, incidente sobre o salário mínimo da região.
- (B) 30%, incidente sobre o salário mínimo do país.
- (C) 60%, incidente sobre o salário mínimo da região.
- (D) 40%, incidente sobre o salário mínimo da região.
- (E) 40%, incidente sobre o salário mínimo do país.

76

A leucopenia e a leucemia podem estar presentes em trabalhadores expostos ao

- (A) mercúrio.
- (B) cromo.
- (C) benzeno.
- (D) chumbo.
- (E) zinco.

77

No fim do século XIX Taylor inicia seus estudos de adaptação do trabalho às necessidades do capital. A partir da década de 50, a enfermagem passa a sofrer uma influência marcante, adotando incentivos psicossociais ao trabalhador, em substituição aos econômicos. A adoção desses princípios refletiu sobre a organização do trabalho em equipe, valorizando cada indivíduo como necessário e valorizado pela organização.

Esses princípios foram baseados nos

- (A) na escola clássica.
- (B) estudos de Hawthorne.
- (C) na gerência científica.
- (D) na teoria geral da administração.
- (E) na escola das relações humanas.

78

A Norma Regulamentadora – NR que estabelece a obrigatoriedade de elaboração e implementação, por parte de todos os empregadores e instituições que admitam trabalhadores como empregados, com o objetivo de promoção e preservação da saúde do conjunto dos seus trabalhadores, é a

- (A) NR-9.
- (B) NR-29.
- (C) NR-27.
- (D) NR-5.
- (E) NR-7.

79

Quanto à realização obrigatória da avaliação clínica preconizada pelo Programa de Controle Médico de Saúde Ocupacional, ela deve ocorrer

- (A) no exame médico de retorno ao trabalho, realizada até 30 dias após a volta ao trabalho.
- (B) no exame médico de mudança de função, realizada após a data da mudança.
- (C) no exame médico de retorno ao trabalho, realizada até 15 dias após a volta ao trabalho.
- (D) no exame médico de mudança de função, realizada antes da data da mudança.
- (E) no exame médico admissional, realizada depois que o trabalhador assumiu suas atividades.

80

De acordo com a Portaria 3214/1978 do Ministério do Trabalho Emprego, o Programa de Prevenção dos Riscos Ambientais e a orientação para a Comissão Interna de Prevenção de Acidentes estão relacionados às seguintes normas regulamentadoras:

- (A) NR-6 e NR-9.
- (B) NR-9 e NR-5.
- (C) NR-9 e NR-10.
- (D) NR-8 e NR-9.
- (E) NR-10 e NR-11.



F U N D A Ç Ã O
GETULIO VARGAS

FGV PROJETOS