

CONTADOR

TIPO 1

Atenção!

Você está recebendo um caderno de provas do tipo 1. Portanto, **verifique se sua folha de respostas é, também, do tipo 1**. Caso contrário, notifique imediatamente o fiscal de sala para que sejam tomadas as devidas providências.

Informações gerais

- Você receberá do fiscal de sala o material descrito a seguir:
 - a) uma folha destinada às respostas das questões objetivas formuladas na prova de tipo 1;
 - b) este caderno de prova tipo 1, com o enunciado das 80 (oitenta) questões, sem repetição ou falha.
- Não será permitida a permanência de candidato em sala de prova portando aparelhos eletrônicos como *pager*, telefone celular, relógio do tipo *data bank*, *walkman*, agenda eletrônica, *notebook*, *palmtop*, receptor, gravador, máquina fotográfica, máquina de calcular e/ou similares. **Tal infração pode acarretar eliminação sumária do candidato.**
- Verifique se o material está em ordem, se seu nome e número de inscrição são os que aparecem na folha de respostas.
- Ao receber a folha de respostas, é sua **obrigação**:
 - a) ler atentamente as instruções de preenchimento da folha de respostas;
 - b) assinar a folha de respostas.
- As questões da prova são identificadas pelo número que se situa acima do enunciado.
- Você deverá transcrever as respostas da prova para a folha de respostas, que será o único documento válido para a correção da prova.
- O preenchimento da folha de respostas, de inteira responsabilidade do candidato, dar-se-á mediante utilização de caneta esferográfica de cor preta ou azul.
- Em hipótese alguma haverá substituição das folhas de respostas por erro do candidato.
- O tempo disponível para esta prova será de cinco horas.
- Você somente poderá sair do local de prova 60 (sessenta) minutos após o seu início.
- Você somente poderá levar consigo o caderno de questões nos últimos 60 (sessenta) minutos de prova.
- Ao terminar a prova, chame o fiscal de sala mais próximo, entregue as folhas de respostas e deixe o local de prova.

Texto para as questões 1 a 15

Perda de oportunidades no trabalho

As empresas vinculadas ao setor de petróleo no Brasil treinaram e formaram mais de 80 mil profissionais desde 2007, em um programa de qualificação que abrange do nível básico a cursos de pós-graduação. Mesmo assim, não conseguiram atender a toda a demanda de pessoal qualificado identificada pelo setor. A exemplo do petróleo, vários outros ramos de atividade industrial, da construção ou de serviços têm se envolvido diretamente na formação e treinamento de profissionais que não estão disponíveis no mercado.

Nem por isso os índices de desemprego se tornaram irrelevantes no país. Há muitas pessoas que permanecem sem ocupação por serem inabilitadas às vagas e aos cargos que o mercado oferece. São numerosas oportunidades perdidas que se multiplicarão, se a economia brasileira continuar com seu impulso de crescimento – e a qualidade da educação continuar baixa. Afinal, a dificuldade de se formar e qualificar profissionais na velocidade que o mercado hoje demanda se deve, em grande parte, a deficiências do sistema de ensino brasileiro.

Um enorme contingente de jovens deixa as escolas ainda com falta de capacidade de aprender. O ensino técnico profissionalizante, com honrosas exceções, passou anos sem sintonia com o mundo real. A escassez de profissionais qualificados vem forçando uma transformação nesse sistema de ensino, e algumas iniciativas inovadoras começam a apresentar resultados, o que pode motivar a reprodução dessa experiência pelo país inteiro. No caso do Estado do Rio, merecem atenção os chamados Centros de Vocaç o Tecnol gica, mais voltados para jovens da regi o metropolitana.

Esses centros se diferem do ensino t cnico convencional porque ministram cursos de curta dura o (de dois meses a um ano, essencialmente) e buscam atender a demandas espec ficas de grupos de empresas localizadas em suas proximidades. Os planos das autoridades respons veis por esses centros s o de ampliar o n mero de vagas para 54 mil alunos ainda este ano.

O ensino t cnico profissionalizante de fato precisa hoje correr contra o rel gio, pois, se persistir a falta de pessoal qualificado, as oportunidades acabam definitivamente perdidas

50 pela desist ncia dos potenciais empregadores.
Mas, simultaneamente a essa prem ncia de curto prazo, espera-se que a cadeia de ensino no pa s, da pr -escola   universidade, acelere ou implante programas que possibilitem um substancial salto de qualidade. Educadores j  contam com ferramentas pedag gicas e tecnol gicas que facilitam essa acelera o. O ensino a dist ncia, mais acess vel gra as  s telecomunica es e aos recursos da inform tica, pode romper barreiras que antes impediam a universaliza o de um sistema educacional de boa qualidade.

O aproveitamento das oportunidades que est o surgindo   valioso porque, al m da realiza o pessoal na vida profissional,   um atalho para melhora dos n veis de renda e de bem-estar de fatias cada vez maiores da popula o brasileira.

Ao lado dos indicadores macroecon micos, precisamos acompanhar os referentes ao sistema de ensino em geral, e, especificamente, os relativos ao ensino profissionalizante. Sem melhorar a educa o p blica, milh es continuar o prisioneiros do assistencialismo, e as empresas, desassistidas.
(O Globo, 28/04/2010)

1
Sem melhorar a educa o p blica, milh es continuar o prisioneiros do assistencialismo, e as empresas, desassistidas. (L.71-73)

A respeito da pontua o do per odo acima, analise as afirmativas a seguir:

- I. A segunda v rgula se justifica por separar sujeitos de ora es diferentes.
- II. A terceira v rgula   caso de zeugma.
- III. Ao se retirar o E do per odo, no lugar da v rgula imediatamente anterior a ele seria melhor vir um ponto e v rgula.

- Assinale
- (A) se apenas as afirmativas I e III estiverem corretas.
 - (B) se apenas as afirmativas I e II estiverem corretas.
 - (C) se apenas as afirmativas II e III estiverem corretas.
 - (D) se todas as afirmativas estiverem corretas.
 - (E) se nenhuma afirmativa estiver correta.

2
Os planos das autoridades respons veis por esses centros s o de ampliar o n mero de vagas para 54 mil alunos ainda este ano. (L.42-45)

Os pronomes destacados no per odo acima exercem, respectivamente, papel

- (A) anaf rico e cataf rico.
- (B) d itico e cataf rico.
- (C) anaf rico e d itico.
- (D) d itico e anaf rico.
- (E) cataf rico e d itico.

3

São numerosas oportunidades perdidas que se multiplicarão, se a economia brasileira continuar com seu impulso de crescimento – e a qualidade da educação continuar baixa. (L.17-20)

A respeito da composição do período acima, analise as afirmativas a seguir:

- I. Há uma oração principal.
- II. Há duas orações subordinadas adverbiais.
- III. O período é composto por coordenação e subordinação.

Assinale

- (A) se apenas as afirmativas I e III estiverem corretas.
- (B) se apenas as afirmativas I e II estiverem corretas.
- (C) se todas as afirmativas estiverem corretas.
- (D) se nenhuma afirmativa estiver correta.
- (E) se apenas as afirmativas II e III estiverem corretas.

4

Assinale o par de vocábulos em que seus elementos mórficos destacados **NÃO** tenham o mesmo sentido.

- (A) metropolitana (L.36) – metrologia
- (B) economia (L.18) – ecologia
- (C) telecomunicações (L.59) – telepatia
- (D) petróleo (L.2) – petrificar
- (E) sintonia (L.28) – sínergia

5

Assinale o termo que exerça, no texto, a mesma função sintática que *a essa premência de curto prazo* (L.51-52).

- (A) pelo setor (L.7)
- (B) de pessoal qualificado (L.48)
- (C) do sistema de ensino brasileiro (L.23-24)
- (D) de grupos de empresas (L.40-41)
- (E) na formação e treinamento (L.10)

6

Mas, simultaneamente a essa premência de curto prazo, espera-se que a cadeia de ensino no país, da pré-escola à universidade, acelere ou implante programas que possibilitem um substancial salto de qualidade. (L.51-55)

Assinale a alternativa que **NÃO** pode substituir o termo grifado no período acima, sob pena de alteração de sentido.

- (A) Não obstante
- (B) Entretanto
- (C) Porquanto
- (D) Contudo
- (E) No entanto

7

Assinale a palavra que tenha sido acentuada por regra **DISTINTA** das demais.

- (A) relógio (L.47)
- (B) deficiências (L.23)
- (C) distância (L.58)
- (D) nível (L.4)
- (E) níveis (L.66)

8

O ensino técnico profissionalizante de fato precisa hoje correr contra o relógio, pois, se persistir a falta de pessoal qualificado, as oportunidades acabam definitivamente perdidas pela desistência dos potenciais empregadores. (L.46-50)

O termo sublinhado no período acima exerce a função sintática de

- (A) adjunto adverbial.
- (B) agente da passiva.
- (C) complemento nominal.
- (D) adjunto adnominal.
- (E) objeto indireto.

9

...algumas iniciativas inovadoras começam a apresentar resultados, o que pode motivar a reprodução dessa experiência pelo país inteiro. (L.31-33)

No trecho acima, há quantos artigos?

- (A) Um.
- (B) Nenhum.
- (C) Quatro.
- (D) Três.
- (E) Dois.

10

A exemplo do petróleo, vários outros ramos de atividade industrial, da construção ou de serviços têm se envolvido diretamente na formação e treinamento de profissionais que não estão disponíveis no mercado. (L.7-12)

Assinale a alternativa que, com a alteração do trecho acima, manteve integridade semântica em relação ao texto mas **NÃO** apresentou correção gramatical do ponto de vista do português brasileiro contemporâneo.

- (A) A exemplo do petróleo, vários outros ramos de atividade industrial, da construção ou de serviços têm-se envolvido diretamente na formação e treinamento de profissionais que não estão disponíveis no mercado.
- (B) A exemplo do petróleo, vários outros ramos de atividade industrial, da construção ou de serviços se têm envolvido diretamente na formação e treinamento de profissionais que não estão disponíveis no mercado.
- (C) A exemplo do petróleo, vários outros ramos de atividade industrial, da construção ou de serviços têm-se envolvido diretamente na formação e treinamento de profissionais, que não estão disponíveis no mercado.
- (D) A exemplo do petróleo, vários outros ramos de atividade industrial, da construção ou de serviços têm se envolvido diretamente na formação e treinamento de profissionais, que não estão disponíveis no mercado.
- (E) A exemplo do petróleo, vários outros ramos de atividade industrial, da construção ou de serviços têm envolvido-se diretamente na formação e treinamento de profissionais que não estão disponíveis no mercado.

11

Partindo da ideia de que o texto pode ser dividido em quatro partes, assinale a alternativa que apresente a delimitação correta de cada parte.

- (A) parte I: linhas 1 a 12 / parte II: linhas 13 a 62 / parte III: linhas 63 a 67 / parte IV: linhas 68 a 73
- (B) parte I: linhas 1 a 12 / parte II: linhas 13 a 45 / parte III: linhas 46 a 62 / parte IV: linhas 63 a 73
- (C) parte I: linhas 1 a 24 / parte II: linhas 25 a 50 / parte III: linhas 51 a 67 / parte IV: linhas 68 a 73
- (D) parte I: linhas 1 a 24 / parte II: linhas 25 a 45 / parte III: linhas 46 a 62 / parte IV: linhas 63 a 73
- (E) parte I: linhas 1 a 12 / parte II: linhas 13 a 50 / parte III: linhas 51 a 67 / parte IV: linhas 68 a 73

12

Mesmo assim, não conseguiram atender a toda a demanda de pessoal qualificado identificada pelo setor. (L.5-7)

Independentemente da mudança de sentido provocada em relação ao texto, assinale a alternativa que, com a alteração do verbo sublinhado no trecho acima, **NÃO** tenha mantido correção gramatical.

- (A) Mesmo assim, não conseguiram almejar toda a demanda de pessoal qualificado...
- (B) Mesmo assim, não conseguiram obedecer toda a demanda de pessoal qualificado...
- (C) Mesmo assim, não conseguiram aspirar a toda a demanda de pessoal qualificado...
- (D) Mesmo assim, não conseguiram assistir toda a demanda de pessoal qualificado...
- (E) Mesmo assim, não conseguiram assistir a toda a demanda de pessoal qualificado...

13

O texto classifica-se como

- (A) descritivo.
- (B) narrativo.
- (C) dissertativo expositivo.
- (D) dissertativo argumentativo.
- (E) descritivo-narrativo.

Texto para as questões 16 a 18



(Fernando Gonsales. Benedito Cujo.)

14

O aproveitamento das oportunidades que estão surgindo é valioso porque, além da realização pessoal na vida profissional, é um atalho para melhora dos níveis de renda e de bem-estar de fatias cada vez maiores da população brasileira. (L.63-67)

No trecho acima, empregou-se corretamente uma das formas do porquê. Assinale a alternativa em que isso **NÃO** tenha ocorrido.

- (A) Sem ter por quê, em se falando de habilidades, discutir mais profundamente, calamo-nos.
- (B) Vamos destacar as habilidades por que somos conhecidos.
- (C) Ele esperava saber por que, naquele departamento, sua habilidade não era valorizada.
- (D) Porque nossa habilidade não era valorizada não íamos demonstrá-la?
- (E) Não conseguimos saber por quê, mas tentamos.

15

A respeito do que se pode inferir pelas ideias do texto, analise as afirmativas a seguir:

- I. Ocorre uma disparidade entre a economia brasileira e a qualidade da educação.
- II. A escola convencional não vem obtendo êxito em ensinar a aprender.
- III. Empresas privadas têm sido mais bem-sucedidas que a iniciativa pública na formação de jovens.

Assinale

- (A) se apenas as afirmativas I e III estiverem corretas.
- (B) se apenas as afirmativas I e II estiverem corretas.
- (C) se todas as afirmativas estiverem corretas.
- (D) se nenhuma afirmativa estiver correta.
- (E) se apenas as afirmativas II e III estiverem corretas.

16

No segundo quadrinho, adequando a linguagem ao padrão culto e em correspondência ao tratamento do interlocutor do primeiro quadrinho, assinale a alternativa correta. Despreze o uso das gírias.

- (A) Fala a verdade! Há outra na jogada!!
- (B) Fale a verdade! Tem outra na jogada!!
- (C) Fala a verdade! Existe outra na jogada!!
- (D) Fale a verdade! Há outra na jogada!!
- (E) Falai a verdade! Existe outra na jogada!!

17

Em relação à passagem da fala do primeiro quadrinho do discurso direto para o indireto, assinale a alternativa correta.

- (A) Ela disse ao coração dele que ele não liga mais para ela.
- (B) Ela lhe disse que ele não liga mais para ela.
- (C) Ela disse-lhe que ele, coração, não liga mais para ela.
- (D) Ela disse-lhe que ele, coração, não ligaria mais para ela.
- (E) Ela lhe disse que ele não ligava mais para ela.

18

Em relação à leitura do quadrinho, analise as afirmativas a seguir:

- I. No primeiro quadrinho há uma ambiguidade que não interfere no entendimento global do texto.
- II. Pode-se depreender que o rapaz anda envolvido com estudo e provas, provavelmente vestibulares.
- III. Pode-se inferir que o rapaz dissimulou e não respondeu ao questionamento da moça.

Assinale

- (A) se apenas as afirmativas I e III estiverem corretas.
- (B) se apenas as afirmativas I e II estiverem corretas.
- (C) se todas as afirmativas estiverem corretas.
- (D) se nenhuma afirmativa estiver correta.
- (E) se apenas as afirmativas II e III estiverem corretas.

19

Com base no *Manual de Redação da Presidência da República*, devem constar do cabeçalho ou do rodapé do ofício as seguintes informações do remetente:

- I. nome do órgão ou setor;
- II. endereço postal;
- III. telefone e endereço de correio eletrônico.

Analise os itens acima e assinale

- (A) se apenas os itens I e II estiverem corretos.
- (B) se apenas os itens I e III estiverem corretos.
- (C) se apenas o item I estiver correto.
- (D) se nenhum item estiver correto.
- (E) se todos os itens estiverem corretos.

20

Com base no *Manual de Redação da Presidência da República*, analise as afirmativas a seguir:

- I. O padrão culto nada tem contra a simplicidade de expressão, desde que não seja confundida com pobreza de expressão. De nenhuma forma o uso do padrão culto implica emprego de linguagem rebuscada.
- II. Não existe propriamente um “padrão oficial de linguagem”; o que há é o uso do padrão culto nos atos e comunicações oficiais. O jargão burocrático, como todo jargão, deve ser evitado, pois terá sempre sua compreensão limitada.
- III. A linguagem técnica deve ser empregada apenas em situações que a exijam, sendo de evitar o seu uso indiscriminado. Certos rebuscamentos acadêmicos, e mesmo o vocabulário próprio a determinada área, são de difícil entendimento por quem não esteja com eles familiarizado. Deve-se ter o cuidado, portanto, de explicitá-los em comunicações encaminhadas a outros órgãos da administração e em expedientes dirigidos aos cidadãos.

Assinale

- (A) se apenas as afirmativas I e III estiverem corretas.
- (B) se apenas as afirmativas I e II estiverem corretas.
- (C) se todas as afirmativas estiverem corretas.
- (D) se nenhuma afirmativa estiver correta.
- (E) se apenas as afirmativas II e III estiverem corretas.

RACIOCÍNIO LÓGICO

21

A negação da sentença “Se tenho dinheiro, então sou feliz” é

- (A) Se não tenho dinheiro, então não sou feliz.
- (B) Se não sou feliz, então não tenho dinheiro.
- (C) Não tenho dinheiro e sou feliz.
- (D) Não tenho dinheiro ou sou feliz.
- (E) Tenho dinheiro, e não sou feliz.

22

Observe a sequência numérica a seguir: “13527911413151761921238...”.

Mantida a lei de formação, os dois próximos algarismos na sequência serão

- (A) 25.
- (B) 37.
- (C) 27.
- (D) 15.
- (E) 05.


23

Antônio, Bernardo, Caetano, Dario e Eduardo estão, respectivamente, sobre os vértices A, B, C, D e E de um pentágono regular, onde os vértices aparecem nessa ordem no sentido horário. Em determinado momento, Bernardo, Caetano, Dario e Eduardo caminham em linha reta até Antônio. Sendo b , c , d , e e as distâncias percorridas, respectivamente, por Bernardo, Caetano, Dario e Eduardo, tem-se que

- (A) $b=c=d=e$.
- (B) $b<c=d<e$.
- (C) $b=e<c=d$.
- (D) $c<b=e<d$.
- (E) $c=d<b=e$.

24

Há seis contêineres diferentes que deverão ser empilhados, três mais pesados embaixo e três mais leves em cima, conforme sugere a figura:



O número de maneiras de se fazer essa arrumação, mantendo os três mais pesados embaixo e os três mais leves em cima é

- (A) 18.
- (B) 6.
- (C) 9.
- (D) 36.
- (E) 72.

25

Se A não é azul, então B é amarelo. Se B não é amarelo, então C é verde. Se A é azul, então C não é verde. Logo, tem-se obrigatoriamente que

- (A) A é azul.
- (B) B é amarelo.
- (C) C é verde.
- (D) A não é azul.
- (E) B não é amarelo.

26

Três amigos foram a um restaurante, e a conta, já incluídos os 10% de gorjeta, foi de R\$ 105,60. Se eles resolveram não pagar os 10% de gorjeta pois acharam que foram mal atendidos e dividiram o pagamento igualmente pelos três, cada um deles pagou a quantia de

- (A) R\$ 31,68.
- (B) R\$ 30,60.
- (C) R\$ 32,00.
- (D) R\$ 35,20.
- (E) R\$ 33,00.

27

Um contêiner tipo Dry Box 40 pés tem medidas internas aproximadas de 12,03m x 2,28m x 2,34m e suporta uma carga máxima de 26527kg. Há uma carga com grande quantidade de caixas rígidas, que podem ser empilhadas, com dimensões externas de 1,70m x 0,70m x 1,10m e pesando 650kg cada uma. O número máximo dessas caixas que podem ser colocadas em um contêiner tipo Dry Box 40 pés, atendendo a suas especificações de carga, é

- (A) 39.
- (B) 38.
- (C) 40.
- (D) 42.
- (E) 41.

28

De um conjunto de dezoito cartas vermelhas (copas ou ouros) de um baralho, sabe-se que:

- pelo menos uma carta é de copas;
- dadas duas quaisquer dessas cartas, pelo menos uma delas é de ouros.

Sobre esse conjunto de dezoito cartas tem-se que

- (A) exatamente nove são de copas.
- (B) exatamente doze são de ouros.
- (C) pelo menos onze são de copas.
- (D) exatamente dezessete são de ouros.
- (E) no máximo onze são de ouros.

29

Há três caixas A, B e C. Na caixa A há dez bolas amarelas, na caixa B há dez bolas azuis e na caixa C há dez bolas vermelhas. São retiradas aleatoriamente cinco bolas da caixa A e colocadas na caixa B. A seguir, são retiradas aleatoriamente cinco bolas da caixa B e colocadas na caixa C. Finalmente, são retiradas aleatoriamente cinco bolas da caixa C e colocadas na caixa A. Ao final, tem-se que

- (A) na caixa A há, no mínimo, seis bolas amarelas.
- (B) na caixa B há, no máximo, cinco bolas azuis.
- (C) na caixa C há, no mínimo, uma bola amarela.
- (D) na caixa A há, no mínimo, uma bola vermelha.
- (E) na caixa C há, no máximo, cinco bolas azuis.

30

Em cada uma de cinco portas A, B, C, D e E, está escrita uma sentença, conforme a seguir:

Porta A : "Eu sou a porta de saída."

Porta B : "A porta de saída é a porta C."

Porta C : "A sentença escrita na porta A é verdadeira."

Porta D : "Se eu sou a porta de saída, então a porta de saída não é a porta E."

Porta E : "Eu não sou a porta de saída."

Sabe-se que dessas cinco sentenças há uma única verdadeira e que há somente uma porta de saída. A porta de saída é a porta

- (A) D.
- (B) A.
- (C) B.
- (D) C.
- (E) E.

ATUALIDADES

31

Em relação ao pacote de medidas de estímulo às exportações anunciado pelo governo federal em maio de 2010, analise as afirmativas a seguir:

- I. Será criado um banco para financiar as operações de comércio exterior brasileiras.
- II. A devolução de crédito tributário para as empresas exportadoras será acelerada.
- III. As empresas inscritas no Simples Nacional não poderão ter seu poder de atuação ampliado.

Assinale

- (A) se apenas as afirmativas I e III estiverem corretas.
- (B) se apenas as afirmativas II e III estiverem corretas.
- (C) se todas as afirmativas estiverem corretas.
- (D) se nenhuma afirmativa estiver correta.
- (E) se apenas as afirmativas I e II estiverem corretas.

32

A petroleira responsável pela plataforma que explodiu recentemente no Golfo do México, causando um vazamento gigante de petróleo é de nacionalidade

- (A) americana.
- (B) mexicana.
- (C) brasileira.
- (D) britânica.
- (E) francesa.

33

Recentemente, um presidente entrou para o site de microblogs Twitter e atraiu rapidamente 250 mil seguidores. Trata-se do presidente

- (A) boliviano.
- (B) brasileiro.
- (C) venezuelano.
- (D) colombiano.
- (E) paraguaio.

34

Em relação à crise europeia, a chanceler alemã Angela Merkel apoiou os líderes da zona do euro na tentativa de evitar que a crise na Grécia se espalhe para outros países, principalmente como

- (A) Inglaterra e França.
- (B) Portugal e Espanha.
- (C) França e Alemanha.
- (D) Rússia e Índia.
- (E) Itália e Áustria.

35

As últimas eleições legislativas britânicas foram vencidas pelo

- (A) Partido Conservador.
- (B) Partido Trabalhista.
- (C) Partido Liberal Democrata.
- (D) Partido Unionista Democrático.
- (E) Sinn Fein.

36

Em relação à produção da Petrobras, analise as afirmativas a seguir:

- I. Foi alcançado um recorde de produção em abril.
- II. Dois poços no Amazonas começaram a produzir.
- III. Nos próximos meses o recorde pode melhorar, com a entrada em operação dos navios FPSO Cidade de Santos e Capixaba.

Assinale

- (A) se apenas as afirmativas I e III estiverem corretas.
- (B) se apenas as afirmativas II e III estiverem corretas.
- (C) se todas as afirmativas estiverem corretas.
- (D) se nenhuma afirmativa estiver correta.
- (E) se apenas as afirmativas I e II estiverem corretas.

37

O Projeto Ficha Limpa, que impede a candidatura de políticos condenados pela Justiça, teve iniciativa

- (A) da Câmara dos Deputados.
- (B) do Ministério Público.
- (C) do Senado Federal.
- (D) popular.
- (E) do Supremo Tribunal Federal.

38

A respeito da gripe A (H1N1), analise as afirmativas a seguir:

- I. A preocupação com uma epidemia da gripe começou após mais de 50 mortes no México em 2009.
- II. A gripe deixou de ser chamada "gripe suína" porque se identificou corretamente o vírus que causava a doença.
- III. Com a vacinação contra a gripe iniciando-se no Brasil em 2010, a expectativa é de que mais de 90 milhões de pessoas sejam vacinadas.

Assinale

- (A) se apenas as afirmativas I e III estiverem corretas.
- (B) se apenas as afirmativas II e III estiverem corretas.
- (C) se todas as afirmativas estiverem corretas.
- (D) se nenhuma afirmativa estiver correta.
- (E) se apenas as afirmativas I e II estiverem corretas.

39

Com o intuito de debater a criação de uma organização paralela às Nações Unidas para defender a Terra dos efeitos do aquecimento global, realizou-se em abril de 2010 uma cúpula mundial sobre o clima. O evento ocorreu

- (A) no Chile.
- (B) na Bolívia.
- (C) na Nova Zelândia.
- (D) no Canadá.
- (E) na Dinamarca.

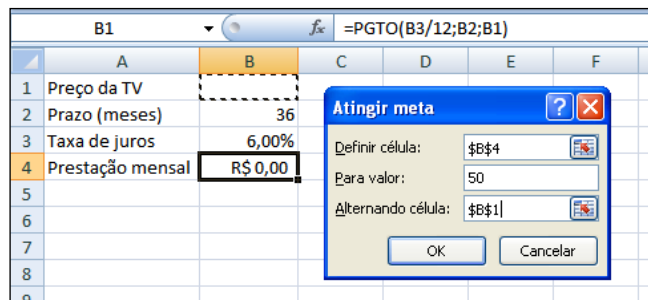
40

A menos de três meses para o início do Censo 2010, o IBGE estima que a população brasileira esteja por volta de

- (A) 160 milhões.
- (B) 170 milhões.
- (C) 200 milhões.
- (D) 180 milhões.
- (E) 190 milhões.

NOÇÕES DE INFORMÁTICA

41



Um rapaz deseja usar o Excel para analisar as condições de financiamento para compra de uma TV LCD em uma grande loja no shopping. A figura acima mostra uma parte da planilha Excel, assim como a caixa de diálogo **Atingir Meta**, já preenchida com as seguintes informações e referências a células:

Definir célula: \$B\$4

Para valor: 200

Alternando célula: \$B\$1

A fórmula na célula B4 é **=PGTO (B3/12;B2;B1)**.

Ao se pressionar o botão **OK** na caixa **Atingir Meta**, qual é o resultado esperado?

- (A) O valor da prestação mensal resultante do financiamento de uma TV de R\$ 50,00, num plano de 36 meses com juros mensais de 6,00%.
- (B) O valor da prestação mensal resultante do financiamento de uma TV de R\$ 50,00, num plano de 36 meses com juros anuais de 6,00%.
- (C) #VALOR, porque a célula B1, onde deveria ser informado o valor do preço da TV, está em branco.
- (D) O valor do preço da TV que resultará numa prestação mensal de R\$ 50,00, num plano de 36 meses com juros mensais de 6,00%.
- (E) O valor do preço da TV que resultará numa prestação mensal de R\$ 50,00, num plano de 36 meses com juros anuais de 6,00%.

42

A respeito do Word 2003, assinale a alternativa correta.

- (A) Planilhas eletrônicas e banco de dados podem servir como fonte de dados para Mala Direta.
- (B) Um documento Word não pode servir como fonte de dados para um documento de Mala Direta.
- (C) É possível usar a ferramenta de Mala Direta apenas para criar cartas, envelopes e etiquetas.
- (D) As informações contidas nos contatos do Outlook precisam ser exportadas para uma planilha Excel para servirem como fonte de dados para Mala Direta.
- (E) Uma vez selecionada a fonte de dados, todos os registros serão incluídos na Mala Direta, sem possibilidade de alteração, seleção ou exclusão.

43

Um servidor da CODESP – Companhia Docas do Estado de São Paulo está organizando as pastas e arquivos de seu computador e realizou as seguintes ações:

- I. Clicou com o botão esquerdo sobre o arquivo Planos.doc, localizado na pasta Documentos2009, e o arrastou para a pasta Documentos2010, localizada na mesma unidade de disco que a pasta Documentos2009.
- II. Clicou com o botão esquerdo sobre o arquivo Orcamento2009.xls, localizado na pasta Financeiro, e o arrastou para a pasta FinanceiroBKP, localizada em uma outra unidade de disco.
- III. Clicou com o botão esquerdo sobre o arquivo DSC00017.jpg, localizado na pasta Fotos2009, e o arrastou, mantendo a tecla CTRL pressionada, para a pasta Fotos2010, localizada na mesma unidade de disco que a pasta Fotos2009.
- IV. Clicou com o botão esquerdo sobre o arquivo Contatos.txt, localizado na pasta Pessoal, e o arrastou, mantendo a tecla SHIFT pressionada, para a pasta RH, localizada em uma outra unidade de disco.

Com base em seus conhecimentos acerca do Windows XP, assinale a afirmativa correta.

- (A) Ao realizar as ações descritas no item I, o servidor copiou o arquivo Planos.doc da pasta Documentos2009 para a pasta Documentos2010.
- (B) Ao realizar as ações descritas no item II, o servidor moveu o arquivo Orcamento2009.xls da pasta Financeiro para a pasta FinanceiroBKP e criou um atalho para o arquivo Orcamento2009.xls na pasta Financeiro.
- (C) Ao realizar as ações descritas no item III, o servidor moveu o arquivo DSC00017.jpg da pasta Fotos2009 para a pasta Fotos2010 e criou um atalho para o arquivo DSC00017.jpg na pasta Fotos2009.
- (D) Ao realizar as ações descritas no item IV, o servidor moveu o arquivo Contatos.txt da pasta Pessoal para a pasta RH.
- (E) As ações descritas em I e III são impossíveis.






44

Em relação a uma página aberta no Internet Explorer, assinale a afirmativa **INCORRETA**.

- (A) Ao pressionarmos simultaneamente as teclas CTRL + A, todo o conteúdo da página será selecionado.
- (B) Ao pressionarmos simultaneamente as teclas CTRL + F, encontramos recursos para localizar palavras ou expressões na página que está sendo visitada.
- (C) Ao pressionarmos simultaneamente as teclas CTRL + T, será aberta uma nova guia com conteúdo exatamente igual à página que está sendo visitada.
- (D) Ao pressionarmos simultaneamente as teclas CTRL + N, será aberta uma nova janela com conteúdo exatamente igual à página que está sendo visitada.
- (E) Ao pressionarmos simultaneamente as teclas CTRL + W, a página que está sendo visitada será fechada.

45

Com base em seus conhecimentos acerca do Windows XP, analise as afirmativas abaixo:

- I. Ao clicarmos no botão  e posteriormente na opção , é apresentado um submenu, uma lista dos dez documentos recentes.
- II. Ao clicarmos no comando "Fonte" do menu Formatar do aplicativo , é mostrada uma caixa de diálogo com opções para aplicar formatos do tipo: fonte, tamanho da fonte, estilo da fonte, cor da fonte, e estilo de sublinhado.
- III. Ao clicarmos no botão , em seguida clicarmos com o botão direito do mouse na opção , e selecionarmos a opção "Propriedades", é aberta a janela de "Propriedades do sistema".
- IV. A ferramenta de sistema "Limpeza de disco" do sistema operacional Windows XP reorganiza e otimiza os arquivos de programas utilizados com mais frequência, ajudando, dessa forma, a liberar espaço na sua unidade de disco rígido.

Assinale

- (A) se apenas a afirmativa I estiver correta.
(B) se apenas a afirmativa II estiver correta.
(C) se apenas a afirmativa III estiver correta.
(D) se apenas a afirmativa IV estiver correta.
(E) se nenhuma a afirmativa estiver correta.

INGLÊS BÁSICO

Towing ships is a dynastic business, hard to establish and harder still to give up. It's built on deep allegiance and cutthroat margins, and its inner workings are full of intrigue and successory drama: fistfights, lawsuits, power struggles, and disinheritances.

The early tugs were expensive to staff and almost comically difficult to steer. A twelve-hundred-horsepower boat might burn twenty tons of coal in a day and require ten men to shovel it. Every time the tug needed to reverse direction, the engine had to be stopped and re-started, by which point the boat might well have run aground.

Modern tugs are very different beasts. They can have ten thousand horsepower and carry a hundred thousand gallons of fuel. Their propulsion systems have evolved from coal to diesel, from paddle wheel to propeller. Now they may go five thousand miles without changing course. Then, when things finally get interesting - when land heaves into view and headlands rise, when currents intersect and wind barrel down from surrounding slopes, when a narrow channel must be negotiated under bridges, between

25 breakwaters, and into a crowded port - the tug captain assumes control.

The shipping industry has gone on a construction spree lately, building ships more than a thousand feet long with as much cargo space as eleven thousand trucks. It means that fewer but more powerful tugs are required to tow the same amount of cargo, and shipping schedules have accelerated dramatically. Tugs that could once afford to lie at port for a week or two now have turn-arounds of less than twenty-four hours. It is a new era for tugboats!

(from THE NEW YORKER, April 19, 2010)

46

From lines 1 to 6 we infer that towing ships is a business which

- (A) is passed over from father to son.
(B) is easily set up.
(C) is easily closed down.
(D) takes little effort to establish.
(E) guarantees high profit.

47

According to lines 1 to 6, all the following issues are likely to be inherent in the tugboating business, **EXCEPT**

- (A) inheritance struggles.
(B) family skirmishes.
(C) wrestling for company control.
(D) family acquiescence.
(E) bodily struggle.

48

From paragraph 2 we deduce that

- (A) operating a tug was like playing with toys.
(B) shifting directions was a risky move.
(C) it was an easy operation to reverse direction.
(D) the tug engine was mechanically fed with coal.
(E) tugs ran the risk of drifting when reversing direction.

49

According to paragraph 2, the first tugs

- (A) used up little fuel.
(B) steered easily.
(C) had a comic design.
(D) were quite maneuverable.
(E) were costly to man.

50

According to lines 20 to 26, we apprehend that things finally get interesting when the land and headlands

- (A) disappear in the horizon.
(B) come into sight.
(C) fade away gradually.
(D) vanish from sight.
(E) become hidden by the surrounding slopes.

51

In the passage *intersect* (line 22) means

- (A) overlap.
- (B) diverge.
- (C) run parallel to one another.
- (D) cross each other.
- (E) flow slowly.

52

In the passage, *breakwaters* (line 25) means

- (A) walls built to keep back water to form a reservoir.
- (B) structures built out into the sea to shelter part of a harbor.
- (C) floodgates used to let water in or out.
- (D) motor-boats able to skim very fast over the surface of water.
- (E) dredging machines used for bringing up mud.

53

According to paragraph 3, when things finally get interesting, the tug captain

- (A) runs away.
- (B) gives up.
- (C) takes over.
- (D) breaks down.
- (E) makes off.

54

According to paragraph 4,

- (A) the same amount of cargo is towed by as many tugboats as it was in the past.
- (B) the larger ships mean that more tugboats will be necessary to tow the same amount of cargo.
- (C) tugboats spend more and more time on sea.
- (D) tugboats take long hours to leave port.
- (E) a ship can take as much cargo as a truck.

55

From the passage as a whole we infer that

- (A) tug vessels remain the same.
- (B) the tugboat history has not evolved much.
- (C) the shipping industry is facing hard times.
- (D) the shipping industry is shrinking.
- (E) a tug captain must be an exceptional seaman.

CONHECIMENTOS ESPECÍFICOS

56

O valor de um título com vencimento em dois anos é R\$5.760. Sabendo-se que a taxa de juros é de 20% ao ano, juros compostos, o valor presente desse título é

- (A) R\$ 4.000.
- (B) R\$ 4.500.
- (C) R\$ 4.800.
- (D) R\$ 5.000.
- (E) R\$ 4.200.

57

A Cia. Maranhão prestou serviços para um cliente localizado no exterior durante o mês de outubro de 2009. Essa é a primeira operação efetuada com um cliente internacional. A empresa irá receber 90% do valor no mês de novembro e 10% no mês de dezembro. Quando a Cia. Maranhão deve reconhecer contabilmente a receita com a prestação de serviços?

- (A) Em virtude de ser um cliente no exterior, deve reconhecer no momento do recebimento definitivo, ou seja, em dezembro de 2009.
- (B) Em virtude de ser um cliente no exterior, deve reconhecer no momento do recebimento de cada parcela, ou seja, 90% do valor em novembro e 10% em dezembro de 2009.
- (C) Mesmo sendo um cliente no exterior, deve reconhecer quando o serviço foi prestado, ou seja, em outubro de 2009.
- (D) Mesmo sendo um cliente internacional, deve reconhecer de acordo com o recebimento, ou seja, 90% do valor em novembro e 10% em dezembro de 2009.
- (E) Em virtude de ser um cliente no exterior e a primeira negociação, deve constituir uma Provisão para Créditos de Liquidação Duvidosa em outubro e baixá-la conforme o recebimento.

58

A Cia. Pernambuco foi constituída em 31/12/2008, apresentando os seguintes saldos em seu Balanço Patrimonial:

Caixa: R\$ 1.000; Terrenos: R\$ 4.000; Financiamentos de Longo Prazo: R\$ 3.500; Capital Social: R\$ 1.500. O Financiamento é sujeito a encargos totais de 5% ao ano e são incorporados ao principal.

A empresa não realizou nenhuma outra operação econômica durante o ano de 2009. A taxa da inflação em 2009 foi de 4% ao ano.

Qual é o valor do resultado da empresa em 31/12/2009 de acordo com o método da Correção Monetária Integral?

- (A) Prejuízo de R\$ 40.
- (B) Prejuízo de R\$ 75.
- (C) Prejuízo de R\$ 175.
- (D) Lucro de R\$ 100.
- (E) Lucro de R\$ 140.

59

A taxa de juros compostos anual equivalente à taxa de 5% ao semestre é

- (A) 10,00%.
- (B) 2,45%.
- (C) 2,50%.
- (D) 10,25%.
- (E) 15,00%.

60

A Cia. Bahia apresentava a seguinte composição do Patrimônio Líquido em 31/12/XO:

Capital Social: R\$ 1.000; Reserva de Ágio: R\$ 100; Reserva Legal: R\$ 190.

Em X1, a empresa obteve um lucro líquido de R\$ 400. A empresa efetua um estudo para definir a destinação do lucro de acordo com a legislação. A administração decide que a empresa irá distribuir apenas o dividendo mínimo obrigatório de acordo com o artigo 202 da Lei 6.404 constituindo a Reserva Legal. O estatuto da empresa estipula o percentual de 25% como base para o cálculo do dividendo mínimo.

Qual é o valor do dividendo declarado pela Cia. Bahia em dezembro de X1?

- (A) R\$ 95,00.
- (B) R\$ 47,50.
- (C) R\$ 52,50.
- (D) R\$ 97,50.
- (E) R\$ 100,00.

61

Em 1º de dezembro de 2009, a Cia. Uruguai adquiriu um título de dívida da Cia. Jota no valor de R\$ 1.000.000. A intenção da Cia. Uruguai na data era somente vender o investimento quando o valor de mercado do título valorizasse 100%.

No dia 31 de dezembro de 2009, o valor de mercado do título era de R\$ 1.010.000. Qual deve ser o tratamento contábil da Cia. Uruguai nessa data?

- (A) Reconhecer o acréscimo de R\$ 10.000 no Patrimônio Líquido como Outros Resultados Abrangentes.
- (B) Reconhecer o resultado de R\$ 10.000 pela valorização do título.
- (C) Reconhecer uma Receita Financeira de R\$ 10.000.
- (D) Reconhecer o acréscimo de R\$ 10.000 no Patrimônio Líquido como Reserva.
- (E) Não reconhecer o acréscimo.

62

A Cia. Mato Grosso efetuou a emissão de uma Debênture em 2006 no valor de R\$ 1.000.000 com juros de 10% ao ano. O valor recebido com a emissão da Debênture foi integralmente utilizado para a compra de estoques. Em 2009, a empresa efetuou a liquidação integral do Passivo, incluindo os juros incidentes.

Como o resgate da Debênture deve ser evidenciado na Demonstração dos Fluxos de Caixa da Cia. Mato Grosso em 31 de dezembro de 2009?

- (A) Fluxo de gerado pela Atividade Operacional.
- (B) Fluxo de Caixa gerado pela Atividade de Financiamento.
- (C) Fluxo de Caixa consumido pela Atividade Operacional.
- (D) Fluxo de Caixa consumido pela Atividade de Investimento.
- (E) Fluxo de Caixa consumido pela Atividade de Financiamento.

63

A Cia. Industrial Goiás apresentava os seguintes saldos em seu Balanço Patrimonial em 31/12/2008:

Caixa: R\$ 8.000; Estoque de Matéria-Prima: R\$ 1.000; Capital Social: R\$ 9.000.

Em 2009, a empresa realizou as seguintes operações:

- Requisição de 80% do estoque de Matéria-Prima
- Incorrência de R\$ 1.200 de custos com mão de obra direta, pagos integralmente
- Incorrência de R\$ 3.000 de Custos Indiretos de Fabricação, pagos integralmente
- Despesas de Vendas de R\$ 600, pagas integralmente
- Despesas Administrativas de R\$ 700, pagas integralmente
- Compra de um terreno a prazo, no valor de R\$ 1.500

No período, a empresa produziu 100 unidades, sendo que 90% foram vendidas por R\$ 6.000 à vista.

Pede-se o valor do resultado líquido da Cia Goiás em 31/12/2009.

- (A) Prejuízo de R\$ 1.300.
- (B) Prejuízo de R\$ 790.
- (C) Prejuízo de R\$ 300.
- (D) Lucro de R\$ 380.
- (E) Lucro de R\$ 200.

64

Assinale a alternativa que melhor se aplica à capacidade informacional da análise horizontal da Demonstração do Resultado do Exercício.

- (A) Analisar a evolução do comportamento das Despesas Operacionais ao longo dos anos.
- (B) Avaliar a capacidade de pagamento das obrigações no último ano.
- (C) Analisar a evolução da eficácia da política de nível de endividamento ao longo dos anos.
- (D) Analisar a estratégia de gestão comercial e de estocagem ao longo dos anos.
- (E) Analisar a composição de cada item do ativo sobre o seu total.

65

Em 31/12/2008, o Balanço Patrimonial da Cia. Pará apresentava a seguinte constituição:

Investimentos Cia. Belém: R\$ 900; Capital Social: R\$ 900.

O Balanço Patrimonial da Cia. Belém era constituído por:

Caixa: R\$ 1.000; Capital Social: R\$ 1.000.

Durante o ano de 2009, a Cia. Belém auferiu Receitas no valor de R\$ 500 e incorreu em Despesas Administrativas no valor de R\$ 400. Qual é o saldo da conta Participação dos não Controladores no Balanço Patrimonial Consolidado em 31/12/2009?

- (A) R\$ 100.
- (B) R\$ 10.
- (C) R\$ 90.
- (D) R\$ 110.
- (E) R\$ 190.

66

A Cia. AD comprou um ativo em 01/01/2007 por R\$ 10.000. O ativo tem valor residual de R\$ 1.000 e vida útil estimada em 3 anos. A depreciação é calculada pelo método linear. Em 1º de março de 2009, a Cia. AD vende o ativo por R\$ 8.000. Qual é o resultado antes do imposto de renda da Cia. AD com a venda, considerando-se que a empresa não incorreu em despesas adicionais?

- (A) Lucro de R\$ 2.000.
- (B) Lucro de R\$ 1.500.
- (C) Lucro de R\$ 4.500.
- (D) Lucro de R\$ 7.222.
- (E) Lucro de R\$ 5.222.

67

Em 31/12/2008, a Cia. Sergipe apresentava os seguintes saldos em suas contas, sendo que as receitas e despesas referem-se exclusivamente ao ano de 2008:

Estoque Inicial de Mercadorias: zero; Despesas Administrativas: R\$ 1.000; Vendas Brutas: R\$ 200.000; Compras de Mercadorias: R\$ 90.000; Estoque Final de Mercadorias: R\$ 5.000; Descontos Financeiros Obtidos: R\$ 2.000; Abatimentos Concedidos: R\$ 4.000; Dividendos pagos: R\$ 5.000; Imposto de Renda e Contribuição Social: R\$ 2.000; Despesas Comerciais: R\$ 20.000; Receita Financeira: R\$ 10.000.

Qual é o valor do lucro bruto da Cia. Sergipe em 31/12/2008?

- (A) R\$ 109.000.
- (B) R\$ 111.000.
- (C) R\$ 118.000.
- (D) R\$ 196.000.
- (E) R\$ 116.000.

68

Em janeiro de 2009, a Cia. Paraná utilizou um procedimento que foi contestado pelas autoridades tributárias, sendo lavrado um auto de infração. A empresa efetuou o Depósito Judicial do valor referente, de R\$ 500.000. A empresa avaliou o fato com seus consultores jurídicos, que consideraram que o risco de perda é possível. Qual deve ser o tratamento contábil desse fato de acordo com as determinações do Comitê de Procedimentos Contábeis?

- (A) A empresa deve constituir a Provisão para Contingências, pois a perda foi julgada possível.
- (B) A empresa deve constituir a Provisão para Contingências, pois foi efetuado o Depósito Judicial.
- (C) A empresa deve constituir a Provisão para Contingências, pois o valor foi julgado material.
- (D) A empresa não deve constituir a Provisão para Contingências, mas efetuar a evidenciação do fato nas Notas Explicativas, pois a perda foi julgada possível.
- (E) A empresa não deve constituir a Provisão para Contingências nem efetuar a evidenciação do fato nas Notas Explicativas, pois a perda não foi julgada como provável.

69

A Cia. Alagoas é controladora da Cia. Maceió. No primeiro ano após a compra, a investida efetuou as suas primeiras operações com terceiros, incorrendo em prejuízo de R\$ 200.000. Desse modo, o patrimônio líquido da Cia. Maceió ficou negativo (passivo a descoberto).

Nesse caso, considerando a normatização do CPC, qual deve ser o tratamento contábil adotado pela investidora na aplicação do método da Equivalência Patrimonial?

- (A) Reconhecer o prejuízo integral da controlada.
- (B) Reconhecer o prejuízo da controlada até o limite do seu investimento.
- (C) Reconhecer o excesso do prejuízo da controlada ao limite do investimento em uma conta de patrimônio líquido.
- (D) Reconhecer o prejuízo da controlada até o limite como operacional e a diferença como um ajuste no patrimônio líquido como resultado não realizado.
- (E) Não reconhecer o prejuízo até que ele se torne realizado.

70

A Cia. Roraima, que vende um só produto, efetuou as seguintes operações durante o mês de janeiro de 2009:

- Dia 10: Compra de 10 unidades de estoque pelo valor total de R\$ 1.000, sendo que o frete, no valor de R\$ 200, foi de responsabilidade do comprador;
- Dia 15: Venda de 9 unidades de estoque por R\$ 300 cada uma, à vista;
- Dia 20: Compra de 20 unidades de estoque pelo valor total de R\$ 1.500, sendo que o frete de R\$ 300 foi pago pelo vendedor;
- Dia 28: Venda de 16 unidades pelo valor total de R\$ 4.000 a prazo;
- Dia 30: Duas unidades de estoque vendidas no dia 28 foram devolvidas pelo cliente.

Em janeiro, a empresa incorreu em Despesas Operacionais de R\$ 500.

Pede-se o valor do Lucro Líquido considerando que a empresa adota o Inventário Permanente e o método de custeio PEPS (Primeiro que Entra, Primeiro que Sai) e que a Cia. Roraima não tinha estoque inicial.

- (A) R\$ 3.995
- (B) R\$ 3.950
- (C) R\$ 3.525
- (D) R\$ 4.325
- (E) R\$ 4.175

71

Para fazer uma viagem, que custará R\$ 5.800 em 10 meses, um investidor deseja separar a quantia necessária em um banco que remunera seus depósitos com uma taxa de juros simples de 2,5% ao mês, juros simples. O menor valor a ser depositado por esse investidor é

- (A) R\$ 4.500,00.
- (B) R\$ 5.000,00.
- (C) R\$ 3.987,00.
- (D) R\$ 5.250,00.
- (E) R\$ 4.640,00.

72

A empresa Espírito Santo apresentava, em 31/12/2009, lucro antes do Imposto de Renda e Contribuição Social de R\$100.000, calculado de acordo com as normas contábeis. Em seu resultado contábil, estão incluídos quatro itens que devem ser analisados: Multas não dedutíveis: R\$ 20.000; Receitas não tributadas: R\$ 30.000; Despesa de Contingência constituída para um processo judicial em fase de discussão: R\$ 40.000; Despesa com constituição da Provisão para 13º Salário: R\$ 5.000.

Qual é o valor de Imposto de Renda e Contribuição Social a serem pagos no período, considerando a alíquota de 25% para o Imposto de Renda e 9% para a Contribuição Social?

- (A) R\$ 30.600.
- (B) R\$ 37.400.
- (C) R\$ 44.200.
- (D) R\$ 49.200.
- (E) R\$ 54.400.

73

Em 31/12/2008, a Cia. Vitória apresentava os seguintes saldos em seu Balanço Patrimonial:

Caixa: R\$ 1.000; Estoques: R\$ 4.000; Equipamentos: R\$ 1.500; Fornecedores: R\$ 3.000; Capital Social: R\$ 3.500.

Em 2009, a empresa efetuou as seguintes operações:

- vendas de 90% do estoque total por R\$ 8.500, sendo 50% à vista e 50% a prazo;
- pagamento de 80% do saldo com Fornecedores;
- reconhecimento da Despesa de Depreciação, a 10% ao ano, calculada pelo método linear sem considerar valor residual;
- compra de um terreno a prazo no valor de R\$ 5.000;
- obtenção de um empréstimo bancário no valor de R\$4.000 para financiar a expansão da empresa.

Pede-se apresentar o valor total dos ajustes para conciliação entre o Lucro Líquido e o Fluxo de Caixa operacional em 31/12/2009, na Demonstração dos Fluxos de Caixa elaborada de acordo com o método Indireto.

- (A) Positivo em R\$ 6.100.
- (B) Positivo em R\$ 2.100.
- (C) Positivo em R\$ 1.350.
- (D) Negativo em R\$ 500.
- (E) Negativo em R\$ 2.900.

74

Em uma economia inflacionária, a aplicação do método da Correção Monetária Integral poderá apresentar a seguinte informação:

- (A) valor da perda que a empresa teve por incorrer em Passivos.
- (B) valor da perda que a empresa incorreu por manter saldos em Disponibilidades.
- (C) valor do custo de reposição dos estoques.
- (D) valor da despesa de depreciação considerando a flutuação de mercado dos ativos imobilizados.
- (E) valor das vendas líquidas deduzidas dos ganhos com os Recebíveis.

75

A Cia. Goiás vendeu mercadorias no montante de R\$1.000.000 para a Cia. Anápolis, com prazo de recebimento de 60 dias. No momento da negociação, foi definido que o cliente teria um desconto comercial de R\$ 20.000 e estabelecida a condição de que, se a Cia. Anápolis pagasse em 30 dias, receberia um desconto adicional de 5%. Existe grande probabilidade de o fato acontecer, uma vez que a Cia. Anápolis geralmente paga em 30 dias. O custo das mercadorias vendidas para a Cia. Anápolis é de R\$ 400.000. Ademais, a Cia. Goiás terá que pagar 10% de comissão ao vendedor.

Considerando essas informações, qual é o valor que a empresa deve reconhecer como ICMS sobre as Vendas, considerando que a alíquota incidente é 18%?

- (A) R\$ 180.000.
- (B) R\$ 176.400.
- (C) R\$ 104.400.
- (D) R\$ 95.580.
- (E) R\$ 167.580.

76

A Cia. Ceará foi formada em 31/12/X0, quando apresentava o seguinte Balanço Patrimonial:

Estoques: R\$ 80.000; Capital Social: R\$ 80.000.

Em X1 a empresa vendeu 90% dos estoques por R\$ 102.000. Metade desse valor foi recebida à vista e metade será recebida em 30 dias. A empresa considera a taxa de desconto para desconto a valor presente de 2% ao mês.

Qual é o valor do Patrimônio Líquido da Cia. Ceará em 31/12/X1 de acordo com a legislação societária, considerando que a empresa aplica o conceito de Valor Presente?

- (A) R\$ 108.000.
- (B) R\$ 100.000.
- (C) R\$ 101.000.
- (D) R\$ 109.000.
- (E) R\$ 110.000.

77

O método de custeio por processo é mais adequado para a seguinte situação:

- (A) a empresa fabrica produtos homogêneos em grande escala.
- (B) as vendas da empresa são sazonais.
- (C) a empresa adota o sistema de custeio-padrão.
- (D) a empresa produz uma grande quantidade de produtos com características diferenciadas.
- (E) a empresa possui uma grande alavancagem operacional.

78

Um empréstimo pós-fixado foi pago com uma taxa aparente de 50%. Sabendo-se que a taxa de inflação no período do empréstimo foi de 20%, a taxa de juros real foi de

- (A) 20,00%.
- (B) 25,00%.
- (C) 35,00%.
- (D) 50,00%.
- (E) 30,00%.

79

Assinale a alternativa que apresente, na ordem, de cima para baixo, o relacionamento entre o fato e as características qualitativas das Demonstrações Contábeis conforme o Pronunciamento Conceitual Básico emitido pelo CPC.

- não antecipação de lucros e antecipação de prejuízos;
 - capacidade de analisar a demonstração contábil de uma empresa de diversos exercícios;
 - reconhecimento do ativo e passivo decorrente de um contrato de arrendamento mercantil financeiro;
 - não omissão de nenhuma transação econômica realizada pela empresa nas Demonstrações Contábeis.
- (A) Prudência, Confiabilidade, Primazia da Essência sobre a Forma, Integridade
- (B) Integridade, Confiabilidade, Prudência, Primazia da Essência sobre a Forma
- (C) Integridade, Comparabilidade, Prudência, Confiabilidade
- (D) Prudência, Confiabilidade, Primazia da Essência sobre a Forma, Comparabilidade
- (E) Prudência, Comparabilidade, Primazia da Essência sobre a Forma, Integridade

80

Um montante de R\$ 1.000 foi aplicado durante 1 ano em um banco à taxa de 20% ao ano, juros compostos e, a seguir, o montante resultante foi colocado em outro banco a juros de 25% ao ano, juros compostos, durante mais 2 anos. O valor final do montante é

- (A) R\$ 1.500.
- (B) R\$ 1.650.
- (C) R\$ 1.875.
- (D) R\$ 5.000.
- (E) R\$ 2.225.



F U N D A Ç Ã O
GETULIO VARGAS

FGV PROJETOS