

SELEÇÃO PÚBLICA

009. PROVA OBJETIVA

BIBLIOTECÁRIO

- ◆ Você recebeu sua folha de respostas e este caderno contendo 60 questões objetivas.
- ◆ Confira seus dados impressos na capa deste caderno e na folha de respostas.
- ◆ Quando for permitido abrir o caderno, verifique se está completo ou se apresenta imperfeições. Caso haja algum problema, informe ao fiscal da sala.
- ◆ Leia cuidadosamente todas as questões e escolha a resposta que você considera correta.
- ◆ Marque, na folha de respostas, com caneta de tinta azul ou preta, a letra correspondente à alternativa que você escolheu.
- ◆ A duração da prova é de 3 horas e 30 minutos, já incluído o tempo para o preenchimento da folha de respostas.
- ◆ Só será permitida a saída definitiva da sala e do prédio após transcorridos 75% do tempo de duração da prova.
- ◆ Ao sair, você entregará ao fiscal a folha de respostas e este caderno, podendo levar apenas o rascunho de gabarito, localizado em sua carteira, para futura conferência.
- ◆ Até que você saia do prédio, todas as proibições e orientações continuam válidas.

AGUARDE A ORDEM DO FISCAL PARA ABRIR ESTE CADERNO DE QUESTÕES.

Nome do candidato _____

Prédio _____

Sala _____

Carteira _____

Inscrição _____

CONHECIMENTOS GERAIS

LÍNGUA PORTUGUESA

Leia o texto para responder às questões de números **01** a **08**.

Das musas, entidades mitológicas da Grécia Antiga, dizia-se que eram capazes de inspirar criações artísticas e científicas. Mulheres belas, talentosas e descendentes diretas de Zeus já foram homenageadas por Shakespeare, Dante e Rafael.

Pois a musa inspiradora de Felipe Alves Elias tinha 15 m de comprimento e 6 m de altura, pesava até sete toneladas e estaria, hoje, com idade bem avançada: 145 milhões de anos. Funcionário do Museu de Zoologia da USP, Felipe leva tatuado no braço um crânio de espinossauro e é um paleoartista. Ele diz: “Faço a representação visual de uma hipótese paleontológica sobre a anatomia, a aparência ou a ecologia das espécies fósseis.” Apesar da explicação complicada, todos já devem ter visto obras de paleoartistas em livros didáticos, exposições ou filmes. O trabalho deles, contudo, não aparece nos *Flintstones* ou no *Jurassic World – O Mundo dos Dinossauros*.

“A paleoarte tem como função a divulgação científica”, diz Ariel Milani, um dos grandes estudiosos da área no Brasil. “No cinema, é entretenimento. Visualmente é lindo, mas tudo ali é uma grande liberdade artística”. Ao dizer isso, ele jura que não é dor de cotovelo. Pioneiro da paleoarte no Brasil, Ariel desenha dinossauros há quase 20 anos e atualmente faz doutorado na Unicamp. Ele afirma: “Meu trabalho tenta formalizar a paleoarte dentro das ciências biológicas. O problema é que as pessoas não entendem o limite entre arte e ciência. Para os cientistas, somos artistas; para os artistas, somos cientistas.”

Para estimular o crescimento da área no país, anualmente a Paleo SP – reunião anual da Sociedade Brasileira de Paleontologia – organiza um concurso de paleoarte. O próximo evento está marcado para dezembro e Ariel será o juiz técnico, por isso sugere alguns macetes que podem levar os aspirantes à vitória. “O dinossauro não pode ser magnífico, se estiver andando em cima da grama, está errado. A grama só surgiu depois dos dinossauros. Também não pode colocar um T-Rex ao lado de um dinossauro do período Triássico.”

(Revista da Folha, junho de 2015. Adaptado)

01. A afirmação de Felipe Elias, no segundo parágrafo, está corretamente reproduzida em:

- (A) Felipe inspira-se nas musas gregas para representar graficamente as espécies dos dinossauros.
- (B) O paleoartista baseia-se nos recursos da criatividade para desenhar os fósseis primitivos.
- (C) Felipe faz a representação gráfica de como os cientistas imaginam que tenham sido os animais.
- (D) Felipe seleciona as melhores criações das musas presentes nas obras de pintores e de escritores.
- (E) O paleoartista copia os desenhos das espécies fósseis encontrados nas obras dos artistas.

02. Segundo o texto, a paleoarte tem por objetivo

- (A) fazer com que as pessoas se encantem com todos os tipos de fósseis.
- (B) cooperar com a criação de filmes sobre a trajetória dos dinossauros.
- (C) garantir que as produções cinematográficas sejam fiéis às ciências.
- (D) difundir cientificamente os dados relativos ao estudo dos fósseis.
- (E) promover junto com cineastas o entretenimento do público.

03. Assinale a passagem do texto em que se evidencia a incompreensão acerca da atividade do paleoartista.

- (A) “Faço a representação visual de uma hipótese paleontológica sobre a anatomia...”
- (B) “Visualmente é lindo, mas tudo ali é uma grande liberdade artística”.
- (C) “... todos já devem ter visto obras de paleoartistas em livros didáticos, exposições ou filmes.”
- (D) “Meu trabalho tenta formalizar a paleoarte dentro das ciências biológicas.”
- (E) “Para os cientistas, somos artistas; para os artistas, somos cientistas.”

04. No enunciado – Com a paleoarte, os estudiosos [*predispõem-se*] à divulgação científica; já com o cinema, todos [*entretêm-se*]. Visualmente é lindo, mas ali, desenhos, efeitos especiais, tudo [*decorrem*] de uma grande liberdade artística”. – os verbos destacados, respectivamente, quanto à conjugação e à concordância, assumem emprego correto em:

- (A) *predispõem-se*; se *entretêm*; *decorrem*.
- (B) *predispõe-se*; se *entretém*; *decorriam*.
- (C) *predispõem-se*; se *entretêm*; *decorre*.
- (D) *predispõem-se*; se *entretêm*; *decorrem*.
- (E) *predispõe-se*; se *entretém*; *decorrem*.

05. Assinale a alternativa que completa, correta e respectivamente, quanto ao uso ou não do acento indicativo da crase, as lacunas dos enunciados a seguir.

Os artistas dedicam-se _____ musas para se inspirarem.
Não se pode colocar um T-Rex junto _____ um tiranossauro do Triássico.

Tudo ali se assemelha _____ uma grande liberdade artística.

- (A) às ... a ... a
- (B) às ... à ... à
- (C) às ... a ... à
- (D) as ... a ... a
- (E) as ... à ... a

06. Nas frases – Dante, Rafael e Shakespeare homenagearam **as mulheres talentosas** – e – Ariel sugere **aos aspirantes** alguns macetes que podem levá-los à vitória. – a substituição dos termos em destaque por um pronome pessoal está respectivamente correta, de acordo com a modalidade-padrão, em:

- (A) Dante, Rafael e Shakespeare homenagearam-nas. / Ariel sugere-os alguns macetes que podem levá-los à vitória.
- (B) Dante, Rafael e Shakespeare homenagearam-nas. / Ariel sugere-lhes alguns macetes que podem levá-los à vitória.
- (C) Dante, Rafael e Shakespeare homenagearam elas. / Ariel sugere-nos alguns macetes que podem levá-los à vitória.
- (D) Dante, Rafael e Shakespeare homenagearam-lhes. / Ariel sugere-lhes alguns macetes que podem levá-los à vitória.
- (E) Dante, Rafael e Shakespeare homenagearam-las. / Ariel sugere-los alguns macetes que podem levá-los à vitória.

07. Substituindo-se a conjunção **contudo** em – O trabalho deles, **contudo**, não aparece nos *Flintstones* ou no *Jurassic World – O Mundo dos Dinossauros*. – a frase permanece com o mesmo sentido em:

- (A) O trabalho deles, desse modo, não aparece nos *Flintstones* ou no *Jurassic World – O Mundo dos Dinossauros*.
- (B) O trabalho deles, portanto, não aparece nos *Flintstones* ou no *Jurassic World – O Mundo dos Dinossauros*.
- (C) O trabalho deles, conseqüentemente, não aparece nos *Flintstones* ou no *Jurassic World – O Mundo dos Dinossauros*.
- (D) O trabalho deles, logo, não aparece nos *Flintstones* ou no *Jurassic World – O Mundo dos Dinossauros*.
- (E) O trabalho deles, porém, não aparece nos *Flintstones* ou no *Jurassic World – O Mundo dos Dinossauros*.

08. Assinale a alternativa que substitui, corretamente, quanto ao sentido, as expressões destacadas em – Das musas, entidades mitológicas da Grécia Antiga, dizia-se que eram **capazes de** inspirar criações artísticas e científicas. – e – Ao dizer isso, ele jura que não é **dor de cotovelo**.

- (A) decididas a; displicência.
- (B) voltadas a; remorso.
- (C) avessas a; ressentimento.
- (D) suscetíveis de; despeito.
- (E) cientes de; indiferença.

Para responder às questões de números 09 e 10, leia os quadrinhos.



(www.escute.tumblr.com. Adaptado)

09. Pode-se afirmar que o personagem Horácio
- (A) acumulou experiências diante dos percalços para poder vislumbrar perspectivas mais promissoras.
 - (B) sucumbiu às vicissitudes da vida, deixando-se levar pelos momentos difíceis por que passava.
 - (C) viveu intensamente os dias alegres de sol e não se preocupou com o que poderia lhe acontecer no futuro.
 - (D) reconheceu que os perigos das noites escuras impediam-no de explorar devidamente os dias de sol.
 - (E) manifestou inquietações com o fato de não poder aproveitar os benefícios dos dias de sol.
10. A frase do penúltimo quadrinho, em nova versão, apresenta regência correta, de acordo com a norma-padrão, em
- (A) Afinal, estou convencido que uma noite escura sobre-põe-se a um dia de sol.
 - (B) Afinal, estou convicto de que uma noite escura antecede um dia de sol.
 - (C) Afinal, estou consciente de que um dia de sol antecipa-se uma noite escura.
 - (D) Afinal, estou ciente que um dia de sol precede a uma noite escura.
 - (E) Afinal, estou certo de que um dia de sol segue-se uma noite escura.

MATEMÁTICA

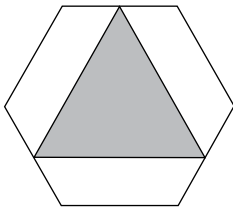
11. Uma professora de artes decidiu, no último dia de aula, organizar os potes de tinta que sobraram do ano letivo. Ela dispõe de 91 potes de cor amarela, 78 de cor branca e 52 de cor vermelha e pretende distribuí-los em caixas, de maneira que cada caixa tenha potes de uma mesma cor e que todas as caixas tenham o mesmo número de potes. O menor número de caixas que ela necessitará para os potes de cor branca é igual a
- (A) 3.
 - (B) 6.
 - (C) 9.
 - (D) 12.
 - (E) 13.

12. Na semana que disputaria a final de um campeonato de futebol, Renato treinou muitos pênaltis. Na segunda-feira, de cada 5 pênaltis batidos, Renato acertou 4. Considerando os dias em que treinou nessa semana, de cada 9 pênaltis batidos, Renato acertou 7. Se na segunda-feira Renato bateu 50 pênaltis e nos outros dias da semana em que ele treinou, no total, ele acertou 471, o número total de pênaltis cobrados por Renato em seu treinamento foi
- (A) 603.
 - (B) 619.
 - (C) 635.
 - (D) 657.
 - (E) 671.
13. Uma epidemia de gripe atingiu 20% dos alunos de uma escola. Sabendo-se que 14 meninas contraíram a gripe e que 75% dos alunos que contraíram eram meninos, pode-se calcular corretamente que o total de alunos dessa escola é
- (A) 240.
 - (B) 260.
 - (C) 280.
 - (D) 300.
 - (E) 320.
14. Cinco máquinas, todas de igual eficiência, funcionando 8 horas por dia, produzem 600 peças por dia. O número de peças que serão produzidas por 12 dessas máquinas, funcionando 10 horas por dia, durante 5 dias, será igual a
- (A) 1 800.
 - (B) 3 600.
 - (C) 5 400.
 - (D) 7 200.
 - (E) 9 000.

15. Uma escola promoveu uma festa para arrecadar fundos para uma instituição que ajuda crianças em situação de risco. O ingresso cobrado dos adultos custou R\$ 20,00 e das crianças, R\$ 10,00. O número de adultos nessa festa foi cinco vezes maior que o número de crianças e o total arrecadado com os ingressos foi R\$ 11.330,00. A diferença entre adultos e crianças nessa festa foi igual a

(A) 412.
(B) 436.
(C) 456.
(D) 472.
(E) 492.

16. A figura mostra um hexágono regular e um triângulo sombreado com vértices nos pontos médios de três lados do hexágono.



Se o lado desse hexágono mede 4 cm, a área do triângulo, em cm^2 , vale

(A) $3\sqrt{3}$.
(B) $4\sqrt{2}$.
(C) $6\sqrt{3}$.
(D) $8\sqrt{2}$.
(E) $9\sqrt{3}$.

17. Gabriel vendeu um carro para seu irmão por R\$ 12.600,00. Como seu irmão não tinha todo o dinheiro disponível, ficou combinado que ele pagaria uma primeira parcela no ato da compra e que, quando pudesse, pagaria o saldo devedor com juros simples de 2% ao mês. Após 5 meses, Gabriel recebeu de seu irmão o restante da dívida, com os juros devidos, e o valor recebido nessa ocasião acabou por ser o mesmo valor recebido na primeira parcela, ou seja,

(A) R\$ 6.450,00.
(B) R\$ 6.500,00.
(C) R\$ 6.600,00.
(D) R\$ 6.615,00.
(E) R\$ 6.930,00.

18. Marcelo fez uma viagem na qual percorreu um trecho de carro e um trecho de bicicleta. O trecho percorrido de carro é sete vezes maior que o percorrido de bicicleta. Marcelo pedalou por três sétimos do tempo total de viagem. Sendo a velocidade média de cada trecho a razão entre a distância percorrida no trecho e o tempo para percorrê-lo, a razão entre as velocidades médias de carro e de bicicleta é igual a
- (A) 5.
(B) 5,25.
(C) 5,5.
(D) 5,75.
(E) 6.
19. Mariana, Letícia e Rafaela organizaram os livros da biblioteca escolar. No total, elas catalogaram e etiquetaram 357 livros. Mariana trabalhou por 7 horas e vinte minutos; Letícia, que organizou 116 livros, trabalhou uma hora a menos que Rafaela. Para organizar cada livro, essas meninas utilizaram sempre o mesmo tempo, o que permite concluir que Rafaela trabalhou a mais que Mariana um tempo, em minutos, igual a
- (A) 66.
(B) 72.
(C) 78.
(D) 84.
(E) 90.
20. Um reservatório de água na forma de paralelepípedo possui por dimensões internas 2 m de largura, 1 m de comprimento e 1 m de altura. No momento em que o reservatório se encontrava com 800 litros, foi aberta uma torneira com vazão de 2 litros por segundo para abastecê-lo. Ao mesmo tempo, uma torneira com vazão 500 mililitros por segundo começou a drenar água do reservatório. O tempo, em minutos, que levará para esse reservatório encher completamente será, aproximadamente, igual a
- (A) 13,3.
(B) 14,4.
(C) 15,5.
(D) 16,6.
(E) 17,7.

21. “Quando o México envia suas pessoas para os EUA, ele não envia as melhores. Ele envia pessoas com muitos problemas. E elas trazem esses problemas para cá. Elas trazem drogas, trazem crime. São estupradores.”

(UOL, 11.07.15. Disponível em: <<http://goo.gl/gvVF8R>>. Adaptado)

A autoria da frase é de

- (A) Condoleezza Rice, ex-secretária de Estado dos EUA.
- (B) Jeb Bush, pré-candidato à presidência dos EUA.
- (C) Donald Trump, pré-candidato à presidência dos EUA.
- (D) Hillary Clinton, pré-candidata à presidência dos EUA.
- (E) Barack Obama, atual presidente dos EUA.

22. Estados Unidos e Cuba vão formalizar, nesta segunda-feira (20 de julho), o restabelecimento de suas relações diplomáticas com a reabertura de embaixadas em Washington e Havana, um passo definitivo que encerra mais de meio século de ruptura e desconfiança.

(G1, 19.07.15. Disponível em: <<http://goo.gl/ugBqrv>>. Adaptado)

Entre as pendências na reaproximação dos dois países, está

- (A) a restrição imposta à circulação de diplomatas dos dois países em território estrangeiro.
- (B) o impedimento das remessas de dinheiro entre os dois países.
- (C) a proibição de viagens de cidadãos dos EUA à Cuba.
- (D) o bloqueio econômico imposto pelos EUA à Cuba.
- (E) a suspensão da participação de Cuba nos organismos internacionais como a ONU.

23. A Câmara dos Deputados aprovou, na madrugada desta quinta-feira (2 de julho), em primeiro turno, a redução da maioria penal de 18 para 16 anos para crimes hediondos, homicídio doloso e lesão corporal seguida de morte. O texto “mais brando” votado nessa sessão foi considerado uma “pedalada regimental” do presidente da Câmara, Eduardo Cunha (PMDB-RJ), para reverter a rejeição da proposta no dia anterior.

(UOL, 02.07.15. Disponível em: <<http://goo.gl/sDluXR>>. Adaptado)

Em relação aos projetos sobre a redução da maioria penal, o que mudou entre uma votação e outra foi

- (A) a possibilidade de oferecer medidas socioeducativas a todos os jovens apreendidos, mesmo aos menores de 16 anos.
- (B) a proposta de se considerar a idade de jovens entre 16 e 18 anos como atenuante no momento do julgamento.
- (C) a renúncia a uma punição generalizada a todos os jovens infratores, que só poderão ser julgados por crimes cometidos a partir dos 14 anos.
- (D) a limitação da punição aos jovens infratores apenas em caso de reincidência, estabelecendo medidas socioeducativas para a primeira apreensão.
- (E) a retirada de tráfico de drogas, de terrorismo e de roubo qualificado do rol de crimes que fariam o jovem responder como um adulto.

24. *Divididos, gregos decidem seu futuro neste domingo*

A jovem grega Nicoleta Sopasi, 26, circulava pelo centro de Atenas neste sábado (4) quando foi parada pela reportagem. Afinal, vai votar *Oxi* (não) ou *Nai* (sim) no plebiscito deste domingo (5 de julho)? “Não me decidi ainda. Não sei o que vai acontecer seja qual for o resultado”, respondeu Nicoleta. O plebiscito sobre a negociação com os credores internacionais parece confuso para os gregos, mas há uma única certeza nas ruas: seja qual for o resultado, o futuro econômico do país será sombrio.

(Folha de S.Paulo, 05.07.15.

Disponível em: <<http://goo.gl/KJf2R5>>. Adaptado)

No plebiscito mencionado no texto, venceu

- (A) o sim, o que garantiu a permanência da Grécia na zona do Euro e na União Europeia.
 - (B) o não, por meio do qual os gregos rejeitaram a proposta feita pelos credores.
 - (C) o não, representando o desejo dos gregos de ampliarem as medidas de austeridade.
 - (D) o sim, o que implicou em redução imediata dos salários e das aposentadorias.
 - (E) o não, o que levou a Grécia a sair imediatamente da zona do Euro e da União Europeia.
25. Deflagrada no fim de março e com origem em uma carta anônima entregue num envelope pardo, a Operação Zelotes da Polícia Federal investiga um grande esquema de corrupção.

(Folha de S.Paulo, 1º.04.15.

Disponível em: <<http://goo.gl/y3u92i>>. Adaptado)

A Operação Zelotes investiga

- (A) fraudes em licitações públicas.
- (B) um esquema de sonegação fiscal.
- (C) caixa 2 para financiamento de campanhas políticas.
- (D) a prática de lavagem de dinheiro em paraísos fiscais.
- (E) o superfaturamento de obras de grandes empreiteiras.

26. No MS-Windows 7, em sua configuração padrão, é possível colocar pequenos aplicativos que fornecem informações, por exemplo, sobre o clima, diretamente na área de trabalho.

Assinale a alternativa que contém o nome dado, no MS-Windows 7, especificamente a esses pequenos aplicativos.

- (A) Gadgets.
- (B) Acessórios.
- (C) Painéis.
- (D) Assistentes.
- (E) Media Center.

27. A imagem exibida a seguir foi retirada do MS-Word 2010, em sua configuração padrão, e contém opções mostradas ao clicar na seta para baixo na lateral de um ícone.



Assinale a alternativa que apresenta o ícone que abre a caixa de opções indicada na imagem.

- (A)
- (B)
- (C)
- (D)
- (E)

28. Observe a planilha a seguir, editada por meio do MS-Excel 2010, em sua configuração padrão.

	A	B	C
1	10	20	30
2	40	60	50
3			

O valor obtido na célula C3, após esta ser preenchida com a fórmula =SE(B1/10>10;C2/10;A1/10), será:

- (A) 5
- (B) 4
- (C) 3
- (D) 2
- (E) 1

29. O nome dado, no MS-PowerPoint 2010, em sua configuração padrão, aos efeitos visuais usados dentro de um mesmo slide é

- (A) Transição.
- (B) Animação.
- (C) Design.
- (D) Estilo.
- (E) Tema.

30. Um assistente administrativo, com a tarefa de encontrar informações sobre determinado assunto, pesquisou na internet, por meio do Internet Explorer 11, em sua configuração padrão, e encontrou páginas com longos textos.

Para agilizar sua pesquisa, o assistente pode utilizar um atalho por teclado que permite localizar palavras no texto de uma página aberta no Internet Explorer 11. Esse atalho é o

- (A) CTRL + A
- (B) CTRL + N
- (C) CTRL + B
- (D) CTRL + F
- (E) CTRL + T

CONHECIMENTOS ESPECÍFICOS

31. A Ciência da Informação teve como um de seus precursores Vannevar Bush, cujo artigo, publicado em 1945, indicava que a área
- (A) apresentava formação adequada de recursos humanos para lidar com o volume de informação produzida.
 - (B) possuía instrumental eficiente de armazenamento e recuperação da informação existente no período.
 - (C) possuía arcabouço teórico suficiente para explicar e solucionar as práticas de informação da época.
 - (D) precisava introduzir a noção de associação de conceitos ou palavras para organização da informação.
 - (E) possuía para a organização da informação, na época, sistemas de classificação e indexação intuitivos.
32. Na documentação jurídica, as fontes formais de informação são divididas em legislação, jurisprudência e doutrina, tendo, como exemplos, respectivamente:
- (A) constituição, código e acordão.
 - (B) emenda constitucional, edital e livros.
 - (C) instrução normativa, súmula e artigos de periódicos.
 - (D) decreto legislativo, sentença e portaria.
 - (E) edital, acordão e decisão monocrática.
33. Na tipologia de documentos, constituem-se como fontes secundárias de informação:
- (A) congressos, patentes e relatórios técnicos.
 - (B) bases de dados, normas técnicas e livros.
 - (C) teses, projetos de pesquisa e catálogos de bibliotecas.
 - (D) bases de dados, catálogos de bibliotecas e bibliografias.
 - (E) catálogos de bibliotecas, enciclopédias e legislação.
34. Na seleção e avaliação de títulos de periódicos científicos para o desenvolvimento das coleções de um acervo, é possível identificar um núcleo de revistas científicas e estimar seu grau de relevância em uma determinada área por meio da
- (A) Lei do Ponto T de Goffman.
 - (B) Lei de Zipf-Booth.
 - (C) Primeira Lei de Zipf.
 - (D) Lei de Lotka.
 - (E) Lei de Bradford.
35. Nas linguagens documentárias, a função de controle de vocabulário pode referir-se à
- (A) forma de apresentação de seus elementos quanto ao gênero (geralmente masculino) na normalização semântica.
 - (B) forma de apresentação de seus elementos quanto ao gênero (geralmente feminino) na normalização gramatical.
 - (C) garantia de univocidade da representação dos conceitos na normalização semântica.
 - (D) forma de apresentação quanto ao número (geralmente plural) na normalização semântica.
 - (E) garantia de univocidade da representação dos conceitos na normalização gramatical.
36. A estrutura de uma linguagem documentária, seja vocabulário controlado ou tesouro, é dada pela relação entre os descritores, que podem ser:
- (A) relações hierárquicas dos tipos genéricas, partitivas ou sequenciais.
 - (B) relações hierárquicas dos tipos genéricas, partitivas ou instância.
 - (C) relações não hierárquicas dos tipos instância, causa e efeito, produtor e produto.
 - (D) relações de equivalência dos tipos sinônimos, quase sinônimos e sequenciais.
 - (E) relações de equivalência dos tipos quase sinônimos, variações locais e instância.
37. O desenvolvimento de tecnologias *Web* viabiliza pesquisas em banco de dados e possibilita a representação da informação e interoperabilidade nos repositórios, de forma que
- (A) o *Resource Description Framework* (RDF) é a base para controle de vocabulário e para representação de conteúdo.
 - (B) o *SPARQL Query Language* é projetado para uso em aplicativos que precisam processar de forma automática o conteúdo da informação.
 - (C) o *Web Ontology Language* (OWL) é a base para publicação de dados por ser uma linguagem para representação da informação na *Web*.
 - (D) o *Simple Knowledge Organization System* (SKOS) é o modelo comum de dados para compartilhamento de tesouros e vocabulários controlados.
 - (E) o *Rule Interchange Format* (RIF) é o modelo que fornece vocabulário adicional juntamente com uma semântica formal para interpretação de conteúdo.

38. O sistema de informação brasileiro, que promove o acesso à informação científica e técnica em saúde oral, e o sistema de informação internacional, que possibilita acesso a artigos de periódicos nas áreas de Medicina, Odontologia e Biomédicas, são, respectivamente:
- (A) SCOPUS e Web of Science.
 - (B) BVS Odontologia e EMBASE.
 - (C) BVS e LexisNexis.
 - (D) LSN e Pubmed.
 - (E) BVS e ISTA.
39. O sistema de informação desenvolvido no Brasil que indexa e publica periódicos científicos e livros em acesso aberto com destaque para a área da saúde é:
- (A) OIAS.
 - (B) Portal CAPES.
 - (C) JCR.
 - (D) SciELO.
 - (E) OJS.
40. O planejamento bibliotecário, que tem como principal componente a análise situacional do ambiente e avalia aspectos relacionados a forças, fraquezas, oportunidades e ameaças, utiliza a técnica de
- (A) Cinco "S".
 - (B) Cinco Forças de Porter.
 - (C) PDCA.
 - (D) PMBOK.
 - (E) SWOT.
41. A notação é o instrumento de codificação que facilita o arranjo dos itens de um acervo com um sistema de classificação, e deve apresentar como qualidades que permitam desempenhar sua função de forma mais adequada a
- (A) pureza, a hospitalidade, a simplicidade e a brevidade.
 - (B) pureza, os artifícios mnemônicos, a complexidade e a extensão.
 - (C) hospitalidade, a complexidade, o comprimento de base e a intensão.
 - (D) hospitalidade, a brevidade, a complexidade e o comprimento de base.
 - (E) complexidade, a extensão, a intensão e o comprimento de base.
42. Sobre a CDU, pode-se afirmar que
- (A) foi criada por Dewey em 1895 para organizar o repertório bibliográfico construído pelo Instituto Internacional de Bibliografia.
 - (B) foi publicada em 1920 sob o título de *Manuel du Repertoire Bibliographique Universel*, baseada na 6ª edição da Classificação Decimal de Dewey.
 - (C) emprega signos numéricos inteligíveis em todos os idiomas e sistemas de escrita tendo âmbito internacional de uso.
 - (D) se trata de uma tradução da Classificação Decimal de Dewey, mantendo-se a característica enumerativa em que todos os assuntos já estão codificados.
 - (E) utiliza notação numérica decimal com frações que permitem divisão e subdivisão até um limite preestabelecido pelo sistema de classificação.
43. A CDU utiliza sinais gráficos para unir diferentes conceitos e para descrever assuntos compostos, sendo que a barra oblíqua é empregada como sinal
- (A) que pode ligar símbolos de natureza diversa como números da tabela principal com números da tabela de lugar ou datas.
 - (B) de adição para a classificação de documentos que tratam de dois ou mais conceitos representados, independentemente, por símbolos que não são consecutivos.
 - (C) de relação para organizar documentos que tratam de assuntos que apresentam de forma conjunta e relacionada a dois ou mais conceitos.
 - (D) de extensão consecutiva para classificar documentos que tratam de dois ou mais conceitos, independentemente, representados nas tabelas, por símbolos seguidos.
 - (E) de intercalação para alterar a ordem dos conceitos encontrada nas tabelas, relacionando um símbolo com outro.

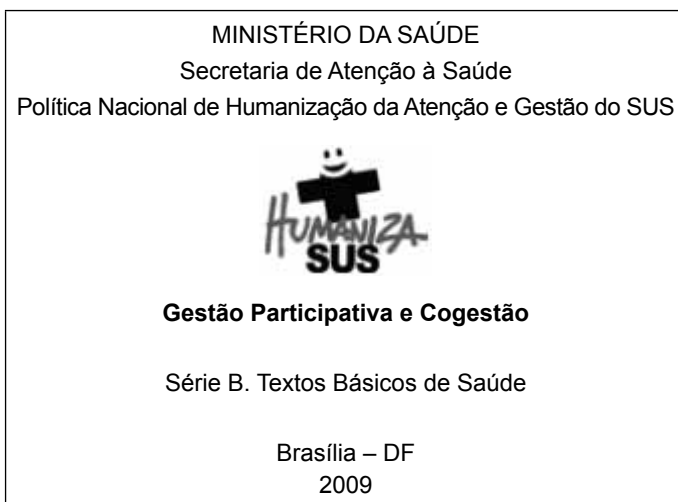
44. Na classificação pela CDU, um assunto é representado por um símbolo retirado da tabela principal e o sistema oferece ainda tabelas de subdivisões auxiliares comuns que permitem limitar o assunto quanto a aspectos como

- (A) lugar, constituído por números predefinidos entre < > (chaves), sendo que <1> significa o Mundo, <100> o conceito de internacionalidade e os símbolos entre <4/9>, os continentes.
- (B) ponto de vista, formado por :00 (dois pontos, zero, zero), seguido de um algarismo para indicar o enfoque do autor, do escritor, teórico, prático, econômico, funcionamento e outros.
- (C) forma, representada entre () (parênteses) com números específicos para indicar como o documento está apresentado, sendo (42.5) para palestras, (5) para periódicos e (38) para dicionários especializados.
- (D) língua, formada pelo número da classe 8 sem o uso do 80 acrescido do (=) (igual entre parênteses) ficando o idioma espanhol, por exemplo, representado por (=60) e sendo possível indicar mais de uma língua, se necessário.
- (E) tempo, indicado por " " (aspas) para o século, a década, o ano, o mês, o dia, as estações do ano que têm números específicos, por exemplo Verão "322", outros períodos, tempo geológico e arqueológico.

45. Recursos contínuos no AACR2 incluem documentos como

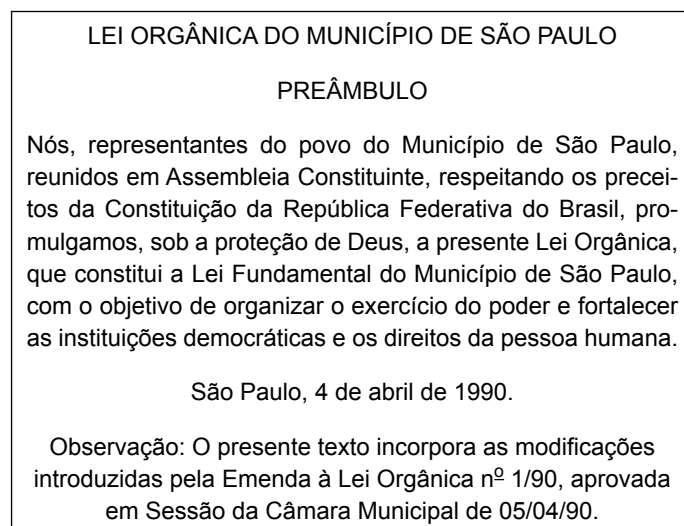
- (A) recursos eletrônicos, publicações seriadas, recursos integrados finitos e materiais cartográficos em forma eletrônica.
- (B) publicações seriadas, folhas soltas de atualização, páginas de atualização da Web e recursos integrados finitos.
- (C) folhas soltas de atualização, recursos integrados finitos, materiais cartográficos em forma eletrônica e folhetos impressos.
- (D) recursos integrados finitos, materiais cartográficos em forma eletrônica, folhetos impressos e coleções manuscritas.
- (E) materiais cartográficos em forma eletrônica, folhas soltas de atualização, folhetos impressos e coleções manuscritas.

46. A obra com as informações indicadas no quadro a seguir deve ter seu ponto de acesso principal para representação descritiva por:



- (A) Ministério da Saúde. Secretaria de Atenção à Saúde. Humaniza SUS.
- (B) Política Nacional de Humanização da Atenção e Gestão do SUS.
- (C) Brasil. Ministério da Saúde. Secretaria de Atenção à Saúde. Política Nacional de Humanização da Atenção e Gestão do SUS.
- (D) Brasil. Ministério da Saúde. Secretaria de Atenção à Saúde. Política Nacional de Humanização da Atenção e Gestão do SUS. Humaniza SUS.
- (E) Ministério da Saúde. Secretaria de Atenção à Saúde. Política Nacional de Humanização da Atenção e Gestão do SUS.

47. O documento a seguir tem como entrada do ponto de acesso principal para entidade coletiva:



- (A) Município de São Paulo.
- (B) São Paulo, Capital.
- (C) São Paulo, SP.
- (D) São Paulo (Cidade).
- (E) Cidade de São Paulo.

48. Sobre o descritor do Vocabulário Controlado DeCS indicado a seguir, é possível afirmar que

DeCS	
Descritor <i>Inglês</i> :	Surgery, Oral
Descritor <i>Espanhol</i> :	Cirurgia Bucal
Descritor <i>Português</i> :	Cirurgia Bucal
Sinônimos <i>Português</i> :	Cirurgia Maxilofacial Exodontia
Categoria:	<u>E06.892</u> <u>H02.163.876.886</u>
Definição <i>Português</i> :	Especialidade dentária preocupada com o <u>diagnóstico</u> e tratamento cirúrgico de doenças, lesões e defeitos da região oral e maxilofacial humana.
Nota de Indexação <i>Português</i> :	Especialidade de terapia cirúrgica de doenças, traumatismos e defeitos do <u>tecido mole da boca & arcada osseodentária</u> ; não confunda com <u>DENTÍSTICA OPERATÓRIA</u> : para restaurar a função do dente; não indexe aqui <u>cirurgia</u> craniomaxilofacial; use em lugar <u>ESPECIALIDADES CIRÚRGICAS</u> ; veja também nota em <u>PROCEDIMENTOS CIRÚRGICOS BUCAIS</u>
Relacionados <i>Português</i> :	<u>Dentística Operatória</u> <u>Procedimentos Cirúrgicos Bucais</u>
Qualificadores Permitidos <i>Português</i> :	CL <u>classificação</u> CT <u>contraindicações</u> EC <u>economia</u> ED <u>educação</u> NU <u>enfermagem</u> SN <u>estatística & dados numéricos</u> HI <u>história</u> IS <u>instrumentação</u> LJ <u>legislação & jurisprudência</u> MT <u>métodos</u> ST <u>normas</u> OG <u>organização & administração</u> PX <u>psicologia</u> RH <u>reabilitação</u> MA <u>recursos humanos</u> TD <u>tendências</u> UT <u>utilização</u> ES <u>ética</u>

- (A) o termo preferido para indexação em Português é Cirurgia Maxilofacial.
- (B) o descritor Dentística Operatória é um termo equivalente à Cirurgia Maxilofacial.
- (C) o termo Exodontia pode ser utilizado para indexação de trabalhos sobre o tema.
- (D) o termo preferido para indexação em Português é Cirurgia Bucal.
- (E) os termos Cirurgia Maxilofacial e Exodontia possuem conceitos distintos de Cirurgia Bucal.

49. O MARC é composto por elementos específicos, entre eles:

- (A) estrutura de registro no formato padrão internacional para intercâmbio de informações (ISO 2709 e ANSI / NISO Z39.2).
- (B) designação de conteúdo, códigos e convenções estabelecidas para identificar e caracterizar os elementos de dados fora de um registro.
- (C) conteúdo de dados do registro que compreende padrões de metadados a partir de fontes internas como ISBD, AACR2, LCSH.
- (D) estrutura de registro no formato padrão nacional para interoperabilidade de informações prevista na norma ANSI / NISO Z39.19.
- (E) conteúdo de dados do registro que compreende padrões internos de metadados compatíveis com Dublin Core.

50. O artigo publicado na RGO - Revista *Gaúcha* de Odontologia versão Online de autoria de Thaís Torres Barros Dutra com o título: O impacto do custo de produtos de higiene bucal sobre o orçamento doméstico na zona urbana de uma capital de porte médio brasileira, conforme indicado a seguir, possui um resumo do tipo:

OBJETIVO: Avaliar o impacto do custo dos produtos de higiene bucal em Teresina, Piauí sobre o salário mínimo brasileiro ao longo de dois anos de observação.

MÉTODOS: Doze estabelecimentos comerciais nas zonas geográficas do município foram visitados em quatro meses consecutivos em 2011 e 2013 para coletar o preço de escovas dentais, dentífricos, fios dentais e antissépticos bucais de diferentes marcas. Para o cálculo do consumo mensal, considerou-se que os produtos foram consumidos em quantidade ideal para o uso. Para o impacto do custo dos itens, o salário mínimo brasileiro na época do estudo foi usado como parâmetro.

RESULTADOS: O custo mensal médio por indivíduo seria de R\$17,93 em 2011 (2,88% do salário mínimo) e R\$ 24,92 em 2013 (3,67% do salário mínimo).

CONCLUSÃO: Houve aumento de 38,9% no preço dos produtos e o impacto sobre o SM aumentou em 27,43% no período do estudo. Os cirurgiões-dentistas devem estar bem informados sobre o custo desses produtos ao prescrevê-los a seus pacientes.

- (A) resenha.
- (B) crítico.
- (C) informativo.
- (D) indicativo.
- (E) comunicativo.

- 51.** Sobre a indexação de assuntos para processamento técnico da informação, pode-se afirmar:
- (A) envolve três etapas principais: análise conceitual, tradução e revisão.
 - (B) deve ser realizada visando atender às necessidades definidas em uma política preestabelecida.
 - (C) implica em tomada de decisão somente quanto ao que é tratado no documento.
 - (D) existe um conjunto correto de termos para indexar determinado documento.
 - (E) uma mesma publicação será indexada da mesma forma em centros de informação diferentes.
- 52.** A representação documentária é fundamental para a circulação e disseminação da informação, pois
- (A) inclui a representação de conteúdo realizada por paráfrase para o processo de indexação, modificando o sistema de significação a que pertence.
 - (B) utiliza o processo de elaboração de índices automáticos desenvolvidos a partir de sistemas de significação externos aos documentos.
 - (C) permite a recuperação da informação de forma eficiente, mesmo sem a correspondência entre as informações textuais e suas representações.
 - (D) exclui a representação de conteúdo realizada por paráfrase para o processo de elaboração de resumos que devem ser automatizados.
 - (E) inclui a representação descritiva, gerando uma referência bibliográfica, e a representação de conteúdo por meio de índices e resumos.
- 53.** Para a recuperação da informação, o processo de referência é vital e envolve etapas decisórias na sequência lógica:
- (A) necessidade de informação, problema, questão inicial, questão negociada, estratégia de busca, processo de busca, solução e resposta.
 - (B) necessidade de informação, problema, questão inicial, questão negociada, processo de busca, estratégia de busca, resposta e solução.
 - (C) problema, necessidade de informação, questão inicial, questão negociada, estratégia de busca, processo de busca, resposta e solução.
 - (D) problema, questão inicial, necessidade de informação, questão negociada, processo de busca, estratégia de busca, solução e resposta.
 - (E) necessidade de informação, problema, questão inicial, estratégia de busca, questão negociada, processo de busca, resposta e solução.
- 54.** Sobre o Serviço de Referência, pode-se afirmar que
- (A) nasce no início do século XX na Europa devido ao surgimento de elementos subjacentes a elaboração de bibliografias especializadas.
 - (B) presta um serviço à comunidade disponibilizando os recursos de informação que possui, ajudando no acesso à informação.
 - (C) mede o acesso à informação, relaciona todas as solicitações aos recursos existentes e adquire novos documentos para o acervo.
 - (D) equivale à função de referência sendo, indistintamente, definido como ação e objeto de atividades exercidas no atendimento e no processamento.
 - (E) oferece uma função organizada de resposta comunitária a um pedido implícito de informação documentária ou de documentos.
- 55.** No atendimento realizado em uma biblioteca especializada, podem predominar perguntas
- (A) de caráter administrativo e de orientação espacial, como horário, serviços, localização, que exigem conhecimentos específicos e devem ser respondidas por bibliotecários.
 - (B) de localização de fatos ou dados que exigem o fornecimento de informações específicas e que correspondem a maior parte do atendimento, podendo ser evitadas com sinalização adequada e eficaz.
 - (C) sobre autor/título para localizar determinada obra na biblioteca que exigem atendimento pessoal e devem ser respondidas por meio de pesquisas detalhadas com estratégias de busca complexas.
 - (D) de pesquisa com pedidos específicos que exigem atendimento personalizado e uma pesquisa exaustiva com estratégia de busca detalhada para serem satisfeitas convenientemente.
 - (E) de localização de material que incidem sobre um tema ou assunto de interesse e exigem atendimento individualizado sem permitir autoatendimento por meio do catálogo da biblioteca.

56. O estudo de usuário tem por principal objetivo auxiliar a gestão do serviço de informação
- (A) na identificação de usuários reais e potenciais do sistema de recuperação, natureza das atividades e demandas informacionais.
 - (B) na definição de questões relativas à gestão de recursos humanos, financeiros e administrativos.
 - (C) no processo de aquisição e recebimento de materiais permanentes, de consumo e de informática.
 - (D) nas atividades de seleção, aquisição e incorporação de materiais impressos e eletrônicos ao acervo.
 - (E) na definição da metodologia de implantação de processos de qualidade e normatização.
57. O compartilhamento do acervo por comutação bibliográfica ou empréstimo entre bibliotecas permite
- (A) aumentar o custo da aquisição e armazenamento dos documentos.
 - (B) diminuir o crescimento da informação produzida no mundo.
 - (C) diminuir o universo de publicações disponíveis aos usuários.
 - (D) diminuir a busca de informações por artigos de periódicos.
 - (E) aumentar o acesso à informação e à pesquisa científica.
58. As fontes de documentação jurídica apresentam características que se relacionam a seu uso, de forma que
- (A) um código é um conjunto de publicações reunidas em um ou mais volumes ou partes, destinado a estudantes.
 - (B) uma coletânea consiste na reunião de documentos organizados, de modo a facilitar o manuseio, destinada ao público leigo.
 - (C) um *vade-mécum* funciona como um código e reúne várias normas legais sendo consultadas por estudantes e profissionais de direito.
 - (D) um tratado de termos jurídicos apresenta seleção de termos e procedimentos jurídicos para leigos da área.
 - (E) um portal de obras jurídicas inclui leis, jurisprudência e processos disponíveis por assinatura destinados ao público leigo.
59. Os serviços de alerta e disseminação da informação que foram desenvolvidos utilizando as tecnologias de informação são:
- (A) e-mail, RSS, blogs e site.
 - (B) boletins eletrônicos, folhetos, feeds e microblogs.
 - (C) boletins bibliográficos, folhetos, RSS e blogs.
 - (D) e-mail, folhetos, boletins bibliográficos e site.
 - (E) boletins bibliográficos, microblogs, feeds e blogs.
60. A legislação que dispõe e regulamenta sobre a profissão de bibliotecário e seu exercício está constituída por:
- (A) Lei Nº 4.084, de 30 de junho de 1962, Lei Nº 7.504, de 2 de junho de 1986, Lei Nº 9.674, de 26 de junho de 1998.
 - (B) Lei Nº 4.084, de 30 de junho de 1962, Decreto Nº 56.725, de 16 de agosto de 1965, Lei Nº 7.504, de 2 de junho de 1986, Lei Nº 9.674, de 26 de junho de 1998.
 - (C) Lei Nº 7.504, de 2 de junho de 1986, Lei Nº 9.674, de 26 de junho de 1998, Lei Nº 10.753, de 30 de outubro de 2003.
 - (D) Lei Nº 7.504, de 2 de junho de 1986, Lei Nº 9.674, de 26 de junho de 1998, Lei Nº 10.753, de 30 de outubro de 2003, Lei Nº 12.244, de 24 de maio de 2010.
 - (E) Decreto Nº 56.725, de 16 de agosto de 1965, Lei Nº 7.504, de 2 de junho de 1986, Lei Nº 9.674, de 26 de junho de 1998, Lei Nº 12.244, de 24 de maio de 2010.

