

REGIME PRÓPRIO DE PREVIDÊNCIA DE LEME  
**LEMEPREV**  
ESTADO DE SÃO PAULO

**CONCURSO PÚBLICO**  
**EDITAL N° 001/2012**



**Procurador**

**MANHÃ**

Organizador:



**CARGO: PROCURADOR**

Texto

**Haverá limite para a Internet?**

Durante milênios convivemos com a convicção de que não haveria limites para a atividade humana, seja quanto ao uso de recursos e serviços naturais, seja de energia, de praticamente tudo. O tempo encarregou-se de mostrar o contrário – com os limites na área dos recursos hídricos acentuados pelo crescimento da população; com o uso de combustíveis fósseis detonando a questão das mudanças do clima; com a insustentabilidade dos atuais padrões de produção e consumo, além da capacidade de reposição do planeta. Agora, mais alguns limites se esboçam no horizonte para a fabricação e uso de computadores, por causa do consumo de energia; da emissão de gases em razão do seu uso; da sobrecarga em vários tipos de utilização, que ameaça até com um “apagão planetário”; e da geração de lixo tecnológico.

Estudo recente do pesquisador *Jonathan Kooney*, do *Lawrence Berkeley National Laboratory*, na Califórnia, mostrou que o consumo de energia pelos computadores no mundo todo mais do que dobrou entre 2000 e 2005; passou de 29 bilhões de *kilowatts-hora* (kWh) para 61 bilhões de kWh; nos EUA, subiu de 12,5 bilhões de kWh para 24 bilhões de kWh. Outro estudo, do *Global Action Plan*, situa as emissões de gases poluentes geradas pelas tecnologias de informação e comunicação no mesmo nível das emissões feitas pelo transporte aéreo no mundo, 2% do total.

São números que começam a preocupar a própria indústria de produção de equipamentos nessas áreas. Uma semana depois da divulgação do último relatório, as principais produtoras desses equipamentos no mundo criaram um sistema conjunto para aumentar a eficiência de *hardwares* e *softwares*. Pensam em novas formas de suprimento de energia, talvez a solar, em substituição do tipo de corrente nos centros armazenadores de informações e em disseminar informações que advirtam sobre os problemas de estocagem ilimitada de informações, imagens ou som. A IBM, uma das maiores interessadas na questão, está investindo US\$ 1 bilhão no projeto *Big Green*, segundo a revista *New Scientist*, para dobrar a capacidade de processamento de *data centers* sem aumentar o consumo de energia. (...)

Em vários pontos do mundo, especialistas começam a perguntar se também haverá um limite de utilização para a Internet, se poderá haver um “apagão” geral no mundo por causa da sobrecarga. (...)

E ainda há o problema do lixo tecnológico (peças e pedaços de computadores, pilhas, baterias), já tão grave que a própria ONU criou para ele um programa denominado *Solving the E-waste Program* (SEP), com diretrizes mundiais que apontam caminhos para ampliar a vida dos componentes e promover a reciclagem. No Brasil, para pilhas e baterias já existe uma Resolução (nº 257) do Conselho Nacional do Meio Ambiente, que determina a entrega de pilhas e baterias que contenham cádmio, chumbo, mercúrio e seus compostos, bem como produtos eletroeletrônicos que as incluam, aos estabelecimentos que os comercializem ou à rede de assistência técnica das respectivas indústrias, para que repassem aos fabricantes ou importadores, que deverão reutilizá-los, reciclá-los ou lhes dar destinação final adequada.

Mas o cumprimento ainda é escasso, mesmo com o crescimento acelerado da produção de lixo tecnológico.

(*Washington Novaes. O Estado de S. Paulo, 15 fev. 2008. Com adaptações*)

**01**

**De acordo com o contexto em que são empregadas, as palavras adquirem significado diverso. No texto, o significado do termo em destaque está corretamente indicado em**

- A) “... a convicção de que não haveria limites...” / presunção
- B) “... com a insustentabilidade dos atuais padrões...” / escassez
- C) “... alguns limites se esboçam no horizonte...” / esfacelam
- D) “... disseminar informações que advirtam sobre os problemas...” / propalar
- E) “... diretrizes mundiais que apontam caminhos...” / paradoxos

**02**

**De acordo com as características textuais apresentadas, o texto tem como principal objetivo**

- A) expor um assunto de forma sucinta.
- B) persuadir o leitor acerca do uso da tecnologia.
- C) alertar sobre os diversos problemas ambientais.
- D) informar seu interlocutor sobre o uso da Internet.
- E) descrever situações de uso consciente da tecnologia.

03

O termo em destaque que introduz o trecho “... segundo a revista *New Scientist*, para dobrar a capacidade de processamento de data *centers* sem aumentar o consumo de energia.” tem preservada a correção semântica quando substituído por

- A) como.                      B) assim.                      C) quando.                      D) conforme.                      E) porquanto.

04

Dentre os termos grifados a seguir, assinale aquele que possui classificação sintática diferente dos demais.

- A) “O tempo encarregou-se de mostrar o contrário...”  
B) “... com os limites na área dos recursos hídricos acentuados...”  
C) “... com o uso de combustíveis fósseis detonando a questão das mudanças do clima;...”  
D) “Agora, mais alguns limites se esboçam no horizonte...”  
E) “... que ameaça até com um ‘apagão planetário’;...”

05

O último parágrafo do texto inicia-se com uma ideia que, relacionada ao parágrafo anterior, estabelece uma relação de

- A) confirmação.                      B) negação.                      C) oposição.                      D) conclusão.                      E) explicação.

06

Analise as afirmativas de acordo com o trecho a seguir.

“... para que repassem aos fabricantes ou importadores, que deverão reutilizá-los, reciclá-los ou lhes dar destinação final adequada.”

- I. A locução “para que” introduz uma ideia que denota finalidade.  
II. Tendo em vista a classificação sintática de “aos fabricantes” tal elemento pode ser substituído por “- los”.  
III. A mudança do pronome oblíquo “-los” para “-lhes” ocorre devido à exigência da regência verbal.

Está(ão) correta(s) apenas a(s) afirmativa(s)

- A) I, II                      B) I, III                      C) II, III                      D) II                      E) III

07

Dentre os trechos destacados, é apresentada uma opinião em

- A) “... o consumo de energia pelos computadores no mundo todo mais do que dobrou...”  
B) “... criaram um sistema conjunto para aumentar a eficiência de *hardwares* e *softwares*.”  
C) “... criou para ele um programa denominado *Solving the E-waste Program* (SEP)...”  
D) “No Brasil, para pilhas e baterias já existe uma Resolução (nº 257)...”  
E) “... o cumprimento ainda é escasso, mesmo com o crescimento acelerado...”

08

De acordo com a tipologia textual apresentada e suas estruturas linguísticas, no texto ocorre o predomínio da linguagem

- A) coloquial.                      B) formal.                      C) poética.                      D) técnica.                      E) metafórica.

09

A partir da argumentação construída pelo autor, caracteriza-se como tese defendida no texto a

- A) construção de uma nova rede social, com maior alcance.                      D) indiferença quanto ao uso da Internet.  
B) necessidade do uso sustentável da tecnologia.                      E) contestação da necessidade do uso da Internet.  
C) renúncia do uso da Internet e demais tecnologias.

10

No trecho “O tempo encarregou-se de mostrar o contrário...”, se o sujeito fosse substituído por “nós”, realizando as demais alterações necessárias, a forma verbal destacada seria substituída por


- A) encarregamos.                      D) encarregaria.  
B) encarregaríamos.                      E) encarregaste.  
C) encarregássemos.

**RACIOCÍNIO LÓGICO**






**11**  
 Numa caixa encontram-se pregos e parafusos, totalizando 62 unidades. Considere que o dobro do número de pregos mais a metade do número de parafusos é igual a 64. Pode-se concluir que na caixa encontram-se  
 A) 18 parafusos a mais que pregos. D) mais de 25 pregos.  
 B) 12 pregos a mais que parafusos. E) menos de 38 parafusos.  
 C) um número ímpar de pregos.

**12**  
 Uma palavra em que todas as letras são distintas apresenta 5.040 anagramas. Se uma das sílabas dessa palavra possui 3 letras, então as demais sílabas totalizam  
 A) 5 letras. B) 4 letras. C) 6 letras. D) 7 letras. E) 8 letras.

**13**  
 Sobre uma mesa encontram-se 3 objetos: uma caixa, uma esfera e uma placa. Esses objetos são constituídos de materiais e cores diferentes. Considere que  
 • ou a esfera é de madeira ou a caixa não é de metal;  
 • o objeto de isopor é vermelho e o objeto de metal não é azul;  
 • nem a placa é de isopor, nem a esfera é de madeira;  
 • a esfera não é amarela e a caixa é azul.  
 Os objetos de isopor, metal e madeira são, respectivamente,  
 A) placa, caixa, esfera. D) caixa, placa, esfera.  
 B) placa, esfera, caixa. E) esfera, caixa, placa.  
 C) esfera, placa, caixa.

**14**  
 Observe a sequência de figuras.  


Na representação da metade do número 5.296 pelos símbolos anteriores, qual NÃO será utilizado?

A)  B)  C)  D)  E) 

**15**  
 Num grupo de 38 pessoas, 21 têm 1,75 m de altura ou menos, e n pessoas têm 1,70 m ou mais. Se o número de pessoas que têm mais 1,70 m e menos de 1,75 m é igual a 9, então o valor de n é  
 A) 23. B) 24. C) 25. D) 26. E) 27.

**16**  
 Num recipiente de 0,3 kg com capacidade para 2 litros foi colocado um líquido que ocupou 3/5 de sua capacidade. Se o conjunto líquido mais recipiente totaliza 1,32 kg, então a densidade do líquido é  
 A) 0,85 kg/litro. B) 0,80 kg/litro. C) 0,95 kg/litro. D) 0,90 kg/litro. E) 0,75 kg/litro.

**17**  
 Marcelo pratica natação 3 vezes na semana, somente nas segundas, quintas e sábados. Num certo mês de 30 dias, ele praticou natação nos dias 14 e 18. No mês posterior ao citado, Marcelo praticou natação no dia  
 A) 1º. B) 11. C) 19. D) 24. E) 29.

**18**

**A soma de 4 números consecutivos é igual a 4.002. O menor desses números**

- A) é par e um de seus algarismos é 9. D) tem 3 algarismos iguais.  
B) tem apenas dois algarismos iguais. E) tem três algarismos diferentes.  
C) é ímpar e um de seus algarismos é 8.

**19**

**O triplo de um número somado com a metade de seu antecessor é igual a 178. A soma dos algarismos do número considerado é**

- A) 7. B) 9. C) 5. D) 8. E) 6.

**20**

**No lançamento simultâneo de 1 dado e 3 moedas de valores diferentes, qual a probabilidade de se obter um número maior que 4 e pelo menos 2 caras?**

- A) 1/6 B) 1/5 C) 1/8 D) 1/3 E) 1/4

### **CONHECIMENTOS ESPECÍFICOS**

**21**

**Sobre as regras do sistema tributário nacional previstas na Constituição Federal de 1988, assinale a alternativa correta.**

- A) Cabe à lei ordinária regular as limitações constitucionais ao poder de tributar.  
B) Compete à União, em Território Federal, os impostos estaduais e, se o Território for dividido em Municípios, cumulativamente, os impostos municipais.  
C) A União, mediante lei ordinária, poderá instituir empréstimos compulsórios.  
D) É defeso à União, aos Estados, ao Distrito Federal e aos Municípios instituir impostos sobre patrimônio, renda ou serviços, uns dos outros.  
E) É permitido à União instituir isenções de tributos da competência dos Estados.

**22**

**Tendo como base as normas sobre seguridade social previstas na Constituição Federal de 1988, é correto afirmar que**

- A) as receitas dos Estados, do Distrito Federal e dos Municípios destinadas à seguridade social constarão dos respectivos orçamentos, não integrando o orçamento da União.  
B) a pessoa jurídica em débito com o sistema da seguridade social poderá receber benefícios ou incentivos fiscais.  
C) a lei não poderá instituir outras fontes destinadas a garantir a manutenção ou expansão da seguridade social.  
D) a proposta de orçamento da seguridade social será elaborada de forma independente e isolada pelos órgãos responsáveis pela saúde, previdência social e assistência social.  
E) é inadmissível a isenção da contribuição para a seguridade social pelas entidades beneficentes de assistência social.

**23**

**A Lei nº 8.212/91 dispõe sobre a organização da Seguridade Social, institui Plano de Custeio, e dá outras providências. Tomando como base as regras contidas nessa lei sobre a prova de inexistência de débito, assinale a alternativa correta.**

- A) O prazo de validade da Certidão Negativa de Débito (CND) é de trinta dias, contados da sua emissão, podendo ser ampliado por regulamento para até cento e oitenta dias.  
B) Não é exigida Certidão Negativa de Débito (CND) da empresa na contratação com o Poder Público e no recebimento de benefícios ou incentivo fiscal ou creditício concedido por ele.  
C) A prova de inexistência de débito deve ser exigida da empresa em relação a todas as suas dependências, estabelecimentos e obras de construção civil, independentemente do local onde se encontrem.  
D) A prova de inexistência de débito, quando exigível ao incorporador, depende da apresentada no registro de imóveis por ocasião da inscrição do memorial de incorporação.  
E) Depende de prova de inexistência de débito a lavratura ou assinatura de instrumento, ato ou contrato que constitua retificação, ratificação ou efetivação de outro anterior para o qual já foi feita a prova.

**24**

**Novação é o negócio jurídico por meio do qual se cria uma nova obrigação, com o objetivo precípuo de extinguir obrigação anterior. Com base no Código Civil Brasileiro, assinale a alternativa correta sobre o referido instituto.**

- A) A novação por substituição do devedor depende do consentimento deste.
- B) Não importa exoneração do fiador a novação feita sem seu consentimento com o devedor principal.
- C) A novação sempre extingue os acessórios e garantias da dívida.
- D) Podem ser objeto de novação obrigações nulas ou extintas.
- E) Operada a novação entre o credor e um dos devedores solidários, somente sobre os bens do que contrair a nova obrigação subsistem as preferências e garantias do crédito novado.

**25**

**Wilson, empresário, 30 anos, casou-se com Marta, doméstica, 28 anos de idade, em 01/01/2012. Antes da celebração do casamento não realizaram qualquer pacto antenupcial. Sobre o regime de bens existente entre eles, assinale a alternativa correta.**

- A) O regime de bens adotado será o da separação de bens.
- B) Cada cônjuge dependerá da autorização um do outro para comprar as coisas necessárias à economia doméstica.
- C) É admissível alteração do regime de bens, mediante autorização judicial em pedido motivado de ambos os cônjuges.
- D) As dívidas contraídas para a aquisição de coisas necessárias à economia doméstica obriga apenas o cônjuge que a fez.
- E) O regime de bens entre os cônjuges começará a vigorar na data seguinte a do casamento.

**26**

**Sobre a recuperação judicial prevista na Lei nº 11.101/2005 (Lei que regula a recuperação judicial, a extrajudicial e a falência do empresário e da sociedade empresária), assinale a alternativa correta.**

- A) O devedor que, no momento do pedido, exerça regularmente suas atividades há um ano poderá requerer recuperação judicial.
- B) Estão sujeitos à recuperação judicial todos os créditos existentes na data do pedido, ainda que não vencidos.
- C) Não constitui meio de recuperação judicial a alteração do controle societário.
- D) Não constitui meio de recuperação judicial o aumento de capital social.
- E) Na alienação de bem objeto de garantia real, a supressão da garantia ou sua substituição poderá ocorrer sem a aprovação expressa do credor titular da respectiva garantia.

**27**

**O Código de Processo Civil (Lei nº 5.869/73) descreve as regras e casos em que pode haver a modificação da competência. Com base em tais regras, é correto afirmar que**

- A) a incompetência relativa deve ser arguida em sede de preliminar de contestação.
- B) se o conhecimento da lide depender necessariamente da verificação da existência de fato delituoso, pode o juiz cível mandar sobrestar no andamento do processo até que se pronuncie a justiça criminal.
- C) dá-se a conexão entre duas ou mais ações sempre que há identidade quanto às partes e à causa de pedir, mas o objeto de uma, por ser mais amplo, abrange o das outras.
- D) a competência em razão da matéria e da hierarquia é derogável por convenção das partes.
- E) havendo apenas conexão, o juiz, de ofício ou a requerimento de qualquer das partes, pode ordenar a reunião de ações propostas em separado, a fim de que sejam decididas simultaneamente.

**28**

**“\_\_\_\_\_ é a modalidade de licitação entre quaisquer interessados para escolha de trabalho técnico, científico ou artístico, mediante a instituição de prêmios ou remuneração aos vencedores, conforme critérios constantes de edital publicado na imprensa oficial com antecedência mínima de quarenta e cinco dias.” Assinale a alternativa que completa corretamente a afirmativa anterior.**

- A) Tomada de preços
- B) Leilão
- C) Concorrência
- D) Convite
- E) Concurso

29

A LEMEPREV teve direito líquido e certo, não amparado por *habeas corpus* ou *habeas data*, ilegalmente violado por autoridade pública e impetrou mandado de segurança com pedido de liminar em face da autoridade coatora. Tomando com base as regras legais para a propositura da referida ação, assinale a alternativa correta.

- A) Havendo o deferimento do pedido liminar, cessa a prioridade do feito, não havendo mais urgência no julgamento do mesmo.
- B) O direito de requerer mandado de segurança extingue-se à decorridos noventa dias, contados da ciência, pelo interessado, do ato impugnado.
- C) A autoridade coatora não possui o direito de recorrer, mas apenas de prestar as informações que desejar após ser notificada.
- D) Nos casos de competência originária dos tribunais, caberá ao relator a instrução do processo.
- E) Concedida a segurança, a sentença não estará sujeita obrigatoriamente ao duplo grau de jurisdição.

30

O Fundo de Garantia por Tempo de Serviço (FGTS) pode ser entendido como um depósito destinado a formar uma poupança para o trabalhador, que poderá ser sacada nas hipóteses previstas em lei. Sobre o FGTS, é correto afirmar que

- A) a contribuição para o Fundo de Garantia do Tempo de Serviço incide sobre a remuneração mensal devida ao empregado, inclusive horas extras e adicionais eventuais.
- B) o pagamento relativo ao período de aviso prévio, trabalhado ou não, não está sujeito a contribuição para o FGTS.
- C) é vintenária a prescrição do direito de reclamar contra o não-recolhimento da contribuição para o FGTS, observado o prazo de dois anos após o término do contrato de trabalho.
- D) o recolhimento do FGTS é obrigatório para todos os tipos de empregados, não havendo opção ao empregador seja qual for empregado que contrate.
- E) o FGTS não incide sobre o 13º salário.

### CONHECIMENTOS GERAIS

31

Atualmente suspensos, dois projetos de lei norte-americanos popularmente conhecidos como “Sopa” e “Pipa” (abreviação de seus nomes) causaram polêmica e repercussão internacional, provocando protestos de ativistas e contra-ataque de corporações gigantes, como *Google* e *Wikipedia*. É correto afirmar que as propostas

- A) ampliam os instrumentos e ações legais, para que os detentores de direitos autorais e intelectuais possam combater o tráfico de propriedade protegida e artigos falsificados na Internet.
- B) criminalizam o aborto em todos os casos de forma a impedir inclusive que mulheres vítimas de estupro possam fazer uso desta prática, abrindo exceção apenas nos casos de fetos anencefálicos.
- C) descriminalizam o uso da maconha, que passa a ser utilizada principalmente como medicamento no tratamento contra o câncer, podendo ser comercializada em farmácias norte-americanas.
- D) fortalecem a proteção do mercado interno norte-americano, criando novos subsídios aos produtos ou serviços locais, contrariando os tratados e regulamentações da Organização Mundial do Comércio.
- E) proíbem o uso da Internet em locais públicos e/ou coletivos, restringindo seu acesso a estabelecimentos privativos que possuem mecanismos de controle adequados ou de forma particular e residencial.

32

O oceano que ocupa maior área em quilômetros quadrados no planeta é

- A) Antártico.
- B) Ártico.
- C) Atlântico.
- D) Índico.
- E) Pacífico.

33

O final do século XX foi marcado por mudanças significativas na geopolítica mundial, a saber

- A) crescimento acelerado da China, tornando-se a segunda mais rica nação do planeta.
- B) transformação da Comunidade Econômica Europeia em União Europeia.
- C) fim da Guerra Fria com a extinção da União Soviética – URSS.
- D) predomínio do capitalismo com a supremacia de uma única superpotência: EUA.
- E) unificação da Alemanha, com extermínio do regime comunista na região oriental.



34

O Supremo Tribunal Federal se manifestou nos últimos anos sobre diversos assuntos controversos, realizando julgamentos que se tornaram históricos por tratarem de temas que, geralmente envolvem toda a sociedade. Sobre o STF é correto afirmar que

- I. abriu ação contra 40 suspeitos em envolvimento num esquema de corrupção que ficou conhecido como mensalão, julgando culpados grandes caciques do PT, como José Dirceu e José Genuíno.
- II. liberou a utilização de células-tronco embrionárias “inviáveis ou congelados há mais de três anos” em pesquisas no Brasil.
- III. classificou a Marcha da Maconha como uma manifestação legal e garantida pelo direito de livre expressão do pensamento.
- IV. decidiu pela extradição do ex-ativista de esquerda *Cesare Battisti* para a Itália, contrariando a decisão do presidente Luiz Inácio Lula da Silva.

Estão corretas apenas as afirmativas

- A) I, II                      B) III, IV                      C) II, III                      D) I, II, IV                      E) II, III, IV

35

Sobre as resoluções do Supremo Tribunal Federal, marque V para as afirmativas verdadeiras e F para as falsas. Foram decisões do STF que despertaram polêmica e chamaram a atenção da opinião pública


- ( ) decidiu que não é mais crime o aborto de fetos anencéfalos no Brasil.  
 ( ) determinou o julgamento de agentes do Estado acusados de tortura no período militar.  
 ( ) reconheceu a ilegalidade da reserva Raposa Serra do Sol, garantindo-a aos fazendeiros.  
 ( ) suspendeu a Lei de Imprensa e a exigência de diploma para o exercício do jornalismo.

A sequência está correta em

- A) F, F, V, V                      B) F, V, V, F                      C) V, F, V, F                      D) V, V, F, F                      E) V, F, F, V

36

Sobre os principais candidatos à presidência da França para as eleições de 2012, é correto afirmar que



(<http://oglobo.globo.com/infograficos/eleicaoofranca/>)

- I. *Marine Le Pen* teve votação surpreendente no primeiro turno, ficando em terceiro lugar com um forte discurso de combate à imigração ilegal.
- II. *François Holland*, líder no primeiro turno de votação, comprometeu-se em retirar as tropas francesas do Afeganistão ainda este ano, se eleito.
- III. atual presidente da França, *Nicolas Sarkozy*, foi vencedor nos dois turnos com a defesa da regulamentação da imigração na França.
- IV. *Jean-Luc Mélenchon*, candidato apoiado pelo ex-diretor do FMI *Dominique Strauss-Kahn*, era favorito e foi prejudicado pelo escândalo envolvendo seu principal apoiador.

Estão corretas apenas as afirmativas

- A) I, II                      B) III, IV                      C) II, III                      D) I, II, IV                      E) II, III, IV

37

Com cerca de dez anos de existência, a moeda Euro ainda não foi adotada por todos os países membros da União Europeia, entre eles

- A) Alemanha e Espanha.                      D) Itália e Grécia.  
 B) Bélgica e França.                      E) Reino Unido e Dinamarca.  
 C) Holanda e Portugal.



**Leia o texto e responda as questões de 38 a 40.**

Operários da Usina de Belo Monte, em Altamira (PA), iniciaram nesta segunda-feira (23) uma paralisação por melhores condições de trabalho. O ato é pacífico. A categoria fechou o principal acesso aos cinco canteiros de obras da usina, no km 27 da Rodovia Transamazônica. O estado de greve dos trabalhadores começou na última quinta-feira. Eles querem aumento do valor da cesta básica, que hoje é de R\$ 95, e a diminuição do intervalo entre os períodos de folga. Hoje, os trabalhadores têm direito a sair para ver a família de seis em seis meses.

(<http://g1.globo.com/pa/para/noticia/2012/04/trabalhadores-param-atividades-nos-canteiros-de-belo-monte.html>)

**38**

**Em que importante via fluvial está sendo construída a Usina de Belo Monte?**

- A) Amazonas.                      B) Araguaia.                      C) Negro.                      D) Solimões.                      E) Xingu.

**39**

**Após sua conclusão e ativação, a Usina de Belo Monte será a terceira maior do mundo e segunda maior da América, ficando no continente atrás apenas da usina hidroelétrica de**

- A) *Churchill Falls* (Canadá).                      D) Itaipu (Brasil e Paraguai).  
B) *Grand Coulee* (EUA).                      E) *La Grande 2* (Canadá).  
C) *Guri* (Venezuela).

**40**

**Dois grandes nomes do cinema internacional, diretor e atriz *hollywoodianos*, estiveram no Brasil, para se manifestarem contra a construção desta usina. São eles**

- A) *Christopher Nolan* e *Cameron Dias*.                      D) *Steven Spielberg* e *Maryl Streep*.  
B) *James Cameron* e *Sigourney Weaver*.                      E) *Woody Allen* e *Diane Keaton*.  
C) *Martin Scorsese* e *Reese Witherspoon*.

## INSTRUÇÕES

1. Material a ser utilizado: caneta esferográfica azul ou preta. Os objetos restantes devem ser colocados em local indicado pelo fiscal da sala, inclusive aparelho celular desligado e devidamente identificado com etiqueta.
2. Não é permitido consulta, utilização de livros, códigos, dicionários, apontamentos, apostilas, calculadoras e etc. Não é permitido ao candidato ingressar na sala de provas sem a respectiva identificação e o devido recolhimento de telefone celular, bip e outros aparelhos eletrônicos.
3. Durante a prova, o candidato não deve levantar-se, comunicar-se com outros candidatos e nem fumar.
4. A duração da prova é de 03 (três) horas, já incluindo o tempo destinado à entrega do Caderno de Provas e à identificação – que será feita no decorrer da prova – e ao preenchimento do Cartão de Respostas (Gabarito).
5. Somente em caso de urgência pedir ao fiscal para ir ao sanitário, devendo no percurso permanecer absolutamente calado, podendo antes e depois da entrada sofrer revista através de detector de metais. Ao sair da sala no término da prova, o candidato não poderá utilizar o sanitário. Caso ocorra uma emergência, o fiscal deverá ser comunicado.
6. O Caderno de Provas consta de 40 (quarenta) questões de múltipla escolha. Leia-o atentamente.
7. **As questões das provas objetivas são do tipo múltipla escolha, com 05 (cinco) opções (A a E) e uma única resposta correta.**
8. Ao receber o material de realização das provas, o candidato deverá conferir atentamente se o Caderno de Provas corresponde ao cargo a que está concorrendo, bem como se os dados constantes no Cartão de Respostas (Gabarito) que lhe foi fornecido, estão corretos. Caso os dados estejam incorretos, ou o material esteja incompleto ou tenha qualquer imperfeição, o candidato deverá informar tal ocorrência ao fiscal.
9. Os fiscais não estão autorizados a emitir opinião e prestar esclarecimentos sobre o conteúdo das provas. Cabe única e exclusivamente ao candidato interpretar e decidir.
10. O candidato poderá retirar-se do local de provas somente a partir dos 90 (noventa) minutos após o início de sua realização, contudo não poderá levar consigo o Caderno de Provas, somente sendo permitida essa conduta apenas no decurso dos últimos 30 (trinta) minutos anteriores ao horário previsto para o seu término.
11. Os 3 (três) últimos candidatos de cada sala somente poderão sair juntos. Caso o candidato insista em sair do local de aplicação da prova, deverá assinar um termo desistindo do Concurso Público e, caso se negue, deverá ser lavrado o Termo de Ocorrência, testemunhado pelos 2 (dois) outros candidatos, pelo fiscal da sala e pelo coordenador da unidade.

## RESULTADOS E RECURSOS

- Os gabaritos oficiais preliminares das provas objetivas serão divulgados na Internet, no site [www.idecan.org.br](http://www.idecan.org.br), às **16h00min do dia subsequente ao da realização da prova escrita.**
- Os recursos deverão ser apresentados, conforme determinado no **item 8 do Edital de Concurso Público nº. 001/2012**, sendo observados os seguintes aspectos:
  - a) O candidato que desejar interpor recursos contra os gabaritos oficiais preliminares das provas objetivas disporá de **02 (dois) dias úteis**, a contar do dia subsequente ao da publicação, em requerimento próprio disponibilizado no *link* correlato ao Concurso Público no *site* [www.idecan.org.br](http://www.idecan.org.br).
  - b) A interposição de recursos poderá ser feita **somente via Internet, através do Sistema Eletrônico de Interposição de Recursos**, com acesso pelo candidato com o fornecimento de dados referentes à sua inscrição, apenas no prazo recursal, ao IDECAN, conforme disposições contidas no site [www.idecan.org.br](http://www.idecan.org.br), no *link* correspondente ao Concurso Público.