



PREFEITURA DA ESTÂNCIA HIDROMINERAL DE POÁ

PROCESSO SELETIVO

008. PROVA OBJETIVA

ASSISTENTE SOCIAL

- ◆ Você recebeu sua folha de respostas e este caderno contendo 60 questões objetivas.
- ◆ Confira seu nome e número de inscrição impressos na capa deste caderno e na folha de respostas.
- ◆ Quando for permitido abrir o caderno, verifique se está completo ou se apresenta imperfeições. Caso haja algum problema, informe ao fiscal da sala.
- ◆ Leia cuidadosamente todas as questões e escolha a resposta que você considera correta.
- ◆ Marque, na folha de respostas, com caneta de tinta azul ou preta, a letra correspondente à alternativa que você escolheu.
- ◆ A duração da prova é de 3 horas e 30 minutos, já incluído o tempo para o preenchimento da folha de respostas.
- ◆ Só será permitida a saída definitiva da sala e do prédio após transcorridos 75% do tempo de duração da prova.
- ◆ Deverão permanecer em cada uma das salas de prova os 3 últimos candidatos, até que o último deles entregue sua prova, assinando termo respectivo.
- ◆ Ao sair, você entregará ao fiscal a folha de respostas e este caderno, podendo levar apenas o rascunho de gabarito, localizado em sua carteira, para futura conferência.
- ◆ Até que você saia do prédio, todas as proibições e orientações continuam válidas.

AGUARDE A ORDEM DO FISCAL PARA ABRIR ESTE CADERNO DE QUESTÕES.

CONHECIMENTOS GERAIS

LÍNGUA PORTUGUESA

Leia o texto de Contardo Calligaris, para responder às questões de números **01** a **06**.

Somos muitos ou somos poucos?

Na sexta passada, imobilizado na av. Nove de Julho enquanto se aproximava a hora da sessão de cinema para a qual tinha adquirido meu ingresso, eu pensava que, decididamente, somos muitos. Em compensação, sozinho, à noite, numa fazenda na região do Urucuia, em Minas Gerais, ou numa ilha de Angra, já me aconteceu de pensar que somos muito poucos.

No fim de semana, li o novo livro de Dan Brown, “Inferno”. O tema da vez é o crescimento demográfico. O vilão da história acha que o mundo tem um único problema sério: a humanidade está crescendo de tal forma que, em breve, sua subsistência se tornará impossível. Todas as inquietações ecológicas (a perspectiva da falta de água potável ou de alimentos, o aquecimento global etc.) seriam, segundo ele, consequências do crescimento enlouquecido de nossa espécie – fadada a desaparecer por seu próprio sucesso.

Quantos humanos nasceram na Terra desde a aparição do homem? Há estimativas para todos os gostos. Segundo uma delas, mencionada no livro, foram 9 bilhões desde o começo, e 7 desses 9 estão vivos hoje.

É certo que o crescimento populacional se acelerou de uma maneira bizarra. Éramos 1 bilhão em 1804, levamos 150 anos para chegarmos a 3 bilhões (nos anos 60), e passamos dos 7 bilhões em 2011. Em 2050 poderíamos ser 10 bilhões.

Enquanto Dan Brown me convencia de que somos muitos, a “Veja” de sábado passado publicou uma matéria de capa sobre as mulheres que decidem não ter filhos. A revista anunciava: “o número de famílias brasileiras sem filhos cresce três vezes mais do que o daquelas com crianças”.

Em geral, quanto mais um povo se desenvolve cultural e economicamente (ou seja, quanto mais um povo se parece com o Ocidente moderno e desenvolvido), tanto menor é o número médio de filhos por família.

Para que a espécie não encolha, é preciso que, em média, haja 2,1 filhos para cada dois adultos – ou seja, se todos casarem, nove em dez casais devem ter dois filhos e um deve ter três. Uma boa metade da população da Terra (incluindo o Brasil) não está fazendo o necessário para repor seus mortos.

Temporariamente, haverá (já está havendo) deslocamento de populações dos lugares menos modernizados e mais pobres (onde a população ainda cresce) para os lugares mais ricos, onde ela diminui. Mas, e depois disso, se todos se “modernizarem”?

Em conclusão, quem tem razão, “Veja” ou Dan Brown? Vamos desaparecer porque estamos crescendo demais? Ou vamos desaparecer por extinção, como os pandas, que deixaram de se reproduzir como deveriam? Não sei.

(Folha de S.Paulo, 30.05.2013. Adaptado)

01. Em seu texto, Contardo Calligaris

- (A) defende a ideia de que todos os problemas que inquietam os ecologistas, atualmente, são consequência do crescimento populacional desordenado.
- (B) contrasta os pontos de vista de “Veja” e de Dan Brown, no livro “Inferno”, acerca do modo como a humanidade poderá desaparecer da Terra.
- (C) demonstra que existe um consenso a respeito do número de pessoas que nasceram desde o surgimento do homem na Terra.
- (D) comenta que não há dúvidas de que os seres humanos serão extintos em virtude da falta de água potável e da escassez de alimentos.
- (E) discute as razões que levaram o número médio de filhos por família a cair vertiginosamente nos países mais pobres nos últimos anos.

02. A leitura do texto permite concluir que, na opinião do autor,

- (A) a percepção da quantidade de pessoas na Terra é relativa, variando com o momento e o lugar em que se considere o assunto.
- (B) o desenvolvimento cultural e econômico das sociedades não tem relação com o crescimento demográfico.
- (C) a população humana, ao longo dos séculos, vem se multiplicando em um ritmo equilibrado, que não acarreta dúvidas acerca da maneira como ela desaparecerá da Terra.
- (D) a redução da taxa de natalidade no Brasil foi responsável pelo crescimento econômico e cultural do país.
- (E) a população da Terra se manterá equilibrada na condição de que as comunidades se comprometam a ter, no máximo, dois filhos por casal.

03. No trecho do primeiro parágrafo – ... já me aconteceu de pensar que somos **muito** poucos. –, o termo **muito** é um advérbio e expressa ideia de intensidade, assim como o termo destacado em:

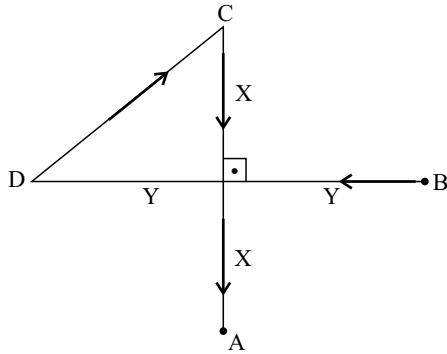
- (A) Sempre há **muito** carro na av. Nove de Julho, por isso aconselhamos usar uma rota alternativa.
- (B) Gosto de sair cedo de casa, pois tenho **muitos** clientes para atender e não posso me atrasar.
- (C) “O código da Vinci”, livro de Dan Brown, fez **muita** gente interessar-se pela obra de Leonardo Da Vinci.
- (D) O novo livro de Dan Brown trata de um tema **muito** interessante: o crescimento demográfico.
- (E) O vilão de “Inferno” acredita que somos **muitos** seres humanos dividindo os recursos da Terra.

04. Na frase do quarto parágrafo – É certo que o crescimento populacional se acelerou de uma maneira **bizarra**. –, o termo em destaque significa
- (A) paulatina.
 - (B) despreziosa.
 - (C) hesitante.
 - (D) incomum.
 - (E) providente.
05. Releia o penúltimo parágrafo:
- Temporariamente, haverá (já está havendo) deslocamento de populações dos lugares menos modernizados e mais pobres (onde a população ainda cresce) para os lugares mais ricos, onde ela diminui. Mas, e depois disso, se todos se “modernizarem”?
- Ao empregar a expressão “**modernizarem**” – entre aspas –, o autor relaciona o sentido de modernizar à ideia de
- (A) inquietações ecológicas.
 - (B) escassez de recursos naturais.
 - (C) redução da população.
 - (D) retrocesso econômico.
 - (E) revolução política.
06. No trecho do último parágrafo – Ou vamos desaparecer **por** extinção, **como** os pandas, que deixaram de se reproduzir **como** deveriam? –, os termos destacados estabelecem, respectivamente, relações de
- (A) finalidade, modo e alternância.
 - (B) consequência, proporção e condição.
 - (C) causa, comparação e modo.
 - (D) condição, finalidade e conformidade.
 - (E) explicação, consequência e comparação.
07. Assinale a alternativa em que a vírgula está empregada corretamente, seguindo a norma-padrão da língua portuguesa.
- (A) O autor, em seu artigo, faz referência a um livro de Dan Brown e a uma matéria da “Veja”.
 - (B) O autor faz em seu artigo, referência a um livro, de Dan Brown, e a uma matéria da “Veja”.
 - (C) Em seu artigo, o autor faz, referência a um livro de Dan Brown, e a uma matéria da “Veja”.
 - (D) O autor faz referência em seu artigo, a um livro de Dan Brown, e a uma matéria da “Veja”.
 - (E) O autor faz, referência a um livro de Dan Brown, e a uma matéria da “Veja”, em seu artigo.
08. A regência da forma verbal destacada segue a norma-padrão da língua portuguesa em:
- (A) O título do livro de que Calligaris **aludiu** no artigo é “Inferno”.
 - (B) Em seu livro, Dan Brown procura **persuadir-nos** de que somos muitos.
 - (C) O vilão da história **argumentou** de que logo a subsistência será impossível.
 - (D) A “Veja” **insinua** de que o número de brasileiros está decrescendo.
 - (E) Calligaris **supõe** de que os humanos desaparecerão de alguma forma.
09. Assinale a alternativa em que a concordância segue a norma-padrão da língua portuguesa.
- (A) A perspectiva da falta de alimentos deixam os ecologistas preocupados.
 - (B) É possível que já tenha nascido mais de nove bilhões de seres humanos.
 - (C) Conforme algumas previsões, deverão haver dez bilhões de pessoas em 2050.
 - (D) As discussões sobre o crescimento demográfico têm se tornado cada vez mais relevante.
 - (E) Segundo a revista “Veja”, um número considerável de brasileiras abriu mão de ter filhos.
10. Assinale a alternativa em que o acento indicativo de crase está empregado corretamente.
- (A) Calligaris se reporta à duas fontes bibliográficas: uma ficcional e outra jornalística.
 - (B) Aparentemente, o livro de Dan Brown parece propenso à levantar polêmica.
 - (C) O autor se volta à uma discussão instigante sobre crescimento demográfico.
 - (D) A escassez generalizada de água potável é uma questão que interessa à todos.
 - (E) É necessário traçar estratégias concretas que levem à preservação da humanidade.

11. Pedro respondeu corretamente à metade do número total de questões de certa prova. Sabe-se que o número de questões que ele errou foi igual a $\frac{3}{4}$ do número de questões que acertou, e que deixou sem resposta duas questões, por falta de tempo. Suponha que ele tivesse respondido de forma correta essas duas questões. Nesse caso, do número total de questões dessa prova, ele teria acertado
- (A) $\frac{3}{5}$
- (B) $\frac{5}{8}$
- (C) $\frac{3}{4}$
- (D) $\frac{4}{5}$
- (E) $\frac{5}{6}$
12. Por causa do Natal, o faturamento do mês de dezembro de certa loja teve um aumento de 25% em relação à média dos demais meses de 2012. Sabendo que a média aritmética dos faturamentos mensais dessa loja durante todo o ano de 2012 foi igual a 1,225 milhão, pode-se afirmar que o faturamento do mês de dezembro foi, em milhão de reais, igual a
- (A) 1,25.
- (B) 1,30.
- (C) 1,40.
- (D) 1,45.
- (E) 1,50.
13. Jonas comprou dois terrenos de formato retangular, cujas áreas somam 720 m^2 . Sabe-se que ambos têm medidas de largura iguais, e que as medidas de comprimento do 1.º e do 2.º terrenos são iguais ao dobro e ao triplo da medida da largura, respectivamente. Nesse caso, é correto afirmar que o perímetro do terreno de maior área é igual, em metros, a
- (A) 96.
- (B) 100.
- (C) 106.
- (D) 110.
- (E) 112.

14. Denise e Beatriz são vendedoras de uma loja e ganham comissão sobre as vendas que efetuam. Sabe-se que, juntas, receberam R\$ 1.908,00 de comissão em junho. Se Denise tivesse recebido R\$ 216,00 a menos, ela teria recebido a metade do que recebeu Beatriz. Nesse mês, o valor da comissão recebida por Beatriz superou o valor de Denise em
- (A) R\$ 320,00.
 - (B) R\$ 348,00.
 - (C) R\$ 440,00.
 - (D) R\$ 448,00.
 - (E) R\$ 580,00.
15. Os investimentos em nova fábrica elevaram a capacidade de produção de certo produto em 40%, adicionando 1,2 milhão de unidades à capacidade instalada anteriormente. Segundo previsões feitas para 2014, se a produção ocupar 90% da nova capacidade instalada, o número de unidades produzidas superará a demanda prevista em 200 000 unidades. Nessas condições, é correto afirmar que a demanda desse produto prevista para 2014 é, em milhões de unidades, igual a
- (A) 3,58.
 - (B) 3,40.
 - (C) 3,25.
 - (D) 2,75.
 - (E) 2,50.
16. Uma torneira com defeito pinga, de maneira uniforme e constante, 5 gotas a cada 30 segundos. Às 8 horas e 30 minutos, um recipiente de formato cúbico, inicialmente vazio, foi colocado para recolher a água proveniente desse vazamento. Às 11 horas e 50 minutos, esse recipiente estava completamente cheio. Se cada gota tem, em média, 0,5 mL, então a medida da aresta interna desse recipiente é, em centímetros, igual a
- (A) 8.
 - (B) 9.
 - (C) 10.
 - (D) 12.
 - (E) 15.
17. Uma encomenda com x unidades de certa peça foi transportada ao cliente em 2 dias, com 5 viagens diárias, utilizando a capacidade máxima de carga do veículo usado para o transporte. O número de dias necessários para transportar integralmente, nas mesmas condições, outra encomenda com $2x$ unidades das mesmas peças, fazendo 4 viagens diárias, é
- (A) 3,5.
 - (B) 4.
 - (C) 4,5.
 - (D) 5.
 - (E) 5,5.

18. Na figura, os pontos A, B, C e D mostram a localização das casas de André, Bruno, Carlos e Daniel, e as distâncias, em linha reta, entre elas. Sabendo que as distâncias, pelos trajetos indicados pelas setas, entre as casas de Daniel e a de Carlos, e a de Carlos e a de André, são iguais a 500 m e 600 m, respectivamente, pode-se concluir que a distância entre a casa de Bruno e a de Daniel é, em metros, igual a



- (A) 1000.
 (B) 900.
 (C) 800.
 (D) 700.
 (E) 600.
19. Para fazer toalhas de mesa para uma festa junina, certa escola comprou uma faixa retangular de tecido cuja medida da largura é igual a $\frac{2}{5}$ da medida do comprimento. Essa faixa deverá ser totalmente recortada em pedaços quadrados iguais e de maior área possível, sem deixar restos. Sabendo que o perímetro da faixa de tecido comprada é igual a 2100 cm, pode-se afirmar que o número de toalhas obtidas foi igual a
- (A) 15.
 (B) 13.
 (C) 12.
 (D) 10.
 (E) 9.
20. Sabendo que a razão entre o volume do cubo A e o volume do cubo B, nessa ordem, é $\frac{8}{27}$, e que a soma das medidas de todas as arestas do cubo B é igual a 18 cm, pode-se afirmar que a soma das medidas de todas as arestas do cubo A é, em centímetros, igual a
- (A) 16.
 (B) 15.
 (C) 14.
 (D) 13.
 (E) 12.

21. Segundo a Fundação Sistema Estadual de Análise de Dados – SEADE, o Índice Paulista de Responsabilidade Social – Dimensão Longevidade, no município de Poá, em 2008, foi igual a 67 e, em 2010, a 64. Em relação à Longevidade, o índice utiliza, atualmente, como um de seus indicadores, o coeficiente de mortalidade infantil que corresponde (para o município, durante os anos referidos)

- (A) à probabilidade de sobrevivência após o nascimento.
- (B) à relação entre o número de óbitos de menores de 1 ano e o número total de óbitos da população.
- (C) à relação entre o número de óbitos de menores de 1 ano e o número de nascidos vivos.
- (D) à relação entre o número de óbitos de menores de 1 mês e o número de nascidos vivos.
- (E) à relação entre nascidos vivos e natimortos.

22. Considere as seguintes medidas:

- alimentação adequada;
- imunização;
- fisioterapia.

Elas são classificadas, respectivamente, como prevenção

- (A) primária, primária e terciária.
- (B) primária, secundária e terciária.
- (C) secundária, primária e terciária.
- (D) terciária, secundária e secundária.
- (E) primária, primária e secundária.

23. O Ministério da Saúde considera como forma prioritária para reorganização da Atenção Básica no Brasil

- (A) a consolidação da estratégia saúde da família.
- (B) a ampliação do número de unidades básicas de saúde.
- (C) a criação de redes matriciais de serviços de baixa, média e alta complexidade.
- (D) a abertura do direito ao exercício da medicina para médicos de outros países.
- (E) o fortalecimento do papel dos gestores municipais de saúde.

24. A Lei Orgânica do Município de Poá estabelece que

- (A) a assistência à saúde é vedada à iniciativa privada, exceto quando expressamente autorizada pelas autoridades municipais competentes.
- (B) quando for do interesse da coletividade é permitida a destinação de recursos públicos para auxílios ou subvenções às instituições privadas com fins lucrativos.
- (C) caberá à rede pública, pelo seu corpo clínico, prestar o atendimento médico para a prática de aborto em casos excludentes de antijuridicidade previstos na legislação penal, respeitando-se as convicções éticas, religiosas e individuais.
- (D) deverá ser assegurado acesso à educação e à informação dos métodos adequados à regulamentação da fertilidade, independentemente das opções individuais.
- (E) compete ao SUS participar da formulação da política, mas não da execução das ações de saneamento básico.

25. Considerando-se as doenças e acidentes relacionados ao trabalho, são de notificação compulsória, no Sinan,

- (A) todos os acidentes de trabalho.
- (B) quaisquer acidentes de trabalho ocorridos em trabalhadoras gestantes.
- (C) as perdas auditivas induzidas pelo ruído, apenas quando exigirem afastamento do trabalho.
- (D) as asma ocupacionais.
- (E) todas as pneumoconioses.

NOCÕES DE INFORMÁTICA

26. Por padrão, o MS-Windows 7, em sua configuração original, armazena um arquivo de extensão JPG, GIF, PNG ou BMP na biblioteca

- (A) Programas.
- (B) Vídeos.
- (C) Músicas.
- (D) Documentos.
- (E) Imagens.

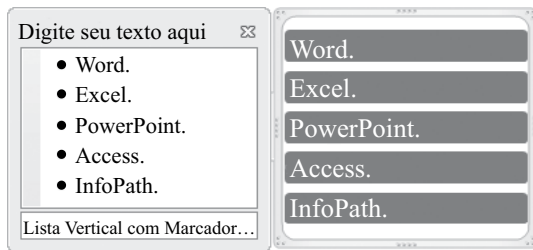
27. Observe a lista com marcadores construída no MS-Word 2010, na sua instalação padrão, exibida na figura I:

Figura I

- ✓ Word.
- ✓ Excel.
- ✓ PowerPoint.
- ✓ Access.
- ✓ InfoPath.

Note que a lista da figura I sofreu alteração, conforme se verifica na figura II:

Figura II



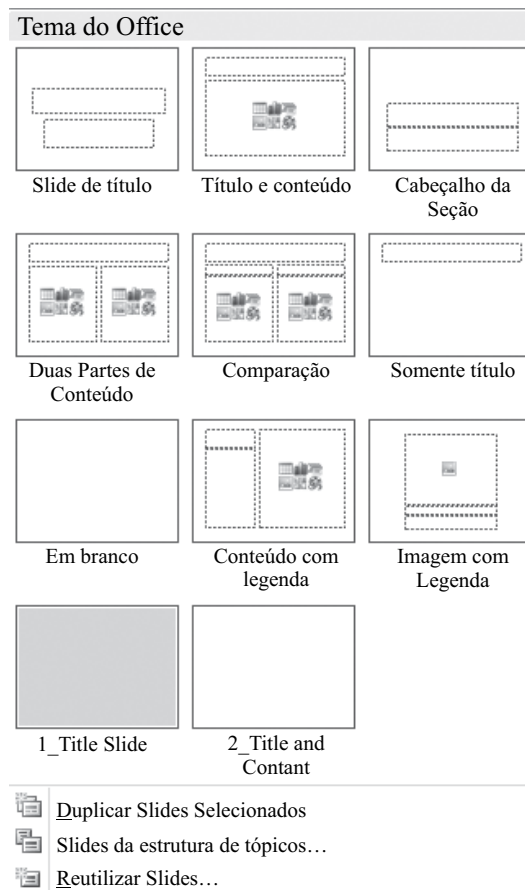
Assinale a alternativa que contém a opção da guia Inserir utilizada para formatar a lista da figura I e deixá-la mais atraente, conforme visualizado na figura II.

- (A) SmartArt.
- (B) WordArt.
- (C) Clip-Art.
- (D) Formas.
- (E) Tabela.

28. Assinale a alternativa correta para a fórmula $=5+3^2*2+8/4-MÉDIA(7;5)$, digitada em uma planilha do MS-Excel 2010, na sua configuração padrão.

- (A) 154
- (B) 124
- (C) 82
- (D) 21,5
- (E) 19

29. Observe o painel do MS-PowerPoint 2010, em sua configuração original, apresentado na figura:



Para se chegar neste painel é necessário utilizar a seguinte opção da guia Página Inicial:

- (A) Estilos de Plano de Fundo ▼
- (B) Organizar ▼
- (C) Novo Slide ▼
- (D) Layout ▼
- (E) Efeitos ▼

30. No Internet Explorer 9, para salvar a página da Web em Favoritos basta pressionar a tecla

- (A) Alt.
- (B) Alt + F.
- (C) Ctrl + F5.
- (D) Ctrl + D.
- (E) Ctrl + J.

CONHECIMENTOS ESPECÍFICOS

31. São várias as tendências de análises e interpretações a respeito da constituição e do desenvolvimento, no Serviço Social brasileiro, sobre sua intervenção e sobre a realidade na qual se move. Importante vertente resultante dos desdobramentos que emergiram no Movimento de Reconceituação, destaca-se a tendência marxista, que remete a profissão à consciência de sua inserção na (o)
- (A) contexto nacional.
 - (B) sociedade de classes.
 - (C) conservadorismo libertador.
 - (D) economia capitalista solidária.
 - (E) âmbito da infraestrutura.
32. No relacionamento que se estabelece entre o Assistente Social e o sujeito, evidencia-se e manifesta-se a apreensão da realidade, cujo significado será buscado dentro daquilo que for sendo manifestado, mas com a preocupação de percebê-la em sua totalidade. E compreender um ato é localizá-lo na totalidade da experiência, com suas conexões e inter-relações. Essa afirmativa expressa uma compreensão da corrente filosófica conhecida como
- (A) positivismo.
 - (B) totalitarismo.
 - (C) estruturalismo.
 - (D) fenomenologia.
 - (E) mecanicismo.
33. São vários os estudiosos que qualificam a prática do Serviço Social de práxis social, ainda que esta se refira à prática social, isto é, ao conjunto da sociedade em seu movimento e contradições. A análise da prática do assistente social como trabalho integrado em um processo de trabalho permite mediatizar a interconexão entre o exercício do Serviço Social e a
- (A) prática da sociedade.
 - (B) demanda natural e mais ampla do usuário.
 - (C) estrutura política partidária dominante.
 - (D) ação interdisciplinar contextualizada.
 - (E) realidade da superestrutura determinante da questão social.
34. Uma interpretação da questão social como elemento constitutivo da relação entre a profissão e a realidade social tem algumas _____. Trata-se de imprimir historicidade a esse conceito, o que significa observar seus nexos causais, relacionados às formas de produção e reprodução sociais capitalistas no capitalismo. Só com uma atitude _____ plena de historicidade é possível compreender as demandas renovadas, complexificadas, transformadas que as _____ da questão social contemporânea colocam para a profissão do assistente social.
- Assinale a alternativa que completa, correta e respectivamente, as lacunas do texto.
- (A) suposições ... propositiva-cidadã ... composições
 - (B) possibilidades ... autônoma-intelectual ... representações
 - (C) diretrizes ... ética-independente ... limitações
 - (D) referências ... investigativa-teórica ... fundamentações
 - (E) implicações ... teórico-metodológica ... expressões
35. A análise das complexas relações entre questão social e direitos coloca em evidência três grandes desafios ao Serviço Social. Em um primeiro aspecto destaca-se o entendimento sobre direito e sua relação com a totalidade da vida social; depois o vínculo entre as lutas pela realização dos direitos e as classes sociais e, por fim, o movimento teórico-ético e político no Serviço Social frente às formas e estratégias de luta
- (A) que priorizam demandas sociais em contextos transitórios.
 - (B) pelo aumento de desigualdades próprias do socialismo tardio.
 - (C) por padrões inclusivos característicos das sociedades de classes.
 - (D) que se destinam a reivindicar direitos.
 - (E) pela manutenção de privilégios às minorias.
36. A questão social se apresenta como um eixo central capaz de articular a gênese das expressões inerentes ao modo de produzir-se e reproduzir-se do capitalismo contemporâneo. Nesse sentido, envolve as mudanças no mundo do trabalho, suas manifestações e expressões concretas na realidade social, as estratégias de seu enfrentamento articuladas pelas classes sociais e o papel do Estado nesse processo, em que se destaca a política social, os direitos sociais e ainda, os desafios postos ao Serviço Social, para seu desvelamento e
- (A) ampliação de propostas comprometidas com o conservadorismo.
 - (B) crescimento na direção da postura conservadora dos profissionais.
 - (C) inserção em processos de trabalho coletivos.
 - (D) retração em um mercado profissional ambíguo.
 - (E) amadurecimento de conteúdos investigativos da realidade.

37. A elaboração de um código de ética não deve ser a prioridade ética de uma profissão, pois não é ele que garante a realização de uma prática profissional comprometida com valores positivos. As escolhas éticas são determinadas pela dialética entre a existência de alternativas morais e sua internalização pelos indivíduos. As escolhas profissionais são marcadas por escolhas anteriores, relativas à nossa individualidade. Isso significa que a ética _____ o código e que a realização objetiva de um compromisso com valores depende, entre outros fatores, do nível de consciência _____ expressa pela categoria profissional.
- Assinale a alternativa que completa, correta e respectivamente, as lacunas do texto.
- (A) limita ... teórico-metodológica
- (B) extrapola ... ético-política
- (C) supera ... instrumental-reflexivo
- (D) condiciona ... técnico-científico
- (E) reduz ... prático-technicista
38. O Capítulo II, do Título VIII da Constituição Federal de 1988, trata da seguridade social no país. No que se refere à saúde, esta é concebida como um direito de todos e dever do Estado. Conforme estabelece o artigo 199 da citada lei, a assistência à saúde é livre à iniciativa
- (A) privada.
- (B) econômica.
- (C) individual.
- (D) humanitária.
- (E) pública.
39. De acordo com previsões contidas na Lei Orgânica de Assistência Social, Lei n.º 8.742 de 1993, LOAS, no artigo 6.º, com redação dada pela Lei n.º 12.435 de 2011, a gestão das ações na área de assistência social fica organizada sob a forma de sistema descentralizado e participativo, denominado Sistema Único de Assistência Social (SUAS), com vários objetivos dentre os quais destaca-se o seguinte:
- (A) excluir a rede privada da prestação de serviços.
- (B) priorizar a classe trabalhadora na operacionalização das ações.
- (C) comprometer eticamente o gestor público na política partidária local.
- (D) definir os níveis de gestão, respeitadas as diversidades regionais e municipais.
- (E) estabelecer conexões em rede para maior alcance das ações.
40. Conforme previsões expressas no artigo 110 do Estatuto da Criança e do Adolescente (ECA), nenhum adolescente será privado de sua liberdade sem o devido processo legal. Essa previsão, em outros termos, significa uma imposição jurídica, que estende os direitos processuais básicos aos adolescentes autores de atos infracionais. Ou seja, acima de tudo, conserva para os adolescentes, sua
- (A) possibilidade de representação.
- (B) autonomia funcional.
- (C) autonomia jurisdicional.
- (D) reincidência criminal.
- (E) identidade enquanto cidadãos.
41. De acordo com o Sistema Único da Assistência Social - SUAS, a proteção social tem por referência o serviço de acompanhamento de grupos sob situação de vulnerabilidade por meio da instalação de unidades públicas estatais, de base territorial, abrangendo um total de famílias/ano, denominadas como
- (A) Núcleos de Atendimento da Assistência Social.
- (B) Centros de Referência da Assistência Social.
- (C) Programas de Proteção da Assistência Social.
- (D) Unidades Básicas de Assistência Social.
- (E) Serviços de Atenção Básica da Assistência Social.
42. Os princípios basilares que fundamentam o Sistema Único da Assistência Social e orientam a oferta de serviços socioassistenciais são a territorialização e a matricialidade sociofamiliar. Em se tratando do princípio da territorialidade, é correto afirmar que o mesmo permite ultrapassar os recortes setoriais que tradicionalmente fragmentaram as atenções da assistência social, propiciando uma ação planejada e integrada que
- (A) responda às situações de vulnerabilidade e risco da população local.
- (B) resgate a exigência de pessoal concursado.
- (C) defina e estruture o trabalho e qualifique os operantes do sistema.
- (D) possibilite a centralidade na organização dos serviços em todo o território nacional.
- (E) estabeleça previamente padrões de serviços e de resultados a serem produzidos/esperados.

43. Conforme previsões contidas na Lei n.º 7.853, de 24 de outubro de 1989, que dispõe sobre o apoio às pessoas portadoras de deficiência, o artigo 5.º estabelece que a intervenção, obrigatoriamente nas ações públicas, coletivas ou individuais, em que se discutam interesses relacionados à deficiência das pessoas é responsabilidade do
- (A) Juiz de Direito.
 (B) Secretário da Assistência Social.
 (C) Ministério Público.
 (D) Delegado de Polícia.
 (E) Conselho de Assistência Social.
44. A partir do século XX, o Estado deixou de ser analisado como mero instrumento de dominação capitalista para ser concebido como o resultado da organização política de uma sociedade de classes na qual há conflito de interesses. Porém, o Estado não é um campo neutro em que impera o interesse geral; constitui-se como uma arena de lutas em que se colocam em disputa os diferentes interesses que revelam a divisão da sociedade em classes e um sistema de dominação política. O Estado expressa a luta entre forças políticas na organização da sociedade. Considerando as políticas públicas como aquelas ações que representam o poder de Estado, pode-se afirmar que elas resultam
- (A) da solidariedade dos governantes.
 (B) do pacto político firmado na sociedade.
 (C) das negociações voltadas ao atendimento de demandas objetivas.
 (D) do necessário balanceamento questão social *versus* questão econômica.
 (E) de articulações políticas que atendam o interesse dos governantes.
45. Apesar de ter um caráter inovador e intencionar compor um sistema de proteção social, a seguridade social no Brasil acabou se caracterizando como um sistema híbrido, que conjuga direitos derivados e dependentes do trabalho (previdência), com direitos de caráter universal (saúde) e direitos seletivos (assistência). Portanto, as diretrizes constitucionais como universalidade na cobertura, uniformidade e equivalência dos benefícios, entre outras, não foram totalmente materializadas e orientaram as políticas sociais de forma bastante diferenciada, de modo que não se instituiu um padrão de seguridade social
- (A) único, interligado e atualizado.
 (B) excelente, com unidade e polarizado.
 (C) homogêneo, integrado e articulado.
 (D) igualitário, qualificado e excludente.
 (E) uniforme, comprometido e antagônico.
46. A formulação de políticas sociais, com as atuais exigências de democratização do espaço público, tende a atravessar o espaço estatal e civil da sociedade brasileira, deixando de ser cada vez mais decisão adstrita ao âmbito da gestão e do poder. Não bastam pronunciamentos políticos gerais e abstratos que afirmem intenções sociais. Cabe, portanto, a gestores e técnicos processar _____, as demandas sociais, dando-lhes vazão e conteúdo no processo de planejamento e gestão, orientando a sua formatação e execução.
- Assinale a alternativa que completa, correta e respectivamente, as lacunas do texto.
- (A) lógica, sensata e processualmente
 (B) com o uso de teorias positivistas, práticas e racionais
 (C) racional, partidária e genericamente
 (D) teórica, política e eticamente
 (E) de forma ética, orgânica e metodicamente
47. No Brasil, o conceito de seguridade social, como política social e como um direito social, data da Constituição de 1988. O texto constitucional define a Seguridade como “conjunto integrado de ações de iniciativa dos poderes públicos e da sociedade, destinadas a assegurar o direito relativo
- (A) à saúde, à previdência e à assistência social”.
 (B) à renda, à cidadania e aos esportes”.
 (C) à assistência privada, ao assistencialismo e à vida pública”.
 (D) à educação, ao saneamento básico e à iniciativa privada”.
 (E) à assistência médica, à previdência privada e à participação social”.
48. As principais inovações no campo democrático advêm das práticas geradas pela sociedade civil que alteram a relação estado-sociedade, ao longo do tempo, e constroem novas formas de agir político, especialmente na esfera pública não-estatal. São várias as novas práticas sociais expressas em novos formatos institucionais, como os conselhos, os fóruns, as assembleias populares, as parcerias. É correto afirmar que, por meio dos conselhos, a sociedade civil exercita o direito de participar da gestão de diferentes políticas públicas, tendo a possibilidade de exercer
- (A) o poder soberano em estados totalitários.
 (B) a cidadania parcial.
 (C) a autoridade da qual é impregnada.
 (D) genericamente o poder local.
 (E) maior controle sobre o Estado.

49. Os Conselhos de Assistência Social podem ser compreendidos como estruturas político-institucionais permanentes, que possuem competências e funções bem definidas que propiciam a participação institucionalizada da sociedade civil na deliberação e no controle da política de assistência social. Foram criados a partir da orientação de alguns princípios democráticos e deliberativos, a saber, o princípio da participação e da
- (A) totalização.
 - (B) emancipação.
 - (C) representação.
 - (D) colaboração.
 - (E) articulação.
50. O Sistema Único de Assistência Social (SUAS) tem como locus estratégico de ação o município e as relações estabelecidas nesse território possibilitam, ou não, a qualificação da gestão dos serviços, programas, projetos e benefícios. O conjunto de atores que ocupam distintas funções no universo dos serviços socioassistenciais, referenciados no SUAS, é cotidianamente desafiado a avançar na direção da consolidação de redes. Assim, a forma como se dão as relações no território necessita ser potencializada, tendo como premissa que para viabilizar a integração dos serviços de origens estatais e privados é condição fundamental
- (A) definir estratégias metodológicas densas.
 - (B) estabelecer a horizontalidade nos fluxos.
 - (C) consolidar ações setorializadas.
 - (D) propor objetivos difusos passíveis de monitoramento.
 - (E) assumir riscos.
51. No Estatuto da Criança e do Adolescente, (ECA), o papel da comunidade na garantia dos direitos é privilegiado. A partir de sua promulgação, uma parte das atribuições que tinha o Poder Judiciário em relação às crianças e aos adolescentes passou a ser responsabilidade dos Conselhos Tutelares, espaço privilegiado de organização comunitária. Entre as atribuições do Conselho Tutelar, prevista no artigo 136 do ECA, destaca-se
- (A) formular auto de flagrante delito.
 - (B) definir medida socioeducativa condizente com o grau do ato infracional.
 - (C) informar ao Juizado da Infância os casos de cometimento de ato infracional.
 - (D) vigiar pais ou responsáveis descumpridores de seus deveres.
 - (E) expedir notificações.
52. Embora a família continue sendo objeto de profundas idealizações, a realidade das mudanças em curso abalam de tal maneira o modelo idealizado que se torna difícil sustentar a ideia de um modelo adequado de família. No que se refere às relações, quem são os parceiros? Que famílias criaram? Como delimitar a família se as relações entre pais e filhos cada vez menos se resumem ao núcleo conjugal? Enfim, a configuração familiar contemporânea comporta uma enorme
- (A) elasticidade.
 - (B) estruturação.
 - (C) uniformidade.
 - (D) padronização.
 - (E) subsidiaridade.
53. As propostas de trabalho com famílias devem priorizar metodologias que lhes permitam sair do lugar solitário que hoje ocupam para um espaço que gere solidariedade e seja facilitador de formas de enfrentamento das condições econômicas, sociais e políticas: um espaço político no qual _____ seja um valor fundante.
- Assinale a alternativa que completa corretamente o texto.
- (A) o poder
 - (B) a hegemonia
 - (C) a ética
 - (D) a fraternidade
 - (E) o amor
54. O Serviço Social afirma-se como especialização do trabalho coletivo, inscrito na divisão sociotécnica do trabalho, ao se constituir como expressão das necessidades históricas, derivadas da prática das classes sociais no ato de _____ seus meios de vida e de trabalho de forma socialmente _____. Assim, seu significado social depende da _____ das relações entre as classes e dessas com o Estado nas sociedades nacionais em quadros conjunturais específicos, no enfrentamento da questão social.
- Assinale a alternativa que completa, correta e respectivamente, as lacunas do texto.
- (A) induzir ... consequente ... riqueza
 - (B) atualizar ... padronizada ... sintonia
 - (C) realizar ... relativizada ... consciência
 - (D) produzir ... determinada ... dinâmica
 - (E) planejar ... pormenorizada ... fragilidade

55. A noção de cidadania, no contexto atual, é inserida nos movimentos sociais como se constituísse em foco do projeto político de tais movimentos. Cidadania, para os movimentos sociais hoje, apresenta-se como objeto de luta e como centralização de saberes, habilidades, e consciência de coletividade. Portanto, no âmbito dos movimentos sociais, a noção de cidadania apresenta-se como projeto político e objeto do seu principal processo
- (A) contínuo.
 - (B) primário.
 - (C) libertador.
 - (D) sociológico.
 - (E) educativo.
56. A vida cotidiana é o espaço da reprodução do trabalho do assistente social. As demandas típicas das instituições rebatem na dinâmica da cotidianidade, ganhando consistência, pois a heterogeneidade, a repetição, a falta de crítica, o imediatismo, a fragmentação, o senso comum, o espontaneísmo são atitudes típicas da vida cotidiana repetidas automaticamente em face da burocracia institucional. Ou seja, a burocracia
- (A) favorece essa dinâmica.
 - (B) imprime caráter permanente ao Serviço Social.
 - (C) determina a concepção ideo-política do perfil do assistente social.
 - (D) expressa aspirações das classes subalternas no capitalismo.
 - (E) prevê estratégias antagônicas de inclusão social.
57. Apenas o campo de atuação e as atividades em si ou a metodologia de trabalho não são elementos suficientes para definir a singularidade do exercício do Serviço Social. Essa definição implica, sobretudo, o desvendamento do papel do Serviço Social na divisão social do trabalho e no processo de reprodução das relações sociais na sociedade
- (A) inclusiva.
 - (B) socialista.
 - (C) capitalista.
 - (D) marxista.
 - (E) humanitária.
58. Toda pesquisa pode ser, ao mesmo tempo, quantitativa e qualitativa. Na prática, ocorre que toda investigação baseada na estatística, que pretende obter resultados objetivos, centra-se exclusivamente no dado estatístico. Por outro lado, muitas pesquisas de natureza qualitativa não precisam apoiar-se na informação estatística. Isso não significa que sejam especulativas. As pesquisas qualitativas têm um tipo de objetividade e de validade conceitual que contribuem, decisivamente, para
- (A) a verificação da confiabilidade dos testes de hipóteses.
 - (B) o desenvolvimento do pensamento científico.
 - (C) a validação censitária e generalista de dados demográficos.
 - (D) a dificuldade de se ter vínculos integrativos quanti/qualitativos.
 - (E) a leitura dos fatos desvinculada da realidade estudada.
59. Os instrumentos para construção de dados são parte fundamental da dinâmica de uma pesquisa científica. Operacionalizam os objetivos, os indicadores e os conceitos do estudo, na forma de variáveis ou temas e geralmente assumem o formato de questionários e roteiros. Na pesquisa quantitativa, os questionários devem ser
- (A) abertos com proposta interativa.
 - (B) apenas roteiros significativos.
 - (C) desprovidos de padronização.
 - (D) rigorosamente padronizados.
 - (E) parcialmente mensuráveis.
60. O que é desenvolvimento humano? Como pode ser compreendido? Desenvolvimento humano pode ser concebido como o processo de ampliação de escolhas, aumentando oportunidades de educação, assistência médica, renda e emprego, cobrindo o espectro completo das escolhas humanas, desde um meio ambiente físico saudável até as liberdades econômicas e humanas. É correto afirmar que a principal regra do desenvolvimento humano refere-se ao investimento na (s)
- (A) pessoas.
 - (B) economia.
 - (C) empresas.
 - (D) finanças.
 - (E) infraestrutura.

