



CONCURSO PÚBLICO

25. PROVA OBJETIVA

GUARDA CIVIL MUNICIPAL – 3.^a CLASSE (FEMININO)

GUARDA CIVIL MUNICIPAL – 3.^a CLASSE (MASCULINO)

- ♦ VOCÊ RECEBEU SUA FOLHA DE RESPOSTAS E ESTE CADERNO CONTENDO **40** QUESTÕES OBJETIVAS.
- ♦ CONFIRA SEU NOME E NÚMERO DE INSCRIÇÃO IMPRESSOS NA CAPA DESTE CADERNO.
- ♦ LEIA CUIDADOSAMENTE AS QUESTÕES E ESCOLHA A RESPOSTA QUE VOCÊ CONSIDERA CORRETA.
- ♦ RESPONDA A TODAS AS QUESTÕES.
- ♦ MARQUE, NA FOLHA INTERMEDIÁRIA DE RESPOSTAS, LOCALIZADA NO VERSO DESTA PÁGINA, A LETRA CORRESPONDENTE À ALTERNATIVA QUE VOCÊ ESCOLHEU.
- ♦ TRANSCREVA PARA A FOLHA DE RESPOSTAS, COM CANETA DE TINTA AZUL OU PRETA, TODAS AS RESPOSTAS ANOTADAS NA FOLHA INTERMEDIÁRIA DE RESPOSTAS.
- ♦ A DURAÇÃO DA PROVA É DE **3** HORAS.
- ♦ A SAÍDA DO CANDIDATO DA SALA SERÁ PERMITIDA APÓS TRANSCORRIDA A METADE DO TEMPO DE DURAÇÃO DA PROVA.
- ♦ AO SAIR, VOCÊ ENTREGARÁ AO FISCAL A FOLHA DE RESPOSTAS E ESTE CADERNO, PODENDO DESTACAR ESTA CAPA PARA FUTURA CONFERÊNCIA COM O GABARITO A SER DIVULGADO.

AGUARDE A ORDEM DO FISCAL PARA ABRIR ESTE CADERNO DE QUESTÕES.



FOLHA INTERMEDIÁRIA DE RESPOSTAS

QUESTÃO	RESPOSTA				
01	<input type="checkbox"/>	<input type="checkbox"/>	<input type="checkbox"/>	<input type="checkbox"/>	<input type="checkbox"/>
02	<input type="checkbox"/>	<input type="checkbox"/>	<input type="checkbox"/>	<input type="checkbox"/>	<input type="checkbox"/>
03	<input type="checkbox"/>	<input type="checkbox"/>	<input type="checkbox"/>	<input type="checkbox"/>	<input type="checkbox"/>
04	<input type="checkbox"/>	<input type="checkbox"/>	<input type="checkbox"/>	<input type="checkbox"/>	<input type="checkbox"/>
05	<input type="checkbox"/>	<input type="checkbox"/>	<input type="checkbox"/>	<input type="checkbox"/>	<input type="checkbox"/>

06	<input type="checkbox"/>	<input type="checkbox"/>	<input type="checkbox"/>	<input type="checkbox"/>	<input type="checkbox"/>
07	<input type="checkbox"/>	<input type="checkbox"/>	<input type="checkbox"/>	<input type="checkbox"/>	<input type="checkbox"/>
08	<input type="checkbox"/>	<input type="checkbox"/>	<input type="checkbox"/>	<input type="checkbox"/>	<input type="checkbox"/>
09	<input type="checkbox"/>	<input type="checkbox"/>	<input type="checkbox"/>	<input type="checkbox"/>	<input type="checkbox"/>
10	<input type="checkbox"/>	<input type="checkbox"/>	<input type="checkbox"/>	<input type="checkbox"/>	<input type="checkbox"/>

11	<input type="checkbox"/>	<input type="checkbox"/>	<input type="checkbox"/>	<input type="checkbox"/>	<input type="checkbox"/>
12	<input type="checkbox"/>	<input type="checkbox"/>	<input type="checkbox"/>	<input type="checkbox"/>	<input type="checkbox"/>
13	<input type="checkbox"/>	<input type="checkbox"/>	<input type="checkbox"/>	<input type="checkbox"/>	<input type="checkbox"/>
14	<input type="checkbox"/>	<input type="checkbox"/>	<input type="checkbox"/>	<input type="checkbox"/>	<input type="checkbox"/>
15	<input type="checkbox"/>	<input type="checkbox"/>	<input type="checkbox"/>	<input type="checkbox"/>	<input type="checkbox"/>

16	<input type="checkbox"/>	<input type="checkbox"/>	<input type="checkbox"/>	<input type="checkbox"/>	<input type="checkbox"/>
17	<input type="checkbox"/>	<input type="checkbox"/>	<input type="checkbox"/>	<input type="checkbox"/>	<input type="checkbox"/>
18	<input type="checkbox"/>	<input type="checkbox"/>	<input type="checkbox"/>	<input type="checkbox"/>	<input type="checkbox"/>
19	<input type="checkbox"/>	<input type="checkbox"/>	<input type="checkbox"/>	<input type="checkbox"/>	<input type="checkbox"/>
20	<input type="checkbox"/>	<input type="checkbox"/>	<input type="checkbox"/>	<input type="checkbox"/>	<input type="checkbox"/>

QUESTÃO	RESPOSTA				
21	<input type="checkbox"/>	<input type="checkbox"/>	<input type="checkbox"/>	<input type="checkbox"/>	<input type="checkbox"/>
22	<input type="checkbox"/>	<input type="checkbox"/>	<input type="checkbox"/>	<input type="checkbox"/>	<input type="checkbox"/>
23	<input type="checkbox"/>	<input type="checkbox"/>	<input type="checkbox"/>	<input type="checkbox"/>	<input type="checkbox"/>
24	<input type="checkbox"/>	<input type="checkbox"/>	<input type="checkbox"/>	<input type="checkbox"/>	<input type="checkbox"/>
25	<input type="checkbox"/>	<input type="checkbox"/>	<input type="checkbox"/>	<input type="checkbox"/>	<input type="checkbox"/>

26	<input type="checkbox"/>	<input type="checkbox"/>	<input type="checkbox"/>	<input type="checkbox"/>	<input type="checkbox"/>
27	<input type="checkbox"/>	<input type="checkbox"/>	<input type="checkbox"/>	<input type="checkbox"/>	<input type="checkbox"/>
28	<input type="checkbox"/>	<input type="checkbox"/>	<input type="checkbox"/>	<input type="checkbox"/>	<input type="checkbox"/>
29	<input type="checkbox"/>	<input type="checkbox"/>	<input type="checkbox"/>	<input type="checkbox"/>	<input type="checkbox"/>
30	<input type="checkbox"/>	<input type="checkbox"/>	<input type="checkbox"/>	<input type="checkbox"/>	<input type="checkbox"/>

31	<input type="checkbox"/>	<input type="checkbox"/>	<input type="checkbox"/>	<input type="checkbox"/>	<input type="checkbox"/>
32	<input type="checkbox"/>	<input type="checkbox"/>	<input type="checkbox"/>	<input type="checkbox"/>	<input type="checkbox"/>
33	<input type="checkbox"/>	<input type="checkbox"/>	<input type="checkbox"/>	<input type="checkbox"/>	<input type="checkbox"/>
34	<input type="checkbox"/>	<input type="checkbox"/>	<input type="checkbox"/>	<input type="checkbox"/>	<input type="checkbox"/>
35	<input type="checkbox"/>	<input type="checkbox"/>	<input type="checkbox"/>	<input type="checkbox"/>	<input type="checkbox"/>

36	<input type="checkbox"/>	<input type="checkbox"/>	<input type="checkbox"/>	<input type="checkbox"/>	<input type="checkbox"/>
37	<input type="checkbox"/>	<input type="checkbox"/>	<input type="checkbox"/>	<input type="checkbox"/>	<input type="checkbox"/>
38	<input type="checkbox"/>	<input type="checkbox"/>	<input type="checkbox"/>	<input type="checkbox"/>	<input type="checkbox"/>
39	<input type="checkbox"/>	<input type="checkbox"/>	<input type="checkbox"/>	<input type="checkbox"/>	<input type="checkbox"/>
40	<input type="checkbox"/>	<input type="checkbox"/>	<input type="checkbox"/>	<input type="checkbox"/>	<input type="checkbox"/>

Leia o texto para responder às questões de números 01 a 04.

A violência no futebol não é acontecimento novo e há exemplos na história do futebol brasileiro e mundial de atos de extrema violência entre torcedores. Inédito é o movimento social de jovens em torno de uma organização que difunde novas dimensões culturais e simbólicas no cotidiano urbano, amoldando o comportamento dos inscitos. A questão é quem são esses torcedores e quais os motivos desse aumento considerável de violência.

Dos anos 80 para cá, sabe-se que, no Brasil, o comportamento do torcedor nas arquibancadas dos estádios de futebol modificou-se consideravelmente. Isso se deu pelo surgimento de configurações organizativas, que cria uma nova categoria de torcedor, ou seja, o chamado “torcedor organizado”. Mas em quais circunstâncias socioculturais, políticas e econômicas nasce essa nova categoria de torcedor?

As primeiras “torcidas organizadas” datam do fim da década de 60 e do começo dos anos 70. Nesse período, o Brasil caminhava na busca do desenvolvimento econômico, em cujas cidades se evidenciava um processo de aceleração urbana, que acontecia, entretanto, de forma desarticulada e descompromissada com as bases sociais.

Em outras palavras, o conflito entre os poderes econômico e social marcou a construção do espaço urbano das grandes cidades, em que o interesse do capital prevaleceu em detrimento da identidade social dos jovens que passaram a se expressar pela negação do outro (enquanto ser social), pela disputa e pela violência prazerosa entre os grupos rivais.

Entre os desdobramentos gerados por esse fenômeno social está o esvaziamento da noção do coletivo na formação dos jovens. O aumento dos atos de violência praticados pelo movimento de “torcidas organizadas” está vinculado ao surgimento desses novos sujeitos que são, predominantemente, jovens individualizados, do ponto de vista da formação de uma consciência social e coletiva.

(Carlos A. M. Pimenta. “Violência entre torcidas organizadas no futebol”, in *São Paulo em perspectiva*, 14.02.2000. <http://www.scielo.br/pdf/spp/> acessado em 07.10.2010. Adaptado)

01. Leia as afirmações.

- I. A violência em estádios de futebol é um fenômeno social recente e acontece exclusivamente no Brasil.
- II. O desenvolvimento urbano e econômico, nas principais cidades brasileiras, caminhou lado a lado do comportamento socialmente desejável das torcidas organizadas.
- III. Uma das causas apontadas para a violência nos estádios é a ausência do conceito de coletividade.

Segundo o texto, está correto, apenas, o contido em

- (A) I.
- (B) II.
- (C) III.
- (D) I e II.
- (E) II e III.

O trecho a seguir serve de base para as questões de números 02 e 03.

Nesse período, o Brasil caminhava na busca do desenvolvimento econômico em **cujas** cidades se evidenciava um processo de aceleração urbana, que acontecia, **entretanto**, de forma desarticulada e descompromissada com as bases sociais.

02. A palavra **cujas**, em destaque no texto, refere-se às cidades

- (A) do Brasil.
- (B) em desenvolvimento econômico.
- (C) em processo de urbanização.
- (D) com descompromissado progresso.
- (E) de bases sociais desarticuladas.

03. A palavra **entretanto**, em destaque no texto, introduz a ideia de

- (A) adição.
- (B) alternância.
- (C) conclusão.
- (D) explicação.
- (E) oposição.

04. Nas frases:

- Inédito é o movimento social de jovens em torno de uma organização que difunde novas dimensões culturais e simbólicas no cotidiano urbano,...
- Entre os desdobramentos gerados por esse fenômeno social está o esvaziamento da noção do coletivo na formação dos jovens.

O sinônimo de **Inédito** e o sentido contrário de **o esvaziamento** são, respectivamente:

- (A) Original e a incorporação.
- (B) Comum e o declínio.
- (C) Publicado e o esvaecimento.
- (D) Conhecido e a perda.
- (E) Repetido e a amplitude.

05. Assinale a alternativa em que a concordância verbal e/ou nominal está correta.

- (A) Serão necessários que torcedores e polícia não se enfrentem nos estádios.
- (B) No campeonato brasileiro do ano passado, houveram muitos atritos entre as torcidas organizadas.
- (C) As torcidas e os dirigentes dos clubes precisam estarem de acordo pela paz no esporte.
- (D) Incontrolável mostram-se a violência e a disputa entre as torcidas dentro e fora do gramado.
- (E) Trata-se agora de reimplantar a paz e o sentido esportivo como antigamente.

Leia o texto para responder às questões de números 06 a 10.

Contra a violência no futebol

No dia 27 de julho, o presidente Lula sancionou a nova versão do Estatuto do Torcedor, que torna mais duras as punições à violência nos estádios.

A partir de agora, torcedores envolvidos em atos violentos terão sua imagem divulgada e serão proibidos de entrar nos jogos. Os infratores podem ser condenados a pagar multas ou a até dois anos de prisão.

As torcidas organizadas passarão a responder civilmente, de forma objetiva e solidária, por danos causados por seus integrantes.

A nova medida atinge também os cambistas que, ao venderem ingressos acima do preço estipulado nas bilheterias, podem pegar cadeia por um a dois anos.

(Carta Capital, 04.08.2010)

06. De acordo com o texto,

- (A) o novo Estatuto do Torcedor beneficia quem frequenta os estádios de futebol com a intenção de exercer sua agressividade.
- (B) os torcedores que transgredirem as regras do novo Estatuto do Torcedor podem ser punidos com multa ou prisão.
- (C) a recente versão do Estatuto do Torcedor é ainda juridicamente branda porque exclui a figura do cambista, não o responsabilizando criminalmente.
- (D) as novas regras impostas pelo Estatuto do Torcedor restringem-se às violentas torcidas organizadas.
- (E) a nova versão do estatuto do Torcedor data da década passada e, por isso, não atende às necessidades atuais dos que frequentam os estádios de futebol.

07. Segundo o texto, no novo Estatuto do Torcedor, a violência no futebol deve ser entendida como aquela

- (A) em que as torcidas participem da venda de ingressos nas bilheterias.
- (B) referente a atos obscenos e xingamentos que ocorram nos estádios.
- (C) restritiva à ação de torcidas organizadas dentro e nas imediações dos estádios e que merecerá punições mais brandas.
- (D) relacionada a danos ocasionados por atitudes violentas e que contraria os interesses públicos.
- (E) relativa, criminalmente, ao estelionato praticado pelos cambistas.

08. Assinale a alternativa em que a palavra grifada corresponde ao sinônimo adequado de **estipulado**, da frase do texto:

A nova medida atinge também os cambistas que, ao venderem ingressos acima do preço estipulado nas bilheterias, podem pegar cadeia por um a dois anos.

- (A) O preço **oscilante** dos produtos exige uma pesquisa em vários estabelecimentos.
- (B) **Fixado** o índice oficial de inflação em torno de 5%, a população pôde consumir mais.
- (C) **Desvalorizado**, o ingresso para o importante grupo de balé ficou acessível para a compra.
- (D) Com o valor **indeterminado**, uma famosa marca de relógio não foi vendida pelo joalheiro.
- (E) Por conta de campanhas educativas, o comprador evita o produto com o preço **alterado**.

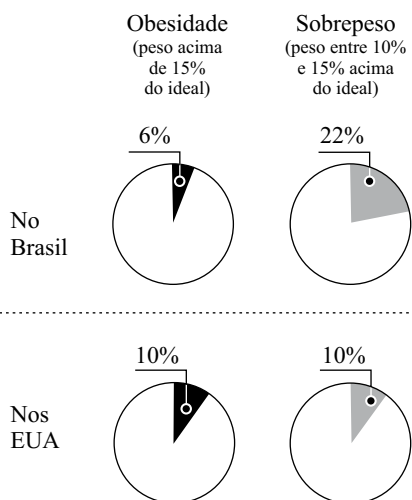
09. Em – A partir de agora, torcedores envolvidos em atos violentos terão sua imagem divulgada e serão proibidos de entrar nos jogos. (2.º parágrafo) – a expressão **a partir de agora** expressa a ideia de

- (A) finalidade.
- (B) modo.
- (C) tempo.
- (D) espaço.
- (E) proporção.

10. Segundo as normas gramaticais, na frase – Os infratores podem ser condenados a pagar multas – a correta substituição da palavra **multas** por um pronome, de acordo com a norma culta, é

- (A) ... a pagar elas.
- (B) ... a pagar-lhes.
- (C) ... a pagar-as.
- (D) ... a pagar-nas.
- (E) ... a pagá-las.

11. Observe, a seguir, o percentual de crianças, no Brasil e nos Estados Unidos, entre 2 e 5 anos, que estão com obesidade ou sobrepeso.



(Estudo Nutri-Brasil Infância e Centro de Controle e Prevenção de Doenças dos Estados Unidos (CDC))

Analisando os dados sobre as crianças entre 2 e 5 anos, pode-se afirmar que

- (A) no Brasil, menos de 60% das crianças entre 2 e 5 anos não têm obesidade nem sobrepeso.
- (B) nos Estados Unidos, menos de 60% das crianças entre 2 e 5 anos não têm obesidade nem sobrepeso.
- (C) no Brasil, menos de 25% das crianças entre 2 e 5 anos têm obesidade ou sobrepeso.
- (D) nos Estados Unidos, menos de 25% das crianças entre 2 e 5 anos têm obesidade ou sobrepeso.
- (E) no Brasil, o índice percentual de crianças entre 2 e 5 anos, com sobrepeso, é o mesmo que nos Estados Unidos.
12. Na Copa de 2006, apenas 26 do total de 147 gols foram marcados de fora da área.
Na Copa de 2002, foram 24 gols de fora da área e 137 gols de dentro da área.
Dessa maneira, a razão entre o número total de gols e o número de gols feitos de fora da área foi
- (A) maior em 2002, quando se registrou o valor aproximado de 6,7.
- (B) maior em 2006, quando se registrou o valor aproximado de 5,6.
- (C) igual em 2002 e 2006, valendo aproximadamente 6,7.
- (D) menor em 2002, quando se registrou o valor aproximado de 5,7.
- (E) menor em 2006, quando se registrou o valor aproximado de 5,2.

13. Uma rede de farmácias foi avaliada segundo quatro critérios, conforme indicado na tabela.

CRITÉRIO	Nota obtida	Peso	Total
Preço	7	4	28
Atendimento	4	3	12
Instalações	##	2	##
Variedade	6	1	6
Nota Final = 5			

Como a nota final foi obtida por média ponderada, a nota obtida no critério “Instalações” foi

- (A) 2.
 (B) 3.
 (C) 4.
 (D) 5.
 (E) 6.
14. Em uma cidade com 100 000 automóveis registrados, foram aplicadas, em um ano, as seguintes quantidades de multas de trânsito, segundo a tabela:

Excesso de velocidade	15 000
Estacionamento irregular	9 910
Falar ao celular	4 570
Avançar sinal	3 330

Considere a proporção entre o número de carros registrados e as multas aplicadas. Se tivermos uma cidade com 55 000 automóveis registrados, o número de multas aplicadas por excesso de velocidade, em um ano, será de

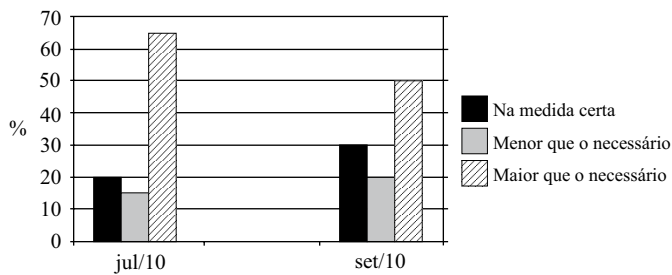
- (A) 7 250.
 (B) 7 500.
 (C) 8 150.
 (D) 8 200.
 (E) 8 250.
15. Em uma revista, havia um encarte promocional que dizia: “Fizemos este anúncio com 60% de economia”.

Considere a economia feita em relação à área da página retangular da revista que tem 25 cm x 20 cm. Se o encarte retangular tem 10 cm de largura, a outra dimensão do encarte, em centímetros, é

- (A) 10.
 (B) 15.
 (C) 20.
 (D) 25.
 (E) 30.

16. Foi realizada uma pesquisa com eleitores para saber o que consideraram da cobertura que a imprensa deu às eleições. O resultado é apresentado no gráfico a seguir.

PERCEPÇÃO DOS ELEITORES SOBRE O ESPAÇO DEDICADO ÀS ELEIÇÕES PELA IMPRENSA



A tabela que melhor representa o gráfico é

(A) Espaço dedicado às eleições (em %)

	Jul/10	Set/10
Na medida certa	65	50
Menor que o necessário	15	20
Maior que o necessário	20	30

(B) Espaço dedicado às eleições (em %)

	Jul/10	Set/10
Na medida certa	20	50
Menor que o necessário	15	20
Maior que o necessário	65	30

(C) Espaço dedicado às eleições (em %)

	Jul/10	Set/10
Na medida certa	20	30
Menor que o necessário	15	20
Maior que o necessário	65	50

(D) Espaço dedicado às eleições (em %)

	Jul/10	Set/10
Na medida certa	65	30
Menor que o necessário	15	20
Maior que o necessário	20	50

(E) Espaço dedicado às eleições (em %)

	Jul/10	Set/10
Na medida certa	20	30
Menor que o necessário	15	20
Maior que o necessário	50	65

17. Um jovem faz um curso via internet e deve cumprir um total de 60 horas em atividades on-line, nos dias e horários que quiser. Para se organizar melhor, o jovem decidiu realizar as atividades on-line 3 dias por semana, estudando 2 horas e meia em cada um desses dias, cumprindo, dessa forma, 6 semanas de estudo.

Logo, ainda faltam x horas de estudo. O valor de x é

- (A) 12.
(B) 15.
(C) 24.
(D) 41.
(E) 52.

18. Para realizar de maneira eficaz a dedetização de ambientes, são necessárias 5 porções de determinada substância Y para 2 porções de água. Depois de um dia de trabalho, um funcionário utilizou um total de 56 litros da substância Y para fazer dedetizações.

Logo, o total de água, em litros, necessário para as dedetizações do dia foi

- (A) 22,4.
(B) 25,6.
(C) 31,2.
(D) 45,5.
(E) 57,0.

19. Um eletricista cobra R\$ 25,00 para ir à casa da pessoa e R\$ 75,00 por hora de trabalho realizado. Outro colega de profissão cobra R\$ 100,00 para ir à casa e R\$ 50,00 por hora de trabalho realizado. Para um determinado tempo de x horas trabalhadas, paga-se o mesmo valor para os dois eletricistas. Esse valor de x é

- (A) 1,0.
(B) 1,5.
(C) 2,0.
(D) 2,5.
(E) 3,0.

20. Uma piscina na forma retangular tem 25 m de comprimento, 12 m de largura e 1,5 m de profundidade em toda sua extensão. Ela estava com sua capacidade máxima de água quando houve um problema de vazamento que, até ser resolvido, desperdiçou um total de 120 m³ de água.

No momento em que a piscina ficou mais vazia, a altura atingida pela água foi de

- (A) 1,0 m.
(B) 1,1 m.
(C) 1,2 m.
(D) 1,3 m.
(E) 1,4 m.

CONHECIMENTOS GERAIS

HISTÓRIA DO BRASIL

21. No período conhecido como Estado Novo (1937-1945), o presidente Getúlio Vargas
- (A) incentivou a industrialização com a criação de empresas estatais.
 - (B) concedeu direitos trabalhistas aos camponeses e aos militares.
 - (C) garantiu liberdade para a organização de partidos e de sindicatos.
 - (D) favoreceu o domínio das multinacionais sobre a economia brasileira.
 - (E) ampliou os poderes dos governadores estaduais e do Congresso.
22. O fim da ditadura de Getúlio Vargas, em 1945, esteve ligado, entre outros motivos,
- (A) à formação da Aliança Liberal contra o movimento tenentista.
 - (B) a um falso plano de tomada do poder, atribuído aos comunistas.
 - (C) à participação do Brasil na Segunda Guerra, lutando contra o fascismo.
 - (D) ao fracasso das medidas de redução da inflação e da dívida externa.
 - (E) a um movimento revolucionário liderado por gaúchos e mineiros.

23. Leia o texto.

[João Goulart] aderiu ao projeto de reformas de base. Entre elas, o aprofundamento da reforma agrária (apenas em terras improdutivas e mediante indenização) e a reforma universitária. (...) A mudança de posição do presidente vinha acompanhada pelo crescimento das diversas organizações de esquerda [como] o Comando Geral dos Trabalhadores (...).

A agitação social dos tempos de Jango não entusiasmava os investidores estrangeiros (...) ainda mais depois da aprovação da lei que limitava a remessa de lucros (...).

A polarização política também teve como consequência o aumento da organização das forças de direita. (...) O clima de confronto entre esquerda e direita balançava também a hierarquia nos quartéis. (...) Os grandes meios de comunicação (...) simpatizavam abertamente com a revolta, assim como a Igreja Católica.

(Jayme Brener, *Jornal do Século XX*. Adaptado)

A situação descrita no texto

- (A) apresenta os motivos da Revolução de 1930.
- (B) ajuda a entender a ascensão do presidente Jânio Quadros.
- (C) justifica a adoção do sistema parlamentarista de governo.
- (D) relaciona-se ao golpe que implantou o regime militar.
- (E) explica as razões do processo de redemocratização.

24. O período do “milagre econômico” teve como característica política e resultado econômico, respectivamente,
- (A) a liberdade de organização partidária e a alta da inflação.
 - (B) a repressão aos opositores e o aumento da dívida externa.
 - (C) o fechamento do Congresso e a valorização do capital nacional.
 - (D) a democratização da sociedade e o crescimento do PIB.
 - (E) a independência dos poderes e a justa distribuição de renda.

25.



(Henfil, *IstoÉ*, 25.01.1984)

A charge refere-se

- (A) à posse de Tancredo Neves na presidência da República.
- (B) ao movimento popular em defesa do voto secreto.
- (C) à aprovação da lei de anistia pelo Congresso.
- (D) ao golpe que tirou a oligarquia paulista do poder.
- (E) à campanha a favor da eleição direta para presidente.

GEOGRAFIA DO BRASIL

26. O setor extrativo-mineral tem importante participação na economia brasileira, principalmente como produto de exportação. Os recursos minerais do país estão relacionados com o embasamento geológico do território, no qual se destacam as rochas
- (A) sedimentares, ricas em minérios metálicos como o cobre, o zinco e o estanho.
 - (B) cristalinas, em cujas camadas encontram-se os depósitos de carvão mineral.
 - (C) sedimentares, onde se concentram as explorações de ouro e diamantes.
 - (D) cristalinas, onde são encontrados depósitos de minério de ferro e bauxita (alumínio).
 - (E) vulcânicas, responsáveis pela formação de lençóis de petróleo e gás.

27. Considere o mapa e o texto a seguir.



Esta região possui grande potencial hidrelétrico, destacando-se a usina de Itaipu. A agropecuária tem forte expressão na economia, com destaque para os cultivos de soja, trigo, uva, milho, arroz e maçã. É uma região marcada pela contribuição dos imigrantes europeus.

O texto refere-se à região

- (A) Centro-Oeste, assinalada no mapa com o número 3.
- (B) Sudeste, assinalada no mapa com o número 1.
- (C) Sudeste, assinalada no mapa com o número 2.
- (D) Sul, assinalada no mapa com o número 4.
- (E) Sul, assinalada no mapa com o número 5.

28. Observe o mapa para responder à questão.



(<http://www.face.ufmg.br/novaeconomia/sumarios/v3n1/030103.pdf>. Adaptado)

A área hachurada no mapa destaca

- (A) as áreas efetivamente modernizadas no campo brasileiro.
- (B) o domínio das chapadas e depressões do Atlântico leste.
- (C) a principal área de concentração da indústria no Brasil.
- (D) a concentração da PEA (população economicamente ativa) no setor primário da economia.
- (E) as áreas em que ocorre o clima tropical de altitude.

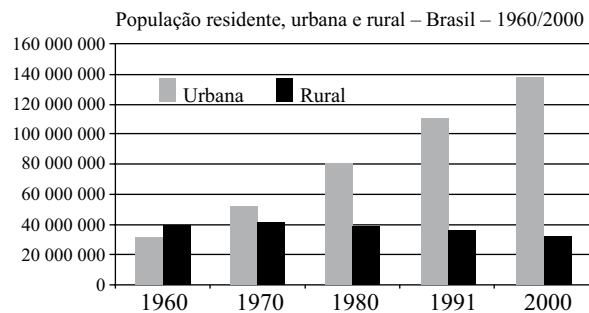
29. Analise as afirmações sobre o aproveitamento das bacias hidrográficas brasileiras para a geração de energia elétrica.

- I. Atualmente, o potencial hidrelétrico mais explorado no país é o da bacia hidrográfica do Paraná.
- II. Os rios da bacia Amazônica apresentam grande potencial hidrelétrico, porém ainda são pouco explorados.
- III. Dos rios da bacia Amazônica, o Amazonas, por sua baixa declividade, é o mais indicado para a construção de usina hidrelétrica.
- IV. O clima semiárido é o principal obstáculo para a exploração do potencial hidrelétrico da bacia do São Francisco, na região Nordeste.

Está correto apenas o que se afirma em

- (A) I e II.
- (B) I e III.
- (C) II e III.
- (D) II e IV.
- (E) III e IV.

30. Observe o gráfico a seguir.



(IBGE, Censo Demográfico 1960–2000)

Com base nos dados do gráfico e nos conhecimentos sobre as transformações na sociedade e economia do Brasil, pode-se afirmar que

- (A) até a década de 1960, a maior parte da população brasileira era rural, e isso devia-se, dentre outros fatores, à baixa modernização das atividades agropecuárias.
- (B) foi a entrada de imigrantes estrangeiros, em busca de terras baratas e empregos urbanos, a responsável pelo crescimento da população urbana e rural na década de 1970.
- (C) a partir da década de 1980, a população do campo começou a diminuir em razão da melhoria na educação e renda da população rural.
- (D) na década de 1990, a crise econômica pela qual o país passou fez com que muitos abandonassem o campo à procura de empregos nas áreas urbanas.
- (E) a partir de 2000, o país pode ser considerado muito urbanizado e com poucos problemas agrários, como grilagem de terras, trabalho escravo e ocupações irregulares.

ATUALIDADES

31. Com a popularidade em queda devido a uma controvertida proposta de reforma da Previdência, a um escândalo de financiamento de campanha e à dificuldade de reerguer o país da crise econômica, o presidente Nicolas Sarkozy lançou mão de uma série de iniciativas populistas e xenófobas para ganhar apoio do cada vez mais conservador eleitorado (...).

De maneira ruidosa, o governo acelerou um processo de “expulsão voluntária” de ciganos (...) após ligá-los a uma escalada de violência contra policiais.

(Folha de S.Paulo, 12.09.2010)

Esse editorial faz referência à

- (A) Espanha.
 - (B) Hungria.
 - (C) Rússia.
 - (D) França.
 - (E) Alemanha.
32. Em 20 de outubro de 2010, o Copom (Comitê de Política Monetária do Banco Central) decidiu manter novamente a taxa básica de juros em
- (A) 0,25% ao ano.
 - (B) 10,75% ao ano.
 - (C) 31% ao ano.
 - (D) 43% ao ano.
 - (E) 51% ao ano.
33. Em 2010, foram agraciados, respectivamente, com o prêmio Nobel da Paz e o de Literatura,
- (A) o chinês Liu Xiaovo e o peruano Mario Vargas Llosa.
 - (B) o norte-americano Jimmy Carter e o turco Orhan Pamuk.
 - (C) a queniana Wangari Maathai e o colombiano Gabriel Garcia Marques.
 - (D) o norte-americano Al Gore e a alemã Herta Müller.
 - (E) o inglês Peter Burke e o português José Saramago.

34. O governo Lula deve sair da capitalização da [empresa], a mais ambiciosa parceria feita com as finanças globais, sem atingir a meta de alcançar 50% do capital da companhia, como ocorria até o governo Fernando Henrique Cardoso (1995–2002).

A União só chegou, até agora, a 48% do capital da estatal, segundo o ministro Guido Mantega (Fazenda). Em tese, pode ainda elevar essa participação se comprar ações nos lotes extras ainda disponíveis. Mas é improvável que consiga isso à frente dos demais interessados.

A [empresa] captou até R\$ 120,4 bilhões na maior oferta de ações já feita no mundo. Apesar do sucesso da operação, as novas ações estrearam ontem na Bolsa de Nova York com uma dose de ceticismo dos investidores.

(Folha de S.Paulo, 25.09.2010)

A reportagem trata da capitalização

- (A) do BNDES.
 - (B) do Grupo Pão de Açúcar.
 - (C) da Petrobras.
 - (D) da Vale do Rio Doce.
 - (E) da Eletrobras.
35. Observe a charge.



(Folha de S.Paulo, 05.08.2010)

A charge faz referência a uma mulher condenada à morte

- (A) no Afeganistão.
- (B) no Iraque.
- (C) na Turquia.
- (D) no Egito.
- (E) no Irã.

36. Assinale a alternativa que está de acordo com o disposto no Estatuto da Guarda Civil Municipal de Diadema.

- (A) A Guarda Civil Municipal de Diadema é uma corporação uniformizada e armada, de caráter militar, com estrutura, hierarquia e disciplina fundamentadas nas Constituições Federal e Estadual e na Lei Orgânica do Município de Diadema.
- (B) A Guarda Civil Municipal de Diadema subordina-se hierárquica, administrativa e funcionalmente à Secretaria Municipal de Segurança Social da Prefeitura do Município de Diadema, com nível estrutural de Subsecretaria.
- (C) É competência expressa da Guarda Civil Municipal de Diadema executar as funções de segurança pública, preventiva e repressiva, concorrendo com as funções das Polícias Militar e Civil, limitando-se, entretanto, ao território do Município.
- (D) As funções administrativas, bem como as de natureza diversa da carreira de Guarda Civil Municipal, poderão ser exercidas por servidor público municipal, admitido nos termos da legislação vigente, não havendo obrigatoriedade de pertencer à classe, carreira ou quadro da Corporação.
- (E) Os instrutores não pertencentes à Corporação, que serão contratados na falta de instrutores próprios da Corporação, também deverão ter formação específica comprovada, e serão indicados pelo Inspetor-Chefe da Guarda Civil Municipal, e nas suas contratações deverão ser observadas as formalidades legais.

37. Conforme a Lei Complementar n.º 298/2009, aplicável à Guarda Civil Municipal de Diadema, são cargos de provimento em comissão, de livre nomeação e exoneração do Prefeito:

- (A) Comandante, Subcomandante, Inspetor-Chefe e Supervisor-Chefe.
- (B) Comandante, Subcomandante e Inspetor-Chefe.
- (C) Comandante e Supervisor-Chefe.
- (D) Comandante, Inspetor e Supervisor.
- (E) Subcomandante, Inspetor e Supervisor-Chefe.

38. Assinale a alternativa correta, segundo o que dispõe o Estatuto da Guarda Civil Municipal.

- (A) Aos Guardas Civis Municipais será garantida estabilidade no cargo, após o período de estágio probatório de dois anos de efetivo exercício, quando serão avaliadas a sua capacidade e a aptidão profissional.
- (B) O Guarda Civil Municipal que contribuir voluntariamente como doador para Bancos de Sangue será dispensado do serviço por dois dias, desde que devidamente autorizado pelo Comandante da GCM.
- (C) É dever do Guarda Civil Municipal apresentar-se ao serviço em boas condições de asseio, com o uniforme que lhe for cedido pela Guarda Civil Municipal, sendo obrigatório o seu uso, exceto por ordem do Comando da GCM.
- (D) Os Guardas Civis Municipais, obrigatoriamente, serão submetidos a exame toxicológico na sua admissão e, periodicamente, a cada seis meses, sempre em datas diferentes, durante o exercício da atividade de guarda civil municipal.
- (E) Os Guardas Civis Municipais masculinos deverão, após os cinquenta anos de idade, apresentar o exame de prevenção de câncer de próstata (PSA).

39. As bases de organização da Guarda Civil Municipal de Diadema são:

- (A) hierarquia e voluntarismo.
- (B) honra e disciplina.
- (C) ordem e progresso.
- (D) hierarquia, obediência e coragem.
- (E) hierarquia e disciplina.

40. É um direito dos Guardas Civis Municipais de Diadema:

- (A) Seguro de vida.
- (B) Gratificação de Risco de Vida por Atividade de Guarda Civil Municipal, inclusive para o Guarda Aluno.
- (C) Gratificação Anual Meritória (GAM), a ser paga no mês do aniversário do Guarda Municipal.
- (D) Insalubridade, na ordem de quarenta por cento da remuneração base.
- (E) Vitaliciedade.

