

**PREFEITURA MUNICIPAL DE
SANTANA DO JACARÉ - MG**

CONCURSO PÚBLICO - EDITAL Nº 01/2015

SÓ ABRA QUANDO AUTORIZADO

MOTORISTA

LEIA ATENTAMENTE AS INSTRUÇÕES ABAIXO

- ✓ Esta prova contém **30 questões** de múltipla escolha com **04 opções** de resposta cada;
- ✓ Transcreva para a Folha de Respostas a alternativa que julgar correta;
- ✓ Assinale somente uma alternativa em cada questão;
- ✓ Sua resposta não será computada se houver marcação de duas ou mais alternativas ou se não houver marcação;
- ✓ Não rasure a Folha de Respostas, pois não será distribuída outra;
- ✓ O candidato, ao terminar a prova, entregará ao fiscal, juntamente com a folha de respostas, seu caderno de questões, exceto na situação em que concordar em manter-se em sala, até **60 minutos** antes do horário previsto para término das provas quando então poderá levar o caderno de provas;
- ✓ O candidato poderá anotar suas respostas na Folha de Rascunho Padrão entregue pelo Fiscal de Sala;
- ✓ Leia com atenção cada questão da prova e não deixe nenhuma sem resposta;
- ✓ A ausência do recinto de provas somente será permitida depois de decorridos **60 minutos** do início das mesmas;
- ✓ A não assinatura na Folha de Respostas Oficial (Gabarito) implica na eliminação imediata do candidato;
- ✓ O Gabarito Oficial e as Provas Objetivas serão disponibilizados a partir das **16** horas do dia **22/06/2015** no endereço eletrônico www.reisauditores.com.br

**ATENÇÃO ao preencher a Folha de Respostas!
E não se esqueça de assiná-la no campo apropriado!**

A Folha de Respostas contém as necessárias instruções de seu preenchimento.

Duração desta prova: (03) Três Horas.

Boa Prova!

Inscrição nº:

Nome do candidato:

**PROVA Nº01
PORTUGUÊS**

Leia o texto 01, abaixo, para responder as questões de 01 a 05.

Os Efeitos da Tecnologia na sociedade gerando benefícios e males através da comunicação escrita.

É notável que a globalização mundial esteja evoluindo rapidamente, deixando evidente que o século XXI está sendo marcado como a era da tecnologia.

Anualmente feiras tecnológicas demonstrando tudo de mais moderno em aparelhos eletrônicos, como TV digital, notebooks, netbooks, celulares; tecnologia de encher os olhos de qualquer ser humano. Como consequência de toda essa modernidade, a sociedade começa a se adaptar a essas novidades, quem poderia imaginar (não precisamos ir muito longe), há cinco anos atrás, vovôs e vovós com celulares, aprendendo a utilizar computador, navegando na internet e participando de redes sociais? Hoje isto é fato, é raro encontrar alguém que pelo menos não saiba ligar um computador, aliás, as crianças que estão nascendo nesta época, parecem que tem uma espécie de "gene da tecnologia", relato isto, pelo convívio com meu irmão de dois anos e meio, que já utiliza computador, liga e desliga e entende perfeitamente para que serve o mouse e teclado!

Com isso a comunicação digital e escrita está constantemente

presente em nossas vidas, através dos e-mails, Outlook, redes sociais, aparelhos celulares com internet, Black Berry, mensagens de textos, enfim estamos usufruindo muito destes meios práticos e eficientes. Hoje temos redes de relacionamentos como o Facebook, Orkut, LinkedIn, Twitter, onde pessoas se reúnem para trocar experiências, conhecimentos, fazer novos amigos, divulgar trabalhos e até mesmo se promover, através destas redes podemos entender e conhecer um pouco cada um a partir do seu perfil cadastrado.

As empresas estão usufruindo muito desta praticidade, "o desenvolvimento da tecnologia da informação "diminui" as distâncias entre os países", afirmação de Thomas L. Friedman em seu livro O mundo é plano, que relata justamente este estreitamento entre fronteiras, o mundo deixando de ser redondo para ser plano, devido a esta globalização avançada gerando tecnologia que pode interligar diversas pessoas em diferentes países e momentos e ocupações completamente diferentes, interagindo entre si para resultados positivos à empresa. Este é o grande diferencial, saber utilizar a tecnologia em prol de resultados consequentemente unida com o potencial humano diversificado.

É evidente que a tecnologia está presente em quase tudo que fazemos e utilizamos, mas será que estamos prontos para absorver tanta informação e a lidar com esta praticidade?

Uma pergunta que qualquer pessoa responderia sim, simplesmente pensando naquela facilidade de se comunicar com um parente distante, aquela mensagem no final do dia do celular para uma pessoa especial, colocar as fotos na rede para seus amigos verem, e a documentação formal através de e-mails no trabalho.

Fonte:

[Http://www.portaleducacao.com.br/revistas-humanos/artigos](http://www.portaleducacao.com.br/revistas-humanos/artigos)

01) De acordo com o texto é correto afirmar:

- a) O século XX está sendo marcado pela tecnologia;
- b) Hoje em dia as crianças só sabem ligar e desligar o computador;
- c) A comunicação digital está substituindo a comunicação escrita e falada;
- d) A tecnologia está presente em quase tudo o que fazemos na atualidade.

02) As feiras tecnológicas ocorrem, conforme informado no texto:

- a) diariamente;
- b) anualmente;
- c) diuturnamente;
- d) mensalmente.

03) Conforme o texto, quem parece ter uma espécie de "gene da tecnologia":

- a) Os internautas;
- b) Os vovôs e as vovós;
- c) As crianças;
- d) As empresas.

04) O irmão do autor citado no texto tem:

- a) mais de 10 anos de idade;
- b) menos de um ano de idade;
- c) menos de três anos de idade;
- d) menos de dois anos de idade.

05) Na frase:

"É notável que a globalização mundial esteja evoluindo rapidamente, deixando evidente que o século XXI está sendo marcado como a **era** da tecnologia."

O Sinônimo da palavra em destaque, levando em consideração o contexto da frase é:

- a) Passado do verbo ser;
- b) Período de tempo que serve de base a um sistema cronológico;
- c) Espécie de planta trepadeira;
- d) Nenhuma das opções acima;

06) Dependendo da posição da sílaba tônica em uma palavra, podemos classificá-las ainda em oxítonas, paroxítonas e proparoxítonas. São exemplos de palavras paroxítonas:

- a) Café - Guaraná;
- b) Repórter - Digno;
- c) Simpático - lâmina;
- d) Próximo - antipático.

07) Está corretamente separada em sílabas, conforme as regras gramaticais:

- a) U-ru-guai;
- b) Fa-i-xa;
- c) Ca-rro-ssel;
- d) As-sa-ssi-na-da;

08) Qual das opções abaixo, as palavras estão corretamente grafadas com "h" inicial:

- a) hilhós - hicterícia;
- b) hurologia - húmido;
- c) higlu - hiate;
- d) hostil - hiato.

09) Complete a frase abaixo corretamente:

"O en__ame atravessou aquela fai____a de terra onde estava a en____ada.

- a) x - ch - x;
- b) ch - x - ch;
- c) x - x - x;
- d) x - ch - ch.

10) Na frase:

"Ela tem uma inteligência **incomparável**."

A palavra em destaque pode ser substituída por: EXCETO.

- a) singular;
- b) única;
- c) inigualável;
- d) inconfundível.

<p style="text-align: center;">PROVA Nº02 CONHECIMENTOS GERAIS</p>
--

11) Leia o trecho do Hino Nacional Brasileiro, e complete as lacunas com a sequência correta:

"Brasil de amor eterno seja símbolo _____ que ostentas estrelado,
E diga o _____ desta flâmula
-Paz no futuro e _____ no passado".

- a) O lábaro / verde-louro / glória;
- b) O trabalho / verde-louro / saúde;
- c) O lábaro / verde-branco / glória;
- d) O trabalho / verde-louro / paz.

12) Compõem o espaço natural de um determinado lugar, **exceto**:

- a) Nascentes;
- b) Florestas;
- c) Montanhas;
- d) Ponte.

13) Qual o principal recurso natural para geração de energia hidrelétrica.

- a) Água;
- b) Sol;
- c) Vento;
- d) Carvão.

14) De suma importância para os seres vivos, a água tornou protagonista dos últimos noticiários que abordaram a crise hídrica. Qual a data instituída pela ONU que visa à conscientização da população a respeito da água?

- a) 22 de abril;
- b) 22 de março;
- c) 23 de março;
- d) 23 de abril.

15) Para medir objetos e lugares usamos medidas de comprimento. Os mais usados são, **exceto**:

- a) Centímetro;
 - b) Metro;
 - c) Quilometro;
 - d) Metro Cúbico.
-

16) Como é chamado o conjunto de planetas, cometas e satélites que se movimentam ao redor do sol?

- a) Sistema solar;
- b) Lua e Sol;
- c) Galáxia;
- d) Habitat.

17) Correlacione:

- I- Responsável;
- II- Integrante;
- III- Indivíduo;
- IV- Comunitário.

() Da comunidade das pessoas que vivem em um mesmo lugar;
() pessoa considerada de modo isolado em sua comunidade, numa sociedade ou coletividade;
() Aquele que é parte de um todo;
() O que sente a obrigação de cuidar.

- a) IV, III, I, II;
- b) IV, III, II, I;
- c) I, II, III, IV;
- d) IV, II, III, I.

18) É um meio de comunicação, **exceto**:

- a) Internet;
- b) Carta;
- c) Telefone;
- d) Metrô.

19) Qual é o município que **não** é vizinho da cidade de Santana do Jacaré/MG?

- a) Cana Verde (MG);
- b) Perdões (MG);
- c) Campo Belo (MG);
- d) Lavras (MG).

20) Qual é a principal atividade econômica e empregadora do município de Santana do Jacaré/MG?

- a) Indústria;
- b) Comércio;
- c) Agropecuária;
- d) Extração.

PROVA Nº05 ESPECÍFICA

21) A CIPA terá as seguintes atribuições:

- I- Identificar os riscos do processo de trabalho, e elaborar o mapa de riscos, com a participação do maior número de trabalhadores, com assessoria do SESMT, onde houver;
- II- Elaborar plano de trabalho que possibilite a ação preventiva na solução de problemas de segurança e saúde no trabalho;
- III- Participar da implementação e do controle da qualidade das medidas de prevenção necessárias, bem como da avaliação das prioridades de ação nos locais de trabalho.

Estão corretas as afirmativas:

- a) Somente a afirmativa II;
- b) Somente a afirmativa III;
- c) Todas as afirmativas;
- d) Nenhuma das afirmativas.

22) Marque a lacuna corretamente:

_____ são situações que impedem a realização ou continuidade do serviço que possam colocar em risco a saúde ou a integridade física do trabalhador.

- a) Condições impeditivas;
- b) Cinto de segurança;
- c) Fator de queda;
- d) Riscos adicionais.

23) Para maior segurança dos trabalhadores, as atividades que utilizam-se de cordas devem ser inspecionados nas seguintes situações, **exceto**:

- a) Antes da sua utilização;
- b) Periodicamente, _____ com periodicidade mínima de seis meses;
- c) Somente quando o equipamento apresentar desgaste;
- d) Em função do tipo de utilização ou exposição a agentes agressivos, o intervalo entre as inspeções deve ser reduzido.

24) As principais causas de acidentes no local de trabalho são, **exceto**:

- a) Desconhecimento do risco ou perigo;
- b) Falta de treinamento;
- c) Falta de concentração.
- d) Uso de EPI.

25) Qual equipamento de proteção individual ideal para exposição a níveis elevados de pressão sonora, podendo gerar redução temporária ou permanente da audição?



a)



b)



c)



d)

26) Preencha a lacuna corretamente:

_____ corresponde à estrutura do veículo e sustenta todas as demais peças.

- a) Suspensão;
- b) Chassi;
- c) Cárter;
- d) Escapamento.

27) Corresponde aos quatro tempos de trabalho do motor.

- I- Admissão;
- II- Compressão;
- III- Explosão;
- IV- Descarga.

Associe corretamente e após, marque a alternativa correspondente.

() Tempo em que a mistura ar + combustível é admitida para dentro da câmara de combustão (cilindro do motor);

() Tempo em que o comburente (ar + combustível) é comprimido contra o cabeçote do motor;

() Tempo em que o comburente é inflamado por uma faísca elétrica provocada pela vela de ignição;

() Tempo em que os resíduos, resultantes da queima do comburente, são eliminados pelo escapamento do veículo.

a) I, II, III, IV;

b) II, I, III, IV;

c) III, I, IV, II;

d) IV, III, II, I.

28) Sobre as regras de percurso. Assinale V para as afirmativas verdadeiras e F para as afirmativas falsas.

() Mão de Direção: O trânsito brasileiro deve ser realizado pelo lado direito da via, admitidas exceções devidamente sinalizadas;

() Distância de segurança: Lateral - 1,5 metros e Frontal/Seguimento - 2 segundos;

() Pista com várias faixas: Faixa da esquerda para os veículos mais lentos e de maior porte, quando não existir faixa especial para eles. Faixa da direita para os veículos em ultrapassagem e em maior velocidade.

() Transito sobre calçadas e passeios: Só é permitido para entrar ou sair de garagens e áreas de especiais de estacionamento.

() Responsabilidade entre veículos: Os veículos de grande porte são responsáveis pela segurança dos de menor porte, os motorizados pelos não motorizados

e todos juntos pela segurança dos pedestres.


a) V, V, V, V, V;


b) V, F, V, V, V;


c) V, V, F, V, V;




d) V, F, F, V, V.

29) Um dos Tipos de Dispositivos de Sinalização de Alerta são os Marcadores de Obstáculos. Abaixo correlacione corretamente de acordo a finalidade de cada um:

I- 

II- 

III- 

()  ()  () 

a) III, II, I;

b) II, I, III;

c) I, II, III;

d) III, I, II.

30) A sinalização horizontal mantém alguns padrões cuja mescla e a forma de coloração na via definem os diversos tipos de sinais. A sinalização horizontal de cor Branca é:

a) Utilizada nas pinturas de símbolos de pessoas portadoras de deficiência física, em áreas especiais de estacionamento ou de parada para embarque e desembarque;

b) Utilizada na regulação de fluxos de sentidos opostos; na delimitação de espaços proibidos para estacionamento e/ou parada e na marcação de obstáculos;

c) Utilizada para proporcionar contraste, quando necessário, entre a marca viária e o pavimento das ciclofaixas e/ou ciclovias, na parte interna destas, associada à linha de bordo branca ou de linha de divisão de fluxo de mesmo sentido e nos símbolos de hospitais e farmácias (cruz);

d) Utilizada na regulação de fluxos de mesmo sentido; na delimitação de trechos de vias, destinados ao estacionamento regulamentado de veículos em condições especiais; na marcação de faixas de travessias de pedestres, símbolos e legendas.