

PREFEITURA MUNICIPAL DE SÃO JOSÉ DOS CAMPOS

CONCURSO PÚBLICO

006. PROVA OBJETIVA

ASSISTENTE TÉCNICO EM SAÚDE – TÉCNICO EM ENFERMAGEM

- ◆ Você recebeu sua folha de respostas e este caderno contendo 50 questões objetivas.
- ◆ Confira seus dados impressos na capa deste caderno e na folha de respostas.
- ◆ Quando for permitido abrir o caderno, verifique se está completo ou se apresenta imperfeições. Caso haja algum problema, informe ao fiscal da sala.
- ◆ Leia cuidadosamente todas as questões e escolha a resposta que você considera correta.
- ◆ Marque, na folha de respostas, com caneta de tinta azul ou preta, a letra correspondente à alternativa que você escolheu.
- ◆ A duração da prova é de 3 horas, já incluído o tempo para o preenchimento da folha de respostas.
- ◆ Só será permitida a saída definitiva da sala e do prédio após transcorridos 75% do tempo de duração da prova.
- ◆ Ao sair, você entregará ao fiscal a folha de respostas e este caderno, podendo levar apenas o rascunho de gabarito, localizado em sua carteira, para futura conferência.
- ◆ Até que você saia do prédio, todas as proibições e orientações continuam válidas.

AGUARDE A ORDEM DO FISCAL PARA ABRIR ESTE CADERNO DE QUESTÕES.

Nome do candidato _____

Prédio _____

Sala _____

Carteira _____

Inscrição _____

LÍNGUA PORTUGUESA

Leia a tira para responder às questões de números 01 e 02.



(Disponível em <http://www1.folha.uol.com.br>. Acesso em 12.04.2014)

01. Releia o seguinte trecho da primeira fala da tira:

... peguei uma gripe... / ... e não consegui comer...

O segundo segmento frasal – ... e não consegui comer... – expressa, em relação ao primeiro,

- (A) a causa da gripe.
- (B) a finalidade da gripe.
- (C) a proporção da gripe.
- (D) uma consequência da gripe.
- (E) uma explicação para a gripe.

02. A expressão em destaque na fala do primeiro quadrinho – Lembra **no inverno passado** quando peguei uma gripe... – expressa circunstância de

- (A) modo.
- (B) tempo.
- (C) dúvida.
- (D) afirmação.
- (E) intensidade.

Leia o texto para responder às questões de números 03 a 08.

Ideologia e saúde

A ideologia é um troço esquisito. Ela não se limita a turvar a visão das pessoas em relação aos assuntos de sempre, como papel do Estado, aborto, legalização das drogas, mas também está sempre em busca de novos temas sobre os quais possa lançar seus feitiços.

Um caso bem documentado desse fenômeno é a atitude dos norte-americanos em relação ao aquecimento global. Mais ou menos até os anos 80, a proteção ambiental em geral e o efeito estufa em particular não constituíam questões ideológicas. A probabilidade de um político norte-americano defender uma plataforma ambientalista era muito baixa, fosse ele democrata ou republicano.

Do final dos anos 90 para cá, porém, o panorama mudou bastante.

Agora, assistimos praticamente ao vivo a um movimento semelhante em relação a um tema improvável: as vacinas. Os EUA vivem hoje um surto de sarampo que pode ser diretamente ligado à queda nas taxas de vacinação. E há dois tipos de pais que deixam deliberadamente de vacinar seus filhos.

Pela direita, temos ultraconservadores religiosos que desconfiam de tudo o que venha de cientistas ou do governo e, pela esquerda, há, principalmente na Califórnia, bolsões de liberais desmiolados que acreditam sem base fática que a vacina tríplice viral está associada a casos de autismo.

Em comum, ambos colocam suas convicções, que têm muito mais de emocional que de racional, à frente de sólidas evidências científicas. Pior, sua obstinação faz com que ponham em risco não só seus próprios filhos como também terceiros. Nunca foi tão verdadeira a máxima segundo a qual a ideologia faz mal à saúde.

(Hélio Schwartzman. *Folha de S.Paulo*. 08.02.2015. Adaptado)

03. Releia o seguinte trecho do penúltimo parágrafo do texto:

... há, principalmente na Califórnia, bolsões de liberais **desmiolados** que acreditam sem base fática que a vacina tríplice viral está associada a casos de autismo.

O termo em destaque no trecho foi utilizado pelo autor para enfatizar sua opinião de que associar a vacina tríplice viral a casos de autismo é uma postura

- (A) conveniente.
- (B) irrelevante.
- (C) insensata.
- (D) criteriosa.
- (E) oportuna.

04. Segundo a opinião do autor expressa no primeiro parágrafo do texto, a ideologia está sempre em busca de novos temas sobre os quais possa
- (A) ajudar as pessoas a concebê-los a partir de seu próprio ponto de vista, por meio do qual poderão formar suas próprias opiniões.
 - (B) criar obstáculos para que as pessoas os percebam com clareza, sendo esta essencial para que possam formar suas próprias opiniões.
 - (C) fornecer elementos para que as pessoas possam compreendê-los de maneira imparcial, a fim de que possam formar suas próprias opiniões.
 - (D) propiciar meios para que as pessoas os compreendam com base na percepção coerente da realidade, e possam formar suas próprias opiniões.
 - (E) criar condições para que as pessoas os percebam a partir de suas impressões pessoais, com base nas quais poderão formar suas próprias opiniões.
05. De acordo com o segundo parágrafo do texto, para os norte-americanos, mais ou menos até os anos 80, as questões ambientais em geral e particularmente o efeito estufa
- (A) constituíam uma importante plataforma de debates políticos.
 - (B) estavam na base da sólida ideologia de proteção ambiental.
 - (C) constituíam uma ideologia, mas que não resultava em políticas.
 - (D) eram temas sobre os quais não se havia formado uma ideologia.
 - (E) já atraíam os debates políticos e constituíam uma tímida ideologia.
06. De acordo com o autor, a máxima segundo a qual ideologia faz mal à saúde se justifica, nesse contexto, porque, ao deixarem de vacinar seus filhos, os pais o fazem
- (A) alheios às evidências científicas, motivados apenas por suas crenças.
 - (B) observando as evidências científicas, em detrimento de suas crenças.
 - (C) amparados por sua própria convicção destituída de apelo sentimental.
 - (D) a partir de suas crenças, cujo raciocínio parte de evidências científicas.
 - (E) com base em um raciocínio construído a partir de evidências científicas.
07. No trecho do último parágrafo – ... sua **obstinação** faz com que ponham em risco não só seus próprios filhos como também terceiros. –, o termo em destaque tem sentido equivalente ao de
- (A) condescendência.
 - (B) indiscrição.
 - (C) ingerência.
 - (D) aceitação.
 - (E) teimosia.
08. Assinale a alternativa cujo termo destacado está empregado, no contexto, em sentido figurado.
- (A) ... está sempre em busca de novos temas sobre os quais possa lançar seus **feitiços**.
 - (B) A **probabilidade** de um político norte-americano defender uma plataforma ambientalista era muito baixa...
 - (C) E há dois tipos de pais que deixam **deliberadamente** de vacinar seus filhos.
 - (D) ... acreditam sem base **fática** que a vacina tríplice viral está associada a casos de autismo.
 - (E) ... colocam suas convicções, que têm muito mais de emocional que de racional, à frente de sólidas **evidências** científicas.
09. Assinale a alternativa correta quanto à concordância das palavras, de acordo com a norma-padrão da língua portuguesa.
- (A) Existe razões diversas e desconhecidas por trás da formação de algumas ideologias.
 - (B) Haveriam, existindo interesse, meios de se construir uma nova política de proteção ambiental.
 - (C) A percepção dos acontecimentos a partir do qual formamos opinião não deveria estar “contaminada”.
 - (D) Algumas convicções traz danos, à medida que têm efeitos reais sobre a nossa percepção.
 - (E) Algumas crenças acabam se consolidando a ponto de se transformarem em ideologias.



(Bill Watterson. *As aventuras de Calvin e Haroldo*. São Paulo: Conrad Editora, 2010)

A reescrita da fala do último quadrinho está correta quanto à pontuação, de acordo com a norma-padrão da língua portuguesa, em:

- (A) Acho, que as pessoas quando crescem, perdem a noção do que é ou não legal.
- (B) Acho que, as pessoas quando crescem, perdem a noção do que é ou não legal.
- (C) Acho que as pessoas, quando crescem, perdem a noção do que é ou não legal.
- (D) Acho que as pessoas, quando crescem perdem, a noção do que é ou não legal.
- (E) Acho que as pessoas, quando crescem perdem a noção, do que é ou não legal.

11. Em um número de cinco algarismos, o produto do algarismo das unidades com o algarismo das dezenas de milhar é igual a 3, e o produto do algarismo das dezenas com o algarismo das centenas é igual a 4. Nesse número, o produto de todos os algarismos é zero e existem mais algarismos ímpares do que pares; logo, a soma de seus algarismos é igual a

Considere a tabela das ordens e classes dos números:

Classe dos milhões			Classe dos milhares			Classe das unidades		
Centena de milhar	Dezena de milhar	Unidade de milhar	Centena de milhar	Dezena de milhar	Unidade de milhar	Centenas	Dezenas	Unidades

- (A) 6.
- (B) 7.
- (C) 8.
- (D) 9.
- (E) 10.

12. O time de Rogério já venceu 12 partidas das 19 que disputou. Até o fim do campeonato, seu time irá jogar mais 13 vezes e, para que o total de vitórias seja no mínimo 75%, o número máximo de empates ou derrotas que seu time poderá ter, nos jogos que ainda jogará, é

- (A) 1.
- (B) 2.
- (C) 3.
- (D) 4.
- (E) 5.

13. Uma firma foi contratada para fazer a manutenção das esquadrias de um edifício. Inicialmente, foram alocados 4 operários que demorariam 20 dias para concluir o serviço. A partir do sétimo dia de serviço, a firma disponibilizou mais 4 operários, todos com as mesmas condições de trabalho que os iniciais, e a manutenção demorou um total de dias igual a

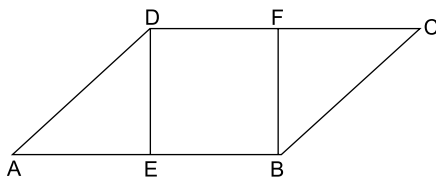
- (A) 12.
- (B) 13.
- (C) 14.
- (D) 15.
- (E) 16.

14. Para organizar sua coleção de miniaturas, Erica comprou uma estante com um número fixo de nichos. Após colocar 4 miniaturas por nicho, 7 miniaturas ficaram fora da estante. Ao tentar colocar 5 miniaturas por nicho, 3 nichos ficaram vazios e um nicho ficou com 3 miniaturas.

A diferença entre o número de miniaturas e o número de nichos dessa prateleira é igual a

- (A) 51.
- (B) 59.
- (C) 67.
- (D) 71.
- (E) 79.

15. Os pontos E e F pertencem aos lados do paralelogramo ABCD, conforme ilustra a figura, que está fora de escala.



Sabendo-se que EBF D é um quadrado de área 36 cm^2 e que o lado CD é 4 cm maior que o lado BC, o perímetro, em cm, do paralelogramo ABCD é igual a

- (A) 46.
- (B) 48.
- (C) 50.
- (D) 52.
- (E) 54.

16. Gabriel é o único homem em uma família de 7 irmãos, sendo Juliana uma das irmãs. A média das alturas das irmãs de Gabriel é de 163 cm, e a média das alturas das irmãs de Juliana é de 165 cm. A altura de Juliana, em cm, é igual a

- (A) 153.
- (B) 154.
- (C) 155.
- (D) 156.
- (E) 157.

17. Em um polígono convexo de n lados, dois ângulos medem 155° , um mede 140° , um mede 170° e todos os demais medem 160° . Sabendo-se que a soma dos ângulos de um polígono convexo é dada pela fórmula $S = 180(n - 2)$, onde n representa o número de lados do polígono, conclui-se corretamente que para esse polígono n é igual a

- (A) 15.
- (B) 16.
- (C) 17.
- (D) 18.
- (E) 19.

18. O primeiro elemento de uma sequência é 20. Se um elemento dessa sequência é um número negativo, o próximo é 20 a mais do que esse elemento. Se um elemento dessa sequência não é um número negativo, o próximo é 3 a menos do que esse elemento. O menor número que aparece nessa sequência é

- (A) -1.
- (B) -2.
- (C) -3.
- (D) -4.
- (E) -5.

Leia o texto para responder às questões de números 19 e 20.

Na lendária ilha de Myjsf, todos os habitantes praticam ou surfe ou canoagem. Os homens que praticam surfe sempre dizem a verdade e os homens que praticam canoagem sempre mentem. Com as mulheres, acontece o contrário, ou seja, as mulheres que praticam surfe sempre mentem e as mulheres que praticam canoagem sempre dizem a verdade.

19. Ao chegar à ilha de Myjsf, um turista foi recebido por um de seus habitantes, que disse: “Eu falo a verdade”.

Essa frase pode ter sido dita

- (A) apenas por um homem.
- (B) apenas por uma mulher.
- (C) apenas por quem pratica surfe.
- (D) apenas por quem pratica canoagem.
- (E) por qualquer habitante da ilha.

20. Em uma festa à fantasia na ilha de Myjsf, um habitante se aproximou de um turista e, disfarçando a voz, disse: “Eu sou mulher”.

Essa frase pode ter sido dita

- (A) apenas por um homem.
- (B) apenas por uma mulher.
- (C) apenas por quem pratica surfe.
- (D) apenas por quem pratica canoagem.
- (E) por qualquer habitante da ilha.

21. O grupo extremista islâmico autodenominado “Estado Islâmico” (EI) começou a destruir mais um sítio arqueológico no norte do Iraque, segundo fontes curdas. A antiga cidade de Hatra foi fundada durante o império parta, há mais de dois mil anos, e é considerada pela Unesco, órgão da ONU, um patrimônio histórico da humanidade. No início desta semana, militantes do grupo haviam começado a demolir as ruínas da cidade de Nimrud, antiga capital do império assírio fundada no século 13 a.C.. Essa onda de destruição de patrimônios históricos e culturais gerou revolta entre autoridades e pesquisadores.

(UOL, 7 mar.15. Disponível em: <<http://goo.gl/hCjcb3>> Adaptado)

Nesse episódio, ao destruir alguns patrimônios históricos no Iraque, o “Estado Islâmico”

- (A) fez vídeos em que ameaça destruir o patrimônio de cidades ocidentais, como Paris e Roma, deixando autoridades em alerta para atentados terroristas.
- (B) exigiu, em seus comunicados, que Londres e Nova Iorque devolvessem aos povos do Oriente Médio os patrimônios árabes expostos em grandes museus.
- (C) pôs à venda no mercado negro artefatos antigos, transformando antiguidades em uma importante fonte de renda para o grupo.
- (D) defendeu que os países árabes islâmicos retirem do currículo das suas escolas as aulas de História, para não divulgar as civilizações do passado.
- (E) retomou a prática da Al Qaeda de não registrar com fotos ou vídeos essa destruição, para não serem responsabilizados por crimes de guerra.

22. *Syriza faz aliança com partido de direita e obtém maioria no Parlamento*

O novo premier grego, Alexis Tsipras, líder da esquerda radical, fechou acordo com um pequeno partido de direita, numa aliança incomum para obter maioria no Parlamento, após a vitória de seu partido Syriza nas eleições de domingo.

(O Globo, 26 jan.15. Disponível em: <<http://goo.gl/NKBxsE>> Adaptado)

O que aproximou os dois partidos foi a oposição

- (A) à política grega de imigração.
- (B) à saída da Grécia da União Europeia.
- (C) às políticas de austeridade.
- (D) às políticas de incentivo à industrialização.
- (E) aos acordos bilaterais firmados entre a Grécia e os EUA.

23. *Protestos e violência marcam inauguração da sede do Banco Central Europeu*

A inauguração da sede do Banco Central Europeu, em Frankfurt, na Alemanha, uma construção de 1,3 bilhão de euros (R\$ 4,5 bilhões), levou milhares de manifestantes às ruas hoje (18 de março) em um violento protesto. Houve confronto entre a polícia e os manifestantes, que quebraram vidraças, incendiaram carros e fizeram barricadas de pneus e contêineres de lixo.

(EBC, 18 mar.15. Disponível em: <<http://goo.gl/ltlZPf>> Adaptado)

As manifestações foram

- (A) contra a troica, composta pelo Banco Central Europeu, pela Comissão Europeia e pelo Fundo Monetário Internacional, que tem a tarefa de monitorar o cumprimento das condições impostas nos acordos de resgate financeiros, e que tem sido acusada de favorecer o capital em detrimento dos interesses do povo europeu.
- (B) contra a União Europeia, considerada pelos alemães a culpada pela crise econômica vivida pela Europa desde 2008, além de ser vista como deficitária no país, pois os impostos arrecadados na Alemanha revertem-se em gastos e investimentos nos países menos desenvolvidos da Zona do Euro.
- (C) a favor da restauração do Marco Alemão, a moeda alemã que antecedeu o Euro e que dava mais liberdade para a Alemanha na definição da sua política monetária, permitindo ao país desvalorizar a moeda ou alterar a taxa de juros, a depender das condições macroeconômicas e do cenário econômico global.
- (D) a favor das políticas de ajuste fiscal que foram impostas pelos países da Zona do Euro às economias menos desenvolvidas, mas que têm sido repensadas pelo Banco Central Europeu, mais propenso a estabelecer políticas desenvolvimentistas que terão como consequência o aumento da inflação na Europa.
- (E) críticas às consequências das políticas econômicas impostas pelo Banco Central Europeu que têm levado ao aumento de gastos por parte dos Estados europeus, cada vez mais comprometidos com o financiamento de grandes empreendimentos econômicos e pouco preocupados com a economia de recursos.

24. O Colegiado da Comissão de Valores Mobiliários (CVM), órgão que regula o mercado financeiro no Brasil, decidiu aplicar quatro multas, no total de R\$ 1,4 milhão, ao empresário Eike Batista. O julgamento foi nesta quarta-feira (18 de março). Eike e outros 15 executivos são julgados pela CVM em cinco processos relativos às empresas MPX, LLX, CCX e OGX.

(UOL, 18 mar.15. Disponível em: <http://goo.gl/Wlj5jC> Adaptado)

As multas aplicadas referem-se a julgamento por

- (A) falha na divulgação de informações ao mercado, pois todas as empresas que têm ações negociadas na Bolsa de Valores precisam seguir regras sobre em que situações e de que forma devem divulgar informações ao mercado.
- (B) fraude em balanços apresentados à Bolsa de Valores, para que a contabilidade de suas empresas parecesse sempre positiva, o que levava à valorização das ações e ao pagamento de mais lucros e dividendos.
- (C) sonegação fiscal, pois as suas empresas não teriam recolhido adequadamente os impostos devidos à Receita Federal, especialmente os impostos relacionados à renda e à negociação de ações no mercado financeiro.
- (D) evasão de divisas, pois o lucro oriundo da sua atividade empresarial era enviado diretamente para alguns paraísos fiscais como a Suíça e as ilhas Cayman, o que levou ao enriquecimento ilícito do empresário.
- (E) lavagem de dinheiro, pois os recursos obtidos por meio de atividades empresariais ilícitas eram declarados legalmente em empresas de fachada, o que permitia ao empresário movimentá-los sem mostrar a sua origem criminosa.

25. O ex-diretor do Banco do Brasil Henrique Pizzolato se entregou à Justiça italiana nesta quinta-feira (12 de fevereiro), após a Corte de Cassação de Roma ter decidido extraditá-lo. Ele se entregou na cidade de Maranello, no norte da Itália, poucas horas após a Justiça italiana ter acatado o pedido do governo brasileiro. O ex-dirigente do Banco do Brasil foi condenado a 12 anos e 7 meses de prisão.

(G1, 12 fev.15. Disponível em: <http://goo.gl/x4OnHI> Adaptado)

O principal argumento utilizado pela defesa para evitar a extradição é

- (A) o fato de que Pizzolato ainda tem direito a entrar com recurso contra a sua condenação no Brasil, o que tornaria a sua extradição desnecessária no momento.
- (B) a constatação de que a maior parte dos condenados no mesmo julgamento que Pizzolato já está fora da prisão, o que levou Pizzolato a concluir que já cumpriu a sua pena na Itália.
- (C) a prescrição dos crimes cometidos pelos quais Pizzolato foi condenado, e, portanto, a impossibilidade de cumprir a pena depois de passado muito tempo da condenação.
- (D) o reconhecimento da justiça italiana de que o julgamento a que Pizzolato foi submetido não foi legítimo, pois não garantiu o amplo direito de defesa do acusado.
- (E) o tratamento desumano e degradante ao qual os detentos podem ser submetidos nas prisões brasileiras, e que o Estado brasileiro não pode garantir a segurança pessoal de Pizzolato na prisão.

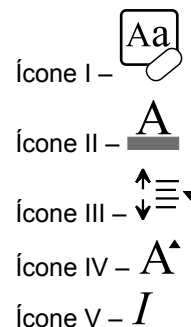
26. Na Prefeitura Municipal, foi criada uma planilha de controle, por meio do MS-Excel 2010 na sua configuração padrão, conforme ilustra a figura. Na coluna A, consta o nome da creche, na coluna B, a quantidade de funcionários alocada na creche, na coluna C, a quantidade de crianças atendidas, na coluna D, a verba repassada para cada creche, e na E, consta o total de salários gastos com os funcionários em cada creche.

	A	B	C	D	E
1	Nome da Creche	Quantidade de Funcionários	Quantidade de Crianças Atendidas	Verba Fornecida Mensal	Total de Salários Gastos com os Funcionários em cada Creche
2	Creche Alegria Geral	17	65	R\$ 20.000,00	R\$ 32.850,12
3	Creche Centro Cultural	18	105	R\$ 22.000,00	R\$ 30.600,15
4	Creche Criança Feliz	15	70	R\$ 18.000,00	R\$ 26.956,50
5	Creche Laura Cardoso	25	140	R\$ 28.000,00	R\$ 45.450,40
6	Creche Maria Aparecida	22	98	R\$ 25.000,00	R\$ 35.000,00
7	Creche Papai Noel	19	82	R\$ 19.000,00	R\$ 29.000,00
8	Creche Recanto da Paz	30	200	R\$ 40.000,00	R\$ 55.000,50
9					
10	Total de Salários	R\$ 100.450,90			
11					

Para calcular o total de salários gastos com as creches que contêm mais de 20 funcionários e que atendem mais de 100 crianças, a fórmula a ser aplicada na célula B10 é:

- (A) =SOMASES(E2:E8;B2:B8;">20";C2:C8;">100")
- (B) =SOMASES(B2:B8;E2:E8;">20";C2:C8;">100")
- (C) =SOMASES(E2:E8;C2:C8;">20";B2:B8;">100")
- (D) =SOMASE(E2;E8;B2:B8;">20";C2:C8;">100")
- (E) =SOMASE(C2:C8;B2:B8;">20";E2:E8;">100")

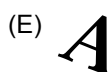
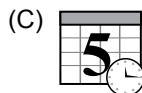
27. No MS-Word 2010, a partir da sua configuração padrão, baseado na figura que apresenta 5 ícones numerados de I a V, o número do ícone que permite alterar o espaçamento entre as linhas de texto é _____, e o número do ícone que permite aumentar a fonte de um texto previamente selecionado é _____.



Assinale a alternativa que preenche, correta e respectivamente, as lacunas da frase.

- (A) II ... IV
- (B) I ... III
- (C) III ... V
- (D) III ... IV
- (E) IV ... V

28. No MS-PowerPoint 2010, na sua configuração padrão, na guia Inserir, o ícone que permite inserir “Número do Slide” é:



29. No MS-Windows 7, a partir da sua configuração padrão, a tecla que permite capturar uma tela inteira e copiá-la para a Área de Transferência é PrtScn (em alguns teclados, PrtScn pode aparecer como PRTSC, PRTSCN, Print Screen, ou uma abreviação similar). Em vez de capturar uma Tela inteira, é possível capturar apenas uma janela ativa.

Assinale a alternativa que contém o conjunto de teclas que efetua essa operação.

- (A) Alt + PrtScn
- (B) Ctrl + PrtScn
- (C) ESC + PrtScn
- (D) F1 + PrtScn
- (E) F2 + PrtScn

30. Com relação à preparação de um e-mail, conforme figura, assinale a alternativa correta que informa qual campo apresenta algum erro e a justificativa correta que explique o motivo do erro.

Para...	suporte.rj@globo.com;sergio.sp@yahoo.com.br
Cc...	contato.empresa @vunesp.com.br
Cco...	fernanda.silva\$terra.com.br
Assunto	

- (A) O campo “Assunto” apresenta erro, pois o seu preenchimento é obrigatório.
- (B) O campo “Cco” apresenta erro, pois esse campo só poderá ser usado se o outro campo “Cc” estiver vazio.
- (C) O campo “Para” apresenta erro, pois só pode conter um endereço eletrônico.
- (D) O campo “Cc” apresenta erro, pois esse campo só poderá ser usado se o campo “Para” estiver vazio.
- (E) O campo “Cco” apresenta erro, pois o endereço eletrônico contido está errado.

CONHECIMENTOS ESPECÍFICOS

31. O técnico de enfermagem (TE) solicitou a presença do médico na unidade de clínica cirúrgica, para prescrever medicação pré-anestésica para uma paciente internada para se submeter à histerectomia. Alegando estar longe da instituição, o profissional prescreveu, por telefone, a medicação a ser utilizada e o horário em que deveria ser aplicada.

De acordo com a Resolução COFEN 225/2000, que dispõe sobre cumprimento de prescrição medicamentosa/terapêutica à distância, o TE deve

- (A) informar ao médico que só poderá administrar o medicamento após receber a prescrição via email ou mensagem SMS.
- (B) recusar-se a administrar prescrição medicamentosa realizada por meio de telefone, pois esta ação é vedada aos profissionais de enfermagem.
- (C) solicitar ao enfermeiro que transcreva no prontuário da paciente a prescrição transmitida via telefone, antes de administrar o medicamento.
- (D) executar a prescrição após autorização do enfermeiro responsável e registrar no prontuário da paciente a data e hora do contato telefônico do médico, os medicamentos administrados e a via de administração.
- (E) informar a situação ao paciente e/ou seu responsável, administrando o medicamento prescrito somente após sua concordância e autorização por escrito.

Para responder à questão de número 32, leia atentamente o texto a seguir.

Pacientes esperam por tratamento que pode evitar retirada de olho

Mariana Lenharo
Do G1, em São Paulo. 01.02.2015

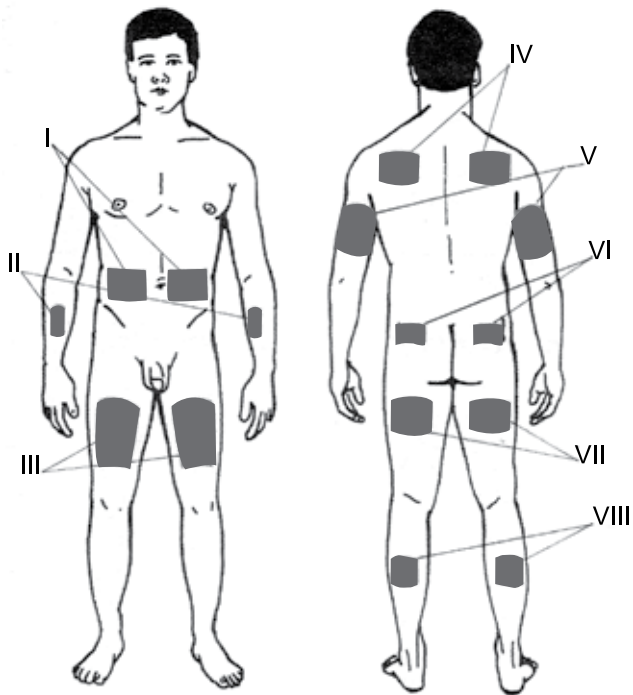
Há cerca de dois anos, Diva Moreira Rodrigues, de 77 anos, começou a perder a visão do olho esquerdo. Os médicos diagnosticaram melanoma de coróide, tumor que afeta uma camada do globo ocular que fica entre a parte branca do olho e a retina. No caso de Diva, o tratamento capaz de evitar que seu olho tenha de ser totalmente removido por cirurgia é a braquiterapia. Trata-se de um tipo de radioterapia em que uma pequena placa radioativa é implantada no olho do paciente, agindo diretamente na região do tumor.

O Hospital São Paulo, onde Diva é atendida, é a única instituição pública que já ofereceu esse tipo de tratamento no país. Porém, desde 2013, a placa não está disponível. O caso de Diva não é o único. O setor de Oncologia Ocular do Hospital São Paulo recebeu no ano passado 424 novos pacientes. Do total, todos aqueles que tinham tumores de até 5 mm poderiam ter sido tratados com braquiterapia. “Pior do que isso é imaginar todos os pacientes que não estão recebendo o tratamento e têm o olho removido”, diz o oftalmologista Rubens Belfort.

(Disponível em: www.g1. Adaptado)

- 32.** A situação descrita na notícia fere, entre outros aspectos, o princípio do Sistema Único de Saúde – SUS de
- hierarquização da rede de serviços de saúde.
 - integralidade da assistência.
 - descentralização dos serviços de atendimento a grupos com necessidades especiais.
 - regionalização da rede de serviços de saúde.
 - referência e contra-referência.
- 33.** Ao iniciar o plantão no setor de Pronto Socorro, o técnico de enfermagem recebeu um paciente vítima de acidente de moto, com suspeita de fratura do úmero (U) e do rádio (R). Esses ossos se localizam, respectivamente, em
- U = braço; R = perna.
 - U = antebraço; R = braço.
 - U = perna; R = pé.
 - U = braço; R = antebraço.
 - U = coxa; R = perna.
- 34.** A prescrição médica é
- SF 7,5% 100 mL → Correr em 30 minutos*
- O técnico de enfermagem constatou que na unidade estavam disponíveis frascos com 100 mL de soro fisiológico 0,9%, ampolas com 10 mL de NaCl a 20% e equipo de microgotas. Assim sendo, considerando-se a prescrição médica, para o preparo e administração da solução, o volume total (V) de NaCl a 20% a ser acrescentado ao frasco e a velocidade de gotejamento do soro (G) deverão ser, respectivamente, de
- V = 3,3 mL; G = 200 microgotas por minuto.
 - V = 3,45 mL; G = 33 microgotas por minuto.
 - V = 30,3 mL; G = 33 microgotas por minuto.
 - V = 34,5 mL; G = 200 microgotas por minuto.
 - V = 34,5 mL; G = 100 microgotas por minuto.
- 35.** Ao aferir a pressão arterial de um cliente/paciente, o técnico de enfermagem deve determinar a pressão diastólica no momento
- do desaparecimento do som dos batimentos cardíacos (fase V de Korotkoff).
 - do abafamento dos sons dos batimentos cardíacos (fase IV de Korotkoff).
 - da mudança do som, caracterizado pela maior nitidez na audibilidade dos batimentos cardíacos (fase III de Korotkoff).
 - do aparecimento do primeiro som (fase I de Korotkoff), seguido de batidas regulares que se intensificam com o aumento da velocidade de deflação.
 - em que se torna audível o som de “sopro”, resultante da passagem do sangue na artéria ainda comprimida (fase II de Korotkoff).
- 36.** R.S., 56 anos, sexo feminino, está internada com diagnóstico de trombose venosa profunda. Entre outros medicamentos, faz uso de heparina por via subcutânea. O técnico de enfermagem que assiste essa paciente deve estar atento ao surgimento da principal complicação no uso desse tipo de terapia, que consiste em
- crise hipertensiva.
 - hipertermia, ao entardecer.
 - vômitos e diarreia.
 - hipoglicemia, pela manhã.
 - sangramento espontâneo, em qualquer lugar no corpo.
- 37.** Paciente em 3º PO de cirurgia neurológica pós-traumatismo craniano (TCE), em coma, está recebendo alimentação por sonda nasoenteral. Com o objetivo de prevenir a distensão abdominal e cólicas, o técnico de enfermagem deve
- manter sem ar o equipo utilizado para administração da dieta.
 - administrar a dieta em infusão rápida.
 - manter a cabeceira do leito elevada, no máximo, a 15°, por 30 minutos após administração da dieta.
 - administrar a fórmula de alimentação em temperatura baixa (fria).
 - colocar o paciente em decúbito lateral esquerdo durante a administração da dieta.
- 38.** Enquanto aguardava ser chamada para coleta de exames, uma cliente apresentou crise convulsiva tônico-clônica. Nessa situação, a assistência de enfermagem prestada pelo técnico de enfermagem deve compreender, entre outros cuidados,
- segurar de modo firme as extremidades, evitando que a vítima se debata.
 - forçar a abertura da boca, mesmo que já esteja cerrada, e colocar um protetor entre os dentes para evitar a mordedura da língua.
 - colocar a vítima em decúbito ventral, evitando que aspire secreções.
 - medicar a vítima, introduzindo em sua boca um comprimido de droga antiépilética.
 - proteger a cabeça da vítima para que não ocorram ferimentos ao se debater.

39. Considere a figura a seguir e assinale a alternativa que apresenta, de forma correta, as principais regiões onde pacientes diabéticos insulinodependentes devem ser orientados a aplicar a injeção de insulina por via subcutânea.



(Brunner & Suddarth, 1999)

- (A) I e III.
 (B) II; VI e VII.
 (C) I; V e VI e VII.
 (D) I; III; V e VI.
 (E) III; IV; VI; VII e VIII.
40. Em uma Unidade de Saúde da Família – USF, o técnico de enfermagem (TE) faz grupos de orientação sobre prevenção de doenças para os usuários que aguardam suas consultas. De acordo com o preconizado pelo Ministério da Saúde (2006), no que diz respeito à hipertensão, o TE deve recomendar que, para atingir o objetivo de baixar a pressão arterial e ajudar no controle do peso, a atividade física seja realizada por
- (A) uma hora, em alta intensidade, uma vez por semana.
 (B) pelo menos 15 minutos, em intensidade leve, três dias por semana.
 (C) pelo menos 30 minutos, em intensidade moderada, cinco dias por semana.
 (D) no mínimo uma hora, em intensidade alta, associada a exercícios de musculação, todos os dias.
 (E) 15 minutos, em intensidade leve, todos os dias.

41. Entre outras situações, a busca de casos novos de tuberculose pulmonar deve ser feita entre sintomáticos respiratórios, ou seja, entre indivíduos que apresentem queixa de tosse
- (A) seca há mais de uma semana.
 (B) produtiva, com expectoração esverdeada há uma semana.
 (C) seca, febre e dor torácica há cinco dias.
 (D) com expectoração há, pelo menos, três semanas.
 (E) com expectoração amarela, febre e dor torácica há três dias.

42. A Portaria do Ministério da Saúde nº 1.271/2014, que define a Lista Nacional de Notificação Compulsória de Doenças, determina serem de notificação compulsória imediata, pelo meio de comunicação mais rápido possível, os casos suspeitos ou confirmados de
- (A) dengue, cólera e esquistossomose.
 (B) botulismo, febre de Chikungunya e eventos adversos graves pós-vacinação.
 (C) tétano, tuberculose e hanseníase.
 (D) eventos adversos graves pós-vacinação, tétano e infecção pelo Vírus da Imunodeficiência Humana (HIV).
 (E) febre de Chikungunya, tuberculose extrapulmonar e raiva humana.

43. Assinale a alternativa que completa de forma correta a afirmação a seguir.

De acordo com o Ministério da Saúde, desde o início de março de 2015, a vacina contra o Papiloma Vírus Humano (HPV), usada na prevenção _____ (I), já está disponível pelo Sistema Único de Saúde (SUS) para meninas na faixa etária de _____ (II).

- (A) I = de doenças sexualmente transmissíveis (DST); II = 7 a 12 anos.
 (B) I = do câncer do colo do útero; II = 9 a 11 anos.
 (C) I = de corrimento vaginal; II = 11 a 15 anos.
 (D) I = da infecção pelo HIV; II = 9 a 13 anos.
 (E) I = do câncer de mama; II = 11 a 13 anos.
44. A aplicação do esquema completo da vacina pentavalente, preconizado no Programa Nacional de Imunização (PNI), protege o indivíduo contra
- (A) o sarampo, a rubéola, a varicela, a hepatite B e a poliomielite.
 (B) a difteria, o rotavírus, a meningite C, a febre amarela e a varicela.
 (C) o tétano, a difteria, a coqueluche, a hepatite B e o *Haemophilus influenzae* B.
 (D) a febre amarela, o sarampo, a caxumba, a rubéola e o HPV.
 (E) a rubéola, a varicela, o sarampo, o rotavírus e a hepatite A.

- 45.** Assinale a alternativa correta a respeito de procedimentos para esterilização de material em autoclave a vapor.
- (A) O monitoramento do processo de esterilização com indicador biológico deve ser feito semanalmente, na primeira carga do dia estabelecido para tal.
 - (B) Com o propósito de economia no consumo de energia elétrica, a câmara da autoclave pode ser preenchida até 95% de sua capacidade sem que a qualidade de processo de esterilização seja comprometida.
 - (C) Todo material cirúrgico deve ser acondicionado em caixas inox, sem furos, que deverão permanecer fechadas durante todo o ciclo de esterilização e armazenamento.
 - (D) Entre outros materiais, para a esterilização em autoclave a vapor, podem ser utilizadas embalagens de papel kraft, papel toalha e papel manilha.
 - (E) Os produtos esterilizados devem ser armazenados em local limpo e seco, sob proteção da luz solar direta e submetidos à manipulação mínima.
- 46.** Durante a realização de uma atividade de grupo com gestantes, várias participantes relataram que vinham apresentando azia. Frente a essa situação, o técnico de enfermagem deve orientar as gestantes a
- (A) dar preferência ao consumo de chás e café pela manhã e à noite.
 - (B) ingerir líquidos em abundância, ao longo de todo o dia.
 - (C) consumir dieta fracionada, evitando frituras.
 - (D) evitar o uso de travesseiros ao repousar deitada.
 - (E) fazer uso contínuo de medicamentos antiácidos, de 2/2 horas.
- 47.** Nas primeiras 24 horas após o parto, considera-se normal que o fundo uterino esteja situado
- (A) à altura da cicatriz umbilical, firmemente contraído.
 - (B) à altura do escavado gástrico, com consistência firme.
 - (C) cinco centímetros acima da cicatriz umbilical, amolecido.
 - (D) dentro da cavidade pélvica, impalpável.
 - (E) abaixo da cicatriz umbilical, com consistência pastosa.
- 48.** Em 30.04.2015, ao realizar visita domiciliar, a técnica de enfermagem (TE) constatou que A.A., 58 anos, sexo feminino, na menopausa há oito anos, havia realizado apenas um único exame de Papanicolaou em 2014, cujo resultado era normal. Frente a esta situação, de acordo com o preconizado pelo Ministério da Saúde, a TE deve orientar a cliente que
- (A) deverá realizar novo exame preventivo em 2017, pois o resultado do exame realizado estava normal.
 - (B) a partir dos 50 anos, o exame de Papanicolaou deve ser repetido a cada seis meses.
 - (C) após a menopausa, o exame colpocitológico deve ser realizado a cada cinco anos quando não são constatadas alterações em exames anteriores.
 - (D) deverá comparecer à unidade de saúde da família (USF), assim que possível, para agendar a coleta de material para novo exame de Papanicolaou, de rotina.
 - (E) a partir dos 55 anos, mulheres que apresentam exame colpocitológico anterior sem alteração estão dispensadas de fazer novo exame.
- 49.** Para a prevenção da morte súbita em crianças no primeiro ano de vida, pais e cuidadores devem ser orientados que, ao colocar a criança para dormir, deve-se colocá-la
- (A) em decúbito lateral direito.
 - (B) em decúbito lateral esquerdo.
 - (C) de bruços.
 - (D) em qualquer posição, desde que a cabeceira do berço esteja elevada de 30 a 45 graus.
 - (E) na posição supina.
- 50.** Após observar atentamente uma mulher amamentando seu bebê, a técnica de enfermagem constatou que a mãe estava utilizando corretamente a técnica de amamentação porque, entre outros itens,
- (A) era possível visualizar uma grande área da parte superior da aréola.
 - (B) a cabeça do bebê estava posicionada abaixo do nível da mama.
 - (C) o lábio inferior do bebê estava virado para fora.
 - (D) o bebê apresentava as bochechas encovadas durante a sucção.
 - (E) a mama da mãe parecia esticada durante a amamentação.

