

PREFEITURA MUNICIPAL DE SÃO JOSÉ DOS CAMPOS

CONCURSO PÚBLICO

034. PROVA OBJETIVA

AUDITOR TRIBUTÁRIO MUNICIPAL – TECNOLOGIA DA INFORMAÇÃO

- ◆ Você recebeu sua folha de respostas e este caderno, contendo 60 questões objetivas, um tema de redação a ser desenvolvido e a folha de redação para transcrição do texto definitivo.
- ◆ Confira seus dados impressos na capa deste caderno e nas folhas de respostas e de redação.
- ◆ Quando for permitido abrir o caderno, verifique se está completo ou se apresenta imperfeições. Caso haja algum problema, informe ao fiscal da sala.
- ◆ A folha de redação deverá ser destacada com cuidado e assinada apenas no local indicado; qualquer identificação ou marca feita pelo candidato no corpo deste caderno ou no verso da folha de redação, que possa permitir sua identificação, acarretará a atribuição de nota zero à redação.
- ◆ É vedado, em qualquer parte do material recebido, o uso de corretor de texto, de caneta marca-texto ou de qualquer outro material similar.
- ◆ Redija o texto definitivo e preencha a folha de respostas com caneta de tinta azul ou preta. Os rascunhos não serão considerados na correção. A ilegibilidade da letra acarretará prejuízo à nota do candidato.
- ◆ A duração das provas objetiva e de redação é de 4 horas e 30 minutos, já incluído o tempo para o preenchimento da folha de respostas e a transcrição do texto definitivo.
- ◆ Só será permitida a saída definitiva da sala e do prédio após transcorridos 75% do tempo de duração das provas.
- ◆ Ao sair, você entregará ao fiscal a folha de redação, a folha de respostas e este caderno, podendo levar apenas o rascunho de gabarito, localizado em sua carteira, para futura conferência.
- ◆ Até que você saia do prédio, todas as proibições e orientações continuam válidas.

AGUARDE A ORDEM DO FISCAL PARA ABRIR ESTE CADERNO DE QUESTÕES.

Nome do candidato _____

Prédio _____

Sala _____

Carteira _____

Inscrição _____

CONHECIMENTOS GERAIS

LÍNGUA PORTUGUESA

Leia o texto para responder às questões de números **01** a **03**.

Invista em companhia para mudar hábitos

Como ter hábitos de vida mais saudáveis e perder peso com mais facilidade? Além da combinação clássica de mais atividade física com melhor alimentação, dois novos estudos sugerem que topa o desafio na companhia do parceiro ou de um grupo pode fazer toda a diferença.

No primeiro trabalho, da Universidade College of London, do Reino Unido, especialistas avaliaram mais de 3.700 casais com idade igual ou superior a 50 anos. Concluíram que é muito mais fácil parar de fumar, perder peso e fazer exercícios quando a cara-metade também arregança as mangas e compra a briga.

Só para citar um exemplo: 50% das mulheres que fumavam conseguiram largar o cigarro quando o companheiro tentou junto. Entre as mulheres cujo parceiro já era um ex-fumante (portanto não a acompanhou na tentativa), só 17% conseguiram parar. Entre aquelas cujo marido continuou a fumar, o índice de sucesso ficou em apenas 8%.

Num outro trabalho, da Universidade de East Anglia, também do Reino Unido, pesquisadores revisaram 42 estudos envolvendo mais de 1.800 pessoas de 14 países e constataram que fazer atividade física em grupo diminui as condições que ameaçam a saúde, como doença coronariana, derrames, depressão e até alguns tipos de câncer.

Para os especialistas, caminhar em grupo faz as pessoas se exercitarem por mais tempo do que fariam sozinhas, além de estimular treinos mais vigorosos. As atividades coletivas também mostram ganhos psicológicos. Os praticantes ficam menos isolados. O sentimento de pertencimento aumenta o bem-estar e a sensação de apoio emocional. A combinação de benefícios físicos e psicológicos pode reduzir sintomas depressivos e estresse.

Para muitos dos homens e mulheres pesquisados, os grupos podem facilitar a aderência à atividade física regular e converter as caminhadas num novo hábito de vida. Quer seja na companhia do parceiro ou de um grupo, fica mais fácil vencer as resistências e encarar a mudança.

(Jairo Bouer. *Época*, 02.02.2015. Adaptado)

01. De acordo com as informações do texto, é correto afirmar que

- (A) a prática de exercícios físicos na companhia de parentes e amigos é comprovadamente mais eficaz para melhorar a saúde que seguir uma alimentação balanceada.
- (B) o hábito de caminhar em grupo levou muitos indivíduos a se dedicarem a treinos mais intensos e vigorosos, situação que tem preocupado médicos cardiologistas.
- (C) os pesquisadores constataram, com base na observação de 1.800 indivíduos, que os casais ingleses que se exercitavam em grupo superaram doenças como depressão e câncer.
- (D) a atividade física, praticada de forma regular e coletiva, torna os indivíduos psicologicamente mais saudáveis, pois pertencer a um grupo reduz a sensação de isolamento.
- (E) as mulheres, tanto as jovens como as de meia-idade, obtiveram maior sucesso para abandonar o cigarro quando receberam o apoio do companheiro.

02. Considere a frase do terceiro parágrafo:

Entre as mulheres cujo parceiro já era um ex-fumante (portanto não a acompanhou na tentativa), só 17% conseguiram parar.

Assinale a alternativa em que essa frase está reescrita de acordo com a norma-padrão e sem alteração do sentido do texto.

- (A) Entre as mulheres com quem o parceiro já era um ex-fumante (no entanto não a acompanhou no teste), só 17% conseguiram reduzir.
- (B) Entre as mulheres com quem o parceiro já era um ex-fumante (por conseguinte não a acompanhou na empreitada), só 17% conseguiram controlar.
- (C) Entre as mulheres a quem o parceiro já era um ex-fumante (em vista disso não a acompanhou na prova), só 17% conseguiram vitória.
- (D) Entre as mulheres de quem o parceiro já era um ex-fumante (ou seja, não a acompanhou na disputa), só 17% conseguiram moderar.
- (E) Entre as mulheres de quem o parceiro já era um ex-fumante (por isso não a acompanhou no experimento), só 17% conseguiram sucesso.

03. Assinale a alternativa em que o trecho reescrito apresenta o emprego correto do sinal indicativo de crase.

- (A) Além da combinação clássica de mais atividade física com melhor alimentação... → Além de atrelar mais atividade física à alimentação equilibrada...
- (B) Só para citar um exemplo: 50% das mulheres que fumavam... → Fazendo alusão à uma parte do estudo: 50% das mulheres que fumavam...
- (C) ... pesquisadores revisaram 42 estudos envolvendo mais de 1.800 pessoas... → pesquisadores propuseram-se à analisar 42 estudos envolvendo mais de 1.800 pessoas...
- (D) ... atividade física em grupo diminui as condições que ameaçam a saúde... → atividade física em grupo restringe às condições que ameaçam a saúde...
- (E) ... fica mais fácil vencer as resistências e encarar a mudança. → fica mais fácil opor-se à barreiras e encarar a mudança.

Leia o texto para responder às questões de números 04 a 07.

Competição a toda prova

Interessado em saber como a seleção dos melhores agiria na natureza, o pesquisador William Muir, da Universidade de Purdue, nos Estados Unidos, fez uma experiência com galinhas. Selecionou dois grupos: um natural, em que as aves conviviam normalmente, e outro formado só pelas que mais produziam ovos. Ele queria testar se o isolamento das superprodutivas aumentaria a quantidade de ovos gerada. Após seis gerações, as galinhas do bando natural estavam saudáveis. Mas as do grupo das superaves estavam deprimidas, estressadas e sem botar nenhum ovo – com apenas três sobreviventes. As outras seis tinham sido assassinadas.

A história é usada pela americana Margaret Heffernan, em seu livro *A Bigger Prize: Why Competition Isn't Everything and How We Do Better* ("Um prêmio maior: por que a competição não é tudo e como podemos fazer melhor", numa tradução livre), para demonstrar que a competitividade não é tão boa quanto o mundo dos negócios faz parecer. Segundo a autora, que foi CEO de renomadas empresas de tecnologia, ambientes de trabalho competitivos causam estresse e problemas de relacionamento que não compensam os resultados. Ela cita o caso de Bill Gore que fundou sua indústria química com um modelo hierárquico mais amigável e bateu recordes de patentes. "Pessoas colaborativas tornam as empresas mais inteligentes", diz Margaret.

Para alguns, a competitividade serve para criar uma atmosfera mais produtiva. Jack Welch, ex-presidente da GE, deu fama a seus rankings que dividiam os funcionários entre os 20% potenciais, os 70% medianos e os 10% incompetentes. Para Margaret, essa prática, embora dê lucro, cria cenários que geram ansiedade e estresse. "Qualquer tarefa complexa requer muito de seu cérebro. Mas o estresse prejudica especificamente o funcionamento do córtex pré-frontal, onde os pensamentos ocorrem, e o hipocampo, responsável por coordenar as atividades mentais necessárias para resolver problemas. Quando nos sentimos ameaçados, podemos ter toda a capacidade mental de que precisamos, mas simplesmente não conseguimos articular as ideias", comenta a autora em seu livro.

(Bárbara Nó. *VocêS/A*, janeiro de 2015. Adaptado)

04. Sobre o conteúdo do texto, é correto afirmar que

- (A) o pesquisador William Muir tinha por objetivo provar que a convivência em um ambiente natural levaria as galinhas a produzir quantidade de ovos acima do normal.
- (B) as seis galinhas mais produtivas, pertencentes ao grupo das superaves, ficaram doentes e vieram a morrer vitimadas pelo próprio estresse.
- (C) os indivíduos submetidos a situações constrangedoras e estressantes podem ter bloqueada sua aptidão mental para solucionar impasses.
- (D) os rankings estabelecidos por Jack Welch aumentaram a produtividade da empresa, pois os funcionários não se sentiam discriminados por essa estratégia.
- (E) Bill Gore criou um modelo de gestão administrativa em que aboliu a hierarquia, ou seja, a organização da empresa em diferentes setores.

05. Considerando as opiniões de Margaret Heffernan reproduzidas no texto, assinale a alternativa em que o elemento de coesão em destaque evidencia uma concessão feita por Margaret que, no entanto, não invalida seu ponto de vista sobre competição.

- (A) ... para demonstrar que a competitividade não é tão boa **quanto** o mundo dos negócios faz parecer. (2º parágrafo)
- (B) ... ambientes de trabalho competitivos causam estresse e problemas de relacionamento **que** não compensam os resultados. (2º parágrafo)
- (C) ... fundou sua indústria química com um modelo hierárquico mais amigável **e** bateu recordes de patentes. (2º parágrafo)
- (D) Para Margaret, essa prática, **embora** dê lucro, cria cenários que geram ansiedade e estresse. (3º parágrafo)
- (E) **Quando** nos sentimos ameaçados, podemos ter toda a capacidade mental de que precisamos... (3º parágrafo)

06. Observe o emprego do pronome relativo **onde** no trecho do terceiro parágrafo: *Mas o estresse prejudica especificamente o funcionamento do córtex pré-frontal, onde os pensamentos ocorrem...*

Esse pronome também está corretamente empregado em:

- (A) Aquele foi um período de sua vida **onde** ele se sentiu muito entusiasmado com seus projetos.
- (B) Esta instituição, reconhecida internacionalmente e **onde** estudaram famosos arquitetos, fará a restauração da propriedade.
- (C) Nos próximos meses, **onde** todos os condôminos se comprometeram a colaborar, pretende-se 20% de economia no consumo de água.
- (D) Nossos avós paternos nos contaram que se conheceram na França em 1918, ano **onde** terminou a Primeira Guerra.
- (E) Para a entrevista de trabalho, ela optou por um vestido chamativo **onde** deveria ter optado por uma roupa mais discreta.

07. Assinale a alternativa em que o pronome substitui corretamente a expressão em destaque e atende às regras de colocação estabelecidas pela norma-padrão.

- (A) ... e outro formado só pelas que mais produziam **ovos**. → produziam-nos.
- (B) ... o isolamento das superprodutivas aumentaria a **quantidade de ovos gerada**. → aumentaria-a.
- (C) "Pessoas colaborativas tornam **as empresas** mais inteligentes"... → tornam-lhes mais inteligentes.
- (D) Para alguns, a competitividade serve para criar **uma atmosfera mais produtiva**. → lhe criar.
- (E) ... deu fama a seus rankings que dividiam **os funcionários** entre os 20% potenciais... → os dividiam entre os 20% potenciais...

08. As preposições destacadas estão empregadas de acordo com a norma-padrão em:

- (A) Embora seja inerente **com** o ser humano desejar ser bem-sucedido profissionalmente, é uma situação que, muitas vezes, implica **em** desgaste emocional.
- (B) Uma existência rica **em** amizades que nos incentiva **da** sociabilidade é um privilégio que se deve cultivar.
- (C) Há pessoas que se lamentam **da** falta de predisposição para realizar certas atividades, entretanto são avessas **a** exercícios físicos.
- (D) O livro de Margaret Hefferann pode ser útil **com** os gestores que pretendem se contrapor **das** práticas administrativas convencionais.
- (E) As galinhas superprodutivas procederam **ao** extermínio de algumas companheiras visto que se encontravam em ambiente propício **em** competição.


09. Considere o texto:

Até o meio-dia e _____ deste domingo, já _____ participado das primeiras competições paraolímpicas cerca de 40% dos atletas inscritos. Desse grupo, muitos são atletas sul-americanos que, _____ semanas, _____ treinando no país-sede.

Os termos que preenchem, correta e respectivamente, as lacunas do texto são:

- (A) meia ... havia ... fazem ... vem
- (B) meia ... haviam ... faz ... vêm
- (C) meio ... havia ... fazem ... vêm
- (D) meio ... haviam ... faz ... vem
- (E) meio ... haviam ... fazem ... vêm

10. Observe a tira em que estão presentes os amigos Frank (de calça escura) e Ernest (de calça xadrez).



(Bob Thaves. Acessível em <http://goo.gl/Wa78h4>)

Analisando a tira, é correto afirmar que ocorre a

- (A) oposição entre as opiniões de Frank e Ernest sobre os políticos e o emprego dos verbos *fundar* e *afundar* em sentido próprio.
- (B) comparação entre o presente e o passado e o emprego de linguagem predominantemente informal na dedicatória e na fala da personagem.
- (C) comparação entre o presente e o passado e o emprego dos verbos *fundar* e *afundar* que apresentam sentidos opostos.
- (D) identidade entre fundador e dupla de amigos quanto à aparência sóbria e alinhada e o emprego dos verbos *fundar* e *afundar* pela semelhança de sentido.
- (E) identidade entre fundador e dupla de amigos quanto à posição desempenhada na sociedade e o emprego do sarcasmo, da parte de Frank, para caracterizar os políticos de todas as gerações.

11. Quando um cliente solicitou o reembolso de uma compra que foi cancelada, por engano, o vendedor devolveu a ele notas de R\$ 5,00, quando o correto seria ter devolvido a mesma quantidade de notas, porém de R\$ 2,00. O engano implicou na devolução de R\$ 90,00 a mais do que o preço que o cliente havia pago na compra. Nas condições dadas, o número de notas que o vendedor devolveu para o cliente foi igual a
- (A) 15.
(B) 20.
(C) 25.
(D) 30.
(E) 35.
12. Cinco cidades (A, B, C, D, E) encontram-se ao longo de uma linha férrea reta que liga a cidade A até a cidade B. Nessa linha férrea, a cidade C está exatamente no meio do caminho entre as cidade A e B. Ainda na linha férrea, a cidade D está tão distante da cidade A quanto está da cidade C, e a cidade C está tão distante da cidade D quanto está da cidade E. Se 20 km separam as cidades A e D na linha férrea, a distância, na mesma linha férrea, entre as cidades D e B, em quilômetros, é igual a
- (A) 10.
(B) 20.
(C) 35.
(D) 40.
(E) 60.
13. São dadas as proposições verdadeiras:
- É falso que algum A não seja B.
 - Não há A que não seja C.
- É correto concluir que
- (A) é falso que nenhum B seja C.
(B) muitos B não são C.
(C) vários C não são B.
(D) todo B é C.
(E) existe A que não é B.

14. Ricardo aplicou, por um mês, x reais à taxa mensal de juros simples de $y\%$. Paulo aplicou, no mesmo mês, y reais à taxa mensal de juros simples de $x\%$. Ao final desse mês, ambos resgataram suas aplicações com os juros, e não pagaram impostos ou qualquer tipo de taxa. Após o resgate, é correto afirmar que, necessariamente, o
- (A) juro de Ricardo foi maior que o de Paulo.
 - (B) juro de Ricardo foi igual ao de Paulo.
 - (C) juro de Ricardo foi $x\%$ menor que o de Paulo.
 - (D) montante de Ricardo foi maior que o de Paulo.
 - (E) montante de Ricardo foi menor que o de Paulo.
15. Cada um dos 9 funcionários de um departamento foram avaliados com notas inteiras de 0 a 10. Se a média das notas foi exatamente igual a 6, é necessariamente correto que
- (A) algum funcionário foi avaliado com nota 6.
 - (B) a soma de todas as notas não superou 50.
 - (C) ao menos 2 funcionários foram avaliados com a mesma nota.
 - (D) ao menos 4 funcionários não foram avaliados com nota 0.
 - (E) não mais do que 4 funcionários foram avaliados com nota inferior a 6.
16. Dos 20 funcionários de uma empresa multinacional, 9 fazem curso de inglês, 8 fazem curso de francês, 6 fazem curso de alemão, e 2 não fazem curso de línguas. Sabe-se ainda que 5 fazem apenas curso de francês, 6 fazem apenas curso de inglês, 3 fazem apenas curso de alemão, e 1 faz cursos de inglês, francês e alemão. Sorteando-se ao acaso um dos 20 funcionários dessa empresa, a probabilidade de que ele faça exatamente dois cursos das três línguas citadas é de
- (A) 10%
 - (B) 12%
 - (C) 15%
 - (D) 20%
 - (E) 25%
17. Observe os 18 primeiros termos de uma sequência:
#, &, %, *, \$, @, #, &, %, *, \$, @, #, &, %, *, \$, @, ...
- Mantendo-se o mesmo padrão, o símbolo que aparecerá menos vezes do 1º ao 983º termo dessa sequência será
- (A) %
 - (B) @
 - (C) *
 - (D) \$
 - (E) #

18. Quatro fichas estão numeradas, de 3 a 6. Álvaro, Breno, Carlos e Diogo pegam uma ficha diferente cada um, e dizem:

Álvaro: – Minha ficha é a de número 3.

Breno: – O número da minha ficha é o dobro do número da ficha de Diogo.

Carlos: – A ficha de Álvaro não é a de número 3.

Diogo: – A ficha de Carlos é a de número 4.

Se apenas um dos quatro está mentindo, a soma dos números das fichas de Breno e Diogo é igual a

(A) 7.

(B) 8.

(C) 9.

(D) 10.

(E) 11.

19. Destinando a mesma quantidade diária de água para 8 municípios, o tanque de água de uma cidade tem reservas suficientes para exatos 30 dias de abastecimento. Decorridos 5 desses 30 dias, 2 novos municípios se agregam aos 8, recebendo, cada um, a mesma quota diária de água que cada um dos 8 municípios vinha recebendo. Se a quota diária de água recebida pelos 10 municípios não for alterada, após o ingresso dos 2 novos municípios, a água remanescente do tanque irá durar mais

(A) 24 dias.

(B) 23 dias.

(C) 22 dias.

(D) 21 dias.

(E) 20 dias.

20. Um investidor aplicou R\$ 101 200,00, à taxa de juro composto de 1,2% ao mês. Se ele deixar o dinheiro aplicado por 10 anos sem taxas ou impostos, ele resgatará um total, em reais, igual a

(A) $100000 \cdot 1,012^{121}$

(B) $100000 \cdot 1,012^{11}$

(C) $100000 \cdot 1,12^{121}$

(D) $101200 \cdot 1,012^{10}$

(E) $101200 \cdot 1,0012^{120}$

ATUALIDADES

21. *Procuradores suíços fazem busca e apreensão no HSBC em Genebra*

Procuradores suíços fizeram hoje (18 de fevereiro) uma busca e apreensão de documentos na filial de Genebra do HSBC. Trata-se de uma operação relacionada a um inquérito que investiga possível participação do banco em crimes – o caso SwissLeaks. Os promotores declararam que estavam investigando o HSBC Private Bank e pessoas suspeitas. O banco informou que estava “cooperando com as autoridades suíças”.

(UOL, 18 fev.15. Disponível em: <<http://goo.gl/sYt ihm>>. Adaptado)

O escândalo SwissLeaks

- (A) comprovou a participação do banco em casos de tráfico de armas e de drogas que, no Brasil, envolvia o grupo do crime organizado que atua a partir dos presídios e os grupos que atuam nos morros e nos subúrbios do Rio de Janeiro.
- (B) trouxe à tona a cumplicidade ativa do banco com os casos de corrupção que têm sido denunciados no Brasil, o que levou a instituição financeira a devolver ao governo brasileiro centenas de milhares de dólares relacionados aos casos de desvio de dinheiro.
- (C) possibilitou que fossem descobertas as relações entre alguns casos de crimes financeiros e a crise econômica de 2008, fruto da especulação financeira baseada na fraude de balanços contábeis e na comercialização de derivativos sem lastro real.
- (D) revelou que o banco lucrou fazendo negócios com traficantes de armas, traficantes de diamantes e outros criminosos internacionais, além de ter sido cúmplice dos crimes de sonegação fiscal, evasão de divisas e lavagem de dinheiro.
- (E) atestou que o banco conseguiu, desde o início, com suas políticas de segurança e transparência, detectar a origem ilegal de recursos oriundos dos mais diferentes países, colaborando ativamente com a denúncia de corruptos e sonegadores.

22. Após certa acomodação em janeiro, o dólar mostrou forte aceleração em relação ao real nas duas primeiras semanas de fevereiro. O movimento foi tão intenso que o real passou a ser a quarta divisa que, no acumulado de 2015, mais perdeu valor em comparação ao dólar, considerando um total de 47 moedas negociadas à vista.

(Estadão, 18 fev.15. Disponível em: <<http://goo.gl/ebCpPO>>. Adaptado)

Um dos fatores que contribuiu para a valorização do dólar foi

- (A) o cenário de recessão persistente nos EUA e na Europa.
- (B) o aumento da inflação nos EUA no final de 2014.
- (C) a possível elevação da taxa de juros nos EUA em 2015.
- (D) a valorização nos últimos anos do preço das *commodities* no mercado internacional.
- (E) o aumento consistente do preço do petróleo desde 2014.

23. O ex-diretor da Petrobras, Renato Duque, preso na 10ª fase da Operação Lava Jato, chegou a Curitiba nesta segunda-feira (16 de março), onde deve ficar detido. Ele teve a prisão preventiva decretada pela Justiça Federal e foi detido junto com outros sete investigados por desvios de dinheiro da Petrobras. Esta é a segunda vez que ele termina preso durante as investigações da Lava Jato. Em dezembro, quando os policiais deflagraram a sétima fase da operação, o ex-diretor foi detido, mas conseguiu um *habeas corpus* dias depois.

(G1, 16 mar.15. Disponível em: <<http://goo.gl/rxhDtP>>. Adaptado)

O que motivou a segunda prisão de Renato Duque foi a denúncia de que o ex-diretor da Petrobras

- (A) tentou obstruir as investigações.
- (B) continua lavando dinheiro no exterior.
- (C) pretende fugir do país.
- (D) segue operando ilegalmente na empresa.
- (E) ameaçou delatar políticos caso não fosse inocentado.

24. *Governo anuncia pacote anticorrupção e oficializa entrega ao Congresso*

O governo entregou simbolicamente nesta quarta-feira (18 de março) ao Congresso Nacional o chamado “pacote anticorrupção”, conjunto de propostas elaboradas pelo Executivo para inibir e punir irregularidades na administração pública.

(G1, 18 mar.15. Disponível em: <<http://goo.gl/QOi9Fc>> Adaptado)

Entre os principais pontos do pacote está

- (A) o financiamento público de campanha.
- (B) a criminalização do *lobby*.
- (C) a transformação da corrupção em crime hediondo.
- (D) a limitação dos mandatos consecutivos no Legislativo.
- (E) a criminalização da prática de caixa 2.

25. *Por fé e lucro, Estado Islâmico promove onda de destruição de patrimônio histórico*

O grupo extremista islâmico autodenominado “Estado Islâmico” (EI) começou a destruir mais um sítio arqueológico. A antiga cidade de Hatra foi fundada durante o Império Parta, há mais de dois mil anos, e é considerada pela Unesco, órgão da ONU, um patrimônio histórico da humanidade. Relatos também dão conta de que extremistas incendiaram uma biblioteca, junto com mais de 8 mil manuscritos. Essa onda de destruição de patrimônios históricos e culturais gerou revolta entre autoridades e pesquisadores.

(UOL, 7 mar.15. Disponível em: <<http://goo.gl/0PQqNV>>. Adaptado)

A destruição do patrimônio pelo EI ocorreu

- (A) no Iraque.
- (B) na Palestina.
- (C) no Paquistão.
- (D) no Afeganistão.
- (E) na Líbia.

26. Para controlar o salário gasto em uma prefeitura, foi criada uma planilha do MS-Excel 2010, a partir da sua configuração padrão. A coluna A contém o nome do funcionário, a coluna B contém a idade, a coluna C informa a condição, se o funcionário está aposentado S(Sim) ou N(NÃO), e a coluna D contém o salário pago ao funcionário.


	A	B	C	D
1	Nome do Funcionário	Idade	Aposentado	Salário
2	Alexandre da Silva	55	S	R\$ 5.200,00
3	Beatriz Oliveira de Paiva	52	N	R\$ 3.200,00
4	Claudia Santana	60	S	R\$ 6.200,00
5	Felipe Camargo	59	N	R\$ 2.500,00
6	Gustavo Borges	62	S	R\$ 4.500,00
7	Maria Angelica Silva	50	S	R\$ 4.100,00
8	Paula Nogueira Vison	35	N	R\$ 1.800,00
9				
10	Total de Salários Pagos para Aposentados com idade superior a 58 anos	R\$ 10.700,00		


A fórmula a ser aplicada na célula B10, para calcular o total de salários pagos para os funcionários aposentados e com idade superior a 58 anos, é


- (A) =SOMASES(C2:C8;B2:B8;"S";D2:D8;">58")
 (B) =SOMASES(D2:D8;B2:B8;">58";C2:C8;"S")
 (C) =SOMASES(D2:D8;B2:B8;"S";C2:C8;">58")
 (D) =SOMASE(D2:D8;B2:B8;">58" E "S")
 (E) =SOMASE(D2:D8;B2:B8;">58";C2:C8;"S")
27. No MS-Word 2010, na sua configuração padrão, a guia _____ contém o ícone _____ que permite Inserir Nota de Rodapé. Assinale a alternativa que completa corretamente as lacunas.

(A) Referências ... **AB**¹

(B) Inserir ... **AB**¹

(C) Layout da Página ... 

(D) Inserir ... 

(E) Inserir ... 

28. No MS-PowerPoint 2010, na sua configuração padrão, em um slide que está sendo preparado, a sequência para incluir um botão de ação que permite executar uma outra apresentação do PowerPoint é:

(A) A partir da guia Inserir, no grupo "Links", clique no



ícone Hiperlink e selecione, na opção "Botões de Ação", a figura do ícone desejado e insira no Slide; após esse procedimento, irá aparecer a janela de diálogo chamada "Configurar ação". Escolha a opção "Executar programa", clique no botão "Procurar" e selecione a apresentação que deseja que seja executada.

(B) A partir da guia Inserir, no grupo "Texto", clique no



ícone WordArt e selecione, na opção "Botões de Ação", a figura do ícone desejado e insira no Slide; após esse procedimento, irá aparecer a janela de diálogo chamada "Configurar ação". Escolha a opção "Executar programa", clique no botão "Procurar" e selecione a apresentação que deseja que seja executada.

(C) A partir da guia Inserir, no grupo "Ilustrações", clique



no ícone Formas e selecione, na opção "Botões de Ação", a figura do ícone desejado e insira no Slide; após esse procedimento, irá aparecer a janela de diálogo chamada "Configurar ação". Escolha a opção "Executar programa", clique no botão "Procurar" e selecione a apresentação que deseja que seja executada.

(D) A partir da guia Design, no grupo "Figura", clique no



ícone SmartArt e selecione, na opção "Botões de Ação", a figura do ícone desejado e insira no Slide; após esse procedimento, irá aparecer a janela de diálogo chamada "Configurar ação". Escolha a opção "Executar programa", clique no botão "Procurar" e selecione a apresentação que deseja que seja executada.

(E) A partir da guia Design, no grupo "Figura", clique no



ícone Clip-Art e selecione, na opção "Botões de Ação", a figura do ícone desejado e insira no Slide; após esse procedimento, irá aparecer a janela de diálogo chamada "Configurar ação". Escolha a opção "Executar programa", clique no botão "Procurar" e selecione a apresentação que deseja que seja executada.

CONHECIMENTOS ESPECÍFICOS

29. No Windows 7, a partir da sua configuração padrão, na sua instalação serão criados, por padrão, 4 Bibliotecas, que são:

- (A) Arquivos, Músicas, Fotos e Vídeos.
- (B) Arquivos, Download, Músicas e Vídeos.
- (C) Documentos, Download, Músicas e Vídeos.
- (D) Documentos, Músicas, Imagens e Vídeos.
- (E) Documentos, Músicas, Fotos e Vídeos.

30. Diversas empresas criaram vários navegadores de internet, por exemplo: a Microsoft desenvolveu o navegador _____, já a Google desenvolveu o navegador _____, e a Mozilla desenvolveu o _____.

Assinale a alternativa que preenche, correta e respectivamente, as lacunas.

- (A) Windows Explorer ... Chrome ... Thunderbird
- (B) Windows Explorer ... Safari ... Thunderbird
- (C) Internet Explorer ... Safari ... Firefox
- (D) Internet Explorer ... Chrome ... Thunderbird
- (E) Internet Explorer ... Chrome ... Firefox

31. De acordo com a Estrutura Conceitual da Contabilidade, é correto afirmar que

- (A) a existência física é um atributo essencial para que um bem ou direito seja classificado como ativo pela entidade.
- (B) somente podem ser classificados como ativos os bens e direitos cuja propriedade pertença à entidade.
- (C) o Passivo representa as obrigações futuras das entidades em relação a terceiros, mesmo que ainda não incorridas.
- (D) as despesas são originadas por diminuição de ativos ou aumento de passivos resultantes de transações com terceiros.
- (E) o Patrimônio Líquido jamais pode apresentar um valor negativo.

32. Do Plano de Contas de uma entidade, foi extraída a seguinte lista de contas:

- Custo das Mercadorias Vendidas
- Disponível
- Despesas Financeiras
- Despesas do Exercício Seguinte
- Salários a Pagar
- Receita de Vendas
- Reserva Legal
- Reserva Estatutária
- Fornecedores
- Receitas Diferidas
- Receita de Dividendos
- Reversão de Provisões

O número de contas patrimoniais constantes dessa lista é

- (A) quatro.
- (B) cinco.
- (C) seis.
- (D) sete.
- (E) oito.

33. Na escrituração contábil, é correto afirmar que

- (A) as contas de Ativo aumentam por crédito.
- (B) as despesas aumentam o Patrimônio Líquido.
- (C) as contas de Passivo são debitadas quando diminuem de valor.
- (D) o total de débitos nem sempre corresponde ao total dos créditos, mesmo que a escrituração tenha sido efetuada corretamente.
- (E) o aumento das contas de ativo sempre corresponde à percepção de receitas.

34. O Balanço Patrimonial e a Demonstração de Resultado da Cia. ABC, relativos ao exercício encerrado em 31.12.2014, estão reproduzidos a seguir:

BALANÇO PATRIMONIAL			
ATIVO		PASSIVO + PL	
	R\$		R\$
Caixa	30.000,00	Fornecedores	400.000,00
Bancos	280.000,00	Contas a Pagar	210.000,00
Clientes	550.000,00	Impostos a Pagar	100.000,00
Estoques	100.000,00	CSLL + IRPJ a Pagar	50.000,00
ATIVO CIRCULANTE	960.000,00	PASSIVO CIRCULANTE	760.000,00
Imobilizado	1.000.000,00	Capital	600.000,00
(-) Depreciação Acumulada	-260.000,00	Reservas de Lucro	340.000,00
ATIVO NÃO CIRCULANTE	740.000,00	PATRIMÔNIO LÍQUIDO (PL)	940.000,00
TOTAL DO ATIVO	1.700.000,00	TOTAL DO PASSIVO + PL	1.700.000,00

DEMONSTRAÇÃO DO RESULTADO	
(=) Receita Líquida de Vendas	600.000,00
(-) Custo das Mercadorias Vendidas	-240.000,00
(=) Lucro Bruto	360.000,00
(-) Despesas Operacionais	-120.000,00
(+) Receitas Financeiras	20.000,00
(=) Lucro antes da CSLL e do IRPJ	260.000,00
(-) IRPJ + CSLL	-50.000,00
(=) LUCRO LÍQUIDO DO EXERCÍCIO	210.000,00

Com base nesses demonstrativos contábeis, é correto afirmar que:
(as porcentagens foram arredondadas, quando necessário)

- (A) o índice de liquidez corrente foi 113%.
- (B) a participação de terceiros no total dos ativos da companhia foi de 55%.
- (C) a margem líquida sobre vendas foi 35%.
- (D) o índice de liquidez seca foi 126%.
- (E) o Ativo Não Circulante representa 56% do total dos ativos da companhia.

35. Antes da vigência da Lei nº 11.638/2007, a contrapartida credora da contabilização do prêmio da emissão de debêntures e das doações governamentais para investimento era classificada como
- (A) Reserva de Capital.
 - (B) Receita do Exercício Corrente.
 - (C) Receita Diferida.
 - (D) Reserva de Lucros.
 - (E) Resultado de Exercícios Futuros.
36. De acordo com os pronunciamentos do Comitê de Pronunciamentos Contábeis, na atual estrutura da Demonstração de Resultado, é correto afirmar que
- (A) o resultado das operações descontinuadas não é apresentado em separado do resultado das operações continuadas.
 - (B) a receita da alienação de bens do Ativo Imobilizado deve ser classificada como não operacional.
 - (C) o resultado da equivalência patrimonial somente é computado se for positivo.
 - (D) a contraprestação paga por ativos adquiridos por meio de arrendamento mercantil financeiro é contabilizada como despesa não operacional.
 - (E) as receitas de vendas devem ser apresentadas líquidas dos impostos sobre vendas e ajustadas, se for o caso, a valor presente.
37. Um grupo criado no Balanço Patrimonial pelas Leis nº 11.638/2007 e nº 11.941/2009 foi o
- (A) Passivo Circulante.
 - (B) Ativo Intangível.
 - (C) Ativo Imobilizado.
 - (D) Resultado de Exercícios Futuros.
 - (E) Ativo Diferido.
38. Em relação ao Imposto sobre Serviços de Qualquer Natureza (ISSQN), a Lei Complementar nº 116 dispõe que o referido tributo
- (A) incide também sobre o serviço proveniente do exterior do País ou cuja prestação se tenha iniciado no exterior do País.
 - (B) terá como alíquota máxima o percentual de 6%.
 - (C) incide sobre a exportação de serviços para o exterior do país, quando o país de destino não tiver acordo de tributação com o Brasil.
 - (D) quando incidente sobre prestação de serviços que inclua o fornecimento de materiais, esses comporão a base de cálculo do imposto, sem exceções.
 - (E) incide sobre o serviço de fornecimento de energia elétrica por concessionárias devidamente autorizadas pelo poder competente.
39. O lançamento do Imposto sobre a Propriedade Predial e Territorial Urbana pelos municípios é considerado, pela legislação tributária brasileira (Código Tributário Nacional), como
- (A) auto lançamento pelo contribuinte.
 - (B) lançamento por homologação.
 - (C) lançamento por declaração.
 - (D) lançamento de ofício.
 - (E) lançamento misto.
40. Os juros recebidos pelo ente público provenientes da execução de sua dívida ativa são classificados pela Lei nº 4.320/1964 como receitas
- (A) extraorçamentárias.
 - (B) correntes.
 - (C) de capital.
 - (D) infraorçamentárias.
 - (E) facultativas.
41. Fazem parte do cálculo do Produto Nacional Bruto de um país, a custo de fatores:
- (A) os decréscimos no estoque de capital fixo, por meio das despesas de depreciação.
 - (B) os valores da produção dos bens intermediários.
 - (C) os impostos indiretos e os subsídios.
 - (D) os empréstimos recebidos e concedidos ao exterior.
 - (E) a renda recebida do exterior e a renda enviada para o exterior.

42. Em um modelo keynesiano simples, para uma economia fechada, em que a tributação não é função da renda e o consumo (C) é representado pela função
- $$C = 200 + 0,8 Y_d$$
- onde Y_d é igual à renda disponível, o valor do multiplicador keynesiano para os gastos públicos é igual a
- (A) 5.
(B) 4,5.
(C) 4.
(D) 3,5.
(E) 3.
43. Na mensuração dos resultados da gestão pública, a medida que indica se os resultados do programa público foram alcançados com o menor nível de recursos possível ou se o nível de recursos utilizados no programa público alcançou o máximo possível de resultados é denominada
- (A) eficácia.
(B) eficiência.
(C) utilidade.
(D) efetividade.
(E) meta.
44. O risco que está intimamente relacionado com a natureza, a época e a extensão dos procedimentos realizados pelo auditor é denominado risco
- (A) inerente.
(B) de controle.
(C) de detecção.
(D) anômalo.
(E) de aderência.
45. Nos termos da Constituição Federal, compete ao Supremo Tribunal Federal, precipuamente, a guarda da Constituição, cabendo-lhe, no âmbito do controle de constitucionalidade, processar e julgar
- (A) o pedido de medida cautelar das ações diretas de inconstitucionalidade de lei ou ato normativo municipal, formulada perante o respectivo Tribunal de Justiça.
(B) a ação declaratória de constitucionalidade de lei ou ato normativo federal, estadual ou municipal.
(C) a ação direta de inconstitucionalidade de lei ou ato normativo federal ou estadual.
(D) a ação declaratória de constitucionalidade de lei ou ato normativo anterior à Constituição Federal de 1988.
(E) a representação de inconstitucionalidade de leis ou atos normativos municipais em face da Constituição Estadual.
46. Assinale a alternativa que corretamente discorre sobre aspectos da tributação e do orçamento previstos na Constituição Federal de 1988.
- (A) Sempre que possível, os impostos terão caráter pessoal e serão graduados segundo a capacidade econômica do contribuinte.
(B) Cabe à lei ordinária dispor sobre conflitos de competência, em matéria tributária, entre a União, os Estados, o Distrito Federal e os Municípios.
(C) A lei que instituir as diretrizes orçamentárias estabelecerá, de forma regionalizada, as diretrizes, objetivos e metas da Administração Pública federal para as despesas de capital.
(D) A lei orçamentária anual não compreenderá o orçamento das fundações instituídas e mantidas pelo Poder Público.
(E) Nenhum investimento cuja execução ultrapasse um exercício financeiro poderá ser iniciado sem prévia inclusão na lei de diretrizes orçamentárias, sob pena de crime de responsabilidade.

47. A Lei nº 1, de 1º outubro de 2010, do Município de São José dos Campos, que previa hipóteses de isenção de um determinado tributo municipal, foi revogada expressamente pela Lei nº 2, de 2, de setembro de 2012. Em janeiro de 2015, é aprovada a Lei nº 3, que possui apenas um artigo, revogando expressamente a Lei nº 2/2012. A respeito disso, é correto afirmar que
- (A) as isenções previstas na Lei Municipal nº 1/2010 voltam a ser aplicáveis, pois a lei volta a ser válida com a revogação da lei revogadora.
 - (B) a Lei Municipal nº 2/2012, é inconstitucional porque isenção não pode ser revogada, valendo, portanto, o teor da Lei Municipal nº 1/2010.
 - (C) a Lei Municipal nº 3/2015, apenas por revogar a Lei nº 2/2012, torna novamente aplicáveis as isenções da Lei Municipal nº 1/2010.
 - (D) a Lei Municipal nº 1/2010 não volta a vigor, pois salvo disposição em contrário, a lei revogada não se restaura por ter a lei revogadora perdido a vigência.
 - (E) a Lei Municipal nº 1/2010 volta a vigor, pois as leis que instituem isenções tributárias sempre possuem efeito repristinatório.
48. É correto afirmar, nos termos do Código Civil, sobre os direitos e as obrigações dos sócios, que
- (A) a cessão total ou parcial de quota, mesmo sem a correspondente modificação do contrato social com o consentimento dos demais sócios, terá eficácia quanto a estes e à sociedade.
 - (B) são válidas as estipulações contratuais que excluam qualquer sócio de participar dos lucros e das perdas ou que prevejam a distribuição de lucros fictícios.
 - (C) o sócio que, a título de quota social, transmitir domínio, posse ou uso, não responde pela evicção; do mesmo modo que aquele que transfere crédito não responde pela solvência do devedor.
 - (D) verificada a mora em relação à contribuição prevista no contrato social, a maioria dos demais sócios poderá reduzir a quota do sócio remisso ao montante já realizado, mas não poderá optar por excluí-lo do quadro social.
 - (E) sócio, cuja contribuição consista em serviços, não pode, salvo convenção em contrário, empregar-se em atividade estranha à sociedade, sob pena de ser privado de seus lucros e dela excluído.
49. Agente público municipal, verificando a necessidade de aquisição de computadores para a Administração e constatando o valor de tais bens, ao invés de realizar uma única compra, fraciona a aquisição, a fim de viabilizar a dispensa de licitação para contratar, em razão do valor dos bens. A conduta do agente público municipal deve ser considerada
- (A) regular, pois é lícito o fracionamento das aquisições, a fim de que haja economia no gasto público para a realização da licitação.
 - (B) ato de improbidade administrativa que causa prejuízo ao erário, por dispensar a licitação indevidamente.
 - (C) irregular, já que há o dever de licitar, mas que não caracteriza ato de improbidade administrativa.
 - (D) ato de improbidade administrativa, pois ao dispensar a licitação indevidamente, em consequência obteve vantagem para si.
 - (E) regular, pois se encontra no âmbito da discricionariedade do administrador escolher a melhor forma para realizar as aquisições públicas.
50. O poder de fiscalização e correção sobre a Administração Pública, exercido pelos órgãos dos Poderes Judiciário, Legislativo e Executivo, com o objetivo de garantir a conformidade de sua atuação com os princípios que lhe são impostos pelo ordenamento jurídico, é a definição de
- (A) poder de polícia.
 - (B) princípio da moralidade administrativa.
 - (C) poder discricionário.
 - (D) teoria dos motivos determinantes.
 - (E) controle da Administração Pública.
51. O PMBOK (5ª edição) divide os processos de gerenciamento de projetos em 5 grupos. Dois desses grupos são denominados Grupo de Processos de
- (A) Planejamento e de Execução.
 - (B) Iniciação e de Documentação.
 - (C) Encerramento e de Codificação.
 - (D) Monitoramento e de Normalização.
 - (E) Parametrização e de Adaptatividade.

52. Há diversas técnicas de validação de requisitos de *software*. Assinale a alternativa que contém duas dessas técnicas.
- (A) Distribuição e canalização de requisitos.
 - (B) Exclusão de requisitos e *walkthroughs*.
 - (C) Potencialização e especialização de requisitos.
 - (D) Revisões de requisitos e prototipação.
 - (E) Substituição de requisitos e inserção de erros.
53. Os ciclos de vida de desenvolvimento de *software* que têm uma implementação inicial do *software* e apresentam evoluções, por meio de várias versões, denominam-se
- (A) especializados.
 - (B) estruturados.
 - (C) incrementais.
 - (D) parametrizados.
 - (E) universais.
54. Há diversas formas de se classificar as técnicas de teste de *software*. Uma delas especifica um tipo de teste denominado *teste de release*, que consiste em
- (A) testar uma versão completa do *software* a ser liberada aos usuários.
 - (B) testar, isoladamente, cada uma das rotinas componentes do *software*.
 - (C) testar apenas as interfaces internas do *software* sob análise.
 - (D) simular o *software*, rotina por rotina, em uma máquina virtual.
 - (E) utilizar o *software* desenvolvido em um ambiente com alto nível de ruídos eletromagnéticos.
55. A publicação do ITIL (versão 3) que tem como objetivo central prover diretrizes para a evolução de serviços que já estiverem em operação é
- (A) Desenho de Serviços (*Service Design*).
 - (B) Estratégia de Serviços (*Service Strategy*).
 - (C) Operação Contínua de Serviços (*Continual Service Improvement*).
 - (D) Operação de Serviços (*Service Operation*).
 - (E) Transição de Serviços (*Service Transition*).
56. Na modelagem multidimensional, um de seus componentes é a tabela fato, sobre a qual é correto afirmar que, em sua composição típica,
- (A) contém um mínimo de 10% dos valores de seus atributos preenchidos com o valor nulo.
 - (B) contém valores numéricos que representam o desempenho de um negócio.
 - (C) não admite atributos do tipo literal ou numérico.
 - (D) não contém chaves primárias nem chaves estrangeiras.
 - (E) não pode conter mais de 10 atributos do tipo numérico.
57. As políticas adotadas por uma empresa exigem que os usuários escolham senhas com alto nível de complexidade para acessar o sistema corporativo. Essa política tem o objetivo de
- (A) evitar que os usuários compartilhem intencionalmente sua senha com outros usuários.
 - (B) impedir que os usuários digitem a senha de outros usuários.
 - (C) padronizar a formação das senhas dos usuários da empresa.
 - (D) permitir que a senha seja utilizada para autenticar outros sistemas.
 - (E) tornar o sistema menos vulnerável a ataques de força bruta ou de dicionário.
58. Os desenvolvedores de sistemas computacionais de uma empresa solicitaram acesso a uma cópia do banco de dados principal para a execução de testes de um novo sistema. Com o intuito de oferecer a segurança adequada à informação, a norma ISO/IEC 27001:2013 sugere que os dados fornecidos para testes sejam
- (A) acessíveis apenas por uma conta de usuário criada especificamente para essa finalidade e que pode ser compartilhada entre os desenvolvedores.
 - (B) armazenados e disponibilizados a partir de um local diferente dos dados acessados pelo sistema em produção.
 - (C) cuidadosamente selecionados, protegidos contra mal uso e o acesso a eles seja controlado.
 - (D) disponibilizados apenas temporariamente, isto é, enquanto durarem os testes.
 - (E) os mesmos dados em uso pelo sistema em produção, pois a norma não permite cópias de sombra para essa finalidade.

59. No processo de implantação da segurança da informação, diversos recursos, como criptografia, assinatura digital e certificado digital podem ser utilizados. Nesse contexto, o PKI tem a função de
- (A) criptografar os arquivos dos usuários e gerar o *hash* correspondente.
 - (B) fornecer a chave e o algoritmo criptográfico para os usuários de acordo com o CPF.
 - (C) gerar as chaves privadas utilizadas no processo de *hashing*.
 - (D) gerenciar a emissão e a confirmação de chaves públicas.
 - (E) prover o algoritmo de criptografia específico para cada usuário.
60. Atualmente, quase que a totalidade das redes de computadores são implantadas utilizando a tecnologia padronizada pela Ethernet e os protocolos TCP/IP. Considerando uma Rede Local de Computadores (LAN) e a Rede Ampla (WAN) implantadas nesse cenário, o dispositivo que interliga a LAN e a WAN, com a função de gerenciar o correto encaminhamento dos pacotes entre as duas redes, é denominado
- (A) *Proxy*.
 - (B) Roteador.
 - (C) *Switch*.
 - (D) Repetidor.
 - (E) *Bridge*.

REDAÇÃO

Texto 1

Por que o voto é obrigatório no Brasil? Há argumentos favoráveis e contrários a esse dever que voltam à discussão em períodos de campanha. Se por um lado votar ajuda a ter um compromisso com a política, por outro o voto obrigatório pode gerar uma escolha sem critérios concretos.

Com o compromisso de participar do pleito, a população tem contato com a política a cada dois anos e isso é benéfico para a sociedade brasileira, argumenta o professor de Gestão Pública da Universidade de São Paulo (USP), Wagner Pralon Mancuso. “Querendo ou não, as pessoas ouvem falar sobre política e, com maior ou menor grau de envolvimento, participam do processo eleitoral”, afirma Mancuso.

Uma das principais ideias dos defensores do voto facultativo é a de que somente eleitores que tivessem interesse pela política – e em atribuir um voto consciente – participariam da eleição. Para o professor de Ciência Política da Facinter, Luiz Domingos Costa, essa ideia pode resultar no entendimento de que um eleitor é melhor do que outro, por isso alguns podem reunir a capacidade de decisão. “É um argumento preconceituoso e que pode levar à polarização extrema do debate e ao elitismo”, diz Costa. Segundo os cientistas políticos, outra consequência negativa do voto facultativo é a queda da representatividade, pois há redução no número de eleitores que comparecem para votar.

(Fernanda Leitólis. *A eterna polêmica do voto obrigatório ou facultativo no Brasil*. 25.ago.2012. www.gazetadopovo.com.br. Adaptado)

Texto 2

Pesquisas de opinião mostram um elevado índice de rejeição ao voto obrigatório. Um levantamento do Instituto Datafolha divulgado em maio de 2014 aponta que 61% dos eleitores brasileiros são contra a imposição.

Para analistas, permitir que o eleitor decida se quer ou não votar é um risco para o sistema eleitoral brasileiro. A obrigatoriedade, argumentam, ainda é necessária devido ao cenário crítico de compra e venda de votos e à formação política deficiente de boa parte da população.

O sociólogo Eurico Cursino, da UnB, avalia que o dever de participar das eleições é uma prática pedagógica. Ele argumenta que essa é uma forma de canalizar conflitos graves ligados às desigualdades sociais no país. “A democracia só se aprende na prática. Tornar o voto facultativo é como permitir à criança decidir se quer ir ou não à escola”, afirma.

Já para os defensores do voto não obrigatório, participar das eleições é um direito e não um dever. O voto facultativo, dizem, melhora a qualidade do pleito, que passa a contar majoritariamente com eleitores conscientes. E incentiva os partidos a promover programas eleitorais educativos sobre a importância do voto.

O sistema voluntário é adotado em quase todo mundo. O voto é compulsório em apenas 31 países, incluindo o Brasil. O levantamento é do Instituto Internacional para Democracia e Assistência Eleitoral (Idea), que tem sede na Suécia.

De acordo com o órgão, a quantidade de votos brancos e nulos em países que obrigam o eleitor a ir às urnas é muito maior. Em países como Quênia, Dinamarca e Tunísia, onde o voto é facultativo, os índices de abstenção são inferiores a 1%, enquanto que no Peru e no Equador, onde os cidadãos são obrigados a votar, a taxa de abstenção é de cerca de 20%. No Brasil, o índice foi de 8% nas últimas eleições. “Isso indica que as pessoas só vão às urnas porque são obrigadas. Muitas não gostariam de expressar um voto. O cenário com altos índices de abstenção é comum aos sistemas eleitorais que adotam o voto compulsório”, diz Abdurashid Solijonov, do setor de processos eleitorais do Idea.


“Há outras medidas mais eficazes para incentivar a participação dos cidadãos, como aumentar a satisfação dos eleitores com os governos, adotar um sistema eleitoral proporcional e promover debates públicos”, argumenta o especialista.

Apesar de estar entre uma minoria no cenário mundial, o Brasil deve manter a política de obrigatoriedade do voto, segundo o presidente da Comissão Eleitoral da OAB do Rio Grande do Sul, Augusto Mayer. Para o advogado, os países que adotam o sistema voluntário de participação eleitoral cultivam uma pedagogia intensa em torno da valorização do voto, o que não acontece no Brasil. A votação facultativa em países democráticos se deve ao alto grau de politização da sociedade e a uma presença mais forte da cultura de cidadania.

(Karina Gomes. *O voto deveria ser facultativo no Brasil?* 25.ago.2014. www.cartacapital.com.br. Adaptado)

Com base na leitura dos textos e em seus próprios conhecimentos, redija uma dissertação, na norma-padrão da língua portuguesa, posicionando-se em relação ao seguinte tema

A VOTAÇÃO NO BRASIL DEVERIA SER FACULTATIVA OU OBRIGATÓRIA?



PMSJ 1402



02035001



PREFEITURA MUNICIPAL DE SÃO JOSÉ DOS CAMPOS

CONCURSO PÚBLICO

035. PROVA DE REDAÇÃO (Folha de Redação)

AUDITOR TRIBUTÁRIO MUNICIPAL – GESTÃO TRIBUTÁRIA / TECNOLOGIA DA INFORMAÇÃO

- ◆ Confira seus dados impressos nesta folha e assine apenas no local indicado.
- ◆ Destaque esta folha com cuidado e entregue ao fiscal juntamente com os outros materiais ao sair.
- ◆ Fique atento às demais orientações contidas na capa da prova objetiva.

Nome do candidato

Prédio

Sala

Carteira

Inscrição

USO EXCLUSIVO DO FISCAL

AUSENTE

Assinatura do candidato

