

Prefeitura Municipal de Juatuba/MG

**PROCESSO SELETIVO
Nº 001/2014**



**Professor de Educação Básica - P III
- Geografia**

Manhã

Organizadora:



Texto

Os pobres homens ricos

Um amigo meu estava ofendido porque um jornal o chamou de boa-vida. Vejam que país, que tempo, que situação! A vida deveria ser boa para toda gente, o que é insultuoso é que o seja apenas para alguns.

“Dinheiro é a coisa mais importante do mundo.” Quem escreveu isso não foi nenhum de nossos estimados agiotas. Foi um homem que a vida inteira viveu de seu trabalho, e se chamava *Bernard Shaw*. Não era um cínico, mas um homem de vigorosa fé social, que passou a vida lutando, a seu modo, para tornar melhor a sociedade em que vivia – e em certa medida o conseguiu. Ele nos fala de alguns homens ricos:

“Homens ricos e aristocratas com um desenvolvido senso de vida – homens como *Ruskin, Willian Morris, Kropotkin* – têm enormes apetites sociais... não se contentam com belas casas, querem belas cidades... não se contentam com esposas cheias de diamantes e filhas em flor; queixam-se porque a operária está malvestida, a lavadeira cheira a gim, a costureira é anêmica, e porque todo homem que encontra não é um amigo e toda mulher não é um romance... sofrem com a arquitetura do vizinho...”

Esse “apetite social” é raríssimo entre os nossos homens ricos; a não ser que “social” seja tomado no sentido de “mundano”. E nossos homens de governo têm uma pasmosa desambição de governar.

Vi, há tempo, um conhecido meu, que se tornou muito rico, sofreu horrorosamente na hora de comprar um quadro. Achava o quadro uma beleza, mas como o pintor pedia tantos contos ele se perguntava, e me perguntava, e perguntava a todo mundo se o quadro “valia” mesmo aquilo, se o artista não estaria pedindo aquele preço por sabê-lo rico, se não seria “mais negócio” comprar um quadro de fulano. Fiquei com pena dele, embora saiba que numa noite de jantar e boate ele gaste tranquilamente aquela importância, sem que isso lhe dê nenhum prazer especial. Fiquei com pena porque realmente ele gostava do quadro, queria tê-lo, mas o prazer que poderia ter obtendo uma coisa ambicionada era estragado pela preocupação do negócio. Se não fosse pelo pintor, que precisava de dinheiro, eu o aconselharia a não comprar.

Homens públicos sem sentimento público, homens ricos que são, no fundo, pobres-diabos – que não descobriram que a grande vantagem real de ter dinheiro é não ter que pensar a todo momento, em dinheiro...

(BRAGA, Rubem. 200 Crônicas escolhidas. 31ª Ed. – Rio de Janeiro: Record, 2010.)

01

O “apetite social”, segundo o texto,

- A) constitui na vaidade dos homens ricos em ter mais do que podem e distribuir suas riquezas com os demais.
- B) revela-se como o desejo dos homens ricos em fazer a sociedade mais igualitária e feliz, é um olhar além de si mesmo.
- C) revela-se como uma utopia dos homens mais abastados em fazer da sociedade em que estão inseridos, um ambiente mais feliz.
- D) constitui na ambição dos homens ricos em acumular apenas riquezas materiais, mas ter um olhar de compaixão para os menos favorecidos.

02

“Um amigo meu estava ofendido porque um jornal o chamou de boa-vida. Vejam que país, que tempo, que situação!”

(1º§) O emprego da exclamação, no excerto anterior, tem o sentido de

- A) alegria.
- B) desejo.
- C) espanto.
- D) desprezo.

03

Associe as duas colunas de acordo com o sinônimo das palavras empregadas no texto.

- 1. insultuoso (1º§) () cobiçada
- 2. cínico (2º§) () admirável
- 3. agiota (2º§) () ofensivo
- 4. pasmosa (4º§) () petulante
- 5. ambicionada (5º§) () usurário

A sequência está correta em

- A) 4, 5, 2, 3, 1.
- B) 5, 4, 1, 2, 3.
- C) 5, 2, 3, 4, 1.
- D) 3, 1, 5, 2, 4.

04

“Vi, há tempo, um conhecido meu, que se tornou muito rico, sofreu horrorosamente na hora de comprar um quadro.”

(5º§) Essa frase contém um exemplo de figura de linguagem denominada

- A) catacrese. B) hipérbole. C) pleonasma. D) metonímia.

05

“Um amigo meu estava ofendido porque um jornal o chamou de boa-vida.” (1º§) A palavra sublinhada na frase anterior faz o plural da mesma forma que

- A) ave-maria. B) auto-escola. C) má-língua. D) guarda-roupa.

06

“Dinheiro é a coisa mais importante do mundo.” (2º§) Nessa frase, há um adjetivo no grau

- A) comparativo de igualdade. C) comparativo de superioridade.
B) superlativo absoluto analítico. D) superlativo relativo de superioridade.

07

“... e se chamava Bernard Shaw.” (2º§) O termo destacado tem classificação diversa do termo destacado em

- A) *“... que se tornou muito rico,...”* (5º§) C) *“... ele se perguntava, e me perguntava,...”* (5º§)
B) *“... não se contentam com belas casas,...”* (3º§) D) *“... perguntava a todo mundo se o quadro...”* (5º§)

08

“... e em certa medida o conseguiu.” (2º§) O termo sublinhado se refere a(o)

- A) ser um cínico. C) tornar melhor a sociedade.
B) viver de seu trabalho. D) conseguir ganhar dinheiro.

09

“Fiquei com pena dele, embora saiba que...” (5º§). A palavra “*embora*” confere à oração ideia de

- A) conclusão. B) acréscimo. C) explicação. D) concessão.

10

A frase que admite transposição para a voz passiva é

- A) *“... realmente ele gostou do quadro...”* C) *“Um amigo meu estava ofendido...”* (1º§)
B) *“Ele viveu a vida inteira de seu trabalho.”* D) *“... um jornal o chamou de boa-vida.”* (1º§)

RACIOCÍNIO LÓGICO

11

Hélio e Glória são avós maternos de Lívia. Considere que somando o número que representa a idade do avô com o dobro da idade da avó e, em seguida, dividindo o resultado obtido por 20, obtém-se a idade da neta. Se Glória é três anos mais nova que seu marido e Lívia tem nove anos, então Hélio tem

- A) 62 anos. B) 64 anos. C) 67 anos. D) 68 anos.

12

O segundo e o sexto termos de uma progressão geométrica de razão positiva são, respectivamente, iguais a 2,25 e 2.916. Sobre essa sequência, marque a afirmativa verdadeira.

- A) Sua razão é igual a 8. C) Seu primeiro termo é igual a 1/8.
B) O menor termo inteiro é 81. D) Apresenta como razão um número decimal.

13

Uma das turmas de inglês de determinado curso de línguas tem oito alunos, sendo quatro meninos e quatro meninas. Deseja-se escolher três desses alunos para fazer um curso gratuito de espanhol. De quantas maneiras poderá ser feita essa escolha, se pelo menos uma menina deverá ser escolhida?

- A) 48. B) 52. C) 60. D) 64.

14


Márcia e Mário são irmãos e nasceram ambos no último dia do mês de fevereiro de anos bissextos. Se Márcia nasceu numa quarta-feira e é quatro anos mais nova que seu irmão, então Mário nasceu num(a)

- A) domingo. B) segunda-feira. C) sexta-feira. D) sábado.

15

A figura representa um azulejo quadrado, cujo perímetro é igual a 64 cm e a superfície apresenta três pares de triângulos iguais. Considere que a área do triângulo A é quatro vezes maior que a área do triângulo B e que a área do triângulo B é quatro vezes maior que a área do triângulo C. Assim, a área da região em negrito, no interior desse azulejo, mede

- A) 148 cm².
B) 156 cm².
C) 172 cm².
D) 192 cm².



Analise as informações a seguir para responder às questões 16 e 17.

“Em uma reunião de determinada empresa, 2,82 litros de café haviam sido preparados para serem servidos igualmente em xícaras, cujo número é igual ao total de funcionários da empresa. Considere que três funcionários ficaram ausentes e que o total de café distribuído foi de 2,64 litros.”

16

O número de pessoas que trabalham nessa empresa é

- A) 43. B) 47. C) 52. D) 53.

17

Sabendo-se que o volume de café que sobrou encontra-se em uma única garrafa, cuja capacidade é de 0,75 litros, o volume de café que deverá ser preparado para preenchê-la é

- A) 0,45 litro. B) 0,57 litro. C) 0,63 litro. D) 0,69 litro.

18

A sequência a seguir relaciona números ordinais e cardinais.

(1º → 8); (2º → 7); (3º → 8); (4º → ?); (5º → 6); (6º → 5); (7º → 6); (8º → 6); (9 → ?); (10º → 6)

Os números que substituem corretamente as interrogações são, respectivamente,

- A) 5 e 6. B) 4 e 5. C) 7 e 4. D) 6 e 4.

19

Um cachorro caminhando em linha reta desloca uma distância de 10 m e gasta 5 s. Se ele deslocasse 1 m a menos e gastasse 1 segundo a mais, sua velocidade

- A) diminuiria 20%. B) diminuiria 25%. C) aumentaria 20%. D) aumentaria 25%.

20

Se a cafeteira está ligada, então o café ainda não ficou pronto. Se o café não ficou pronto, então Daniela está escovando os dentes. Se Daniela está escovando os dentes, então a luz do banheiro não está desligada. Ora, a luz do banheiro não está ligada, logo


- A) a cafeteira está ligada e o café já está pronto.
B) o café está pronto e Daniela está escovando os dentes.
C) a cafeteira está desligada e o café ainda não ficou pronto.
D) a cafeteira está desligada e Daniela não está escovando os dentes.

CONHECIMENTOS ESPECÍFICOS

21

“O responsável pelo desenvolvimento do Sistema Toyota de Produção, conhecido como toyotismo ou produção enxuta, foi o engenheiro *Taiichi Ohno* (1912-1990). Em 1943, ele entrou na Toyota determinado a introduzir mudanças no sistema produtivo com o objetivo de reduzir desperdícios (aposentou-se como vice-presidente da empresa). No final dos anos 1950, começou a implantar uma série de inovações na linha de produção e muitos dos processos produtivos desenvolvidos por ele passaram a ser copiados por outras empresas.”

(SENE, Eustáquio de; MOREIRA, João Carlos. *Geografia Geral e do Brasil – Espaço geográfico e globalização*. São Paulo: Editora Moderna. v. 2.)



Linha de produção do carro híbrido Toyota Prius (possui um motor elétrico e outro a gasolina) na fábrica situada em Toyota City, Japão (foto de 2008).

De acordo com o texto, o Sistema Toyota de Produção promoveu transformação no processo industrial. Assinale a afirmativa que indica corretamente essa mudança.

- A) Ocorre a racionalização da produção, os operários não precisam locomover na fábrica, parados executam as mesmas tarefas, ampliando a produção.
- B) O processo industrial foi promovido pelo desenvolvimento das indústrias de economia de escala, que exigia o consumo em massa motivado pela propaganda.
- C) A intervenção do estado na economia foi fundamental, garantindo o emprego e a manutenção de baixos salários para os trabalhadores ultraespecializados.
- D) A organização da produção pressupõe um abastecimento contínuo de insumos, procurando estabelecer uma sintonia fina entre fornecedores, fábrica e consumidores.

22

Leia o texto.

Seca se espalha também no Noroeste de Minas

“[...] As chuvas, que irrigavam a terra durante um período de seis meses no passado, já não gotejam por mais do que quatro meses. Nascentes morreram, córregos se tornaram intermitentes e a escassez de água seguiu seu curso atingindo os meios rural e urbano. Mas o cenário não fica no semiárido Norte de Minas, onde a seca já é parte da vida do sertanejo. Por incrível que pareça, o terreno estéril pertence ao Noroeste, região ainda considerada um dos celeiros do estado, por ser a maior produtora de grãos de Minas.”

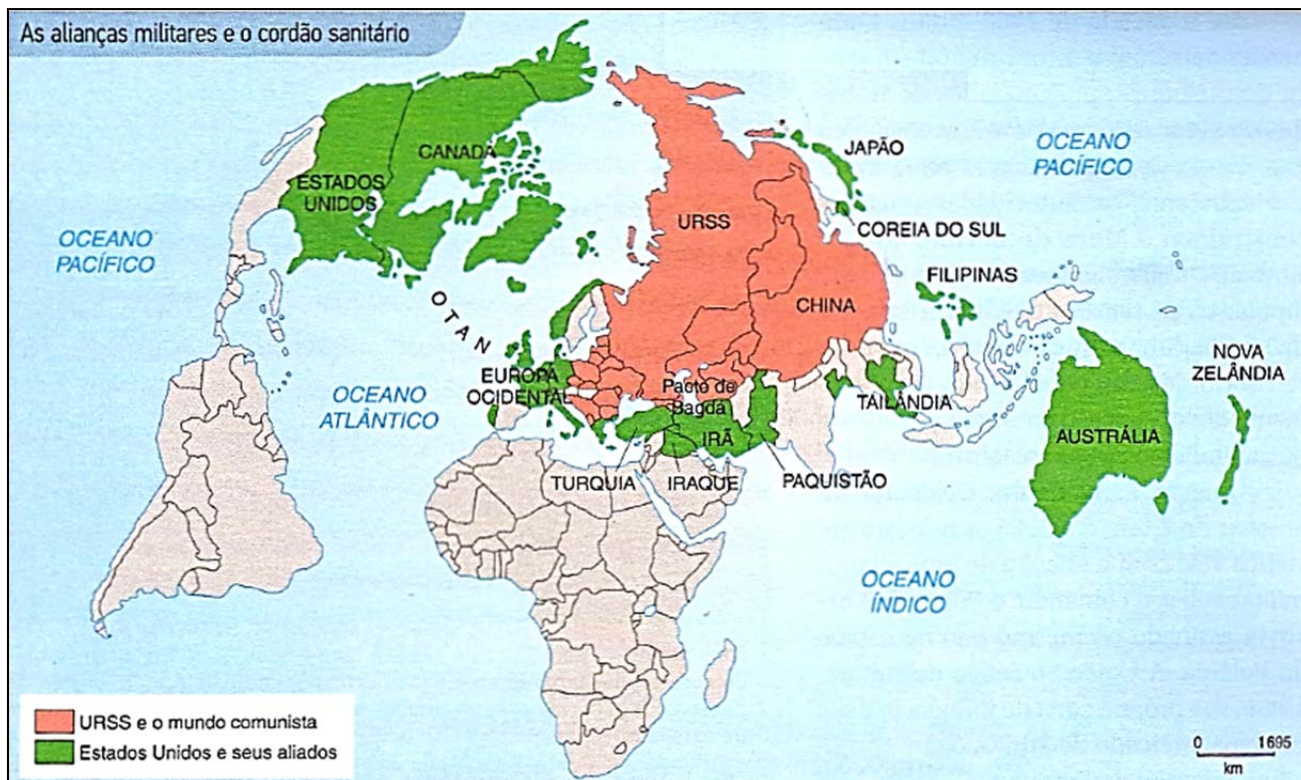
(Disponível em: http://www.em.com.br/app/noticia/gerais/2013/09/15/interna_gerais,449147/seca-se-espalha-tambem-no-noroeste-de-minas.shtml. Acesso em: 29/07/2014.)

Uma das causas da seca, relatada nesse texto, está relacionada a uma interferência antrópica que é

- A) a prática agrícola não sustentável.
- B) a extinção dos animais silvestres da região.
- C) a construção de barragens para ampliar a produção de energia elétrica no estado mineiro.
- D) o enfraquecimento das massas de ar vindas do oceano, devido à alta pressão atmosférica.

23

Observe o mapa a seguir.



(Eustáquio de; MOREIRA, João Carlos. Geografia Geral e do Brasil – Espaço geográfico e globalização. São Paulo: Editora Moderna, p. 69. v. 2.)

No contexto de enfraquecimento latente de “guerra improvável”, os norte-americanos construíram blocos militares com o objetivo de impedir a expansão da zona de influência soviética. O mapa evidencia uma ideologia política conhecida como

- A) Doutrina Bush. B) Doutrina Truman. C) Pacto de Varsóvia. D) Destino Manifesto.

24

A partir de outubro de 2001, com a aprovação da Lei nº 10.257, que ficou conhecida como Estatuto da Cidade, houve regulamentação dos artigos de política urbana da Constituição de 1988. O estatuto fornece as principais diretrizes a serem aplicadas nos municípios. Todos os municípios que apresentam as características relacionadas a seguir são obrigados a elaborar o estatuto. Analise-as.

- I. Abriga mais de 50 mil habitantes.
- II. Integra regiões metropolitanas e aglomerações urbanas.
- III. Insere-se na área de influência de empreendimentos ou atividades com significativo impacto ambiental.
- IV. Localiza em áreas de especial interesse turístico.

Estão corretas as alternativas

- A) I, II, III e IV. B) I, II e III, apenas. C) I, III e IV, apenas. D) II, III e IV, apenas.

25

“Quando se analisa a modernização da agricultura, é comum que se pense apenas na modernização das técnicas – substituição de trabalhadores por máquinas, uso intensivo de insumos e desenvolvimento da biotecnologia – e que se esqueça de observar as consequências dessa modernização nas relações sociais de produção e na qualidade de vida da população.”

(Eustáquio de; MOREIRA, João Carlos. Geografia Geral e do Brasil – Espaço geográfico e globalização. São Paulo: Editora Moderna, p. 240, v. 3.)

Assinale a alternativa que faz referência a um dos efeitos da modernização agrícola no Brasil.

- A) Subordinação da agropecuária ao capital industrial, intensificando a valorização das terras agricultáveis.
- B) Fortalecimento da agricultura familiar, possibilitando melhores condições de vida a milhares de famílias.
- C) Redução do êxodo rural com o aumento da produção agrícola e, como consequência, a valorização do trabalhador rural.
- D) Desenvolvimento das pequenas e médias propriedades, resultando em um modelo de produção competitivo com os países europeus.

INSTRUÇÕES

1. Material a ser utilizado: caneta esferográfica de tinta azul ou preta. Os objetos restantes devem ser colocados em local indicado pelo fiscal da sala, inclusive aparelho celular desligado e devidamente identificado.
2. Não é permitida, durante a realização das provas, a utilização de máquinas calculadoras e/ou similares, livros, anotações, impressos ou qualquer outro material de consulta, protetor auricular, lápis, borracha ou corretivo. Especificamente, não é permitido que o candidato ingresse na sala de provas sem o devido recolhimento, com respectiva identificação, dos seguintes equipamentos: *bip*, telefone celular, *walkman*, agenda eletrônica, *notebook*, *palmtop*, *ipad*, *ipod*, *tablet*, *smartphone*, mp3, mp4, receptor, gravador, calculadora, câmera fotográfica, controle de alarme de carro, relógio de qualquer modelo etc.
3. Durante a prova, o candidato não deve levantar-se, comunicar-se com outros candidatos e fumar.
4. A duração da prova é de 03 (três) horas, já incluindo o tempo destinado à entrega do Caderno de Provas e à identificação – que será feita no decorrer da prova – e ao preenchimento do Cartão de Respostas (Gabarito).
5. Somente em caso de urgência pedir ao fiscal para ir ao sanitário, devendo no percurso permanecer absolutamente calado, podendo antes e depois da entrada sofrer revista através de detector de metais. Ao sair da sala no término da prova, o candidato não poderá utilizar o sanitário. Caso ocorra uma emergência, o fiscal deverá ser comunicado.
6. O Caderno de Provas consta de 30 (trinta) questões de múltipla escolha. Leia-o atentamente.
7. **As questões das provas objetivas são do tipo múltipla escolha, com 04 (quatro) opções (A a D) e uma única resposta correta.**
8. Ao receber o material de realização das provas, o candidato deverá conferir atentamente se o Caderno de Provas corresponde ao cargo a que está concorrendo, bem como se os dados constantes no Cartão de Respostas (Gabarito) que lhe foi fornecido estão corretos. Caso os dados estejam incorretos, ou o material esteja incompleto, ou tenha qualquer imperfeição, o candidato deverá informar tal ocorrência ao fiscal.
9. Os fiscais não estão autorizados a emitir opinião e prestar esclarecimentos sobre o conteúdo das provas. Cabe única e exclusivamente ao candidato interpretar e decidir.
10. O candidato poderá retirar-se do local de provas somente a partir dos 90 (noventa) minutos após o início de sua realização; contudo não poderá levar consigo o Caderno de Provas, sendo permitida essa conduta apenas no decurso dos últimos 30 (trinta) minutos anteriores ao horário previsto para o seu término.
11. Os 3 (três) últimos candidatos de cada sala somente poderão sair juntos. Caso o candidato insista em sair do local de aplicação das provas, deverá assinar um termo desistindo do Processo Seletivo e, caso se negue, deverá ser lavrado Termo de Ocorrência, testemunhado pelos 2 (dois) outros candidatos, pelo fiscal da sala e pelo Coordenador da Unidade.

RESULTADOS E RECURSOS

- As provas aplicadas, assim como os gabaritos preliminares das provas objetivas serão divulgados na *Internet*, no endereço eletrônico www.consulplan.net, a partir das 16h00min do dia subsequente ao da realização das provas.
- O candidato que desejar interpor recursos contra os gabaritos oficiais preliminares das provas objetivas disporá de 01 (um) dia útil, a partir do dia subsequente à divulgação, em requerimento próprio disponibilizado no *link* correlato ao Processo Seletivo no endereço eletrônico www.consulplan.net.
- A interposição de recursos poderá ser feita via *Internet*, através do Sistema Eletrônico de Interposição de Recursos, com acesso pelo candidato ao fornecer dados referentes à sua inscrição apenas no prazo recursal à CONSULPLAN, conforme disposições contidas no endereço eletrônico www.consulplan.net, no *link* correspondente ao Processo Seletivo.