

CENTRO DE INTEGRAÇÃO EMPRESA-ESCOLA - CIEE

PROCESSO SELETIVO PARA INGRESSO DE ESTUDANTES NO PROGRAMA DE ESTÁGIO REMUNERADO DA ADVOCACIA GERAL DA UNIÃO - AGU

Caderno de Questões

ENSINO SUPERIOR

(Ciências Contábeis, Administração de Empresas, Jornalismo, Publicidade e Propaganda, Tecnologia em Gestão de Recursos Humanos e Tecnologia em Gestão Pública)

Data: 27/04/2014 – Horário: 08h30 às 10h30 (HORÁRIO DE BRASÍLIA)

Número de questões: 40 (quarenta)

LÍNGUA PORTUGUESA

1. Assinale a alternativa que apresenta a frase em que a preposição estabelece uma relação de posse.
 - a) Emprestei o livro do professor.
 - b) O rapaz feriu-se com a faca.
 - c) Comprou uma cadeira de praia.
 - d) O cachorro morreu de uma epidemia desconhecida.
2. De acordo com a norma-padrão da Língua Portuguesa e em relação à ocorrência ou não de crase, assinale a alternativa correta.
 - a) A minha prima foi a Itália.
 - b) Saiu as pressas da casa.
 - c) Era um barco a vela.
 - d) À custa de muito sacrifício, conseguiu vê-lo.
3. Em relação à concordância verbal e de acordo com a norma-padrão da Língua Portuguesa, assinale a alternativa **incorreta**.
 - a) Faz dez anos que a mulher fugiu.
 - b) Havia muitos pinheiros naquela região.
 - c) Sempre houveram pessoas corruptas.
 - d) A maioria dos alunos foram à excursão.
4. Em relação ao plural das palavras destacadas, assinale a alternativa correta.
 - a) Aqueles olhos verdes-claro fascinavam.
 - b) Ele só vestia calças azuis-marinho.
5. De acordo com a norma-padrão da Língua Portuguesa e em relação às regras de acentuação, assinale a alternativa correta.
 - a) O remédio para esse mal, continua sendo o tempo.
 - b) Os itens relacionados estão completos.
 - c) Esqueceu de fazer uma rubrica nessa página.
 - d) Essas condições mantem a validade do produto.
6. Em relação à concordância nominal e de acordo com a norma-padrão da Língua Portuguesa, assinale a alternativa correta.
 - a) Escreveu um romance com fantástico enredo e personagens.
 - b) Encontrei a sala e os quartos vazio.
 - c) A dona da casa ficou meia desiludida.
 - d) Não faltaram, no debate, argumentos e opiniões veementes e contraditórias.
7. Leia as frases abaixo, analise as palavras entre parênteses e, em seguida, assinale a alternativa que apresenta os números das frases em que a segunda opção preenche corretamente a lacuna.
 1. Essa bebida é _____. (bom/boa)
 2. Pimenta é _____ para tempero. (bom/boa)
 3. A entrada é _____. (proibido/proibida)

CENTRO DE INTEGRAÇÃO EMPRESA-ESCOLA - CIEE

4. Entrada é _____.
(proibido/proibida)

- a) 1/3
- b) 2/3
- c) 3/4
- d) 2/4

8. Em relação à ortografia, de acordo com a norma-padrão da Língua Portuguesa e com o contexto, assinale a alternativa correta.

- a) Eu advinhei quem ganharia o concurso.
- b) O segurança deteu aquele homem.
- c) José complimentou seu vizinho ao sair de casa.
- d) Ele não admitiu o erro.

9. Assinale a alternativa em que as duas frases **não** se equivalem.

- a) As crianças criam fantasias para sentirem-se felizes.
As fantasias criam a felicidade no mundo das crianças.
- b) Os jovens estão mais irreverentes hoje do que ontem.
Os jovens estavam menos irreverentes ontem do que estão hoje.
- c) Muitos associam a felicidade ao exercício da virtude.
A felicidade é o único meio de alcançar a virtude para muitos.
- d) Todas as ações boas ou más se justificam, desde que sirvam a uma boa causa.
Todas as ações boas ou más se justificam, uma vez que sirvam a uma boa causa.

10. Assinale a alternativa em que **não** ocorre inadequação na construção da frase.

- a) Entrei para dentro de casa quando começou a anoitecer.
- b) Hoje fizeram-me uma surpresa inesperada.
- c) Encontraremos outra alternativa para esse problema.
- d) A conta, pagaram-me sem reclamar.

11. Assinale a alternativa que apresenta a forma que substitui adequadamente a palavra **mas** no trecho abaixo, mantendo o sentido original.

“Sabia muito sobre o amor, inventava casos, sorria dos desencontros, **mas** escondia aquilo que sentia no escuro de seu quarto”.

- a) Contanto que
- b) Senão
- c) Não obstante
- d) No entanto

12. Leia estes versos:

“A **suntuosa** Brasília, a **esquálida** Ceilândia contemplam-se. Qual delas falará primeiro?”
(...)

Carlos Drummond de Andrade.

No trecho acima, as palavras destacadas constroem uma figura de linguagem. Assinale a alternativa que a apresenta.

- a) Antítese.
- b) Eufemismo.
- c) Hipérbole.
- d) Comparação.

13. Assinale a alternativa em que o plural dos substantivos compostos está de acordo com a norma-padrão da Língua Portuguesa.

- a) Caminhão-pipas.
- b) Portas-aviões.
- c) Pombos-correio.
- d) Pés de cabras.

14. De acordo com a norma-padrão da Língua Portuguesa e em relação ao emprego dos pronomes oblíquos e à regência verbal, assinale a alternativa em que o emprego do pronome esteja **incorreto**.

- a) O amor o conduzia.
- b) Entregou-lhe o bilhete.
- c) Ela o queria muito bem.
- d) Levou-o ao dentista.

CENTRO DE INTEGRAÇÃO EMPRESA-ESCOLA - CIEE

15. Leia o trecho da música “Sampa”, composta por Caetano Veloso

“...Quando eu te encarei frente a frente não vi o meu rosto Chamei de mau gosto o que vi, de mau gosto, mau gosto...”

Assinale a alternativa em que o emprego do elemento destacado acima pode preencher corretamente a lacuna.

- a) O Lobo ____ é um célebre personagem da fábula “Os Três Porquinhos”, que ganhou vida nas telas pelas mãos de Walt Disney, em 1933.
- b) Hitler era considerado um ____ na humanidade devido às suas ações.
- c) Os sintomas da Peste Negra eram caracterizados por um forte ____-estar, febre e manchas azuladas espalhadas sobre a pele.
- d) Em “Guerra nas Estrelas”, o diretor George Lucas criou um dos mais célebres personagens do cinema: Darth Vader. Diretamente associado à tirania e ao ____.

CONHECIMENTOS GERAIS

16. O Expresso DF Sul, sistema de transporte coletivo de passageiros que ligará duas regiões administrativas ao centro de Brasília, começou a operar em fase de testes a partir de abril deste ano. Os coletivos vão trafegar num corredor exclusivo, 24 horas por dia, tendo como objetivo reduzir em 50 minutos o tempo de viagem dos passageiros. Assinale a alternativa que apresenta as duas regiões administrativas nas quais passará o Expresso DF Sul.

- a) Taguatinga e Brazlândia.
- b) Gama e Santa Maria.
- c) Sobradinho e Samambaia.
- d) Ceilândia e Guará.

17. O GDF oferecerá um curso aos rodoviários de todas as empresas de ônibus que atuam no Distrito Federal. O curso, chamado Gentileza Urbana, oferecerá aulas sobre

- I. direitos e deveres dos usuários.

- II. direção defensiva.
- III. valores das multas a serem aplicadas.

É correto o que está contido em

- a) I e III, apenas.
- b) II e III, apenas.
- c) I, II e III.
- d) I e II, apenas.

18. Leia o trecho abaixo e, em seguida, assinale a alternativa que preenche corretamente a lacuna.

O Governo do Distrito Federal anunciou, no dia primeiro de abril, que implantará acesso gratuito à Internet _____. Não foi informado quanto será gasto na implantação do sistema, mas os estudos estão sendo feitos para avaliar o impacto financeiro do projeto.

- a) em pontos de ônibus da capital do Brasil
- b) no metrô
- c) nos ônibus do sistema público
- d) nos *shopping centers* da capital

19. Dispositivos musicais serão colocados em determinados veículos de utilidade pública no Distrito Federal. A previsão é que o dispositivo musical seja instalado em todos os veículos até a primeira semana de abril, sendo testado em Taguatinga no dia 30 de março. Assinale a alternativa que apresenta os veículos a que se refere o trecho.

- a) Caminhões de lixo do Serviço de Limpeza Urbana.
- b) Caminhões de Distribuição de bujões de gás.
- c) Carros-pipa.
- d) Caminhões que fazem a distribuição de combustível para os postos de gasolina.

20. O número de bancos com moedas próprias cresceu bastante nos últimos cinco anos no Brasil, segundo dados da Rede Brasileira de Bancos Comunitários. Esses bancos, administrados por associações de moradores, foram responsáveis, no ano passado, por movimentar R\$18 milhões em crédito

CENTRO DE INTEGRAÇÃO EMPRESA-ESCOLA - CIEE

produtivo e R\$600 mil por meio das chamadas “moedas sociais”. Essas “moedas sociais” são usadas para

- I. estimular o comércio de áreas carentes.
- II. garantir que o dinheiro circule apenas entre comerciantes e moradores locais, e não se disperse por outros lugares, como acontece com o real.
- III. aumentar o lucro do Banco Central.

É correto o que está contido em

- a) I e III, apenas.
- b) I e II, apenas.
- c) II e III, apenas.
- d) I, II e III.

21. O Museu Nacional dos Correios sedia, entre 2 de abril e 1º de junho, a exposição “Eu Lago Sou – Mário Lago, um homem do século XX”, que resgata a vida e obra do artista Mário Lago. Assinale a alternativa que apresenta onde se encontra o Museu Nacional dos Correios.

- a) Rio de Janeiro.
- b) São Paulo.
- c) Minas Gerais.
- d) Brasília.

22. Foi criada, no fim do ano passado, segundo a Rede Brasileira de Bancos Comunitários, na cidade de Maricá, na região dos Lagos, Rio de Janeiro, a primeira moeda social eletrônica do país. Assinale a alternativa que apresenta o nome dessa moeda eletrônica.

- a) Mumbuca.
- b) Fuleco.
- c) Jabulani.
- d) Brazuca.

23. Em 31 de março de 1964, o Brasil deixava de ser um país de instituições ativas, independentes e democráticas e, por mais de vinte anos, o país ficou sob o regime militar. Assinale a alternativa que apresenta o nome do primeiro presidente dessa época, que governou entre 1964 e 1967.

- a) Costa e Silva.
- b) Médici.
- c) Castelo Branco.
- d) Figueiredo.

24. O Continente Americano é dividido em América do Norte, América Central e América do Sul. Assinale a alternativa que **não** apresenta um país da América do Sul.

- a) Argentina.
- b) Cuba.
- c) Uruguai.
- d) Paraguai.

25. A civilização egípcia destacou-se muito nas áreas de ciências, matemática e medicina. No campo da arquitetura, um tipo de construção peculiar é, até hoje, uma atração bastante procurada por turistas por ser a construção mais conhecida do Egito Antigo. Assinale a alternativa que apresenta esse tipo de construção.

- a) Templos budistas.
- b) Pirâmides.
- c) Igrejas de arquitetura gótica.
- d) Casarios de arquitetura bizantina.

26. Para explicarem as coisas do mundo e transmitirem conhecimentos populares, os gregos criaram vários mitos e lendas. A mitologia grega era repleta de monstros, heróis, deuses e outras figuras mitológicas. A religião politeísta grega era marcada por uma forte marca humanista. Os deuses possuíam características humanas e de deuses. O deus dos deuses, que comandava todos os demais do topo do monte Olimpo, era

- a) Balder.
- b) Loki.
- c) Váli.
- d) Zeus.

27. Leia o trecho abaixo e, em seguida, assinale a alternativa que preenche corretamente a lacuna.

O homem pré-histórico era capaz de se expressar artisticamente através

_____ que fazia nas paredes de suas cavernas, que mostravam os animais e pessoas do período em que vivia, além de cenas de seu cotidiano. O estudo desta forma de expressão contribui com os conhecimentos que os cientistas têm a respeito do dia a dia dos povos antigos.

- a) da escrita
- b) dos hieróglifos
- c) dos desenhos
- d) dos cálculos

28. Esse rio brasileiro nasce no estado de Minas Gerais, na Serra da Canastra. Em sua extensão, corta o estado da Bahia e serve de fronteira natural com Pernambuco, além de estabelecer limites entre os territórios de Sergipe e Alagoas. Suas águas são usadas para o turismo, lazer, irrigação, transporte, entre outros, desempenhando um importante papel socioeconômico para os estados e, principalmente, para as cidades em sua margem. Assinale a alternativa que apresenta o nome do rio em questão.

- a) Rio São Francisco.
- b) Rio Tocantins.
- c) Rio Xingu.
- d) Rio Tietê.

29. O Brasil é o maior país sul-americano, com extensão territorial de 8.514.876km². A grande extensão territorial proporciona ao país fronteira com quase todas as nações da América do Sul, com exceção de

- a) Suriname e Guiana Francesa.
- b) Peru e Bolívia.
- c) Venezuela e Paraguai.
- d) Chile e Equador.

30. Assinale a alternativa que apresenta o nome do oceano que banha o Brasil.

- a) Oceano Pacífico.
- b) Oceano Atlântico.
- c) Oceano Índico.
- d) Oceano Ártico.

NOÇÕES DE INFORMÁTICA

31. Assinale a alternativa que apresenta, no Microsoft Word, um recurso que possibilita, entre os envolvidos, informar e registrar as alterações e colaborações.


- a) Controlar Alterações.
- b) Sumário Automático.
- c) Inserir Citação.
- d) Novo Comentário.

32. Caso o usuário queira criar uma equação no Microsoft Excel 2010, como a apresentada abaixo, assinale a alternativa que apresenta o caminho que ele precisa usar.

$$(x + a)^n = \sum_{k=0}^n \binom{n}{k} x^k a^{n-k}$$

- a) Fórmulas → Inserir Função
- b) Inserir → Formas
- c) Inserir → Equação
- d) Dados → Conexões

33. No Microsoft Excel, caso um usuário posicione o *mouse* no canto inferior direito da imagem e arraste-o para baixo, pressionando o botão esquerdo, ele obterá o seguinte valor:



- a) 15.
- b) 18.
- c) 14.
- d) 16.

34. No Microsoft PowerPoint, é correto afirmar que a figura abaixo apresenta tipos de



- a) *Layout*.

CENTRO DE INTEGRAÇÃO EMPRESA-ESCOLA - CIEE

- b) Exibição.
- c) Transição.
- d) Design.

35. Assinale a alternativa que apresenta a versão “top de linha” do Microsoft Windows 8.

- a) *Premium.*
- b) *Ultimate.*
- c) *Professional.*
- d) *Enterprise.*

36. Assinale a alternativa que apresenta a versão do Windows 7 que possui o recurso de encriptação do sistema de arquivos que pode ser muito útil em caso de roubo ou furto do notebook ou do computador.

- a) *Starter.*
- b) *Home Premium.*
- c) *Professional.*
- d) *Home Basic.*

37. É correto afirmar que os computadores mais modernos vêm com, pelo menos, duas conexões

- a) VGA.
- b) serial.
- c) USB.
- d) micro USB.

38. Leia o trecho abaixo e, em seguida, assinale a alternativa que preenche corretamente a lacuna.

Quando se quer comprar um _____, é preciso saber seu tamanho, velocidade e tipo.




- a) mouse
- b) DVD
- c) roteador
- d) cartão de memória

39. Da mesma forma que os Correios entregam uma carta, um e-mail também tem essa funcionalidade e o sinal @ (arroba) significa onde o e-mail deve ser entregue. Para que esse e-mail chegue ao servidor ou provedor,

ele utiliza um sistema semelhante do CEP (Código de Endereçamento Postal). Assinale a alternativa que apresenta qual é esse serviço de Internet.

- a) FTP.
- b) DNS.
- c) HTTP.
- d) BBS.

40. Nos dias de hoje, o mercado de smartphones se divide em três grandes grupos de sistemas: Android (Google), iOS (Apple) e Windows Phone (Microsoft). Com base nisso, correlacione as colunas e, em seguida, assinale a alternativa que apresenta a sequência correta.

1. Windows Phone	()	
2. iOS	()	
3. Android	()	

- a) 1/ 2/ 3
- b) 3/ 2/ 1
- c) 3/ 1/ 2
- d) 2/ 1/ 3

CENTRO DE INTEGRAÇÃO EMPRESA-ESCOLA - CIEE

