

Cargo (Nível Médio):

Edital nº 002/2014

Código 03

ASSISTENTE DE PROCESSOS ORGANIZACIONAIS

Administração de Empresas ou Contabilidade

**Prova de Português, Raciocínio Lógico e
Conhecimentos Específicos**

PROVA TIPO

1


2014

ALGÁS

(Edital nº 002/2014)

CADERNO DE QUESTÕES

INSTRUÇÕES GERAIS

1. Este **Caderno de Questões** somente deverá ser aberto quando for autorizado pelo Fiscal.
2. **Antes de iniciar** a prova, **confira** se o **tipo** da prova do **Caderno de Questões** é o mesmo da **etiqueta da banca** e da **Folha de Respostas** de questões objetivas.
3. Ao ser autorizado o início da prova, verifique se a numeração das questões e a paginação estão corretas. Verifique também se contém **60 (sessenta)** questões objetivas com 5 (cinco) alternativas cada. Caso contrário, comunique imediatamente ao Fiscal.
4. O tempo disponível para esta prova é de **3 horas e 30 minutos**. Faça-a com tranquilidade, mas **controle seu tempo**. Esse **tempo** inclui a marcação da **Folha de Respostas** de questões objetivas.
5. Você somente poderá sair em definitivo do Local de Prova depois de decorridas **2 horas** do início da aplicação.
6. Na **Folha de Respostas** de questões objetivas, confira seu **nome, número do seu documento de identificação, tipo de prova e cargo escolhido**.
7. Em hipótese alguma lhe será concedida outra **Folha de Respostas** de questões objetivas.
8. Preencha a **Folha de Respostas** de questões objetivas utilizando caneta esferográfica de tinta azul ou preta. Na **Folha de Respostas** de questões objetivas, preencha completamente o círculo correspondente à alternativa escolhida, conforme modelo:

9. Será atribuído o valor ZERO à questão que contenha na **Folha de Respostas** de questões objetivas: dupla marcação, marcação rasurada, emendada ou com "X", não preenchida totalmente ou que não tenha sido transcrita.
10. A correção da prova objetiva será efetuada de forma eletrônica, considerando-se apenas o conteúdo da **Folha de Respostas** de questões objetivas.
11. Caso a Comissão julgue uma questão como sendo nula, os pontos serão atribuídos a todos os candidatos.
12. Não será permitida qualquer espécie de consulta.
13. Ao terminar a prova, **devolva** ao **Fiscal** de Sala este **Caderno de Questões**, juntamente com a **Folha de Respostas** de questões objetivas, e **assine a Lista de Presença**.
14. Na sala que apresentar apenas 1 (um) Fiscal, os 3 (três) últimos candidatos somente poderão ausentar-se da sala juntos, após a **assinatura da Ata de Encerramento** de provas.
15. **Assine** neste Caderno de Questões e **coloque** o número do seu documento de identificação (RG, CNH etc.).

Boa Prova!

N. do doc. de identificação (RG, CNH etc.):

Assinatura do(a) candidato(a):




FUNDEPES

PORTUGUÊS

A questão 1 refere-se ao texto abaixo.

O PETRÓLEO É NOSSO,
A COPA DO MUNDO É
NOSSA E AGORA A
OLIMPIADA É NOSSA!!!

E TRATA DE ARRUMAR
LOGO UM EMPREGO, POIS
ESTE FILHO É TEU!!!



Disponível em: <http://navegandopelospensamentos.blogspot.com.br>.
Acesso em: 28 abr. 2014.

1. Na expressão “este filho é teu”, os pronomes “este” e “teu” classificam-se, respectivamente, como

- A) pronome relativo e pronome oblíquo.
- B) pronome possessivo e pronome relativo.
- C) pronome pessoal e pronome demonstrativo.
- D) pronome demonstrativo e pronome pessoal.
- E) pronome demonstrativo e pronome possessivo.

A questão 2 refere-se ao texto abaixo.

Somos uma sociedade alçada na maré do consumo compulsivo, interessada em aproveitar a vida, seja o que isso for, e em adquirir mais e mais coisas, mesmo que inúteis, quando deveríamos estar cuidando, com muito afinho e seriedade, de melhores escolas e universidades, tecnologia mais avançada, transportes muito mais eficientes, saúde excelente, e verdadeiro crescimento do país. Mas corremos atrás de tanta conversa vã, não protegidos, mas embaixo de peneiras com grandes furos, que só um cego ou um grande tolo não vê.

LUFT, Lya. São Paulo, 5 jun. 2012.

2. O texto aborda

- A) a questão do consumismo compulsivo e irresponsável.
- B) a relatividade da compulsão pelo consumo.
- C) as faces da compra eficiente e necessária.
- D) a ideia do consumo comedido e definido.
- E) o universo das corporações comerciais.

3. No período: “Sem que mesmo os pais mais atentos percebam, os jovens estão usando um novo idioma para se comunicar intensamente – com os computadores”, a oração sublinhada tem valor de

- A) causa.
- B) condição.
- C) concessão.
- D) conformidade.
- E) consequência.

A questão 4 refere-se ao fragmento abaixo.

[...] essa é a característica geral do país: camuflamos nosso mercenarismo com singelos diminutivos. O policial, para manter as aparências, nunca cobra um suborno, mas uma “cervejinha”. O fiscal da prefeitura leva uma “caixinha”. O político dá uma “azeitadinha”. Ninguém se corrompe de forma direta, metódica, profissional. A gente é impreciso e diletante até para se vender.

MAINARDI, D. *Veja*. São Paulo, 6 fev. 2006.

4. Pelas características do texto, trata-se

- A) de um texto confessional e poético.
- B) de uma crônica, face ao tema e ao formato da linguagem.
- C) de um texto narrativo, basicamente um tipo de conto moderno.
- D) de um texto com evidências informativas, próprias do texto publicitário.
- E) de um texto de caráter dissertativo, face à estrutura rigorosa da linguagem.

5. Em “Gás LP, um setor moderno e inovador”, a vírgula foi empregada para isolar

- A) um aposto.
- B) um vocativo.
- C) um termo antecipado.
- D) uma expressão explicativa.
- E) uma oração adjetiva explicativa.

A questão 6 refere-se ao fragmento da canção abaixo.

O Mundo

O mundo é pequeno pra caramba
Tem alemão, italiano, italiana
O mundo filé milanesa
Tem coreano, japonês, japonesa

O mundo é uma salada russa
Tem nego da Pérsia, tem nego da Prússia
O mundo é uma esfiha de carne
Tem nego do Zâmbia, tem nego do Zaire
O mundo é azul lá de cima
O mundo é vermelho na China
O mundo tá muito gripado
O açúcar é doce, o sal é salgado
[...]

ABUJAMRA, André. *Kamak, Kamak*. São Paulo: Spinmusic, 2001, 1 CD.

6. A letra da canção

- A) enfatiza a diversidade cultural como uma das marcas do mundo contemporâneo.
- B) enfatiza a falta de esforço das pessoas para compreender as diferenças individuais e sociais.
- C) ironiza, com muita irreverência, a aceitação das pessoas à diversidade cultural contemporânea.
- D) objetiva passar para o leitor a importância da dimensão sonora das palavras através de rimas.
- E) censura a diversidade cultural, porque as pessoas possuem valores diferentes e utilizam diversas línguas.

A questão 7 refere-se ao texto abaixo.

Eu, na rua, com pressa, e o menino segurou no meu braço, falou qualquer coisa que não entendi. Fui logo dizendo que não tinha, certa de que ele estava pedindo dinheiro. Não estava. Queria saber a hora.

COLASANTI, M. *Eu sei, mas não devia*. Rio de Janeiro: Rocco, 1999.

7. Em síntese, é correto afirmar que, no processo de comunicação entre as duas personagens, ocorreu

- A) uma convergência de valores que proporcionou uma comunicação sem ruídos.
- B) um alheamento entre os dois; por isso, o texto não mostra a conclusão do processo de diálogo.
- C) uma falha na sequência do processo comunicativo que impossibilitou toda forma de entendimento.
- D) uma falha momentânea no processo de entendimento, cuja sequência comunicativa foi resgatada ao final.
- E) uma sequência de falas desconectadas da realidade, responsável por provocar o silêncio entre ambas.

A questão 8 refere-se ao texto abaixo.

Desperdício perverso

Um relatório do Banco Mundial lançado em fevereiro afirma que um terço dos alimentos produzidos no mundo não é consumido, acarretando preços inflados artificialmente e recursos desperdiçados. Enquanto os países ricos jogam fora um grande volume da produção, as nações em desenvolvimento padecem com instalações lastimáveis para o manejo e o armazenamento, o que leva à perda de alimentos. “A quantidade de comida desperdiçada e perdida em nível global é vergonhosa”, afirma Jim Yong Kim, presidente do Banco Mundial. Segundo a instituição, o volume de alimentos básicos caiu 11% em 2013 e está 18% abaixo do teto atingido em 2012. O cenário é amenizado pelas produções recorde de trigo e milho, que forçaram para baixo os respectivos preços em 21% e 40%.

PLANETA. São Paulo: Ed. Três, abr. 2014.

8. Em que fragmento verifica-se um agente da voz passiva?

- A) “O cenário é amenizado pelas produções recorde de trigo e milho”
- B) “Enquanto os países ricos jogam fora um grande volume da produção”
- C) “um terço dos alimentos produzidos no mundo não é consumido”
- D) “as nações em desenvolvimento padecem com instalações lastimáveis”
- E) “A quantidade de comida desperdiçada e perdida em nível global é vergonhosa”

A questão 9 refere-se ao texto abaixo.

Agosto chegou ao fim. Setembro entrou feio, seco de águas; o sol peneirando chispas num céu cor de cinza; a luminosidade tão intensa que trespassava as montanhas, descolorindo-as, fundia-as na atmosfera espessa e vibrante. Os homens espiavam, de cabeça erguida, interrogavam-se em silêncio. Com ansiedade, jogavam os seus pensamentos, como pedras das fundas, para o alto. Nem um fiapo de nuvem pairava nos espaços.

LOPES, M. *Os flagelados do vento leste*. Lisboa: Veja, 2001.

9. Dadas as afirmativas abaixo quanto às ideias expostas no texto,

- I. A paisagem apresentada é caracterizada como um espaço físico adverso.
- II. O drama da seca é anunciado como fator que gera grande privação às personagens.
- III. Apresenta-se um esboço do imaginário da terra, com base na perspectiva dos que dela dependem para sobreviver.
- IV. A variação do clima interfere diretamente no estado de ânimo das personagens, determinando sentimentos de preocupação.

verifica-se que está(ão) correta(s)

- A) IV, apenas.
- B) I e II, apenas.
- C) II e III, apenas.
- D) I, III e IV, apenas.
- E) I, II, III e IV.

A questão 10 refere-se ao texto abaixo.

A sociedade vive uma interminável busca por melhoria de conforto e comodidade, o que leva a um maior consumo de energia. Os países ricos temem comprometer-se com a redução de gastos energéticos e emissões de gases de efeito estufa, por saberem que tais medidas reduzem sua competitividade no mundo globalizado. Já os países em desenvolvimento se oferecem para vender créditos de gases de efeito estufa, mas ao mesmo tempo temem estar condenados a ficarem com seu desenvolvimento socioeconômico congelado.

MELLO, S. B. de. *A eficiência energética e o papel dos gases combustíveis*.

FONTE: Brasil Engenharia Online, 2014.

Disponível em: www.sindigas.com.br. Acesso em: 28 abr. 2014.

10. Os valores semânticos que os vocábulos destacados no texto desempenham são, respectivamente,

- A) causa e oposição.
- B) finalidade e adição.
- C) causa e concessão.
- D) finalidade e conformidade.
- E) finalidade e contrariedade.

A questão 11 refere-se à tirinha abaixo.



Disponível em: <http://f.i.uol.com.br>. Acesso em: 11 maio 2014.

11. Na construção: “Deixe-me entrar, Helga!”, o pronome pessoal oblíquo exerce a função de

- A) apassivador.
- B) objeto direto do verbo “entrar”.
- C) sujeito do verbo que está no infinitivo.
- D) adjunto adnominal com ideia de posse.
- E) objeto indireto do verbo causativo “mandar”.

A questão 12 refere-se ao texto abaixo.

Minas Gerais é, de longe, o estado brasileiro que mais produz queijos, quase todos de leite cru, com produção notadamente concentrada em cinco principais regiões: Alto Paranaíba, Serro, Serra da Canastra, Campos das Vertentes e Araxá. Com apoio estadual, os 9.450 produtores mineiros já receberam até conselhos de especialistas franceses para melhorar a produção.

PLANETA. São Paulo: Ed. Três, abr. 2014.

12. Considerando que o texto está centrado em uma informação, qual é a função da linguagem predominante?

- A) Fática.
- B) Conativa.
- C) Metalinguística.
- D) Expressiva ou emotiva.
- E) Denotativa ou referencial.

A questão 13 refere-se à tirinha abaixo.



Disponível em: <http://4.bp.blogspot.com>. Acesso em: 05 mai. 2014.

13. A respeito dos aspectos linguísticos que se encontram na tirinha, é correto afirmar que

- A) o verbo “entende” (1º quadrinho) distingue-se do “entende” (2º quadrinho) quanto à transitividade.
- B) há um desvio da variedade padrão quanto à regência do verbo “entende” (2º quadrinho). Deveria estar escrito: “...você entende ao filme?”
- C) o verbo “entende” (2º quadrinho), caso fosse substituído pelo verbo “assiste” (você assiste o filme?), haveria um desvio da variedade padrão quanto à regência.
- D) o pronome pessoal do caso reto em “Como é que a gente pode entender elas?” (3º quadrinho) apresenta função sintática de acordo com a gramática normativa.
- E) em: “...fazendo coisas que a gente não entende?” (1º quadrinho), pode-se substituir o sujeito “a gente” por “as pessoas”, sem alteração da forma verbal “entende”.

A questão 14 refere-se ao texto abaixo.

Cabisbaixo, olhar parado,
assistia a tudo de dentro de si mesmo
feito rei que assiste estoicamente
de dentro das muralhas
à derrocada de seu castelo

MACEDO, M. de. *Fragmento*. Maceió: Catavento, 2007.

14. Quanto ao uso do verbo *assistir*, no poema, é correto afirmar:

- A) não possui a mesma regência nas duas inserções.
- B) na primeira inserção “assistia a tudo”, a expressão “a tudo” é objeto direto.
- C) no terceiro verso, o verbo “assistir” é intransitivo, visto que não se apresenta complementado.
- D) nas duas inserções, o verbo é transitivo indireto; por isso, “à derrocada de seu castelo” é objeto indireto.
- E) se o acento grave de “à derrocada de seu castelo” for retirado do termo, modifica apenas a regência do verbo, mas não o sentido do verso.

15. Na citação de Clarice Lispector: “Pelo quarto parecia-lhe estarem a se cruzar os elétricos, a estremecerem-lhe a imagem refletida.”, o termo destacado exerce a função de

- A) sujeito.
- B) objeto direto.
- C) adjunto adverbial.
- D) adjunto adnominal.
- E) predicativo do sujeito.

A questão 16 refere-se ao poema abaixo.

Argumento

Mas se todos fazem

ALVIM, F. *Argumento*. In: *Os cem melhores poemas brasileiros do século*. Rio de Janeiro: Objetiva, 2001.

16. Dadas as afirmativas abaixo a respeito do poema,

- I. Para a compreensão do sentido, o único verso e o título se complementam, constituindo-se partes fundamentais do poema.
- II. O verso “Mas se todos fazem” sugere o argumento utilizado por muitas pessoas para justificar suas ações, ou seja, se a maioria age assim, todos se sentem autorizados a fazê-lo.
- III. No poema, a voz autoral é fortemente marcada pelo uso da conjunção “mas”.
- IV. Predomina, no poema, a função expressiva da linguagem, uma vez que a voz autoral está presente.

verifica-se que está(ão) correta(s)

- A) IV, apenas.
- B) I e II, apenas.
- C) II e III, apenas.
- D) III e IV, apenas.
- E) I, II, III e IV.

A questão 17 refere-se ao texto abaixo.

Eu ia, atento e presente, em busca de um bonde e de Jandira. Foi só ouvir uma sanfona, perdi o bonde, perdi o rumo, perdi Jandira. Fiquei rente do cego da sanfona, não sei se ouvindo as suas valsas ou se ouvindo outras valsas que eles foram acordar na minha escassa memória musical.

ANJOS, C. dos. *O amanuense Belmiro*. Rio de Janeiro: J. Olympio, 1975.

17. O “se” utilizado no texto é

- A) pronome reflexivo.
- B) pronome apassivador.
- C) conjunção subordinativa integrante.
- D) índice de indeterminação do sujeito.
- E) conjunção subordinativa condicional.

A questão 18 refere-se ao texto abaixo.
O homem de gelo

A -30 °C, o sangue-frio será, em diversos sentidos, a principal arma de Waldemar Niclevicz, 33, em sua terceira tentativa de se tornar o primeiro brasileiro a escalar o K2, segunda maior montanha do mundo e a mais perigosa, localizada no norte do Paquistão, perto da fronteira com a China.

O K2, com 8.611 m, por seu alto grau de dificuldade – 54 pessoas morreram ao tentar escalá-lo –, foi conquistado por só 164 alpinistas e também já provocou muitas mortes na descida. Embora seja o mais alto e famoso do mundo, o Everest, de 8.848 m, teve a escalada concluída por 1.200 pessoas.

Disponível em: <http://www1.folha.uol.com.br>. Acesso em: 28 abr. 2014.

18. Dadas as afirmativas quanto ao texto,

- I. “foi conquistado” concorda com o sujeito “o K2”.
- II. “provocou” concorda com o sujeito “muitas mortes”.
- III. A oração “e também já provocou muitas mortes na descida” é coordenada aditiva.
- IV. A oração introduzida pela conjunção “embora” é subordinada adverbial concessiva.

verifica-se que está(ão) correta(s)

- A) II, apenas.
- B) IV, apenas.
- C) I, II e III, apenas.
- D) I, III e IV, apenas.
- E) I, II, III e IV.

19. Considere a frase sublinhada no fragmento abaixo.

Os camponeses gostavam dele porque não era orgulhoso. Agradava as crianças, não entrava nunca nas tabernas.

FLAUBERT, Gustave. *Madame Bovary*. Porto Alegre: L&PM, 2003.

Substituindo-se o termo “as crianças” por um pronome, obtém-se a forma

- A) Agradava-a
- B) Agradava-as
- C) Agradava-lhe
- D) Agradava elas
- E) Agradava-lhes

A questão 20 refere-se ao texto abaixo.
Fugindo da carestia

Grandes multinacionais e bancos internacionais não estão marcando nenhuma reunião de trabalho para o Brasil em junho e julho. A medida visa fugir dos altos custos de hospedagem, locação de espaço e tarifas aéreas nos dois meses que o nosso país vai virar a capital mundial da bola.

ISTOÉ. São Paulo: Ed. Abril, abr. 2014.

20. Dados os fragmentos do texto,

- I. “...fugir dos altos custos...”
- II. “...altos custos de hospedagem...”
- III. “...locação de espaço...”
- IV. “...capital mundial da bola...”

as expressões em destaque apresentam a mesma função sintática nos itens

- A) I e III, apenas.
- B) I e IV, apenas.
- C) II e III, apenas.
- D) II e IV, apenas.
- E) I, II, III e IV.

RACIOCÍNIO LÓGICO

RASCUNHO

21. Dadas as proposições,

p: Alagoas está situado na região Sudeste.

q: A capital de Alagoas é Recife.

qual a proposição cujo valor lógico é verdadeiro?

- A) $p \vee \sim q$
- B) $p \wedge q$
- C) $\sim p \wedge q$
- D) $p \wedge \sim q$
- E) $p \vee q$

22. Mensalmente, algumas amigas se reúnem para jantar em um restaurante badalado. Em cada ocasião, através do resultado de um jogo, uma delas é dispensada da conta. No mês passado, o jogo escolhido foi o lançamento de um dado: não pagaria a conta quem obtivesse o maior número de pontos, com realização de desempate, se mais de uma pessoa conseguisse esse maior número. Tendo deixado dinheiro e cartão de crédito na bolsa que ficou em casa, Gisele estava ansiosa para ser contemplada. Se era a última a lançar o dado, e a maior pontuação obtida anteriormente foi quatro pontos, qual era a probabilidade de Gisele livrar-se da despesa sem participar de desempates?

- A) 1/6
- B) 1/3
- C) 1/2
- D) 3
- E) 6

23. A tabela apresenta os resultados (em %) de pesquisas realizadas nos cinco primeiros meses de 2014 relativas à avaliação pela população do desempenho do prefeito de uma cidade.

Mês	Péssimo	Regular	Bom/ótimo
Janeiro	19	38	38
Fevereiro	17	40	41
Março	21	37	41
Abril	25	39	36
Maior	26	38	35

Dos dados da tabela, conclui-se corretamente que a maior variação de um mês para o mês subsequente ocorreu na avaliação

- A) *péssimo*, com um crescimento de 16,0%.
- B) *bom/ótimo*, com um decréscimo de, aproximadamente, 12,2%.
- C) *bom/ótimo*, com um decréscimo de, aproximadamente, 13,9%.
- D) *péssimo*, com um crescimento de, aproximadamente, 19,0%.
- E) de *péssimo* para *regular*, com um aumento de, aproximadamente, 135,3%.

24. Em um programa de televisão, o apresentador, ao anunciar as notas das provas realizadas por atores famosos, afirmou que “a diferença entre o primeiro e o segundo colocados era de zero vírgula quatro décimos”. Não é usual em Matemática se usar designações das casas decimais (décimos, centésimos etc.) precedidas de um número decimal. No caso em tela, e supondo que o apresentador não feriu a “norma culta da linguagem matemática”, o apresentador deveria ter anunciado que a tal diferença era de

- A) quatro décimos.
- B) quatro decilitros.
- C) quatro milésimos.
- D) quatro centésimos.
- E) quatro centímetros.

25. A tabela apresenta a quantidade de questões e a respectiva pontuação das provas de um concurso público para provimento de cargos de uma instituição pública.

Disciplina	Quantidade de questões	Pontuação da questão	Total
Português	20	2	40
Raciocínio Lógico	10	1	10
Fundamentos da Administração Pública	10	1	10
Conhecimentos Específicos	20	3	60
Total	60		120

Qual será a pontuação de um candidato que acertar 12 questões de Português, 7 de Raciocínio Lógico, 8 de Fundamentos de Administração Pública e 18 de Conhecimentos Específicos?

- A) 45
- B) 75
- C) 93
- D) 100
- E) 101

26. Na última etapa para seleção de novos funcionários, o proprietário de uma empresa testava, em caráter decisivo, a habilidade matemática do candidato. Quando Leocádio chegou a essa etapa, recebeu o seguinte problema:

- A nossa empresa tem apenas três setores.
- O número de funcionários do setor que tem mais empregados é igual à soma dos números de servidores dos outros dois setores e é seis unidades maior que o triplo do número de trabalhadores do setor que tem menos funcionários.
- O número de funcionários do setor “intermediário” é oito unidades menor que o número de servidores do “maior” setor.

Leocádio resolveu tranquilamente o problema e, como tinha a certeza de que sua solução estava correta, refletiu que seria o

- A) trigésimo funcionário da empresa.
- B) sexagésimo funcionário da empresa.
- C) vigésimo terceiro funcionário da empresa.
- D) trigésimo primeiro funcionário da empresa.
- E) sexagésimo primeiro funcionário da empresa.

27. Dadas as afirmativas a respeito de potência com expoentes inteiros quaisquer e bases inteiras não nulas,

- I. $a^m \cdot na = a^{m+n}$.
- II. $a^m + b^m = (a + b)^m$.
- III. $a^m \cdot b^m = (a \cdot b)^m$.

verifica-se que está(ão) correta(s) apenas

- A) I.
- B) III.
- C) I e II.
- D) I e III.
- E) II e III.

28. Por ter havido incompreensão relativa ao manuscrito do professor, o sistema de equações, cuja solução seria cobrada numa lista de exercícios, foi digitado da seguinte forma:

$$\begin{aligned} x - 2y + kz &= 6 \\ 2x + y - z &= 2 \\ 3x - y &= 5 \end{aligned}$$

Procurado por uma aluna, o monitor da disciplina disse não saber o valor de k e fez as seguintes afirmativas:

- I. Se $k = 0$, o sistema é possível e determinado.
- II. Se $k = 1$, o sistema é impossível.
- III. Se $k = 2$, o sistema é possível e indeterminado.

A aluna analisou as afirmações do monitor e concluiu que estava(m) correta(s) apenas

- A) I.
- B) II.
- C) III.
- D) I e II.
- E) II e III.

O conteúdo do texto abaixo deve ser utilizado para resolver a questão 29.

Critério de divisibilidade por 11

Esse critério é semelhante ao critério de divisibilidade por 9. Um número é divisível por 11 quando a soma alternada dos seus algarismos é divisível por 11. Por soma alternada queremos dizer que somamos e subtraímos algarismos alternadamente ($539 \Rightarrow 5 - 3 + 9 = 11$).

Disponível em: <<http://educacao.globo.com>>. Acesso em: 07 maio 2014.

29. Se A e B são algarismos do sistema decimal de numeração e o número $109AB$ é múltiplo de 11, então

- A) $B = A$.
- B) $A + B = 1$.
- C) $B - A = 1$.
- D) $A - B = 10$.
- E) $A + B = -10$.

30. Em um treino de Fórmula 1, no qual competiam vinte e dois pilotos, dois deles, por razões técnicas, não conseguiram marcar tempo de classificação. Se o primeiro colocado se classificou com 1 min 25,232 s e o vigésimo com 1 min 30,375 s, o tempo de classificação do piloto mais lento do treino superou o do primeiro colocado em, aproximadamente,

- A) 4,11%.
- B) 5,69%.
- C) 6,03%.
- D) 16,93%.
- E) 20,38%.

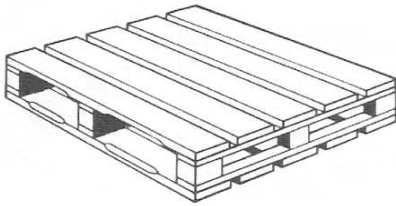
RASCUNHO

CONHECIMENTOS ESPECÍFICOS

31. Segundo as boas práticas de guarda e conservação dos materiais armazenados, eles deverão ser dispostos de forma a evitar a obstrução de portas, equipamentos contra incêndio, saídas habituais e saídas de emergências. Qual o objetivo deste procedimento?

- A) Facilitar as ações de combate a incêndios e possibilitar a saída rápida de pessoas em situações de emergência.
- B) Melhorar a estética da arrumação dos materiais dentro do almoxarifado e dar ênfase aos equipamentos de combate a incêndios.
- C) Atender ao que recomenda o gestor público dos estoques e melhorar a estética da área de armazenamento.
- D) Obedecer ao regimento interno no requisito *lay-out* do trabalho e melhorar a acessibilidade das pessoas.
- E) Cumprir o que pede a fiscalização do Ministério do Trabalho e garantir o Direito Constitucional individual de ir e vir.

32. A figura abaixo representa um equipamento que facilita o armazenamento dos materiais e ainda reduz custos e tempo nas operações de carregamento e descarregamento no transporte de mercadorias. Assinale a alternativa que contém a descrição correta desse equipamento.



- A) Palete com uma face e uma entrada.
- B) Palete com uma face e duas entradas.
- C) Palete com uma face e quatro entradas.
- D) Palete com duas faces e duas entradas.
- E) Palete com duas faces e quatro entradas.

33. A Ética tem como objetivo facilitar a vida em sociedade sem que a realização pessoal de cada indivíduo prejudique outro. É a parte da filosofia que visa à evolução da humanidade. A esse respeito, assinale a alternativa correta.

- A) Empenhar-se junto aos organismos profissionais para a consolidação da cidadania e da solidariedade profissional, e da coibição das transgressões éticas é dever profissional ante o ser humano e a seus valores.
- B) Desempenhar sua profissão ou função nos limites de suas atribuições e de sua capacidade pessoal de realização é dever profissional nas relações com os clientes, empregadores e colaboradores.
- C) No exercício da profissão é dever do profissional, ante o ser humano e a seus valores, divulgar os conhecimentos científicos, artísticos e tecnológicos inerentes à profissão.
- D) Manter-se informado sobre as normas que regulamentam o exercício da profissão é dever profissional ante o meio.
- E) Considerar em todos os planos, projetos e serviços as diretrizes e disposições concernentes à preservação e ao desenvolvimento dos patrimônios sócio-cultural e ambiental é dever profissional nas relações com os clientes, empregadores e colaboradores.

34. A NR 11 do Ministério do Trabalho e Empregos, no item 11.2.4, cita: "Na operação manual de carga e descarga de sacos, em caminhão ou vagão, o trabalhador terá o auxílio de ajudante". Essa regulamentação tem como objetivo

- A) evitar danos no material manualmente transportado.
- B) diminuir a possibilidade da ocorrência de doenças ocupacionais.
- C) impedir que o saco seja rasgado quando de sua manipulação.
- D) facilitar a carga ou descarga de caminhões ou vagões.
- E) dar mais empregos aos trabalhadores braçais.

35. Segundo a ABRE (Associação Brasileira de Embalagens), as funções básicas das embalagens são: conter, proteger e viabilizar o transporte dos produtos; porém, com a evolução da humanidade, foram incorporadas novas funções: informar, comunicar e vender os produtos nelas contidos. Assinale a alternativa que contém um tipo de embalagem.

- A) Palete.
- B) Contêiner.
- C) Cantilêver.
- D) Mezanino.
- E) Estrado de madeira.

36. O Código de ética funcional de servidor público civil do Estado de Alagoas, Lei nº 6.754, de 01/08/2006, em seu artigo 2º, inciso VI, diz que "a função pública integra-se na vida particular de cada servidor público. Assim, os fatos e atos verificados na conduta do dia a dia em sua vida privada poderão crescer ou diminuir o seu bom conceito na vida funcional". A esse respeito, assinale a alternativa correta.

- A) O ambiente de trabalho do servidor público é o mesmo de sua casa.
- B) O bom servidor público deve levar as atividades de trabalho para sua casa.
- C) A conduta particular do servidor público pode interferir em sua vida profissional.
- D) O servidor público deve diferenciar sua conduta na vida particular da sua conduta no ambiente de trabalho.
- E) O que o servidor público faz na vida particular pode fazer em seu ambiente de trabalho.

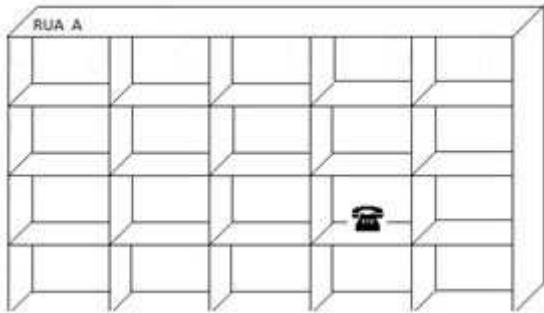
37. Os materiais em estoque necessitam de constante fiscalização e de acompanhamento. Quando identificados, alguns devem ter sua permanência em estoque analisada: caso não seja compensadora, devemos retirá-los do estoque, pois apenas representam capital de giro parado e em desvalorização. Quanto à movimentação, como os itens retirados do estoque são classificados?

- A) Materiais sucatas.
- B) Materiais inativos.
- C) Materiais obsoletos.
- D) Materiais permanentes.
- E) Materiais descontinuados.

38. Qual o volume, em litros, de uma caixa que tem a forma de um paralelepípedo e mede 10 cm de largura, 10 cm de comprimento e 20 cm de altura?

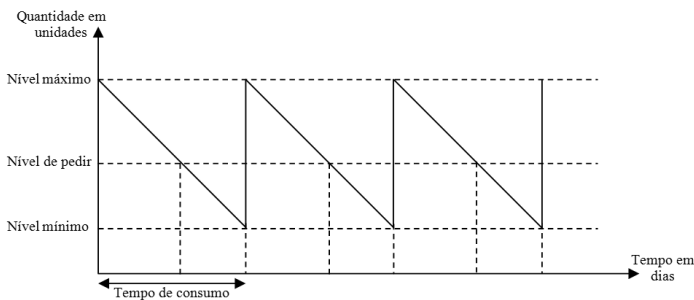
- A) 1,2
- B) 1,5
- C) 2,0
- D) 2,5
- E) 20.0

39. Armazenar materiais não consiste apenas em guardá-los em local protegido. Também é necessário que seja fácil sua localização. A figura abaixo representa um material armazenado em estante de almoxarifado com sistema de endereçamento. Qual é o endereço desse material?



- A) Rua A-D4
- B) Rua B-D1
- C) Rua A-B4
- D) Rua B-B4
- E) Rua A-4C

40. Atualmente, a determinação e a manutenção dos parâmetros de ressurgimento é atividade fundamental para a aplicação mínima de capital de giro em estoques com a menor possibilidade de faltas. O gráfico abaixo representa a evolução do estoque de um material em relação ao tempo e a aplicação desses parâmetros. Sem considerar o estoque inicial, quantas reposições aconteceram?



- A) 1
- B) 2
- C) 3
- D) 4
- E) 5

41. Assinale a alternativa que contém um parâmetro de ressuprimento.

- A) Acurácia.
- B) Ponto de pedido.
- C) Rotação do estoque.
- D) Cobertura do estoque.
- E) Lote econômico de compra.

42. Nos órgãos públicos, o registro de entrada dos matérias recebidos será sempre executado pelo almoxarifado, mediante documentação que comprove sua origem. São documentos válidos para comprovar a origem e fazer o registro do recebimento:

- A) guia de produção, nota fiscal, nota de empenho.
- B) nota fiscal, termo de cessão, nota de transferência.
- C) nota fiscal, nota de empenho, nota de transferência.
- D) termo de cessão, nota de empenho, guia de produção.
- E) nota de transferência, guia de produção, nota de empenho.

43. Os inventários de materiais de consumo em um almoxarifado visam apurar precisão dos controles de registros de entradas e saídas dos materiais e fazer auditoria sobre as atividades realizadas pelo estoquista e sua equipe; podem ser realizados em qualquer dia útil a critério do gestor público ou em caso de mudança do titular do almoxarifado, mas o inventário geral é obrigatório em período(s) específico(s) do ano. Qual a frequência de realização desses inventários?

- A) Uma vez por mês, no último dia útil do mês contábil ou no primeiro dia útil do mês seguinte.
- B) Duas vezes ao ano, no último dia útil do semestre contábil ou no primeiro dia útil do semestre seguinte.
- C) Três vezes ao ano, no último dia útil do quadrimestre contábil ou no primeiro dia útil do quadrimestre seguinte.
- D) Quatro vezes ao ano, no último dia útil do trimestre contábil ou no primeiro dia útil do trimestre seguinte.
- E) Uma vez ao ano, no último dia útil do exercício contábil ou no primeiro dia útil do exercício seguinte.

44. Com a utilização de computadores para o controle dos estoques, surgiram formas mais seguras e mais rápidas de identificação dos materiais em suas movimentações. Uma delas é a identificação através de códigos de barras padrão EAN/UCC (*European Article Numbering/Uniform Code Council*), muito utilizada pelo comércio e pelas indústrias de todo o mundo. Quanto ao código padrão EAN/UCC-13, é correto afirmar:

- A) seu padrão de codificação é o numérico sequencial sem dígito de controle.
- B) seu padrão de codificação é o numérico sequencial com dígito de controle.
- C) sua classificação espelha a classificação dos materiais do comércio varejista.
- D) é utilizado para identificar produtos contidos em suas embalagens de varejo.
- E) é utilizado para identificar produtos contidos em suas embalagens de atacado.

45. Com o objetivo de melhor gerir as compras e evitar a falta de produtos, o gestor de estoques de uma empresa pública resolveu implantar parâmetros de ressurgimento e aplicar nos materiais que possuem demanda permanente. Para certo item da classe de materiais de expediente e consumo, baseado no histórico da demanda durante três anos, ele fixou os seguintes parâmetros:

- 1.o nível do estoque de segurança deve ser suficiente para atender a 10 dias de atraso na entrega;
- 2.o nível de pedir é definido pela seguinte fórmula: $NP = (CD \times TC) + ES$, onde: CD é o consumo diário; TC é o tempo de processamento da compra; ES é o nível do estoque de segurança;
- 3.a quantidade a pedir deve ser suficiente para atender a 90 dias de consumo;
- 4.o mês padrão tem 30 dias;
- 5.o consumo médio mensal é de 900 unidades e o tempo de processamento da compra é de 10 dias.

Nessas condições, utilizando os parâmetros fornecidos pelo gestor de estoques, o nível de pedir é equivalente a quantas unidades?

- A) 300
- B) 330
- C) 400
- D) 440
- E) 600

46. Os itens em estoque têm seus valores avaliados ao preço de custo, que são atualizados a cada movimentação de entrada. A ficha de controle de estoque abaixo representa as movimentações valorizadas ao preço de custo médio ponderado (CMP).

Dia	Entradas no Estoque			Saídas do Estoque			Saldo		
	Quant.	Pç/Un	Total	Quant	Pç/Un	Total	Quant	Pç/Un	Total
01/03	10	10,00	100,00				10	10,00	100,00
05/03				8	10,00	80,00	2	10,00	20,00
06/03	20	9,00	180,00						

Qual o preço por unidade, no saldo do dia 06/03, do item cuja ficha de controle de estoque é a da tabela?

- A) R\$ 9,09
- B) R\$ 9,20
- C) R\$ 9,35
- D) R\$ 9,50
- E) R\$ 9,90

47. A acurácia de estoques é um índice que mede a precisão dos valores dos saldos físicos respectivos registrados no controle do estoque em relação aos saldos físicos dos estoques obtidos com a contagem no inventário. Se no último inventário geral, realizado pelo gestor de estoque de uma empresa, dos 1000 itens contados houve divergências com 100 deles, qual o valor da acurácia?

- A) 10%
- B) 20%
- C) 80%
- D) 90%
- E) 100%

48. A rotação dos estoques é um indicador de desempenho dos materiais muito utilizado por empresas que necessitam manter pouco estoque em suas prateleiras. Se o item apresentar giro baixo, sua reposição e permanência em estoque serão reavaliadas. Para calcular a rotação trimestral de certo item em estoque, o gestor de estoques apurou sua movimentação e encontrou os dados contidos na tabela abaixo. Qual a rotação do item avaliado?

- A) 0,6 vezes.
- B) 1,0 vezes.
- C) 1,3 vezes.
- D) 1,5 vezes.
- E) 2,0 vezes.

49. Segundo o INMETRO (2012), "O valor de uma grandeza é geralmente expresso sob a forma do produto de um número por uma unidade. A unidade é apenas um exemplo específico da grandeza em questão, usada como referência." É uma unidade de base do Sistema Internacional de Unidades - SI:

- A) peça.
- B) metro.
- C) grama.
- D) tonelada.
- E) metro cúbico.

50. Os acessórios utilizados na movimentação de cargas têm a finalidade de facilitar as operações de transporte e de armazenamento. Assinale a alternativa que contém um acessório para movimentação de cargas.

- A) Palete.
- B) Estantes.
- C) Travessa.
- D) Porta-paletes.
- E) Plano de contenção.

51. A gestão dos bens patrimoniais públicos é uma atividade que demanda vários e detalhados procedimentos, sendo um deles a alienação. Ocorre a alienação do bem quando

- A) um bem é cedido entre órgãos ou entidades da Administração Pública.
- B) houver troca de responsabilidade de uma unidade organizacional para outra, dentro do mesmo órgão ou entidade.
- C) acontecer transferência gratuita de posse e troca de responsabilidade.
- D) há transferência do direito de propriedade do material, mediante venda, permuta ou doação.
- E) o bem se torna obsoleto, por sua tecnologia estar ultrapassada.

52. João deseja medir a espessura de uma chapa de aço que deve ser utilizada na confecção de um armário para uso na oficina mecânica. Para fazer a medição de forma rápida, precisa e simples, ele deve utilizar que instrumento de medição?

- A) Régua comum.
- B) Paquímetro.
- C) Voltímetro.
- D) Amperímetro.
- E) Osciloscópio.

53. Segundo a NBR 15514, que estabelece requisitos mínimos de segurança para áreas de armazenamento de recipientes transportáveis de gás liquefeito de petróleo (GLP), com capacidade nominal de até 90 Kg, destinados ou não à comercialização, "a estrutura e a cobertura devem ser construídas com produto resistente ao fogo, tendo a cobertura menor resistência mecânica do que a estrutura que a suporta." Quanto à resistência mecânica da cobertura, essa recomendação tem o objetivo de

- A) causar menos danos às pessoas próximas e à estrutura do prédio, pois, em caso de explosão, a onda de choque será direcionada para cima.
- B) reduzir o custo de construção da área de armazenamento, por se tratar de uma estrutura provisória.
- C) facilitar o acesso do corpo de bombeiros, que utilizará a cobertura como acesso à área de armazenamento do GLP.
- D) reduzir a quantidade de calor no ambiente da área de armazenamento, pois o calor excessivo pode causar incêndio.
- E) facilitar a retirada da cobertura, o que permitiria, em caso de necessidade de rápida evacuação do prédio, a saída das pessoas pelo teto.

54. Os materiais podem ser classificados de diferentes formas, conforme o aspecto a ser analisado. Quanto ao aspecto da demanda das organizações, o item copo descartável para água - 300 ml pode ser considerado um item com demanda

- A) eventual.
- B) obsoleta.
- C) inesgotável.
- D) permanente.
- E) descontinuada.

55. Pedro, gestor de estoques, ao emitir um relatório de movimentação de materiais do almoxarifado, constatou que alguns itens não apresentavam demanda por longo período de tempo. Que decisão Pedro deve adotar quanto aos itens sem movimento?

- A) Distribuir os materiais inativos entre os auxiliares do almoxarifado.
- B) Negociar com os fornecedores a sua troca.
- C) Eliminar os itens do controle do estoque e guardar em local separado dos demais itens com movimentação.
- D) Solicitar a baixa dos itens sob o argumento de que eles não são movimentados.
- E) Analisar a necessidade de manter em estoque cada um desses itens e incentivar a demanda daqueles que possuem estoque excedente.

56. Tendo recebido a incumbência de fazer a avaliação financeira dos estoques, Júnior, assistente administrativo, recém contratado pela empresa KBY Distribuidora, está com dúvidas quanto ao método que deve utilizar. Qual é o método de avaliação financeira dos estoques mais vantajoso para as empresas?

- A) PEPS (FIFO).
- B) UEPS (LIFO).
- C) Média móvel simples (MMS).
- D) Custo médio ponderado (CMP).
- E) Média móvel ponderada (MMP).

57. O diretor de suprimentos de uma empresa deseja migrar do controle de estoques manual, feito através de fichas, para um controle informatizado integrado com a área de vendas, de compras e financeira da companhia. Para isso, ele terá que adotar um sistema de codificação que ofereça segurança no registro das movimentações, trabalhe com dígito verificador, expresse a classificação dos itens e permita a impressão dos códigos dos produtos no formato de barras. Qual sistema deve ser adotado?

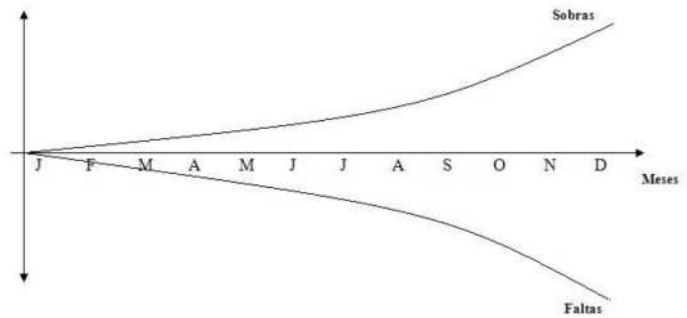
- A) Sistema alfabético.
- B) Sistema alfa-decimal.
- C) Sistema alfa-numérico.
- D) Sistema numérico decimal.
- E) Sistema de códigos de barras.

58. A tabela abaixo apresenta a ficha de movimentações do estoque de um determinado item. Qual o método de avaliação que foi utilizado?

Dia	Entradas no Estoque			Saídas do Estoque			Saldo		
	Quant.	Pç/Un	Total	Quant.	Pç/Un	Total	Quant.	Pç/Un	Total
18/04	25	18,00	450,00	--	--	--	25	18,00	450,00
19/04	--	--	--	07	18,00	126,00	18	18,00	324,00
20/04	35	18,50	647,50	--	--	--	18	18,00	324,00
--	--	--	--	--	--	--	35	18,50	647,50
25/04	--	--	--	18	18,00	324,00	0	18,00	0,00
--	--	--	--	27	18,50	499,50	8	18,50	148,00

- A) PEPS (primeiro que entra; primeiro que sai).
- B) UEPS (último que entra; primeiro que sai).
- C) PSUE (primeiro que sai; último que entra).
- D) CMP (custo médio ponderado).
- E) CPM (custo ponderado médio).

59. O gráfico abaixo representa a evolução das sobras e faltas de estoque constatadas no último inventário geral do almoxarifado. Da observação do gráfico, é correto concluir que



- A) o índice de faltas e sobras está dentro da normalidade; por isso, o gráfico apresentou essa configuração.
- B) a ocorrência de faltas e sobras se intensifica se for realizado apenas um inventário ao ano.
- C) as sobras e faltas constatadas foram todas decorrentes de falha do sistema de controle de estoque.
- D) a ocorrência de faltas e sobras não afeta o conceito da equipe que trabalha no almoxarifado.
- E) o fato é irrelevante, pois podemos compensar o valor das sobras com o valor das faltas e assim não haverá diferenças para apurar.

60. Os sistemas de endereçamento dos locais onde estão armazenados os materiais facilitam que estes sejam rapidamente encontrados. Nos almoxarifados, o sistema de localização é fixo, o material é sempre repostado no mesmo endereço; nos depósitos, o sistema de localização é móvel. A razão da variação dessa localização é que

- A) as movimentações dos depósitos são muito maiores que as movimentações dos almoxarifados; por isso, os materiais são colocados em locais vagos.
- B) as quantidades de materiais recebidas pelos depósitos são maiores que as recebidas pelos almoxarifados. Para não ter que ampliar a área de armazenamento e deixar grandes espaços vazios, os materiais são colocados em locais desocupados dentro de sua classe.
- C) os almoxarifados movimentam os estoques seguindo o princípio do método PEPS (primeiro que entra; primeiro que sai) e os depósitos seguem o modelo UEPS (último que entra; primeiro que sai).
- D) os equipamentos de movimentação de materiais, tipo empilhadeiras e paleteiras hidráulicas, são mais utilizados nos depósitos que nos almoxarifados; por isso, não há necessidade da localização fixa.
- E) os almoxarifados têm menos recursos de mão de obra que os depósitos; por isso, é fundamental que os materiais fiquem sempre no mesmo lugar.