

NOME DO CANDIDATO

Nº DE INSCRIÇÃO

ESCOLA

SALA


ORDEM

LEIA COM ATENÇÃO AS INSTRUÇÕES ABAIXO

INSTRUÇÕES GERAIS

- O candidato receberá do fiscal:
Um Caderno de Questões contendo **50 (cinquenta) questões** objetivas de múltipla escolha.
Uma Folha de Respostas personalizada para a Prova Objetiva.
- Ao ser autorizado o início da prova, verifique, no Caderno de Questões, se a numeração das questões e a paginação estão corretas e se não há falhas, manchas ou borrões. Se algum desses problemas for detectado, solicite ao fiscal outro caderno completo. Não serão aceitas reclamações posteriores.
- A totalidade da Prova terá a duração de **3h30 (três horas e trinta minutos)**, incluindo o tempo para preenchimento da Folha de Respostas da Prova Objetiva.
 - Iniciada a Prova, nenhum candidato poderá retirar-se da sala antes de decorridas **2h30 (duas horas e trinta minutos)** de prova, devendo, ao sair, entregar ao fiscal de sala, obrigatoriamente, o Caderno de Questões e a Folha de Respostas da Prova Objetiva. A Folha de Respostas da Prova Objetiva será o único documento válido para correção.
 - Não serão permitidas consultas a quaisquer materiais, uso de telefone celular ou outros aparelhos eletrônicos.
 - Caso seja necessária a utilização do sanitário, o candidato deverá solicitar permissão ao fiscal de sala, que designará um fiscal volante para acompanhá-lo no deslocamento, devendo manter-se em silêncio durante o percurso, podendo, antes da entrada no sanitário e, depois da utilização deste, ser submetido à revista com detector de metais. Na situação descrita, se for detectado que o candidato está portando qualquer tipo de equipamento eletrônico, será eliminado automaticamente do concurso.
- O candidato, ao terminar a prova, deverá retirar-se imediatamente do estabelecimento de ensino, não podendo permanecer nas dependências deste, bem como não poderá utilizar os sanitários.

INSTRUÇÕES – PROVA OBJETIVA

- Verifique se seus dados estão corretos na Folha de Respostas.
- A Folha de Respostas **NÃO** pode ser dobrada, amassada, rasurada, manchada ou conter qualquer registro fora dos locais destinados às respostas.
- Use caneta transparente de tinta preta.
- Assinale a alternativa que julgar correta para cada questão na Folha de Respostas.
- Para cada questão, existe apenas **1 (uma)** resposta certa – não serão computadas questões não assinaladas ou que contenham mais de uma resposta, emendas ou rasuras.
- O modo correto de assinalar a alternativa é cobrindo, completamente, o espaço a ela correspondente, conforme modelo abaixo:

- Todas as questões deverão ser respondidas.

OS TEXTOS E AS QUESTÕES FORAM REDIGIDOS CONFORME O NOVO ACORDO ORTOGRÁFICO DA LÍNGUA PORTUGUESA, MAS ESTE NÃO SERÁ COBRADO NO CONTEÚDO.

Espaço reservado para anotação das respostas - O candidato poderá destacar e levar para conferência.

NOME DO CANDIDATO

Nº DE INSCRIÇÃO

1	2	3	4	5	6	7	8	9	10	11	12	13	14	15	16	17	18	19	20	21	22	23	24	25
26	27	28	29	30	31	32	33	34	35	36	37	38	39	40	41	42	43	44	45	46	47	48	49	50

LÍNGUA PORTUGUESA

Leia o texto adaptado abaixo para responder às questões de 1 a 3.

Os gargalos da segurança pública

O Governo Federal mantém certa distância do tema segurança pública no Brasil, uma vez que, por determinação constitucional, o controle das polícias militar e civil fica a cargo dos estados. Contudo, especialistas afirmam que caberá à presidente eleita combater ao menos dois gargalos que colocam o país entre os países mais violentos do planeta: impunidade e baixo investimento em inteligência.

Um estudo do Programa das Nações Unidas para o Desenvolvimento (PNUD) revelou que o Brasil, com 2,8% da população mundial, registrou 11% das mortes por arma de fogo do planeta em 2004. Para especialistas, as diferenças regionais deveriam influir no tipo de combate à violência. As capitais e regiões metropolitanas ainda concentram a maior parte dos assassinatos, mas os índices apresentam queda nos últimos anos, graças a investimentos (ainda insuficientes) em programas como bancos de dados, combate à impunidade e construção de prisões. Essas regiões são afetadas especialmente pelo tráfico de drogas.

Nos últimos anos, o Brasil se tornou o segundo maior consumidor mundial e um dos maiores centros de movimentação de cocaína. Estima-se que o país consuma de 40 a 50 toneladas da droga por ano, exportando mais ou menos a mesma quantidade. A Polícia Federal e as polícias estaduais apreendem apenas 15% de toda a cocaína que circula pelo território nacional. Os principais fornecedores do Brasil são Bolívia, Colômbia e Peru.

Interiorização – A partir de 1999, as regiões metropolitanas receberam a maior parte dos recursos para o combate à violência. Foram canalizados recursos federais e estaduais para aparelhamento dos sistemas de segurança. Isso dificultou a ação da criminalidade organizada, que migrou para as áreas de menor risco, no interior dos estados. A taxa média de assassinatos nas capitais caiu de 45,7 para 36,6 a cada 100.000 habitantes, entre 1997 e 2007. Por outro lado, as ocorrências em municípios do interior subiram de 13,5 para 18,5 a cada 100.000 habitantes no mesmo período.

O sociólogo Julio Jacobo Waiselfisz é o responsável pela elaboração do Mapa da Violência no Brasil, um estudo detalhado sobre os índices de criminalidade em todos os municípios. Ele afirma que o Governo Federal deve ajudar a

envolver municípios no combate à violência tomando a frente no trabalho de inteligência e mapeando os problemas regionais. “O combate tem que ser específico para cada tipo de região. Tem que haver diagnóstico. O primeiro passo da cura é a consciência da enfermidade. Difundiu-se entre nós a ideia de que a violência é um fenômeno quase natural, o que é um erro. Ela é um fenômeno determinado por fatores específicos que podem ser removidos”, diz Waiselfisz.

Segundo ele, três estados que canalizaram recursos para o combate à violência, São Paulo, Minas e Rio, apresentaram quedas nas taxas de homicídios em anos recentes. Porém, houve prioridade nas capitais, o que fez com que a violência se deslocasse ou diminuísse menos no interior. “Em São Paulo, os homicídios caíram 65% na capital e, no interior, apenas 27%. No Rio, a partir de 2004, a queda na capital e na região metropolitana foi de 39,8%, mas no interior houve aumento de 33,6%”, explica Waiselfisz.

Disponível em: <http://veja.abril.com.br/noticia/brasil/os-gargalos-da-seguranca-publica>

1. De acordo com o texto, analise as assertivas abaixo.
 - I. Embora haja investimentos em programas que combatem a impunidade, o índice de assassinatos nas regiões metropolitanas e capitais tem ascendido.
 - II. Segundo o sociólogo mencionado no texto, os problemas regionais devem ser mapeados e deve haver um trabalho de inteligência para que a violência seja combatida.
 - III. Em São Paulo, Minas Gerais e Rio de Janeiro, houve canalização de recursos para combater a violência e as taxas de homicídios em anos recentes caíram. O mesmo não ocorreu no interior.

É correto o que se afirma em

- (A) I e II, apenas.
- (B) II e III, apenas.
- (C) III, apenas.
- (D) II, apenas.
- (E) I, II e III.

2. Observe o trecho transcrito do texto e, em seguida, assinale a alternativa que apresenta um sinônimo da palavra destacada de acordo com o contexto.

“Para especialistas, as diferenças regionais deveriam **influir** no tipo de combate à violência.”

- (A) Sobressair.
- (B) Acarretar.
- (C) Consistir.
- (D) Aliviar.
- (E) Influenciar.

3. Observe a oração abaixo e, em seguida, assinale a alternativa em que a conjunção destacada estabeleça o **mesmo** sentido e tenha a **mesma** classificação que a conjunção destacada na oração abaixo.

“**Segundo** ele, três estados que canalizaram recursos para o combate à violência, São Paulo, Minas e Rio, apresentaram quedas nas taxas de homicídios em anos recentes.”

- (A) **Ainda que** tenha sido socorrida, a vítima de assalto veio a falecer.
- (B) **Caso** haja fuga, os policiais terão que ser rigorosos quanto à disciplina.
- (C) **Quando** houve rebelião no presídio, colchões foram queimados.
- (D) **Conforme** o delegado explicou, os menores serão encaminhados para exame de corpo de delito.
- (E) **Para que** não haja tumultos, as alas do presídio serão vigiadas.

4. De acordo com a norma-padrão da Língua Portuguesa e quanto à ortografia, assinale a alternativa correta.

- (A) Desprevidado, nem pôde reagir ao assalto.
- (B) O corpo encontrado no matagal estava cheio de ematomas.
- (C) O homem foi acusado de estupro.
- (D) O sequestrador amordassou a vítima.
- (E) Os marginais depedriram o edifício.

5. De acordo com a norma-padrão da Língua Portuguesa e quanto à acentuação, assinale a alternativa correta.

- (A) Um fio de nailón foi encontrado na cena do crime.
- (B) O projétil da bala foi achado perto do local do crime.
- (C) O corpo do homem foi jogado perto do moínho.
- (D) Depois da briga, eles ficaram com sequélas.
- (E) O corpo encontrado na beira do rio estava nú.

6. De acordo com a norma-padrão da Língua Portuguesa e quanto à pontuação, assinale a alternativa correta.

- (A) Algumas instituições calculam que 25 mil mulheres recém-casadas são mortas ou mutiladas a cada ano, como resultado da violência relacionada ao dote. Neste caso, grande parte das mulheres tem o corpo incendiado.
- (B) Algumas instituições, calculam que 25 mil mulheres recém-casadas, são mortas ou mutiladas a cada ano, como resultado: da violência relacionada ao dote. Neste caso, grande parte das mulheres tem o corpo incendiado.
- (C) Algumas instituições calculam, que 25 mil mulheres recém-casadas são mortas ou mutiladas a cada ano, como resultado da violência relacionada ao dote. Neste caso grande parte das mulheres, tem o corpo incendiado.
- (D) Algumas instituições calculam que 25 mil mulheres, recém-casadas, são mortas ou mutiladas, a cada ano, como resultado da violência, relacionada ao dote. Neste caso grande parte, das mulheres tem o corpo incendiado.
- (E) Algumas instituições calculam que 25 mil mulheres recém-casadas, são mortas, ou mutiladas, a cada ano como resultado da violência, relacionada ao dote. Neste caso, grande parte das mulheres, tem o corpo incendiado.

7. De acordo com a norma-padrão da Língua Portuguesa e quanto à concordância verbal, assinale a alternativa correta.

- (A) Cerca de 100 pessoas foram presas por tráfico de drogas ontem na Zona Leste.
- (B) Daniel foi um dos policiais civis que participou da operação contra roubo de caminhões.
- (C) Fomos nós que prendeu o sequestrador do interior de São Paulo.
- (D) A polícia militar ou a polícia civil representa a segurança da sociedade.
- (E) Houveram trocas de tiros entre policiais e traficantes no morro carioca.

8. De acordo com a norma-padrão da Língua Portuguesa e quanto à colocação pronominal, assinale a alternativa correta.

- (A) Ninguém opôs-se à prisão do menor infrator.
- (B) Haviam-me intimado para depor.
- (C) Agora negam-se a dar depoimento.
- (D) Disso acusaram-me, mas ainda não há provas.
- (E) Soube que prenderiam-me hoje à tarde, mas fugi.

9. De acordo com a norma-padrão da Língua Portuguesa e quanto à ocorrência de crase, assinale a alternativa correta.

- (A) Refiro-me à mesma pessoa que assaltou o ônibus na semana passada.
- (B) À pedido do pai, o jovem foi preso.
- (C) Quando viu a polícia, começou à correr.
- (D) O policial ficou cara à cara com o assassino de mulheres.
- (E) Mostre à ela seus antecedentes criminais.

10. De acordo com a norma-padrão da Língua Portuguesa e quanto à ortografia, assinale a alternativa correta.

- (A) A testemunha distorceu os fatos.
- (B) Os infratores não terão privilégios.
- (C) O trabalho dos policiais não teve hêsito.
- (D) Os bandidos ficaram calados durante todo o trageto.
- (E) Há permissão do delegado para visitas naquele pavilhão.

11. De acordo com a norma-padrão da Língua Portuguesa e quanto à regência verbal, assinale a alternativa correta.

- (A) A vítima perdoou ao assassino de seu filho.
- (B) A mulher agradeceu os policiais.
- (C) O soldado aspira a patente de cabo.
- (D) O médico se negou a assistir aos pacientes que assaltaram o banco.
- (E) O policial visou ao corpo do sequestrador e atirou.

12. De acordo com a norma-padrão da Língua Portuguesa e quanto à pontuação, assinale a alternativa correta.

- (A) O *bullying* se refere, a todas as formas de atitudes agressivas, intencionais, e repetidas, que ocorrem sem motivação evidente, adotadas por um, ou mais estudantes contra outro ou outros.
- (B) O *bullying*, se refere a todas as formas de atitudes: agressivas, intencionais e repetidas, que, ocorrem sem motivação, evidente, adotadas por um ou mais estudantes contra outro ou outros.
- (C) O *bullying* se refere a todas as formas de atitudes agressivas, intencionais e repetidas, que ocorrem sem motivação evidente, adotadas por um ou mais estudantes contra outro ou outros.
- (D) O *bullying* se refere a todas, as formas de atitudes, agressivas, intencionais e repetidas, que ocorrem sem motivação evidente, adotadas por um ou mais estudantes, contra outro ou outros.
- (E) O *bullying* se refere a todas as formas, de atitudes agressivas, intencionais e repetidas, que ocorrem, sem motivação evidente, adotadas, por um ou mais, estudantes contra outro ou outros.

13. De acordo com a norma-padrão da Língua Portuguesa e quanto à ocorrência de crase, assinale a alternativa correta.

- (A) Ela está disposta à colaborar com as investigações.
- (B) O jovem foi morto à facadas.
- (C) O benefício só foi concedido à infratores com bom comportamento.
- (D) O combate corpo à corpo entre os presidiários foi sanguinolento.
- (E) Aquele policial está à frente das negociações com o invasor.

14. De acordo com a norma-padrão da Língua Portuguesa e quanto à ortografia, assinale a alternativa correta.

- (A) A mulher foi inforcada pelo marido.
- (B) A vítima siquer pôde se defender do algoz.
- (C) O adolescente é reincidente.
- (D) Os parentes ficaram receiosos quando foram identificar o corpo.
- (E) Chamaram a polícia porque a mulher estava istérica.

15. De acordo com a norma-padrão da Língua Portuguesa, assinale a alternativa que apresenta um vício de linguagem.

- (A) O homem foi à Lua.
- (B) O professor tem que possuir um elo de ligação com seus alunos.
- (C) O pé da mesa está frouxo.
- (D) O homem cansou de lutar e foi morar com o Senhor Jesus.
- (E) Já falei mil vezes que você não pode brincar com esse menino.

16. De acordo com a norma-padrão da Língua Portuguesa e quanto à concordância nominal, assinale a alternativa correta.

- (A) Seguem anexos as fotos da cena do crime.
- (B) A mãe ficou meia aflita quando viu o filho sendo preso.
- (C) Aquela cidade está com menas violência em relação ao índice apresentado no ano passado.
- (D) O delegado tem que analisar bastantes processos até amanhã.
- (E) Não é permitido a entrada de pessoas portando armas.

17. Observe o trecho abaixo e, em seguida, assinale a alternativa que apresenta um sinônimo da palavra destacada de acordo com o contexto.

“Ficou **atônito** com o tumulto.”

- (A) Chateado.
- (B) Irado.
- (C) Espantado.
- (D) Enternecido.
- (E) Indiferente.

18. De acordo com a norma-padrão da Língua Portuguesa e quanto ao plural dos substantivos, assinale a alternativa correta.

- (A) Os escrivães compareceram à delegacia hoje de manhã.
- (B) Os cidadãos clamavam por justiça na porta da delegacia.
- (C) A mãe do infrator desmaiou nos degrais da delegacia.
- (D) A polícia fará a segurança dos cônsls.
- (E) A polícia não conseguiu prender os charlatãos.

19. De acordo com norma-padrão da Língua Portuguesa e quanto à regência nominal, assinale a alternativa **incorreta**.

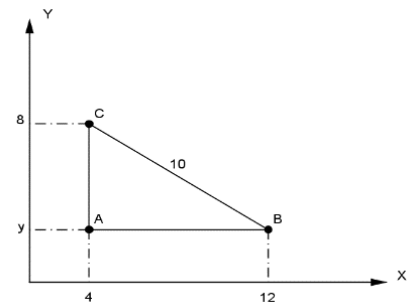
- (A) Ele está acostumado com a prisão.
- (B) Ele é suspeito de assassinato.
- (C) Ele estava prestes com ser preso, mas conseguiu escapar.
- (D) O policial está apto para investigar o caso.
- (E) A sentença foi favorável ao réu.

20. De acordo com a norma-padrão da Língua Portuguesa e quanto aos numerais, assinale a alternativa correta.

- (A) 400º – quadragésimo.
- (B) 500º – quinquagésimo.
- (C) 50º – quingentésimo.
- (D) 80º – octonogésimo.
- (E) 800º – octingentésimo.

MATEMÁTICA

21. Considere o seguinte triângulo:



Assinale a alternativa que apresenta a área definida pelo interior deste triângulo, em unidades de área.

- (A) 80.
- (B) 64.
- (C) 48.
- (D) 32.
- (E) 24.

22. O proprietário de uma loja de tintas resolveu organizar sua vitrine de forma que os 6 espaços fossem ocupados por latas de tintas. Separou para isso 6 cores diferentes: vermelho, amarelo, azul, verde, roxo e laranja. Assinale a alternativa que apresenta o número de maneiras que essas latas podem ser dispostas na vitrine, de forma que a tinta vermelha e a tinta azul fiquem sempre juntas nesta ordem.

- (A) 720.
- (B) 240.
- (C) 120.
- (D) 96.
- (E) 36.

23. Um dado não viciado foi lançado por 3 vezes e anotado o resultado. A probabilidade de que, em todos os lançamentos, o número anotado seja menor que 5 é de

- (A) $\frac{1}{4}$.
- (B) $\frac{8}{27}$.
- (C) $\frac{1}{54}$.
- (D) $\frac{16}{27}$.
- (E) $\frac{12}{33}$.

24. Um capital de R\$50.000,00 foi aplicado durante 3 anos a uma taxa de 2% a.m. em um regime de juros compostos. É correto afirmar que o montante a ser recebido após este intervalo de tempo é de, aproximadamente,

- (A) R\$95.331,20.
- (B) R\$95.421,30.
- (C) R\$95.537,30.
- (D) R\$95.648,20.
- (E) R\$95.732,10.

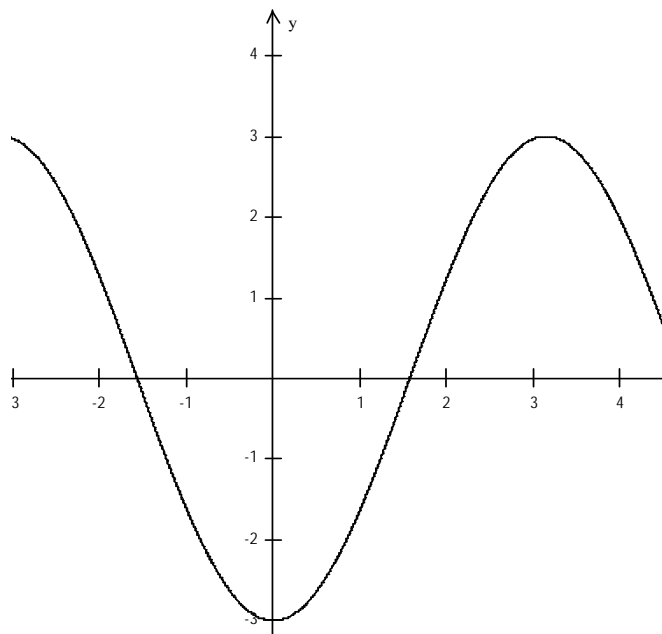
25. Preocupados com a possibilidade de racionamento de água, principalmente durante o final de ano, os condôminos de um prédio de apartamentos do litoral decidiram investir na instalação de duas novas caixas d'água. A primeira tem as seguintes dimensões: 3m de largura, 1,5m de comprimento e 2m de profundidade a ser instalada no alto do prédio, abastecendo com água potável os 36 apartamentos. A segunda, um pouco menor, com as seguintes dimensões: 1m de largura, 2m de comprimento e 1m de profundidade, utilizada para captação de água da chuva que, posteriormente, seria usada para manutenção do jardim e limpeza das áreas comuns. Supondo que ambas as caixas estejam cheias com sua capacidade total, é correto afirmar que elas podem fornecer ao prédio uma quantidade de litros de água de

- (A) 7.500.
- (B) 8.000.
- (C) 10.500.
- (D) 11.000.
- (E) 12.500.

26. Em uma progressão aritmética, o primeiro termo é -3 e a razão é $\frac{1}{3}$. Assinale a alternativa que apresenta o sexto termo desta progressão.

- (A) 0.
- (B) $-\frac{4}{3}$.
- (C) $-\frac{2}{3}$.
- (D) $-\frac{1}{3}$.
- (E) 1.

27. Observe o gráfico abaixo.



Diante do exposto, assinale a alternativa que apresenta a função que **melhor** se adequa a esta representação gráfica.

- (A) $f(x) = -3 + \text{sen}(x)$
- (B) $f(x) = -3\text{sen}(x)$
- (C) $f(x) = -\frac{\cos(x)}{3}$
- (D) $f(x) = -3\cos(x)$
- (E) $f(x) = \cos(x) - 3$

28. Observe a matriz abaixo.

$$A = \begin{bmatrix} -1 & -\frac{1}{2} & 2 \\ 3 & -2 & 0 \\ 0 & 1 & -1 \end{bmatrix}$$

Dada a matriz, assinale a alternativa que apresenta o valor de $X = -4 + \det A$.

- (A) $\frac{1}{2}$.
- (B) $\frac{2}{3}$.
- (C) $\frac{3}{2}$.
- (D) $-\frac{4}{3}$.
- (E) $-\frac{5}{2}$.

29. A produção de cereais de determinada região, em 2013, variou de acordo com a função: $f(t) = 500 + 10t - t^2$, onde t indica tempo e f(t) a quantidade de grãos em toneladas. Assinale a alternativa que apresenta a quantidade **máxima** produzida em 2013.

- (A) 850 toneladas.
- (B) 735 toneladas.
- (C) 700 toneladas.
- (D) 665 toneladas.
- (E) 525 toneladas.

30. Observe o sistema abaixo.

$$\begin{cases} 2x - y = 9 \\ x + y = -12 \end{cases}$$

A solução do sistema é o seguinte par ordenado:

- (A) (-1; -11)
- (B) (0; -12)
- (C) (-3; -9)
- (D) (-12; 0)
- (E) (-7; 5)

CONHECIMENTOS BÁSICOS

31. Com base no Estatuto da Criança e do Adolescente (ECA), sobre a prática de ato infracional, é correto afirmar que o pleno e formal conhecimento da atribuição de ato infracional, mediante citação ou meio equivalente, diz respeito a

- (A) uma obrigação do adolescente perante a Vara da Infância e da Juventude.
- (B) uma garantia assegurada ao adolescente.
- (C) uma garantia assegurada à Vara da Infância e da Juventude.
- (D) um dever da vítima perante a Justiça.
- (E) um dever do adolescente.

32. Conforme expresso no artigo 110 do ECA, é correto afirmar que nenhum adolescente será privado de sua liberdade

- (A) sem o despacho do juiz da Vara da Infância e da Juventude.
- (B) sem a ordem do delegado de polícia.
- (C) se não for surpreendido em flagrante delito.
- (D) sem o devido processo legal.
- (E) sem antes de sua família ou responsável saber.

33. Sobre as competências da Justiça da Infância e da Juventude, marque V para verdadeiro ou F para falso e, em seguida, assinale a alternativa que apresenta a sequência correta.

- () Conhecer de pedidos de adoção e seus incidentes.
 - () Conceder a remissão, como forma de suspensão ou extinção do processo.
 - () Conhecer de casos encaminhados pelo Conselho Tutelar, aplicando as medidas cabíveis.
- (A) F/ V/ V
 - (B) V/ V/ V
 - (C) V/ F/ F
 - (D) F/ F/ F
 - (E) F/ F/ V

34. Conforme o disposto no artigo 149, inciso I e alíneas do ECA, compete à autoridade judiciária disciplinar, por meio de portaria, ou autorizar, mediante alvará a entrada e permanência de criança ou adolescente, desacompanhado dos pais ou responsável, em

- I. boate ou congêneres.
- II. casa que explore comercialmente diversões eletrônicas.
- III. bailes ou promoções dançantes.

É correto o que está contido em

- (A) I, II e III.
- (B) II e III, apenas.
- (C) I e II, apenas.
- (D) III, apenas.
- (E) II, apenas.

35. Segundo o disposto no artigo 150, do ECA, é correto afirmar que cabe ao Poder Judiciário, na elaboração de sua proposta orçamentária, prever recursos para manutenção de equipe interprofissional, destinada a assessorar

- (A) a criança e o adolescente em estado de risco.
- (B) os Centros de Atendimento Socioeducativos ao adolescente.
- (C) a Justiça da Infância e da Juventude.
- (D) a família do adolescente infrator.
- (E) as Polícias Militar e Civil.

CONHECIMENTOS DE INFORMÁTICA

36. Assinale a alternativa que apresenta o comando de atalho padrão utilizado para abrir o gerenciador de tarefas no Windows 7.
- (A) Windows + L.
 - (B) Windows + R.
 - (C) Alt + Tab.
 - (D) Windows + E.
 - (E) Ctrl + Shift + Esc.
37. A respeito do recurso “compartilhar pasta”, existente no sistema operacional Windows 7, assinale a alternativa correta.
- (A) Ao compartilhar uma pasta, todos os arquivos dela automaticamente ficam acessíveis na rede, sem restrições. O usuário pode visualizar e alterar o conteúdo de maneira irrestrita.
 - (B) Controle total, leitura ou alteração são as opções de configuração de permissão possíveis de serem aplicadas em uma pasta compartilhada.
 - (C) Compartilhar uma pasta na rede autoriza o acesso a outros usuários apenas para a leitura dos arquivos contidos nela.
 - (D) Ao compartilhar uma pasta, a permissão para acesso é somente para a pasta especificada. Não há possibilidade de liberar o acesso às subpastas da pasta compartilhada.
 - (E) Na versão do Windows 7, não existe a opção de compartilhamento de pasta com senha, dando mais agilidade ao usuário para um acesso mais rápido.
38. A respeito do recurso “prompt de comando” do sistema operacional Windows 7, assinale a alternativa correta.
- (A) Executa funções baseadas em texto, conhecidas como linhas de comando.
 - (B) Cria breves anotações de texto ou escritas à mão.
 - (C) É um recurso de entrada de digitação de comandos do MS-DOS que necessita do uso da interface gráfica do Windows para executar os comandos.
 - (D) Reinicia o computador quando trava.
 - (E) É um recurso de suporte ao Windows para envio de logs de eventos.
39. Sobre as configurações de fonte do *software* Microsoft Word 2010, é correto afirmar que a função do recurso “negrito” aplica
- (A) cor preta em um texto selecionado.
 - (B) negrito em todo o texto mesmo que não esteja selecionado.
 - (C) a fonte da família negrito.
 - (D) negrito ao texto selecionado.
 - (E) contorno no texto selecionado, deixando-o mais encorpado.
40. Sobre as configurações de parágrafo do *software* Microsoft Word 2010, é correto afirmar que o recurso “aumentar recuo” aumenta
- (A) o nível de recuo do parágrafo.
 - (B) ou diminui o recuo do texto selecionado.
 - (C) o recuo do texto selecionado.
 - (D) o espaçamento das letras do parágrafo.
 - (E) a entrelinha do parágrafo.
41. Assinale a alternativa que apresenta a função do recurso “dividir”, existente no menu “exibição” do *software* Microsoft Word 2010.
- (A) Abre uma nova janela com uma exibição do documento atual.
 - (B) Coloca todas as janelas abertas no programa lado a lado na tela.
 - (C) Altera o *zoom* do documento, de modo que a página inteira caiba na janela.
 - (D) Altera o *zoom* do documento, de modo que duas páginas caibam na janela.
 - (E) Divide a janela atual em duas partes, de modo que seções diferentes do documento possam ser vistas ao mesmo tempo.
42. A respeito da versão em português do *software* Microsoft Excel 2010, assinale a alternativa que apresenta o comando de atalho padrão utilizado para alternar entre “ocultar objetos” e “exibir objetos”.
- (A) Ctrl + 3.
 - (B) Ctrl + 4.
 - (C) Ctrl + 5.
 - (D) Ctrl + 6.
 - (E) Ctrl + 9.
43. Assinale a alternativa que apresenta a função do recurso “Minigráficos”, encontrado na aba “Inserir” do *software* Microsoft Excel 2010.
- (A) Insere um gráfico em formato de pizza.
 - (B) Insere um gráfico em uma única célula.
 - (C) Insere uma tabela dinâmica.
 - (D) Insere formas prontas como retângulos, círculos, retas, linhas e símbolos.
 - (E) Cria um *link* para uma página da web, uma imagem ou endereço de email.

44. Assinale a alternativa que apresenta o resultado da célula A4 com a fórmula =MULT(A1:A3), segundo os dados da tabela, em que

$$A1 = 10, A2 = 12 \text{ e } A3 = 10$$

- (A) 120.
- (B) 1200.
- (C) 1100.
- (D) 12.
- (E) 1120.

45. Sobre o *software* Microsoft Power Point 2010, assinale a alternativa que apresenta o comando de atalho padrão utilizado durante a apresentação em *slide* para alterar o ponteiro do mouse para uma caneta.

- (A) P.
- (B) Ctrl + T.
- (C) Ctrl + C.
- (D) Ctrl + E.
- (E) Ctrl + M.

46. A respeito do *software* Microsoft Power Point 2010, é correto afirmar que o recurso “configuração de apresentação de *slides*”

- (A) apresenta configurações de opções básicas para apresentação de *slides*.
- (B) realiza o ajuste da ponta da caneta, com tipos de ponta redonda, quadrada ou formato estrela.
- (C) altera a cor do apontador *laser* na apresentação.
- (D) ajusta as animações e transições dos elementos e *slides*.
- (E) altera o tema dos *slides*, podendo escolher entre diversos tipos, como, por exemplo, tema do Office, tema *Ápice* e outros.

47. Assinale a alternativa que apresenta a função do comando de atalho F5, aplicado no *software* Microsoft PowerPoint 2010 versão português.

- (A) Inicia uma apresentação desde o começo.
- (B) Para a reprodução de mídia.
- (C) Finaliza uma apresentação.
- (D) Para ou reinicia uma apresentação automática.
- (E) Aumenta o volume de som.

48. Sobre o *software* Microsoft Outlook 2010, assinale a alternativa que apresenta a função do recurso “Marcar como todas lidas”, na aba “Pasta”.

- (A) Marca como lidas todas as mensagens desta pasta.
- (B) Remove todas as mensagens redundantes de todas as conversas da pasta.
- (C) Marca todas as mensagens de entrada e saída como lidas.
- (D) Marca as mensagens selecionadas como lidas.
- (E) Marca todas as mensagens selecionadas e envia para a lixeira.

49. Sobre o *software* Microsoft Outlook 2010, assinale a alternativa que apresenta a função do recurso “Verificar nomes”, localizado nas configurações de “uma nova mensagem criada”.

- (A) Verifica os nomes e endereços de *e-mail* digitados para assegurar o envio aos destinatários.
- (B) Abre o catálogo de endereços para procurar nomes, telefones e *e-mails*.
- (C) Solicita confirmação de entrega da mensagem.
- (D) Verifica a ortografia e a gramática do texto no documento.
- (E) Impede que os destinatários que receberem a mensagem a encaminhem a outras pessoas.

50. Sobre correio eletrônico, assinale a alternativa que apresenta o campo específico no qual é digitado o endereço de *e-mail* para enviar como cópia oculta.

- (A) Para:
- (B) To:
- (C) Cco:
- (D) Cc:
- (E) Anexo:

