

Nível Médio – Assistente de Saneamento e Gestão – Manhã

# Técnico de Contabilidade

## TIPO 1 – BRANCA

### Informações Gerais

- Você receberá do fiscal de sala:
  - uma folha de respostas destinada à marcação das respostas das questões objetivas;
  - esse caderno de prova contendo **60 (sessenta)** questões objetivas, cada qual com **cinco** alternativas de respostas (A, B, C, D e E).
- Verifique se seu caderno está completo, sem repetição de questões ou falhas. Caso contrário, notifique imediatamente o fiscal de sala para que sejam tomadas as devidas providências.
- As questões objetivas são identificadas pelo número situado acima do seu enunciado.
- Ao receber a folha de respostas da prova objetiva você deve:
  - conferir seus dados pessoais, em especial seu nome, número de inscrição e o número do documento de identidade;
  - ler atentamente as instruções para o preenchimento da folha de respostas;
  - marcar na folha de respostas da prova objetiva o campo relativo à confirmação do tipo/cor de prova, conforme o caderno que você recebeu;
  - assinar seu nome, apenas nos espaços reservados, com caneta esferográfica de tinta azul ou preta.
- Durante a aplicação da prova não será permitido:
  - qualquer tipo de comunicação entre os candidatos;
  - levantar da cadeira sem a devida autorização do fiscal de sala;
  - portar aparelhos eletrônicos, tais como *bipe*, telefone celular, agenda eletrônica, *notebook*, *palmtop*, receptor, gravador, máquina de calcular, máquina fotográfica digital, controle de alarme de carro etc., bem como relógio de qualquer modelo, óculos escuros ou quaisquer acessórios de chapelaria, tais como chapéu, boné, gorro etc. e, ainda, lápis, lapiseira (grafite), corretor líquido e/ou borracha. Tal infração poderá acarretar a eliminação sumária do candidato.
- O preenchimento das respostas da prova objetiva, de inteira responsabilidade do candidato, deverá ser feito com caneta esferográfica de tinta indelével de cor preta ou azul. **Não será permitida a troca da folha de respostas por erro do candidato.**
- O tempo disponível para a realização da prova é de **4 (quatro)** horas, já incluído o tempo para a marcação da folha de respostas da prova objetiva.
- Reserve tempo suficiente para o preenchimento de suas respostas. Para fins de avaliação, serão levadas em consideração apenas as marcações realizadas na folha de respostas da prova objetiva, não sendo permitido anotar informações relativas às suas respostas em qualquer outro meio que não seja o próprio caderno de provas.
- Somente após decorrida **uma hora e meia** do início da prova você poderá retirar-se da sala de prova, contudo sem levar o caderno de provas.
- Somente no decorrer dos últimos **sessenta minutos** do período da prova, você poderá retirar-se da sala levando o caderno de provas.
- Ao terminar a prova, entregue a folha de respostas ao fiscal da sala e deixe o local de prova. Caso você se negue a entregar, será eliminado do concurso.
- A FGV realizará a coleta da impressão digital dos candidatos na folha de respostas.
- Os candidatos poderão ser submetidos a sistema de detecção de metais quando do ingresso e da saída de sanitários durante a realização das provas. Ao sair da sala, ao término da prova, o candidato não poderá usar o sanitário.
- Os gabaritos preliminares das provas objetivas serão divulgados no dia **26/05/2014**, no endereço eletrônico [www.fgv.br/fgvprojetos/concursos/compesa](http://www.fgv.br/fgvprojetos/concursos/compesa).
- O prazo para interposição de recursos contra os gabaritos preliminares será das 0h00min do dia **27/05/2014** até às 23h59min do dia **29/05/2014**, observado o horário oficial de Recife, no endereço [www.fgv.br/fgvprojetos/concursos/compesa](http://www.fgv.br/fgvprojetos/concursos/compesa), por meio do Sistema Eletrônico de Interposição de Recurso.



## Língua Portuguesa

### Dia do Trabalho

Em abril de 1886, eclodiram nos Estados Unidos diversas greves, nas quais os operários reivindicavam jornada de trabalho de oito horas diárias. Essa reivindicação baseava-se em um raciocínio muito simples: se o dia tem 24 horas, deveria ser dividido logicamente em três partes de oito horas – uma para o trabalho, outra para descanso e lazer e outra para o estudo.

Em 1º de maio do mesmo ano, milhares de trabalhadores de Chicago iniciaram uma greve geral. Três dias depois, a praça Haymarket, na cidade, foi ocupada por operários anarquistas reunidos em um grande comício para protestar contra a morte de grevistas na porta de uma fábrica no dia anterior. Quase no fim da manifestação, a polícia ordenou que os operários abandonassem imediatamente a praça. Nesse momento uma bomba foi atirada na direção dos policiais, matando um deles e ferindo vários outros. Seguiu-se um tiroteio, no qual foram mortos vários manifestantes.

Os anarquistas foram acusados de atirar a bomba, o que motivou uma grande campanha na imprensa para reprimir o movimento. Alguns dias depois, oito líderes foram presos e julgados rapidamente. Sete deles foram condenados à morte sem provas conclusivas sobre seu envolvimento no atentado. Ao final do processo, dois condenados à morte tiveram a pena transformada em prisão perpétua, um se suicidou na prisão e quatro foram enforcados em praça pública.

Esses manifestantes passaram a ser lembrados como os “mártires de Chicago”. Em homenagem a eles, a partir de 1890 correntes ideológicas do movimento operário internacional e organizações sindicais passaram a comemorar em 1º de maio o Dia do Trabalho, realizando grandes manifestações em todo o mundo, exceto nos Estados Unidos. Curiosamente, no país onde ocorreu o massacre de Chicago, o Dia do Trabalho é comemorado oficialmente na primeira segunda-feira de setembro, desde 1894.

(Marcos Napolitano e Mariana Villaça)

### 01

“nas quais os operários reivindicavam ...” / “Essa reivindicação...”

O segundo termo sublinhado estabelece com o primeiro o mesmo tipo de relação de coesão que ocorre em

- (A) Construir estradas de ferro parece ser uma solução para o transporte de mercadorias, mas os construtores reclamam das más condições de trabalho.
- (B) Aderir a manifestações de rua virou moda no Brasil, mas a adesão já trouxe muitos problemas a alguns manifestantes.
- (C) Os movimentos grevistas cresceram no país, mas crescer não significa obrigatoriamente aumento de consciência política.
- (D) Eclodiram nos Estados Unidos diversas greves e essa explosão acarretou mudanças nas leis trabalhistas.
- (E) Dividir o dia em três partes é uma criação engenhosa, mas dividirem-no assim atende a interesses dos patrões.

### 02

A divisão do dia, segundo a proposta do primeiro parágrafo do texto, tem inúmeros pressupostos, dentre os quais não se encontra:

- (A) o trabalho necessita de contínuo aperfeiçoamento.
- (B) a qualificação da mão de obra é indispensável.
- (C) a remuneração do trabalho deve crescer continuamente.
- (D) o trabalhador necessita de tempo livre para si mesmo.
- (E) a atividade de trabalho não deve ocupar a maior parte do dia.

### 03

“Seguiu-se um tiroteio, no qual vários manifestantes foram mortos”.

A estruturação sintática dessa frase provoca o seguinte resultado:

- (A) os responsáveis pelas ações verbais não são identificados.
- (B) a primeira ação é mostrada como consequência da segunda.
- (C) as duas ações verbais são vistas como independentes.
- (D) o tempo da segunda ação é apresentado como distante da primeira ação.
- (E) a segunda ação verbal funciona como crítica à ação anterior.

### 04

“Operários anarquistas”

Com o termo “anarquistas”, o texto faz referência a operários

- (A) que desejavam promover atos de vandalismo.
- (B) que pretendiam criar anarquia nas fábricas.
- (C) que tinham a intenção de promover confusão ou desordem.
- (D) que tencionavam resistir à ordem estabelecida pela resistência pacífica.
- (E) que se filiavam à teoria política do anarquismo.

### 05

“Nesse momento uma bomba foi atirada na direção dos policiais, matando um deles e ferindo vários outros”.

Sobre os componentes desse segmento do texto, assinale a afirmativa correta.

- (A) “Nesse momento” se refere ao momento da morte do policial.
- (B) “foi atirada” se refere a uma ação praticada pela “bomba”.
- (C) “na direção dos policiais” indica uma ação involuntária.
- (D) “matando” e “ferindo” são ações praticadas pelo mesmo agente.
- (E) “um deles” indica um policial qualquer, não uma quantidade.

### 06

Assinale a opção que indica a finalidade do texto “Dia do Trabalho”.

- (A) Denunciar atos de violência contra operários.
- (B) Mostrar o despreparo dos policiais diante de manifestações públicas.
- (C) Informar sobre a razão de o dia 1º de maio ser o “dia do trabalho”.
- (D) Criticar a violência gratuita de manifestantes.
- (E) Registrar datas simbólicas como obra do acaso.

### 07

Assinale a opção que apresenta o segmento do texto que mostra uma voz verbal diferente das demais.

- (A) “Os anarquistas foram acusados de atirar a bomba...”.
- (B) “Alguns dias depois, oito líderes foram presos e julgados rapidamente”.
- (C) “Sete deles foram condenados à morte sem provas conclusivas...”.
- (D) “Ao final do processo, dois condenados à morte tiveram a pena transformada em prisão perpétua...”.
- (E) “... e quatro foram enforcados em praça pública”.

**08**

Em todos os segmentos a seguir há a presença de formas do infinitivo.

Assinale a opção em que a substituição nominal dessas formas ocorre de maneira **inadequada**.

- (A) “*para protestar contra a morte de grevistas*” / para protesto contra a morte de grevistas
- (B) “*Os anarquistas foram acusados de atirar a bomba*” / Os anarquistas foram acusados pelo atiramento da bomba
- (C) “*para reprimir o movimento*” / para a repressão do movimento
- (D) “*o dia (...) deveria ser dividido em três partes*” / a devida divisão do dia em três partes
- (E) “*organizações sindicais passaram a comemorar em 1º de maio*” / a comemoração feita em 1º de maio pelas organizações sindicais

**09**

“*Alguns dias depois, oito líderes foram presos e julgados rapidamente*”. O advérbio “*rapidamente*” indica

- (A) uma crítica a um trabalho mal feito.
- (B) um elogio à eficiência da justiça.
- (C) uma satisfação aos sindicatos de operários.
- (D) uma alusão ao poder da imprensa.
- (E) uma provocação pela comparação com os nossos processos penais.

**10**

“*Esses manifestantes passaram a ser lembrados como os ‘mártires de Chicago’.* Em homenagem a eles, a partir de 1890 correntes ideológicas do movimento operário internacional e organizações sindicais passaram a comemorar em 1º de maio o Dia do Trabalho, realizando grandes manifestações em todo o mundo, exceto nos Estados Unidos”.

Nesse segmento do texto há três ocorrências do vocábulo em. Assinale a opção que mostra uma afirmativa correta sobre essas ocorrências.

- (A) As duas primeiras ocorrências mostram valor de tempo.
- (B) As três ocorrências mostram valor semântico diferente.
- (C) As duas últimas ocorrências mostram o mesmo valor semântico.
- (D) A última ocorrência tem valor de “causa”.
- (E) A primeira ocorrência tem valor de explicação.

**11**

Os advérbios terminados pelo sufixo -mente são criados pela junção desse sufixo à forma feminina do adjetivo. O exemplo a seguir que **não** mostra essa formação em sua estrutura é:

- (A) “*Curiosamente, no país onde ocorreu o massacre de Chicago...*”
- (B) “*...oito líderes foram presos e julgados rapidamente*”
- (C) “*o Dia do Trabalho é comemorado oficialmente...*”
- (D) “*...deveria ser dividido logicamente em três partes...*”
- (E) “*...abandonassem imediatamente a praça...*”

**12**

Assinale a frase em que **não** ocorre a presença de um sujeito posposto.

- (A) “*Curiosamente, no país onde ocorreu o massacre de Chicago...*”.
- (B) “*... o Dia do Trabalho é comemorado oficialmente na primeira segunda-feira de setembro, desde 1894*”.
- (C) “*Em abril de 1886, eclodiram nos Estados Unidos diversas greves...*”.
- (D) “*Seguiu-se um tiroteio...*”.
- (E) “*...no qual foram mortos vários manifestantes*”.

**13**

“*Em homenagem a eles, a partir de 1890 correntes ideológicas do movimento operário internacional e organizações sindicais passaram a comemorar em 1º de maio o Dia do Trabalho*”.

A substituição de um termo desse segmento que é adequada ao contexto é

- (A) Em homenagem a eles / Em sua homenagem
- (B) a partir de 1890 / desde 1890
- (C) e organizações sindicais / assim como organizações sindicais
- (D) passaram a comemorar / decidiram comemorar
- (E) em 1º de maio / no dia 1º de maio

**14**

“*Em abril de 1886, eclodiram nos Estados Unidos diversas greves, nas quais os operários reivindicavam jornada de trabalho de oito horas diárias. Essa reivindicação baseava-se em um raciocínio muito simples: se o dia tem 24 horas, deveria ser dividido logicamente em três partes de oito horas – uma para o trabalho, outra para descanso e lazer e outra para o estudo*”.

Assinale a opção em que a troca dos elementos provoca **alteração** de sentido.

- (A) “*Em abril de 1886, eclodiram nos Estados Unidos diversas greves...*”
- (B) “*...nas quais os operários reivindicavam jornada de trabalho de oito horas diárias*”
- (C) “*Essa reivindicação baseava-se em um raciocínio muito simples...*”
- (D) “*Essa reivindicação baseava-se em um raciocínio muito simples...*”
- (E) “*Em abril de 1886, eclodiram nos Estados Unidos diversas greves*”

**15**

“*Em abril de 1886, eclodiram nos Estados Unidos diversas greves*”.

Assinale a opção que indica a forma de reescrever esse segmento do texto que mostra pontuação **inadequada**.

- (A) Em abril de 1886 eclodiram nos Estados Unidos diversas greves.
- (B) Em abril de 1886 eclodiram, nos Estados Unidos, diversas greves.
- (C) Em abril de 1886, eclodiram nos Estados Unidos, diversas greves.
- (D) Eclodiram nos Estados Unidos, em abril de 1886, diversas greves.
- (E) Em abril de 1886, eclodiram, nos Estados Unidos, diversas greves.

## Noções de Informática

16

Observe as especificações do microcomputador a seguir.



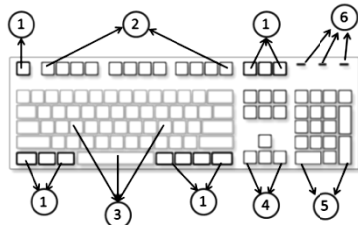
Computador Premium K5180 com Intel Core i3 8GB 1TB Windows 8 - Positivo + Monitor LED 19,5 20EN335S - LG

As citações “Intel Core i3”, “8GB” e “1TB” fazem referência, respectivamente, aos seguintes componentes:

- (A) microprocessador, memória CACHE/L3 e *pendrive*.
- (B) placa-mãe, memória RAM/DDR e *pendrive*.
- (C) microprocessador, memória RAM/DDR e disco rígido SATA.
- (D) placa-mãe, memória CACHE/L3 e disco rígido SATA.
- (E) microprocessador, memória CACHE/L3 e disco rígido SATA.

17

Observe a figura a seguir, que representa um teclado ABNT2 e assinale V para a afirmativa verdadeira e F para a falsa.



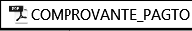


- ( ) **Teclas de controle:** identificadas por 1, são usadas sozinhas ou em combinação com outras teclas para executar determinadas ações. As teclas mais usadas são Ctrl, Alt, logotipo do Windows e Esc.
- ( ) **Teclas de função:** identificadas por 2, são usadas para tarefas específicas. Elas foram rotuladas por F1 ... F12, e suas funcionalidades variam de programa para programa.
- ( ) **Teclas de digitação:** identificadas por 5, permitem editar textos e movimentar-se por documentos e páginas de *sites* da *web*. Elas incluem as teclas de seta, Home, End, PgUp, PgDn, Insert e Delete.

As afirmativas são, respectivamente,

- (A) F, V e F.
- (B) F, V e V.
- (C) V, F e F.
- (D) V, V e F.
- (E) F, F e V.

18



Um Assistente de Saneamento e Gestão está trabalhando em um microcomputador com sistema operacional Windows 8 BR, tendo realizado os procedimentos listados a seguir.

- I. selecionou o arquivo  COMPROVANTE\_PAGTO na pasta COMPESA-PE do disco  OS (C:) e executou um atalho de teclado.
- II. selecionou o *pendrive*, referenciado como  Disco removível (G:) e executou outro atalho de teclado.

Os atalhos de teclado, nessa sequência, são respectivamente

- (A) Ctrl + C e Ctrl + V.
- (B) Ctrl + C e Ctrl + S.
- (C) Ctrl + X e Ctrl + V.
- (D) Ctrl + X e Ctrl + S.
- (E) Ctrl + X e Ctrl + C.


19

Um usuário do sistema Windows 7 BR realizou os procedimentos listados a seguir, na janela “Computador” do Windows Explorer e excluiu o arquivo  da pasta COMPESA-PE do disco C:\. Posteriormente, ele decidiu voltar à situação anterior. Para isso, ele acessou a Lixeira e clicou o botão direito do *mouse* no nome do arquivo excluído , o que fez surgir uma pequena janela na tela.

Nessa janela ele deve clicar na seguinte opção:

- (A) Recuperar.
- (B) Regenerar.
- (C) Reabilitar.
- (D) Retificar.
- (E) Restaurar.

20

No Word 2010 BR, um atalho de teclado gera o mesmo resultado que pressionar o ícone  e uma tecla de função tem por significado “Salvar como...”.

O atalho de teclado e a tecla de função são, respectivamente,

- (A) Ctrl + E e F11.
- (B) Ctrl + E e F12.
- (C) Ctrl + E e F10.
- (D) Alt + E e F12.
- (E) Alt + E e F11.

21


O Word 2010 BR oferece um recurso que permite inserir elementos gráficos em um documento para comunicar informações visualmente, que variam desde listas gráficas e diagramas de processos até os mais complexos, como diagramas de Venn e organogramas.

Esse recurso é conhecido por

- (A) DrawArt.
- (B) ToolsArt.
- (C) SmartArt.
- (D) WordArt.
- (E) GraphArt.

22

A planilha a seguir foi criada no Excel 2010 BR.

	A	B	C	D	E
1					
2					
3					
4					
5					
6	30	10	90	60	40
7					
8	Menor número entre todos =				10


Na célula E8 foi inserida uma expressão que determina o menor número entre os que estão no intervalo de A6 a E6.

Sabendo que duas funções podem ser utilizadas neste caso, as expressões possíveis são:

- (A) =MÍNIMO(A6\$E6) e =MENOR(A6\$E6)
- (B) =MÍNIMO(A6:E6) e =MENOR(A6:E6)
- (C) =MÍNIMO(A6:E6;1) e =MENOR(A6:E6;1)
- (D) =MÍNIMO(A6:E6;1) e =MENOR(A6:E6)
- (E) =MÍNIMO(A6:E6) e =MENOR(A6:E6;1)

**23**

Em um microcomputador com sistema operacional Windows 8 BR, para imprimir uma apresentação de *slides*, o Powerpoint 2010 BR oferece as possibilidades descritas a seguir:

- por meio de um clique no ícone  de impressão rápida;
- por meio da opção **Imprimir**, existente em **Arquivo**, na barra de *menus* na Faixa de Opções;
- por meio da execução de um atalho de teclado.

O atalho de teclado é:

- (A) Ctrl + P
- (B) Ctrl + I
- (C) Ctrl + F3
- (D) Alt + I
- (E) Alt + P

**24**

Com relação aos recursos do MSOffice Outlook 2010 BR, analise as afirmativas a seguir.

- Armazena as mensagens de correio que chegam da Internet na Caixa de Entrada.
- Permite o envio de *e-mails* com a opção de solicitação de confirmação de leitura.
- Usa o espaço indicado por Cc... para enviar *e-mails* no modo cópia oculta

Assinale:

- (A) se somente a afirmativa I estiver correta.
- (B) se somente a afirmativa II estiver correta.
- (C) se somente a afirmativa III estiver correta.
- (D) se somente as afirmativas I e II estiverem corretas.
- (E) se todas as afirmativas estiverem corretas.

**25**

No uso dos recursos da Internet é comum baixar arquivos em formato PDF ou mesmo atualizações de programas antivírus, não havendo necessidade de o internauta ser um especialista em informática.

Essa atividade é conhecida pelo seguinte termo:

- (A) *proxy*.
- (B) *download*.
- (C) *firewall*.
- (D) *backup*.
- (E) *swap*.

## Legislação Específica sobre Saneamento

**26**

Segundo a Lei nº 11.445/07, os serviços públicos de saneamento básico devem ser prestados com base nos princípios listados a seguir, **à exceção de um**. Assinale-o.

- (A) Universalização do acesso.
- (B) Controle econômico.
- (C) Eficiência e sustentabilidade econômica.
- (D) Segurança, qualidade e regularidade.
- (E) Adoção de métodos, técnicas e processos que considerem as peculiaridades locais e regionais.

**27**

De acordo com os conceitos previstos na Lei nº 11.445/07, assinale a afirmativa **incorreta**.

- (A) Considera-se universalização a progressiva ampliação do acesso de todos os domicílios ocupados ao saneamento básico.
- (B) Considera-se controle social o conjunto de mecanismos e procedimentos que garantem informações, representações técnicas e participação no planejamento e na avaliação dos serviços públicos de saneamento básico.
- (C) Considera-se subsídio o instrumento econômico de política social para garantir a universalização do acesso ao saneamento básico, especialmente para populações e localidades de baixa renda.
- (D) Considera-se serviço público a ação de saneamento executada por meio de soluções individuais, ainda que o usuário não dependa de terceiros para operar os serviços, o que inclui o manejo de resíduos de responsabilidade do gerador.
- (E) Considera-se saneamento básico o conjunto de serviços, infra-estruturas e instalações necessárias ao abastecimento público de água potável, desde a captação até as ligações prediais e respectivos instrumentos de medição.

**28**

A respeito da *prestação regionalizada de serviços públicos de saneamento*, prevista na Lei nº 11.445/07, assinale a afirmativa correta.

- (A) Admite vários prestadores do serviço para diversos municípios, contíguos ou não.
- (B) Pluraliza a fiscalização e a regulação dos serviços, inclusive de sua remuneração.
- (C) Uniformiza a fiscalização e a regulação dos serviços, exceto sua remuneração.
- (D) Admite vários prestadores do serviço somente para municípios contíguos.
- (E) Exige a compatibilidade de planejamento.

**29**

Conforme determina a Lei nº 11.445/07, os reajustes de tarifas de serviços públicos de saneamento básico são realizados observando-se um intervalo mínimo de tempo, de acordo com as normas legais, regulamentares e contratuais.

Assinale a opção que apresenta o intervalo mínimo previsto na legislação.

- (A) 3 (três) meses
- (B) 4 (quatro) meses
- (C) 6 (seis) meses
- (D) 10 (dez) meses
- (E) 12 (doze) meses

**30**

Sobre os objetivos da regulação, segundo a Lei nº 11.445/07, assinale a afirmativa correta.

- (A) Mantém a independência decisória, incluindo autonomia administrativa, orçamentária e financeira da entidade reguladora.
- (B) Exige transparência, tecnicidade, celeridade e objetividade das decisões.
- (C) Previne e reprime o abuso do poder econômico, ressalvada a competência dos órgãos integrantes do sistema nacional de defesa da concorrência.
- (D) Garante o cumprimento das condições, sem estabelecer metas.
- (E) Estabelece padrões e normas para a adequada prestação dos serviços, sem relevância sobre a satisfação dos usuários.

## Conhecimentos Específicos

**31**

De acordo com a Resolução CFC 750/93, alterada pela Resolução nº 1282/10, assinale a opção que indica o princípio que reconhece o *patrimônio* como objeto da Contabilidade e afirma a autonomia patrimonial.

- (A) Princípio da continuidade.
- (B) Princípio da oportunidade.
- (C) Princípio da entidade.
- (D) Princípio da prudência.
- (E) Princípio da competência.

**32**

Sobre a Estrutura Conceitual para Elaboração e Divulgação de Relatório Contábil-Financeiro, de acordo com o CPC 00, entre os usuários primários dos relatórios contábil-financeiros de propósito geral estão

- (A) os investidores.
- (B) os administradores.
- (C) os funcionários.
- (D) os consumidores.
- (E) o governo.

**33**

Uma empresa de petróleo mantém uma plataforma em outra cidade. Essa empresa compra alguns imóveis perto da plataforma e os aluga para seus funcionários.

Esses imóveis são classificados no grupo de ativos

- (A) *investimento*.
- (B) *circulante*.
- (C) *realizável a Longo Prazo*.
- (D) *imobilizado*.
- (E) *intangível*.

**34**

Em 31/12/2003, uma empresa obteve um empréstimo em dólar com data de vencimento em 31/12/2006. A empresa projetava que, nesta data, o dólar estaria cotado a R\$ 2,70, enquanto que, na data de obtenção do empréstimo, o dólar estava cotado a R\$ 2,30.

Em 31/12/2004, a cotação do dólar era R\$ 2,40, e em 31/12/2005, R\$ 2,50.

O procedimento da empresa, no balanço patrimonial de 31/12/2004 deve ser o de

- (A) considerar a cotação de R\$ 2,30, mantendo a cotação na data de obtenção do empréstimo.
- (B) considerar a cotação de R\$ 2,50, que é quando o passivo irá se transformar em circulante.
- (C) considerar a cotação de R\$ 2,70, que representa a taxa projetada.
- (D) contabilizar um ajuste de avaliação patrimonial.
- (E) considerar a cotação de R\$ 2,40, que é a cotação na data final do balanço.

**35**

Uma sociedade por ações apresentava, em 31/12/2011, Patrimônio Líquido de R\$ 20.000,00. A composição do Patrimônio Líquido era a seguinte:

Capital Social:..... R\$ 15.000,00

Reserva Legal:..... R\$ 2.000,00

Ajustes de Avaliação Patrimonial:..... R\$ 3.000,00

Em 2012, essa empresa apresentou lucro líquido de R\$ 30.000,00.

No estatuto social da empresa está determinada uma distribuição de dividendos mínimos obrigatórios de 25% do lucro líquido ajustado.

Em 2012, a distribuição de dividendos foi

- (A) R\$ 7.125,00.
- (B) R\$ 7.250,00.
- (C) R\$ 7.500,00.
- (D) R\$ 9.500,00.
- (E) R\$ 12.500,00.

**36**

Uma empresa contratou os serviços de uma consultoria em janeiro de 2013. Os serviços começaram a ser prestados em fevereiro de 2013 e foram concluídos em abril do mesmo ano, quando o parecer foi entregue. O pagamento foi feito em uma parcela, em maio de 2013. De acordo com o Regime da Competência, a empresa deve reconhecer a despesa relacionada à consultoria em

- (A) janeiro e fevereiro.
- (B) fevereiro e março.
- (C) fevereiro, março e abril.
- (D) abril, maio e junho.
- (E) maio, junho e julho.

**37**

Em determinado período, uma companhia alienou bônus de subscrição. A contrapartida do aumento do caixa da empresa deverá ser reconhecida como

- (A) Ajuste de Avaliação Patrimonial.
- (B) Resultado.
- (C) Reserva Especial.
- (D) Reserva de Capital.
- (E) Reserva Legal.

**38**

Em 1º de março de 2014, uma livraria possuía em seu estoque 50 unidades do livro Contabilidade. O livro era vendido por R\$ 100,00, enquanto que o estoque estava avaliado a R\$ 4.500,00. O frete de R\$ 40,00, para transporte dos livros, é fixo.

Durante o mês de março, aconteceram as seguintes transações em relação ao livro Contabilidade:

- Compra de 30 unidades a R\$ 94,00, sendo que o frete da entrega foi pago pelo fornecedor.
- Venda de 40 unidades a R\$ 105,00 cada, sendo que o frete da entrega foi pago pelo comprador.
- Compra de 20 unidades a R\$ 98,00 cada, sendo que o frete da entrega foi pago pelo comprador.
- Venda de 50 unidades a R\$ 110,00 cada, sendo que o frete da entrega foi pago pelo fornecedor.

Considerando que a livraria usa o método do Custo Médio para avaliar seu estoque e possui inventário permanente, o valor do estoque final do livro Contabilidade, após as transações acima, era de

- (A) R\$ 932,00.
- (B) R\$ 937,00.
- (C) R\$ 943,00.
- (D) R\$ 947,00.
- (E) R\$ 8.377,00.

**39**

Em 31/12/2012, uma empresa apresentou os seguintes saldos relacionados a seu ativo e passivo:

Disponibilidades: .....	R\$ 40.000,00;
Estoques: .....	R\$ 30.000,00;
Máquinas: .....	R\$ 80.000,00;
Terreno: .....	R\$ 50.000,00;
Clientes: .....	R\$ 35.000,00;
Depreciação acumulada: .....	R\$ 25.000,00;
Fornecedores: .....	R\$ 50.000,00;
Provisão obrigações trabalhistas: .....	R\$ 20.000,00;
Provisão para impostos: .....	R\$ 15.000,00;
Provisão para créditos de liquidação duvidosa: .....	R\$ 700,00;
Provisão para perda dos estoques: .....	R\$ 4.000,00;
Provisão para garantias: .....	R\$ 12.000,00;
Dividendos a pagar: .....	R\$ 12.000,00;
Contas a pagar: .....	R\$ 30.000,00;
Reserva de contingências: .....	R\$ 18.000,00;
Empréstimos concedidos: .....	R\$ 45.000,00.

Considerando as informações acima, o Patrimônio Líquido dessa empresa, em 31/12/2012, era de

- (A) R\$ 66.300,00.
- (B) R\$ 93.300,00.
- (C) R\$ 111.300,00.
- (D) R\$ 115.300,00.
- (E) R\$ 158.300,00.

**40**

Uma empresa emitiu ações no valor de R\$ 10 milhões, incorrendo em um gasto de R\$ 400.000,00 para realizar a captação, que foi bem sucedida.

A contrapartida do valor gasto para realizar a captação deve ser contabilizada como

- (A) despesa antecipada.
- (B) despesa financeira.
- (C) despesa administrativa.
- (D) ajuste do passivo.
- (E) redutora do patrimônio líquido.

**41**

Uma loja de brinquedos vende somente a boneca Sarah. Em 1º de março de 2014, ela possuía em seu estoque 20 unidades da boneca. Cada boneca era vendida por R\$ 50,00, enquanto que o custo unitário das bonecas era de R\$ 30,00. O valor do frete é fixo, independente do número de bonecas, e corresponde a R\$ 40,00. Conforme acordo estabelecido com o seu único fornecedor, quando a compra é de até 10 bonecas, o comprador paga o frete; quando a compra é de mais de 10 bonecas, o fornecedor paga o frete. Os clientes, por sua vez, devem retirar a boneca diretamente na loja.

Durante o mês de março de 2014, aconteceram as seguintes operações em relação à boneca Sarah:

- Venda de 10 unidades por R\$ 50,00 cada.
- Compra de 30 unidades por R\$ 32,00 cada.
- Compra de 8 unidades por R\$ 34,00 cada.
- Venda de 42 unidades por R\$ 52,00 cada.

Considerando que a loja de brinquedos utiliza o método PEPS para avaliar seus estoques, o valor do Custo das Mercadorias Vendidas, em 31/03/2014, era de

- (A) R\$ 1.338,00.
- (B) R\$ 1.628,00.
- (C) R\$ 1.638,00.
- (D) R\$ 1.675,50.
- (E) R\$ 2.684,00.

**42**

Uma empresa apresentou os seguintes saldos em 31/12/2013:

Vendas brutas: .....	R\$ 40.000,00;
Comissão de vendas: .....	R\$ 4.000,00;
Devolução de vendas: .....	R\$ 3.000,00;
Impostos sobre operações financeiras: .....	R\$ 6.000,00;
Imposto predial da fábrica: .....	R\$ 10.000,00;
Devolução de compras: .....	R\$ 8.000,00;
IPI nas compras: .....	R\$ 5.000,00;
ICMS sobre vendas: .....	R\$ 7.200,00.

Considerando que a empresa é contribuinte dos impostos estaduais e municipais, mas não é contribuinte do IPI, o valor da Receita Líquida apurada, em 31/12/2013, é de

- (A) R\$ 32.800,00.
- (B) R\$ 29.800,00.
- (C) R\$ 25.800,00.
- (D) R\$ 24.800,00.
- (E) R\$ 19.800,00.



**43**

Uma empresa efetuou as seguintes operações no mês de setembro de 2013:

Vendas brutas: .....R\$ 200.000,00;  
 Devolução de vendas: .....R\$ 20.000,00;  
 Abatimento sobre compras: .....R\$ 10.000,00;  
 Despesa com o aluguel da loja: .....R\$ 50.000,00.

Na ocasião, a empresa apurou o custo de R\$ 80.000,00 com mercadorias vendidas.

Considerando que a empresa utiliza inventário permanente, o lucro bruto nas vendas, em setembro de 2013, foi

- (A) R\$ 120.000,00.
- (B) R\$ 100.000,00.
- (C) R\$ 90.000,00.
- (D) R\$ 50.000,00.
- (E) R\$ 40.000,00.

**44**

Os montantes recebidos por meio das transações relacionadas a seguir, realizadas em 1º de março, devem ser contabilizados como Receita Antecipada, à exceção de um. Assinale-o.

- (A) Um marceneiro recebe a encomenda de um armário que ficará pronto em dois meses. Na ocasião, recebe 60% do valor cobrado.
- (B) Um locador recebe o aluguel de abril de seu locatário, que vai estar em viagem.
- (C) Uma loja vende um vestido para um cliente, que faz o pagamento, mas deixa a roupa para fazer bainha.
- (D) Uma empresa aérea vende uma passagem para uma viagem que será feita em julho.
- (E) Um consultor recebe metade do valor cobrado para uma consultoria a ser realizada entre os meses de abril e julho.

**45**

Durante o mês de dezembro de 2013, uma empresa realizou as seguintes transações:

- Contratou e pagou o seguro dos caminhões que serão usados para transporte por dois anos, a partir de janeiro de 2014, no valor total de R\$ 24.000,00.
- Comprou material de escritório a ser utilizado pelos seis meses seguintes por R\$ 600,00.
- Fechou contrato para aluguel de um galpão que será utilizado nos negócios da empresa por um semestre, a partir de fevereiro de 2014, por R\$ 1.200,00.

Considere que, até 01/12/2013, a empresa não possuía outras operações classificadas como despesas antecipadas.

Com base nas informações acima, o valor das despesas antecipadas no Ativo Circulante da empresa, em 31/12/2013, é de

- (A) R\$ 12.000,00.
- (B) R\$ 12.600,00.
- (C) R\$ 13.200,00.
- (D) R\$ 24.000,00.
- (E) R\$ 25.200,00.

**46**

Assinale a opção que indica, no Balanço Patrimonial, exemplos de disponibilidades.

- (A) As contas para pagamentos específicos e as contas especiais de cobrança.
- (B) Os depósitos bancários vinculados à liquidação de empréstimos e a conta corrente.
- (C) Os saldos de contas em bancos em liquidação e os cheques recebidos para depósito imediato.
- (D) As contas especiais de cobrança e os depósitos bancários vinculados à liquidação de empréstimos.
- (E) As contas para pagamentos específicos e os depósitos bloqueados.

**47**

Uma empresa vendeu mercadorias a prazo no valor de R\$ 100.000,00.

Na contabilização do valor como contas a receber, no balanço patrimonial desta empresa, deve-se deduzir

- (A) as perdas estimadas em crédito de liquidação duvidosa e a provisão para perda de estoques.
- (B) as perdas estimadas em crédito de liquidação duvidosa e o ajuste a valor presente.
- (C) o ajuste a valor presente e a provisão para devoluções.
- (D) a provisão para devoluções e o ICMS sobre vendas.
- (E) a provisão para devoluções e as perdas estimadas em créditos de liquidação duvidosa.

**48**

Uma provisão para contingências deve ser constituída no seguinte caso:

- (A) os contadores de uma empresa acreditam que o ganho de uma causa na justiça é praticamente certo.
- (B) os contadores de uma empresa julgam que as chances de perder uma causa na justiça são remotas.
- (C) os contadores de uma empresa julgam que há chances de perder uma causa na justiça.
- (D) uma empresa é ameaçada de ação na justiça por um cliente.
- (E) um empregado entra na justiça contra uma empresa e os contadores consideram que o risco de perda é provável.

**49**

Uma empresa brasileira utiliza componentes importados em sua fábrica. Em fevereiro de 2013, a empresa fez uma encomenda com compromisso firme. A transferência da propriedade se deu no porto de destino, em março, tendo o produto chegado ao Brasil em abril e ao estabelecimento da empresa em maio. Por fim, em junho, foi realizada a inspeção física e a aprovação da qualidade do produto. O pagamento foi feito em julho de 2013.

Em relação à compra, o montante deve ser reconhecido como contas a pagar, no balanço patrimonial da empresa importadora, em

- (A) fevereiro.
- (B) março.
- (C) abril.
- (D) maio.
- (E) junho.

**50**

Uma empresa tem, como política, reembolsar clientes insatisfeitos. Em 2013, ela auferiu Receitas de R\$ 800.000,00. Ela estima que 10% dos clientes irão procurar a empresa por insatisfação.

Em relação a esse fato, assinale a opção que indica o procedimento contábil correto.

- (A) Constituir provisão para perdas, com contrapartida em despesas operacionais.
- (B) Constituir provisão para reembolso, com contrapartida em despesas operacionais.
- (C) Constituir provisão para contingências, com contrapartida em deduções da receita.
- (D) Divulgar o fato em nota explicativa, sem necessidade de constituição de provisão.
- (E) Reconhecer a provisão para reembolso, com contrapartida em deduções da receita.

**51**

Uma empresa adquiriu um ar condicionado para o escritório de seu diretor por R\$ 1.200,00 com a cláusula de um ano de garantia. A empresa adquiriu a garantia estendida oferecida pelo fabricante pagando mais R\$ 200,00. Além disso, o frete para levar o ar condicionado até a empresa foi de R\$ 100,00.

Na sala do diretor, foi necessário quebrar uma parte da parede para colocar o ar condicionado, o que custou R\$ 50,00, mais os gastos com instalação, de R\$ 300,00. Na ocasião, estimou-se que a remoção do ar condicionado e a restauração da parede depois de três anos (quando irá encerrar o contrato de locação e a empresa deverá mudar de sede) será de R\$ 400,00.

Na data de aquisição, o ar condicionado deve estar contabilizado no balanço patrimonial da empresa por

- (A) R\$ 1.400,00.
- (B) R\$ 1.700,00.
- (C) R\$ 1.750,00.
- (D) R\$ 2.050,00.
- (E) R\$ 2.250,00.

**52**

Em 01/01/2010, um banco adquiriu, em uma combinação de negócios, a carteira de clientes de outra instituição financeira (independente) por R\$ 60.000,00, por quatro anos.

Em 31/12/2010, o banco fez um estudo e percebeu que 30% dos clientes transferiam suas contas para outros bancos, de modo a não utilizar seus serviços. O banco faz nova estimativa e constatou que os benefícios gerados nos anos remanescentes seriam de R\$ 30.000,00.

Considerando que o banco utiliza o método de linha reta para amortizar seus ativos intangíveis, o valor da amortização acumulada, em 31/12/2012, era de

- (A) R\$ 10.000,00.
- (B) R\$ 25.000,00.
- (C) R\$ 30.000,00.
- (D) R\$ 35.000,00.
- (E) R\$ 45.000,00.

**53**

Uma empresa comprou, em 01/01/2012, um veículo para seu presidente se deslocar de sua casa ao escritório, diariamente, por R\$ 80.000,00. A vida útil econômica do veículo estimada pela empresa foi de cinco anos. Ao final deste prazo, a empresa esperava vender o carro por R\$ 20.000,00.

No início de abril de 2013, o presidente se mudou para um local mais longe, de modo que a empresa reavaliou a vida útil econômica do veículo e estimou utilizá-lo por mais dois anos, ao final do qual pretendia vendê-lo por R\$ 17.000,00.

Admitindo que a empresa utilize o método das quotas constantes e que não houve ajustes decorrentes do teste de recuperabilidade, a depreciação acumulada do carro, em 31/12/13, era de

- (A) R\$ 24.000,00.
- (B) R\$ 33.000,00.
- (C) R\$ 36.000,00.
- (D) R\$ 47.000,00.
- (E) R\$ 48.000,00.

**54**

Em uma empresa prestadora de serviços, os itens a seguir estão classificados na conta Investimentos do Ativo, à exceção de um. Assinale-o.

- (A) Participações permanentes em sociedades controladas.
- (B) Terreno mantido sem produção de renda e destinado a uso futuro, na expansão da empresa.
- (C) Obra de arte exposta na sala de reuniões.
- (D) Direito a receber por empréstimo concedido a outra entidade.
- (E) Participações permanentes em sociedades coligadas.

**55**

Quando uma companhia adquire, com suas próprias ações, com o propósito de retirá-las definitivamente de circulação, ela está realizando

- (A) uma amortização integral de ações.
- (B) uma emissão de ações.
- (C) um resgate de ações.
- (D) um reembolso de ações.
- (E) uma amortização parcial de ações.

**56**

De acordo com o Código de Ética Profissional do Contador (Resolução CFC nº 803/96, alterada pela Resolução CFC nº 1.307/10), assinale a opção que indica o procedimento a ser adotado pelo profissional de Contabilidade ao ser substituído em suas funções.

- (A) Informar ao substituto sobre fatos que devam chegar ao seu conhecimento, de modo a habilitá-lo para o bom desempenho das funções a serem exercidas.
- (B) Manter sigilo sobre as práticas realizadas anteriormente, deixando que o contratante opte pelo que deseja ser informado.
- (C) Manter sigilo sobre as práticas realizadas anteriormente, a não ser que seja contratado como consultor.
- (D) Informar ao substituto sobre todas as práticas realizadas na empresa e sobre os outros funcionários, de modo a prepará-lo para eventuais surpresas.
- (E) Informar ao substituto sobre a política de cargos e a remuneração praticada.

**57**

Sobre o Balanço Patrimonial, assinale a afirmativa correta.

- (A) Os ativos representam todos os bens e os direitos de uma entidade.
- (B) Os itens que compõem o passivo e o patrimônio líquido da entidade representam as aplicações de recursos.
- (C) Os itens podem ser evidenciados conforme a ordem de liquidez ou de magnitude.
- (D) O ativo é dividido em ativo circulante e ativo não circulante.
- (E) O patrimônio líquido deve ser sempre positivo, já que representa os recursos dos sócios.

**58**

Em 31/12/2013, uma empresa apresentou os seguintes saldos:

Compra de ativo imobilizado:	R\$ 60.000,00
Receita de Vendas:	R\$ 500.000,00
Custo das mercadorias vendidas:	R\$ 270.000,00
Despesas Financeiras:	R\$ 100.000,00
Despesas Administrativas:	R\$ 80.000,00
Dividendos:	R\$ 30.000,00
Reserva de Contingências:	R\$ 70.000,00
Receitas Financeiras:	R\$ 60.000,00
Reversão para Créditos de Liquidação Duvidosa:	R\$ 4.000,00
Parcela dos resultados de empresas investidas reconhecidas por meio do método de equivalência patrimonial:	R\$ 120.000,00

Com base apenas nas informações acima, o lucro líquido, antes do imposto de renda e contribuição social na Demonstração do Resultado do Exercício de 31/12/2013, era de

- (A) R\$ 114.000,00.
- (B) R\$ 204.000,00.
- (C) R\$ 226.000,00.
- (D) R\$ 234.000,00.
- (E) R\$ 314.000,00.

**59**

De acordo com o Código de Ética Profissional do Contador (Resolução CFC nº 803/96, alterada pela Resolução CFC nº 1.307/10), os elementos listados a seguir devem ser considerados pelo profissional de contabilidade ao fixar o valor de seus serviços por contrato escrito, **à exceção de um**. Assinale-o.

- (A) O local onde o serviço será prestado.
- (B) Se o cliente é eventual, habitual ou permanente.
- (C) A possibilidade de ficar impedido da realização de outros serviços.
- (D) A relevância e a dificuldade do serviço a executar.
- (E) Os resultados auferidos pelo cliente.

**60**

De acordo com a Lei nº 8.666/1993 e suas alterações, em um processo de licitação de bens e serviços produzidos ou prestados, em igualdade de condições, deverá ser usado como critério desempate

- (A) a empresa que paga seus tributos em dia.
- (B) a empresa que utiliza mão de obra nacional.
- (C) a empresa localizada na área mais carente do país.
- (D) a empresa que desenvolve projetos sociais.
- (E) a empresa que investe em pesquisa e no desenvolvimento de tecnologia no país.

Realização

 **FGV PROJETOS**