



**PREFEITURA DE  
SÃO PAULO**



**SECRETARIA MUNICIPAL DA SAÚDE**

CONCURSO PÚBLICO

## **010. PROVA OBJETIVA**

### **TÉCNICO EM SAÚDE – HIGIENE DENTAL**

- ◆ Você recebeu sua folha de respostas e este caderno contendo 50 questões objetivas.
- ◆ Confira seu nome e número de inscrição impressos na capa deste caderno e na folha de respostas.
- ◆ Quando for permitido abrir o caderno, verifique se está completo ou se apresenta imperfeições. Caso haja algum problema, informe ao fiscal da sala.
- ◆ Leia cuidadosamente todas as questões e escolha a resposta que você considera correta.
- ◆ Marque, na folha de respostas, com caneta de tinta azul ou preta, a letra correspondente à alternativa que você escolheu.
- ◆ A duração da prova é de 3 horas, já incluído o tempo para o preenchimento da folha de respostas.
- ◆ Só será permitida a saída definitiva da sala e do prédio após transcorridas 2h15 do início da prova.
- ◆ Deverão permanecer em cada uma das salas de prova os 3 últimos candidatos, até que o último deles entregue sua prova, assinando termo respectivo.
- ◆ Ao sair, você entregará ao fiscal a folha de respostas e este caderno, podendo levar apenas o rascunho de gabarito, localizado em sua carteira, para futura conferência.
- ◆ Até que você saia do prédio, todas as proibições e orientações continuam válidas.

**AGUARDE A ORDEM DO FISCAL PARA ABRIR ESTE CADERNO DE QUESTÕES.**



## CONHECIMENTOS GERAIS

### LÍNGUA PORTUGUESA

Leia o trecho para responder às questões de números **01** a **06**.

Cheguei domingo às oito da manhã, pé ante pé para não acordar minha mulher. Apesar do voo, que saíra de Manaus às três da madrugada, estava disposto: havia dormido algumas horas no barco-escola e durante toda a viagem, até aterrissarmos em São Paulo.

Desfiz a mala, providência adotada desde que comecei a viajar feito cigano e sem a qual não sinto haver chegado a lugar nenhum, e fui correr no Minhocão.

“Alegria de paulista”, disse uma amiga carioca, quando contei que aproveitava a interdição do tráfego aos domingos para correr na pista elevada que faz parte da ligação leste-oeste da cidade, excrescência do urbanismo paulistano acessível a quinhentos metros de casa, no centro.

Minha amiga tem razão, talvez seja programa de quem vive numa cidade cinzenta, congestionada, gigantesca, na qual, para enxergar uma nesga de céu, é preciso correr risco de morte debruçado na janela. Compreendo o encanto de morar em meio a paisagens paradisíacas ou em cidades bucólicas onde todos se conhecem, mas para os neuróticos, fascinados pela velocidade do cotidiano, pelo convívio com a diversidade étnica e com as manifestações de criatividade que emergem nos aglomerados humanos, correr domingo de manhãzinha na altura do segundo andar dos prédios da avenida São João é um prazer.

No interior dos apartamentos, o olhar bisbilhoteiro entrevé mobílias escuras, guarda-roupas pesados, estantes improvisadas e, claro, o televisor.

Duvido que exista paisagem dominical mais urbana. *A mulher de camisola florida e cabelo desgrenhado abre a cortina e boceja, despudorada; o senhor de pijama leva a gaiola do passarinho para o terraço espremido; o homem de abdômen avantajado escova os dentes distraído na janela.* Havia planejado completar vinte e quatro quilômetros, mas, depois de percorrer seis vezes os três quilômetros de extensão, sucumbi ao peso da noite mal-dormida. Tomei água de coco, comprei pão e subi pela escada até o décimo quarto andar do prédio onde moro, exercício aprendido com um de meus pacientes, que aos setenta e seis anos subia dez vezes por dia doze andares. E, não satisfeito com a intensidade do esforço, fazia-o vestido com um blusão repleto de bolsos, nos quais distribuía vinte quilos de chumbo.

(*O Médico Doente*, Drauzio Varella, Companhia das Letras. Adaptado)

**01.** Para o autor, desfazer a mala é

- (A) uma tarefa difícil pelo cansaço da viagem.
- (B) um gesto pensado para poupar sua mulher.
- (C) um ritual consolidado em rotina de viagens.
- (D) um costume adquirido junto aos ciganos.
- (E) uma providência entediante para os que viajam.

**02.** De acordo com o texto, para o autor, correr no Minhocão, aos domingos de manhã, é

- (A) agradável, mesmo não sendo um lugar paradisíaco.
- (B) repreensível, porque se bisbilhota a vida alheia.
- (C) saudável, já que a cidade é menos cinzenta aos domingos.
- (D) arriscado, pois há muitas pessoas perigosas por lá.
- (E) impraticável, sobretudo, depois de uma viagem.

**03.** O trecho em destaque, no texto,

- (A) denuncia a desigualdade no espaço urbano.
- (B) refere-se a uma realidade urbana agressiva.
- (C) apresenta cenas corriqueiras do cotidiano.
- (D) mostra pessoas em situações inusitadas.
- (E) revela o preconceito do autor com pessoas simples.

**04.** Se usadas no plural as palavras destacadas nas frases – Talvez seja programa de quem vive em uma *cidade* cinzenta, na qual é difícil enxergar o céu. / Duvido que exista *paisagem* dominical mais urbana. – elas assumem versão correta em

- (A) Talvez seja programa de quem vive em cidades cinzenta na qual é difícil enxergar o céu./ Duvido que exista paisagens dominical mais urbanas.
- (B) Talvez seja programa de quem vive em cidades cinzentas, nas quais é difícil enxergar o céu./ Duvido que existam paisagens dominicais mais urbanas.
- (C) Talvez seja programa de quem vive em cidades cinzentas, na qual é difícil enxergar o céu./ Duvido que existam paisagens dominicais mais urbana.
- (D) Talvez seja programa de quem vive em cidades cinzentas, nas quais é difícil enxergar o céu./ Duvido que existam paisagens dominicais mais urbanas.
- (E) Talvez seja programa de quem vive em cidades cinzentas, nas quais são difíceis enxergar o céu./ Duvido que existam paisagens dominical mais urbana.

Para responder às questões de números **05** e **06**, considere o trecho – “Alegria de paulista”, disse uma amiga carioca, *quando* contei que aproveitava a interdição do tráfego aos domingos *para* correr na pista elevada que faz parte da ligação leste-oeste da cidade, excrescência do urbanismo paulistano, acessível a quinhentos metros de casa, no centro. (3.º parágrafo)

**05.** As expressões em destaque indicam, correta e respectivamente, ideia de

- (A) tempo e finalidade.
- (B) tempo e condição.
- (C) finalidade e conclusão.
- (D) causa e tempo.
- (E) causa e finalidade.

06. A ideia contrária à da palavra “excrecência” que, no contexto, significa alguma coisa que está em desequilíbrio com o espaço em que se encontra, é a de

- (A) descompasso.
- (B) abstração.
- (C) divergência.
- (D) harmonização.
- (E) desalinhamento.

Leia o trecho, extraído do livro *O Médico Doente*, para responder às questões de números 07 a 09.

O ofício da enfermagem exige mais altruísmo que o nosso. Por mais atenção que dediquemos aos pacientes, quanto tempo passamos com eles? Nossas visitas duram minutos, enquanto esses profissionais ficam encarregados de administrar-lhes os medicamentos prescritos, puncionar veias invisíveis, fazer curativos, cuidar da higiene, ouvir reclamações, incitá-los a reagir e a enfrentar o desconforto, consolá-los, orientar e amparar os familiares, tarefas que requerem competência profissional, empatia e desprendimento.

07. Segundo o trecho, o ofício da enfermagem

- (A) acaba sendo uma prática de desgaste físico.
- (B) requer conhecimentos em administração de negócios.
- (C) necessita de controle por parte dos médicos.
- (D) perde para o do médico em nobreza.
- (E) realiza-se com mais doação que o do médico.

08. Reescrevendo-se o segmento frasal – ... incitá-los a reagir e a enfrentar o desconforto, ... –, de acordo com a regência e o acento indicativo da crase, tem-se:

- (A) ... incitá-los à reação e ao enfrentamento do desconforto, ...
- (B) ... incitá-los a reação e o enfrentamento do desconforto, ...
- (C) ... incitá-los à reação e à enfrentamento do desconforto, ...
- (D) ... incitá-los à reação e o enfrentamento do desconforto, ...
- (E) ... incitá-los a reação e à enfrentamento do desconforto, ...

09. A frase – Por mais atenção que dediquemos aos pacientes, pouco tempo passamos com eles. – reescrita em conformidade com o sentido exposto, está correta em:

- (A) Pouco tempo passamos com os pacientes e pouca atenção dedicamos a eles.
- (B) Embora dediquemos muita atenção aos pacientes, não passamos muito tempo com eles.
- (C) Nem dedicamos bastante atenção aos pacientes nem passamos muito tempo com eles.
- (D) Passamos muito tempo com os pacientes e dedicamos a eles muita atenção.
- (E) Dedicamos muita atenção aos pacientes, além de passarmos muito tempo com eles.

10. Leia a figura.




(www.google.com.br)

O uso da vírgula nas frases a compor a figura está correto em:

- (A) Enfermeiras, parabéns pelo seu dia! Meu coração bate pelo seu.
- (B) Enfermeiras parabéns pelo seu dia! Meu coração, bate pelo seu.
- (C) Enfermeiras, parabéns, pelo seu dia! Meu coração bate, pelo seu.
- (D) Enfermeiras parabéns pelo, seu dia! Meu coração, bate pelo seu.
- (E) Enfermeiras, parabéns, pelo seu dia! Meu coração, bate pelo, seu.

11. Uma dentista comprou um pacote de fichas para anotar os dados de seus pacientes. A secretária, responsável pela organização, resolveu agrupar as fichas e percebeu que, se fizesse grupos com 3 ou com 4 ou com 5 fichas em cada um deles, sempre sobriariam duas fichas. Se o pacote comprado tinha menos de 100 fichas, então o número total de fichas desse pacote era
- (A) 70.  
 (B) 66.  
 (C) 62.  
 (D) 58.  
 (E) 74.
12. Em um laboratório, no preparo de certo produto químico, são utilizadas duas substâncias, A e B, na razão de 200 mL de A para 500 mL de B. Sabendo que esse laboratório dispõe de 1,2 litro da substância A e 3,2 litros da substância B, é correto concluir que o número máximo de litros desse produto químico que poderão ser preparados é
- (A) 3,4.  
 (B) 3,6.  
 (C) 3,8.  
 (D) 4,0.  
 (E) 4,2.
13. O jornal *Folha de S.Paulo*, de novembro de 2013, publicou a seguinte informação sobre os médicos brasileiros formados no exterior.



Fonte: Inesp

Considerando-se o número total de médicos brasileiros formados no exterior, inscritos e aprovados no Revalida, é correto concluir que os médicos brasileiros formados na Bolívia e aprovados no Revalida correspondem, aproximadamente, a

- (A) 14%.  
 (B) 10%.  
 (C) 16%.  
 (D) 12%.  
 (E) 8%.

14. Por recomendação médica, uma pessoa comprou um frasco de analgésico e deverá tomar 12 gotas por dia, utilizando, dessa forma, todo o conteúdo do frasco. Se o médico tivesse receitado 10 gotas por dia, com o mesmo frasco de analgésico, essa pessoa poderia tomar o remédio por mais 4 dias e também utilizaria o conteúdo total do frasco. O número total de gotas que serão ingeridas por essa pessoa será

- (A) 235.
- (B) 240.
- (C) 230.
- (D) 225.
- (E) 220.

15. A tabela mostra o número de horas semanais trabalhadas de 4 profissionais de uma mesma equipe de um hospital.

Profissionais	Número de horas semanais trabalhadas
A	45
B	42
C	48
D	X

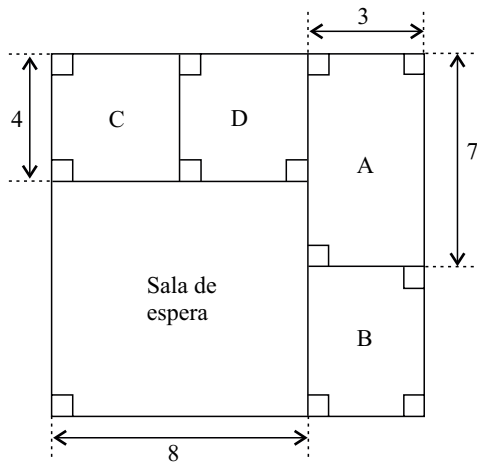
Sabendo que a média do número de horas semanais trabalhadas por esses 4 profissionais foi 47,5, é correto concluir que o funcionário que trabalhou o maior número de horas superou o funcionário que trabalhou o menor número de horas em, aproximadamente,

- (A) 31%.
- (B) 39%.
- (C) 42%.
- (D) 35%.
- (E) 26%.

16. Um médico só atende pacientes dos convênios A e B, recebendo, por consulta, R\$ 50,00 do convênio A e R\$ 60,00 do convênio B. Certo dia, esse médico atendeu, no total, 18 pacientes e recebeu por esses atendimentos o valor de R\$ 980,00. O número de pacientes dos convênios A e B, atendidos nesse dia, foi, respectivamente,

- (A) 9 e 9.
- (B) 11 e 7.
- (C) 6 e 12.
- (D) 10 e 8.
- (E) 13 e 5.

17. A figura mostra a sala de espera e quatro consultórios, A, B, C, D, de uma clínica e suas respectivas medidas em metros.



Sabendo que os consultórios C e D são quadrados e que a área do consultório B é  $15 \text{ m}^2$ , é correto concluir que a área, em  $\text{m}^2$ , e o perímetro, em metros, da sala de espera são, respectivamente,

- (A) 56 e 24.  
 (B) 64 e 30.  
 (C) 64 e 32.  
 (D) 56 e 28.  
 (E) 48 e 36.
18. De acordo com informações publicadas pelo jornal *Folha de S.Paulo*, em novembro de 2013, a Anvisa (Agência Nacional de Vigilância Sanitária) recomenda que a ingestão máxima de gordura trans seja de 2 g por dia.

A tabela mostra a quantidade de gordura trans, por porção, presente em dois alimentos consumidos por um determinado jovem.

	Porção	Gordura trans
Bolacha recheada	30 g	0,3 g
Chocolate com recheio de caramelo	16 g	0,7 g

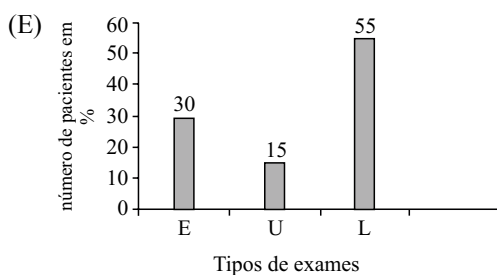
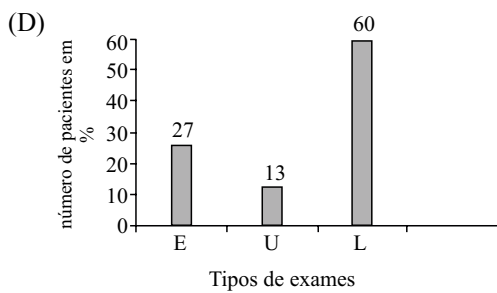
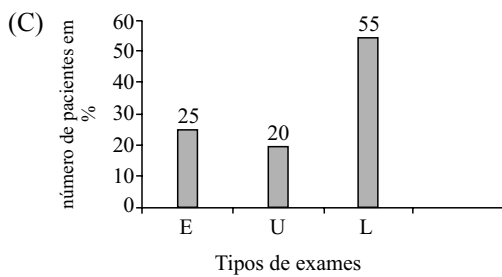
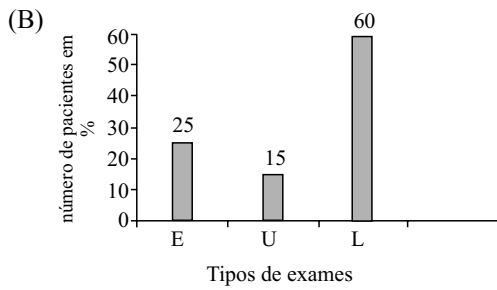
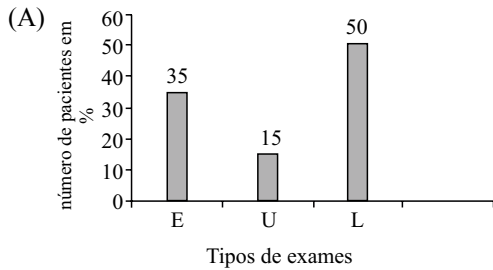
Considerando-se apenas essas duas fontes de gordura trans, e sabendo-se que 180 g de bolachas recheadas correspondem a 15 bolachas recheadas, então, se esse jovem já consumiu, no dia, 40 g de chocolate com recheio de caramelo, o número máximo de bolachas recheadas que ele poderá ingerir, para não ultrapassar a recomendação da Anvisa, será

- (A) 3.  
 (B) 1.  
 (C) 4.  
 (D) 5.  
 (E) 2.

19. A tabela mostra o tipo de exame e o número de pacientes que o fizeram, em determinado dia, em uma clínica.

Tipo de exame	Número de pacientes
Eletrocardiograma (E)	20
Ultrassom (U)	12
Exames Laboratoriais (L)	48

Sabendo que cada paciente realizou apenas um tipo de exame, é correto concluir que o gráfico que representa, corretamente, em porcentagem, os valores da tabela, é

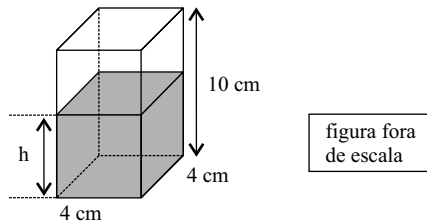




20. O funcionário encarregado de organizar os produtos de um laboratório encontrou 3 frascos de mesma capacidade, todos com o mesmo produto, porém em quantidades diferentes, e registrou esses valores na seguinte tabela.

Frasco (F)	Quantidade
A	cheio
B	1/5 do total
C	1/4 do total

Esse funcionário decidiu colocar o conteúdo de todos esses frascos em um único recipiente (R), na forma de um prisma reto de base quadrada, com 4 cm de lado e 10 cm de altura, conforme mostra a figura.



Sabendo-se que a capacidade total do recipiente (R) corresponde à capacidade total de quatro frascos (F) cheios, pode-se concluir que a altura h, em cm, do líquido dentro do recipiente (R) será de, aproximadamente,

- (A) 3,6.
- (B) 3,9.
- (C) 4,2.
- (D) 4,5.
- (E) 4,7.

**R A S C U N H O**

21. Assinale a alternativa que preenche, corretamente, a lacuna do texto.

No MS-Windows 7, em sua configuração padrão, uma das opções em que é possível escolher o aplicativo que será utilizado para abrir um arquivo é clicar com o botão direito (mouse configurado para destros) sobre o arquivo e escolher a opção \_\_\_\_\_ do menu de contexto.

- (A) Abrir local do arquivo
- (B) Abrir aplicativo
- (C) Editar
- (D) Escolher programa
- (E) Abrir com...

22. No MS-Word 2010, em sua configuração padrão, é possível adicionar marca d'água em documentos.

Assinale a alternativa que contém o nome da guia onde está localizado o ícone exibido a seguir, dentro do grupo Plano de Fundo da Página.



- (A) Inserir.
- (B) Layout da Página.
- (C) Exibição.
- (D) Revisão.
- (E) Página Inicial.


23. Observe a planilha seguinte, sendo editada no MS-Excel 2010, em sua configuração padrão.

	A	B	C
1	1	2	3
2	2	3	1
3	3	1	2

Assinale a alternativa que contém o resultado obtido na célula D1 ao ser preenchida com a fórmula =MÁXIMO(A1:C3)+MAIOR(A1:B3;4)

- (A) 2
- (B) 3
- (C) 1
- (D) 5
- (E) 4

24. A imagem a seguir mostra alguns slides sendo editados no MS-PowerPoint 2010, em sua configuração padrão.



Assinale a alternativa correta em relação ao slide de número 2.

- (A) Foi excluído do arquivo do MS-PowerPoint 2010.
  - (B) Está marcado como principal e terá o dobro do tempo durante a apresentação em tela.
  - (C) Está marcado como oculto e não será exibido durante a apresentação em tela.
  - (D) Foi bloqueado para novas edições.
  - (E) Está marcado como confidencial, protegido por senha.
25. Considere que um usuário, acessando a internet por meio do Internet Explorer 9, encontra um link descrito como uma fotografia pessoal e cuja URL aponta para <http://algumsite.com.br/imagem.pdf>
- Assinale a alternativa correta.
- (A) A URL não indica uma imagem, e o link não poderá ser acessado.
  - (B) A URL indica uma imagem, pois arquivos do tipo PDF são fotografias.
  - (C) O link possui todas as características de uma fotografia.
  - (D) O Internet Explorer 9 não permite abrir fotografias.
  - (E) A URL não indica uma imagem, e o link pode ser um golpe.

## CONHECIMENTOS ESPECÍFICOS

26. Assinale a alternativa que apresenta corretamente a articulação que, por meio de seus movimentos musculares, é a responsável pela abertura e fechamento da cavidade oral.
- (A) Temporomandibular.
  - (B) Glenoide.
  - (C) Mandibular.
  - (D) Maxilar.
  - (E) Maxilomandibular.
27. Potente músculo da mastigação, que eleva a mandíbula permitindo o fechamento da boca. Estamos falando do músculo
- (A) bucinador.
  - (B) orbicular da boca.
  - (C) superciliar.
  - (D) masseter.
  - (E) elevador do lábio superior.
28. Pode-se afirmar corretamente que a dentição mista é caracterizada pelo fato de o paciente possuir os dentes
- (A) permanentes e cisos, simultaneamente.
  - (B) decíduos, exclusivamente.
  - (C) cisos, exclusivamente.
  - (D) permanentes, exclusivamente.
  - (E) decíduos e permanentes, simultaneamente.
29. Acopladas ao equipo, as canetas de alta e baixa rotação são ajustadas aos instrumentos rotatórios usados para cortar e desgastar as estruturas dentárias. Com relação ao tipo de encaixe das brocas usadas para as canetas de alta rotação, contra ângulo e peça de mão, é correto afirmar que são, respectivamente,
- (A) lisa, lisa e denteada.
  - (B) lisa, denteada e lisa.
  - (C) lisa, denteada e denteada.
  - (D) denteada, lisa e lisa.
  - (E) denteada, denteada e lisa.

30. Assinale a alternativa que apresenta corretamente o equipamento eletromecânico responsável pelo fornecimento de ar para o vacuômetro do sugador, para a seringa tríplice e para a movimentação das canetas de alta e baixa rotação.
- (A) Destiladora.
  - (B) Distribuidor.
  - (C) Compressor de ar.
  - (D) Esterelizador.
  - (E) Sugador.
31. Quando se utiliza o calor seco, como forma de esterilização dos instrumentais de aço, analisando-se os fatores temperatura x tempo de esterilização, segundo normas da Anvisa, a temperatura e o tempo corretos para a promoção da esterilização devem ser:
- (A) 90° por 90 min.
  - (B) 130° por 100 min.
  - (C) 110° por 90 min.
  - (D) 140° por 100 min.
  - (E) 160° por 120 min.
32. Os filmes radiográficos podem ser classificados, quanto à localização, em:
- (A) intrabucais, extrabucais e dosimétricos.
  - (B) normal e ultraspeed.
  - (C) maxilar e mandibular.
  - (D) simples ou duplos.
  - (E) periapical e oclusal.
33. No método manual de processamento do filme radiográfico, após a revelação, o filme deve ser levado para uma lavagem intermediária e em seguida para uma solução fixadora. Com relação a esse processo, podemos afirmar corretamente que a lavagem intermediária deve ser
- (A) em solução não aquosa, por 20 segundos, e que o filme deve permanecer no líquido fixador por 5 minutos.
  - (B) em água, por 10 segundos, e que o filme deve permanecer no líquido fixador por 5 minutos.
  - (C) em água, por 10 minutos, e que o filme deve permanecer no líquido fixador por 20 minutos.
  - (D) em água, por 20 segundos, e que o filme deve permanecer no líquido fixador por 10 minutos.
  - (E) em solução não aquosa, por 10 segundos, e que o filme deve permanecer no líquido fixador por 2 minutos.
34. As luvas são indispensáveis para os diversos procedimentos dentro do consultório odontológico. As luvas de borracha grossa devem ser usadas para
- (A) atividades que necessitem de sobreluva dentro do campo operatório e para manipulação de materiais e instrumentais contaminados.
  - (B) atividades que necessitem de sobreluva fora do campo operatório e para manipulação de materiais e instrumentais contaminados.
  - (C) manipulação de materiais e instrumentais contaminados e durante os procedimentos de limpeza e desinfecção do consultório.
  - (D) manipulação de instrumentais e materiais durante procedimentos clínicos auxiliares e para atividades extra-cirúrgicas.
  - (E) manipulação de materiais e instrumentais estéreis e durante procedimentos de manutenção preventiva de equipamentos.
35. Luvas, moldagens e gazes utilizadas em pacientes e contendo sangue ou fluidos corpóreos devem ser descartadas em lixo
- (A) de resíduos infectantes contundentes, com a utilização de sacos plásticos de cor cinza, padronizados, com símbolo de risco biológico.
  - (B) de resíduos infectantes contundentes, com a utilização de sacos plásticos de cor preta.
  - (C) comum, com a utilização de sacos plásticos de cor preta.
  - (D) de resíduos de insumos, com a utilização de sacos plásticos de cor branca leitosa, padronizados, com símbolo de risco biológico.
  - (E) de resíduos infectantes, com a utilização de sacos plásticos de cor branca leitosa, padronizados, com símbolo de risco biológico.
36. Para se obter maior conforto no trabalho e prevenir a fadiga dos membros inferiores, é indicado que o operador e o auxiliar trabalhem sentados no mocho e que este seja regulado em uma altura que permita deixar as coxas com uma angulação de
- (A) 40° com relação às pernas.
  - (B) 90° com relação às pernas.
  - (C) 180° com relação às pernas.
  - (D) 60° com relação às pernas.
  - (E) 140° com relação às pernas.

37. Levando-se em consideração as zonas de atividade operatória, é correto afirmar que um assistente que trabalha com um operador destro, deve se posicionar na posição
- (A) entre 5 h e 9 h.
  - (B) entre 3 h e 7 h.
  - (C) entre 6 h e 10 h.
  - (D) entre 1 h e 5 h.
  - (E) entre 7 h e 11 h.
38. O Sistema Único de Saúde foi instituído na
- (A) VII Conferência Nacional de Saúde (1977) e promulgado na constituição de 1978.
  - (B) constituição de 1977, com base nos relatórios elaborados durante a VIII Conferência Nacional de Saúde (1978).
  - (C) constituição de 1988, com base nos relatórios elaborados durante a VIII Conferência Nacional de Saúde (1987).
  - (D) VI Conferência Nacional de Saúde (1967) e promulgado na constituição de 1968.
  - (E) constituição de 1967, com base nos relatórios elaborados durante a VIII Conferência Nacional de Saúde (1968).
39. O capítulo II da Lei Federal n.º 8.080 regula os princípios e diretrizes do SUS, sendo que nele está prevista a
- (A) igualdade da assistência à saúde, o direito à informação, a utilização da semiologia para o estabelecimento de prioridades, a municipalidade de acesso aos serviços de saúde e a descentralização político-administrativa.
  - (B) igualdade da assistência à saúde, o direito à informação, a utilização da epidemiologia para o estabelecimento de prioridades, a federalização de acesso aos serviços de saúde e a centralização político-administrativa.
  - (C) igualdade da assistência à família, a restrição à informação, a utilização da semiologia para o estabelecimento de prioridades, a universalidade de acesso aos serviços de saúde e a centralização político-administrativa.
  - (D) igualdade da assistência à família, a restrição à informação, a utilização da epidemiologia para o estabelecimento de prioridades, a federalização de acesso aos serviços de saúde e a descentralização político-administrativa.
  - (E) igualdade da assistência à saúde, o direito à informação, a utilização da epidemiologia para o estabelecimento de prioridades, a universalidade de acesso aos serviços de saúde e a descentralização político-administrativa.
40. Dentro das diretrizes da Política Nacional de Saúde Bucal, propõe-se, para a ampliação do acesso à saúde, um modelo que privilegie as linhas do cuidado, que inclui o cuidado da
- (A) criança, do adolescente, do adulto e do idoso.
  - (B) mulher, do homem e do trabalhador.
  - (C) mulher, da criança, do homem e do portador de necessidades especiais.
  - (D) odontopediatria, da dentística e da cirurgia.
  - (E) criança, da mulher e do homem.
41. No capítulo dos direitos fundamentais do Código de Ética Odontológica, constituem direitos fundamentais dos técnicos em saúde bucal e auxiliares em saúde bucal
- (A) resguardar o segredo profissional; diagnosticar, planejar e executar tratamentos com liberdade de convicção e contratar serviços de outros profissionais da odontologia.
  - (B) executar, sob a supervisão do cirurgião-dentista, os procedimentos constantes na Lei n.º 11.889/2008 e nas Resoluções do Conselho Federal; renunciar ao atendimento de paciente quando convier e recusar qualquer disposição estatutária, regimental que limite a escolha dos meios de diagnóstico e tratamento.
  - (C) executar, sob a supervisão do cirurgião-dentista, os procedimentos constantes na Lei n.º 11.889/2008 e nas Resoluções do Conselho Federal; resguardar o segredo profissional e recusar-se a exercer a profissão em âmbito público ou privado onde as condições de trabalho não sejam dignas, seguras e salubres.
  - (D) diagnosticar, planejar e executar tratamentos com liberdade de convicção; renunciar ao atendimento do paciente quando convier e recusar qualquer disposição estatutária regimental que limite a escolha dos meios de diagnóstico e tratamento.
  - (E) recusar-se a exercer a profissão em âmbito público ou privado onde as condições de trabalho não sejam dignas, seguras e salubres; contratar serviços de outros profissionais da odontologia e renunciar ao atendimento de paciente quando convier.
42. Os preparos cavitários foram agrupados por classes há mais de cem anos, por Black, e continuam a ser utilizados até os dias atuais. É considerado um preparo Classe V a seguinte situação: cavidades
- (A) restritas aos sulcos e fossas da superfície oclusal de molar e pré-molar.
  - (B) de cárie ou fraturas dentais que ocorrem nas superfícies proximais de incisivos e caninos envolvendo também o ângulo incisivo.
  - (C) localizadas nas superfícies proximais de molares e pré-molares.
  - (D) que envolvam as superfícies proximais de incisivos e caninos.
  - (E) localizadas no terço gengival de superfícies vestibular e lingual de todos os dentes.

43. O instrumento cortante rotatório que é acoplado à caneta de alta rotação, utilizado para confecção de preparos cavitários e que determina paredes circundantes paralelas, define ângulos e planifica paredes de fundo apresenta a ponta ativa com formato
- (A) chama.
  - (B) cilíndrico.
  - (C) roda.
  - (D) cone invertido.
  - (E) esférico.
44. Quando se classifica os tipos de prótese dentária segundo a transmissão das forças mastigatórias, podemos exemplificar os seguintes tipos:
- (A) parcial fixa, removível e total.
  - (B) fixa e removível.
  - (C) parcial fixa dentossuportada e removível mucossuportada.
  - (D) dentossuportada, dentomucossuportada e implantomucossuportada.
  - (E) fixa, removível, total e implantodôntica.
45. Os articuladores são úteis tanto para o estudo e planejamento como para a execução dos vários tipos de prótese, sendo que eles são classificados como
- (A) maxilares e mandibulares.
  - (B) simples e complexos.
  - (C) simples, semiajustáveis e totalmente ajustáveis.
  - (D) articulados e não articulados.
  - (E) não ajustáveis e ajustáveis.
46. A montagem da mesa cirúrgica requer atenção e cuidado. Para a montagem da agulha na seringa carpule, sem contaminar o campo, o assistente deve
- (A) pegar a carpule da mesa com cuidado e promover a inserção da agulha.
  - (B) inserir e rosquear a agulha na carpule após o cirurgião remover a parte maior do invólucro da agulha e segurá-la firmemente direcionando a parte da agulha para o auxiliar.
  - (C) pegar a carpule da mesa e entregá-la para o cirurgião inserir a agulha.
  - (D) entregar a agulha desencapada para o cirurgião e promover a instalação na carpule.
  - (E) remover a parte menor do invólucro da agulha, segurando-a firmemente e direcionando a parte da agulha para o cirurgião, que cuidará de inserir e rosquear a agulha na carpule.
47. Utilizam-se porções iguais da pasta base e pasta catalisadora em um bloco de papel para a sua espatulação. Esse é um procedimento específico para uso do seguinte material:
- (A) óxido de zinco e eugenol.
  - (B) hidróxido de cálcio.
  - (C) fosfato de zinco.
  - (D) ionômero de vidro.
  - (E) verniz cavitário.
48. Assinale a alternativa que contém o cimento que pode ser utilizado para forramento, curativo ou cimentação provisória, e sua manipulação deve ser feita em placa de vidro.
- (A) Hidróxido de cálcio.
  - (B) Hidrocoloide irreversível.
  - (C) Óxido de zinco e eugenol.
  - (D) Fosfato de zinco.
  - (E) Pasta zinco enólica.
49. Na manipulação do cimento de fosfato de zinco, uma opção para se aumentar o tempo de trabalho, sem alterar as suas características, é
- (A) resfriar a placa de vidro antes de usá-la para espatulação.
  - (B) aumentar a quantidade de líquido da proporção.
  - (C) aglutinar um pouco de água destilada à mistura.
  - (D) espatular vagarosamente a mistura.
  - (E) aumentar a quantidade de pó da proporção.
50. Assinale a alternativa que contém o material odontológico que apresenta uma manipulação criteriosa a fim de se evitar a incorporação de ar à mistura.
- (A) Pasta zinco enólica.
  - (B) Cimento cirúrgico.
  - (C) Silicone de adição.
  - (D) Alginato.
  - (E) Silicone de condensação.





