

Leia o texto a seguir para responder as questões de 1 a 7.

ONU: EM 22 ANOS, BRASIL REDUZ MORTALIDADE INFANTIL EM 77%

O país apresenta uma das quedas mais significativas entre 196 nações ou territórios monitorados

13/09/2013 - 12:54

Disponível em: <http://veja.abril.com.br/noticia/saude/mortalidade-infantil-cai-77-no-brasil-em-22-anos-diz-onu>

Acesso em 15 de setembro de 2013

A taxa de mortalidade de crianças menores de 5 anos caiu 77% em 22 anos no Brasil — entre 1990 e 2012. É o que indica um relatório divulgado nesta sexta-feira pelo Fundo das Nações Unidas pela Infância (Unicef), em Brasília. O país apresenta uma das quedas mais significativas entre 196 nações ou territórios monitorados, e ocupa a sétima posição no ranking, logo abaixo do Peru. As Maldivas ocupam o primeiro lugar, com 89%.

Em 1990, a média brasileira era de 62 mortes para cada 1 000 nascidos vivos. O índice caiu para 33 óbitos pela mesma referência em 2000 e, em 2012, atingiu a marca de quatorze óbitos entre 1 000 nascidos vivos. Os dados foram levantados por um grupo formado pela Unicef, pela Organização Mundial da Saúde (OMS), pelo Banco Mundial e pelas Divisões de População e Estatística das Nações Unidas.

O relatório esmiúça ainda a taxa de redução da mortalidade em outras duas faixas etárias: para crianças menores de 1 ano, a queda foi de 75%. Já no período neonatal, nos primeiros 28 dias de vida, o índice caiu 68%.

“O Brasil reduziu a mortalidade infantil mais do que toda a América Latina, mais do que países emergentes, que os Brics (grupo formado por Brasil, Índia, Rússia, China e, mais recentemente, África do Sul) e teve uma taxa de redução maior do que a dos países de renda média alta”, afirmou o ministro da Saúde, Alexandre Padilha, durante a apresentação do relatório.


Dados do Ministério da Saúde, também divulgados nesta manhã, apontam que a região Nordeste foi a que registrou maior percentual de queda na mortalidade entre crianças até 5 anos: 77,5%, passando de 87,3 para 19,6 óbitos por 1 000 nascidos vivos. Entre os estados que se destacaram nessa redução estão Alagoas, Ceará e Paraíba.

Mundo — O Brasil atingiu a meta do Objetivo do Milênio em relação à redução da taxa de mortalidade quatro anos antes do prazo estabelecido pela Organização das Nações Unidas (ONU). A nível mundial, porém, o relatório desenha um cenário preocupante. Caso as tendências atuais sejam mantidas, o objetivo de diminuir em dois terços a taxa de mortalidade de crianças menores de 5 anos até 2015 pode ser atingido somente depois de 2028. O prejuízo do atraso é considerado altíssimo: pode levar à morte de 35 milhões de crianças, por causas, na maioria das vezes, vistas como evitáveis. Por isso, o documento exalta a necessidade de ações imediatas da comunidade global para acelerar o progresso.

No mundo, a redução da taxa de mortalidade para crianças de até 5 anos foi de 47%. Isso significa, em números, que 90 milhões de vidas foram salvas entre 1990 e 2012. Por outro lado, neste mesmo período, 216 milhões de crianças morreram por motivos que poderiam ter sido evitados — como a diarreia.





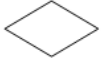







Doenças como pneumonia, diarreia e malária são as principais causas de morte na infância. Segundo dados do relatório da ONU, essas doenças levam à morte cerca de 6 000 crianças de até 5 anos todos os dias.

1. De acordo com as ideias presentes no texto, analise as proposições a seguir:
 - I. De 1990 para 2012, houve uma diferença de 48 no número de mortes para cada 1000 nascidos vivos.
 - II. O relatório analisa a taxa de mortalidade apenas entre os nascidos vivos em idade neonatal.
 - III. Paralelamente à divulgação do relatório da Unicef, houve a divulgação de dados referentes à situação atual da mortalidade infantil no Brasil.
 - IV. Dados da Unicef apontam para uma queda na mortalidade em crianças menores de 5 anos no Brasil.
 - a) As proposições III e IV estão incorretas.
 - b) Todas as proposições estão corretas.
 - c) Apenas a proposição II está incorreta.
 - d) As proposições II e III estão incorretas.
2. Assinale a única alternativa correta quanto à análise do texto:
 - a) Entre os 196 países monitorados, o Brasil está em primeiro lugar na queda do número de mortes de crianças de até 5 anos.
 - b) Apesar da redução no número de mortes de crianças, o Brasil só conseguirá atingir o objetivo estabelecido pela ONU depois de 2028.
 - c) Medidas para acelerar o progresso justificam-se por evitar a morte de milhões de crianças.
 - d) O número de crianças de até 5 anos que sobreviveram no mundo é maior que o de crianças que morreram entre 1990 e 2012.
3. Sobre os recursos de construção do texto, analise as proposições a seguir:
 - I. A expressão “mais do que”, destacada no texto, introduz ideia de concessão.
 - II. Ao longo do texto, há uma ampliação analítica sobre as consequências da redução da taxa de mortalidade infantil.
 - III. A expressão “a nível de”, sublinhada no texto, segundo a norma padrão, para estar correta, deveria ser: “em nível de”.
 - IV. A expressão, “caso as tendências atuais sejam mantidas”, no texto, introduz ideia de condição.
 - a) Estão corretas as proposições II e III apenas.
 - b) Apenas a proposição I está incorreta.
 - c) Estão corretas as proposições III e IV apenas.
 - d) Todas as proposições estão corretas.
4. “O país **apresenta** uma das quedas mais significativas”. Se o verbo da frase estivesse conjugado no pretérito imperfeito do subjuntivo, estaria corretamente grafado em:
 - a) Apresentasse.
 - b) Apresentara.
 - c) Apresentava
 - d) Apresentaria
5. Assim como em “pode levar à morte de 35 milhões de crianças”, o emprego da crase é obrigatório em:
 - a) Fez alusão a sua forma de pesquisar a arte.
 - b) A pessoa a quem perguntei sobre eles não fez menção a ninguém.
 - c) Referia-se a formas diferentes de resolver a questão.
 - d) A família, é assegurado o direito ao benefício.

6. “O Brasil atingiu as metas do Objetivo do Milênio.” Passando essa frase para a voz passiva, o verbo adotará corretamente a seguinte forma:
- Foi atingidas
 - Foi atingido
 - Foram atingidas
 - Foi atingidos
7. “Os dados foram levantados por um grupo formado pela Unicef, pela Organização Mundial da Saúde (OMS), pelo Banco Mundial e pelas Divisões de População e Estatística das Nações Unidas.” Passando esse período para a voz ativa, o verbo adotará corretamente a seguinte forma:
- Formou.
 - Levantaram.
 - Levantou.
 - Formaram.
8. Assinale a alternativa que apresenta ERRO de acordo com as normas de concordância nominal:
- Esses são os mesmos argumentos que usei.
 - Mesmo eles ficaram assustados com o resultado.
 - Estou precisando mesmo de dinheiro.
 - Elas mesmo resolveram o problema.
9. Assinale a alternativa em que a colocação pronominal não pode ser modificada sem infringir a norma padrão.
- O evento realizar-se-ia da forma programada.
 - Não quiseram perguntar-me sobre o motivo de minha ausência.
 - Por isso, foi-me dada a responsabilidade.
 - O cartório solicitou-me vários documentos.
10. Assinale a alternativa em que os sinais de pontuação foram empregados corretamente:
- O Brasil, após adotar medidas eficientes conseguiu diminuir a taxa de mortalidade infantil.
 - Eu domino português; você, matemática.
 - Após determinar o que fazer; o governo disponibilizou, para todos, a verba.
 - Todas as pessoas contempladas, deverão dirigir-se ao local, munidas de seus documentos.
11. No microcomputador com o Sistema Operacional Microsoft Windows Seven instalado, o procedimento de recortar um arquivo qualquer de uma pasta, para colá-lo em outra pasta pode ser executado utilizando a combinação das seguintes teclas:
- CTRL+C e CTRL+X
 - CTRL+X e CTRL+V
 - CTRL+C e CTRL+V
 - CTRL+V e CTRL+X
12. No editor de texto Microsoft Word 2007, para refazer uma ação desfeita, além de clicar em **Refazer**  na Barra de Ferramentas de Acesso Rápido, também pode-se utilizar a seguinte combinação de teclas:
- CTRL+Y.
 - CTRL+Z.
 - CTRL+A.
 - CTRL+O.
13. O processo de enviar dados, por intermédio da Internet, de um computador local (usuário) para um computador ou servidor remoto é chamado de:
- firewall
 - upload
 - browser
 - download
14. Com relação as extensões que definem o tipo de arquivo, analise os enunciados a seguir:
- A extensão “.xls” refere-se a um arquivo do Microsoft Excel.
 - A extensão “.png” refere-se a um arquivo de imagem.
 - A extensão “.wav” refere-se a um arquivo de áudio.
 - A extensão “.zip” refere-se a um arquivo padrão de texto.
- Assinale a única opção correta:
- Apenas as assertivas I, II e III estão corretas.
 - Apenas as assertivas II, III e IV estão corretas.
 - As assertivas I, II, III e IV estão corretas.
 - Apenas as assertivas I e IV estão corretas.
15. Na planilha eletrônica da Microsoft, Excel 2007 (versão em português), inserindo a fórmula =MEDIA(A1:C1) em D1, sendo A1=12; B1=34; C1=56, o resultado final será de:
- 56
 - 12
 - 102
 - 34
16. Leia as frases abaixo sobre sistemas numéricos:
- O zero não pertence aos números naturais.
 - Os números naturais são um subconjunto dos números inteiros.
 - Os números reais permitem representação na forma decimal, periódica ou não periódica.
 - A raiz quadrada de 2 resulta em um número natural.
- A sequência correta é:
- Apenas as assertivas I, II e III estão corretas.
 - Apenas as assertivas I e II estão corretas.
 - Apenas as assertivas I, III e IV estão corretas.
 - Apenas a assertiva III está correta.
17. Se A e B são dois números reais tais que $0 < A < B < 1$. O produto AB é obrigatoriamente:
- Um número compreendido entre zero e A.
 - Um número compreendido entre A e B.
 - Um número compreendido entre B e 1.
 - Um número maior que 1.
18. Após saldar 4/5 de uma dívida João ainda ficou devendo R\$300,00. Qual era o valor originalmente devido por João?
- R\$ 1.150,00
 - R\$ 1.300,00
 - R\$ 1.250,00
 - R\$ 1.500,00

19. Em 180 dias 24 trabalhadores constroem uma casa. Quantos trabalhadores são necessários para construir uma casa idêntica em 120 dias?
- 36 trabalhadores
 - 46 trabalhadores
 - 16 trabalhadores
 - 26 trabalhadores
20. Uma aplicação financeira precisa de quantos meses para triplicar o capital investido se for aplicada a taxa de juros simples de 5% ao mês?
- 75 meses
 - 40 meses
 - 25 meses
 - 60 meses
21. Referente às modalidades de licitação, assinale “V” para as alternativas verdadeiras e “F” para as alternativas falsas.
- Concorrência é a modalidade de licitação entre quaisquer interessados que, na fase inicial de habilitação preliminar, comprovem possuir os requisitos mínimos de qualificação exigidos no edital para execução de seu objeto.
 - Convite é a modalidade de licitação entre quaisquer interessados para escolha de trabalho técnico, científico ou artístico, mediante a instituição de prêmios ou remuneração aos vencedores, conforme critérios constantes de edital publicado na imprensa oficial com antecedência mínima de 45 (quarenta e cinco) dias.
 - Leilão é a modalidade de licitação entre interessados do ramo pertinente ao seu objeto, cadastrados ou não, escolhidos e convidados em número mínimo de 03 (três) pela unidade administrativa, a qual afixará, em local apropriado, cópia do instrumento convocatório e o estenderá aos demais cadastrados na correspondente especialidade que manifestarem seu interesse com antecedência de 24 (vinte e quatro) horas de apresentação das propostas.
 - Tomada de preços é a modalidade de licitação entre interessados devidamente cadastrados ou que atenderem a todas as condições exigidas para cadastramento até o terceiro dia anterior à data do recebimento das propostas, observada a necessária qualificação.
 - Concurso é a modalidade de licitação entre quaisquer interessados para escolha de trabalho técnico, científico ou artístico, mediante a instituição de prêmios ou remuneração aos vencedores, conforme critérios constantes de edital publicado na imprensa oficial com antecedência mínima de 45 (quarenta e cinco) dias.
 - Leilão é a modalidade de licitação entre quaisquer interessados para a venda de bens móveis inservíveis para a administração ou de produtos legalmente apreendidos ou penhorados, ou para a alienação de bens imóveis prevista no artigo 19, a quem oferecer o maior lance, igual ou superior ao valor da avaliação.
- A sequência correta é:
- V, V, V, F, V, V.
 - V, F, F, V, V, V.
 - F, V, V, F, F, F.
 - V, V, F, V, V, F.
22. Como regra geral, a administração direta e indireta de qualquer dos Poderes da União, Estados, Distrito Federal e Municípios devem se submeter aos Princípios do Artigo 37 da Constituição Federal. Com base nestes Princípios, identifique abaixo com “V” as alternativas verdadeiras e “F” as alternativas falsas:
- O princípio da legalidade aparece simultaneamente como um limite e como uma garantia, pois ao mesmo tempo que é um limite a atuação do Poder Público, visto que este só poderá atuar com base na lei, também é uma garantia a nós administradores, visto que só deveremos cumprir as exigências do Estado se estiverem previstas na lei.
 - Conforme o Princípio da Impessoalidade, a liquidação do débitos da Administração, têm de respeitar a ordem cronológica de apresentação dos precatórios para evitar privilégios. Se for quebrada a ordem pode gerar sequestro de verbas públicas, crime de responsabilidade e intervenção federal.
 - Conforme o Princípio da Moralidade a Ação Civil Pública, assim como a Ação Popular, só pode ser promovida por pessoa física que esteja no pleno exercício dos direitos políticos.
 - A investidura em cargo ou emprego público não depende de aprovação prévia em concurso público de provas ou provas e títulos, de acordo com a natureza e a complexidade do cargo ou emprego, na forma prevista em lei, ressalvadas as nomeações para cargo em comissão declarado em lei de livre nomeação e exoneração.
- A sequência correta é:
- V, V, V, F.
 - V, F, F, V.
 - F, V, V, F.
 - V, V, F, F.
23. Arquivo é o conjunto de documentos oficialmente produzidos e recebidos por um governo, organização ou firma no decorrer de suas atividades, arquivados e conservados por si e seus sucessores, para efeitos futuros. Quando levamos em conta o tempo de existência de um arquivo, ele pode pertencer um dos três estágios, arquivo de primeira idade ou corrente, arquivo de segunda idade ou intermediário ou arquivo de terceira idade ou permanente. Referente ao estágio intermediário identifique a alternativa abaixo que caracteriza esta fase:
- Nele se encontram os documentos que perderam o valor administrativo e cujo uso deixou de ser frequente, é esporádico.
 - É também conhecido como arquivo de movimento.
 - Nele contém a documentação mais atual e frequentemente consultada. Pode ser mantido em local de fácil acesso para facilitar a consulta.
 - São documentos que ainda podem ser consultados pelos órgãos que os produziram e os receberam se surgir uma situação idêntica àquela que os gerou.
24. O Parágrafo Único do Artigo 445 da CLT (Consolidação das Leis Trabalhistas) prevê que o contrato de experiência deverá ser de no máximo:
- 45 dias.
 - 50 dias.
 - 30 dias.
 - 90 dias.

25. Os fluxogramas dão suporte à análise dos processos e constituem um meio eficaz para o planejamento e a solução de problemas, na medida em que facilitam a visualização das etapas do processo e permitem a identificação de pontos merecedores de atenção especial por parte da equipe. Vários tipos de símbolos são adotados na construção de fluxograma que servem para substituir a descrição verbal. Eles tornam possível, por meio de uma rápida análise, uma visão geral da natureza e da extensão do processo. Quanto aos símbolos e seus significados, identifique a alternativa correta:

- a)  = documento  = atividade  = operação manual
- b)  = fluxo  = decisão  = conector
- c)  = decisão  = fluxo  = armazenamento
- d)  = ou  = somador  = mesclar

26. Referente à gestão de estoques, é **INCORRETO** afirmar:

- a) O controle de estoques é de suma importância para a empresa, sendo que controla-se os desperdícios, desvios, apura-se valores para fins de análise, bem como apura o demasiado investimento, o qual prejudica o capital de giro.
- b) O enfoque fundamental da administração de materiais é determinar o quê, quanto e como adquirir ao menor custo para repor o estoque.
- c) A administração do controle de estoques deve maximizar o capital total investidos em estoques, pois ele é caro e aumenta continuamente, uma vez que o custo financeiro também se eleva.
- d) Administrar materiais é ter os materiais necessários, na quantidade, local e tempo certos, à disposição dos órgãos de produção da empresa.

27. O planejamento pode ser estratégico, tático ou operacional. Com relação a isso, analise as opções a seguir e assinale a que estiver correta:

- a) O processo de planejamento estratégico é complexo e dinâmico e, por isso, deve ser submetido a análises contínuas, a fim de se acompanhar a evolução das inúmeras variáveis que o balizam.
- b) O planejamento tático deve ser elaborado pelos gerentes de áreas e ter como referência o planejamento operacional.
- c) Em organizações com poder centralizado, o planejamento tático é feito para longos prazos, geralmente de três a cinco anos.
- d) O planejamento estratégico é feito para curto prazo e trata, prioritariamente, das ações relacionadas à execução das tarefas cotidianas.

28. Referente à Lei nº 10.520/02 é **INCORRETO** afirmar:

- a) É vedada a exigência de aquisição do edital pelos licitantes, como condição para participação no certame.
- b) A equipe de apoio deverá ser integrada em sua maioria por servidores ocupantes de cargo efetivo ou emprego da administração, preferencialmente pertencentes ao quadro permanente do órgão ou entidade promotora do evento.
- c) O prazo fixado para apresentação das propostas, contado a partir da publicação do aviso, não será superior a 8 (oito) dias úteis.
- d) O prazo de validade das propostas será de 60 (sessenta) dias, se outro não estiver fixado no edital.

29. Compete a Comissão de Legislação, Justiça e Redação da Câmara Municipal de Biguaçu:

- a) Manifestar-se sobre o mérito das proposições referentes a contratos, ajustes, convênios e consórcios.
- b) Zelar para que, em nenhuma lei emanada da Câmara sejam criados encargos ao erário municipal, sem que se especifiquem os recursos.
- c) Apresentar, no início de cada legislatura, Projeto de Lei, fixando os subsídios e representação do Prefeito e do Vice-Prefeito.
- d) Emitir parecer sobre os processos referentes à educação, ensino e artes, ao patrimônio histórico, ao esporte, à higiene, saúde pública e as obras assistenciais.

30. Quanto ao Estatuto dos Servidores Públicos do Município de Biguaçu, assinale "V" para as alternativas verdadeiras e "F" para as alternativas falsas.

- () A idade mínima de 18 (dezoito) anos é requisito básico para investidura em cargo público de caráter efetivo.
- () Iniciando o exercício de suas atividades, o servidor detentor de cargo de provimento efetivo fica obrigatoriamente sujeito a estágio probatório, de natureza teórica e prática, de 02 (dois) anos.
- () O servidor acidentado em serviço ou portador de moléstia profissional, devidamente atestado pela Junta Médica Funcional, fará jus a licença com vencimentos parciais.
- () Após cada período aquisitivo de 05 (cinco) anos de efetivo exercício, perante a Administração Municipal, o servidor efetivo e estável terá direito à concessão de Licença-Prêmio remunerada de 03 (três) meses.
- a) F, F, F, V.
- b) V, F, F, V.
- c) V, F, V, V.
- d) V, V, V, F.