

DADOS DE IDENTIFICAÇÃO DO CANDIDATO

Não deixe de preencher as informações a seguir:

PRÉDIO															SALA					

NOME																				

Nº DE IDENTIDADE								ÓRG. EXPED.				UF			Nº DE INSCRIÇÃO					

**INSTRUTOR(A) MONITOR(A) DE
INFORMÁTICA**

PORTUGUÊS

01. Observe o texto abaixo:

*"Temo a tua natureza; ela está demasiado cheia do leite da ternura."
(William Shakespeare)*

Sobre ele, assinale a alternativa CORRETA.

- A) O verbo sublinhado exige complemento regido de preposição.
 B) Nesse texto, o leitor é tratado na 2a. pessoa do singular. Caso fosse tratado na 2a. pessoa do plural, estaria correto o trecho:
 Temos a sua natureza.
 C) O autor cometeu um erro de concordância nominal. O correto seria: ela está demasiada cheia do leite da ternura.
 D) Se o termo "ela" estivesse no plural, estaria correto o trecho: Elas estão demasiados cheias do leite da ternura.
 E) Se o sujeito do verbo "temer" fosse "Eu e tua família", o correto seria: Eu e tua família tememos a tua natureza.

TEXTO 01 (questões 02 e 03)**O MEU RECIFE**

Temos a liberdade de nos manifestar, mas demonizar os outros nos santificando é algo ou ingênuo ou perverso. Claro que quero contribuir para o Recife melhorar e creio que o envolvimento de todas as parcelas da sociedade, sobretudo da camada menos favorecida, para a formação de um pacto de crescimento e desenvolvimento ordenado seja o único caminho. Enfrentar isso de forma objetiva é o nosso maior desafio, pois não nos reconhecemos como parte do mal, e a culpa sempre foi e ainda é do outro.

VALLE, Renato. *O meu Recife*. Jornal do Commercio. Opinião JC. Recife, 04 de julho de 2014. p.10.

02. Para o autor,

- A) a culpabilidade é sempre atribuída a terceiros, jamais a nós próprios.
 B) a manifestação é algo maléfico para a sociedade.
 C) é indiferente o fato de sua cidade progredir ou não.
 D) as manifestações devem congregiar apenas pessoas de alto poder aquisitivo.
 E) existem segmentos sociais incompetentes para reivindicarem algo.

03. Atente para o fragmento abaixo:

"mas demonizar os outros nos santificando é algo ou ingênuo ou perverso."

Sobre ele, está CORRETO o que se declara na alternativa

- A) O primeiro termo sublinhado expressa uma ideia contrária ao que foi declarado anteriormente. Poderia ser substituído por "logo", sem causar prejuízo ao sentido original.
 B) O termo "profícuo" obedece à mesma regra de acentuação do termo "ingênuo".
 C) Se substituíssemos "algo" por "coisas e fatos", estaria correto o trecho: são coisas e fatos ou ingênuas ou perversas.
 D) O segundo termo sublinhado é invariável, classificado como preposição.
 E) Poderia haver uma vírgula após o verbo "santificando", e isso não caracterizaria erro gramatical.

04. Sobre CRASE, observe os textos abaixo:

- I.** "Informamos à Compesa um buraco na calçada da Av. Visconde de Albuquerque."
II. "Combate a ligações clandestinas no Recife."
III. "Currículo nacional começa a ser revisto."
IV. "Há mais de quatro meses, um esgoto corre a céu aberto..."
V. "Ficamos expostos ao empurra-empurra e às pessoas que não respeitam as filas."

Abaixo, apenas uma das alternativas apresenta uma declaração CORRETA. Assinale-a.

- A) No item I, a crase é facultativa.
 B) No item II, se o termo sublinhado estivesse no plural, a crase seria obrigatória.
 C) No item III, existe a presença da preposição e do artigo.
 D) No item IV, existe a presença, apenas, do artigo, razão por que não existe a crase.
 E) No item V, deveria também haver crase em "respeitam às filas".

05. Sobre os SINAIS DE PONTUAÇÃO, observe os itens abaixo:

- I. "Calma, gente".
 II. "Que mundo é este que chorar não é "normal"?"
 III. "Sustentabilidade, paradigma de vida"
 IV. "Será que precisa de mais licitações? Haja licitações!"
 V. "E, de repente, aquela rua se tornou um grande lago..."

Sobre eles, assinale a alternativa CORRETA.

- A) No item I, a vírgula isola um aposto.
 B) No item II, a interrogação indica uma mensagem interrompida.
 C) No item III, a vírgula isola termos que explicam o seu antecedente.
 D) No item IV, os dois sinais de pontuação, a interrogação e a exclamação, indicam surpresa.
 E) No item V, as vírgulas poderiam ser substituídas, apenas, por um ponto e vírgula após o termo "repente".

TEXTO 02 (questões de 06 a 08)**FUJA DO "BRANCO" NO CONCURSO**

Esforço, preparo, dedicação e estudo intenso são elementos que podem ser considerados a fórmula infalível de aprovação para o candidato que pretende enfrentar uma seleção pública. Mas o que fazer quando o conteúdo não é lembrado justamente na hora da prova? O conhecido "branco", problema que acomete muitos candidatos, não é tido como um simples imprevisto. Ele pode acontecer por influência de fatores diversos que ocorrem antes ou durante o exame.

Jornal do Commercio. *Emprego e Concurso*. 07 de julho de 2014. p.10.

06. Sobre o "branco" na hora da prova, tem-se como CORRETO que

- A) atinge, sobremodo, pessoas portadoras de problemas de memória.
 B) é algo que atinge uma fatia irrisória de candidatos.
 C) resulta, apenas, de problemas que antecederam o exame.
 D) não é concebido como algo que surge inesperadamente.
 E) atinge, apenas, candidatos portadores de distúrbios psicóticos.

07. Sobre ACENTUAÇÃO, assinale a alternativa cuja tonicidade de ambos os termos sublinhados recai na antepenúltima sílaba.

- A) "Ele pode acontecer por influência de fatores diversos..." - "infalível de aprovação para o candidato..."
 B) "...que podem ser considerados a fórmula infalível..." - "que pretende enfrentar uma seleção pública."
 C) "...quando o conteúdo não é lembrado justamente..." - "Ele pode acontecer por influência de fatores diversos..."
 D) "Esforço, preparo, dedicação e estudo intenso..." - "pretende enfrentar uma seleção pública."
 E) "...quando o conteúdo não é lembrado..." - "pode acontecer por influência de fatores diversos..."

08. Observe o fragmento de texto abaixo:

"Mas o que fazer quando o conteúdo não é lembrado justamente na hora da prova?"

Sobre ele, analise as afirmativas abaixo:

- I. O termo "Mas" é classificado como conjunção subordinativa e, nesse contexto, pode ser substituído por "desde que".
 II. Classifica-se o termo "quando" como conjunção subordinativa que exprime circunstância temporal.
 III. Acentua-se o "u" tônico do hiato existente na palavra "conteúdo".
 IV. "Os termos "conteúdo", "hora" e "prova" são palavras invariáveis, classificadas como substantivos.

Está CORRETO apenas o que se afirma em

- A) I e III.
 B) II e IV.
 C) I e IV.
 D) II e III.
 E) I e II.

TEXTO 03 (questões 09 e 10)

"Já vi gente cansada de amor, de trabalho, de política, de ideais. Jamais conheci alguém sinceramente cansado de dinheiro."
 (Millôr Fernandes)

09. Sobre as vírgulas existentes no texto, é CORRETO afirmar que

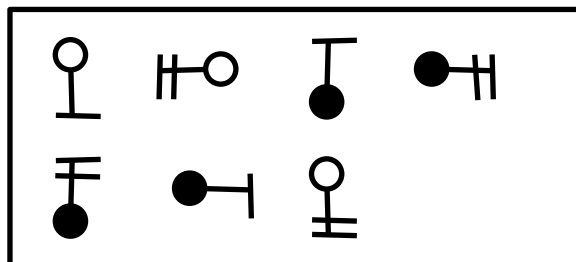
- A) são facultativas.
- B) isolam apostos.
- C) separam elementos de mesma função sintática.
- D) a terceira é facultativa.
- E) separam orações coordenadas assindéticas.

10. Se no texto, o verbo fosse conjugado na 2a. pessoa do singular (mantendo-se o mesmo tempo verbal) e o termo "gente" fosse substituído por "mulheres e homens", estaria CORRETO o texto indicado na alternativa

- A) Já viste mulheres e homens cansados de amor, de trabalho, de política, de ideais. Jamais conheceste alguém sinceramente cansado de dinheiro.
- B) Já vistes mulheres e homens cansadas de amor, de trabalho, de política, de ideais. Jamais conhecestes alguém sinceramente cansado de dinheiro.
- C) Já vereis mulheres e homens cansados de amor, de trabalho, de política, de ideais. Jamais conhecereis alguém sinceramente cansado de dinheiro.
- D) Já véis mulheres e homens cansadas de amor, de trabalho, de política, de ideais. Jamais conhecéis alguém sinceramente cansado de dinheiro.
- E) Já vedes mulheres e homens cansados de amor, de trabalho, de política, de ideais. Jamais conheceis alguém sinceramente cansado de dinheiro.

RACIOCÍNIO LÓGICO

11. Qual alternativa completa CORRETAMENTE a sequência?



- A)
- B)
- C)
- D)
- E)

12. Qual alternativa apresenta o próximo número da sequência: 7 3 13 4 21 5 ?

- A) 26
- B) 31
- C) 46
- D) 51
- E) 105

13. Uma Secretaria possui 210 funcionários, composta de apoio, técnicos e fiscais. Sabendo-se que o número de funcionários de apoio é $\frac{1}{4}$ da quantidade de técnicos e que os fiscais totalizam $\frac{2}{3}$ dos funcionários, quantos são os técnicos?

- A) 140
- B) 90
- C) 70
- D) 56
- E) 14

14. Em uma pesquisa, um canal de esportes verificou que 300 pessoas assistiam a jogos de futebol, 150, a corridas de Fórmula 1, 60, a ambos os esportes, e 180 não assistiam nem a futebol nem à Fórmula 1. Quantas pessoas foram pesquisadas, quantas pessoas assistem, exclusivamente, a futebol e quantas assistem, exclusivamente, à Fórmula 1, respectivamente?

- A) 390 / 300 / 180
- B) 500 / 300 / 180
- C) 560 / 300 / 90
- D) 570 / 240 / 90
- E) 600 / 240 / 90

15. Em uma pesquisa sobre hábito de leitura, os resultados obtidos foram os seguintes:

Leitura	Número de leitores
Livro	210
Revista	270
Jornal	350
Livro e revista	105
Livro e jornal	78
Revista e jornal	77
Livro, revista e jornal	60
Nenhum	150

Quantos pesquisados fazem apenas 2 tipos de leitura?

- A) 60
- B) 80
- C) 140
- D) 200
- E) 320

16. Um médico receitou a seu paciente 3 medicamentos: um deve ser tomado de 12 em 12 horas, o outro, a cada 8 horas, e o último é para ser tomado de 6 em 6 horas. Os três medicamentos serão ingeridos juntos, às 6 horas da manhã do dia 11 de agosto, devendo o paciente voltar a tomar os remédios juntos novamente, no dia

- A) 11 de agosto, às 12 horas.
- B) 11 de agosto, às 18 horas.
- C) 12 de agosto, às 6 horas.
- D) 13 de agosto, às 12 horas.
- E) 14 de agosto, às 6 horas.

17. De quantas maneiras distintas, 4 pessoas podem se sentar ao redor de uma mesa quadrada?

- A) 4
- B) 6
- C) 10
- D) 12
- E) 16

18. Está sendo montado um painel com dimensões de 3,3m por 1m que deve ser completamente preenchido com placas luminosas coloridas, de 15cm por 5cm. A quantidade de placas para preencher o painel é

- A) 220.
- B) 330.
- C) 440.
- D) 550.
- E) 660.

19. Atualmente, 12 times participam do Campeonato Pernambucano de Futebol. De quantas formas diferentes, pode ser a classificação dos 3 primeiros lugares?

- A) 1320
- B) 1600
- C) 3200
- D) 4060
- E) 4770

20. As notas obtidas pelos 10 alunos do curso de digitação foram as seguintes:

7,0	9,0	5,0	6,0	8,0	7,0	9,0	8,0	6,0	8,0
-----	-----	-----	-----	-----	-----	-----	-----	-----	-----

Escolhendo-se, aleatoriamente, um aluno do curso, a probabilidade de sua idade ser maior que a média aritmética é

- A) 30%.
- B) 40%.
- C) 50%.
- D) 60%.
- E) 70%.

CONHECIMENTOS ESPECÍFICOS

21. Considerando a programação em HTML, assinale a alternativa CORRETA.

- A) Alguns caracteres têm um significado especial na HTML. Por exemplo, para se exibir um sinal de menor que (<), deve-se usar o sinal entre aspas (“<”).
- B) Na tag <body>, o atributo bgcolor configura o plano de fundo em uma cor. O valor desse atributo pode ser um número hexadecimal, um valor RGB ou um nome de cor.
- C) Se uma moldura tem bordas visíveis, adicionar noresize="noresize" à tag <frame> permite que o usuário redimensione a moldura arrastando a borda.
- D) Os cabeçalhos em uma tabela são definidos com a tag <hd>.
- E) Na tag <a>, usada para criar um vínculo com outro documento, o atributo hlink é usado para indicar para onde endereçar o documento.

22. Observe o trecho escrito em código HTML.

```
<ul>
<li>Instrutor</li>
<li>Monitor</li>
</ul>
```

Ao executar esse código, será exibido:

- A)
 - Instrutor
 - Monitor
- B)
 1. Instrutor
 2. Monitor
- C) Instrutor
Monitor
- D)
 1. Instrutor
 - Monitor
- E)
 - Instrutor
 - Monitor

23. Acerca do Windows 7, assinale a alternativa INCORRETA.

- A) Todos os dispositivos de hardware precisam de drivers de 64 bits para funcionar em uma versão de 64 bits do Windows 7.
- B) O Windows 7 foi projetado para monitores que usam uma resolução de tela mínima de 800 x 600 pixels.
- C) A formatação de uma unidade durante a instalação do Windows 7 exclui, permanentemente, todos os programas, configurações e arquivos.
- D) A formatação do disco rígido é necessária durante a instalação personalizada, quando inicializado o computador usando o disco de instalação do Windows 7 ou um pen drive USB,.
- E) Em um Tablet PC ou outro computador com tela de toque, poderá ser necessário conectar um teclado e um mouse para usar o Reparo de Inicialização e outras ferramentas no menu de Opções de Recuperação do Sistema.

24. _____ foi projetado para ajudar quando a memória do PC for insuficiente. Funciona com a maioria dos dispositivos de armazenamento flash. No Windows 7, pode tratar mais memória flash e, até mesmo, vários dispositivos – até oito e obter um máximo de 256 GB (gigabytes) de memória adicional.

Assinale a alternativa cujo(s) termo(s) preenche(m) CORRETAMENTE a lacuna do texto acima.

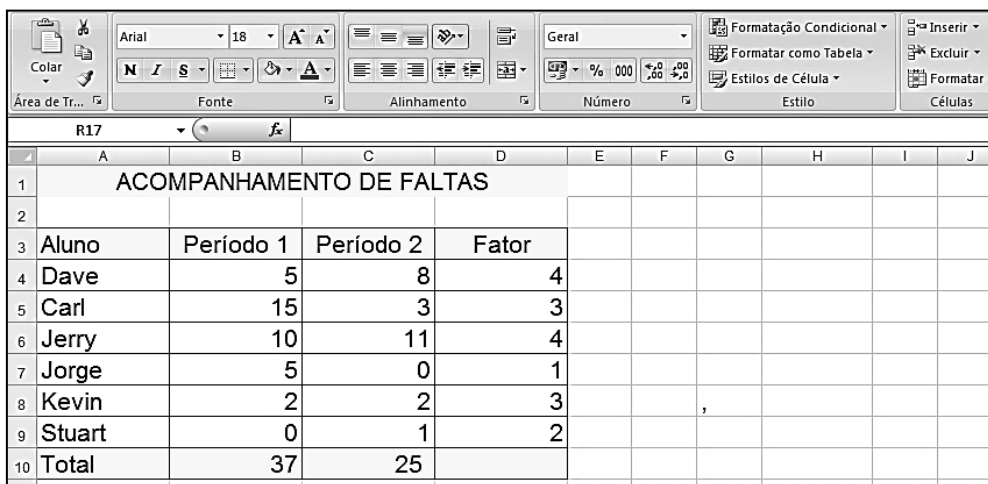
- A) Aero Peek
- B) Aero Shake
- C) Compartilhamento
- D) Defender
- E) ReadyBoost

25. Qual comando pode ser usado para conhecer a quantidade de parágrafos enquanto se digita um documento no MS Word 2007?

- A) Painel de Revisão
- B) Mostrar Marcações
- C) Estrutura de tópicos
- D) Conta Palavras
- E) Conta Parágrafos






26. No MS Word 2007, NÃO é possível criar gráficos do tipo

- A) Ações.
- B) Dispersão.
- C) Modelo.
- D) Radar.
- E) Superfície.



	A	B	C	D	E	F	G	H	I	J
1	ACOMPANHAMENTO DE FALTAS									
2										
3	Aluno	Período 1	Período 2	Fator						
4	Dave	5	8	4						
5	Carl	15	3	3						
6	Jerry	10	11	4						
7	Jorge	5	0	1						
8	Kevin	2	2	3						
9	Stuart	0	1	2						
10	Total	37	25							

27. Com relação ao trecho da planilha do Excel 2007 mostrada na figura acima, ao se clicar a célula C10 e, em seguida, o botão

- A) , o conteúdo será alterado para 2500%.
- B) , o conteúdo da célula será alterado para 25,0.
- C) , o conteúdo da célula será alterado para 25,00.
- D) , o conteúdo da célula será apresentado em um ângulo diagonal.
- E) , o conteúdo terá a cor de fundo alterada.

28. Ainda com relação ao trecho da planilha do Excel 2007, mostrada na figura acima, a célula D10 contém a fórmula $=D4+D5/D9-D6*D7^D8$. Então o valor da célula D10 será

- A) -60,5
 B) -3,5
 C) -0,5
 D) 1,5
 E) 3,37

29. A respeito de Java, assinale a alternativa INCORRETA.

- A) Toda classe é uma subclasse direta ou indireta da classe Object.
 B) JCA (Java Connector Architecture) é uma API, que padroniza a ligação a aplicações legadas.
 C) Quando contidos num arquivo fonte Java, os três elementos básicos devem obrigatoriamente se apresentar na seguinte ordem: package, import e class.
 D) Boolean, byte, char, date, float, int, long e short são os 8 tipos primitivos em Java.
 E) Na linguagem de programação Java, os operadores com maior precedência são os pós-fixos.

30. Considerando periféricos, assinale V para as afirmativas Verdadeiras e F para as Falsas.

- () A tela de touch screen é um periférico de entrada e saída.
 () No mouse, o botão da direita pode ser usado para funções básicas, como selecionar e arrastar.
 () No teclado, quando pressionadas juntas a tecla SHIFT e a letra a, aparecerá um A (a maiúsculo).
 () O scanner é um periférico, apenas, de entrada.

Assinale a alternativa que contém a sequência CORRETA.

- A) F-V-V-V B) V-F-V-V C) V-V-F-V D) V-V-V-F E) F-V-V-F

31. A tecla que, quando acionada, permite escrever algo por cima de um texto, sem que o texto seja arrastado, substituindo-o à medida que escreve, é a

- A) BACKSPACE.
- B) END.
- C) HOME.
- D) INSERT.
- E) PAUSE.

32. Em *data centers* espalhados pelo mundo, a Google processa, diariamente, vinte petabytes de dados gerados por usuários (<http://veja.abril.com.br/blog/ricardo-setti/tag/google/04/02/2013>). Um petabyte equivale a

- A) 1000 *terabytes* ou 10^{10} bytes.
- B) 1024 *terabytes* ou 10^{15} bytes.
- C) 1000 *terabytes* ou 10^{15} bytes.
- D) 1024 *gigabytes* ou 10^{10} bytes.
- E) 1000 *gigabytes* ou 10^9 bytes.

33. Assinale a alternativa que se aplica ao processo de ensino e aprendizagem, considerado por Paulo Freire como prática de uma educação 'bancária'.

- A) O(A) educador(a) cumpre rigorosamente o dever de realizar sua tarefa docente, reconhecendo no(a) educando(a) um ser ativo e coautor do processo educativo.
- B) O(A) educador(a) elabora diferentes estratégias didáticas para beneficiar apenas o(a) educando(a) que esteja com o tempo pedagógico diferente do resto da turma.
- C) Atividades em grupos, seminários e pesquisas são estratégias didáticas utilizadas frequentemente como práticas avaliativas.
- D) Os(As) educadores(as) ministram aulas expositivas para fixar o conteúdo.
- E) Os professores estimulam a formação de grupos de estudos para favorecer os diferentes tempos pedagógicos, característica de turmas heterogêneas.

34. Uma aprendizagem significativa está relacionada à opção metodológica do(a) educador(a). Sobre o tema, leia, com atenção, as afirmativas abaixo e assinale V para as Verdadeiras e F para as Falsas.

- () O uso indiscriminado de recursos audiovisuais não favorece a aprendizagem.
- () É incoerente com o perfil do(a) educador(a) progressista a opção por uma metodologia que reconheça a diversidade e os diferentes saberes dos(as) educandos(as).
- () O saber prévio do(a) educando(a) influencia na construção de um novo conhecimento.

Assinale a alternativa que apresenta a ordem CORRETA.

- A) V-V-V
- B) F-V-V
- C) V-V-F
- D) V-F-V
- E) F-F-F

35. Sobre o ato de ENSINAR, é CORRETO afirmar que

- A) ensinar é garantir a transmissão, sem intervenções subjetivas, de um conhecimento previamente construído.
- B) segundo a concepção 'bancária' de Paulo Freire, ensinar é depositar um conhecimento que será 'arquivado' pelo(a) educando(a) sem questionamentos.
- C) ensinar é manter um rigor metodológico e o autoritarismo, condições necessárias à prática docente.
- D) ensinar exige dom.
- E) ensinar é função exclusiva do(a) educador(a).

36. Considerando, a partir das ideias do educador Paulo Freire, que ensinar é criar possibilidade para a produção do conhecimento, assinale a alternativa CORRETA.

- A) O(A) educador(a) e o(a) educando(a) se submetem, inquestionavelmente, às diretrizes educacionais previamente estabelecidas.
- B) Com autoridade, mas sem autoritarismo, o(a) educador(a) transmite o conhecimento de forma eficaz.
- C) Problematizar o objeto de conhecimento é estratégia metodológica coerente com a prática do(a) educador(a) democrático(a).
- D) Saber escolher as melhores técnicas e estratégias didáticas garantem o aprendizado do(a) educando(a).
- E) O rigor metodológico deverá ser perseguido pelo(a) educador(a) preocupado(a) com a transmissão eficiente do conteúdo programático.

37. Sobre o tema da avaliação da aprendizagem, é INCORRETO afirmar que a(o)

- A) comunidade escolar deve estar comprometida com o sucesso da aprendizagem de todos(as) os(as) educandos(as).
- B) escolha dos instrumentos de avaliação da aprendizagem está relacionada aos objetivos propostos no planejamento educacional.
- C) escolha dos instrumentos da avaliação reflete a concepção de educação do(a) educador(a).
- D) erro deve ser considerado como oportunidade de novas aprendizagens.
- E) quantidade de conteúdos deve estar relacionada à quantidade de instrumentos de avaliação de aprendizagem.

38. O ato de avaliar não deve ocorrer apenas em determinado momento e, sim, continuamente, durante o todo o processo educativo. A partir dessa perspectiva, assinale a alternativa INCORRETA.

- A) O portfólio é um instrumento que favorece a autoavaliação.
- B) Os instrumentos de avaliação da aprendizagem devem manter a coerência com o perfil pedagógico dos(as) educandos(as).
- C) Diagnosticar o nível de conhecimento no início do processo direciona significativamente o percurso pedagógico.
- D) O(A) educador(a) utiliza, com muita frequência, práticas avaliativas que valorizam a aprendizagem do(a) educando(a).
- E) Avaliar a aprendizagem não é medir o nível de conhecimento.

39. Um conjunto de atividades organizadas de forma estruturada e relacionadas com objetivos educacionais, que obedecem a princípios antes definidos e conhecidos pelos sujeitos envolvidos no processo, é chamado de *sequência didática*. Sobre o tema, é INCORRETO afirmar que

- A) Educador(a) e educando(a) são sujeitos autores do processo de ensino e aprendizagem.
- B) A autonomia do(a) educando(a) é estimulada quando ele(ela) participa do fazer pedagógico.
- C) A autonomia do(a) educando(a) é estimulada quando ele(ela) é responsável pelo fazer pedagógico.
- D) O(A) educando(a) participa da definição da prática avaliativa vivenciada no processo de ensino e aprendizagem.
- E) A pesquisa é um elemento presente na elaboração das sequências didáticas.

40. A relação entre educador(a) e educando(a), quando não está baseada no respeito, confiança e ética, possibilita

1. relacionamentos hierarquizados e posturas autoritaristas.
2. o desenvolvimento da criticidade do(a) educando(a).
3. clima harmonioso.
4. o reconhecimento pelo saber do(a) educando(a).

Assinale

- A) se 1, 2 e 3 estiverem incorretas.
- B) se 1 e 2 estiverem incorretas.
- C) se 1, 2 e 3 estiverem corretas.
- D) se 1 e 3 estiverem corretas.
- E) se 1 estiver correta.



ATENÇÃO

- *Abra este Caderno, quando o Fiscal de Sala autorizar o início da Prova.*
- *Observe se o Caderno está completo. Ele deverá conter 40 (quarenta) questões objetivas do tipo múltipla escolha com 05 (cinco) alternativas cada, sendo 10 (dez) de Português, 10 (dez) de Raciocínio Lógico e 20 (vinte) de Conhecimentos Específicos.*
- *Se o Caderno estiver incompleto ou com algum defeito gráfico que lhe cause dúvidas, informe, imediatamente, ao Fiscal.*
- *Ao receber o Caderno de Prova, preencha, nos espaços apropriados, o seu Nome completo, o Número do seu Documento de Identidade, a Unidade da Federação e o Número de Inscrição.*
- *Para registrar as alternativas escolhidas, você receberá um Cartão-Resposta de Leitura Ótica. Verifique se o Número de Inscrição impresso no Cartão coincide com o seu.*
- *As bolhas do Cartão-Resposta devem ser preenchidas totalmente, com caneta esferográfica azul ou preta.*
- *O tempo destinado à Prova está dosado, de modo a permitir fazê-la com tranquilidade.*
- *Preenchido o Cartão-Resposta, entregue-o ao Fiscal e deixe a sala em silêncio.*

BOA SORTE!

