

ADVOCACIA-GERAL DA UNIÃO

CONCURSO PÚBLICO Nº 1/2014



Técnico em Contabilidade

TARDE

CARGO: TÉCNICO EM CONTABILIDADE

Texto para responder às questões de 01 a 11.

50 anos depois

[...] No cinquentenário da República, ninguém questionava a quartelada que derrubou o Império em 1889. Nos 50 anos do Estado Novo, poucos deram atenção ao período que transformou a economia e a sociedade brasileiras. Pois hoje, dia 31 de março de 2014, 50 anos depois do golpe militar, o Brasil é tomado de debates inflamados e de um surto incomum de memória histórica. [...]

Houve avanços em quase todas essas áreas. Estabilizamos a moeda, distribuimos renda, pusemos as crianças na escola. As conquistas não são poucas, vieram aos poucos e estão longe de terminadas. Todas elas são fruto do ambiente livre, em que diferentes ideias podem ser debatidas e testadas. Todas são fruto, numa palavra, da democracia.

Eis a principal diferença entre os dois Brasis, separados por 50 anos: em 1964 havia, à direita e à esquerda, ceticismo em relação à democracia; hoje, não mais. Se há pensamento autoritário no país, ele é minoritário. Nossas instituições democráticas deram prova de vitalidade ao promover o *impeachment* de um presidente, a condenação de corruptos poderosos no caso do mensalão e ao manter ampla liberdade de opinião e de expressão. A cada eleição, o brasileiro gosta mais da democracia.

Nada disso significa, porém, que possamos considerá-la uma conquista perene e consolidada. Democracias jovens, como Venezuela, Argentina ou Rússia, estão aí para mostrar como o espectro do autoritarismo pode abalar os regimes de liberdade. A luta pela democracia e pelas liberdades individuais precisa ser constante, consistente e sem margem para hesitação.

(*Helio Gurovitz. Época, 31 de março de 2014. Adaptado.*)

01

De acordo com a estrutura e os recursos utilizados no texto na construção das ideias, é correto afirmar que se trata de um texto, predominantemente,

- A) apelativo. B) instrutivo. C) expositivo. D) informativo. E) argumentativo.

02

Considerando as ideias e informações apresentadas no texto, marque V para as afirmativas verdadeiras e F para as falsas.

- () 50 anos após o golpe militar de 1964, há uma divisão quanto às manifestações referentes a tal evento: de um lado, um grupo está desinformado e apático; de outro, há euforia e debates entusiasmados.
- () Conquistas, como estabilidade da moeda e distribuição de renda, são alvos a serem alcançados em um futuro próximo.
- () A coexistência de diferentes pensamentos é responsável pela promoção de avanços de grande importância no cenário nacional.

A sequência está correta em

- A) F, F, F. B) V, V, F. C) V, F, V. D) F, F, V. E) V, V, V.

03

De acordo com o contexto, a expressão “surto incomum de memória histórica” produz um sentido que indica

- A) que a história de uma nação é a única responsável por seu avanço no presente e, também, no futuro.
- B) a importância atribuída aos fatos relacionados ao evento em questão no texto, diretamente ligados ao golpe de 1964.
- C) a grande importância da memória histórica brasileira, cultivada em todos os aspectos pelos vários segmentos da sociedade.
- D) um posicionamento negativo por parte do articulista em relação à reação por ocasião da data mencionada “31 de março de 2014”.
- E) um posicionamento negativo por parte da sociedade mediante os fatos correspondentes à data mencionada anteriormente no texto.

04

O termo “se” pode apresentar significados e efeitos de sentido diversos de acordo com a construção em que está inserido. Em “Se há pensamento autoritário no país, ele é minoritário.”, o efeito produzido revela

- A) dúvida. B) condição. C) comparação. D) determinação. E) conformidade.

05

Dentre os termos destacados a seguir, identifique o que possui função sintática DIFERENTE dos demais.

- A) “Nada disso significa, [...]” (4º§)
- B) “[...] poucos deram atenção ao período [...]” (1º§)
- C) “Houve avanços em quase todas essas áreas.” (2º§)
- D) “[...] o espectro do autoritarismo pode abalar os regimes de liberdade.” (4º§)
- E) “No cinquentenário da República, ninguém questionava a quartelada [...]” (1º§)

06

As relações de coesão textual contribuem para que a compreensão de um texto possa ser plena. Dentre os elementos utilizados com tal objetivo estão os pronomes relativos, destacados a seguir, que exerce(m) tal função apenas

- I. “[...] a quartelada que derrubou o Império em 1889.” (1º§)
- II. “[...] em que diferentes ideias podem ser debatidas e testadas.” (2º§)
- III. “[...] período que transformou a economia e a sociedade brasileiras.” (1º§)
- IV. “[...] que possamos considerá-la uma conquista perene e consolidada.” (4º§)

Estão corretas apenas as afirmativas

- A) I e II.
- B) I e III.
- C) III e IV.
- D) I, II e III.
- E) II, III e IV.

07

Pode-se afirmar que o autor encerra o 2º§ transcrito com a oração “*Todas são fruto, numa palavra, da democracia.*” em que pode ser identificado(a) um(a)

- A) afirmação através de um conceito.
- B) citação de autoridade como recurso argumentativo.
- C) afirmação associada ao desenvolvimento de uma ideia.
- D) conceito objetivo e claro através de uma exemplificação.
- E) determinado ponto de vista que será desenvolvido no texto.

08

Em “*Eis a principal diferença entre os dois Brasis, separados por 50 anos: em 1964 havia, à direita e à esquerda, ceticismo em relação à democracia; hoje, não mais.*”, quanto à utilização do sinal de dois pontos, é correto afirmar que

- A) indica uma enumeração.
- B) indica a separação de um paralelismo.
- C) introduz um trecho de aspecto reflexivo.
- D) tal sinal de pontuação pode ser omitido sem que haja qualquer tipo de prejuízo.
- E) introduz um trecho de caráter explicativo que se liga diretamente à ideia anteriormente enunciada.

09

Acerca da utilização do acento grave em “*à direita*”, “*à esquerda*” e “*à democracia*” no trecho “[...] em 1964 havia, à direita e à esquerda, ceticismo em relação à democracia; hoje, não mais.”, analise.

- I. As três ocorrências do acento grave justificam-se pelo mesmo motivo.
- II. As ocorrências do acento grave em “*à direita*” e “*à esquerda*” justificam-se por motivos diferentes.
- III. Substituindo “em relação” por “relacionado”, permanece o uso do acento grave em “*à democracia*”.
- IV. Em “*à democracia*”, o uso do acento grave justifica-se mediante a exigência do termo regente associada à presença do artigo feminino diante do termo regido.

Está(ão) correta(s) apenas a(s) afirmativa(s)

- A) II.
- B) IV.
- C) I e II.
- D) III e IV.
- E) I, II e III.

10

Os vocábulos “*cinquentenário*” e “*império*” são acentuados devido à mesma justificativa. O mesmo ocorre com o par de palavras apresentado em

- A) prêmio e órbita.
- B) rápida e tráfego.
- C) satélite e ministério.
- D) pública e experiência.
- E) sexagenário e próximo.

11

Para que o significado original do texto seja preservado, assim como a correção gramatical, a alteração proposta para o trecho *“Nada disso significa, porém, que possamos considerá-la uma conquista perene e consolidada.”* está corretamente indicada em:

- A) Nada disso significa de que a possamos considerar uma conquista perene e consolidada.
- B) Nada disso significa, ainda, que se possa considerar uma conquista perene e consolidada.
- C) Nada disso significa, contudo, que possamos considerá-la uma conquista perene e consolidada.
- D) Porém, nada disso significa, que lhe possamos considerar uma conquista perene e consolidada.
- E) Quando nada disso significa a possibilidade de considerá-la uma conquista perene e consolidada.

Texto para responder às questões 12 e 13.



JORNAL DO BRASIL

Rio de Janeiro — Sábado, 22 de junho de 1968

Ano LXXVIII — N.º 63

O ASFALTO SELVAGEM



Durante a troca de pedras e tiros entre estudantes e policiais, duas pessoas correm feridas, na esquina da Avenida Rio Branco com a Rua Sete de Setembro e uma delas ficou estirada

Luta domina Rio e estudantes vão continuar

(Jornal do Brasil, 22 de junho de 1968.)

12

A notícia é um gênero textual cujo objetivo principal é informar o leitor acerca da realidade. A respeito da manchete apresentada na primeira página do jornal de 1968, é correto afirmar que

- A) o uso da conjunção “e” indica uma explicação para o fato anteriormente citado.
- B) de acordo com a construção feita, a ênfase é dada à luta que acontecia no Rio de Janeiro.
- C) sua substituição por *“Rio é dominado por luta e estudantes irão continuar”* mantém a mesma intenção discursiva original.
- D) o tempo verbal escolhido, presente através da escolha da forma verbal *“domina”*, indica uma intensificação da luta que acontecia.
- E) a expressão *“vão continuar”* é inapropriada, nos dias de hoje, ao contexto comunicativo do jornal por se tratar de uma linguagem informal.

13

Ainda acerca da manchete *“Luta domina Rio e estudantes vão continuar”*, é correto afirmar que sua estrutura é composta por

- A) três orações, sendo uma principal e duas subordinadas.
- B) duas orações coordenadas em que o conetivo expresso exprime adição.
- C) uma oração principal e uma subordinada, cujo conetivo expressa acréscimo.
- D) uma oração principal e uma subordinada, cujo conetivo expressa conclusão.
- E) duas orações coordenadas em que o conetivo expresso exprime uma explicação.

14

“No caso da redação oficial, quem comunica é sempre o Serviço Público (este ou aquele Ministério, Secretaria, Departamento, Divisão, Serviço, Seção); o que se comunica é sempre algum assunto _____; o destinatário dessa comunicação ou é o público, o conjunto dos cidadãos, ou outro órgão público, do Executivo ou dos outros Poderes da União.”

(Manual de Redação da Presidência da República.)

Assinale a alternativa que completa corretamente a afirmativa anterior

- A) relativo às atribuições do órgão que comunica
- B) relativo às atribuições do órgão com que se comunica
- C) de prioridade máxima para o destinatário determinado
- D) de aspecto urgente ou de extrema urgência para o órgão que comunica
- E) referente às atribuições do órgão que comunica ou do órgão com que se comunica

15

Considerando que o texto oficial deve ter como qualidade básica a clareza, relacione adequadamente as características que atuam para este fim aos respectivos propósitos.

- 1. Concisão. () Evita a duplicidade de interpretações que poderia decorrer de um tratamento personalista dado ao texto.
- 2. Impessoalidade. () De entendimento geral e por definição avesso a vocábulos de circulação restrita, como a gíria e o jargão.
- 3. Formalidade e padronização. () Possibilita a imprescindível uniformidade dos textos.
- 4. Uso do padrão culto de linguagem. () Faz desaparecer do texto os excessos linguísticos que nada lhe acrescentam.

A sequência está correta em

- A) 2, 4, 3, 1.
- B) 1, 2, 3, 4.
- C) 4, 3, 2, 1.
- D) 2, 3, 4, 1.
- E) 1, 4, 3, 2.

RACIOCÍNIO LÓGICO

16

Um dado não viciado é lançado. A probabilidade de que apareça na face voltada para cima o número 3, dado que tal número é ímpar, é

- A) $\frac{1}{3}$.
- B) $\frac{2}{3}$.
- C) $\frac{1}{5}$.
- D) $\frac{1}{6}$.
- E) $\frac{5}{6}$.

17

Uma empresa adotou o nome fantasia de BRASUCA. Seus funcionários, para terem acesso às dependências da empresa, recebem uma senha formada a partir da palavra BRASUCA, ou seja, cada senha é formada por todas as letras da palavra BRASUCA. Dessa forma, quantas senhas podem ser formadas, se cada senha deve iniciar com a letra B?

- A) 360.
- B) 720.
- C) 1.440.
- D) 2.520.
- E) 5.040.

18

Uma sala de aula de determinada escola tem 30 alunos, entre eles, Regina e Pedro. Serão formadas comissões de 3 alunos para representar a turma perante a coordenação da escola. A probabilidade de que Regina faça parte dessa comissão e Pedro não faça parte é

- A) 4,8%.
- B) 6,2%.
- C) 8%.
- D) 9,3%.
- E) 12%.

19

Se o dia 3 de fevereiro de 2012 foi uma sexta-feira, então o dia 17 de setembro do referido ano aconteceu em qual dia da semana?

- A) Terça-feira.
- B) Sexta-feira.
- C) Quarta-feira.
- D) Quinta-feira.
- E) Segunda-feira.

20

Observe a sequência:

49, 64, 81, 100,...

Qual será o sétimo termo?

- A) 144.
- B) 169.
- C) 196.
- D) 225.
- E) 256.

21

Observe a sequência numérica:

$$1; 1; \frac{5}{3}; \frac{2}{3}; \frac{7}{3}; \frac{4}{9}; 3; \frac{8}{27}; \frac{11}{3}$$

Estão escritos nove de seus termos. É correto afirmar que o produto entre o décimo e o décimo primeiro termo dessa sequência é

- A) 6. B) $\frac{81}{88}$. C) $\frac{88}{81}$. D) $\frac{208}{243}$. E) $\frac{243}{208}$.

22

Com os algarismos 0, 1, 2, 3, 4, 5, 6 e 7, quantos números pares de 4 algarismos poderão ser formados?

- A) 1.344. B) 1.568. C) 1.792. D) 2.048. E) 4.096.

23

Um pai deu a seu filho mais velho $\frac{1}{5}$ das balinhas que possuía e chupou 3. Ao filho mais novo deu $\frac{1}{3}$ das balinhas

que sobraram mais 2 balinhas. Ao filho do meio, João, deu $\frac{1}{6}$ das balinhas que sobraram, após a distribuição ao filho

mais novo. Sabe-se que o pai ainda ficou com 30 balinhas. Quantas balinhas ele possuía inicialmente?

- A) 55. B) 60. C) 75. D) 80. E) 100.

24

Observe a sequência de palavras:

Quarto, safar, solidão, decente, Sócrates, topázio, ? .

A palavra que substitui, logicamente, o ponto de interrogação (?) é

- A) topete. B) querida. C) dormente. D) somatório. E) salamandra.

25

No caixa de um estabelecimento comercial há R\$ 50,00 em notas de R\$ 5,00, R\$ 30,00 em notas de R\$ 2,00 e R\$ 35,00 em moedas de R\$ 1,00, totalizando R\$ 115,00, e não há moedas ou cédulas de outros valores. O caixa efetuará um pagamento de R\$ 10,00 referente à compra de material de escritório. De quantas maneiras distintas poderá ser feito este pagamento, usando apenas cédulas e moedas disponíveis no caixa?

- A) 7. B) 8. C) 9. D) 10. E) 11.

26

Seja A uma matriz 2 x 3 e B uma matriz 3 x 2. A matriz C, resultante do produto da matriz A pela B, nesta ordem, é uma matriz de ordem

- A) 2 x 2. D) 3 x 3.
B) 2 x 3. E) Não é possível fazer o produto.
C) 3 x 2.

27

O sistema apresentado nas incógnitas “x” e “y” e parâmetro “m”,

$$\begin{cases} 3x + 2y = 2 \\ 6x + 4y = 2 + m \end{cases}$$

- A) não admite solução para $m = 2$. D) admite infinitas soluções para $m \neq 2$.
B) admite solução única para $m \neq 2$. E) admite infinitas soluções para $m = 2$.
C) admite solução única para $m = 2$.










28

Um veículo percorreu 315 quilômetros em três horas e meia, ininterruptamente. É correto afirmar que a sua velocidade média, em km/h, para o percurso, foi

- A) 80. B) 85. C) 90. D) 105. E) 112.

34

Considere a seguinte pasta criada no Sistema Operacional *Microsoft Windows 7* (configuração padrão).

Nome	Data de modificaç...	Tipo	Tamanho
 Fevereiro_Contas.doc	13/05/2014 23:23	Arquivo DOC	14 KB
 Fevereiro_Débitos.doc	13/05/2014 23:23	Arquivo DOC	14 KB
 Fevereiro_Finanças.doc	13/05/2014 23:23	Arquivo DOC	14 KB
 Janeiro_Contas.xls	13/05/2014 23:23	Planilha do Micro...	14 KB
 Janeiro_Débitos.xls	13/05/2014 23:23	Planilha do Micro...	14 KB
 Janeiro_Finanças.xls	13/05/2014 23:23	Planilha do Micro...	14 KB
 Marco_Contas.ppt	13/05/2014 23:23	Apresentação do ...	14 KB
 Marco_Débitos.ppt	13/05/2014 23:23	Apresentação do ...	14 KB
 Marco_Finanças.ppt	13/05/2014 23:23	Apresentação do ...	14 KB

Sabendo-se que os arquivos *Word*, *Excel* e *PowerPoint* possuem, respectivamente, as extensões *.doc*, *.xls* e *.ppt*, o procedimento para pesquisar somente as planilhas em *Excel* é clicar na caixa de pesquisa e digitar o comando

- A) *.xls B) xdoc C) *Excel* D) *.ppt E) *Word*

35

Considere a planilha produzida com a ferramenta *Microsoft Office Excel 2007* (configuração padrão).

	A	B	C
1	100	400	90
2	200	500	700
3	300	100	1000
4			

Considerando que na célula A4 um usuário adicionou a fórmula =MÁXIMO(A1:C2), é correto afirmar que o resultado será

- A) 90. B) 100. C) 500. D) 700. E) 1.000.

36

Um usuário que utilizou a ferramenta *BrOffice Writer* para realizar a digitação do seu trabalho de conclusão de curso, após concluir a digitação, verificou que existiam diversas palavras erradas em seu texto que necessitavam ser corrigidas. O procedimento que executado para acionar o corretor ortográfico da ferramenta em questão é: clicar no menu

- A) Formatar e clicar na opção corretor ortográfico.
 B) Formatar e clicar na opção Verificação ortográfica.
 C) Ferramentas e clicar na opção Verificação ortográfica.
 D) Editar, apontar para Opções e clicar na opção corretor ortográfico.
 E) Arquivo, apontar para Verificações e clicar na opção corretor ortográfico.

37

Na ferramenta *Microsoft Office Outlook 2007* (configuração padrão – idioma português Brasil), o procedimento para iniciar um envio/recebimento para a pasta atual, recuperando itens completos (cabeçalho, item e quaisquer anexos), é pressionar a(s) tecla(s)

- A) F7. B) F8. C) F10. D) Shift + F8. E) Shift + F9.

38

Sistemas Operacionais *Linux* são programas responsáveis por promover o funcionamento do computador, realizando a comunicação entre os dispositivos de *hardware* e *softwares*. Em relação a este sistema, é correto afirmar que KDE e GNOME são

- A) versões de *Kernel*. D) editores de texto *Linux*.
 B) distribuições *Linux*. E) terminais para execução de comandos.
 C) ambientes gráficos.

39

Um usuário de uma empresa de contabilidade utiliza no seu cotidiano a ferramenta *Microsoft Office Excel 2007* para manipular as planilhas eletrônicas que possuem as informações dos clientes. Após a criação de uma nova política de utilização de *softwares* na empresa, as ferramentas do pacote *Office* foram substituídas pelas ferramentas do pacote *BrOffice*. Para continuar manipulando as planilhas, o usuário deverá utilizar a ferramenta

- A) Base. B) Calc. C) Match. D) Writer. E) FrontPage.

40

Utilizando o navegador *Internet Explorer 8* (configuração padrão – idioma português Brasil), o procedimento que pode ser utilizado para que um usuário possa abrir uma nova janela para realizar a navegação é pressionar as teclas:

- A) Ctrl + J. B) Ctrl + F. C) Ctrl + H. D) Ctrl + N. E) Ctrl + W.

CONHECIMENTOS GERAIS

O texto abaixo contextualiza o tema tratado nas questões de **41** e **42**. Leia-o atentamente.

O FMI projeta que a América Latina vai crescer só 2,5% este ano, mas a média esconde diferenças importantes. Países como Colômbia e Bolívia têm tido crescimento acelerado enquanto Venezuela e Argentina enfrentam crises e as duas maiores economias do bloco – México e Brasil – avançam com lentidão.

(Disponível em: <http://exame.abril.com.br/economia/noticias/7-paises-da-america-latina-que-crescem-o-dobro-do-brasil>. Acesso em: 19/05/2014, às 14h31.)

41

Sobre a região tratada no texto, analise.

- I. É formada pelos países de língua espanhola e portuguesa que se encontram restritos à região central e sul da América.
II. Engloba nações que, de modo geral, possuem profundas desigualdades sociais e grandes instabilidades econômicas.
III. São países que foram colonizados por nações europeias, como a Itália, que introduziu o latim, idioma que nomeia a região.

Está(ão) correta(s) a(s) afirmativa(s)

- A) I, II e III. B) I, apenas. C) II, apenas. D) III, apenas. E) II e III, apenas.

42

Sobre os movimentos políticos, econômicos e sociais que vêm se desenvolvendo na região, marque **V** para as afirmativas verdadeiras e **F** para as falsas.

- () A esquerda conquistou o poder em importantes nações desta região a partir da década de 1990, dentre elas, o Brasil.
() Com baixos índices de desenvolvimento econômico, a região passa por desaceleração das exportações e dos empregos.
() Integrantes do bloco denominado “conservador”, México e Colômbia são grandes parceiros comerciais dos Estados Unidos.
() Venezuela, Peru, Bolívia e Paraguai formam o bloco bolivariano que atua na principal frente de oposição ao neoliberalismo.

A sequência está correta em

- A) F, F, V, V. B) F, V, V, F. C) V, F, V, F. D) V, V, F, F. E) V, F, F, V.

43

Com um desempenho superior ao registrado no ano anterior, o PIB (Produto Interno Bruto) do Brasil teve um crescimento de 2,3%, em 2013. Dentre as alternativas a seguir, qual representa um setor considerado fundamental para a conquista deste resultado?

- A) Turismo. B) Serviços. C) Indústria. D) Comércio. E) Agropecuária.

44

Foi realizada no Rio de Janeiro, no primeiro semestre deste ano, a Conferência Brics no Século 21, organizada pelo Instituto de Estudos Estratégicos para a Integração da América do Sul (Intersul), em parceria com o Instituto Alberto Luiz Coimbra de Pós-Graduação e Pesquisa de Engenharia (Coppe), da Universidade Federal do Rio de Janeiro. Estavam envolvidos neste evento representantes dos seguintes países:

- A) Brasil, Rússia, Índia, China e Suécia. D) Argentina, Brasil, Paraguai, Uruguai e Venezuela.
B) Brasil, Rússia, Índia, China e África do Sul. E) Argentina, Brasil, Canadá, Estados Unidos e México
C) Argentina, Brasil, Chile, Paraguai e Uruguai.

O texto abaixo contextualiza o tema tratado nas questões de 45 a 47. Leia-o atentamente.

Em busca de consenso entre o governo da Venezuela e a oposição no país, a comissão de chanceleres da União de Nações Sul-Americanas (Unasul) concluiu hoje (19 de maio de 2014) uma série de reuniões com representantes do governo, da Nunciatura Apostólica Católica e da Mesa da Unidade Democrática (MUD), que reúne a coalisão de partidos opositores venezuelanos. Após os encontros, até tarde da noite de hoje, a Unasul não se pronunciou sobre o resultado obtido durante os dois dias de conversações em Caracas. A comissão da Unasul visitou o país depois de a oposição suspender as conversações, devido à prisão de estudantes há três semanas. A comissão é formada pelos chanceleres do Brasil, Luiz Alberto Figueiredo; da Colômbia, María Angela Holguín; e do Equador, Ricardo Patiño.

(Disponível em: <http://agenciabrasil.ebc.com.br/internacional/noticia/2014-05/unasul-conclui-reuniao-com-governo-venezuelano-opositores-e-igreja>. Acesso em: 19/05/2014, às 23h47.)

45

A comissão de chanceleres tem a(s) função(ões) de

- A) apoiar o governo da Venezuela, já que o país é integrante do Unasul, buscando sempre defender seus interesses.
- B) lutar pelos interesses da população, tornando-se porta voz de suas reivindicações junto ao governo venezuelano.
- C) determinar as sanções que serão impetradas contra o governo da Venezuela, se a oposição tiver razão no conflito.
- D) ouvir as partes envolvidas no problema e decidir sobre qual delas recai a razão para que o bloco assumira posicionamento.
- E) observar e mediar os diálogos entre o governo e a oposição, a fim de tentar resolver o conflito interno existente no país.

46

Sobre o posicionamento político dos países que compõem a comissão, analise.

- I. A Colômbia sofre há décadas com conflitos internos que envolvem guerrilheiros de esquerda, grupos paramilitares de direita e as forças armadas.
- II. Maior nação do continente, o Brasil vive momento de grande aceleração econômica conquistando posição entre as cinco maiores economias do planeta.
- III. O Equador, após enfrentar grande crise econômica em 2000, passou a adotar o dólar como moeda oficial e enfrentou na primeira década do século XXI período de instabilidade política.

Está(ão) correta(s) a(s) afirmativa(s)

- A) I, II e III. B) I, apenas. C) II, apenas. D) III, apenas. E) I e III, apenas.

47

Acerca da União das Nações Sul-Americanas (Unasul), marque V para as afirmativas verdadeiras e F para as falsas.

- () A organização é reconhecida pela ONU e tem o objetivo de facilitar as relações entre seus membros, gerando integração na região.
- () Assim como o Mercosul e a União Europeia, trata-se de um bloco econômico que engloba todas as nações da região sul do continente americano.
- () É formada por doze países sulamericanos, que são Argentina, Bolívia, Brasil, Chile, Colômbia, Equador, Guiana, Paraguai, Peru, Suriname, Uruguai e Venezuela.
- () Foi oficializada por meio do Tratado de Assunção, firmado em 1991, no Paraguai, entre os cinco países-membros que são: Argentina, Brasil, Paraguai, Uruguai e Venezuela.

A sequência está correta em

- A) V, V, F, F. B) V, F, V, F. C) V, F, F, V. D) F, V, V, F. E) F, F, V, V.

48

Referência nas discussões sobre mudança climática, o Painel Intergovernamental sobre Mudanças Climáticas (IPCC) divulgou, em 2007, um relatório sobre o aquecimento global que gerou grande repercussão levando o organismo a receber o Prêmio Nobel da Paz, juntamente com o ex-vice-presidente dos EUA, Al Gore, em função da intensa ação de conscientização realizada no planeta, envolvendo os líderes mundiais para o problema e suas possíveis consequências. É correto afirmar que o IPCC é um(a)

- A) agência da ONU responsável por determinar os limites de emissão de gases no planeta.
- B) entidade climática internacional formada pelos governantes das 20 maiores economias do planeta.
- C) evento anual que reúne os principais cientistas do mundo para apresentar soluções para o fim do aquecimento global.
- D) organização não governamental formada por personalidades e artistas, que defendem a proteção do meio ambiente no planeta.
- E) órgão da ONU composto por delegações de 130 governos, que objetiva prover avaliações regulares sobre a mudança climática.

49

“Uma grande polêmica tomou conta da sociedade brasileira neste primeiro semestre de 2014, quando o juiz Eugênio Rosa de Araújo, da 17ª Vara Federal do _____ negou o pedido de retirada de vídeos da *internet* com mensagens de intolerância contra as religiões _____ e alegou que estas manifestações não se constituíam em religião no Brasil.” Assinale a alternativa que completa correta e sequencialmente a afirmativa anterior.

- A) Pernambuco / protestantes
- B) Rio Grande do Sul / orientais
- C) Espírito Santo / pentecostais

- D) Distrito Federal / evangélicas
- E) Rio de Janeiro / afrobrasileiras

50

A figura representa a distribuição das bancadas por unidade federada na Câmara dos Deputados antes e após os ministros do TSE decidirem, por unanimidade, ratificar Resolução de 2013 da própria Corte que havia alterado o tamanho das bancadas na Câmara dos Deputados. Leia a figura atentamente.

Estados	Quantas eram	Como fica
SP	70	70
MG	53	55 ↑
RJ	46	45 ↓
BA	39	39
RS	31	30 ↓
PR	30	29 ↓
CE	22	24 ↑
PE	25	24 ↓
PA	17	21 ↑
MA	18	18
GO	17	17
SC	16	17 ↑
PB	12	10 ↓
AM	8	9 ↑
ES	10	9 ↓
AC	8	8
AL	9	8 ↓
AP	8	8
DF	8	8
MS	8	8
MT	8	8
PI	10	8 ↓
RN	8	8
RO	8	8
RR	8	8
SE	8	8
TO	8	8

Infográfico elaborado em 28/05/2014

Sobre a reorganização de bancadas NÃO é correto afirmar que

- A) a região Norte teve o maior aumento de bancada.
- B) a região Sul teve a maior perda de integrantes na Câmara.
- C) o estado do Pará foi o maior beneficiado com esta alteração.
- D) o Nordeste possui o maior número de estados com redução.
- E) sudeste e Centro-Oeste, no geral, mantiveram suas bancadas.

CONHECIMENTOS ESPECÍFICOS**51**

As metas e prioridades da administração pública federal, incluindo as despesas de capital para o exercício financeiro subsequente são estabelecidas no(a)

- A) Lei do Plano Plurianual. D) Lei de Responsabilidade Fiscal.
B) Lei Orçamentária Anual. E) Orçamento Plurianual de Investimentos.
C) Lei de Diretrizes Orçamentárias.

52

O projeto de lei orçamentária, ao ser encaminhado ao Poder Legislativo, será acompanhado do

- A) anexo de metas anuais, instruído com memória e metodologia de cálculo que justifiquem os resultados pretendidos.
B) demonstrativo das alterações na legislação tributária e da política de aplicação das agências financeiras oficiais de fomento.
C) demonstrativo da evolução do patrimônio líquido nos últimos 3 exercícios, destacando a origem e a aplicação dos recursos obtidos com a alienação de ativos.
D) demonstrativo regionalizado do efeito, sobre as receitas e despesas, decorrente de isenções, anistias, remissões, subsídios e benefícios de natureza financeira, tributária e creditícia.
E) demonstrativo dos objetivos e metas da administração pública federal para as despesas de capital e outras delas decorrentes e para as relativas aos programas de duração continuada.

53

Em 01 de janeiro de 2014, uma empresa comprou um computador para utilizar em seus negócios por R\$ 5.000,00, sendo que o pagamento foi realizado em 5 parcelas semestrais de R\$ 1.000,00, a partir de fevereiro de 2014. Para o pagamento à vista, o valor a pagar seria de R\$ 4.600,00. O computador vinha com garantia de 1 ano e a empresa adquiriu garantia de mais 2 anos por R\$ 400,00. Além disso, o frete da entrega do computador foi de R\$ 100,00. A empresa ainda adquiriu por R\$ 200 programas básicos de computador, fundamentais para a sua operação, e R\$ 50,00 em um programa antivírus com validade de 1 ano. Em 01 de janeiro de 2014, o computador foi reconhecido no balanço patrimonial da empresa por

- A) R\$ 4.600,00. B) R\$ 4.900,00. C) R\$ 4.950,00. D) R\$ 5.300,00. E) R\$ 5.700,00.

54

Em 31 de dezembro de 2010, uma companhia aberta apresentava o seguinte balanço patrimonial:

Ativo	
Caixa	44.000
Estoques	50.000
Total do Ativo	94.000
Patrimônio Líquido	
Capital Social	80.000
Reserva Legal	14.000
Total do Pat. Líquido	94.000

No ano de 2011, a empresa auferiu lucro líquido de R\$ 60.000,00. Considerando que a empresa determina a distribuição de dividendos mínimos obrigatórios de 25% do lucro líquido ajustado, o montante distribuído como dividendos em 2011 foi de

- A) R\$ 11.500,00. B) R\$ 14.250,00. C) R\$ 14.500,00. D) R\$ 15.000,00. E) R\$ 20.000,00.

55

As contas podem ser divididas em patrimoniais e de resultado, sendo que as contas patrimoniais dividem-se em contas ativas e passivas e as contas de resultado, em receitas e despesas. Em relação à conta Duplicatas Descontadas, é correto afirmar que

- A) representa um passivo.
B) tem como contrapartida uma receita.
C) é redutora da conta clientes, no ativo.
D) tem como contrapartida uma despesa.
E) é redutora da conta capital social, no patrimônio líquido.

56

Uma empresa apresentou em 31/12/2013 a seguinte Demonstração do Resultado do Exercício, em Reais:

Receita de Vendas	200.000
(-) CMV	- 80.000
Lucro Bruto	120.000
Despesas Gerais	- 50.000
Despesa de Depreciação	- 30.000
Receita de Equivalência Patrimonial	40.000
Outros resultados operacionais — Venda de ativo imobilizado	20.000
Resultado antes do Resultado Financeiro	100.000
Resultado Financeiro	- 60.000
Lucro antes do Imposto de Renda e Contribuição Social	40.000
Imposto de Renda e Contribuição Social sobre o Lucro	- 9.600
Lucro Líquido	30.400

A conta Despesas Gerais é constituída por: Provisão para Créditos de Liquidação Duvidosa: R\$ 4.000,00, Despesas de Salários: R\$ 36.000,00 e Perda por Irrecuperabilidade de Ativos: R\$ 10.000,00. Com base nas informações e seguindo as recomendações do Pronunciamento Técnico CPC 03 – Demonstração dos Fluxos de Caixa, o valor total (em Reais) dos ajustes para conciliação entre o Lucro Líquido e o Fluxo de Caixa operacional na Demonstração dos Fluxos de Caixa elaborada de acordo com o método Indireto, em 31/12/2013, é de

- A) -44.000. B) -16.000. C) 4.000. D) 14.400. E) 24.000.

57

A NBC T 16.1, aprovada pela Resolução do Conselho Federal de Contabilidade nº 1.128, de 21/11/2008, diz respeito à conceituação, ao objeto e ao campo de aplicação do setor público. Segundo a NBC T 16.1, é correto afirmar que o objeto da contabilidade aplicada ao setor público

- A) são os bens públicos. D) é a prestação de contas.
B) é o orçamento público. E) é a execução orçamentária.
C) é o patrimônio público.

58

De acordo com o art. 101, da Lei nº 4.320/64, os resultados gerais do exercício serão demonstrados no Balanço Orçamentário, no Balanço Financeiro, no Balanço Patrimonial e na Demonstração das Variações Patrimoniais. Nesse sentido, o Balanço Orçamentário deverá demonstrar o/a(s)

- A) restos a pagar do exercício.
B) receitas e despesas previstas em confronto com as realizadas.
C) alterações verificadas no patrimônio, resultantes ou independentes da execução orçamentária.
D) ativos e os passivos financeiros e permanentes, o saldo patrimonial, as contas de compensação.
E) receita e a despesa orçamentárias, bem como os recebimentos e os pagamentos de natureza extraorçamentária, conjugados com os saldos em espécie provenientes do exercício anterior, e os que se transferem para o exercício seguinte.

59

A Demonstração das Variações Patrimoniais evidencia as variações quantitativas, o resultado patrimonial e as variações qualitativas decorrentes da execução orçamentária. Em relação às variações quantitativas e qualitativas, assinale a afirmativa correta.

- A) Tanto as variações quantitativas quanto as qualitativas alteram o total do patrimônio líquido.
B) O resultado patrimonial do período é apurado pelo confronto entre as variações quantitativas e as qualitativas.
C) As variações quantitativas alteram o total do patrimônio líquido, enquanto as qualitativas apenas alteram a sua composição.
D) As variações qualitativas alteram o total do patrimônio líquido, enquanto as quantitativas apenas alteram a sua composição.
E) Tanto as variações quantitativas quanto as qualitativas alteram a composição dos elementos patrimoniais sem afetar o patrimônio líquido.

60

De acordo com a Lei nº 4.320/64, as receitas podem ser classificadas como Receitas Correntes e Receitas de Capital. Em relação às Receitas Correntes, assinale a afirmativa correta.

- A) As receitas de investimentos incluem multas e cobrança da dívida ativa.
- B) As receitas industriais incluem receitas imobiliárias e de valores mobiliários.
- C) As receitas tributárias incluem impostos, taxas e contribuições de melhoria.
- D) As receitas patrimoniais incluem a alienação de bens móveis e de bens imóveis.
- E) As transferências correntes incluem operações de crédito e amortização de empréstimos concedidos.

61

Cabe ao Sistema de Controle Interno do Poder Executivo Federal, por intermédio da técnica de auditoria, exercer as seguintes atividades, EXCETO:

- A) Realizar auditorias nos sistemas contábil, financeiro, de pessoal e demais sistemas administrativos e operacionais.
- B) Examinar a regularidade e avaliar a eficiência e eficácia da gestão administrativa e dos resultados alcançados nas ações de governo.
- C) Apresentar subsídios para o aperfeiçoamento dos procedimentos administrativos e gerenciais e dos controles externos administrativos dos órgãos da Administração Direta e entidades da Administração Indireta Federal.
- D) Realizar auditoria sobre a gestão dos recursos públicos federais sob a responsabilidade dos órgãos públicos e privados, inclusive nos projetos de cooperação técnica junto a organismos internacionais e multilaterais de crédito.
- E) Apurar os atos e fatos inquinados de ilegais ou de irregulares, praticados por agentes públicos ou privados, na utilização de recursos públicos federais e, quando for o caso, comunicar à unidade responsável pela contabilidade para as providências cabíveis.

62

De acordo com a IN 01/2001 a auditoria que objetiva o exame de fatos ou situações consideradas relevantes, de natureza incomum ou extraordinária, sendo realizadas para atender determinação expressa de autoridade competente é classificada como auditoria

- A) especial.
- B) contábil.
- C) operacional.
- D) de avaliação da gestão.
- E) de acompanhamento da gestão.

63

Compreende uma finalidade do sistema de controle interno de acordo com a IN 01/01:

- A) Exercer o controle das operações que resultam em débitos.
- B) Comprovar a economicidade e avaliar os resultados da gestão.
- C) Apoiar o controle externo no exercício de sua missão institucional.
- D) Avaliar o cumprimento das metas previstas na Lei de Responsabilidade Fiscal.
- E) Apreciar as contas de gestão do governo para fins de emissão de parecer prévio.

64

Assinale a alternativa que apresenta uma competência dos órgãos e unidades do sistema de controle interno do Poder Executivo Federal, de acordo com a Lei nº 10.180/2001.

- A) Elaborar os Balanços Gerais da União.
- B) Manter e aprimorar o Plano de Contas Único da União.
- C) Gerir a dívida pública mobiliária federal e a dívida externa de responsabilidade do Tesouro Nacional.
- D) Realizar auditoria sobre a gestão dos recursos públicos federais sob a responsabilidade de órgãos e entidades públicos e privados.
- E) Consolidar os balanços da União, dos Estados, do Distrito Federal e dos Municípios, com vistas à elaboração do Balanço do Setor Público Nacional.

65

Suponha que um consumidor tome um financiamento a ser realizado à taxa efetiva de $r\%$ ao mês, $r > 0$, no regime de juros compostos, a ser liquidado em n prestações iguais a P . Quanto menor a taxa efetiva r , o valor do principal tende para

- A) nP .
- B) P^n .
- C) P/r .
- D) 0 .
- E) infinito.

66

Em relação à teoria do consumidor, marque V para as afirmativas verdadeiras e F para as falsas.

- () A lei de *Walras* estabelece que, ao maximizar a utilidade, o consumidor escolhe uma demanda por bens que exaure os seus rendimentos.
- () Bens de luxo apresentam elasticidade de renda maior do que bens necessários.
- () A identidade de *Roy* permite recuperar a função demanda de um bem por meio da razão entre as derivadas da função utilidade indireta em relação ao preço desse bem e em relação à renda.

A sequência está correta em

- A) V, V, V. B) V, V, F. C) V, F, F. D) F, V, F. E) F, F, V.

67

“José da Silva, Senador da República, discursa na tribuna do Senado defendendo a legalização do aborto para mulheres grávidas que não tenham constituído matrimônio. O Senador defende com ênfase a necessidade de o Congresso Nacional estabelecer medidas para que não haja mais mães solteiras no país. Ao ouvir esse discurso pela TV Senado, o cidadão Manoel de Souza dirige uma representação ao Procurador Geral da República para que processe José da Silva pelo crime de apologia ao crime (art. 287, Código Penal: fazer, publicamente, apologia de fato criminoso ou de autor de crime), uma vez que estaria defendendo a prática de crime contra a vida (art. 124 – provocar aborto em si mesma ou consentir que outrem lho provoque).” Considerando o fato enunciado, assinale a afirmativa correta.

- A) Se for processado, José da Silva responderá pelo crime perante o Supremo Tribunal de Justiça.
- B) Os senadores são invioláveis, civil e penalmente, por quaisquer de suas opiniões, palavras e votos.
- C) O Procurador Geral da República deve, primeiramente, solicitar autorização do Senado Federal para processar o Senador José da Silva.
- D) O Procurador Geral da República não tem atribuição para oferecer denúncia em face dos Senadores da República, cabendo essa atribuição ao Supremo Tribunal Federal.
- E) A Constituição veda expressamente que um parlamentar responda criminalmente por qualquer ação no curso do mandato. Encerrado seu mandato, José da Silva será processado em razão da prática do crime de apologia.

68

São Poderes da União, independentes e harmônicos entre si, o Legislativo, o Executivo e o Judiciário. São órgãos que integram o Poder Judiciário, EXCETO:

- A) Ministério Público Federal. D) Superior Tribunal de Justiça.
- B) Tribunais e Juízes Militares. E) Conselho Nacional de Justiça.
- C) Tribunais e Juízes Eleitorais.

69

Na forma da Lei nº 8.666/93, são modalidades de licitação:

- I. Concorrência.
- II. Sorteio.
- III. Concurso.

Está(ão) correta(s) apenas a(s) alternativa(s)

- A) I. B) II. C) III. D) I e II. E) I e III.

70

O Código Civil pátrio estabelece as formas em que a propriedade da coisa móvel pode ser adquirida. Assinale a alternativa que NÃO prevê uma forma de aquisição da propriedade de coisa móvel.

- A) Acessão. B) Tradição. C) Confusão. D) Usucapião. E) Especificação.

71

No Código de Ética Profissional do Servidor Público Civil do Poder Executivo Federal, relativo ao Decreto nº 1.171/1994, a pena aplicável ao servidor público pela Comissão de Ética é a de

- A) advertência e multa pecuniária. D) censura fundamentada em parecer.
- B) ressarcimento ao erário público. E) limite das promoções previstas na carreira.
- C) suspensão da função ou contrato.

72

“Para que haja conduta ética é preciso que a pessoa conheça a diferença entre bem e mal, certo e errado, permitido e proibido, virtude e vício. A pessoa não só conhece tais diferenças, mas também reconhece-se como capaz de julgar o valor dos atos e das condutas e de agir em conformidade com os valores morais, sendo por isso responsável por suas ações e sentimentos e pelas consequências do que faz e sente. Tem a capacidade para avaliar e pesar as motivações pessoais, as exigências feitas pela situação, as consequências para si e para os outros, a conformidade entre meios e fins, a obrigação de respeitar o estabelecido ou de transgredi-lo, se o estabelecido for imoral ou injusto.”

(CHAUÍ, Marilena. *Convite à filosofia*. São Paulo: Ática, 2000. Adaptado.)

Com base no texto, assinale a alternativa que identifica corretamente condições indispensáveis para a conduta ética.

- A) Vontade e busca da felicidade. D) Consciência moral e responsabilidade.
B) Bondade e sentido inato de justiça. E) Habilidade e conhecimento acadêmico.
C) Competência profissional e virtude.

73

No mundo contemporâneo, a democracia foi conquistada não apenas pelo voto, mas também por diversas formas de desobediência e resistência civil. A “marcha pelo sal” de Mahatma Gandhi, a luta pelo reconhecimento dos direitos civis dos afroamericanos liderada por Martin Luther King e as reflexões de intelectuais como Hannah Arendt e John Rawls são exemplos deste percurso. A este respeito, leia os trechos a seguir.

“Atos de desobediência civil são realizados quando um certo número de cidadãos se convence de que os mecanismos normais de mudança não funcionam mais ou de que suas reivindicações não seriam mais atendidas, ou ainda, quando creem que seja possível mudar a direção de um governo empenhado em alguma ação cuja legitimidade e constitucionalidade estejam fortemente em discussão.”

(ARENDE, Hannah. *La disobbedienza civile ed altri saggi*. Milano: Giuffrè Editore, 1985, p. 57. Adaptado.)

“A teoria da desobediência civil se concebe apenas para o caso particular de uma sociedade quase justa, uma sociedade que é bem-ordenada em sua maior parte, na qual todavia acontecem sérias violações de justiça. A desobediência civil é um ato político público, não violento, consciente e não obstante contrário à lei, geralmente praticado com o objetivo de provocar uma mudança na lei e nas políticas do governo.”

(RAWLS, J. *Uma teoria da justiça*. São Paulo: Martins Fontes, 1997, p. 402, 404. Adaptado.)

Com relação ao exercício da desobediência civil em regimes democráticos, analise as afirmativas.

- I. Para os dois autores, a desobediência civil é uma transgressão intencional às leis, motivada por razões éticas e com objetivos políticos.
II. Para ambos, a desobediência civil é um ato ilegal, mas legítimo, pois busca um aprimoramento do sistema democrático.
III. Ambos consideram a não colaboração, a luta armada e os protestos violentos mecanismos eficazes da desobediência civil.

Está(ão) correta(s) a(s) afirmativa(s)

- A) I, II e III. B) I, apenas. C) II, apenas. D) III, apenas. E) I e II, apenas.

74

Assinale a alternativa que caracteriza corretamente um aspecto da Lei nº 8.429/1992, conhecida como Lei de Improbidade Administrativa (LIA), a qual

- A) prevê a imprescritibilidade dos crimes de improbidade para os detentores de mandato, cargo em comissão ou função de confiança.
B) define a improbidade administrativa como um crime que lesa o erário público e faz mau uso da função pública com vistas à obtenção de uma vantagem particular.
C) é aplicável a todo órgão de administração direta da União, Estados, Distrito Federal e Territórios, desde que não esteja associado a empresa privada ou de economia mista.
D) indica como agente passivo dos atos de improbidade administrativa toda pessoa jurídica ou física que for comprovadamente vítima de atentado à moralidade administrativa.
E) estabelece penas para os condenados de improbidade administrativa, entre as quais a reversão de bens e valores acrescidos ilicitamente ao patrimônio individual e a perda da função pública.

INSTRUÇÕES

1. Material a ser utilizado: caneta esferográfica de tinta azul ou preta. Os objetos restantes devem ser colocados em local indicado pelo fiscal da sala, inclusive aparelho celular desligado e devidamente identificado.
2. Não é permitida, durante a realização das provas, a utilização de máquinas calculadoras e/ou similares, livros, anotações, impressos ou qualquer outro material de consulta, protetor auricular, lápis, borracha, corretivo. Especificamente, não é permitido que o candidato ingresse na sala de provas sem o devido recolhimento, com respectiva identificação, dos seguintes equipamentos: *bip*, telefone celular, *walkman*, agenda eletrônica, *notebook*, *palmtop*, *ipad*, *ipod*, *tablet*, *smartphone*, mp3, mp4, receptor, gravador, calculadora, câmera fotográfica, controle de alarme de carro, relógio de qualquer modelo etc.
3. Durante a prova, o candidato não deve levantar-se, comunicar-se com outros candidatos e nem fumar.
4. A duração da prova é de 04 (quatro) horas, já incluindo o tempo destinado à entrega do Caderno de Provas e à identificação – que será feita no decorrer da prova – e ao preenchimento do Cartão de Respostas (Gabarito).
5. Somente em caso de urgência pedir ao fiscal para ir ao sanitário, devendo no percurso permanecer absolutamente calado, podendo antes e depois da entrada sofrer revista através de detector de metais. Ao sair da sala no término da prova, o candidato não poderá utilizar o sanitário. Caso ocorra uma emergência, o fiscal deverá ser comunicado.
6. O Caderno de Provas consta de 80 (oitenta) itens. Leia-o atentamente.
7. **Os itens das provas objetivas são do tipo múltipla escolha, com 05 (cinco) opções (A a E) e uma única resposta correta.**
8. Ao receber o material de realização das provas, o candidato deverá conferir atentamente se o Caderno de Provas corresponde ao cargo a que está concorrendo, bem como se os dados constantes no Cartão de Respostas (Gabarito) que lhe foi fornecido estão corretos. Caso os dados estejam incorretos, ou o material esteja incompleto, ou tenha qualquer imperfeição, o candidato deverá informar tal ocorrência ao fiscal.
9. Os fiscais não estão autorizados a emitir opinião e prestar esclarecimentos sobre o conteúdo das provas. Cabe única e exclusivamente ao candidato interpretar e decidir.
10. O candidato poderá retirar-se do local de provas somente a partir dos 90 (noventa) minutos após o início de sua realização, contudo não poderá levar consigo o Caderno de Provas, sendo permitida essa conduta apenas no decurso dos últimos 30 (trinta) minutos anteriores ao horário previsto para o seu término.
11. Os 3 (três) últimos candidatos de cada sala somente poderão sair juntos. Caso o candidato insista em sair do local de aplicação das provas, deverá assinar um termo desistindo do Concurso Público e, caso se negue, deverá ser lavrado Termo de Ocorrência, testemunhado pelos 2 (dois) outros candidatos, pelo fiscal da sala e pelo coordenador da unidade.

RESULTADOS E RECURSOS

- As provas aplicadas, assim como os gabaritos preliminares das provas objetivas serão divulgados na *Internet*, no site **www.idecan.org.br**, a partir das 16h00min do dia subsequente ao da realização das provas.
- O candidato que desejar interpor recursos contra os gabaritos oficiais preliminares das provas objetivas disporá de **02 (dois) dias úteis**, a partir do dia subsequente à divulgação, em requerimento próprio disponibilizado no *link* correlato ao Concurso Público no site **www.idecan.org.br**.
- A interposição de recursos deverá ser feita **via Internet**, através do **Sistema Eletrônico de Interposição de Recursos**, com acesso pelo candidato ao fornecer dados referentes à sua inscrição apenas no prazo recursal, ao **IDECAN**, conforme disposições contidas no site **www.idecan.org.br**, no *link* correspondente ao Concurso Público.