



M0319010N

CONCURSO PÚBLICO PREFEITURA MUNICIPAL DE IGUARAÇU - PR



Edital nº 001/2014

FUNDAÇÃO DE
APOIO À FAFIPA**OPERÁRIO - SEXO FEMININO E MASCULINO - MANHÃ**

LEIA ATENTAMENTE AS INSTRUÇÕES ABAIXO

• Você recebeu do fiscal este

CADERNO DE QUESTÕES com as
30 (Trinta) questões da prova objetiva
numeradas sequencialmente e
distribuídas sem falhas ou repetição:

MATÉRIA

LÍNGUA PORTUGUESA
MATEMÁTICA
CONHECIMENTOS GERAIS

QUESTÕES

01 a 05
06 a 10
11 a 30

Sobre a carteira está disponível a **FOLHA DE RESPOSTAS PERSONALIZADA** para transcrever as respostas da prova objetiva. Na Folha de Respostas, realize a conferência de seu nome completo, do número de seu documento e do número de sua inscrição. As divergências devem ser comunicadas ao fiscal para as devidas providências.

1. Este Caderno de Questões não deve ser folheado antes da autorização do Fiscal.
2. Observe se o **Cargo** especificado no caderno de questões é o correspondente ao cargo no qual você fez a inscrição. Caso não esteja correto, solicite a substituição para o fiscal de sala, o qual deverá lhe fornecer o caderno de questões correto.
3. Após ser autorizado pelo fiscal, verifique se o Caderno de Questões está completo, sem falhas de impressão e se a numeração das questões está correta.
4. Deverá ser utilizada **Caneta Esferográfica Transparente**, com tinta de cor azul ou preta na marcação da Folha de Respostas.
5. Leia atentamente cada questão da prova e assinale na Folha de Respostas a opção que a resposta corretamente. Exemplo correto da marcação da Folha de Respostas: ■
6. A Folha de Respostas não pode ser dobrada, amassada, rasurada ou conter qualquer marcação fora dos campos destinados às respostas.
7. Você dispõe de **3 (três)** horas para fazer a prova, incluindo a marcação da Folha de Respostas. Faça com tranquilidade, mas controle seu tempo.
8. Iniciada a prova, somente será permitido deixar definitivamente a sala após 60 (sessenta) minutos.
9. Após o término da prova, entregue ao fiscal a **FOLHA DE RESPOSTAS** devidamente assinada.
10. Somente será permitido levar o **CADERNO DE QUESTÕES** se o candidato ficar até o término das 3 horas de prova.
11. **SERÁ ELIMINADO** do Concurso Público o candidato que:
 - Deixar o local de realização da prova objetiva sem a devida autorização;
 - Tratar com falta de urbanidade os examinadores, auxiliares, fiscais ou autoridades presentes;
 - Proceder de forma a tumultuar a realização da prova objetiva;
 - Estabelecer comunicação com outros candidatos ou com pessoas estranhas, por qualquer meio e usar de meios ilícitos para obter vantagem para si ou para outros;
 - For surpreendido portando ou manuseando aparelhos eletrônicos nas demais dependências do estabelecimento, durante a realização da prova objetiva.
 - Caso qualquer equipamento eletrônico venha a emitir ruídos sonoros, mesmo que devidamente acondicionado no envelope de guarda de pertences, durante a realização da prova.
12. Qualquer tentativa de fraude, se descoberta, implicará em imediata denúncia à Polícia Civil, que tomará as medidas cabíveis, inclusive com prisão em flagrante dos envolvidos.
13. Os **03 (três) últimos candidatos** só poderão sair da sala juntos, após o fechamento do envelope contendo a lista de presença, a ata e as folhas de respostas da sala. Os candidatos deverão assinar a ata da sala e o Termo de Fechamento da sala.
14. **Está disponível na última folha do Caderno de Questões um gabarito para ser preenchido e destacado.**

Celular e adolescentes: uma relação perigosa

Uma pesquisa feita em Flandres, na Bélgica, com 1.656 estudantes de 13 a 17 anos, revelou que o uso do celular à noite é prática recorrente entre os adolescentes e isso está diretamente relacionado ao aumento do nível de cansaço desses jovens após algum tempo.

A preocupação maior dos pais no que diz respeito à mídia, é com relação ao tempo que as crianças gastam vendo TV, ouvindo música ou navegando na internet. O celular é visto como um simples aparelho de comunicação, útil em situações de emergência, mas os jovens hoje usam os meios de comunicação modernos de forma que os pais nem imaginam.

Casos de cansaço excessivo informado pelos adolescentes foram atribuídos ao abuso na utilização do celular, tanto em ligações quanto em trocas de mensagens de texto. Eles gastam muito tempo se conectando com outras pessoas, e alguns deles fazem isso a noite inteira.

Por outro lado, um melhor rendimento escolar está relacionado a uma boa noite de sono. Estudos revelam que adolescentes que dormem menos estão mais propensos a problemas cognitivos ou comportamentais em sala de aula. Os pais devem estar alerta: é preciso restringir ou proibir o uso do celular após a hora de dormir.

Especialistas recomendam que crianças e adolescentes tenham entre oito e dez horas de sono por noite para manter uma vida saudável e um bom desempenho durante o dia. Além disso, os pais que desconfiam que seus filhos estejam sofrendo de distúrbios do sono devem recorrer a consultas com pediatras ou especialistas na área. E dar conselhos como: durma bem para melhorar suas notas.

Disponível em: <http://www.brasilecola.com>

Questão 01

O assunto do texto é:

- (A) Uso excessivo de celular no período da noite causa cansaço em adolescentes.
- (B) O uso de celular por adolescentes, no período de aula, é proibido por lei.
- (C) Adolescentes utilizam o celular até no período do almoço.
- (D) Uso de celular por adolescentes de forma moderada no final de semana.

Questão 02

A “relação perigosa”, manifestada no título do texto, dá-se entre:

- (A) Adolescente e internet.
- (B) Celular e internet.
- (C) Adolescente e celular.
- (D) Família e celular.

Questão 03

No primeiro parágrafo, a palavra “recorrente” significa:

- (A) Algo que tem fim próximo.
- (B) Algo que se repete com regularidade.
- (C) Algo que não é usual.
- (D) Algo proibido.

Questão 04

Segundo o texto, os pais devem assumir algumas responsabilidades, quanto ao uso do celular, EXCETO:

- (A) Restringir o uso do celular antes de dormir.
- (B) Proibir o uso do celular antes de dormir.
- (C) Aconselhar a ter um bom sono, para que as notas melhorem.
- (D) Presentear o(a) filho(a) com um celular menos atrativo.

Questão 05

Complete a frase, a seguir: “_____ os adolescentes utilizam o celular durante tantas horas seguidas?”.

- (A) Por que.
- (B) Porque.
- (C) Por quê.
- (D) Porquê.

Questão 06

Assinale a alternativa CORRETA, quanto à ortografia das palavras em destaque:

- (A) Hoje é possível afirmar que a maioria da população brasileira tem assesso ao celular.
- (B) O celular pode deichar muita gente na mão, basta acabar a bateria.
- (C) O uso do celular deve ser moderado, principalmente, em momentos de aprendizado.
- (D) Antigamente, os celulares eram muito grandes e eram bem mais pezados.

Questão 07

Quanto ao número de sílabas, todas as palavras, a seguir, são trissílabas, EXCETO:

- (A) Aparelho.
- (B) Mensagens.
- (C) Modernos.
- (D) Saudável.

Questão 08

No terceiro parágrafo do texto, o pronome “ele” recupera:

- (A) Ligações.
- (B) Mensagens.
- (C) Adolescentes.
- (D) Pessoas.

Questão 09

Um adolescente, ao afirmar, “Liguei mil vezes para seu celular, amiga!”, está sendo exagerado. Neste caso, faz uso da figura de linguagem denominada:

- (A) Catacrese.
- (B) Antítese.
- (C) Hipérbole.
- (D) Prosopopeia.

Questão 10

Assinale a única palavra que NÃO é formada por um processo de prefixação:

- (A) Inteira.
- (B) Incomum.
- (C) Insucesso.
- (D) Inútil.

MATEMÁTICA**Questão 11**

Dentre as alternativas abaixo, assinale a CORRETA:

- (A) $2 + 2 \times 2 = 8$
- (B) $12/2 = 7$
- (C) $2^3 = 9$
- (D) $15 - 2^2 = 12$

Questão 12

Na sequência (2, 4, 7, 11, 16, 22...) qual número virá após o 22?

- (A) 23
- (B) 20
- (C) 29
- (D) 31

Questão 13

Assinale a alternativa CORRETA que corresponde ao valor da expressão $(4,5 - 1,5) \times 2$:

- (A) 0,5
- (B) 3,5
- (C) 5,5
- (D) 6

Questão 14

Assinale a opção CORRETA:

- (A) $12/2 = 8 - 3$
- (B) $4 \times 32 = 128$
- (C) $0,7 + 0,8 - 0,4 = 1,1$
- (D) $1,5 \times 2 = 1/3$

Questão 15

Márcia foi ao supermercado e comprou os seguintes itens: Uma lata de óleo no valor de R\$ 2,80; um pacote de arroz no valor de R\$ 9,00 e um pacote de feijão no valor de R\$ 2,20. Quanto Márcia gastou no supermercado?

- (A) R\$ 14,00
- (B) R\$ 13,80

- (C) R\$ 12,00
- (D) R\$ 11,20

Questão 16

A soma da expressão $(0,8 + 0,7 - 0,5 + 1,83)$ é:

- (A) 1,75
- (B) 2,44
- (C) 2,83
- (D) 3,58

Questão 17

Uma loja de eletrodomésticos baixou o preço de uma geladeira de R\$ 1.100,00 para R\$ 880,00. Quantos reais a loja deu de desconto?

- (A) R\$ 120,00
- (B) R\$ 220,00
- (C) R\$ 320,00
- (D) R\$ 430,00

Questão 18

Minha mãe tem o dobro da minha idade, mais cinco anos. Sabendo que a minha idade é igual a 20 anos, a idade da minha mãe é:

- (A) 42 anos
- (B) 43 anos
- (C) 44 anos
- (D) 45 anos

Questão 19

Um atleta chamado Rafael corre todos os dias 17 quilômetros em 2 horas, se ele correr por 4 horas, ele irá percorrer:

- (A) 28 quilômetros.
- (B) 30 quilômetros.
- (C) 32 quilômetros.
- (D) 34 quilômetros.

Questão 20

Para pintar uma casa de três cômodos, são necessárias 05 latas de tinta de 18 litros. Para pintar 13 casas de três cômodos serão necessárias quantas latas?

- (A) 65 latas.
- (B) 60 latas.
- (C) 58 latas.
- (D) 55 latas.

CONHECIMENTOS GERAIS**Questão 21**

No Brasil, a substância popularmente conhecida como **ÁLCOOL** é muito utilizada para o funcionamento de motores de explosão, constituindo, assim, um mercado em crescimento para um combustível obtido de maneira renovável, sustentada na utilização de biomassa de origem agrícola e renovável. Esse combustível também é chamado de:

- (A) Diesel.
- (B) Gasolina.
- (C) Etanol.
- (D) Petróleo.

Questão 22

Os alimentos orgânicos são livres de:

- (A) Agrotóxicos.
- (B) Adubo de origem animal.
- (C) Raios do sol.
- (D) Água da chuva.





Questão 23

A sede do governo de um município (prefeitura) recebe o nome de:

- (A) Pavilhão Principal.
- (B) Paço Municipal.
- (C) Casa Branca.
- (D) Câmara Municipal.

Questão 24

Assinale a alternativa que apresenta o Mapa do Brasil:

- (A) 
- (B) 
- (C) 
- (D) 

Questão 25

O Mascote da Copa do Mundo FIFA de 2014, a ser realizada no Brasil, foi "batizado" com o nome de FULECO e representa uma espécie nativa de:

- (A) Tucano.
- (B) Periquito Amarelo.
- (C) Arara Azul.
- (D) Tatu-Bola.

Questão 26


Segundo informações a respeito da colonização de Iguaraçu, seu nome se refere:

- (A) Um animal.
- (B) Um rio.

- (C) Uma palavra Indígena.
- (D) Uma ave.

Questão 27

A imagem, a seguir, está impressa na embalagem de alguns produtos que são vendidos nos supermercados, indicando que:



- (A) A embalagem é reciclável.
- (B) O alimento é transgênico.
- (C) O alimento não é perecível.
- (D) A embalagem é frágil.

Questão 28

Por volta do ano de 1953, o povoado que hoje constitui a cidade de Iguaraçu, foi elevado à categoria de DISTRITO judiciário, pertencente ao Município de:

- (A) Astorga.
- (B) Campo Mourão.
- (C) Cambé.
- (D) Maringá.




Questão 29

Mensalão é o nome dado pela mídia a um caso de denúncia de corrupção política brasileira mediante compra de votos de:

- (A) Vereadores na Câmara Municipal.
- (B) Parlamentares no Congresso Nacional.
- (C) Juízes no Superior Tribunal Federal (STF).
- (D) Autoridades policiais.

Questão 30

No calendário anual brasileiro, no mês de ABRIL é "comemorado":

- (A) Dia da Mulher 
- (B) Tiradentes 
- (C) Dia do Índio 
- (D) Dia dos Pais 

RASCUNHO

Destaque Aqui



.....

GABARITO
Concurso Público Prefeitura do Município de Iguaraçu
<http://www.fundacaofafipa.org.br/concurso>

1	2	3	4	5	6	7	8	9	10	11	12	13	14	15
16	17	18	19	20	21	22	23	24	25	26	27	28	29	30