



**Cidade de
São José dos Campos
Câmara Municipal**

CONCURSO PÚBLICO

003. PROVA OBJETIVA

TÉCNICO LEGISLATIVO

- ◆ Você recebeu sua folha de respostas e este caderno contendo 50 questões objetivas.
- ◆ Confira seu nome e número de inscrição impressos na capa deste caderno e na folha de respostas.
- ◆ Quando for permitido abrir o caderno, verifique se está completo ou se apresenta imperfeições. Caso haja algum problema, informe ao fiscal da sala.
- ◆ Leia cuidadosamente todas as questões e escolha a resposta que você considera correta.
- ◆ Marque, na folha de respostas, com caneta de tinta azul ou preta, a letra correspondente à alternativa que você escolheu.
- ◆ A duração da prova é de 3 horas, já incluído o tempo para o preenchimento da folha de respostas.
- ◆ Só será permitida a saída definitiva da sala e do prédio após transcorridos 75% do tempo de duração da prova.
- ◆ Ao sair, você entregará ao fiscal a folha de respostas e este caderno, podendo levar apenas o rascunho de gabarito, localizado em sua carteira, para futura conferência.
- ◆ Até que você saia do prédio, todas as proibições e orientações continuam válidas.

AGUARDE A ORDEM DO FISCAL PARA ABRIR ESTE CADERNO DE QUESTÕES.

CONHECIMENTOS GERAIS

LÍNGUA PORTUGUESA

01. Observe a charge de Jean Galvão.



(Folha de S.Paulo, 12.01.2014, <http://zip.net/btmfqr>)

A charge ilustra uma situação de calor

- (A) tênuo.
 - (B) exíguo.
 - (C) comedido.
 - (D) discreto.
 - (E) desmesurado.
02. A concordância está de acordo com a norma-padrão da língua portuguesa em:
- (A) Nestas férias de verão, as famílias têm lotado clubes e praias.
 - (B) Nestas férias de verão, clubes e praias tem sido lotado pelas famílias.
 - (C) Nestas férias de verão, clubes e praias ficam lotadas pelas famílias.
 - (D) Nestas férias de verão, as famílias mantém clubes e praias lotado.
 - (E) Nestas férias de verão, estão ficando lotado, pelas famílias, clubes e praias.

Leia o texto para responder às questões de números 03 a 16.

Ai que preguiça

O corpo humano é uma máquina desenhada para o movimento. É dotado de dobradiças, músculos que formam alavancas capazes de deslocar o esqueleto em qualquer direção, ossos resistentes, ligamentos elásticos que amortecem choques e sistemas de alta complexidade para mobilizar energia, consumir oxigênio e manter a temperatura interna constante. Em 6 milhões de anos, a seleção natural se encarregou de eliminar os portadores de características genéticas que dificultavam a movimentação necessária para ir atrás de alimentos, construir abrigos e fugir de predadores.

Se o corpo humano fosse projetado para os usos de hoje, para que pernas tão compridas e braços tão longos? Se fossem só para ir de um assento a outro, nossas pernas poderiam ter metade do comprimento. Se os braços servissem apenas para alcançar o teclado do computador, para que antebraços? Seríamos anões de membros atrofiados, mas com um traseiro enorme, acolchoado, para nos dar conforto nas cadeiras.

A possibilidade de ganharmos a vida sem andar é aquisição dos últimos 50 anos. A disponibilidade de alimentos de qualidade acessíveis a grandes massas populacionais, mais recente ainda.

Para quem já morou em cavernas, a adaptação a um meio com alimentação rica em nutrientes e tecnologia para fazer chegar em nossas mãos tudo de que necessitamos foi imediata. Os efeitos adversos desse estilo de vida, no entanto, não demoraram para surgir: sedentarismo, obesidade e seu cortejo nefasto: complicações cardiovasculares, diabetes, câncer, degenerações neurológicas, doenças reumáticas e muitas outras.

Se todos reconhecem que a atividade física faz bem para o organismo, por que ninguém se exercita com regularidade?

Por uma razão simples: descontadas as brincadeiras da infância, fase de aprendizado, os animais nunca desperdiçam energia. Só o fazem atrás de alimento, sexo ou para escapar de predadores. Satisfeitas as três necessidades, permanecem em repouso.

Vá ao zoológico. Você verá uma onça dando um pique para manter a forma? Um chimpanzé — com quem compartilhamos 99% de nossos genes — correndo para perder a barriga?

É tão difícil abandonar a vida sedentária porque desperdiçar energia vai contra a natureza humana. Quando você ouvir alguém dizendo que, todos os dias, pula da cama louco de disposição para o exercício, pode ter certeza: é mentira. Essa vontade pode nos visitar num sítio ou na praia com os amigos, na rotina diária jamais.

Digo por experiência própria. Há 20 anos corro maratonas, provas de 42 quilômetros que me obrigam a levantar às cinco e meia para treinar. Fiz um trato comigo mesmo: ao acordar, só posso desistir de correr depois de vestir calção, camiseta e calçar o tênis. Se me permitir tomar essa decisão deitado na cama, cada manhã terei uma desculpa. Não há limite para as justificativas que a preguiça é capaz de inventar nessa hora.

Ao contrário do que os treinadores preconizam, não faço alongamento antes, já saio correndo, única maneira de resistir ao ímpeto de voltar para a cama. O primeiro quilômetro é dominado por um pensamento recorrente: “Não há o que justifique um homem a passar pelo que estou passando”.

Vencido esse martírio inicial, a corrida se torna suportável. Boa mesmo, só fica quando acaba. Nessa hora, a circulação inundada de endorfinas traz uma sensação de paz celestial.

Por isso, caro leitor, se você está à espera da chegada da disposição física para sair da vadiagem em 2014, tire o cavalo da chuva: **ela** não virá. Praticar exercícios com regularidade exige disciplina militar, a mesma que você tem na hora de ir para o trabalho.

(Drauzio Varella, *Folha de S.Paulo*, 11.01.2014, <http://zip.net/bgl5Xn~>. Adaptado)

03. No texto, o autor

- (A) oferece informações detalhadas sobre o corpo humano e sua disposição para a atividade física, sem opinar sobre o assunto.
- (B) dá informações e expõe sua opinião sobre a evolução do homem e sua relação com a prática de atividade física.
- (C) defende a tese de que a prática de exercícios físicos já não traz benefícios ao ser humano em seu estágio evolutivo atual.
- (D) informa que os seres humanos, assim como os chimpanzés, não são geneticamente preparados para praticar exercícios físicos.
- (E) explica, didaticamente, como foi difícil para o homem adaptar-se a um estilo de vida sedentário, promovido pelo progresso tecnológico.

04. Em 6 milhões de anos, o ser humano adaptou-se ao movimento com o fim de
- (A) consumir oxigênio e manter a temperatura interna constante.
 - (B) ir de um assento a outro e alcançar o teclado do computador.
 - (C) buscar alimentos, construir abrigos e fugir de predadores.
 - (D) permanecer saudável e obter uma boa aparência física.
 - (E) combater doenças relacionadas à obesidade, como diabetes.
05. De acordo com o texto, a resistência que, atualmente, as pessoas demonstram ter com relação à prática regular de exercícios físicos justifica-se pelo fato de os seres humanos terem sido naturalmente projetados para
- (A) terem uma vida sedentária, com fácil acesso à alimentação.
 - (B) gastarem energia somente em situações específicas.
 - (C) locomoverem-se apenas durante a fase de aprendizado, na infância.
 - (D) serem pouco ágeis, devido ao fato de terem os membros atrofiados.
 - (E) permanecerem em repouso, para evitar complicações cardiovasculares.
06. O termo **ela**, em destaque no último parágrafo, faz referência direta à
- (A) disposição física.
 - (B) vadiagem.
 - (C) chuva.
 - (D) disciplina militar.
 - (E) regularidade.
07. Considerando sua relação com o restante do texto, o trecho — Se todos reconhecem que a atividade física faz bem para o organismo, por que ninguém se exercita com regularidade? — permite concluir, corretamente, que
- (A) está cada vez mais difícil convencer as pessoas de que a atividade física seja capaz de beneficiar o organismo.
 - (B) já se tornou ultrapassada a ideia de que a atividade física possa fazer bem para a saúde.
 - (C) a opinião de que a atividade física possa beneficiar o organismo ainda é muito controversa.
 - (D) parece haver consenso acerca do fato de que a atividade física pode ser benéfica para o organismo.
 - (E) todos nós somos céticos quanto à possibilidade de a atividade física trazer benefícios para a saúde.
08. No trecho — Quando você ouvir alguém dizendo que, todos os dias, pula da cama louco de disposição para o exercício, pode ter certeza: é mentira. Essa vontade pode nos visitar num sítio ou na praia com os amigos, na rotina diária jamais. —, o autor sugere que a vontade intensa de praticar exercícios pode ocorrer
- (A) usualmente.
 - (B) frequentemente.
 - (C) esporadicamente.
 - (D) assiduamente.
 - (E) reiteradamente.
09. Ao referir-se à sua experiência particular, o autor
- (A) relata que foi preciso inscrever-se em maratonas para se obrigar a fazer exercícios físicos com certa regularidade.
 - (B) revela que, só depois de 20 anos de treinos, passou a se sentir animado para correr 42 quilômetros pela manhã.
 - (C) confessa ter preguiça de levantar cedo da cama para treinar para as maratonas, mas busca meios de superar essa preguiça.
 - (D) conta que acorda empolgado para correr, só que perde essa empolgação conforme veste o calção, a camiseta e calça o tênis.
 - (E) sugere que deixou de fazer alongamento antes da corrida, pois viu que isso não influenciava sua atuação nas maratonas.

10. O termo destacado em — Ao contrário do que os treinadores **preconizam**, não faço alongamento antes, já saio correndo... — é empregado com sentido equivalente a
- (A) reprimem.
 - (B) evitam.
 - (C) interditam.
 - (D) ressalvam.
 - (E) recomendam.
11. De acordo com o autor,
- (A) a corrida vai se tornando mais e mais aprazível a cada quilômetro percorrido.
 - (B) assim que se completa o primeiro quilômetro, a corrida torna-se extremamente prazerosa.
 - (C) a liberação de endorfinas no sangue permite que se tenha prazer durante a corrida.
 - (D) o prazer proporcionado pela corrida só é experimentado depois que ela foi concluída.
 - (E) é o prazer experimentado ao longo do percurso que leva o corredor a não desistir da corrida.
12. Ao afirmar — Praticar exercícios com regularidade exige disciplina militar, a mesma que você tem na hora de ir para o trabalho. —, o autor sugere que
- (A) é preciso determinação para ir ao trabalho, pois, no geral, isso não é algo que se faça simplesmente por entusiasmo.
 - (B) a rotina de ir para o trabalho, a rigor, tende a tornar-se mais amena e agradável à medida que o tempo passa.
 - (C) um bom condicionamento físico é fundamental para se ter disposição de ir ao trabalho regularmente.
 - (D) a atividade de ir ao trabalho deve se realizar espontaneamente, caso contrário, torna-se metódica e estafante.
 - (E) ir ao trabalho é uma atividade que vem sendo realizada de maneira instintiva pelo homem moderno.
13. A expressão em destaque no início do último parágrafo — **Por isso** — introduz, com relação ao que foi apresentado nos parágrafos anteriores, uma conclusão e pode ser corretamente substituída, sem alteração de sentido, por
- (A) Entretanto
 - (B) Porém
 - (C) Contudo
 - (D) Conforme
 - (E) Portanto
14. Assinale a alternativa que completa, correta e respectivamente, as lacunas da frase, de acordo com as informações do texto e com a norma-padrão da língua portuguesa.
- _____, hoje, o homem não _____ se locomover muito para ter suas necessidades básicas atendidas, seu corpo ainda conserva características de quando a locomoção era _____ para sua _____.
- (A) Mesmo que ... precise ... prescindível ... sobrevivência
 - (B) Ainda que ... precisa ... supérflua ... manutenção
 - (C) Enquanto ... precisa ... crucial ... extinção
 - (D) Embora ... precise ... essencial ... subsistência
 - (E) Apesar de ... precisa ... vital ... estabilidade
15. A palavra que deve ser interpretada com sentido figurado está destacada em:
- (A) Se os **braços** servissem apenas para alcançar o teclado do computador... (segundo parágrafo)
 - (B) ... sedentarismo, obesidade e seu **cortejo** nefasto... (quarto parágrafo)
 - (C) Há 20 **anos** corro maratonas... (nono parágrafo)
 - (D) Se me permitir tomar essa decisão deitado na **cama**... (nono parágrafo)
 - (E) Ao contrário do que os **treinadores** preconizam... (décimo parágrafo)
16. Após o acréscimo da vírgula, o trecho que se mantém pontuado corretamente, e com o sentido preservado, é:
- (A) A possibilidade de ganharmos, a vida sem andar é aquisição dos últimos 50 anos. (terceiro parágrafo)
 - (B) ... a adaptação a um meio com alimentação rica, em nutrientes e tecnologia para fazer chegar em nossas mãos tudo de que necessitamos foi imediata. (quarto parágrafo)
 - (C) Você verá, uma onça dando um pique para manter a forma? (sétimo parágrafo)
 - (D) Há 20 anos, corro maratonas... (nono parágrafo)
 - (E) Praticar exercícios com regularidade exige, disciplina militar... (último parágrafo)
17. O acento indicativo de crase, em destaque nas frases, está empregado corretamente em:
- (A) A mesa farta dos nobres da Antiguidade já chegou à classe média.
 - (B) O acesso à alimentos de qualidade foi facilitado recentemente.
 - (C) O homem moderno habituou-se à uma vida sedentária.
 - (D) Sedentarismo e obesidade podem levar à várias doenças.
 - (E) Médicos aconselham seus pacientes à praticar atividade física.

Leia a tira de André Dahmer para responder às questões de números 18 e 19.



(Malvados, *Folha de S.Paulo*, 29.01.2014, <http://zip.net/blmdG0>)

18. A tira sugere que uma das características do homem é

- (A) o imediatismo.
- (B) a inveja.
- (C) o esnobismo.
- (D) a transigência.
- (E) a crueldade.

19. A expressão destacada em — Se o homem é o único animal que mata **por diversão**... — exprime, com referência à ação de matar,

- (A) uma hipótese.
- (B) uma alternativa.
- (C) uma causa.
- (D) uma concessão.
- (E) um contraste.

20. Assinale a alternativa que completa, correta e respectivamente, as lacunas da frase, de acordo com a norma-padrão da língua portuguesa.

Atentem _____ caça esportiva e lembrem-se _____ o homem é o único animal que mata por diversão.

- (A) da ... de que
- (B) para a ... de que
- (C) com a ... de que
- (D) sobre a ... que
- (E) perante a ... que

21. Os quatro elevadores de um tribunal de 30 andares, durante a subida, fazem paradas somente em andares predeterminados. O primeiro elevador faz a primeira parada no primeiro andar e depois para de quatro em quatro andares; o segundo elevador só para nos andares pares; o terceiro elevador faz a primeira parada no terceiro andar e depois para de três em três andares. O quarto elevador para somente nos andares não atendidos por nenhum dos outros três elevadores. O número de andares atendidos pelo quarto elevador, durante a subida, é igual a

- (A) 2.
- (B) 3.
- (C) 4.
- (D) 5.
- (E) 6.

22. Na biblioteca de um instituto de física, para cada 2 livros de matemática, existem 3 de física. Se o total de livros dessas duas disciplinas na biblioteca é igual a 1 095, o número de livros de física excede o número de livros de matemática em

- (A) 219.
- (B) 405.
- (C) 622.
- (D) 812.
- (E) 1 015.

23. O departamento de Contabilidade de uma empresa tem 20 funcionários, sendo que 15% deles são estagiários. O departamento de Recursos Humanos tem 10 funcionários, sendo 20% estagiários. Em relação ao total de funcionários desses dois departamentos, a fração de estagiários é igual a

- (A) $1/5$.
- (B) $1/6$.
- (C) $2/5$.
- (D) $2/9$.
- (E) $3/5$.

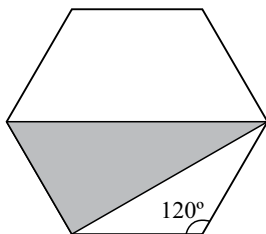
24. Cada funcionário do setor de manuseio e postagem de uma empresa de vendas pela internet consegue preparar, para envio, 18 livros por hora, ou 7 computadores a cada duas horas. Para o manuseio e postagem de 35 computadores e 540 livros em 8 horas, o número mínimo de funcionários que devem ser alocados é igual a

- (A) 5.
- (B) 6.
- (C) 7.
- (D) 8.
- (E) 9.

25. Na festa de seu aniversário em 2014, todos os sete filhos de João estavam presentes. A idade de João nessa ocasião representava 2 vezes a média aritmética da idade de seus filhos, e a razão entre a soma das idades deles e a idade de João valia
- (A) 1,5.
(B) 2,0.
(C) 2,5.
(D) 3,0.
(E) 3,5.

26. As medidas em centímetros dos lados de um triângulo retângulo são expressas por números inteiros. Sabendo que um dos catetos e a hipotenusa são números consecutivos e que a hipotenusa mede mais do que 38 cm e menos do que 44 cm, então o perímetro desse triângulo mede, em cm,
- (A) 49.
(B) 64.
(C) 89.
(D) 90.
(E) 121.

27. A figura representa um hexágono regular de lado medindo 6 cm.



A área do triângulo, sombreada na figura, com vértices coincidindo com os do hexágono, vale, em cm^2 ,

- (A) $9\sqrt{3}$.
(B) $9\sqrt{6}$.
(C) $12\sqrt{3}$.
(D) $18\sqrt{3}$.
(E) $18\sqrt{6}$.

28. No mês de janeiro, Augusto gastou $\frac{1}{4}$ de seu salário com o imposto do seu carro. No mesmo mês, ele ainda teve gastos de seguro e manutenção com o carro, sendo que cada um desses gastos equivaleu a $\frac{1}{3}$ do que sobrou de seu salário após o imposto. Se os gastos com seu carro no mês de janeiro totalizaram R\$ 2.700,00, conclui-se que o salário de Augusto, nesse mês, foi de
- (A) R\$ 3.000,00.
 - (B) R\$ 3.300,00.
 - (C) R\$ 3.600,00.
 - (D) R\$ 3.900,00.
 - (E) R\$ 4.200,00.
29. Em um condomínio, a caixa d'água do bloco A contém 10 000 litros a mais de água do que a caixa d'água do bloco B. Foram transferidos 2 000 litros de água da caixa d'água do bloco A para a do bloco B, ficando o bloco A com o dobro de água armazenada em relação ao bloco B. Após a transferência, a diferença das reservas de água entre as caixas dos blocos A e B, em litros, vale
- (A) 4 000.
 - (B) 4 500.
 - (C) 5 000.
 - (D) 5 500.
 - (E) 6 000.
30. Você, Zig e Zug conseguem raciocinar com lógica perfeita e estão usando um chapéu cada. Zenão avisou que desenharia em cada chapéu um número diferente, inteiro e positivo, e que um dos números é a soma dos outros dois. Você, Zig e Zug não conseguem ver o número desenhado no próprio chapéu, mas conseguem ver o número desenhado nos chapéus dos outros dois. Você viu o número 18 pintado no chapéu de Zig e o número 27, no chapéu de Zug, mas não soube responder quando Zenão perguntou a você qual o número pintado no seu chapéu. Em seguida, Zenão fez a mesma pergunta para Zig e depois para Zug e eles também não souberam responder qual o número desenhado em seu próprio chapéu. Quando Zenão perguntou para você, pela segunda vez, o número de seu chapéu, você corretamente respondeu que era
- (A) 50.
 - (B) 45.
 - (C) 27.
 - (D) 14.
 - (E) 9.





31. O sistema operacional Windows 7, em sua configuração padrão, permite que o ícone de uma pasta seja alterado. Para tanto, deve-se efetuar a troca de ícone após selecionar a pasta com o botão direito do *mouse*, e clicar, na sequência, em

- (A) Novo e guia Ícone.
- (B) Alterar e guia Ícone.
- (C) Redefinir e guia Pasta.
- (D) Ícone e guia Personalizar.
- (E) Propriedades e guia Personalizar.

32. No sistema operacional Windows 7, em sua configuração padrão, deseja-se criar um atalho de teclado para abrir o programa *teste.exe* que possui um atalho na Área de Trabalho. Caso a tecla escolhida para o atalho seja a 4, após ser criado, o atalho de teclado deve ser acionado, pressionando-se a(s) tecla(s)

- (A) 4.
- (B) Alt+4.
- (C) Ctrl+ 4.
- (D) Ctrl+Alt+4.
- (E) Shift+Alt+4.

33. No MS-Word 2010, pode-se inserir, no documento em edição, símbolos que não constam do teclado, como caracteres em língua estrangeira e marcas de parágrafo. Isso pode ser efetuado mediante o seguinte botão da guia Inserir:

- (A) 
- (B) 
- (C) 
- (D) 
- (E) 

34. Considere o seguinte botão, presente no grupo Fonte da guia Página Inicial do MS-Word 2010.



Esse recurso do aplicativo

- (A) funciona como uma borracha, apagando todas as letras por onde passar o cursor do *mouse*.
- (B) limpa a formatação do texto selecionado, deixando-o sem formatação.
- (C) realiza a correção ortográfica do texto selecionado.
- (D) transforma todas as iniciais de palavras do texto selecionado em letras maiúsculas.
- (E) transforma todas as letras minúsculas em maiúsculas por onde passar o cursor do *mouse*.

35. Um usuário do MS-Word 2010 deseja inserir numeração de páginas em seu documento. A partir da guia Inserir, pode-se acionar o botão Número de Página, presente no grupo Cabeçalho e Rodapé. A partir dessa ação, duas das opções disponíveis para o posicionamento do número de páginas são:

- (A) Cabeçalho e Caixa de Texto.
- (B) Hiperlink e Referência Cruzada.
- (C) Início da Página e Fim da Página.
- (D) Margem Esquerda e Centro da Página.
- (E) Posição Atual e Posição Aleatória.

As questões de números 36 e 37 baseiam-se na tabela elaborada no MS-Excel 2010, em sua configuração padrão. Ela possui, na coluna C, totalizações diversas.

	A	B	C	D
1	Peça	Quantidade	Total	
2	parafuso 1	1000		
3	parafuso 2	200		
4	parafuso 3	500	1700	parafusos
5	porca 1	2500		
6	porca 2	250		
7	porca 3	600	3350	porcas
8	arruela 1	900		
9	arruela 2	150		
10	arruela 3	450	1500	arruelas
11			6550	peças


36. Sobre a coluna C, a alternativa que apresenta uma fórmula compatível com o valor presente na célula especificada é:

- (A) em C4: =SOMA(B2-B4)
- (B) em C7: =SUM (B5...B7)
- (C) em C10: =ADD(B8;B10)
- (D) em C11: =SOMA(C10;C7;C4)
- (E) em C11: =SOMATORIA(C2:C10)

37. Caso se deseje imprimir apenas a área delimitada pelas colunas A e B, até a linha 10, essa área deve ser marcada e o botão Área de Impressão selecionado, para que seja definida a área de impressão. Esse botão é encontrado na aba
- (A) Dados.
 (B) Exibição.
 (C) Início.
 (D) Inserir.
 (E) Layout da Página.
38. Considere o seguinte botão, presente na guia Página Inicial do MS-PowerPoint 2010.



O acionamento desse botão apresenta a possibilidade de, no texto selecionado,

- (A) alterar o espaçamento entre caracteres.
 (B) alterar sua orientação.
 (C) aumentar o tamanho da fonte.
 (D) limpar sua formatação.
 (E) sublinhá-lo.
39. Nos ambientes típicos de envio e recepção de correio eletrônico (*e-mail*), como o Outlook ou o Gmail, existe um ícone com a representação de um clipe () cuja utilidade é para
- (A) anexar um lembrete na mensagem recebida para leitura posterior.
 (B) anexar arquivo na mensagem.
 (C) arquivar a mensagem recebida na caixa de entrada.
 (D) marcar a mensagem como já lida.
 (E) marcar a mensagem como prioritária.
40. Um usuário de computador estava navegando pela internet, utilizando um navegador típico, em busca de informações sobre restaurantes, quando fechou acidentalmente a janela do navegador que continha um *site* com informações interessantes. Para recuperar, após a reabertura do navegador, o mesmo *site*, ele pode acessar, nesse navegador, o seguinte recurso:
- (A) armazenados.
 (B) *downloads*.
 (C) histórico.
 (D) favoritos.
 (E) temporários.

41. Nos termos da Lei Orgânica Municipal de São José dos Campos,
- (A) é garantida a participação popular nas decisões do Município, no aperfeiçoamento democrático de suas instituições e na fiscalização de seus órgãos, que se dará por meio de audiências públicas, conselhos populares e demais formas previstas em lei.
 (B) é garantida a participação popular nas decisões do Município e no aperfeiçoamento democrático de suas instituições, por meio de audiências públicas, exceto quanto à fiscalização de seus órgãos.
 (C) é garantida a participação popular nas decisões do Município, no aperfeiçoamento democrático de suas instituições e na fiscalização de seus órgãos, que se dará por meio de entrevistas particulares e consultas aos munícipes.
 (D) a participação popular nas decisões do Município será exercida excepcionalmente, nos termos e nos limites estabelecidos em lei específica.
 (E) a participação popular nas decisões do Município será exercida excepcionalmente, nos termos e nos limites estabelecidos em lei complementar.
42. Segundo o disposto na Lei Orgânica Municipal de São José dos Campos, a soberania popular será exercida pelo sufrágio universal, pelo voto direto e secreto, com igual valor para todos e mediante
- (A) decisão da Câmara Municipal.
 (B) proposição legislativa de vereador.
 (C) decisão do Prefeito.
 (D) consulta pública.
 (E) plebiscito.
43. Pedro, servidor público municipal, solicitou a Maria, sua superiora hierárquica, autorização para que pudesse imprimir seu trabalho acadêmico de conclusão de curso na repartição em que trabalham, durante o horário de expediente, alegando que não havia sido possível imprimi-lo em sua residência. Maria, consciente de se tratar de um excelente servidor, autorizou Pedro a utilizar materiais do órgão (papel e impressora) para a impressão de seu trabalho pessoal. Conforme estabelece o Estatuto dos Servidores Municipais de São José dos Campos,
- (A) Pedro não teria agido de forma proibida caso tivesse imprimido seu trabalho, no órgão público, fora do horário de expediente.
 (B) Pedro não teria agido de forma proibida caso seu trabalho acadêmico versasse sobre tema de interesse do órgão em que trabalha.
 (C) Pedro agiu de forma proibida, uma vez que não é permitida a utilização de material da repartição pública em atividades particulares.
 (D) Pedro não agiu de forma proibida porque foi devidamente autorizado por sua superiora hierárquica.
 (E) Pedro não agiu de forma proibida porque acredita que repõe o material utilizado sendo um excelente servidor.

44. À luz da Constituição Federal, é correto afirmar que

- (A) todos têm direito a receber dos órgãos públicos informações de seu interesse particular, mediante motivação, e desde que haja interesse público no fornecimento da informação.
- (B) todos têm direito a receber dos órgãos públicos informações de seu interesse particular, ou de interesse coletivo ou geral, sendo vedado ao Estado negar tal direito mediante a alegação de que o sigilo é imprescindível à segurança da sociedade e do Estado.
- (C) é a todos assegurado, independentemente do pagamento de taxas, o direito de petição aos Poderes Públicos em defesa de direito ou contra ilegalidade ou abuso de poder.
- (D) é a todos assegurado, mediante o pagamento de taxas, o direito de petição aos Poderes Públicos em defesa de direito ou contra ilegalidade ou abuso de poder.
- (E) é a todos assegurada, mediante o pagamento de taxas, a obtenção de certidões em repartições públicas, para defesa de direitos de caráter geral.

45. A Constituição Federal estabelece que o servidor público estável

- (A) perde o cargo caso este seja extinto ou declarada a sua desnecessidade.
- (B) pode perder o cargo mediante procedimento de avaliação periódica de desempenho, na forma de lei complementar, assegurada ampla defesa.
- (C) pode perder o cargo mediante sindicância devidamente instaurada para a apuração de fatos ocorridos no exercício do cargo.
- (D) pode perder o cargo mediante decisão motivada de seu superior hierárquico.
- (E) não está sujeito à perda do cargo.

ATUALIDADES

46. (...) ganhou o Emmy Internacional de melhor atriz em cerimônia realizada na noite desta segunda-feira, em Nova York. A atriz brasileira foi premiada por sua atuação no especial de fim de ano da Rede Globo *Doce de Mãe*, exibido em dezembro de 2012. O Emmy Internacional contempla produções realizadas fora dos Estados Unidos.

(<http://veja.abril.com.br>, 26.11.2013)

Essa atriz brasileira é

- (A) Aracy Balabanian.
- (B) Fernanda Montenegro.
- (C) Glória Pires.
- (D) Regina Duarte.
- (E) Sonia Braga.

47. O grupo de seis países conhecido como G5+1 finalizou na madrugada deste domingo (24), após quatro dias de negociações, um acordo de seis meses com o Irã que prevê a redução do programa nuclear iraniano em troca (...).

(<http://noticias.uol.com.br>, 24.11.2013)

Em troca desse acordo com as seis potências,

- (A) o Irã poderá aumentar o enriquecimento de urânio.
- (B) os bens de iranianos no exterior foram bloqueados.
- (C) Israel fez o reconhecimento oficial do governo iraniano.
- (D) as sanções econômicas ao Irã foram aliviadas.
- (E) o Irã ficará livre das inspeções de agentes da ONU.

48. Depois de um processo que se arrastou por mais de 12 anos, o ministro da Defesa, Celso Amorim, anunciou nesta quarta-feira que o governo brasileiro comprará 36 caças Gripen NG, da fabricante (...) Saab. O pacote foi fechado por US\$ 4,5 bilhões, um preço bem inferior ao estimado pelo mercado, que girava em torno de US\$ 7 bilhões. O primeiro avião só deverá estar pronto para voar em 2018.

(<http://oglobo.globo.com>, 18.12.2013)

A empresa que ganhou essa concorrência é

- (A) chinesa.
- (B) francesa.
- (C) inglesa.
- (D) russa.
- (E) sueca.

49. O governo anunciou nesta sexta-feira (24) que permitirá a compra de divisas estrangeiras pela população para posse e economia, em um momento em que o peso sofre a maior desvalorização em relação ao dólar em mais de uma década. O governo também decidiu diminuir de 35% para 20% a antecipação do imposto que incide sobre a compra de dólares para turismo e nas compras no exterior com cartão de crédito.

Os dólares têm sido escassos no país por causa da fraqueza de suas exportações, do baixo nível de investimento externo devido à desconfiança quanto à economia e pela falta de acesso aos mercados de crédito internacionais após o enorme *default* em 2002.

(<http://g1.globo.com>, 24.01.2014. Adaptado)

A notícia refere-se à

- (A) Argentina.
 - (B) Colômbia.
 - (C) Espanha.
 - (D) Grécia.
 - (E) Venezuela.
50. O Banco Central anunciou (...) na noite desta quarta-feira (26). Esse é o principal mecanismo de política monetária para conter a alta da inflação.

(<http://economia.ig.com.br>. 26.02.2014. Adaptado)

Esse mecanismo do Banco Central é

- (A) a diminuição do superávit comercial.
- (B) o fim das faixas de alíquota do imposto de renda.
- (C) a elevação da taxa básica de juros.
- (D) o repasse de verbas para as obras da União.
- (E) a proibição de investimentos estrangeiros em ações.

