



UNIVERSIDADE FEDERAL DE MATO GROSSO

Pró-Reitoria Administrativa

Concurso Público

Edital 012/PROAD/SGP/2012

Superior

Cargo

ENFERMEIRO

Caderno de Prova

Nome do Candidato

Número de Inscrição

							-	
--	--	--	--	--	--	--	---	--

Assinatura do Candidato

--

INSTRUÇÕES

LEIA COM ATENÇÃO

1. Este Caderno de Prova, com páginas numeradas de 1 a 15, é constituído de **40 (quarenta)** questões objetivas, cada uma com quatro alternativas, assim distribuídas:

01 a 10 – Língua Portuguesa

11 a 20 – Informática Básica

21 a 40 – Conhecimentos Específicos

2. Caso o Caderno de Prova esteja incompleto ou tenha qualquer defeito de impressão, solicite ao fiscal que o substitua.
3. **Sobre a Marcação do Cartão de Respostas**

As respostas deverão ser, obrigatoriamente, transcritas com caneta esferográfica de tinta preta não porosa para o Cartão de Respostas, que será o único documento válido para correção. Não haverá substituição do Cartão de Respostas por erro do candidato.

- 3.1. Para cada questão existe apenas uma alternativa que a responde acertadamente. Para a marcação da alternativa escolhida no **CARTÃO DE RESPOSTAS**, pinte completamente o campo correspondente.

Exemplo: Suponha que para determinada questão a alternativa **C** seja a escolhida.

N.º da Questão
<input type="radio"/> A
<input type="radio"/> B
<input checked="" type="radio"/> C
<input type="radio"/> D

- 3.2. Será invalidada a questão em que houver mais de uma marcação, marcação rasurada ou emendada, ou não houver marcação.
- 3.3. Não rasure nem amasse o **CARTÃO DE RESPOSTAS**.
4. A duração da prova é de **quatro** horas, já incluído o tempo destinado ao preenchimento do **CARTÃO DE RESPOSTAS** e a coleta de impressão digital de candidatos.
5. Todos os espaços em branco, neste caderno, podem ser utilizados para rascunho.
6. Será permitida a saída de candidatos da sala de prova **somente** após decorridas **duas horas e trinta minutos** do início da prova. Nesse caso, o candidato deverá entregar, **obrigatoriamente**, ao fiscal o Caderno de Prova e o Cartão de Respostas.
7. O candidato que insistir em sair da sala de prova antes de transcorridas **duas horas e trinta minutos** do início da prova deverá assinar **Termo de Ocorrência** declarando **desistência** do Concurso.
8. Será permitida a saída de candidatos levando o Caderno de Prova **somente quando estiver faltando trinta minutos** para o término da prova.
9. Na página 15 deste Caderno de Prova encontra-se a **Folha de Anotação do Candidato**, a qual poderá ser utilizada para a transcrição das respostas das questões objetivas, destacada e levada pelo candidato para posterior conferência com o gabarito.
10. Terminada a prova, o candidato deverá, **obrigatoriamente**, entregar ao fiscal o **CARTÃO DE RESPOSTAS**.

LÍNGUA PORTUGUESA

INSTRUÇÃO: Leia atentamente o artigo abaixo e responda às questões de 01 a 07.

O instinto animal

- 1 Alguns traduzem por “instinto animal” o que o economista inglês John Maynard Keynes na década de 30 descreveu como “animal spirit”, isto é, espírito animal. Nesse artigo, tomo a expressão como nossa capacidade geral de sentir, pressentir algo, e agir conforme. [...]
- 5 Não me parece muito apurado o espírito animal que, nas palavras de uma autoridade, declara que empregar 7% do PIB em educação (e 10% em mais alguns anos) vai “quebrar o país”. Educação não quebra nada: só constrói. Sendo bom esse instinto, o fator educação terá de ser visto como o mais importante de todos. Aquele, sólido e ótimo, sem o qual não há crescimento, não há economia saudável, não há felicidade. Uso sem medo o termo “felicidade”, pois não me refiro a uma cômoda alienação e ignorância dos problemas, mas ao mínimo de harmonia interna pessoal, e com o mundo que nos rodeia. Não precisar ter angústias extremas com relação ao essencial para a nossa dignidade: moradia, alimentação, saúde, trabalho.
- 10 Como base para tudo isso, educação. Educação que pode consumir bem mais que 7% do PIB sem quebrar coisa alguma, exceto nossa miséria nascida da ignorância; nossas escolhas erradas nascidas da desinformação; nossa má qualidade de vida; e a falta de visão quanto àquilo que temos direito de receber ou de conquistar, com a plena consciência que nasce da educação.
- 15 A verdadeira democracia só floresce no terreno da boa educação e ótima informação de seu povo. Pois não será governo de todos o comando dos poucos que estudaram bem, os informados, levando pela argola do nariz de bicho domesticado milhões e milhões de seres humanos cegos, aflitos ou alienados, que não sabem; e que, se quiserem boa educação desde as bases da infância, correm o risco de ser acusados de querer quebrar o país.
- 20 Precisamos medir nossas palavras: cuidar do que dizemos, do que escrevemos, e também do que pensamos e não dizemos. Podem acusar quanto quiserem os empresários, os louros de olhos azuis, as elites, os ricos, os intelectuais, não importa; mas não acusem de querer o mal da nação aqueles que batalham pela mera sobrevivência ou por uma vida melhor, num orçamento que tenha a educação como prioridade. Pois não é certo que da treva sempre nasce a luz: dela brotam como flores fatídicas o sofrimento, a miséria, a subserviência. Na treva da ignorância nasce o atraso, de suas raízes se alimenta a pobreza em todos os sentidos, financeira, moral, intelectual. Uma educação bem cuidada e fomentada, com professores bem pagos, boas escolas desde a creche até a universidade, com orientação sadia e não ideológica, realmente cultural, aberta ao
- 25 mundo e não isolacionista, grande e não rasa, promove crescimento, nos insere no chamado concerto das nações, e nos torna respeitados – nos faz incluídos, consultados, procurados.
- [...]

(LUFT, Lya. In revista VEJA, 18/07/2012.)

QUESTÃO 01

A tese defendida pela articulista é:

- [A] Educação aberta ao mundo oferece felicidade e esperança para quem ainda não se sente respeitado e incluído.
- [B] Educação deve ser o fator mais cuidado em um país para que os cidadãos sejam fortalecidos intelectual e materialmente.
- [C] Oferecer educação de boa qualidade ao povo causa descompasso econômico em países que empregam mais de 7% do PIB nessa área.
- [D] O instinto animal, em se tratando de governos e empresários, deve voltar-se para uma educação de base.

QUESTÃO 02

Qual argumento **NÃO** é usado pela articulista para fundamentar sua tese?

- [A] Sendo bom esse instinto, o fator educação terá de ser visto como o mais importante de todos.
- [B] A verdadeira democracia só floresce no terreno da boa educação e ótima informação de seu povo.
- [C] Na treva da ignorância nasce o atraso, de suas raízes se alimenta a pobreza em todos os sentidos, financeira, moral, intelectual.
- [D] Educação que pode consumir bem mais que 7% do PIB sem quebrar coisa alguma, exceto nossa miséria nascida da ignorância

QUESTÃO 03

Qual fato dá base para a crítica veemente de Luft neste artigo?

- [A] Pessoas que não tiveram boa educação desde a infância serem acusadas de querer quebrar o país.
- [B] A falta de visão do brasileiro que não sabe seus direitos à moradia, à alimentação, saúde, segurança.
- [C] Uma autoridade afirmar que empregar 7% do PIB na educação vai quebrar o país.
- [D] Os empresários, as elites, os ricos acusarem de querer mal ao país os que lutam para ter a educação como prioridade.

QUESTÃO 04

Quanto à posição da articulista sobre educação, marque V para as afirmativas verdadeiras e F para as falsas.

- () Quando o povo vive a ignorância, é fadado à pobreza tanto material quanto intelectual.
- () Não conhecer seus direitos, fazer escolhas erradas, ter má qualidade de vida são fatores advindos da falta de educação de boa qualidade.
- () Uma educação de qualidade é fruto dos esforços de instituições, de empresários comprometidos com investimentos nessa área.
- () Um povo que não tem educação de boa qualidade pode tornar-se subserviente ao seu governo.

Assinale a sequência correta.

- [A] V, F, V, F
- [B] F, V, F, F
- [C] V, V, F, V
- [D] F, F, V, V

QUESTÃO 05

O trecho *Pois não será governo de todos o comando dos poucos que estudaram bem, os informados, levando pela argola do nariz de bicho domesticado milhões e milhões de seres humanos cegos, aflitos ou alienados, que não sabem* faz clara referência

- [A] à falta de inteligência dos políticos.
- [B] aos governos democráticos.
- [C] à debilidade financeira.
- [D] ao voto de cabresto.

QUESTÃO 06

O termo *Aquele* (linha 6) retoma o sentido de

- [A] PIB brasileiro.
- [B] instinto ou espírito.
- [C] crescimento.
- [D] fator educação.

QUESTÃO 07

No segundo parágrafo do artigo, há presença de dois conectores, *pois* (linha 7) e *mas* (linha 8). A relação de sentido estabelecida por eles, respectivamente, é de:

- [A] contraste e adição.
- [B] explicação e oposição.
- [C] conclusão e oposição.
- [D] explicação e conclusão.

INSTRUÇÃO: A peça publicitária da marca Nike tem o atleta campeão Jardel Gregório como protagonista. Leia-a e responda às questões de 08 a 10.

Eu nasci pobre.
Fui criado sem pai.
Fui pedreiro.
Fui sorveteiro.
Eu andava na rua e as pessoas mudavam de calçada.
Eu me converti ao islamismo num país católico.
Escolhi o salto triplo na terra do futebol.
Eu podia ter desistido.
Pare de arrumar desculpas.



(Gramática: ensino médio. Obra coletiva, São Paulo: Edições SM, 2012.)

QUESTÃO 08

Sobre a propaganda, marque V para as afirmativas verdadeiras e F para as falsas.

- () A fala do atleta é uma resposta às pessoas sedentárias que não se preocupam com esportes.
- () Valores como vontade de vencer, superação, perseverança estão implícitos nas afirmações do atleta.
- () O anunciante usa o depoimento do atleta, dado como herói, para associar valores à marca anunciada.
- () O anúncio biográfico formata um slogan: quem usa Nike é campeão.

Assinale a sequência correta.

- [A] F, V, V, F
- [B] F, F, V, V
- [C] V, V, F, V
- [D] V, F, V, F

QUESTÃO 09

Em relação à linguagem verbal e não verbal do texto, analise as afirmativas.

- I - A imagem do atleta em primeiro plano, imponente, musculoso, com ar de vitória enfatiza a coragem e o sucesso.
- II - A expressão do olhar é pista de que o atleta pouco se importa em ser usado na propaganda como símbolo negro.
- III - A expressão em inglês Just do it, escrita em branco e em tamanho maior do que a fala do atleta, e o endereço eletrônico no canto inferior esquerdo contribuem para a construção do sentido da propaganda.

Está correto o que se afirma em

- [A] II e III, apenas.
- [B] I e III, apenas.
- [C] II, apenas.
- [D] I, II e III.

QUESTÃO 10

A coluna da esquerda apresenta situações vividas pelo atleta e a da direita, trechos da fala biográfica. Numere a coluna da direita de acordo com a da esquerda.

- | | |
|-----------------|---|
| 1 – Adversidade | () Pare de arrumar desculpas. |
| 2 – Decisão | () Nasci pobre. Fui criado sem pai. |
| 3 – Provocação | () Eu me converti ao islamismo num país católico. |
| | () Escolhi o salto triplo na terra do futebol. |
| | () Eu andava na rua e as pessoas mudavam de calçada. |

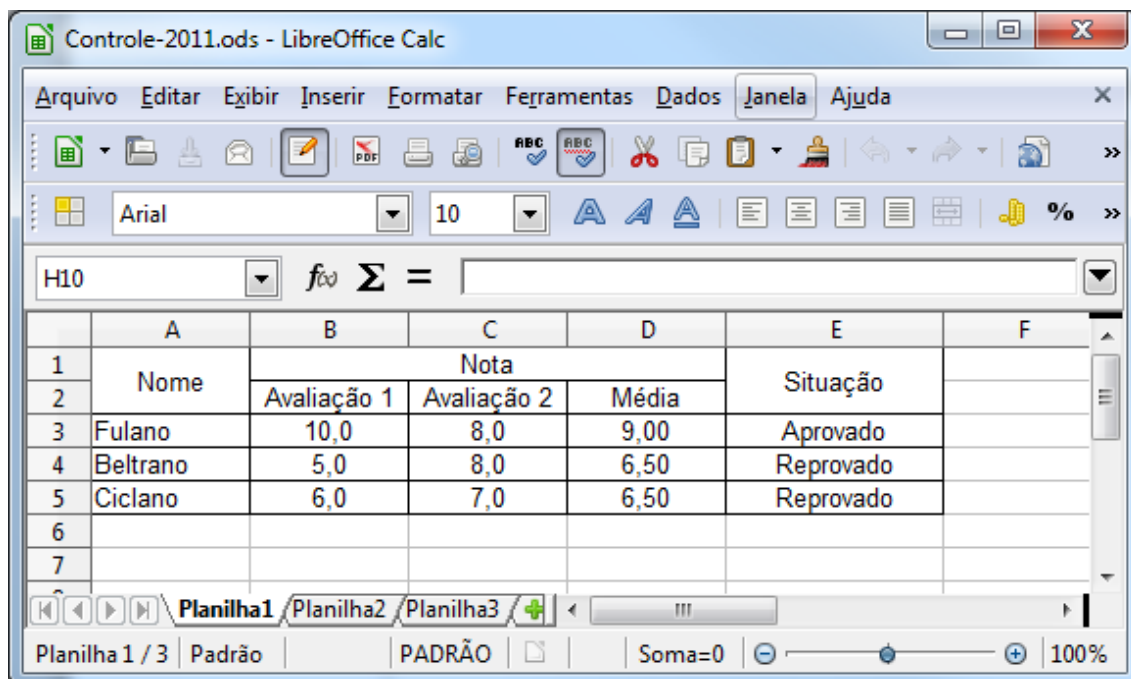
Assinale a sequência correta.

- [A] 3, 1, 2, 2, 1
- [B] 2, 3, 1, 2, 1
- [C] 3, 2, 2, 1, 3
- [D] 2, 1, 1, 3, 3

INFORMÁTICA BÁSICA

QUESTÃO 11

A figura abaixo apresenta uma janela do LibreOffice Calc 3.5.5 (Idioma Português).



De acordo com a figura, analise as afirmativas.

- I - O cálculo da média das avaliações do aluno Fulano pode ser feito pela fórmula =MÉDIA(B3;C3)
- II - Outra forma de calcular a média das avaliações do aluno Fulano é pela fórmula =B3+C3/2
- III - Se a média para aprovação for 7, uma das formas de mostrar corretamente se o aluno Beltrano foi aprovado ou reprovado é pela fórmula =SE(D4>=7;"Reprovado";"Aprovado")
- IV - Ao mesclar as células B1, C1 e D1, a célula resultante passará a ser referenciada como B1

Está correto o que se afirma em

- [A] I e III, apenas.
- [B] II e III, apenas.
- [C] I e IV, apenas.
- [D] II e IV, apenas.

QUESTÃO 12

A coluna da esquerda apresenta recursos do LibreOffice Writer 3.5.5 (idioma Português) e a da direita, suas funcionalidades. Numere a coluna da direita de acordo com a da esquerda.

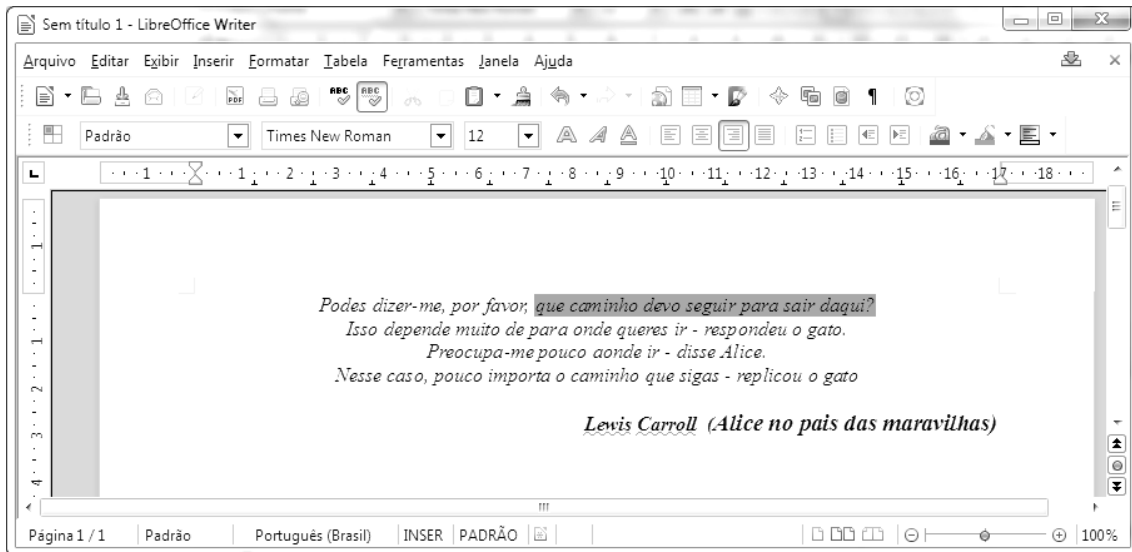
- | | |
|---|-------------------------------|
| 1 -  | () Galeria |
| 2 -  | () Mostrar função de desenho |
| 3 -  | () <i>Hyperlink</i> |
| 4 -  | () Fontes de dados |

Marque a sequência correta.

- [A] 1, 2, 3, 4
- [B] 2, 1, 4, 3
- [C] 4, 1, 2, 3
- [D] 3, 2, 1, 4

QUESTÃO 13

A figura abaixo apresenta uma janela do LibreOffice Writer 3.5.5 (Idioma Português) com um texto.



De acordo com a figura, analise as afirmativas.

- I - Para fazer a marcação apresentada na primeira linha do texto foi utilizada a opção Realçar.
- II - Para a marcação apresentada na primeira linha do texto foi utilizada a opção Cor do plano de fundo.
- III - A configuração da margem esquerda é de 2,00 cm.
- IV - A configuração das margens direita e superior é de 1,00 cm.

Está correto o que se afirma em

- [A] I e IV, apenas.
- [B] II e III, apenas.
- [C] II e IV, apenas.
- [D] I e III, apenas.

QUESTÃO 14

Sobre o Firefox 13.0 (idioma Português), marque V para as afirmativas verdadeiras e F para as falsas.

- () Contém um recurso para bloqueio de *popup*.
- () Não permite abrir páginas HTTPS.
- () Não permite bloquear sites avaliados como focos de ataque.
- () Possibilita a memorização de senhas de sites.

Assinale a sequência correta.

- [A] F, V, V, F
- [B] V, F, V, F
- [C] V, F, F, V
- [D] F, V, F, V

QUESTÃO 15

Sobre meios de armazenamento de dados, marque V para as afirmativas verdadeiras e F para as falsas.

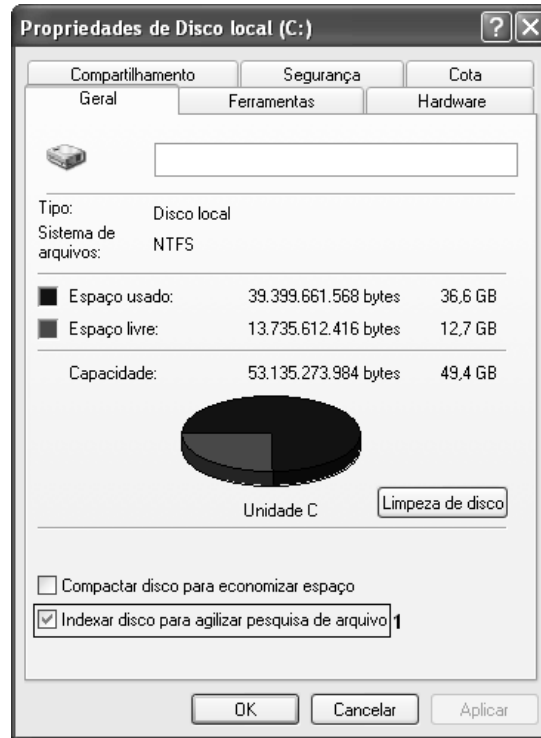
- () O setor 0 (zero) do disco rígido é chamado de MBR (*Master Boot Record*).
- () SRAM, DRAM e SDRAM são tipos de memórias voláteis.
- () ROM, PROM, EPROM, EEPROM são tipos de memórias não voláteis.
- () A memória *flash* é uma memória do tipo volátil.

Assinale a sequência correta.

- [A] F, V, F, V
- [B] V, V, V, F
- [C] V, F, V, V
- [D] F, F, F, F

QUESTÃO 16

A figura abaixo ilustra a janela **Propriedades de Disco Local (C:)** do Microsoft Windows XP.



Sobre a figura, analise as afirmativas.

- I - A opção **Indexar disco para agilizar pesquisa de arquivo**, identificada pelo número 1, possibilita criptografar os arquivos do disco.
- II - A guia/aba **Hardware** possui, dentre outros, recurso para realização de *backup* da unidade de disco.
- III - Na guia/aba **Compartilhamento**, é possível compartilhar a unidade C: com outros usuários.
- IV - Na guia/aba **Cota**, pode-se ativar o gerenciamento de cota, que permite controlar a quantidade de espaço em disco utilizada por usuários individualmente.

Estão corretas as afirmativas

- [A] III e IV, apenas.
- [B] II e III, apenas.
- [C] I, III e IV, apenas.
- [D] I e II, apenas.

QUESTÃO 17

A figura abaixo apresenta uma planilha desenvolvida no Microsoft Excel 2007 (idioma Português).

	A	B	C	D	E
1	10	8	6	50	
2	4	12	20		
3					
4					

De acordo com a planilha, qual fórmula **NÃO** retorna o valor apresentado na célula D1?

- [A] =SOMA(A1;A2;C1;C2;B1;B2)-MÉDIA(A1;C2)
- [B] =SOMA(A2;A1)-MÉDIA(C2;A1)
- [C] =(2*C2+A1)+B2+B1-C2
- [D] =SOMA(A1;C2)-MÉDIA(A1;C2)

QUESTÃO 18

A Figura I ilustra um texto elaborado no Microsoft Word 2007 (idioma Português) e a Figura II apresenta a caixa de diálogo **Parágrafo** correspondente ao texto selecionado na Figura I, com algumas regiões numeradas de 1 a 4.

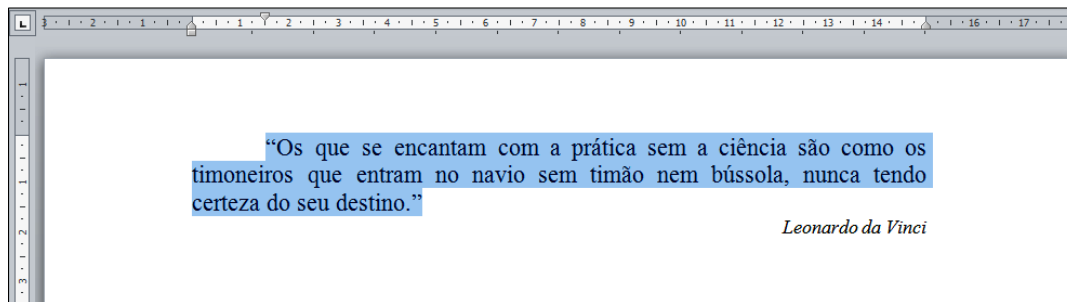


Figura I

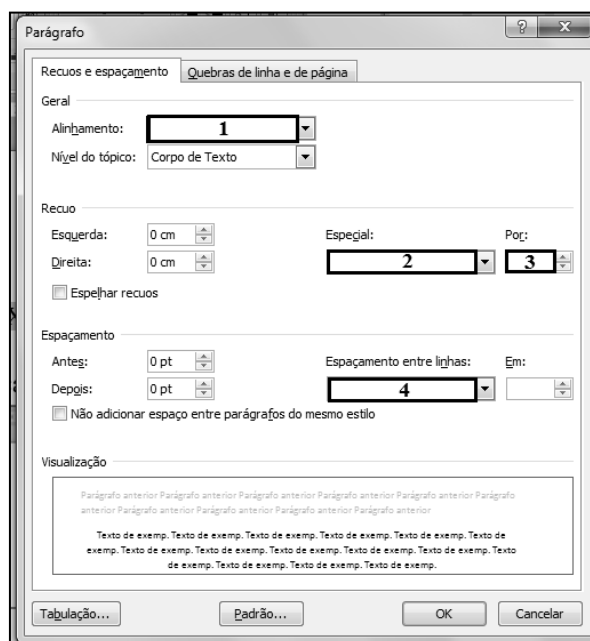


Figura II

De acordo com as figuras, assinale a alternativa que apresenta o preenchimento correto das regiões numeradas de 1 a 4 na Figura II.

- [A] 1 – Centralizado; 2- Deslocamento; 3- 1,5 cm; 4- Duplo
- [B] 1 – Justificado; 2- Primeira Linha; 3- 0 cm; 4- Simples
- [C] 1 – Direita; 2- Primeira Linha; 3- 1,5 cm; 4- Duplo
- [D] 1 – Justificado; 2- Primeira Linha; 3- 1,5 cm; 4- Simples

QUESTÃO 19

Sobre correio eletrônico (*e-mail*), marque V para as afirmativas verdadeiras e F para as falsas.

- () O protocolo SMTP (*Simple Mail Transfer Protocol*) é utilizado para envio de *e-mails* pela Internet.
- () O protocolo POP3 (*Post Office Protocol*) é utilizado no acesso a uma caixa de correio eletrônico.
- () *Webmail* é uma interface que possibilita ao usuário enviar/receber mensagens de *e-mail* por meio de um navegador conectado à Internet.
- () `josé_b@lão@casadasogra.com.br` não é um endereço de correio eletrônico válido.

Assinale a sequência correta.

- [A] F, F, V, V
- [B] V, F, F, V
- [C] V, V, V, V
- [D] F, V, V, F

QUESTÃO 20

A figura abaixo ilustra a barra de ferramentas do Microsoft Internet Explorer 8, com alguns botões identificados de 1 a 7.



Numere as afirmativas de 1 a 7 de acordo com a função de cada botão.

- () Fornece uma exibição reduzida (miniatura) de todas as guias abertas.
- () Retorna à página anterior no histórico de navegação.
- () Adiciona a página atual à barra de favoritos.
- () Exibe a página inicial.
- () Avança para a próxima página no histórico de navegação.
- () Exibe uma lista de todos os *sites* que estão abertos.
- () Exibe uma lista das últimas páginas visitadas.

Assinale a sequência correta.

- [A] 4, 1, 5, 7, 2, 3, 6
- [B] 7, 2, 4, 6, 1, 5, 3
- [C] 5, 1, 4, 7, 2, 6, 3
- [D] 3, 2, 7, 5, 1, 4, 6

CONHECIMENTOS ESPECÍFICOS

QUESTÃO 21

Segundo a Lei do Exercício Profissional, é vedado ao Enfermeiro obstetra:

- [A] Realizar parto distócico.
- [B] Realizar episiotomia e episiorrafia e aplicar anestesia local.
- [C] Participar de projetos de construção ou reforma de unidades de internação.
- [D] Prescrever medicamentos estabelecidos em programas de saúde pública.

QUESTÃO 22

A respeito da exposição ocupacional a materiais biológicos, analise as afirmativas.

- I - Os acidentes de trabalho com sangue e outros fluidos potencialmente contaminados devem ser tratados como emergência médica.
- II - As mordeduras humanas devem ser consideradas como exposição de risco quando envolvem a presença de sangue.
- III - As lesões cutâneas são provocadas por instrumentos perfurantes e cortantes.
- IV - A solicitação de teste anti-HIV do paciente-fonte está condicionada à realização de aconselhamento pré e pós-teste.

Está correto o que se afirma em

- [A] II e III, apenas.
- [B] I e IV, apenas.
- [C] I, III e IV, apenas.
- [D] I, II e IV, apenas.

QUESTÃO 23

Na política de Humanização do SUS, a classificação de risco tem como objetivo:

- [A] Diminuir a sobrecarga no pronto socorro.
- [B] Reduzir o tempo de atendimento do médico para que este possa atender mais pacientes.
- [C] Avaliar o paciente logo na sua chegada ao pronto socorro, humanizando o atendimento.
- [D] Promover ampla informação sobre o serviço aos usuários.

QUESTÃO 24

A etiologia da infecção hospitalar envolve fatores intrínsecos e extrínsecos ao organismo. Numere os exemplos apresentados na coluna da direita de acordo com os fatores na coluna da esquerda.

- | | | |
|----------------------|-----|------------------------------|
| 1 – Fator intrínseco | () | Dispositivo respiratório |
| | () | Imunodepressão |
| 2 – Fator extrínseco | () | Quimioterapia |
| | () | Cateter de curta permanência |
| | () | Extremos de idade |

Marque a sequência correta.

- [A] 2, 1, 1, 2, 1
[B] 2, 1, 2, 1, 2
[C] 1, 2, 2, 2, 1
[D] 1, 2, 1, 1, 2

QUESTÃO 25

Sobre hipoglicemia, marque V para as afirmativas verdadeiras e F para as falsas.

- () Os sintomas adrenérgicos típicos aparecem na hipoglicemia continuada e incluem taquicardia, palpitações, vertigem, ansiedade, disfunção da fala, sinais neurológicos focais.
() Os sinais e sintomas dependem da concentração inicial de glicemia e da rapidez da diminuição dos níveis de glicemia.
() Considera-se hipoglicemia em adultos quando os valores da glicose sanguínea estão abaixo de 70 mg/dL.
() A primeira medida a ser tomada, em pacientes com hipoglicemia que estejam conscientes, é administrar via oral balas de açúcar ou refrigerante não dietético ou mel.
() A hipoglicemia aguda pode ser do tipo reativa ou alimentar, de jejum e farmacológica.

Marque a sequência correta.

- [A] V, F, V, F, V
[B] F, F, V, V, F
[C] F, V, F, V, V
[D] V, V, F, F, F

QUESTÃO 26

NÃO é habilidade de liderança na Administração aplicada à Enfermagem:

- [A] Utilizar a rede informal de comunicação com seus subordinados.
[B] Reconhecer o status, o poder e a autoridade como forma de gestão.
[C] Pensar globalmente e agir localmente.
[D] Utilizar a percepção para interpretar mensagens.

QUESTÃO 27

Em relação ao Programa de Saúde da Família (PSF), marque V para as afirmativas verdadeiras e F para as falsas.

- () A referência e a contrarreferência na Unidade de Saúde da Família é considerada uma técnica de escolha, embora haja falhas.
() Com a implantação do PSF, deve haver criação de novas unidades de atendimento à saúde, para garantir maior número de atendimento.
() Cada equipe do PSF deve ser capacitada para elaborar, com a participação da comunidade, um plano local para enfrentar os determinantes do processo saúde/doença.
() Cada área da Unidade de Saúde da Família fica sob a responsabilidade de um agente de saúde.
() Privilegia a demanda programada.

Assinale a sequência correta.

- [A] F, V, F, F, V
[B] V, F, V, F, V
[C] F, V, V, F, F
[D] V, F, V, V, F

QUESTÃO 28

A coluna da esquerda apresenta fatores que geram risco à gestante, segundo o Ministério da Saúde, e a da direita, seus grupos correspondentes. Numere a coluna da direita de acordo com a da esquerda.

- | | | |
|---|-----|---|
| 1 – Características individuais | () | Dependência de drogas ilícitas |
| 2 – História reprodutiva anterior | () | Ganho ponderal inadequado |
| 3 – Doenças obstétricas na gravidez atual | () | Crise convulsiva |
| 4 – Intercorrências clínicas | () | RN com crescimento retardado, pré-termo ou malformado |

Assinale a sequência correta.

- [A] 2, 1, 3, 4
[B] 3, 4, 2, 1
[C] 4, 2, 1, 3
[D] 1, 3, 4, 2

QUESTÃO 29

Sobre as diretrizes formuladas no Pacto pela Saúde do SUS, analise as afirmativas.

- I - A programação pactuada e integrada da atenção à saúde deve explicitar a parcela de recursos destinados à população própria do município e à população referenciada no processo de pactuação entre municípios.
- II - Fica estabelecida a criação de apenas três blocos de recursos federais, atenção básica, atenção de média e alta complexidade e vigilância em saúde, para custeio de ações e serviços do SUS.
- III - O processo de contratação de serviços, a regulação assistencial, o controle, avaliação e auditoria assistenciais, juntamente com as regulamentações da vigilância epidemiológica e sanitária, constituem as ações de regulação da atenção à saúde.
- IV - O objetivo principal é progredir na implantação dos princípios constitucionais referentes à saúde no Brasil e definir as responsabilidades de gestão de cada unidade federativa.

Está correto o que se afirma em

- [A] I, II e III, apenas.
[B] II e III, apenas.
[C] I, III e IV, apenas.
[D] I e IV, apenas.

QUESTÃO 30

Em relação às vacinas, marque V para as afirmativas verdadeiras e F para as falsas.

- () São produtos termolábeis, ou seja, devem ser conservados em geladeira a 25° C.
- () As seguintes vacinas são aplicadas via subcutânea: febre amarela, influenza, tríplice viral e pneumo 23.
- () A vacina contra febre amarela e a BCG perdem a validade após 6 horas abertas.
- () A vacina pneumo 23 e a contra raiva humana são de uso imediato.

Assinale a sequência correta.

- [A] F, F, F, V
[B] F, F, V, V
[C] F, V, V, V
[D] V, V, F, F

QUESTÃO 31

O Sr. J. B. apresenta níveis séricos de potássio superiores a 5,0 mEq/L, levando à hipercalemia. Dois dos possíveis diagnósticos de enfermagem são diminuição do débito cardíaco e alto risco de lesão. **NÃO** é intervenção de enfermagem nessa situação:

- [A] Incentivar a hiperalimentação de substâncias ricas em potássio, evitando as câimbras nos membros inferiores.
[B] Verificar o débito urinário antes da administração de qualquer medicamento contendo potássio.
[C] Verificar os níveis séricos de potássio antes da administração de qualquer medicamento contendo potássio.
[D] Monitorar o débito cardíaco e manter a monitorização cardíaca.

QUESTÃO 32

Ao realizar o curativo em uma ferida, o Enfermeiro tem como princípio promover a cicatrização. Marque a intervenção correta em relação ao processo de cicatrização.

- [A] Realizar curativo oclusivo de ferida fechada, mantendo a primeira cobertura úmida.
- [B] Manter o leito da ferida úmido para estimular o tecido de granulação.
- [C] Retirar corpos estranhos, crostas ou fibrinas do leito da ferida com movimentos de fricção.
- [D] Orientar a retirada de pontos contínuos de uma ferida cirúrgica de colecistectomia após três dias.

QUESTÃO 33

Na infusão intravenosa, o Enfermeiro deve estar atento a vários cuidados que envolvem o antes, o durante e o depois da administração do medicamento. Sobre o assunto, marque V para as afirmativas verdadeiras e F para as falsas.

- () A abertura dos horários dos medicamentos precisa estar relacionada à individualização do cuidado a cada paciente, evitando padronização.
- () A osmolaridade da droga influencia na escolha do dispositivo intravenoso e o local da punção.
- () Uma das causas de flebite química está relacionada à osmolaridade da droga acima de 600 mOsm/L.
- () Os medicamentos vesicantes, quando extravasados acidentalmente, poderão causar sérios danos aos tecidos adjacentes.

Assinale a sequência correta.

- [A] F, V, F, F
- [B] V, F, V, F
- [C] V, F, F, V
- [D] V, V, V, V

QUESTÃO 34

A pressão do sangue reflete as inter-relações do débito cardíaco, resistência vascular periférica, volume sanguíneo, viscosidade sanguínea e elasticidade das artérias. Em relação à fisiologia da pressão arterial, marque a afirmativa correta.

- [A] A pressão arterial depende do débito cardíaco de uma pessoa, que corresponde ao volume de sangue bombeado pelo coração durante um minuto.
- [B] A pressão arterial aumenta quanto maior a luz de um vaso, diminuindo a resistência periférica.
- [C] A pressão arterial sistólica diminui devido à elasticidade reduzida que leva à maior resistência ao fluxo sanguíneo.
- [D] A pressão arterial se eleva quando o hematócrito está normal e o fluxo sanguíneo fica mais rápido.

QUESTÃO 35

A coluna da esquerda apresenta alguns transtornos respiratórios e a da direita, os conceitos desses transtornos. Numere a coluna da direita de acordo com a da esquerda.

- | | | |
|-----------------------|-----|--|
| 1 – Pneumonia | () | Fechamento ou colapso dos alvéolos. |
| 2 – Atelectasia | () | Processo inflamatório crônico das vias aéreas superiores. |
| 3 – Enfisema pulmonar | () | Distensão anormal dos espaços aéreos distais aos bronquíolos terminais, com destruição das paredes alveolares. |
| 4 – Asma | () | Processo inflamatório que acomete o parênquima pulmonar, geralmente causado por microrganismos patogênicos. |

Marque a sequência correta.

- [A] 4, 2, 1, 3
- [B] 3, 1, 2, 4
- [C] 2, 4, 3, 1
- [D] 1, 3, 4, 2

QUESTÃO 36

O Sistema de Informação em Saúde (SIS) é um componente estratégico à organização e funcionamento do Sistema de Saúde. **NÃO** é função essencial do SIS:

- [A] Subsidiar a educação e a promoção da saúde.
- [B] Apoiar as atividades de pesquisa e produção de conhecimentos.
- [C] Respaldar a operação diária e a gestão da atenção à saúde.
- [D] Controlar as ações educativas da equipe de saúde junto à comunidade.

QUESTÃO 37

Em epidemiologia, o termo “coeficiente ou taxa” significa a relação entre o número de eventos reais e o dos que poderiam acontecer. Sobre os diferentes tipos de coeficiente, marque V para as afirmativas verdadeiras e F para as falsas.

- () Coeficiente de morbidade é a relação entre o número de casos de uma doença e a população exposta a adoecer.
- () Coeficiente de mortalidade é a relação entre a frequência absoluta de óbitos e o número dos expostos ao risco de morrer.
- () Coeficiente de incidência é aquele que mede a força com que subsiste a doença na coletividade.
- () Coeficiente de prevalência é a razão entre o número de casos novos de uma doença que ocorre numa coletividade e a população exposta ao risco.

Assinale a sequência correta.

- [A] V, V, V, F
- [B] F, V, F, V
- [C] V, F, V, V
- [D] V, V, F, F

QUESTÃO 38

Relativo ao potencial de contaminação, as cirurgias se classificam em limpas, potencialmente contaminadas, contaminadas e infectadas. A coluna da esquerda apresenta a classificação das cirurgias e a da direita, os tipos de cirurgia. Numere a coluna da direita em conformidade com a da esquerda.

- | | | |
|---------------------------------|-----|---|
| 1 – Limpas | () | Colectomia e amigdalectomia |
| 2 – Potencialmente contaminadas | () | Neurocirurgia e mastoplastia |
| 3 – Contaminadas | () | Cirurgia de reto e ânus com pus |
| 4 – Infectadas | () | Colecistectomia e histerectomia abdominal |

Assinale a sequência correta.

- [A] 2, 1, 4, 3
- [B] 4, 2, 3, 1
- [C] 3, 1, 4, 2
- [D] 3, 2, 1, 4

QUESTÃO 39

Sobre as doenças crônico-degenerativas, analise as afirmativas.

- I - A doença de Alzheimer é uma enfermidade neurológica, degenerativa, progressiva e reversível que se caracteriza por perdas da função cognitiva e distúrbios do comportamento e afeto.
- II - A doença pulmonar obstrutiva crônica (DPOC) caracteriza-se por três sintomas primários: tosse, produção de escarro e dispneia aos esforços.
- III - A osteoartrose ou doença articular degenerativa tem como manifestações clínicas dor, rigidez e comprometimento funcional.
- IV - A insuficiência cardíaca (IC) pode apresentar como manifestações clínicas: dispneia paroxística noturna, edema gravitacional, taquicardia, tontura, ascite e nictúria.

Estão corretas as afirmativas

- [A] II, III e IV, apenas.
- [B] I e IV, apenas.
- [C] II e III, apenas.
- [D] I, II, III e IV.

QUESTÃO 40

Em relação às medidas de controle das doenças infecciosas, numere a coluna da direita de acordo com a da esquerda.

- | | | |
|----------------------|-----|--|
| 1 – Malária | () | Proceder à pasteurização do leite e à quimioprofilaxia quando indicada. |
| 2 – Tuberculose | () | Manter galinheiros, chiqueiros e depósitos afastados das casas e limpos. |
| 3 – Hanseníase | () | Investir em obras de saneamento para eliminação de criadouros das larvas de vetores. |
| 4 – Doença de Chagas | () | Realizar procedimentos para prevenção e redução de incapacidades físicas. |

Assinale a sequência correta.

- [A] 1, 3, 4, 2
- [B] 2, 4, 1, 3
- [C] 3, 2, 4, 1
- [D] 2, 3, 1, 4



UNIVERSIDADE FEDERAL DE MATO GROSSO

Pró-Reitoria Administrativa

Concurso Público

Edital 012/PROAD/SGP/2012

Nome: _____

Cargo: *Enfermeiro*

FOLHA DE ANOTAÇÃO DO CANDIDATO

Questão	Alternativa
01	
02	
03	
04	
05	
06	
07	
08	
09	
10	
11	
12	
13	
14	
15	
16	
17	
18	
19	
20	

Questão	Alternativa
21	
22	
23	
24	
25	
26	
27	
28	
29	
30	
31	
32	
33	
34	
35	
36	
37	
38	
39	
40	

Esta folha é destinada para uso EXCLUSIVO do candidato.