

MINISTÉRIO DA AGRICULTURA, PECUÁRIA
E ABASTECIMENTO
MAPA

CONCURSO PÚBLICO
Nº 001/2014

TIPO
01
BRANCO



Administrador

TARDE

Organizadora:



CARGO: ADMINISTRADOR

Texto para responder às questões de **01** a **09**.

As verdades da razão

Raciocinar não é algo que aprendemos na solidão, mas algo que inventamos ao nos comunicar e nos confrontar com os semelhantes: toda razão é fundamentalmente conversação. “Conversar” não é o mesmo que ouvir sermões ou atender a vozes de comando. Só se conversa – sobretudo só se discute – entre iguais. Por isso o hábito filosófico de raciocinar nasce na Grécia, junto com as instituições políticas da democracia. Ninguém pode discutir com Assurbanipal ou com Nero, e ninguém pode conversar abertamente em uma sociedade em que existem castas sociais inamovíveis. [...] Afinal de contas, a disposição a filosofar consiste em decidir-se a tratar os outros como se também fossem filósofos: oferecendo-lhes razões, ouvindo as deles e construindo a verdade, sempre em dúvida, a partir do encontro entre umas e outras.

[...] Oferecemos nossa opinião aos outros para que a debatam e por sua vez a aceitem ou refutem, não simplesmente para que saibam “onde estamos e quem somos”. E é claro que nem todas as opiniões são igualmente válidas: valem mais as que têm melhores argumentos a seu favor e as que melhor resistem à prova de fogo do debate com as objeções que lhe sejam colocadas.

[...] A razão não está situada como um árbitro semidivino acima de nós para resolver nossas disputas; ela funciona dentro de nós e entre nós. Não só temos que ser capazes de exercer a razão em nossas argumentações como também – e isso é muito importante e, talvez, mais difícil ainda – devemos desenvolver a capacidade de ser convencidos pelas melhores razões, venham de quem vierem. [...] A partir da perspectiva racionalista, a verdade buscada é sempre resultado, não ponto de partida: e essa busca incluía conversação entre iguais, a polêmica, o debate, a controvérsia. Não como afirmação da própria subjetividade, mas como caminho para alcançar uma verdade objetiva através das múltiplas subjetividades.

(Fernando Savater. “As verdades da razão”. In: *As perguntas da vida*. São Paulo: Martins Fontes, 2001.)

01

Considerando que o texto é construído a partir de sequências argumentativas, assinale a afirmativa compatível com o posicionamento do autor acerca do tema abordado.

- A) A exposição de opiniões diversas implica na validação de cada uma delas.
- B) A conversação e o raciocínio são ações que se opõem em determinado contexto.
- C) Através da exposição de opiniões e sua confrontação, busca-se a verdade como resultado.
- D) Em uma sociedade em que as práticas e ideias não demonstram flexibilidade, o diálogo aberto se torna um agente transformador.

02

De acordo com os recursos e a estruturação textual utilizados, é correto afirmar que o texto apresentado tem por objetivo principal

- A) organizar informações pertinentes de modo objetivo.
- B) persuadir o leitor, convencendo-o acerca da ideia defendida pelo articulista.
- C) expor o ponto de vista do autor em um texto predominantemente objetivo.
- D) discutir as reações do ser humano diante das angústias existenciais vividas no século XXI.

03

Os termos destacados em “Não como afirmação da própria subjetividade, mas como caminho para alcançar uma verdade objetiva através das múltiplas subjetividades.” (3º§) indicam, respectivamente, uma relação de

- A) ressalva e explicação.
- B) oposição e finalidade.
- C) oposição e explicação.
- D) explicação e finalidade.

04

A partir de mecanismos linguísticos que permitem uma sequência lógico-semântica entre as partes do texto, identifique a referência corretamente estabelecida quanto ao destacado em “– isso é muito importante e, talvez, mais difícil ainda –” (3º§).

- A) A capacidade de exercer a razão em nossas argumentações.
- B) O exemplo dado de comparação entre razão e árbitro semidivino.
- C) A consciência de que a razão não está situada como um árbitro semidivino.
- D) O desenvolvimento da capacidade de sermos convencidos pelas melhores razões.

05

Em uma oração, os termos se relacionam entre si em uma relação de dependência. A partir de tal aspecto, analise as assertivas a seguir e identifique a correta.

- A) Em “atender a vozes” (1º§), “a” pode ser substituído por “às” sem que haja alteração de sentido.
- B) Em “algo que inventamos ao nos comunicar” (1º§), “ao” pode ser substituído por “à” se “nos” for eliminado.
- C) Em “Oferecemos nossa opinião aos outros” (2º§), a preposição é obrigatória, de acordo com o termo regente.
- D) Em “consiste em decidir-se” (1º§), “em” estabelece a mesma relação vista no uso da locução “por intermédio de”.

06

“A razão não está situada como um árbitro semidivino acima de nós para resolver nossas disputas; ela funciona dentro de nós e entre nós.” (3º§).

Nessa frase, o autor utiliza a _____ de uma _____ entre dois elementos distintos: _____ e _____ para tornar mais clara a ideia sobre _____. Assinale a alternativa que completa correta e sequencialmente a afirmativa anterior.

- A) afirmação / analogia / razão / disputas / razão
- B) intercalação / comparação / razão / emoção / verdade
- C) negação / comparação / razão / árbitro semidivino / razão
- D) comparação / situação / dentro de nós / entre nós / verdade

07

Considerando as funções estabelecidas sintaticamente pelas palavras em determinada oração, identifique o termo ou expressão destacado(a) cuja função sintática DIFERE dos demais.


- A) “[...] ouvindo as deles e construindo a verdade [...]” (1º§)
- B) “[...] sociedade em que existem castas sociais inamovíveis.” (1º§)
- C) “Por isso o hábito filosófico de raciocinar nasce na Grécia [...]” (1º§)
- D) “‘Conversar’ não é o mesmo que ouvir sermões ou atender a vozes de comando.” (1º§)

08

Considerando as várias funções da vírgula e sua importância, identifique o motivo pelo qual as vírgulas foram empregadas em “[...] e essa busca incluía conversaçã entre iguais, a polêmica, o debate, a controvérsia.” (3º§).

- A) Separar uma enumeração.
- B) Separar expressões retificativas.
- C) Separar uma aposição explicativa.
- D) Separar termos que serão retomados por pronome.

Texto para responder às questões 09 e 10.



(Tempos modernos, tempos de sociologia. São Paulo: Editora do Brasil. Volume único, Ensino Médio, 2010.)

09

Considerando as ideias do articulista do texto e comparando-as à charge, é correto afirmar que

- A) a charge demonstra uma crítica a determinado comportamento visto negativamente pelo autor do texto “As verdades da razão”.
- B) os personagens da charge demonstram atitudes que exemplificam e estão de acordo com o posicionamento do articulista.
- C) a charge exemplifica o exposto em “[...] caminho para alcançar uma verdade objetiva através das múltiplas subjetividades.” (3º§).
- D) apesar da expressão nos cartazes segurados pelos personagens, a charge não demonstra qualquer tipo de aproximação do texto quanto ao tema abordado.

10

Quanto à linguagem utilizada na mensagem expressa nos cartazes levados pelos personagens da *charge*, é correto afirmar que a substituição por “*Me sigam até a verdade*” implicaria

- A) uma aproximação maior com o público leitor através do uso de uma linguagem atual.
- B) inadequação linguística, incorrendo em incompreensão da mensagem a ser transmitida.
- C) desacordo do uso quanto à colocação do pronome oblíquo de acordo com a norma padrão.
- D) uma manifestação de caráter popular em que há preocupação com o uso da norma padrão da língua.

RACIOCÍNIO LÓGICO

11

Em três xícaras – uma grande, uma média e uma pequena – foram colocadas uma certa quantidade de chá com temperaturas diferentes. Considere que:

- ou a xícara grande recebeu chá morno ou a xícara média recebeu a menor quantidade de chá;
- a quantidade de chá colocada na xícara maior foi inferior à da xícara que recebeu chá quente, e a xícara pequena não foi a que recebeu a maior quantidade de chá;
- o chá frio não foi colocado na xícara média e a xícara pequena recebeu mais chá do que a de tamanho grande.

Desejando servir uma criança com chá morno, um adolescente com chá frio e um adulto com chá quente, deve-se entregar a eles, respectivamente, as xícaras

- A) pequena, grande e média.
- B) média, pequena e grande.
- C) grande, pequena e média.
- D) grande, média e pequena.

12

Um pai comprou 6 barras de chocolate e pretende entregar 1 para cada um de seus 6 filhos. Se 2 dessas barras são de chocolate branco e as demais, de chocolate preto, de quantas formas ele poderá distribuir as barras?

- A) 15.
- B) 20.
- C) 24.
- D) 30.

13

Considere os seguintes dados de certo ano:

- foi ano da segunda metade do século XX;
- começou num domingo e terminou numa segunda-feira;
- a soma de seus algarismos é 22.

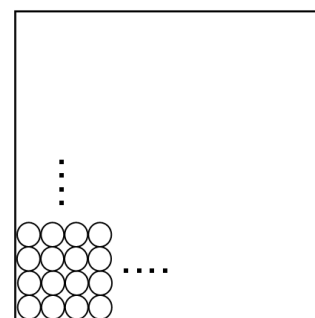
O ano em questão é

- A) 1966.
- B) 1975.
- C) 1984.
- D) 1993.

14

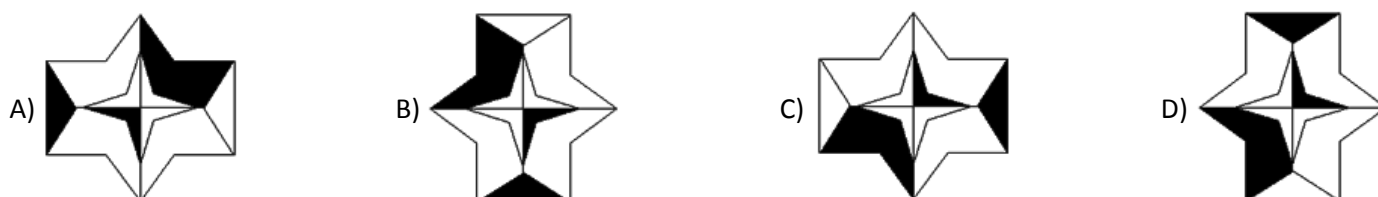
Sobre a superfície de uma mesa de forma quadrada, cujo perímetro mede 320 cm, foram colocadas várias fileiras de moedas dispostas lado a lado, conforme indicado na figura, e que se estenderam por toda a superfície da mesa. Se o diâmetro de cada moeda é igual a 2,5 cm e cada uma tem o valor de R\$ 0,25, então, as moedas totalizam

- A) R\$ 240,00.
- B) R\$ 256,00.
- C) R\$ 272,00.
- D) R\$ 280,00.



15

Qual das figuras é DIFERENTE das demais?



CONHECIMENTOS DE INFORMÁTICA

16

Analise as afirmativas sobre *hardware* e periféricos.

- I. A CPU (Unidade Central de Processamento) é o componente responsável por processar os dados em um computador.
- II. A memória principal de um computador tem a função de armazenar os dados permanentemente, mesmo após desligar o computador.
- III. Os dispositivos híbridos são aqueles que permitem realizar a entrada e a saída de informações. São exemplos destes dispositivos: *modem* e impressora multifuncional.

Está(ão) correta(s) apenas a(s) afirmativa(s)

- A) I.
- B) II.
- C) I e III.
- D) II e III.

17

Observe a planilha produzida com a ferramenta *Microsoft Office Excel 2007* (configuração padrão).

	A	B	C	D
1	Cliente	Prestação	Valor do Desconto	Valor com Desconto
2	Fabiano Carlos	R\$ 600,00		
3	Pedro Henrique	R\$ 550,00		
4	Marina Lima	R\$ 400,00		
5	Antônio José	R\$ 1.000,00		
6				
7	Desconto	0,10		

“Considerando que o valor de desconto é 10% sobre o valor da prestação, o usuário atribuiu à célula B7 tal valor de desconto. Na célula C2 deverá ser digitada a fórmula _____ para calcular o valor do desconto do cliente ‘Fabiano Carlos’. Para replicar a fórmula do desconto (10%) aos demais clientes deve ser utilizada a _____, que é representada por um pequeno quadrado preto na extremidade inferior direita da célula ativa. O valor com desconto do cliente ‘Pedro Henrique’ pode ser calculado na célula D3, inserindo a fórmula _____.” Assinale a alternativa que completa correta e sequencialmente a afirmativa anterior.

- A) =B2%B7 / replicação de célula / =B2-C2
- B) =B2%B\$7 / replicação de célula / =B2-C2
- C) =B2*B7 / alça de preenchimento / =B3-C3
- D) =B2*B\$7 / alça de preenchimento / =B3-C3

18

Considere a planilha produzida com a ferramenta *Microsoft Office Excel 2007* (configuração padrão).

	A	B	C	D	E	F	G
1	CONTROLE DE NOTAS						
2	COD	NOME	BIM01	BIM02	BIM03	BIM04	MÉDIA
3	1	Antônio S.	8	7	6	4	6,25
4	2	Brenno F.	6	6	7	3	5,5
5	3	Diego R.	3	3	3	4	3,25
6	4	Fernando L.	8	9	9	10	9
7	5	Igor M.	7	7	3	5	5,5
8	6	Samuel V.	6	6	2	9	5,75
9							
10							

Com base na planilha apresentada, analise as afirmativas.



- I. Para calcular a média de notas dos quatro bimestres do aluno “Igor M.”, foi inserida na célula G7 a fórmula =MÉDIA(C7;F7).
- II. Se na célula A9 for inserida a função =PROCV(3;A3;G8;2;0), o resultado apresentado será “Diego R.”
- III. Se na célula A10 for inserida a função =SE(G7>5;CONCATENAR("O ALUNO";B7;"FOI APROVADO");"REPROVADO"), o resultado apresentado será “Igor M.”

Está(ão) correta(s) apenas a(s) afirmativa(s)

- A) I.
- B) II.
- C) III.
- D) I e II.

19

Relacione as teclas de atalho às respectivas funcionalidades no Sistema Operacional *Microsoft Windows 7* (configuração padrão – idioma Português Brasil).

1. Ctrl + X. () Alterna entre janelas abertas.
2. Ctrl + Z. () Abre o Gerenciador de Tarefas, diretamente, sem etapas intermediárias.
3. Alt + Tab. () Desfaz uma ação.
4. Tecla do logotipo do *Windows*  + D. () Bloqueia o computador ou alterna os usuários.
5. Ctrl + Shift + Esc. () Recorta um item selecionado.
6. Tecla do logotipo do *Windows*  + L. () Recolhe tudo e mostra a área de trabalho.

A sequência está correta em

- A) 2, 4, 6, 1, 5, 3. B) 3, 5, 2, 6, 1, 4. C) 4, 5, 1, 2, 3, 6. D) 5, 4, 3, 2, 1, 6.

20

Considere as afirmativas acerca do aplicativo *Microsoft Office Word 2007* (configuração padrão – idioma Português Brasil).

- I. “Uma forma de entrar ou sair no modo de visualização de impressão é pressionar as teclas Alt + Ctrl + I.”
- II. “Para definir uma senha em um documento do *Word* impedindo o acesso a usuários não autorizados, deve-se clicar no botão do *Microsoft Office*, apontar para Preparar e clicar em Criptografar Documento. Em seguida, deve-se digitar uma senha na caixa de diálogo Criptografar Documento e digitá-la novamente na caixa de diálogo Confirmar Senha. Para finalizar o procedimento é necessário clicar no botão OK.”

Assinale a alternativa correta.

- A) As duas afirmativas são falsas. C) A afirmativa I é verdadeira e a II, falsa.
B) As duas afirmativas são verdadeiras. D) A afirmativa I é falsa e a II, verdadeira.

CONHECIMENTOS ESPECÍFICOS

21

Conforme disposto na Constituição Federal de 1988, não existe supremacia entre os Poderes Legislativo, Executivo e Judiciário, sendo cada um dotado de uma função típica, sem excluir, contudo, em certas ocasiões, o exercício, por cada um deles, de atribuições próprias dos outros. Com relação aos poderes do Estado e suas funções, é INCORRETO afirmar que o Poder

- A) Judiciário tem como função típica a jurisdicional, que consiste no provimento de decisões, com base na lei.
- B) Executivo tem como funções precípua a de fiscalizar e controlar a legalidade dos atos emanados pelo Poder Legislativo.
- C) Legislativo possui a atribuição de funções administrativas, como, por exemplo, quando dispõe sobre sua organização interna.
- D) Legislativo, de forma típica, tem a função de legislar e fiscalizar, exercendo também os controles político-administrativo e financeiro-orçamentário.

22

Para construir a aprendizagem nas organizações são necessárias algumas disciplinas para fazer com que pessoas e grupos possam conduzir as organizações para a mudança e renovação contínuas, a saber: aprendizagem de equipes; domínio pessoal; modelos mentais; pensamento sistêmico; e, visão compartilhada. Acerca dos modelos mentais, é correto afirmar que se trata de uma disciplina de

- A) interação grupal, onde a aprendizagem é feita através de técnicas, como diálogo e discussão, para desenvolver o pensamento coletivo.
- B) reflexão e habilidades de questionamento, que focaliza o desenvolvimento de atitudes e percepções que influenciam o pensamento e a interação entre as pessoas.
- C) aspiração que envolve a formulação de um conjunto coerente de resultados que as pessoas desejam alcançar, como indivíduos em um alinhamento realístico com o estado atual de suas vidas.
- D) aprendizagem, por meio da qual as pessoas aprendem melhor, compreendendo a interdependência e a mudança para lidar de forma eficaz com as forças que produzem efeitos em suas ações.

23

De acordo com a doutrina pátria, o Estado possui elementos estruturantes. Em relação aos referidos elementos, marque a afirmativa INCORRETA.

- A) Território é o limite espacial no qual o Estado exerce de modo efetivo e exclusivo o poder de império sobre as pessoas e bens.
- B) O território nacional, que constitui-se na porção geográfica de domínio estatal, é formado tão somente pelo solo, subsolo e espaço aéreo correspondente.
- C) Nos limites éticos e de convivência, compreendida na noção de bem comum, o poder soberano pode, facultativamente, usar da coação para impor suas decisões.
- D) Povo é o conjunto de indivíduos que, estabelecendo um vínculo jurídico de caráter permanente com o Estado, participa da vontade estatal, bem como do exercício do poder soberano.

24

Os princípios que norteiam a administração pública são regras básicas que servem de interpretação das demais normas jurídicas. Em relação aos princípios que norteiam a administração pública, é correto afirmar que o

- A) Princípio da Supremacia do Interesse Público sobre o Privado é considerado um subprincípio, e se refere à indisponibilidade dos bens públicos de uso comum do povo em contratos junto a particulares.
- B) Princípio da Motivação e o Princípio da Publicidade podem ser mitigados, tornando-se, portanto, prescindíveis nos atos discricionários, justamente em respeito à margem de conveniência e discricionariedade do administrador.
- C) Princípio da Impessoalidade, totalmente desvinculado do Princípio da Legalidade, condiciona muitas vezes a utilização de costumes políticos, ainda meramente regionais, desde que, com isso, haja uma redução dos gastos públicos.
- D) Princípio da Legalidade pode ser considerado como específico do Estado de Direito, uma vez que o qualifica e dá identidade própria. Consagrando-se, assim, a ideia de que a administração pública só pode ser exercida na conformidade da lei.

25

Contrato administrativo pode ser conceituado como o ajuste que a administração pública firma com o particular ou outro ente público para consecução de interesse coletivo. Todos os contratos administrativos devem trazer cláusulas que estabeleçam os seguintes itens elencados, EXCETO:

- A) O objeto e seus elementos característicos do contrato, bem como o regime de execução ou a forma de fornecimento.
- B) Somente os prazos de início para a execução do objeto do contrato, sendo o prazo final estabelecido no decorrer da atividade.
- C) O crédito pelo qual correrá a despesa, com a indicação da classificação funcional programática e da categoria econômica.
- D) O preço e as condições de pagamento, os dados para o reajuste e os critérios de atualização monetária entre a data do adimplemento das obrigações e a do efetivo pagamento.

26

O conhecimento dos aspectos estruturais da organização é um fator fundamental para a classificação de um tipo específico de estrutura organizacional. Em relação aos documentos utilizados pela organização, assinale a alternativa INCORRETA.

- A) Funcionograma: descreve as atividades ou tarefas relacionadas a cada função das unidades organizacionais.
- B) Formulário: apresenta a análise da distribuição das tarefas ou atividades pelas diferentes unidades organizacionais.
- C) Organograma: representa a estrutura básica ou hierárquica da organização, sendo formado pelas unidades organizacionais.
- D) Fluxograma: apresenta o fluxo ou a sequência de execução de uma atividade ou tarefa, demonstrando os passos lógicos de um determinado processamento.

27

Uma determinada empresa possui ações negociadas na bolsa de valores. A taxa livre de risco do país é de 10% a.a. O retorno anual esperado para o índice que representa a performance do mercado de capitais é de 25% a.a. Sabendo-se que o beta é igual a 1,05, qual é o retorno esperado das ações, utilizando o CAPM?

- A) 35%.
- B) 25,75%.
- C) 15,75%.
- D) 10,25%.

28

A Lei nº 8.112/90 dispõe sobre o regime jurídico dos servidores públicos civis da União, autarquias e fundações públicas federais. De acordo com o referido dispositivo legal, é correto afirmar que

- A) é proibida a prestação de serviços gratuitos, salvo os casos previstos em lei.
- B) o gozo dos direitos políticos não é requisito para a investidura em cargo público.
- C) os cargos públicos são criados por lei, para provimento apenas em caráter efetivo.
- D) cargo é o conjunto de classes da mesma profissão, escalonados segundo os vencimentos.

29

O Cap. I do Título II da Lei nº 8.112/90 trata, especificamente, sobre o provimento de cargos públicos. Em relação ao referido provimento, é INCORRETO afirmar que

- A) a nomeação, a promoção, a reversão e a readaptação são formas de provimento de cargos públicos.
- B) a nomeação far-se-á em caráter efetivo quando se tratar de cargo isolado de provimento efetivo ou de carreira.
- C) a investidura em cargo público se dá desde a aprovação no respectivo concurso público, sendo a nomeação em momento posterior à posse.
- D) a nacionalidade brasileira, bem como a quitação com as obrigações militares e eleitorais são requisitos para a investidura em cargo público.

30

Segundo Chiavenato (2000), os recursos empresariais são os componentes ou meios pelos quais as organizações sociais utilizam para realizar suas atividades e, assim, atingir seus objetivos. Constituem-se recursos empresariais, EXCETO:

- A) Recursos materiais.
- B) Recursos humanos.
- C) Recursos da natureza.
- D) Recursos mercadológicos.

31

Considere as seguintes informações:

- *Capital de terceiros – R\$ 250.000,00;*
- *Custo efetivo do capital de terceiros – 12% a.a.;*
- *Capital próprio – R\$ 350.000,00;*
- *Custo do capital próprio – 15% a.a.*

Com base nos dados apresentados, qual é o custo médio ponderado de capital?

- A) 7,27%.
- B) 13,75%.
- C) 41,00%.
- D) 58,33%.

32

A autoridade é o direito de dar ordens e o poder de esperar obediência, devendo estar em equilíbrio com a responsabilidade. Em relação à responsabilidade, é correto afirmar que

- A) é a capacidade de visualizar um plano e assegurar pessoalmente o seu sucesso.
- B) é uma consequência natural da autoridade e significa o dever de prestar contas.
- C) refere-se à especialização das tarefas e das pessoas, necessária para aumentar a eficiência.
- D) depende de obediência, aplicação, energia, comportamento e respeito aos acordos estabelecidos.

33

A gestão estratégica de pessoas pode ser feita por meio de diferentes tipos de planejamento de RH, sendo alguns mais genéricos e outros mais específicos. Em relação aos modelos de planejamento de pessoas, é correto afirmar que o modelo

- A) baseado na procura estimada do produto ou serviço mapeia o fluxo das pessoas para dentro, através e para fora da organização.
- B) baseado no fluxo de pessoas focaliza, também, o nível operacional da empresa e é utilizado por organizações de grande porte.
- C) de substituição de postos-chave recebe os nomes de mapas de substituição ou organogramas de encarecimento para o planejamento de funcionários.
- D) baseado em segmentos de cargos baseia-se no conceito de que as necessidades de pessoal são uma variável dependente da procura estimada do bem ou serviço.

34

A Lei nº 10.520/2002 instituiu a modalidade de licitação denominada Pregão. Em relação à referida modalidade, é INCORRETO afirmar que

- A) na fase final, o respectivo objeto deverá ser definido de forma precisa, suficiente e clara, assim como as exigências de habilitação, os critérios de aceitação das propostas e as sanções por inadimplemento.
- B) é utilizado para aquisição de bens e serviços comuns, quais sejam aqueles cujos padrões de desempenho e qualidade possam ser objetivamente definidos pelo edital, por meio de especificações usuais no mercado.
- C) a fase externa será iniciada com a convocação dos interessados através da publicação de aviso, que poderá ocorrer por meio de jornal de circulação local, uma vez constatada a inexistência de diário oficial no respectivo ente federado.
- D) terminados os trâmites legais e declarado o vencedor, em sede de pregão, qualquer licitante poderá manifestar imediata e motivadamente a intenção de recorrer, quando lhe será concedido o prazo de três dias para apresentação das razões do recurso.

35

O sistema de produção é uma sequência de operações que percorrem o denominado arranjo físico, onde estão dispostos os equipamentos necessários à produção. São tipos de sistemas de produção, EXCETO:

- A) Sistema de produção contínua.
- B) Sistema de produção em lotes.
- C) Sistema de produção por encomenda.
- D) Sistema de produção por modelo administrativo.

36

“A macroeconomia trata do comportamento da economia como um todo – de períodos de prosperidade e de recessão.”

(Rossetti, 1997. p. 717.)

Constituem-se indicadores de desempenho macroeconômico, EXCETO:

- A) Preço.
- B) Emprego.
- C) Produto agregado.
- D) Eficiência das unidades produtivas.

37

“A política fiscal diz respeito ao manejo dos orçamentos do governo, tanto do lado dos dispêndios quanto do lado das receitas.”

(Rossetti, 1997. p. 717.)

Assinale a alternativa que apresenta um dos meios utilizados pela Política Fiscal.

- A) Política salarial.
- B) Tributos diretos e indiretos.
- C) Controle da oferta de moeda.
- D) Valorização da taxa de câmbio.

38

“Licitação – em suma síntese – é um certame que as entidades governamentais devem promover e no qual abrem disputa entre os interessados e com elas travam determinadas relações de conteúdo patrimonial, para escolher a proposta mais vantajosa às conveniências públicas. Estriba-se na ideia de competição, a ser travada isonomicamente entre os que preenchem os atributos e aptidões necessários ao bom cumprimento das obrigações que se propõem assumir.”

(Mello, 2008. p. 514.)

Em relação às modalidades de licitação, é correto afirmar que

- A) o prazo mínimo entre a divulgação do certame e a apresentação das propostas para todos os casos submetidos à modalidade Concorrência será de 30 dias.
- B) na Tomada de Preços haverá a afixação de instrumento convocatório em local apropriado, geralmente, no prédio da sede da administração que a está promovendo.
- C) Concurso é a modalidade de licitação entre quaisquer interessados para escolha de trabalho técnico, científico ou artístico, com a instituição de prêmio ou remuneração aos vencedores.
- D) Leilão é a modalidade de licitação entre quaisquer interessados para a venda de bens imóveis inservíveis ou não para a administração ou de produtos ilegais apreendidos extrajudicialmente.

39

O art. 8º da Lei nº 8.027/90 dispõe que “pelo exercício irregular de suas atribuições o servidor público civil responde civil, penal e administrativamente, podendo as cominações civis, penais e disciplinares cumularem-se, sendo umas e outras independentes entre si, bem assim as instâncias civil, penal e administrativa”. Sobre o tema, assinale a afirmativa **INCORRETA**.

- A) A competência para a imposição das penas disciplinares será determinada em ato do Poder Executivo.
- B) A penalidade de advertência converte-se automaticamente em suspensão, por trinta dias, no caso de reincidência.
- C) Os atos de suspensão e demissão mencionarão sempre a causa da penalidade, dispensada tal exigibilidade para os atos de advertência.
- D) A aplicação da penalidade de suspensão acarreta o cancelamento automático do valor da remuneração do servidor, durante o período de vigência da suspensão.

40

Considerando que Joaquim seja aprovado em concurso público e que, havendo disponibilidade de horário, acumule um cargo na administração federal e um emprego público em empresa pública estadual, ambos remunerados, e sabendo que tal situação não é permitida pela Constituição, é correto afirmar, de acordo com o disposto na Lei nº 8.027/90, que

- A) a acumulação realizada constitui infração passível de suspensão, visto que a vedação não alcança as empresas públicas estaduais.
- B) a acumulação remunerada de cargos, empregos e funções públicas, vedada pela Constituição Federal, constitui infração grave, passível de aplicação de pena de demissão.
- C) por se tratar de acumulação de um cargo público com um emprego público não há que se falar em infração grave, a qual somente ocorreria caso a acumulação fosse de dois cargos públicos.
- D) a acumulação de um cargo na administração federal e um emprego público em âmbito estadual não constitui infração passível de aplicação de pena de demissão, já que o cargo e o emprego estão vinculados a entes federativos diversos.

CONHECIMENTOS GERAIS

41

Num país em plena democracia como o Brasil, o surgimento de novos partidos políticos é uma iniciativa frequente devido à grandiosidade e diversidade da nação, que resulta no surgimento dos mais distintos interesses e objetivos políticos. Acerca dos novos partidos que vêm surgindo no cenário político nacional, analise.

- I. Encabeçado por Marina Silva, ex-senadora e ex-ministra do Meio Ambiente do governo Lula, a Rede Sustentabilidade foi registrada como partido em 2013 e se aliou imediatamente ao PSB de Eduardo Campos para as eleições presidenciais de 2014.
- II. Formado por um grupo desvinculado do PDT, o partido Solidariedade, liderado pelo deputado federal Paulo Pereira da Silva, dirigente da Força Sindical, nasce aliado ao grupo de Aécio Neves, oposição ao Governo Federal.
- III. Tendo entre seus afiliados o governador do Ceará, Cid Gomes, e um grupo de mais de uma dúzia de deputados federais, o partido PROS, aliado ao governo federal, teve seu registro aprovado em 2013.

Está(ão) correta(s) a(s) afirmativa(s)

- A) I, II e III.
- B) I, apenas.
- C) III, apenas.
- D) II e III, apenas.

42

Analise as afirmativas correlatas, verificando se há ou não relação entre.

- I. “A Organização das Nações Unidas para Alimentação e Agricultura (FAO), órgão da ONU sediado em Roma, lançou em 2013 um programa com o objetivo de incentivar a criação de insetos para combater a fome.”

PORQUE

- II. “A agência dirigida pelo sul-coreano *Ban Ki-moon* acredita que os insetos poderão ser uma resposta para o futuro na luta contra a fome no planeta e já vem implantando algumas espécies no cardápio de países das Américas Central e do Sul, onde há regiões em que a fome atinge índices alarmantes.”

Assinale a afirmativa correta.

- A) A primeira afirmativa é falsa e a segunda, verdadeira.
- B) A primeira afirmativa é verdadeira e a segunda, falsa.
- C) As duas afirmativas são verdadeiras, mas não estabelecem relação entre si.
- D) As duas afirmativas são verdadeiras, e a segunda é uma justificativa correta da primeira.

43

Leia o gráfico que relaciona as maiores exportações do Brasil em 2010:



(Almanaque Abril 2014 – Disponível em: www.almanaqueabril.com.br.)

Com base na leitura do gráfico, sobre a exportação agropecuária no Brasil, é correto afirmar que

- A) dentre os principais produtos exportados pelo Brasil, grande maioria é oriunda do setor agropecuário.
- B) os produtos agropecuários ocupam as três primeiras posições no *ranking* geral de exportação do Brasil.
- C) no somatório percentual, os produtos agropecuários ocupam mais de 50% do valor total de exportação.
- D) na área agropecuária, os grãos possuem liderança em exportação com destaque para a produção da soja.

44

Um dos nomes mais marcantes do cenário econômico brasileiro dos últimos anos, Eike Batista, tornou-se um exemplo da nova era da globalização, em que impérios financeiros podem ser construídos e desconstruídos em altíssima velocidade. Sobre essa trajetória, é correto afirmar que

- A) com nenhum apoio estatal, investiu na indústria naval e de infraestrutura, com foco apenas na exportação de produtos do Brasil.
- B) através do grupo EBX, foram implantadas várias empresas atuando de forma complementar nas áreas de petróleo, mineração e logística.
- C) como presidente da Vale, durante muitos anos da década de 1990, utilizou a experiência adquirida para montar o grupo OGX Mineração.
- D) como proprietário do Bradesco, elevou o banco brasileiro ao patamar de maior empresa do mercado financeiro do Brasil e da América Latina.

45

Leia a seguir a tradução do trecho final de um dos discursos mais famosos da história da humanidade:

“... E quando isso acontecer, quando deixarmos a liberdade ecoar, quando a deixarmos ressoar em cada vila e vilarejo, em cada Estado e cada cidade, poderemos trazer para mais perto o dia que todos os filhos de Deus, negros e brancos, judeus e gentios, protestantes e católicos, poderão se dar as mãos e cantar, nas palavras da velha canção negra, ‘livres, enfim! Livres, enfim! Louvado seja Deus Todo-Poderoso. Estamos livres, enfim!’” (Tradução de Clara Allain. Editora Abril.)

Este discurso, denominado *I have a dream* (Eu tenho um sonho, em português), e o evento no qual foi proferido sensibilizaram o mundo, o que resultou no sepultamento de muitas leis segregacionistas e na garantia de muitos direitos aos negros. O autor de tal trecho foi tema recorrente em 2013, quando muito se discutiu o cinquentenário de um dos mais importantes acontecimentos pacíficos de luta pelos direitos civis. Trata-se de

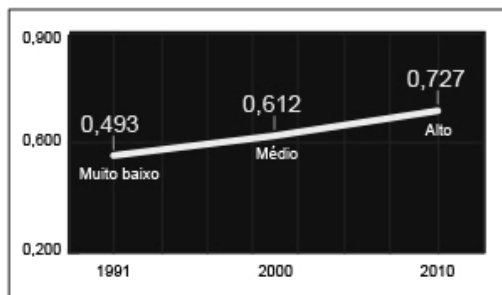
- A) Barack Obama.
- B) Nelson Mandela.
- C) Abraham Lincoln.
- D) Martin Luther King.

46

Analise os seguintes gráficos, referentes ao Índice de Desenvolvimento Humano dos Municípios do Brasil.

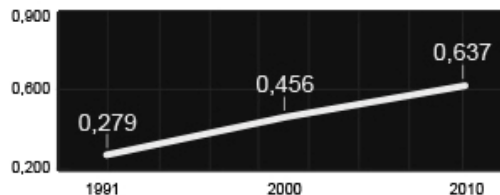
EVOLUÇÃO DO IDHM BRASILEIRO

O índice varia de 0 (muito baixo) a 1 (muito alto)

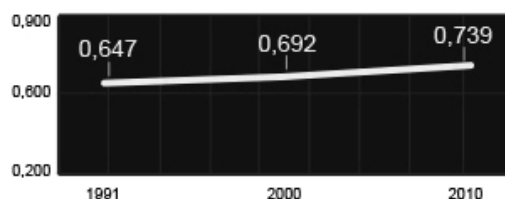


Evolução dos itens que fazem parte do IDHM

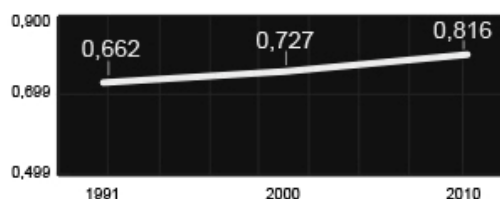
EDUCAÇÃO



RENDA



LONGEVIDADE



(Portal Uol. Disponível em: www.uol.com.br.)

Com base nas informações apresentadas nos gráficos, analise as afirmativas.

- I. A educação é o grande problema brasileiro no que diz respeito à melhoria de Índice de Desenvolvimento Humano Municipal (IDHM), já que mantém os menores índices, abaixo, inclusive, do IDHM geral do Brasil.
- II. A longevidade é o item que mais contribuiu para elevar o Índice de Desenvolvimento Humano Municipal do Brasil, já que alcançou número bem superior aos demais, inclusive bem acima ao índice geral do país.
- III. No decorrer dos anos é possível afirmar que o item Longevidade do Índice de Desenvolvimento Humano Municipal foi o que mais registrou avanço, saindo de 0,662 em 1990 para 0,816 em 2010.

Está(ão) correta(s) a(s) afirmativa(s)

- A) I, II e III. B) I, apenas. C) I e II, apenas. D) II e III, apenas.

47

A sociedade brasileira vem, de forma mais intensa nos últimos anos, tornando-se mais intolerante com os atos de corrupção, cobrando mais transparência e honestidade em todas as esferas sociais e políticas do país. Um importante instrumento para esse momento brasileiro foi a implantação, em agosto de 2013, da Lei Anticorrupção (Lei nº 12.846/2013), que dispõe principalmente sobre a

- A) ampla regulamentação deste crime no Brasil com a previsão de punição a todos os envolvidos: civis ou militares.
- B) condenação de agentes públicos federais de alto escalão, munidos de imunidade parlamentar, por atos de corrupção.
- C) destinação de recursos ilícitos de pessoas físicas, popularmente denominados caixa 2, a fim de financiar campanhas eleitorais.
- D) responsabilização e punição de empresas envolvidas em atos de corrupção contra a administração pública nacional ou estrangeira.

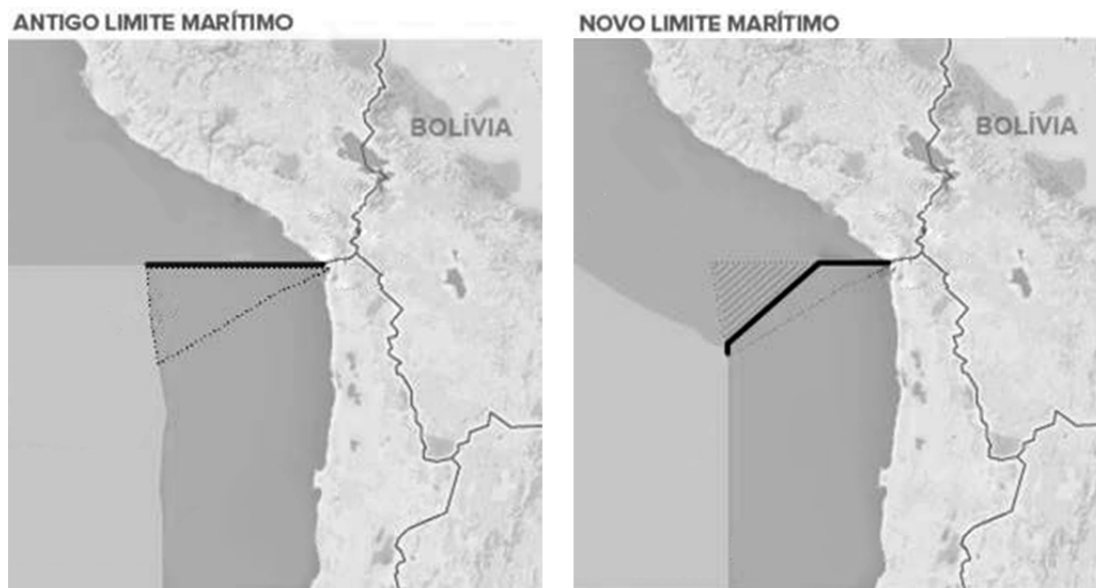
48

Em 2013, a diplomacia brasileira obteve uma importante vitória com a eleição de Roberto Azevêdo para o posto de diretor-geral da Organização Mundial do Comércio (OMC) – mais importante cargo já assumido por um brasileiro em uma instituição multilateral. Vitorioso, com o apoio dos demais países do BRICS (Rússia, Índia, China e África do Sul), Azevêdo obteve seu primeiro êxito, alguns meses após sua posse, com a

- A) aceitação da inclusão dos países do antigo bloco socialista como membros, dentre eles, Rússia e China.
- B) assinatura de um acordo que põe fim à prática de subsídios agrícolas e às tarifas sobre bens industriais.
- C) proibição consentida entre os 159 países-membros das barreiras ao comércio internacional de serviços.
- D) conclusão de um acordo global que facilita procedimentos de alfândega e altera tarifas na área agrícola.

49

A ilustração apresenta o resultado final de um dos mais antigos litígios territoriais da América do Sul, envolvendo a luta por uma área oceânica entre dois países banhados pelo Pacífico, que foi decidido, no início de 2014, pela Corte Internacional de Justiça de Haia (CIJ).



(Infográfico elaborado em 27/01/2014. Disponível em: g1.com.br. Adaptado.)

As nações envolvidas na disputa são

- A) Peru e Chile.
- B) Bolívia e Equador.
- C) Argentina e Uruguai.
- D) Venezuela e Colômbia.

50

A foto mostra vários jovens vestidos de preto e mascarados, internacionalmente conhecidos por *Black Blocs*, que vêm se integrando às manifestações brasileiras, principalmente nas cidades do Rio de Janeiro e São Paulo.



(Disponível em: <http://nuvemsoatlantico.blogspot.com.br/2013/08/facistas-mascarados.html>.)

Acerca dos *Black Blocs*, mundialmente conhecidos, é **INCORRETO** afirmar que

- A) ganharam força nas manifestações contra o neoliberalismo, a globalização e o capitalismo.
- B) têm origem na Alemanha, nos movimentos de contracultura da segunda metade do século XX.
- C) não se intitulam uma organização, mas uma tática de protesto condicionada a contextos políticos.
- D) é um grupo fascista, que se manifesta através de movimentos pacíficos, oriundo de cenários *punks* anarquistas.

PROVA ESCRITA DISCURSIVA

ORIENTAÇÕES GERAIS

- A Prova Escrita Discursiva é de caráter eliminatório e classificatório, constituída de um estudo de caso.
- Para o estudo de caso da Prova Escrita Discursiva, o candidato deverá formular texto com extensão mínima de 20 (vinte) e, no máximo, de 30 (trinta) linhas.
- A Prova Escrita Discursiva deverá ser manuscrita, em letra legível, com caneta esferográfica de corpo transparente, de ponta grossa e de tinta azul ou preta, não sendo permitida a interferência e/ou a participação de outras pessoas, salvo em caso de candidato na condição de pessoa com deficiência que esteja impossibilitado de redigir textos, como também no caso de candidato que tenha solicitado atendimento especial para este fim, nos termos deste Edital. Nesse caso, o candidato será acompanhado por um fiscal da CONSULPLAN devidamente treinado, para o qual deverá ditar o texto, especificando oralmente a grafia das palavras e os sinais gráficos de pontuação.
- O candidato receberá nota zero na Prova Escrita Discursiva em casos de não atendimento ao conteúdo avaliado, de não haver texto, de manuscruver em letra ilegível ou grafadas por outro meio que não o determinado no item anterior, bem como no caso de identificação em local indevido.
- Será desconsiderado, para efeito de avaliação, qualquer fragmento de texto que for escrito fora do local apropriado ou que ultrapassar a extensão máxima permitida.
- A Prova Escrita Discursiva terá o valor de 40 (quarenta) pontos.
- Para efeito de avaliação da Prova Escrita Discursiva serão considerados os seguintes elementos de avaliação:

ELEMENTOS DE AVALIAÇÃO DA PROVA ESCRITA DISCURSIVA		
Critérios	Elementos da Avaliação	Total de pontos por critério
Aspectos Formais e Aspectos Textuais	Observância das normas de ortografia, pontuação, concordância, regência e flexão, paragrafação, estruturação de períodos, coerência e lógica na exposição das ideias.	15 pontos
Aspectos Técnicos	Pertinência da exposição relativa ao tema, à ordem de desenvolvimento proposto e ao conteúdo programático proposto.	25 pontos
TOTAL DE PONTOS		40 pontos

Uma empresa fabrica dois tipos de produtos: A e B. Produz e vende 1.500 unidades do produto A e 2.000 unidades do produto B. As informações sobre a margem de contribuição obtidas por mês são as seguintes:

DESCRIÇÃO	Valores por unidade	
	Produto A	Produto B
Preço de Venda	R\$ 25,00	R\$ 20,00
Custos e Despesas Variáveis	R\$ 13,00	R\$ 10,00
Margem de Contribuição	R\$ 12,00	R\$ 10,00

No último mês, a demanda do produto B passou a ser de 2.500 unidades, portanto, a empresa perdeu a venda de 500 unidades. Entretanto, os produtos A e B são fabricados na mesma máquina, cuja capacidade máxima mensal é de 5.000 horas, sendo distribuídas:

	Produto A	Produto B
Quantidade produzida no mês	1.500 unidades	2.000 unidades
Tempo horas-máquina para fabricar uma unidade	2,0 horas	1,0 hora
Tempo total de horas-máquina aplicadas em cada produto	3.000 horas	2.000 horas

Considerando que as horas-máquina constitui-se um fator limitativo de capacidade, calcule o *mix* de produção otimizado, com base na margem de contribuição por fator limitativo, informando quantas unidades de cada produto a empresa deve fabricar, e discorra por que a empresa deve decidir pela otimização do *mix* de produção com base na margem de contribuição por fator limitativo.

ESTUDO DE CASO

01	
02	
03	
04	
05	
06	
07	
08	
09	
10	
11	
12	
13	
14	
15	
16	
17	
18	
19	
20	
21	
22	
23	
24	
25	
26	
27	
28	
29	
30	

INSTRUÇÕES

1. Material a ser utilizado: caneta esferográfica de tinta azul ou preta. Os objetos restantes devem ser colocados em local indicado pelo fiscal da sala, inclusive aparelho celular desligado e devidamente identificado.
2. Não é permitida, durante a realização das provas, a utilização de máquinas calculadoras e/ou similares, livros, anotações, impressos ou qualquer outro material de consulta, protetor auricular, lápis, borracha, corretivo. Especificamente, não é permitido que o candidato ingresse na sala de provas sem o devido recolhimento, com respectiva identificação, dos seguintes equipamentos: *bip*, telefone celular, *walkman*, agenda eletrônica, *notebook*, *palmtop*, *ipad*, *ipod*, *tablet*, *smartphone*, mp3, mp4, receptor, gravador, calculadora, câmera fotográfica, controle de alarme de carro, relógio de qualquer modelo etc.
3. Durante a prova, o candidato não deve levantar-se, comunicar-se com outros candidatos e nem fumar.
4. A duração da prova é de 04 (quatro) horas, já incluindo o tempo destinado à entrega do Caderno de Provas e à identificação – que será feita no decorrer da prova – e ao preenchimento do Cartão de Respostas (Gabarito) e Folha de Texto Definitivo (Prova Discursiva).
5. Somente em caso de urgência pedir ao fiscal para ir ao sanitário, devendo no percurso permanecer absolutamente calado, podendo antes e depois da entrada sofrer revista através de detector de metais. Ao sair da sala no término da prova, o candidato não poderá utilizar o sanitário. Caso ocorra uma emergência, o fiscal deverá ser comunicado.
6. O Caderno de Provas consta de 50 (cinquenta) itens de múltipla escolha e uma prova discursiva constituída de: estudo de caso para os cargos de nível superior, sobre tema de natureza técnica específica de cada cargo; e redação para os cargos de nível médio técnico, médio e fundamental, sobre tema da atualidade. Leia-o atentamente.
7. **Os itens das provas objetivas são do tipo múltipla escolha, com 04 (quatro) alternativas (A a D) e uma única resposta correta.**
8. Ao receber o material de realização das provas, o candidato deverá conferir atentamente se o Caderno de Provas corresponde ao cargo a que está concorrendo, bem como se os dados constantes no Cartão de Respostas (Gabarito) e Folha de Texto Definitivo (Prova Discursiva) que lhe foram fornecidos estão corretos. Caso os dados estejam incorretos, ou o material esteja incompleto, ou tenha qualquer imperfeição, o candidato deverá informar tal ocorrência ao fiscal.
9. Os fiscais não estão autorizados a emitir opinião e prestar esclarecimentos sobre o conteúdo das provas. Cabe única e exclusivamente ao candidato interpretar e decidir.
10. O candidato poderá retirar-se do local de provas somente a partir dos 90 (noventa) minutos após o início de sua realização, contudo não poderá levar consigo o Caderno de Provas, sendo permitida essa conduta apenas no decurso dos últimos 30 (trinta) minutos anteriores ao horário previsto para o seu término.
11. Os 3 (três) últimos candidatos de cada sala somente poderão sair juntos. Caso o candidato insista em sair do local de aplicação da prova, deverá assinar um termo desistindo do Concurso Público e, caso se negue, deverá ser lavrado Termo de Ocorrência, testemunhado pelos 2 (dois) outros candidatos, pelo fiscal da sala e pelo coordenador da unidade.

RESULTADOS E RECURSOS

- As provas aplicadas, assim como os gabaritos preliminares das provas objetivas serão divulgados na *Internet*, no site **www.consulplan.net**, a partir das 16h00min do dia subsequente ao da realização das provas.
- O candidato que desejar interpor recursos contra os gabaritos oficiais preliminares das provas objetivas disporá de **02 (dois) dias úteis**, a partir do dia subsequente à divulgação, em requerimento próprio disponibilizado no *link* correlato ao Concurso Público no site **www.consulplan.net**.
- A interposição de recursos deverá ser feita **via Internet**, através do **Sistema Eletrônico de Interposição de Recursos**, com acesso pelo candidato ao fornecer dados referentes à sua inscrição apenas no prazo recursal, à **CONSULPLAN**, conforme disposições contidas no site **www.consulplan.net**, no *link* correspondente ao Concurso Público.