

## CONHECIMENTOS GERAIS

Leia o texto e responda as questões 01 e 02.

### Planeta Água (Guilherme Arantes)

Água que nasce na fonte serena do mundo  
E que abre o profundo grotão  
Água que faz inocente riacho e deságua  
Na corrente do ribeirão  
Águas escuras dos rios que levam a fertilidade ao sertão  
Águas que banham aldeias  
E matam a sede da população(...)

01 – Na letra da música “Planeta Água” aparecem algumas palavras com a presença de encontro consonantal. Assinale a alternativa que apresenta uma dessas palavras:

- A) fonte
- B) profundo
- C) banham
- D) nasce
- E) riacho

02 – No primeiro verso da música diz “Água que nasce na fonte...”. O futuro do pretérito do verbo **nascer**, no modo indicativo é:

- A) nasceu
- B) nascia
- C) nasceria
- D) nascendo
- E) nascerá

03 – Assinale a alternativa em que todas as palavras têm a mesma classificação no que se refere ao número de sílabas:

- A) asa, anão, violão, fala;
- B) leite, lâmpada, céu, país;
- C) bicicleta, estômago, televisão, decrescente;
- D) olho, casado, trabalho, porta;
- E) pão, dizer, carteiro, folha.

04 – Assinale a alternativa em que as palavras são acentuadas pelo mesmo motivo que saída e técnico, respectivamente:

- A) alô - saúde
- B) médico - físico
- C) início - cajá
- D) proibem - fábula
- E) você - miúdo

“A tragédia da vida é que nos tornamos velhos cedo demais e sábios tarde demais.”

(Benjamin Franklin, 1706-1790)

Com base na frase acima responda as questões 05, 06 e 07.

05 – Na frase do cientista e inventor norte-americano, encontramos:

- A) um substantivo coletivo;
- B) vários substantivos compostos;
- C) dois verbos;
- D) um verbo apenas;
- E) cinco artigos.

06 – A palavra **cedo** que aparece na frase acima é:

- A) substantivo
- B) advérbio
- C) artigo
- D) numeral
- E) verbo

07 – A palavra **tragédia** é:

- A) monossílaba tônica;
- B) polissílaba;
- C) paroxítona;
- D) proparoxítona;
- E) dissílaba.

08 – Assinale a alternativa que contém um substantivo sobrecomum:

- A) bonito
- B) abelha
- C) indivíduo
- D) tamanduá
- E) pantera

09 – Na frase “Sou o **trigésimo sétimo da fila**”, o numeral cardinal correspondente ao que está em destaque é:

- A) 370
- B) 37
- C) 36
- D) 33
- E) 360

10 – “A cada dia que vivo, mais me convenço de que o desperdício da vida está no amor que não damos, nas forças que não usamos, na prudência egoísta que nada arrisca, e que, esquivando-nos do sofrimento, perdemos também a felicidade.”

(Carlos Drummond de Andrade)

As palavras **amor** e **felicidade** presentes na frase acima, de Drummond, são substantivos:

- A) próprios
- B) compostos
- C) abstratos
- D) coletivos
- E) concretos

11 – Os números naturais 0, 1, 2, 3, 4, 5, 6, 7, 8, e 9 também são conhecidos como algarismos:

- A) romanos;
- B) indo-arábicos;
- C) arábicos;
- D) romano-arábicos;
- E) egípcios.

12 – Aponte a alternativa abaixo em que **NÃO** aparece um número consecutivo.

- A) 1, 2, 3;
- B) 21, 22, 23;
- C) 101, 102, 103;
- D) 1010, 1011, 1012;
- E) 2010, 2012, 2013.

Observe a imagem abaixo e responda as questões 03 e 04.



13 – O formato da imagem que aparece acima é de um:

- A) quadrado
- B) círculo
- C) retângulo
- D) triângulo
- E) losango

14 – A régua acima tem 15 centímetros, quantos centímetros são necessários para formar um metro?

- A) 10 cm;
- B) 100 cm;
- C) 1000 cm;
- D) 101 cm;
- E) 110 cm.

15 – Numa garrafa de refrigerante abaixo tem 290 ml, porém eu preciso de 1 litro para levar à festa. Marque a alternativa em que aparece a quantidade exata, para completar um litro:

- A) 350 ml de refrigerante;
- B) 400 ml de refrigerante;
- C) 500 ml de refrigerante;
- D) 610 ml de refrigerante;
- E) 710 ml de refrigerante.



16 – Se eu tenho 150 reais para gastar na minha feira da semana, e transformo esses reais em algarismo romano fica:

- A) CL
- B) DL
- C) ML
- D) LM
- E) IM

17 – Se eu tenho 750 moedas de 1 centavo, eu tenho:

- A) R\$ 7,50;
- B) R\$ 70,50;
- C) R\$ 75,00;
- D) R\$ 75,50;
- E) R\$ 705,50.

18 – O sucessor de 1.999 é:

- A) 1.997;
- B) 1.999;
- C) 2.000;
- D) 2.100;
- E) 3.000.



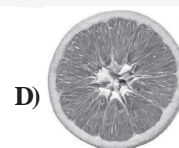
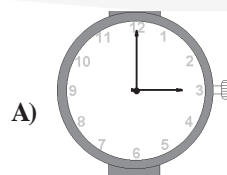
19 – Se um kg de frutas e verduras juntas custa R\$ 1.30, quanto custa 7 kg destes mesmos itens:



[http://1.bp.blogspot.com/\\_6VhUGzkIWGQ/SoRcBJFiB8I/AAAAAAAAABD4/LT-2QyorD5M/s400/frutas.jpg](http://1.bp.blogspot.com/_6VhUGzkIWGQ/SoRcBJFiB8I/AAAAAAAAABD4/LT-2QyorD5M/s400/frutas.jpg)

- A) R\$ 7.10;
- B) R\$ 7.90;
- C) R\$ 8.30;
- D) R\$ 9.10;
- E) R\$ 9.30.

20 – Aponte a alternativa que apresenta a forma geométrica de um triângulo.



## CONHECIMENTOS ESPECÍFICOS

21 – Todos os itens abaixo são causas de acidentes de trabalho, **EXCETO**:

- I ato inseguro;
- II condição insegura;
- III fator pessoal de insegurança.

Está(ao) correto(s) o(s) item(ns):

- A) I, apenas;
- B) II, apenas;
- C) III, apenas;
- D) I e II, apenas;
- E) I, II e III.

22 – Dentro do ambiente de trabalho estão presentes vários fatores de riscos químicos. Marque a alternativa em que aparece um agente de risco que **NÃO** é químico.

- A) neblina;
- B) poeira;
- C) fumo;
- D) vírus;
- E) vapores.

23 – Sobre o ambiente de trabalho, os riscos ocupacionais e o esforço físico intenso estão inseridos no grupo:

- A) físico;
- B) químico;
- C) biológico;
- D) ergonômico;
- E) de acidentes.

24 – Aponte a alternativa abaixo que **NÃO** apresenta fatores de diminuição de acidentes no trabalho.

- A) Sinalização de toda a empresa;
- B) Ausência de kit de primeiros socorros;
- C) Comissão Interna de Prevenção de Acidentes (CIPA) atuante;
- D) Utilização de chaves de segurança;
- E) Treinamentos para prevenção de acidentes.

25 – São princípios que regem a Comissão Interna de Segurança do Trabalho:

- I Apoio ativo da administração;
- II Manutenção de pessoal dedicado exclusivamente à segurança;
- III Extensão do Programa de Segurança fora da companhia;
- IV Deixar de orientar os novos trabalhadores da empresa.

Estão corretos os itens:

- A) I e II;
- B) I e III;
- C) II e III;

- D) I, II e III;
- E) II, III e IV.

26 – A queimadura é um dos mais comuns dos acidentes de trabalho, principalmente, quando se trata de pessoas que trabalham em cozinhas. As queimaduras podem acontecer com:

- I água fervente;
- II fogo;
- III vapor;
- IV produtos químicos;
- V cremes de barbear.

Está(ão) **INCORRETO(S)** o(s) item(ns):

- A) I, apenas;
- B) II, apenas;
- C) V, apenas;
- D) I e II, apenas;
- E) III e IV, apenas.

27 – As características das queimaduras de 1º grau são identificadas quando:

- A) se manifestam com vermelhidão;
- B) se manifestam com vermelhidão, inchaço e dor;
- C) se manifestam com dor mais intensa e normalmente quando aparecem bolhas ou umidade na região afetada;
- D) se manifestam pela pele esbranquiçada ou carbonizada com muita dor;
- E) se manifestam pela pele esbranquiçada ou carbonizada e com pouca ou nenhuma dor.

28 – Assinale a única alternativa correta sobre os procedimentos corretos que devem ser tomados quando uma pessoa sofre uma queimadura com fogo.

- A) Refrescar a pele com compressas frias;
- B) Lavar o local com água corrente por 10 minutos (se forem os olhos, 15 minutos), enxugando delicadamente e cubrindo-a com um curativo limpo e seco;
- C) Furar as bolhas;
- D) Dar bastante líquido para a pessoa ingerir e, se houver muita dor, um analgésico;
- E) Cubrir a queimadura com algodão.

29 – A imagem do equipamento de proteção que aparece abaixo é:



- A) um abafador;
- B) uma máscara para pó;
- C) proteção auricular;
- D) luva;
- E) óculos de proteção.

30 – A limpeza de pisos onde não há grande preocupação de contaminação pode ser realizada:

- A) todos os dias;
- B) duas vezes na semana;
- C) três vezes por semana;
- D) uma vez por semana;
- E) uma vez a cada quinze dias.

31 – No transporte de móveis e equipamentos é preciso ter muito cuidado para não danificar o produto. Assinale a alternativa em que apresenta o transporte de móveis do tipo **sucessivo**.

- A) A carga é transportada utilizando-se apenas uma modalidade e um único veículo de transporte, com um único contrato;
- B) A carga é transportada por diferentes veículos de uma ou mais modalidades de transporte, com contratos distintos;
- C) A carga é transportada por dois ou mais veículos da mesma modalidade de transporte, comumente chamado de baldeação, com vários contratos;
- D) A carga é transportada por diferentes modais de transporte em uma única operação;
- E) A carga é transportada por dois ou mais modais de transporte, por meio de um único contrato.

32 – Marque **V (verdadeiro)** ou **F (falso)** nas afirmativas abaixo sobre a limpeza de luminárias que tem enfeites colado.

- ( ) Misture 1/4 de copo de sabão líquido para lava-louças com 1 copo de água morna e bata a mistura até obter uma espuma de consistência firme;
- ( ) Aplique a espuma à luminária com uma esponja, tomando o cuidado de não molhar o enfeite;
- ( ) Mergulhe a luminária na solução e retire-a;
- ( ) Tire o excesso de água da luminária, balançando-a vigorosamente e, depois, deixe-a secar ao sol, ou use um secador de cabelo ou ventilador.

A ordem correta dos itens é:

- A) V V F F;
- B) V V V F;
- C) V F V F;
- D) F F V V;
- E) F F F V.

33 – A imagem abaixo é um produto de limpeza que está inserido no grupo dos (as):



<http://www.medem.com.br/admin/produtos/MWPD7103643070.jpg>

- A) desinfetantes;
- B) detergentes;
- C) sabões de pó;
- D) amaciantes;
- E) águas sanitárias.

34 – Aponte a única alternativa correta sobre o uso dos defensivos:

- A) Pode usar equipamento desregulado;
- B) Pode colocar dose incorreta (sub e super-dosagens) para aplicar no ambiente;
- C) Pode fazer a aplicação do produto com condições climáticas inadequadas;
- D) pode deixar o aparelho de aplicação ter escorrimento e gotejamento;
- E) Não realizar aplicações na presença de ventos com velocidade inferior a 10 km/h sobre plantas estressadas e em caso de chuva iminente, sob pena de perda da eficiência do tratamento ou a causa de danos à cultura.

35 – Aponte a alternativa **INCORRETA** sobre as medidas a serem tomadas quando da aspiração de um corpo estranho pela boca.

- A) Assoar com força, comprimindo com o dedo a narina contrária. Com a boca fechada tente expelir o ar pela narina em que se encontra o corpo estranho. Não permita que a vítima assoe com violência;
- B) Introduzir instrumentos na narina (arame, palito, grampo, pinça etc.) que poderão amenizar nas complicações. Se o corpo estranho não puder ser retirado, deve-se procurar um médico imediatamente;
- C) Se visível tentar extrair o objeto com os dedos em gancho ou em pinça, quando se tratar da garganta;
- D) Não interfira se a vítima conseguir falar, tossir ou respirar.
- E) Se tratar de um inseto, deitar uma gota de azeite e depois enviar a pessoa para o Hospital. Outros corpos estranhos, também devem ser retirados pelo Hospital, quando se tratar do ouvido.

36 – A imagem abaixo é de um desentupidor que serve para a limpeza e conservação:



<http://www.varrelar.com.br/vassouras-rodos/desentupidor-de-pia-sanfonado.jpg>

- A) do ralo do banheiro;
- B) do jardim;
- C) do teto;
- D) da pia;
- E) do sanitário.

37 – Uma limpeza molhada consiste:

- A) na limpeza de pisos e de outras superfícies fixas e de mobiliários, por meio de esfregação e de enxágüe com água abundante, sendo utilizada principalmente na limpeza terminal;
- B) em passar pano ou esponja, umedecidos em solução detergente ou desinfetante, enxaguando, em seguida, com pano umedecido em água limpa. Esse procedimento é indicado para a limpeza de paredes, divisórias, mobiliários e de equipamentos de grande porte;
- C) na retirada de sujidade, pó ou poeira, mediante a utilização de vassoura (varreduras seca), e/ou aspirador;
- D) em passar um pano molhado por cima dos moveis de madeira;
- E) em passar uma esponja seca nas paredes, divisórias, mobiliários e em equipamentos de grande porte.

38 – A imagem abaixo é um equipamento de proteção individual denominado:



<http://www.siamfesp.org.br/novo/adm/acao/imagens/674.jpg>

- A) óculos;
- B) protetor facial;
- C) capacete;
- D) botina;
- E) luva.

39 – Com relação aos equipamentos de proteção individual é papel do empregado:

- I. utilizar os equipamentos de proteção individual apenas para a finalidade a que se destina;
- II. responsabilizar-se pela guarda e conservação;
- III. exigir seu uso;
- IV. cumprir as determinações do empregador sob o uso pessoal.

Estão corretos os itens:

- A) I e II, apenas;
- B) I e III, apenas;
- C) II e III, apenas;
- D) I, II e III, apenas;
- E) I, II e IV, apenas.

40 – A imagem abaixo faz uma menção a acidentes no trabalho. Ela está classificada como:



<http://www.areaseg.com/seg/>

- A) ato inseguro;
- B) condição insegura;
- C) doença do trabalho;
- D) acidente que ocorre no trajeto entre a casa e o trabalho ou do trabalho para casa;
- E) doença profissional.