



TRIBUNAL DE JUSTIÇA MILITAR DO ESTADO DE SÃO PAULO

Concurso Público

001. PROVA OBJETIVA

Agente de Segurança Judiciária (Motorista)

- ◆ Você recebeu sua folha de respostas e este caderno contendo 40 questões objetivas.
- ◆ Confira seu nome e número de inscrição impressos na capa deste caderno e na folha de respostas.
- ◆ Quando for permitido abrir o caderno, verifique se está completo ou se apresenta imperfeições. Caso haja algum problema, informe ao fiscal da sala.
- ◆ Leia cuidadosamente todas as questões e escolha a resposta que você considera correta.
- ◆ Marque, na folha de respostas, com caneta de tinta azul ou preta, a letra correspondente à alternativa que você escolheu.
- ◆ A duração da prova é de 3 horas, já incluído o tempo para o preenchimento da folha de respostas.
- ◆ Só será permitida a saída definitiva da sala e do prédio após transcorridos 75% do tempo de duração da prova.
- ◆ Deverão permanecer em cada uma das salas de prova os 3 últimos candidatos, até que o último deles entregue sua prova, assinando termo respectivo.
- ◆ Ao sair, você entregará ao fiscal a folha de respostas e este caderno, podendo levar apenas o rascunho de gabarito, localizado em sua carteira, para futura conferência.
- ◆ Até que você saia do prédio, todas as proibições e orientações continuam válidas.

AGUARDE A ORDEM DO FISCAL PARA ABRIR ESTE CADERNO DE QUESTÕES.

CONHECIMENTOS GERAIS

LÍNGUA PORTUGUESA

Leia o texto para responder às questões de números 01 e 02.

Falta civilidade no trânsito de São Paulo

Estas situações são cotidianas: motoristas fecham o cruzamento, param sobre a faixa de pedestres, atravessam o sinal vermelho, fazem manobras bruscas, estacionam em faixa dupla e buzina sem parar. E por aí vai.

É no trânsito de São Paulo que mais falta civilidade, segundo 57% dos 1 927 internautas que responderam a uma pesquisa do jornal *O Estado de S.Paulo*.

Para a socióloga Alessandra Olivato, a raiz do problema está na falta de entendimento do que é público, isto é, do espaço onde todos têm direitos iguais, e do que é privado, onde prevalece a lógica do interesse particular. “No Brasil, é histórico o uso de privilégios em benefício próprio.”

A socióloga entrevistou 54 motoristas de ônibus, lotação, táxi, carros; motoboys e pedestres. “Todos relataram razões particulares, como pressa ou estresse, que julgavam dar-lhes direito de cometer as faltas, mesmo que isso significasse desrespeitar o outro.”

(<http://g1.globo.com>. Publicado em 25.03.2007. Adaptado)

01. Assinale a alternativa correta de acordo com as informações do texto.

- (A) Dos 1 927 internautas entrevistados pelo jornal, a maioria considera que falta civilidade no trânsito paulistano.
- (B) Para Alessandra Olivato, a pressa e o estresse são motivos justos para que motoristas desrespeitem o espaço público.
- (C) Segundo a pesquisa do jornal, em São Paulo ocorrem situações de desrespeito no trânsito, mas elas não são corriqueiras.
- (D) Para a socióloga, os cidadãos devem compreender que somente existirá civilidade se o que é público prevalecer sobre os interesses pessoais.
- (E) A pesquisa de Alessandra Olivato baseou-se exclusivamente em entrevistas com motoristas de diferentes tipos de veículos.

02. Na última frase do texto, o trecho em destaque – ... que julgavam dar-lhes direito de cometer as faltas, **mesmo que isso significasse desrespeitar o outro.** –, pode ser substituído, sem alteração do sentido do texto, por

- (A) se bem que isso evitasse desrespeitar o outro.
- (B) embora isso representasse desrespeitar o outro.
- (C) caso isso aumentasse o desrespeito ao outro.
- (D) conforme isso condenasse o desrespeito ao outro.
- (E) à medida que isso recriminasse o desrespeito ao outro.

03. Considere a charge.



(Rice Araújo. <http://www.duniverso.com.br>. Acesso em 11.11.2013)

Pode-se relacionar essa charge à opinião da socióloga, expressa no primeiro texto, de que – “No Brasil, é histórico o uso de privilégios em benefício próprio.” –, pois, na charge,

- (A) o motorista é prudente e pratica a cidadania ao acelerar e buzinar para orientar a mãe do bebê a utilizar a calçada.
- (B) a prefeitura não tem realizado o trabalho de coleta de entulho, embora instrua os moradores a deixar esse lixo sobre as calçadas.
- (C) o morador não age como cidadão ao jogar o entulho na calçada, pois é indiferente aos transtornos que causa às outras pessoas.
- (D) a mãe do bebê deve compreender que os motoristas têm horário a cumprir, portanto precisa ser tolerante com esses profissionais.
- (E) as caçambas para o depósito de entulhos atrapalham as vias, por isso é mais adequado deixar esse material sobre as calçadas.

04. Leia o texto a seguir.

Ferocidade no trânsito

O atual trânsito não condiz com a vida humana, principalmente em São Paulo, onde os congestionamentos ultrapassam os 200 km de extensão nos horários de pico.

O motorista recebe uma agressão extraordinária desse ambiente confuso e descontrolado. O estresse vagarosamente toma conta de sua mente. Suas respostas no trânsito passam a ser agressivas e incontroláveis.

Por que reagimos com tanta ferocidade?

Faz pouco mais de 100 anos que inventaram o carro, e tudo se transformou nessa balbúrdia, mas as mudanças em nosso corpo levam milhões de anos. Dessa forma, a quantidade de adrenalina que vai para a nossa corrente circulatória, numa simples discussão no trânsito, é igual àquela que, milhões de anos atrás, caía na corrente circulatória de nosso organismo quando precisávamos fugir de nossos predadores*.

Por isso não entre em discussões no trânsito, pois você pode perder o controle da situação e, passado o efeito da adrenalina, ficam a tristeza e o arrependimento, que não resolvem mais nada.

(Nuno Cobra. <http://www2.uol.com.br>. Acesso em 11.11.2013. Adaptado)

* predador: animal que destrói outro com violência

De acordo com o texto, é correto afirmar que

- (A) os motoristas passaram a se comportar como predadores que perseguem sua caça, a partir do momento em que surgiu o primeiro automóvel.
- (B) o motivo principal da ampliação de congestionamentos nas metrópoles é o tempo que os motoristas perdem com discussões e brigas.
- (C) o trânsito de São Paulo torna as pessoas agressivas, pois durante 24 horas por dia elas têm de enfrentar congestionamentos de 200 km de extensão.
- (D) o excesso de adrenalina se mantém no corpo do motorista, após se envolver em conflitos no trânsito, o que o leva a sentir tristeza e arrependimento.
- (E) as discussões no trânsito provocam no indivíduo a mesma descarga de adrenalina que ocorria, no passado, quando ele tinha de fugir de predadores.

05. Considere a charge.



(Arionau da Silva Santos. <http://www.orapois.com.br>. Acesso em 11.11.2013)

A charge refere-se

- (A) à mensalidade cobrada pelas academias de artes marciais.
- (B) ao bem-estar decorrente da prática de atividades físicas.
- (C) ao desconhecimento dos jovens sobre as leis de trânsito.
- (D) ao desrespeito ao sistema de rodízio de carros.
- (E) à agressividade que alguns motoristas externam no trânsito.

Leia o texto para responder às questões de números 06 e 07.

Dicas fáceis para não se estressar no trânsito

Espreguice-se e respire fundo

Quando você respira profunda e lentamente, após uma espreguiçada, você se modifica completamente, passando para um outro nível de entendimento e tolerância. A origem primeira da felicidade é respirar e relaxar.

Escute, mas não preste atenção

As pessoas podem falar o que quiser para você, mas não leve em consideração. Se reagir, entrará em contato com o “vírus” do outro que está desnorreado. Isso derrama adrenalina na corrente circulatória, o que provoca danos à saúde: eleva os níveis mentais e a frequência cardíaca, destrói neurônios, as pernas amolecem, a fala e os movimentos ficam prejudicados. Não reagindo, você estará em plena proteção do seu organismo, em plena saúde.

Saia com sua mente do caos

Viaje através da mente para momentos prazerosos: o lazer em casa, a ida com a família ao shopping, a visita a lugares aprazíveis como mar, montanha...

Faça alongamentos

Alongue-se: estique as pernas, coloque a mão atrás do pescoço, depois traga o pescoço para frente, tentando tocar o queixo no peito. Esses exercícios o deixarão relaxado.

(Nuno Cobra. <http://www2.uol.com.br>. Acesso em 11.11.2013. Adaptado)

06. Nas frases reescritas a partir do texto, o verbo em destaque está corretamente empregado, de acordo com a norma-padrão da língua portuguesa, em:

- (A) Se você **mantiver** a calma, não dará atenção ao que os outros lhe dizem.
- (B) Se você **trazer** imagens prazerosas à sua mente, enfrentará melhor os congestionamentos.
- (C) Se você **pôr** sua felicidade em primeiro lugar, se tornará imune à balbúrdia do trânsito.
- (D) Se você **querer**, poderá relaxar durante o período em que está em seu veículo.
- (E) Se você **fazer** os exercícios propostos, ficará mais tranquilo.

07. Assinale a alternativa em que a preposição em destaque está empregada corretamente e de acordo com a norma-padrão da língua portuguesa.

- (A) O aumento da frequência cardíaca, **de** que o autor menciona, é prejudicial às pessoas hipertensas.
- (B) O “vírus” do outro, **com** que o autor se refere, é o comportamento agressivo do outro motorista.
- (C) O excesso de adrenalina, **a** que o autor faz alusão, pode provocar danos à saúde.
- (D) Viajar imaginariamente para lugares aprazíveis, **em** que o autor cita, tranquiliza a nossa mente.
- (E) Fazer alongamento, atitude **para** que o autor propõe, relaxa e distrai a pessoa a qualquer momento.

08. Leia o trecho.

_____ uma semana, o médico disse para _____ evitar o estresse praticando atividades físicas, pois é uma excelente maneira de proteger o corpo e _____ saudável. Agora, pretendo levar _____ sério os cuidados com a saúde.

De acordo com a norma-padrão da língua portuguesa, as lacunas do trecho devem ser preenchidas, respectivamente, por

- (A) Há ... mim ... conservá-lo ... à
- (B) Há ... eu ... conservá-lo ... a
- (C) Há ... mim ... conservar-lhe ... à
- (D) A ... eu ... conservá-lo ... à
- (E) A ... mim ... conservar-lhe ... a

09. Considere a charge.



(Arionau da Silva Santos. <http://www.arionauocartuns.com.br>. Acesso em 11.11.2013. Adaptado)

Pela fala do motorista, é correto afirmar que ele

- (A) está descontente com seu aparelho celular e vai optar por outra operadora de telefonia.
- (B) não observou a sinalização, que indica claramente que há obras na pista.
- (C) irrita-se com as constantes ligações da esposa quando ele está fora da cidade.
- (D) não avalia a situação de perigo, uma vez que está atento à conversa pelo celular.
- (E) passa sempre por essa estrada, por isso conhece os trechos onde pode usar o celular.

10. Imagine que a mensagem a seguir foi entregue a um dos motoristas do Tribunal de Justiça.

Senhor Alberto,
 Por favor, _____ na entrada do Tribunal, hoje ao meio-dia e _____, _____ conduzir dois Promotores a Campinas, onde _____ algumas audiências marcadas para o período da tarde.

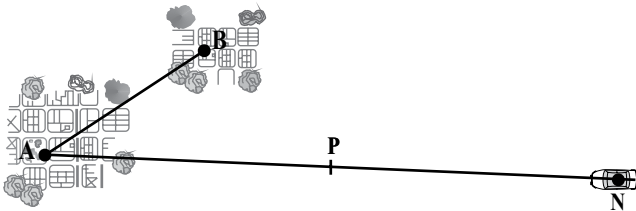
Atenciosamente,
 Vânia Costa
 Assistente...

De acordo com a norma-padrão da língua portuguesa, as lacunas da mensagem devem ser preenchidas, respectivamente, por

- (A) esteja ... meia ... a fim de ... ocorrerão
 (B) esteja ... meio ... afim de ... ocorrerão
 (C) esteja ... meio ... a fim de ... ocorrerá
 (D) esteje ... meia ... afim de ... ocorrerão
 (E) esteje ... meio ... afim de ... ocorrerá

MATEMÁTICA

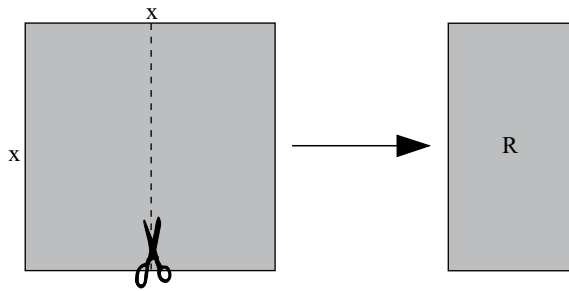
11. Durante o percurso do ponto N até a cidade B, passando pela cidade A, conforme indicado na figura, um motorista fez uma parada no ponto P, quando já havia percorrido $\frac{2}{5}$ do trajeto total. Quando chegou à cidade A, ele já havia percorrido $\frac{3}{4}$ do trajeto total. Sabendo que A dista 210 km de P, pode-se afirmar que a distância percorrida por esse motorista, no percurso em questão, é igual, em quilômetros, a



- (A) 500.
 (B) 520.
 (C) 550.
 (D) 600.
 (E) 680.
12. Ônibus de duas linhas circulares partem de um mesmo ponto inicial. Os ônibus da linha X, de percurso menor, partem a cada 20 minutos, e os da linha Y, de percurso maior, a cada 35 minutos. Se ônibus de ambas as linhas partiram simultaneamente do referido ponto inicial às 7 h 25 min, então a próxima partida simultânea de ônibus de ambas as linhas ocorrerá às
- (A) 9 h 30 min.
 (B) 9 h 45 min.
 (C) 10 h 10 min.
 (D) 10 h 35 min.
 (E) 10 h 50 min.

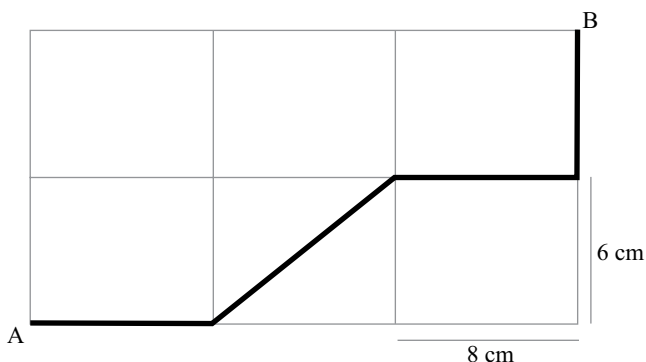
13. Se certa máquina trabalhar seis horas por dia, de forma constante e sem parar, ela produzirá n peças em seis dias. Para produzir quantidade igual das mesmas peças em quatro dias, essa máquina deverá trabalhar diariamente, nas mesmas condições, um número de horas igual a
- (A) 12.
 - (B) 10.
 - (C) 9.
 - (D) 8.
 - (E) 7.
14. A concessionária de certa rodovia dispõe de um determinado número de cones para sinalizar um trecho em obras, de x quilômetros. Constatou-se que se forem colocados 20 cones a cada quilômetro, faltarão 40 cones. Entretanto, se forem colocados 16 cones a cada quilômetro, sobrarão 20 cones. Desse modo, é correto afirmar que a extensão do trecho que deverá ser sinalizado é igual, em quilômetros, a
- (A) 8.
 - (B) 10.
 - (C) 11.
 - (D) 12.
 - (E) 15.
15. Do valor total do orçamento feito por uma oficina para o conserto de um carro, 40% referia-se à mão de obra, sendo os restantes R\$ 2.100,00 destinados à compra das peças necessárias. Após uma negociação, o proprietário do veículo conseguiu um desconto de 10% sobre o valor total orçado. Desse modo, ele irá pagar pelo conserto
- (A) R\$ 3.150,00.
 - (B) R\$ 3.100,00.
 - (C) R\$ 3.000,00.
 - (D) R\$ 2.950,00.
 - (E) R\$ 2.900,00.

16. Na execução de um trabalho manual, uma folha quadrada de cartolina, de lado igual a x cm, foi cortada ao meio, conforme mostra a figura, resultando em duas regiões retangulares congruentes (R), tendo cada uma 90 cm de perímetro.



A área da folha quadrada original era, em centímetros quadrados, igual a

- (A) 625.
 (B) 784.
 (C) 900.
 (D) 1 024.
 (E) 1 225.
17. O Sr. e a Sra. Leite Pereira têm 4 filhos: Lívia, Laura, Lígia e Pedro, cuja média aritmética das idades é igual a 15 anos. Sabendo-se que a média aritmética das idades das meninas, somente, é igual a 17 anos, é correto afirmar que a idade de Pedro, em anos, é
- (A) 9.
 (B) 10.
 (C) 11.
 (D) 12.
 (E) 14.
18. A linha em negrito desenhada em uma malha formada por retângulos congruentes representa o percurso entre os pontos A (partida) e B (chegada) de uma prova ciclística, conforme mostra a figura.




Sabendo que cada centímetro indicado na malha corresponde a 100 metros, pode-se afirmar que a distância real, em quilômetros, entre os pontos de partida e de chegada dessa prova, pelo percurso indicado, é igual a

- (A) 2,8.
 (B) 2,9.
 (C) 3,0.
 (D) 3,2.
 (E) 3,4.

19. Se abastecermos um carro com motor flex somente com etanol ou somente com gasolina, a razão entre o número de litros de gasolina e o número de litros de etanol, nessa ordem, necessários para percorrer certa distância é de 5 para 8. Desse modo, se forem utilizados 64 litros de etanol para percorrer n quilômetros, então o número de litros de gasolina necessários para percorrer essa mesma distância será igual a

- (A) 34.
 (B) 40.
 (C) 44.
 (D) 50.
 (E) 54.

20. Em certa arena construída para a Copa do Mundo no Brasil, o gramado tem uma área de jogo de 105 m de comprimento por 68 m de largura. Embaixo da grama, importada dos Estados Unidos, há uma camada uniforme e contínua de areia, de 20 cm de altura, conforme detalhado na figura.



O volume de areia utilizado para fazer essa camada em toda a área de jogo foi igual, em metros cúbicos, a

- (A) 2 248.
 (B) 2 168.
 (C) 1 875.
 (D) 1 465.
 (E) 1 428.

ATUALIDADES

21. As relações amistosas que o Brasil tem com a Bolívia foram abaladas no mês de agosto, quando

- (A) uma partida de futebol entre a seleção brasileira e a boliviana foi suspensa pela CBF sob a alegação de falta de segurança nos estádios da capital, La Paz.
- (B) um diplomata brasileiro facilitou a fuga de um senador boliviano, que ficou abrigado por 15 meses na sede da embaixada brasileira em La Paz.
- (C) o presidente Evo Morales acusou o Brasil de priorizar as atividades comerciais com a Argentina e o Paraguai, e de reduzir o comércio com seu país.
- (D) a Petrobras se negou a continuar importando o gás boliviano sob a alegação de que o produto estava adulterado e com preço elevado.
- (E) as autoridades policiais passaram a exigir dos imigrantes bolivianos que vivem em São Paulo um visto de permanência do governo federal.

22. A quatro horas e meia de perder a validade, a medida provisória conhecida como MP dos Portos foi aprovada nesta quinta-feira [16.05.2013] pelo Senado por 53 votos a favor, sete contra e cinco abstenções. Pela manhã, o texto tinha sido aprovado pela Câmara.

(<http://g1.globo.com>. 17.05.2013. Adaptado)

Um dos objetivos da MP dos Portos é

- (A) estatizar os portos brasileiros e evitar que grupos estrangeiros controlem a carga e descarga de mercadorias.
- (B) tornar cada porto especializado em um tipo especial de carga, como ocorre com o ferro no porto de Tubarão (ES).
- (C) impedir que trabalhadores temporários prestem serviço nos portos de exportação de *commodities*.
- (D) criar uma rede de policiamento especial para garantir a segurança dos navios atracados nos portos.
- (E) ampliar os investimentos do setor privado na modernização dos portos para agilizar a movimentação dos navios.

23. Em setembro, o sociólogo e ex-presidente Fernando Henrique Cardoso voltou ao noticiário nacional, após participar de uma cerimônia que contou com a presença de vários políticos e intelectuais.

O motivo para a cerimônia a que se refere a notícia foi

- (A) o recebimento da medalha Cruzeiro do Sul por sua atuação política.
- (B) a sua posse como conselheiro no ministério das Relações Exteriores.
- (C) o seu ingresso como membro da Academia Brasileira de Letras.
- (D) a indicação de seu nome para receber o prêmio Nobel de diplomacia.
- (E) a homenagem dos economistas a ele, por ser considerado o pai do Real.

24. O Senado Federal aprovou em 26 de julho o projeto de lei que altera o Código Penal para aumentar a punição para crimes de corrupção ativa, passiva, concussão (extorsão praticada por servidores públicos) e peculato (corrupção cometida por servidores públicos), entre outros. Esses crimes passarão a ser considerados

- (A) hediondos, isto é, gravíssimos.
- (B) graves e podem levar à perda dos direitos políticos.
- (C) culposos e sem direito a liberdade condicional.
- (D) políticos e os réus terão seus direitos políticos cassados.
- (E) econômicos e os réus deverão devolver o dinheiro ilícito.

25. Em junho de 2013, a Câmara dos Deputados rejeitou maciçamente a PEC 37, que

- (A) ampliava o tempo de mandato dos governadores de estado.
- (B) definia como competência privativa da polícia as investigações criminais.
- (C) aumentava o número de partidos políticos para as eleições de 2014.
- (D) diminuía o controle do Banco Central sobre a taxa Selic.
- (E) congelava os salários dos trabalhadores durante o ano de 2013.

26. A blogueira cubana e colunista de um jornal paulista, Yoani Sánchez, deparou-se com mais protestos no aeroporto de Salvador, Bahia, por volta das 8h30 desta segunda-feira, 18 [fevereiro], assim como já havia ocorrido em Recife durante a madrugada.

(<http://www.estadao.com.br>. 18.02.2013. Adaptado)

A situação retratada na notícia ocorreu em outras cidades visitadas por Yoani Sánchez, que causa polêmica porque

- (A) é frontalmente contra a atuação de Barack Obama na América Latina.
- (B) defende as uniões homoafetivas nos países de religião muçulmana.
- (C) propõe que os países da América Latina tenham governos fortes.
- (D) faz críticas ao governo de Cuba, acusado de desrespeitar os direitos humanos.
- (E) critica a presença de tropas internacionais da ONU no Haiti.

27. A presidente Dilma Rousseff voltou a afirmar nesta segunda-feira [28.10] que o modelo de partilha será mantido nos próximos leilões. Ela falou que “Nós acreditamos que esse modelo garante um equilíbrio justo entre os nossos interesses, ou seja, os interesses do povo brasileiro, os interesses da empresa brasileira e os interesses das empresas estrangeiras, que também vão investir”.

(<http://noticias.r7.com>. 28.10.2013. Adaptado)

A presidente se referia aos leilões para a

- (A) privatização de rodovias, como a BR-101.
- (B) expansão da rede ferroviária brasileira.
- (C) exploração do petróleo no pré-sal.
- (D) construção de gasodutos entre o litoral e a capital paulista.
- (E) criação de zonas francas, como a de Manaus.

28. O presidente dos Estados Unidos, Barack Obama, disse em discurso transmitido neste sábado [31.08] ter convicção de que uma intervenção militar na Síria é necessária mas afirmou que está buscando apoio do Congresso.

(<http://g1.globo.com>. 31.08.2013. Adaptado)

O motivo alegado por Obama para propor a intervenção foi

- (A) o ataque do grupo Al Qaeda ao governo sírio.
- (B) a ameaça da Síria em invadir Israel.
- (C) a execução de jornalistas estrangeiros, pelo governo sírio.
- (D) o bombardeio de igrejas cristãs pelas tropas sírias.
- (E) o suposto uso de armas químicas pelo governo sírio.

29. Em abril de 2013, a morte da ex-primeira-ministra britânica Margaret Thatcher despertou uma antiga polêmica em torno da principal figura política da Grã-Bretanha da década de 1980. Thatcher era fortemente criticada pelos

- (A) trabalhadores porque sua política econômica gerou forte desemprego.
- (B) ingleses porque ofereceu à Argentina parte das ilhas Malvinas.
- (C) capitalistas porque instituiu várias leis que beneficiavam os trabalhadores.
- (D) ingleses porque era abertamente contra a manutenção da realeza britânica.
- (E) alemães e franceses porque se negava a receber imigrantes no país.

30. Leia a manchete publicada em outubro de 2013.

A paralisação parcial da administração federal dos Estados Unidos pode prejudicar a recuperação econômica mundial.

(<http://g1.globo.com>. 01.10.2013. Adaptado)

O motivo da paralisação destacada na manchete foi

- (A) a série de manifestações públicas na capital do país devido ao alto desemprego enfrentado pelos trabalhadores.
- (B) a ameaça de deposição do presidente Obama, acusado de fraudar documentos sobre a guerra do Iraque.
- (C) a repercussão internacional sobre a rede de espionagem montada pelos órgãos militares do país.
- (D) a falta de acordo entre os membros do congresso norte-americano sobre o novo orçamento do país.
- (E) o efeito da crise asiática, que reduziu sensivelmente as exportações e afetou a balança comercial do país.

CONHECIMENTOS ESPECÍFICOS

31. De acordo com o artigo 44 do Código de Trânsito Brasileiro, ao se aproximar de qualquer tipo de cruzamento, um condutor de veículo, além de transitar em velocidade moderada, de forma que possa deter seu veículo com segurança para dar passagem a pedestre e a veículos que tenham o direito de preferência, deve

- (A) piscar os faróis constantemente.
- (B) fazer gestos convencionais de braço.
- (C) demonstrar prudência especial.
- (D) ligar a luz alta dos faróis.
- (E) ligar o pisca alerta por um curto período.

32. Onde houver sinalização horizontal delimitadora de ponto de embarque ou desembarque de passageiros de transporte coletivo, ou na inexistência desta sinalização, um condutor não será multado com infração média se estacionar o veículo no intervalo compreendido entre

- (A) seis metros antes e cinco metros depois do marco do ponto.
- (B) sete metros antes e sete metros depois do marco do ponto.
- (C) oito metros antes e sete metros depois do marco do ponto.
- (D) nove metros antes e cinco metros depois do marco do ponto.
- (E) dez metros antes e dez metros depois do marco do ponto.

Nas questões de números 33 e 34, assinale a alternativa que preenche corretamente a(s) lacuna(s), na ordem em que aparece(m), de acordo com o Código de Trânsito Brasileiro.

33. O CTB determina que um motorista profissional é obrigado a, dentro do período de _____, observar um intervalo de, no mínimo, _____ de descanso, podendo ser fracionado em _____, no mesmo dia.

- (A) 20 (vinte) horas ... 8 (oito) horas ... 5 (cinco) horas mais 3 (três)
- (B) 21 (vinte e uma) horas ... 10 (dez) horas ... 6 (seis) horas mais 4 (quatro)
- (C) 22 (vinte e duas) horas ... 10 (dez) horas ... 7 (sete) horas mais 3 (três)
- (D) 23 (vinte e três) horas ... 11 (onze) horas ... 9 (nove) horas mais 2 (duas)
- (E) 24 (vinte e quatro) horas ... 11 (onze) horas ... 9 (nove) horas mais 2 (duas)

34. Todo veículo automotor, elétrico, articulado, reboque ou semirreboque, para transitar na via, deverá ser licenciado anualmente pelo órgão executivo de trânsito do Estado _____ onde estiver registrado o veículo.

- (A) e da Prefeitura
- (B) e do Conselho de Trânsito
- (C) ou do CET
- (D) ou do Distrito Federal
- (E) e da JARI

35. Será considerada uma infração de natureza grave quando o condutor

- (A) desobedecer às ordens emanadas da autoridade competente de trânsito ou de seus agentes.
- (B) deixar de dar passagem pela esquerda, quando solicitado.
- (C) fizer uso do fecho de luz alta dos faróis em vias providas de iluminação pública.
- (D) deixar de retirar todo e qualquer objeto que tenha sido utilizado para sinalização temporária da via.
- (E) transitar com o veículo com excesso de peso, admitido percentual de tolerância quando aferido por equipamento, na forma a ser estabelecida pelo CONTRAN.

36. Um condutor, trafegando por uma via onde a velocidade máxima permitida é de 80 km/h, que venha ser flagrado, pelo radar, a 110 km/h, pode ser multado com infração

- (A) gravíssima.
- (B) grave.
- (C) média.
- (D) leve.
- (E) levíssima.

37. Pode-se considerar, em direção defensiva, que a condição adversa de luz, que se caracteriza pela existência de pouca luz, ou de muita luz, é uma situação causadora de acidentes. Sendo assim, um condutor trafegando por uma rodovia não iluminada, à noite, e que não estiver seguindo ou cruzando com outro veículo, deverá manter, de acordo com o artigo 40 do CTB,

- (A) ligada a luz alta.
- (B) ligado o farol baixo.
- (C) ligadas somente as luzes de posição.
- (D) ligados as luzes de posição e o pisca alerta.
- (E) ligados o farol baixo e as luzes de posição.

38. Analise a figura a seguir.



A figura mostra uma correia dentada e um esticador de correia, que são utilizados na maioria dos veículos. Caso a correia dentada venha a partir, quebrar, durante o funcionamento do motor, poderá

- (A) empenar o flexível da embreagem.
- (B) travar o comando de válvulas.
- (C) quebrar o anel sincronizado.
- (D) queimar o alternador.
- (E) fundir a árvore intermediária.

39. O motor de um veículo começou a falhar toda vez que era acelerado pelo motorista. Nesse caso, uma das causas pode ser

- (A) coroa e pião travados.
- (B) eixo secundário solto.
- (C) velas queimadas.
- (D) eixo intermediário quebrado.
- (E) homocinética virando em falso.

40. Um condutor deixou de verificar os itens necessários no veículo antes de realizar uma viagem. Em certo ponto da rodovia, o motor começou a ferver a ponto de começar a falhar a aceleração. Nesse caso, o dano pode ser

- (A) eixo piloto empenado.
- (B) platô desalinhado.
- (C) anel sincronizador partido.
- (D) junta de cabeçote queimada.
- (E) hidrovácuo empenado.

