



CONCURSO PÚBLICO

## 001. PROVA OBJETIVA

### GUARDA CIVIL METROPOLITANO – 3.<sup>a</sup> CLASSE (FEMININO E MASCULINO)

- ◆ Você recebeu sua folha de respostas e este caderno contendo 50 questões objetivas.
- ◆ Confira seu nome e número de inscrição impressos na capa deste caderno e na folha de respostas.
- ◆ Quando for permitido abrir o caderno, verifique se está completo ou se apresenta imperfeições. Caso haja algum problema, informe ao fiscal da sala.
- ◆ Leia cuidadosamente todas as questões e escolha a resposta que você considera correta.
- ◆ Marque, na folha de respostas, com caneta de tinta azul ou preta, a letra correspondente à alternativa que você escolheu.
- ◆ A duração da prova é de 3 horas, já incluído o tempo para o preenchimento da folha de respostas.
- ◆ Só será permitida a saída definitiva da sala e do prédio após transcorridas 2 horas e 15 minutos do início da prova.
- ◆ Ao sair, você entregará ao fiscal a folha de respostas e este caderno, podendo levar apenas o rascunho de gabarito, localizado em sua carteira, para futura conferência.
- ◆ Até que você saia do prédio, todas as proibições e orientações continuam válidas.

AGUARDE A ORDEM DO FISCAL PARA ABRIR ESTE CADERNO DE QUESTÕES.



Leia o texto para responder às questões de números **01** a **10**.

### *Grudados no facebook*

Eu resisti o quanto pude, mas acabei sucumbindo no ano passado, por necessidade profissional e também para “conhecer o inimigo”, já que meus filhos inevitavelmente usariam a plataforma.

Por que o facebook tem o poder de transfixar o usuário em sua frente? Um grupo de neurocientistas alemães suspeitou de que a resposta estivesse no retorno positivo que a plataforma oferece por meio das curtidas públicas aos *posts* dos usuários.

As curtidas servem como uma indicação da reputação social do usuário, e ter boa reputação é algo valioso por aumentar a chance de ser alvo de boa vontade e cooperação dos outros. Descobrir que gostam da gente ou receber outras formas de avaliação positiva são estímulos fortes para o estriado ventral, estrutura do sistema de recompensa do cérebro que nos premia com uma sensação de prazer quando algo positivo acontece. Mais tarde, a lembrança desse reforço positivo serve como motivação para repetir o que deu certo – e assim a causa da boa reputação se afirma.

Os pesquisadores da Universidade Livre de Berlim examinaram a relação entre a intensidade de uso da plataforma e a percepção do cérebro dos usuários a recompensas sociais. O resultado foi uma correlação clara entre a intensidade com que o estriado ventral de cada um respondia a avaliações sociais positivas de boa reputação, na forma de adjetivos associados à sua pessoa. A descoberta explica por que o facebook é um sistema tão poderoso quanto um videogame. Funciona como um videogame: você aperta alguns botões e descobre imediatamente, pelas opiniões dos outros, se o resultado foi positivo. Como esse é um videogame de adultos que se leva no bolso, é difícil resistir a “jogar” o tempo todo...

(Suzana Herculano-Houzel, *Folha de S. Paulo*, 14.10.2013. Adaptado)

**01.** Segundo o texto, em relação ao facebook, a autora

- (A) reconheceu que ele corrompe a reputação social do usuário.
- (B) recusou ser usuária porque não aprecia o universo dos videogames.
- (C) questiona o fato de que as redes sociais sejam irresistíveis.
- (D) aderiu à rede por causa dos filhos e das demandas profissionais.
- (E) resolveu impedir que os filhos adquirissem equipamentos técnicos.

**02.** Os neurocientistas alemães levantaram a hipótese de que

- (A) o uso do facebook poderia diminuir os estímulos em regiões cerebrais.
- (B) o poder da rede decorre da avaliação positiva recebida pelo usuário.
- (C) a rede instiga o usuário a criar ações edificantes e cooperativas entre todos.
- (D) a imagem social do usuário fica prejudicada, quando adere à rede.
- (E) o facebook estimula o cérebro a operar em um ritmo cada vez mais veloz.

**03.** De acordo com o texto, o estriado ventral

- (A) desorganiza-se, quando o usuário recebe avaliação positiva.
- (B) aciona mecanismos estranhos às estruturas do cérebro.
- (C) sensibiliza-se com as avaliações positivas recebidas pelo usuário.
- (D) passa a ter nova estrutura se o usuário aderir às redes digitais.
- (E) obriga o usuário a cuidar melhor de sua reputação no facebook.

**04.** De acordo com o texto, a boa reputação do usuário

- (A) resulta de um aprimoramento nas estruturas cerebrais.
- (B) independe da maneira como reage aos estímulos dos demais.
- (C) provoca reações disparatadas no universo das redes.
- (D) nasce do desejo de construir melhor imagem de si mesmo.
- (E) aumenta as possibilidades de contar com o auxílio de outros.

**05.** De acordo com o último parágrafo, facebook e videogame

- (A) inviabilizam o usuário para a tarefa de apertar botões.
- (B) desencadeiam sensações prazerosas no usuário.
- (C) prejudicam as relações afetivas do usuário.
- (D) trazem, ao longo do tempo, danos irreversíveis.
- (E) impedem o usuário de expandir o círculo de relações.

06. As frases:

I. Um grupo de neurocientistas alemães...

II. A lembrança desse reforço positivo...

completam-se, correta e respectivamente, de acordo com a modalidade-padrão, em

- (A) I. levantou a suspeita de que a plataforma oferece um retorno positivo às pessoas.  
II. leva à motivação para repetir o que deu certo.
- (B) I. levantou a suspeita que a plataforma oferece um retorno positivo às pessoas.  
II. leva a motivação para repetir o que deu certo.
- (C) I. levantou a suspeita onde a plataforma oferece um retorno positivo às pessoas.  
II. leva à motivação para repetir o que deu certo.
- (D) I. levantou a suspeita de que a plataforma oferece um retorno positivo às pessoas.  
II. leva a motivação para repetir o que deu certo.
- (E) I. levantou a suspeita na qual a plataforma oferece um retorno positivo às pessoas.  
II. leva pela motivação para repetir o que deu certo.

07. Assinale a alternativa correta quanto à concordância, de acordo com a modalidade-padrão.

- (A) Qual de nós vamos evitar o facebook se com ele aumenta-se as chances de uma boa reputação?
- (B) Qual de nós evitarão o facebook se com ele aumentam-se as chances de uma boa reputação?
- (C) Qual de nós evitaremos o facebook se com ele aumenta-se as chances de uma boa reputação?
- (D) Qual de nós evitará o facebook se com ele aumentam-se as chances de uma boa reputação?
- (E) Qual de nós evitaria o facebook se com ele aumentasse as chances de uma boa reputação?

08. No contexto do primeiro parágrafo, as aspas em – “conhecer o inimigo” – foram usadas para

- (A) esclarecer uma opinião.
- (B) amenizar o impacto da expressão.
- (C) justificar um argumento.
- (D) explicar termo antecedente.
- (E) opor-se a um ponto de vista.

09. O segmento frasal – Os pesquisadores da Universidade Livre de Berlim – completa-se corretamente, de acordo com a modalidade-padrão, em:

- (A) que se realiza pesquisa sobre o cérebro, indagam por que o facebook atrai tanto.
- (B) nos quais se realiza pesquisa sobre o cérebro, indagam por que o facebook atrai tanto.
- (C) onde se realiza pesquisa sobre o cérebro, indagam por que o facebook atrai tanto.
- (D) os quais se realiza pesquisa sobre o cérebro, indagam por que o facebook atrai tanto.
- (E) aonde se realiza pesquisa sobre o cérebro, indagam por que o facebook atrai tanto.

10. Leia as frases.

Se os usuários forem fiéis ao facebook, \_\_\_\_\_ a boa reputação.

Talvez um dia \_\_\_\_\_ que se renderam a um falso deus.

As lacunas devem ser, correta e respectivamente, preenchidas com

- (A) manterão ... percebam
- (B) manteriam ... percebem
- (C) manterão ... percebiam
- (D) mantêm ... percebiam
- (E) manteriam ... percebam

11. Assinale a alternativa correta quanto à flexão nominal e verbal.

- (A) Qualquer que sejam os graus de resistência, eles se torna inviáveis diante dos mecanismos de sedução das redes digitais.
- (B) Quaisquer que sejam os graus de resistência, eles se tornam inviáveis diante dos mecanismos de sedução das redes digitais.
- (C) Quaisquer que seja os graus de resistência, eles se tornam inviável diante dos mecanismos de sedução das redes digitais.
- (D) Qualquer que sejam o grau de resistência, eles se torna inviáveis diante dos mecanismos de sedução das redes digitais.
- (E) Quaisquer que sejam o grau de resistência, eles se tornam inviável diante dos mecanismos de sedução das redes digitais.

12. Ao tomar posse junto à Secretaria Municipal de Segurança Urbana da cidade de São Paulo, o guarda civil cumprimentará o Secretário da pasta com a frase:

- (A) Vossa Alteza podeis confiar em mim, que exercerei a profissão com dignidade.
- (B) Sua Excelência, Senhor Secretário, pode confiar em mim, que exercerei a profissão com dignidade.
- (C) Meritíssimo, o senhor pode confiar em mim, que exercerei a profissão com dignidade.
- (D) Vossa Senhoria, Senhor Secretário, pode confiar em mim, que exercerei a profissão com dignidade.
- (E) Vossa Majestade, o senhor pode confiar em mim, que exercerei a profissão com dignidade.

Nas questões de números 13 e 14, assinale a alternativa com ortografia e acentuação corretas.


13.

- (A) Descobri o fascínio do facebook, por meio de compartilhamentos de opiniões. Vi-me submissa à tela. É uma relação inescapável.
- (B) Descobri o facínio do facebook, por meio de compartilhamentos de opiniões. Vi-me submissa à tela. É uma relação inescapavel.
- (C) Descobri o facínio do facebook, por meio de compartilhamentos de opiniões. Vi-me submiça à tela. É uma relação inescapavel.
- (D) Descobri o fascinio do facebook, por meio de compartilhamentos de opiniões. Vi-me submissa à tela. É uma relação inescapavel.
- (E) Descobri o facinio do facebook, por meio de compartilhamentos de opiniões. Vi-me submissa à tela. É uma relação inescapável.

14.

- (A) Os cientistas são unanimes: fazem uma advertência aos voluntários quanto aos impactos causados pelo uso ininterrupto das plataformas digitais.
- (B) Os cientistas são unânimes: fazem uma advertência aos voluntários quanto aos impactos causados pelo uso ininterrupto das plataformas digitais.
- (C) Os cientistas são unânemes: fazem uma advertencia aos voluntários quanto aos impactos causados pelo uso ininterrupto das plataformas digitais.
- (D) Os cientistas são unânimes: fazem uma advertencia aos voluntários quanto aos impactos causados pelo uso inenterrupto das plataformas digitais.
- (E) Os cientistas são unânimes: fazem uma advertencia aos voluntários quanto aos impactos causados pelo uso ininterrupto das plataformas digitais.

15. Leia a charge.



(www.maiszero.com. Acesso em 24.10.2013)

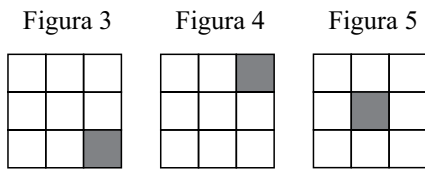
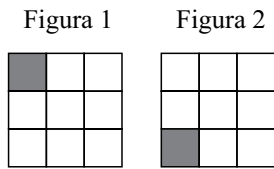
A frase condizente com os sentidos da charge é:

- (A) A menina discordou da mãe quanto à importância do facebook nas relações interpessoais.
- (B) Nota-se que a mãe da menina não acredita que o facebook melhore a reputação do usuário.
- (C) Mesmo brincando ao ar livre, a menina sente falta dos amigos que conquistou nas redes digitais.
- (D) Talvez os amigos imaginários sejam mais fiéis que os que existem na realidade.
- (E) A menina procura amenizar o momento de solidão tentando angariar amigos imaginários.

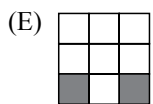
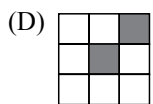
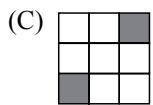
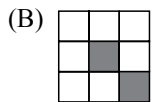
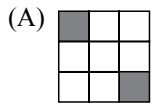
16. Em um estacionamento, três quartos do número total de vagas demarcadas estão disponíveis. Se nesse estacionamento há 45 veículos estacionados em vagas demarcadas, então é verdade que o número de vagas demarcadas disponíveis é
- (A) 90.
  - (B) 135.
  - (C) 150.
  - (D) 179.
  - (E) 193.
17. Considere que, do total de 2 000 autos de apreensão lavrados em um determinado período, 600 tenham sido lavrados na Região Oeste. Dessa forma, o número de autos de apreensão lavrados na Região Oeste, em relação ao número total de autos lavrados no referido período, corresponde a
- (A) 45%.
  - (B) 40%.
  - (C) 35%.
  - (D) 30%.
  - (E) 25%.
18. Uma corda com 150 metros de comprimento precisa ser cortada em duas partes, proporcionais aos números 2 e 3, para que duas regiões possam ser isoladas. O comprimento, em metros, do pedaço mais comprido de corda, será
- (A) 50.
  - (B) 60.
  - (C) 70.
  - (D) 80.
  - (E) 90.
19. Em determinado evento, a razão entre o número de homens e o número de mulheres, nessa ordem, pode ser representada por 0,2. Sabendo-se que o número total de pessoas presentes nesse evento é 3 000, pode-se afirmar, corretamente, que o número de mulheres é
- (A) 750.
  - (B) 1 175.
  - (C) 1 500.
  - (D) 2 395.
  - (E) 2 500.

20. Para garantir a segurança dos 5 000 convidados de um evento patrocinado pelo Município, constatou-se que seria necessária, nesse evento, a presença de 100 guardas civis metropolitanos. Sabendo-se que o número de guardas é diretamente proporcional ao número de convidados, se o número de convidados aumentar em 250, o número de guardas civis metropolitanos necessários para garantir a segurança de todos os convidados seria de
- (A) 105.
  - (B) 104.
  - (C) 103.
  - (D) 102.
  - (E) 101.
21. Cinquenta guardas do sexo feminino e 60 guardas do sexo masculino têm que ser divididos em grupos para uma missão, de modo que cada um dos grupos tenha a mesma quantidade de guardas, que essa quantidade seja máxima, que não haja grupo com guardas de ambos os sexos, e que cada guarda faça parte de um único grupo. O número total de grupos que é possível formar, nesse caso, é
- (A) 10.
  - (B) 11.
  - (C) 12.
  - (D) 13.
  - (E) 14.
22. Considere verdadeiro que *todos os primos de Kátia são guardas civis metropolitanos*. Com base nessa verdade, pode-se corretamente afirmar que
- (A) se José é guarda civil metropolitano, então ele é primo de Kátia.
  - (B) Kátia é guarda civil metropolitano.
  - (C) se Marina não é guarda civil metropolitano, então ela não é prima de Kátia.
  - (D) Kátia não é guarda civil metropolitano.
  - (E) se Caio não é primo de Kátia, então ele não é guarda civil metropolitano.
23. As três afirmações a seguir são verdadeiras.
- I. Se Ana não protege o patrimônio público municipal, então ela não comunicará ao superior as irregularidades.
  - II. Ana lavrará a multa ou comunicará ao superior as irregularidades.
  - III. Ana não lavrará a multa.
- Decorre dessas afirmações que Ana
- (A) protege o patrimônio público municipal e comunicará ao superior as irregularidades.
  - (B) não protege o patrimônio público municipal e lavrará a multa.
  - (C) não lavrará a multa e não protege o patrimônio público municipal.
  - (D) lavrará a multa, mas não comunicará ao superior as irregularidades.
  - (E) não comunicará ao superior as irregularidades.

24. Observe alguns elementos de uma sequência de figuras:



A partir da figura 6, essa sequência repete, sempre, a ordem das figuras apresentadas, ou seja, a figura 6 é igual à figura 1, a figura 7 é igual à figura 2, a figura 8 é igual à figura 3, e assim por diante. Supondo que as figuras sejam impressas em transparências, sobrepondo-se a figura 180 à figura 278 dessa sequência, a figura resultante será:



25. A sequência numérica 0, 2, 4, 6, 16, 10, 36, 14, 64, 18, 100, ... obedece sempre à mesma lógica de formação. O 61.º elemento dessa sequência é

- (A) 114.
- (B) 126.
- (C) 134.
- (D) 3 600.
- (E) 3 844.



## ATUALIDADES

26. *Edward Snowden recebe asilo na Rússia e já saiu do aeroporto*

O norte-americano Edward Snowden recebeu autorização para permanecer na Rússia durante um ano e já saiu do aeroporto de Cheremetievo, onde estava retido desde o dia 23 de junho.

(Publico, 01.08.13. Adaptado)

O governo dos Estados Unidos acusa Snowden de

- (A) envolvimento com o tráfico internacional de drogas.
- (B) participação no contrabando de mercadorias.
- (C) comunicação não autorizada de informações de defesa nacional.
- (D) tráfico de pessoas e exploração da pedofilia.
- (E) lavagem de dinheiro e evasão de divisas.

27. *Polícia confirma morte de 4.º suspeito de matar menino em SP*

Foi confirmada nesta quarta-feira a morte do quarto suspeito de matar o menino Brayan Yanarico Capcha, 5 anos, em junho deste ano, na zona leste de São Paulo.

(Terra, 11.09.13. Adaptado)

*Assassinato de menino Brayan Yanarico Capcha, de 5 anos, expõe situação de abandono dos imigrantes*

Brayan foi morto durante um assalto na região de São Mateus, na zona leste da capital paulista. Os assaltantes entraram na casa e pressionaram para que entregassem dinheiro. Os pais de Brayan chegaram ao Brasil há poucos meses para trabalhar na indústria têxtil.

(Brasil de Fato, 01.07.13. Adaptado)

O menino Brayan era de uma família

- (A) paraguaia.
- (B) uruguaia.
- (C) boliviana.
- (D) argentina.
- (E) chilena.

28. *Polícia divulga imagens de buscas por corpo de Amarildo na Rocinha*

Agentes mergulharam em reservatórios de água, mas nada encontraram. Ajudante de pedreiro desapareceu em 14 de julho.

(GI, 12.10.13)

De acordo com as investigações, os responsáveis pelo desaparecimento de Amarildo seriam

- (A) ex-presos que atuam na Rocinha em busca de armas e do controle do tráfico de drogas.
- (B) quadrilhas de contrabandistas que impõem a sua própria lei na Rocinha e em seus arredores.
- (C) assaltantes que agem com naturalidade na Rocinha, exibindo sempre suas armas de fogo.
- (D) grupos de traficantes que vinham disputando território e áreas de influência na Rocinha.
- (E) os próprios policiais militares ligados à Unidade de Polícia Pacificadora da Rocinha.

29. *Aproximação entre EUA e Irã desagrada governo de Israel*

Israel manifestou na terça-feira preocupação com uma possível reunião entre os presidentes dos EUA e do Irã nesta semana na ONU.

(Terra, 24.09.13)

A preocupação de Israel está relacionada ao fato de que

- (A) a própria existência do Irã constitui uma ameaça a Israel, o que faz com que o Estado nacional judaico defenda a guerra imediata contra o Irã.
- (B) o Irã já entrou em guerra mais de uma vez contra Israel, e esse passado belicista do país poderia ficar esquecido diante da reaproximação com os EUA.
- (C) o Irã financia grupos palestinos extremistas como o Fatah e a Al Qaeda, que recorrem às armas na luta pela formação de um Estado árabe na Palestina.
- (D) o atual presidente do Irã é reconhecido por suas afirmações antissemitas, apesar de reconhecer o Holocausto e ofender corriqueiramente a Palestina.
- (E) os acenos conciliatórios do Irã para as potências mundiais podem ocultar uma aceleração do seu programa nuclear que, segundo Israel, teria fins bélicos.

**30.** *STF dá 72 horas para Senado enviar informações sobre supersalários*

(Correio Braziliense, 18.10.13. Adaptado)

Em relação aos “supersalários” no Senado, é correto afirmar que

- (A) o Tribunal de Contas da União determinou, no final de setembro de 2013, que os salários acima do teto fossem cortados e que o dinheiro pago de forma irregular nos últimos cinco anos fosse devolvido.
- (B) o Senado decidiu, por conta própria, após graves denúncias de corrupção publicadas na imprensa e grandes manifestações ocorridas em Brasília, reduzir os salários mais altos e devolver o dinheiro pago indevidamente.
- (C) uma nova lei aprovada no Congresso no começo de outubro de 2013 passou a valer, proibindo funcionários da Câmara e do Senado de receberem salários acima do teto salarial nacional, estabelecido pelo salário da presidência da República.
- (D) uma lei de iniciativa popular, parecida com a “Lei da Ficha Limpa”, estabeleceu, em setembro de 2013, a proibição de que servidores públicos ligados ao Congresso Nacional pudessem receber uma remuneração maior do que o teto salarial nacional.
- (E) a pressão popular aumentou muito e fez com que senadores e deputados se preocupassem com a reputação do Congresso Nacional e decidissem acabar com abusos como os salários pagos acima do teto a partir de outubro de 2013.

**31.** *Mãe pede que Dilma interceda para libertar brasileira presa na Rússia*

A mãe da ativista brasileira, presa na Rússia junto com outros 29 integrantes do Greenpeace por organizar um protesto em uma plataforma petrolífera no Ártico, fez um apelo à presidente Dilma Rousseff para que interceda junto ao governo russo e antecipe o retorno da bióloga.

(GI, 03.10.13. Adaptado)

Acerca do episódio discutido no trecho, é correto afirmar que o governo brasileiro

- (A) decidiu não intervir no assunto, para não provocar atritos e desgastes com o governo russo e com seus aliados.
- (B) questionou a mãe e a família por terem permitido que a filha participasse do protesto e se misturasse aos manifestantes.
- (C) optou por se omitir e aguardar o desenvolvimento da situação, para não promover um escândalo internacional.
- (D) pediu ao Ministro das Relações Exteriores que fizesse uma intervenção de alto nível perante as autoridades russas.
- (E) reagiu de forma enérgica, convocando o embaixador da Rússia no Brasil a prestar esclarecimentos.

**32.** *Grupo invade Instituto Royal em São Roque e leva cães beagle*

(GI, 18.10.13. Adaptado)

De acordo com os manifestantes, a invasão se deu devido

- (A) aos boatos de que ali havia torneios de brigas entre os cachorros.
- (B) às suspeitas de que os animais sofriam maus-tratos no local.
- (C) à ameaça feita pelo Instituto de que sacrificaria os animais ao final do mês.
- (D) à tentativa do Instituto de utilizar gordura animal na produção de sabonetes.
- (E) à existência de rituais religiosos que machucavam os animais.

**33.** *Grupo com Petrobras, Shell, Total e chineses vence 1.º leilão do pré-sal*

(UOL, 21.10.13)

O nome e a localização aproximada do campo licitado no primeiro leilão do pré-sal estão corretamente indicados em:

- (A) Óleo, litoral de Santa Catarina.
- (B) Tubarão Azul, litoral do Espírito Santo.
- (C) Libra, litoral do Rio de Janeiro.
- (D) Vargas, litoral de Sergipe.
- (E) Brás, bacia de Santos.

**34.** *Obama diz que leva acusações sobre espionagem a Dilma ‘muito a sério’*

Presidente dos EUA afirmou que vai se informar sobre as acusações. Ele disse entender a ‘preocupação’ de Brasil e México com o tema.

(GI, 06.09.13)

A denúncia de que os EUA teriam espionado o Brasil teve como consequência

- (A) uma guinada na política externa brasileira, que passou a privilegiar o hemisfério Sul a partir do 2.º semestre de 2013.
- (B) uma declaração de repúdio assinada pelos países que formam a América Latina, em setembro de 2013.
- (C) a redução de investimentos do capital estrangeiro dos EUA no Brasil, após resposta dura do governo brasileiro, ocorrida em agosto de 2013.
- (D) o cancelamento da viagem oficial de Dilma aos EUA, que ocorreria no mês de outubro de 2013.
- (E) o rompimento das relações diplomáticas entre o Brasil e os EUA em agosto de 2013, marcado por uma reaproximação quase imediata.

35. O atual movimento de parte da classe artística para limitar a publicação de biografias no Brasil reacendeu o debate sobre o assunto. Atualmente, o Código Civil brasileiro permite livros e filmes biográficos somente com autorização do personagem ou de sua família, no caso de pessoas mortas. Se o biografado ou sua família entenderem que houve dano à honra em uma publicação, pode recorrer à Justiça e tirá-la de circulação.

(EBC, 14.10.13)

Um dos fatos que provocou a retomada do debate público sobre as biografias no Brasil foi

- (A) a Ação Direta de Inconstitucionalidade proposta ao Supremo Tribunal Federal pela Associação Nacional de Editores de Livros, tendo como objetivo permitir a publicação de biografias sem autorização do biografado.
- (B) a publicação de uma longa e detalhada biografia de Caetano Veloso, o que acabou expondo excessivamente a privacidade do cantor e compositor e fez com que se desencadeasse o movimento organizado pelos artistas.
- (C) a vitória, na justiça, do autor de uma biografia sobre Roberto Carlos que havia sido retirada das livrarias por ordem judicial, o que fez com que essa publicação voltasse às lojas e provocasse incômodo entre os artistas.
- (D) a aprovação, no Congresso, de um projeto de lei que flexibiliza a atual legislação existente, o que ampliaria bastante as possibilidades de publicação das biografias das celebridades e personalidades públicas.
- (E) a sanção, por Dilma Roussef, de uma lei que estabelece o controle do governo federal, por meio do Ministério da Cultura, sobre o que pode e o que não pode ser publicado em termos de biografias.

## NOÇÕES DE INFORMÁTICA

36. Assinale a alternativa que indica o que acontece quando se clica na opção “Restaurar” do menu de contexto de um arquivo armazenado na Lixeira do MS-Windows 7, em sua configuração padrão. Considere que o local de origem do arquivo, o diretório “documentos” da unidade principal (C:\documentos), está vazio.

- (A) O arquivo é removido permanentemente do computador.
- (B) O arquivo é enviado para o local de origem de onde foi excluído e sai da Lixeira.
- (C) O arquivo é enviado para a Área de Trabalho e sai da Lixeira.
- (D) Uma cópia de segurança é enviada para a Área de Trabalho, e o arquivo permanece na Lixeira.
- (E) Uma cópia de segurança é enviada para o local de origem de onde foi excluído, e o arquivo permanece na Lixeira.

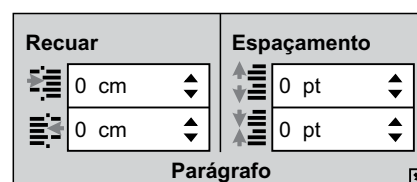
37. Considere as células, linhas, colunas e valores a seguir, extraídos do MS-Excel 2010, em sua configuração padrão.

	A	B	C	D
1	Nome	Escalas	Valor	Total
2	Pedro	5	R\$ 110	R\$ 550
3	Carlos	4	R\$ 100	R\$ 400
4	Sandra	5	R\$ 120	R\$ 600
5			R\$ 110	

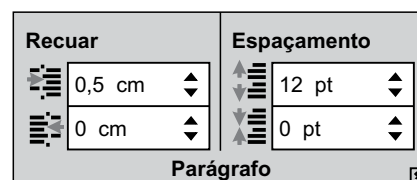
Assinale a alternativa que contém a fórmula que, quando aplicada na célula C5, resulta no valor apresentado atualmente nessa célula.

- (A) =MÉDIA(C2:C4)
- (B) =MÉDIA(B4:D4)
- (C) =SOMA(C2:C4)
- (D) =MÍNIMO(C2:C4)
- (E) =MÍNIMO(B2:D4)

38. Observe parte do grupo “Parágrafo” da guia “Layout da Página” do MS-Word 2010, em sua configuração padrão, em dois momentos, antes e depois da utilização dos seus recursos de formatação:



antes

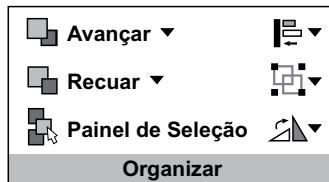


depois


Assinale a alternativa que indica quais recursos foram utilizados, ou seja, tiveram seu valores modificados.

- (A) Recuar à Direita e Espaçamento Antes.
- (B) Recuar à Direita e Espaçamento Depois.
- (C) Recuar à Esquerda e Espaçamento Antes.
- (D) Recuar à Esquerda e Espaçamento Depois.
- (E) Espaçamento Antes e Espaçamento Depois.

39. Observe a figura extraída do MS-PowerPoint 2010, em sua configuração padrão:



O grupo “Organizar” da guia “Ferramentas de Desenho / Formatar” aparece automaticamente quando, ao se editar um slide, se selecionam duas formas unidas e tratadas como um único objeto.

Assinale a alternativa que contém uma opção que aparece ao se clicar no ícone 

- (A) Girar 90° para a direita.
  - (B) Trazer para a Frente.
  - (C) Enviar para Trás.
  - (D) Alinhar à Direita.
  - (E) Desagrupar.
40. No Internet Explorer 8, em sua configuração padrão, para copiar o endereço associado a um link e utilizá-lo em outros programas, o usuário deve escolher a opção \_\_\_\_\_ do menu de contexto do link.

Assinale a alternativa que preenche corretamente a lacuna.

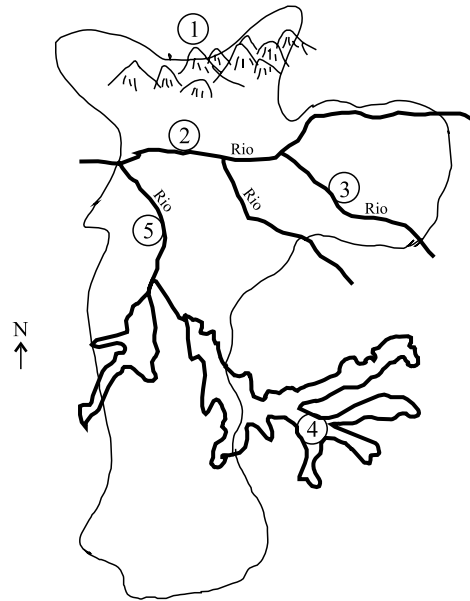
- (A) Abrir em uma Nova Janela
- (B) Abrir na Nova Guia
- (C) Abrir
- (D) Copiar Atalho
- (E) Imprimir Destino

## DIREITOS HUMANOS

41. Dentre os objetivos fundamentais da República Federativa do Brasil, encontra-se previsto na Constituição Federal de 1988 o objetivo de
- (A) garantir a todos o pleno exercício dos direitos culturais e o acesso às fontes da cultura nacional e apoiar a difusão exclusiva das manifestações culturais nacionais.
  - (B) promover o bem de todos, sem preconceitos de origem, raça, sexo, cor, idade e quaisquer outras formas de discriminação.
  - (C) garantir a propriedade privada e estabelecer tratamento favorecido para as empresas de pequeno porte constituídas sob as leis brasileiras e que tenham sua administração no País.
  - (D) promover a cooperação entre os povos para o progresso da humanidade, sem permitir, no entanto, o acesso dos estrangeiros aos cargos públicos.
  - (E) envidar esforços à integração econômica, política, social e cultural dos povos da América Latina, visando à formação de uma comunidade latino-americana de nações.
42. Sobre o direito de reunião, prevê o art. 5.º, inciso XVI, da Constituição Federal, que todos podem reunir-se pacificamente, sem armas, em locais abertos ao público,
- (A) independentemente de autorização ou de qualquer aviso prévio, desde que não frustrem outra reunião anteriormente convocada para o local.
  - (B) mediante autorização exarada por autoridade designada pelo Prefeito Municipal, sendo obrigatório dar ciência do evento à Polícia Militar e à autoridade de trânsito.
  - (C) independentemente de autorização, desde que não frustrem outra reunião anteriormente convocada para o mesmo local, sendo apenas exigido prévio aviso à autoridade competente.
  - (D) mediante autorização prévia e comunicação à autoridade competente, que não possui o dever de informar se há outra reunião convocada para o mesmo local.
  - (E) independentemente de autorização, aviso prévio ou qualquer consideração por outra reunião que esteja convocada para aquele local, devendo os promotores de cada reunião decidirem como se dará o uso do local público, de forma simultânea ou sucessiva.

## GEOGRAFIA

43. Criminoso em fuga adentra uma casa em busca de refúgio da perseguição. Como já era madrugada, o criminoso desperta atenção pelo barulho provocado e é flagrado pelos moradores. Buscando distrair a todos, ateaia fogo à casa e se evade. Um transeunte, que percebe o incêndio que se alastra,
- (A) não poderá adentrar o imóvel, pois somente poderia fazê-lo durante o dia, desde que contasse com o consentimento do morador.
  - (B) poderá adentrar o imóvel, desde que haja autorização dos moradores, ainda que sua intenção seja prestar socorro.
  - (C) não poderá adentrar o imóvel, pois mesmo que buscasse prestar socorro, somente é possível a entrada de pessoa cuja função pública seja afastar o perigo, como o bombeiro.
  - (D) poderá adentrar o imóvel, sem configurar violação de domicílio, mesmo sem consentimento do morador, se sua intenção for prestar socorro.
  - (E) não poderá adentrar o imóvel, já que, com a evasão do criminoso do local, não há mais flagrante delito, única hipótese que dispensa o consentimento do morador.
44. A Constituição Federal prevê, como instrumento de proteção, uma ação judicial que se manifesta pelo(a)
- (A) concessão de *habeas-corpus* sempre que alguém sofrer ou for ameaçado de sofrer violência ou coação em sua liberdade de locomoção, por ilegalidade ou abuso de poder.
  - (B) livre manifestação do pensamento, sendo vedado o anonimato.
  - (C) livre expressão da atividade intelectual, artística, científica e de comunicação, independentemente de censura ou licença.
  - (D) livre locomoção no território nacional em tempo de paz, podendo qualquer pessoa, nos termos da lei, nele entrar, permanecer ou dele sair com seus bens.
  - (E) livre exercício de qualquer trabalho, ofício ou profissão, atendidas as qualificações profissionais que a lei estabelecer.
45. Adotada e proclamada pela Resolução n.º 217A(III) da Assembleia Geral das Nações Unidas, de 10 de dezembro de 1948, a Declaração Universal dos Direitos Humanos prevê expressamente que
- (A) será reconhecida a união estável entre o homem e a mulher como entidade familiar, devendo a lei de todos os países signatários facilitar sua conversão em casamento.
  - (B) todos têm direito ao meio ambiente ecologicamente equilibrado, bem de uso comum do povo e essencial à sadia qualidade de vida.
  - (C) a família, a sociedade e o Estado têm o dever de amparar as pessoas idosas, assegurando sua participação na comunidade, defendendo sua dignidade.
  - (D) não será concedida extradição de estrangeiro por crime político ou de opinião e que em nenhuma hipótese serão refugiados e apátridas extraditados.
  - (E) toda pessoa tem direito a uma nacionalidade e ninguém será arbitrariamente privado de sua nacionalidade, nem do direito de mudar de nacionalidade.
46. A distribuição espacial da população paulistana sofreu mudanças significativas a partir da década de 1970, citando-se, como exemplo,
- (A) as áreas centrais como Sé, Brás e Pari, que têm forte concentração populacional em virtude das altas taxas de natalidade da população residente.
  - (B) os bairros do chamado “centro expandido”, como Santo Amaro e Lapa, que apresentam forte crescimento demográfico devido à grande industrialização.
  - (C) as áreas dos extremos sul e norte do município, que têm concentrado grandes contingentes demográficos com sérias implicações socioambientais.
  - (D) as áreas às margens das rodovias que se dirigem ao interior do estado e ao Vale do Paraíba têm rapidamente se despovoado devido à valorização imobiliária.
  - (E) os bairros planejados, à margem das represas e nas áreas de várzeas, que se tornaram locais de forte concentração populacional no oeste da cidade.
47. A questão está relacionada ao mapa do município de São Paulo apresentado a seguir.

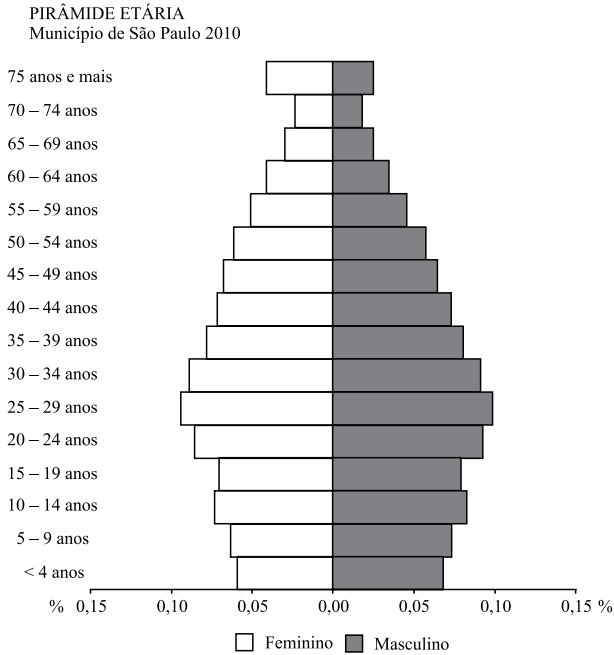


(Fernando Saroni & Mauricio Carvalho. *A Grande São Paulo*. São Paulo: FTD, 1990. p. 39. Adaptado)

Assinale a alternativa que identifica corretamente um dos elementos da Geografia física do município de São Paulo.

- (A) 1 – serra do Mar, coberta por floresta, separa São Paulo da Baixada Santista.
- (B) 2 – rio Tietê, afluente do rio Paraná, atravessa a cidade no sentido leste-oeste.
- (C) 3 – rio Tamanduateí, rio que nasce em Osasco e provoca sérias inundações na cidade.
- (D) 4 – reservatório de Juqueri, abastecido por fontes de água da região da serra da Mantiqueira.
- (E) 5 – rio Anhangabaú, afluente do Tietê, tem parte do seu leito canalizado sob grandes avenidas.

48. Analise a pirâmide etária apresentada abaixo.



(<http://www.prefeitura.sp.gov.br/cidade/secretarias/upload/saude/arquivos/infambiental/PIRAMIDE%20MSP%202010.pdf>)

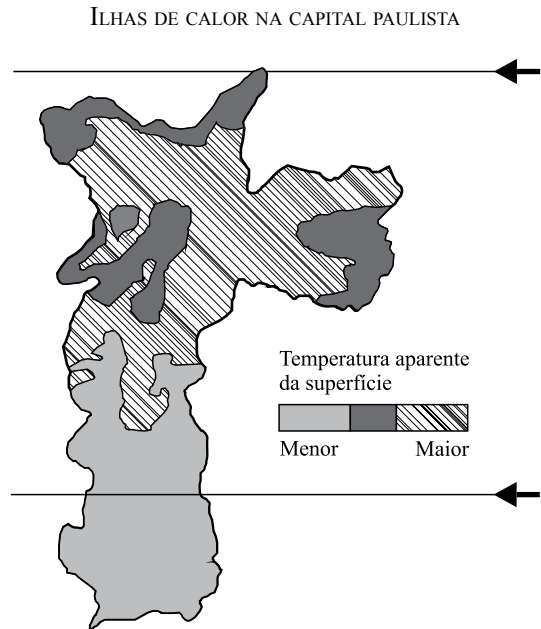
Com relação à pirâmide etária da cidade de São Paulo, é correto afirmar que

- (A) identifica uma cidade onde mais da metade de sua população é migrante, vinda de outras regiões brasileiras.
- (B) mostra a divisão social existente, pois a base é formada por crianças das camadas mais pobres da população.
- (C) destaca o elevado número de habitantes na cidade e a necessidade urgente de ampliar a infraestrutura médico-hospitalar.
- (D) enfatiza a grande proporção de população idosa que representa cerca de 40% dos habitantes da cidade.
- (E) caracteriza uma população em fase de redução da taxa de natalidade e processo de envelhecimento.

49. Desde o final do século XX, a cidade de São Paulo tem sido reconhecida como “cidade global” ou metrópole mundial. Essas denominações se equivalem e são decorrência do fato de a cidade de São Paulo apresentar

- (A) atividades financeiras, administrativas e no campo da informação, que tornam sua influência nacional e mundial.
- (B) uma população superior a 12 milhões de habitantes, metade dos quais migrantes nacionais e estrangeiros.
- (C) grande número de museus e instituições artísticas que a ligam diretamente aos polos culturais europeus e norte-americanos.
- (D) uma extensa área conurbada, ou seja, formada por cerca de 5 municípios integrados por densa rede de transportes.
- (E) fortes indícios de integração com o Rio de Janeiro para a formação de uma megalópole, expressão máxima de urbanização moderna.

50. A questão está relacionada ao mapa apresentado a seguir.



(<http://gardensofmylife.blogspot.com.br/2011/10/ilhas-de-calor-sao-paulo.html>. Adaptado)

O fenômeno das ilhas de calor na capital de São Paulo está relacionado

- (A) às proximidades das várzeas dos rios, onde há maior evaporação e umidade.
- (B) às áreas de relevo mais acidentado, a exemplo do que ocorre nos bairros de Perdizes e Pompeia.
- (C) à melhor qualidade do ar atmosférico, ou seja, onde há menos poluição, e as temperaturas são mais altas.
- (D) às áreas onde há maior adensamento de construções, asfalto e poucas áreas verdes.
- (E) aos locais com maior concentração industrial, como ocorre nos bairros da Mooca e do Jardim Ângela.



