



MUNICÍPIO DE CACHOEIRINHA
CONCURSO PÚBLICO Nº 02/2012

GUARDA MUNICIPAL DE TRÂNSITO

INSTRUÇÕES

Leia atentamente e cumpra rigorosamente as instruções que seguem, pois elas são parte integrante das provas e das normas que regem este Concurso Público.

1. Verifique se o cargo constante na capa deste caderno é aquele para o qual realizou a inscrição.
2. Cada questão oferece 5 (cinco) alternativas de respostas, representadas pelas letras **A, B, C, D** e **E**, sendo apenas 1 (uma) a resposta correta.
3. O tempo para a realização da prova é de 3 horas, incluindo o preenchimento da grade de respostas. O candidato só poderá retirar-se do recinto da prova, portando o caderno de provas, após transcorrida 1 hora e 30 minutos de seu início. Os dois últimos candidatos deverão retirar-se da sala de prova ao mesmo tempo, devendo assinar a Ata de Prova.
4. Nenhuma informação sobre as instruções e/ou sobre o conteúdo das questões será dada pelo fiscal, pois são parte integrante da prova.
5. No caderno de prova, o candidato poderá rabiscar, riscar, calcular, etc.
6. Os gabaritos preliminares da prova objetiva serão divulgados no dia 03/09/2012, até às 23h59min, no sites www.fundatec.org.br e www.cachoeirinha.rs.gov.br.
7. Certifique-se de que este caderno contém 40 (quarenta) questões. Caso contrário, solicite ao fiscal da sala a sua substituição.



Instrução: As questões de números 01 a 10 referem-se ao texto abaixo.

Tempo de mudança

01 Chegar em casa e ver a mesma decoração de sempre pode se tornar cansativo com o
02 passar do tempo. Para quem quer dar uma repaginada na casa de olho nas festas de fim de ano,
03 mas está com o orçamento justo ou não pretende aportar uma quantia elevada nisso, a solução é
04 optar por alternativas baratas e rápidas. E acredite, é possível transformar um ambiente gastando
05 pouco. Pintar as paredes, por exemplo, é uma ótima maneira de inovar. Mudar as cores propi_ia
06 sen_a_ão de bem-estar e eleva autoestima, dando um novo astral para qualquer espaço e
07 morador.

08 Para as arquitetas Dani Barella e Cris Paola, do escritório BP Arquitetura, de São Paulo, o
09 primeiro passo antes de escolher a nova cor é observar se iluminação natural e qual a
10 incidência dela. Feito isso, deve-se avaliar a metragem do cômodo em questão e o gosto pessoal
11 de quem vai habitá-lo.

12 Cores como laranja, vermelho, rosa e outras intensas aplicadas em uma única parede ou
13 em um detalhe podem transformar. Segundo as profissionais, saber utilizá-las a favor de cada
14 ambiente é tão importante como saber escolhê-las. Se a área for reduzida, por e_emplo, a
15 sugestão é utilizar tons mais claros, já que os escuros dão a sensação de redução do espaço.
16 “Substituir um sofá ou uma mesa de jantar pode sair muito caro, tornando-se muitas vezes
17 inviável. Já pintar as paredes é fácil e representa a lavagem da casa e a retirada de energias
18 antigas” – explica Dani.

19 A partir deste mês, com as festas de fim de ano já não tão longe no calendário, o interesse
20 aumenta. “As pessoas gostam de reformar a casa para o fim do ano, pois é uma época de novas
21 promessas e esperanças. É normalmente quando as pessoas precisam de uma virada de página”
22 – diz a profissional.

23 Na esteira de quem pretende levar a repagina_ão adiante em outros cômodos, a dica é
24 abrir espaço para novas energias, jogando fora papéis e roupas velhas. “Não se deve conservar
25 objetos quebrados e armários desorganizados. Não podemos esquecer que organização do
26 mundo exterior se parece muito com a visão interior de nós mesmos” – afirma Cris.

(Fonte: Zero Hora – Caderno Casa&Cia – 07/08/2012 – Texto adaptado.)

QUESTÃO 01 – As lacunas das linhas 05, 06, 14 e 23 ficam, correta respectivamente, preenchidas por

- A) c – ss – ss – x – ç .
- B) c – s – ç – x – ç .
- C) ss – s – ss – z – ss.
- D) ss – ss – ç – z – ç .
- E) s – c – ç – z – ç .

QUESTÃO 02 – Em relação ao texto, assinale a alternativa correta.

- A) A solução para repaginar a casa é comprar imóveis novos.
- B) Para escolher uma cor de tinta adequada, é preciso, primeiro, observar o comportamento da luz natural no ambiente.
- C) Cores escuras fazem com que o ambiente a ser pintado pareça ampliado, ao contrário das cores claras.
- D) As mudanças realizadas na casa no fim do ano servem para fazer com que as conquistas se solidifiquem.
- E) A melhor maneira de economizar dinheiro é comprar mesas de jantar ou sofás em lojas de móveis usados.

QUESTÃO 03 – Os símbolos das linhas 06, 09 e 25 são corretamente substituídos por

- A) três preposições.
- B) três artigos definidos.
- C) um verbo, um artigo e uma preposição.
- D) um artigo, um verbo e um artigo.
- E) uma preposição, um artigo e um verbo.

QUESTÃO 04 – A expressão **de olho** (l. 02) pode ser substituída, sem alterar o sentido mas fazendo os ajustes necessários na estrutura, por

- A) visando.
- B) olhando.
- C) observando.
- D) querendo.
- E) vendo.

QUESTÃO 05 – A expressão **A partir deste mês** (l. 19) é _____, e acrescenta ideia de _____.

Assinale a alternativa que completa, correta e respectivamente, as lacunas acima.

- A) uma preposição – dúvida
- B) uma locução adjetiva - lugar
- C) um substantivo – intensidade
- D) um adjetivo – negação
- E) uma locução adverbial – tempo

QUESTÃO 06 – A palavra **outras** (l. 12) retoma qual expressão do texto?

- A) laranja (l. 12).
- B) vermelho (l. 12).
- C) rosa (l. 12).
- D) Cores (l. 12).
- E) parede (l. 12).

QUESTÃO 07 – Assinale a alternativa cuja palavra é acentuada pela mesma regra que **área** (l. 14).

- A) Lágrima.
- B) Cerimônia.
- C) Hífen.
- D) Heróis.
- E) Colocássemos.

QUESTÃO 08 – As partes sublinhadas na palavra **transformar** (l. 04) representam

- A) encontros consonantais.
- B) dígrafos.
- C) dígrafos vocálicos.
- D) ditongos.
- E) encontros vocálicos.

QUESTÃO 09 – Como se classifica o sujeito do verbo **podemos** (l. 25)?

- A) Oculto.
- B) Indeterminado.
- C) Composto.
- D) Adverbial.
- E) Circunstancial.

QUESTÃO 10 – Assinale a alternativa que apresenta a correta separação silábica da palavra **Substituir** (l. 16).

- A) Subs-ti-tuir.
- B) Sub-sti-tu-ir.
- C) Su-bs-ti-tu-ir.
- D) Su-bs-ti-tuir.
- E) Subs-ti-tu-ir.

LEGISLAÇÃO

Para responder às questões 11 a 15, considere a Lei Complementar nº 003, de 04.07.2006, e suas alterações posteriores, que representa o Regime Jurídico dos Servidores Públicos do Município de Cachoeirinha.

QUESTÃO 11 - Segundo o artigo 8º do referido Regime, além das normas gerais, os concursos para provimento de cargos públicos do Executivo Municipal serão regidos por instruções especiais constantes

- A) no Aviso.
- B) no Edital .
- C) no Contrato.
- D) no Boletim.
- E) na Apostila.

QUESTÃO 12 - Dentre os requisitos básicos, segundo o referido Regime, para ingresso no serviço público municipal estão:

- I. Estar em gozo dos direitos políticos.
- II. Estar em situação regular para com as obrigações tributárias e sociais.
- III. Apresentar aptidão física e mental, atendendo às exigências do cargo, ressalvada a reserva legal às pessoas portadoras de deficiência.

Quais estão corretas?

- A) Apenas I.
- B) Apenas II.
- C) Apenas III.
- D) Apenas I e III.
- E) I, II e III.

QUESTÃO 13 - O artigo 14 da referida Lei estabelece que “**A posse ocorrerá no prazo de _____, prorrogável por igual período, mediante requerimento por escrito do interessado, contados da data de recebimento da notificação...**”

Marque a alternativa que completa corretamente a lacuna do trecho acima.

- A) 15 (quinze) dias
- B) 10 (dez) dias
- C) 9 (nove) dias
- D) 7 (sete) dias
- E) 5 (cinco) dias

QUESTÃO 14 - O serviço noturno, segundo o artigo 91 do referido Regime, prestado em horário compreendido entre 22 (vinte e duas) horas de um dia e 05 (cinco) horas do dia seguinte, terá o valor-hora acrescido de _____, computando-se cada hora como cinquenta e dois minutos e trinta segundos.

Marque a alternativa que completa corretamente a lacuna do trecho acima.

- A) 20% (vinte por cento)
- B) 25% (vinte e cinco por cento)
- C) 30% (trinta por cento)
- D) 35% (trinta e cinco por cento)
- E) 40% (quarenta por cento)

QUESTÃO 15 - Dentre os auxílios concedidos aos servidores públicos municipais, segundo o artigo 99 do referido Regime, estão:

- I. Auxílio-farmácia.
- II. Auxílio-creche.
- III. Auxílio-gás.

Quais estão corretas?

- A) Apenas I.
- B) Apenas II.
- C) Apenas III.
- D) Apenas I e II.
- E) I, II e III.

Para responder às questões nº 16 e 17, considere a Lei Municipal nº 2.424, de 19.10.2005, e suas alterações posteriores, que dispõe sobre a Avaliação do Servidor Público do Município de Cachoeirinha em estágio probatório.

QUESTÃO 16 - Os conceitos de avaliação de desempenho do servidor constantes no Termo Final de Avaliação, de acordo com o artigo 6º da referida Lei, serão considerados insatisfatórios para pontuação inferior a

- A) 70% (setenta por cento).
- B) 75% (setenta e cinco por cento).
- C) 76% (setenta e seis por cento).
- D) 77% (setenta e sete por cento).
- E) 80% (oitenta por cento).

QUESTÃO 17 - Segundo o artigo 7º da referida Lei "A **avaliação de desempenho será realizada _____ pela Comissão Especial de Avaliação de Desempenho no Estágio Probatório – CEADep, composta por cinco servidores efetivos e estáveis designados pelo Prefeito Municipal através de portaria.**"

Marque a alternativa que completa corretamente a lacuna do trecho acima.

- A) mensalmente
- B) bimestralmente
- C) trimestralmente
- D) semestralmente
- E) anualmente

QUESTÃO 18 - De acordo com a Lei Orgânica Municipal, a data magna do Município de Cachoeirinha é

- A) 12 de março.
- B) 15 de março.
- C) 13 de abril.
- D) 15 de maio.
- E) 14 de junho.

QUESTÃO 19 - De acordo com o artigo 5º da Lei Orgânica Municipal, o _____ e o _____ municipal são símbolos do Município de Cachoeirinha, dentre outros.

Assinale a alternativa que preenche correta e respectivamente as lacunas acima.

- A) hino – selo
- B) selo – música
- C) brasão – selo
- D) bandeira – música
- E) hino – bandeira

QUESTÃO 20 Segundo a Lei Orgânica Municipal, é obrigatório cantar o Hino Nacional Brasileiro:

- I. Nas Escolas Municipais, no mínimo uma vez por semana.
- II. Nas Escolas particulares, no mínimo uma vez por semana.
- III. Em todas as cerimônias do Município.

Quais estão corretas?

- A) Apenas I.
- B) Apenas II.
- C) Apenas III.
- D) Apenas II e III.
- E) I, II e III.

CONHECIMENTOS ESPECÍFICOS

Para responder às questões de números 21 a 29, considere a Lei nº 9.503 de 23.09.1997, que instituiu o Código de Trânsito Brasileiro - CTB.

QUESTÃO 21 - De acordo com o referido Código, dentre os órgãos ou entidades que fazem parte da composição do Sistema Nacional de Trânsito estão, MENOS

- A) o Conselho Nacional de Trânsito – CONTRAN.
- B) a Junta de Coordenação Financeira das Secretarias Estaduais.
- C) os Conselhos Estaduais de Trânsito – CETRAN.
- D) a Polícia Rodoviária Federal.
- E) as Polícias Militares dos Estados.

QUESTÃO 22 - Segundo o CTB, dentre as competências dos órgãos e entidades executivos do trânsito dos Municípios, no âmbito de sua circunscrição estão:

- I. Estabelecer, em conjunto com os órgãos de polícia ostensiva de trânsito, as diretrizes para o policiamento ostensivo de trânsito.
- II. Aplicar as penalidades de advertência por escrito e multa, por infrações de circulação, estacionamento e parada previstas no CTB, notificando os infratores e arrecadando as multas que aplicar.
- III. Executar a fiscalização de trânsito, autuar e aplicar as medidas administrativas cabíveis, por infrações de circulação, estacionamento e parada previstas no CTB, no exercício regular do Poder de Polícia de Trânsito.

Quais estão corretas?

- A) Apenas I.
- B) Apenas II.
- C) Apenas I e II.
- D) Apenas I e III.
- E) I, II e III.

QUESTÃO 23 - Segundo os conceitos e definições arrolados no Anexo I do referido Código, a via urbana caracterizada por interseções em nível, geralmente controlada por semáforo, com acessibilidade aos lotes lindeiros e às vias secundárias e locais, possibilitando o trânsito entre as regiões da cidade, se denomina via

- A) restrita.
- B) de trânsito rápido.
- C) coletora.
- D) central.
- E) arterial.

Para responder a questão 24 analise as figuras 1 e 2 que seguem:



Figura 1



Figura 2

Fonte: Manual Brasileiro de Sinalização de Trânsito – Volume II (2007) p. 4





QUESTÃO 24 - Segundo o CTB, as ilustrações acima representam placas de sinalização de advertência que significam, respectivamente:

- A) Confluência à esquerda – Confluência à direita.
- B) Entroncamento oblíquo à esquerda – Entroncamento oblíquo à direita.
- C) Confluência à direita – Confluência à esquerda.
- D) Estreitamento de pista à esquerda – Estreitamento de pista à direita.
- E) Entroncamento oblíquo à direita – Entroncamento oblíquo à esquerda.

QUESTÃO 25 - Segundo o artigo 61 do referido Código, nas vias urbanas, onde não existir sinalização regulamentadora, a velocidade máxima permitida nas vias coletoras será de

- A) oitenta quilômetros por hora.
- B) sessenta quilômetros por hora.
- C) cinquenta quilômetros por hora.
- D) quarenta quilômetros por hora.
- E) trinta quilômetros por hora.

QUESTÃO 26 - Qual das seguintes ilustrações representa a placa de sinalização de regulamentação que, segundo o CTB, indica “*proibido trânsito de veículos automotores*”?

- A) 
- B) 
- C) 
- D) 
- E) 

QUESTÃO 27 - A ordem de prevalência da sinalização de trânsito, segundo o artigo 89 do referido Código, é a seguinte:

- I. Primeiro, as indicações do semáforo sobre os demais sinais.
- II. Segundo, as ordens do agente de trânsito sobre as normas de circulação e outros sinais.
- III. Terceiro, as indicações dos sinais sobre as demais normas de trânsito.

Quais estão corretas?

- A) Apenas I.
- B) Apenas II.
- C) Apenas III.
- D) Apenas II e III.
- E) I, II e III.

QUESTÃO 28 - Dentre os equipamentos obrigatórios dos veículos, segundo o artigo 105 do referido Código, entre outros estabelecidos pelo CONTRAN, estão:

- I. Para os veículos de transporte e de condução escolar, equipamento registrador instantâneo inalterável de velocidade e tempo.
- II. Para as bicicletas em geral, a campainha, sinalização noturna dianteira e espelho retrovisor do lado esquerdo.
- III. Encosto de cabeça para todos os tipos de veículos automotores, segundo normas estabelecidas pelo CONTRAN.

Quais estão corretas?

- A) Apenas I.
- B) Apenas II.
- C) Apenas III.
- D) Apenas I e III.
- E) I, II e III.

QUESTÃO 29 - Segundo o CTB, as infrações de trânsito, punidas com multas, classificam-se de acordo com a sua gravidade, em quatro categorias: gravíssima, grave, média e leve. Com base nas disposições do referido Código e utilizando a letra “**G**” para identificar a infração de natureza grave e a letra “**M**” para identificar a infração de natureza média, classifique as seguintes infrações:

- () Deixar o condutor de usar o cinto de segurança.
- () Deixar o condutor, envolvido em acidente sem vítima, de adotar providências para remover o veículo do local, quando necessária tal medida para assegurar a segurança e a fluidez do trânsito.
- () Ter seu veículo imobilizado na via por falta de combustível.
- () Estacionar o veículo afastado da guia da calçada (meio-fio) a mais de um metro.
- () Transitar com o farol desregulado ou com o fecho de luz alta de forma a perturbar a visão de outro condutor.

A ordem correta de preenchimento dos parênteses, de cima para baixo, é:

- A) G – M – M – M – G.
- B) G – G – M – M – G.
- C) M – G – G – M – M.
- D) G – M – M – G – G.
- E) M – G – G – G – M.

Para responder às questões de números 30 a 34, considere o Manual Brasileiro de Fiscalização de Trânsito – Volume I - Infrações de competência municipal, incluindo as concorrentes dos órgãos e entidades estaduais de trânsito e rodoviários, aprovado pela Resolução nº 371, de 10.12.2010, do Conselho Nacional de Trânsito – CONTRAN.

QUESTÃO 30 - Segundo o referido Manual, o condutor de veículo portador da Carteira Nacional de Habilitação (CNH) da categoria “C”, entre outros, está apto para conduzir:

- I. Todos os veículos automotores e elétricos utilizados em transporte de carga, cujo Peso Bruto Total (PBT) exceda a 3.500 kg.
- II. Veículos automotores da espécie motor-casa cujo peso não exceda a 6.000 kg ou cuja lotação não exceda a oito lugares, excluído o motorista.
- III. Veículos destinados ao transporte de escolares independentemente da lotação.

Quais estão corretas?

- A) Apenas I.
- B) Apenas II.
- C) Apenas I e II.
- D) Apenas II e III.
- E) I, II e III.

QUESTÃO 31 - As infrações de trânsito classificam-se, de acordo com sua gravidade, em quatro categorias, e são computados ao infrator, determinados números de pontos.

Com base no referido Manual, assinale V (verdadeiro) ou F (falso) para as afirmativas abaixo relacionadas às infrações de trânsito:

- () Para infrações de trânsito de natureza gravíssima são computados 7 (sete) pontos.
- () Para infrações de trânsito de natureza grave são computados 6 (seis) pontos.
- () Para infrações de trânsito de natureza média são computados 5 (cinco) pontos.
- () Para infrações de trânsito de natureza leve são computados 3 (três) pontos.

A ordem correta de preenchimento dos parênteses, de cima para baixo, é:

- A) V – F – F – V.
- B) V – F – V – V.
- C) V – F – V – F.
- D) F – V – V – F.
- E) V – V – F – V.

QUESTÃO 32 - Com base no referido Manual, analise as assertivas abaixo relacionadas ao agente da autoridade de trânsito:

- I. Para que possa exercer suas atribuições como agente da autoridade de trânsito, o servidor deverá ser credenciado, estar devidamente uniformizado, conforme padrão da instituição, e no regular exercício de suas funções.
- II. O agente de trânsito deve priorizar suas ações no sentido da prática nas aplicações dos autos de infrações de trânsito, devendo tratar a todos com urbanidade e respeito, sem, contudo, omitir-se das providências que a lei lhe determina.
- III. O agente de trânsito, ao presenciar o cometimento da infração, lavrará o respectivo auto de infração de trânsito (AIT), permitindo-se a lavratura do AIT por solicitação de terceiros.

Quais estão corretas?

- A) Apenas I.
- B) Apenas II.
- C) Apenas III.
- D) Apenas I e II.
- E) I, II e III.

QUESTÃO 33 - Com base no referido Manual, analise as assertivas abaixo relacionadas à autuação:

- I. O auto de infração de trânsito - AIT é peça informativa que subsidia a Autoridade de Trânsito na aplicação das penalidades e sua consistência está na perfeita caracterização da infração, devendo ser preenchido de acordo com as disposições contidas no artigo 280 do CTB e demais normas regulamentares, com registro dos fatos que fundamentaram sua lavratura.
- II. O AIT não poderá conter rasuras, emendas, uso de corretivos, ou qualquer tipo de adulteração.
- III. O preenchimento do AIT se dará com letra legível, preferencialmente, com caneta esferográfica de tinta preta ou azul.

Quais estão corretas?

- A) Apenas I.
- B) Apenas III.
- C) Apenas I e II.
- D) Apenas II e III.
- E) I, II e III.

QUESTÃO 34 - Segundo o referido Manual, compete à autoridade de trânsito com circunscrição sobre a via e seus agentes aplicar as medidas administrativas, considerando a necessidade de segurança e fluidez do trânsito.

Dentre as medidas administrativas arroladas no MBFT estão, EXCETO:

- A) A Retenção do Veículo.
- B) O Recolhimento da Carteira de Identidade.
- C) A Remoção do Veículo.
- D) O Recolhimento do Documento de Habilitação.
- E) O Recolhimento do Certificado de Licenciamento Anual (CLA/CRLV).

Para responder às questões nº 35 e nº 36, considere o Manual Brasileiro de Sinalização de Trânsito - Volume IV – Sinalização Horizontal, aprovado pela Resolução nº 236 de 11.05.2007 do Conselho Nacional de Trânsito – CONTRAN.

QUESTÃO 35 - O Manual antes referido define que a Sinalização Horizontal:

- I. É um subsistema da sinalização viária composta de marcas, símbolos e legendas, apostos sobre o pavimento da pista de rolamento.
- II. É um subsistema da sinalização viária, que se utiliza de sinais apostos sobre placas fixadas, ao lado ou suspensas sobre a pista, transmitindo mensagens de caráter permanente ou, eventualmente, variável, mediante símbolos e/ou legendas preestabelecidas e legalmente instituídas.
- III. Tem a propriedade de transmitir mensagens aos condutores e pedestres, possibilitando sua percepção e entendimento, sem desviar a atenção do leito da via.

Quais estão corretas?

- A) Apenas I.
- B) Apenas II.
- C) Apenas I e II.
- D) Apenas I e III.
- E) I, II e III.

QUESTÃO 36 - Segundo o referido Manual, a sinalização horizontal é constituída por combinações de traçado e cores que definem os diversos tipos de marcas viárias.

Dentre as utilizações relacionadas ao padrão de cores empregado nas marcas viárias estão:

- I. A cor amarela utilizada para delimitar espaços proibidos para estacionamento e/ou parada.
- II. A cor branca utilizada para regulamentar faixa de travessias de pedestres.
- III. A cor vermelha utilizada para inscrever o símbolo (cruz).
- IV. A cor azul utilizada para proporcionar contraste entre a marca viária/inscrição e o pavimento.

Quais estão corretas?

- A) Apenas I e II.
- B) Apenas I, II e III.
- C) Apenas I, II e IV.
- D) Apenas II, III e IV.
- E) I, II, III e IV.

Para responder às questões nº 37 a nº 39, considere a Cartilha de Noções de Primeiros Socorros no Trânsito - ABRAMET-2005.

QUESTÃO 37 - Dentre as recomendações da referida Cartilha está à sinalização no local do acidente e estabelece que as distâncias para o início da sinalização são calculadas com base no espaço necessário para o veículo parar após iniciar a frenagem, mais o tempo de reação do motorista. Com base na referida Cartilha, a distância correta para iniciar a sinalização, em caso de acidente durante o dia, em uma rua com velocidade máxima permitida de quarenta quilômetros por hora, com pista reta e seca, é de:

- A) 20 passos longos.
- B) 30 passos longos.
- C) 40 passos longos.
- D) 50 passos longos.
- E) 60 passos longos.

QUESTÃO 38 - Segundo a referida Cartilha, muitos são os procedimentos que podem agravar a situação das vítimas de acidentes de trânsito.

Dentre os mais comuns e que devem ser evitados estão:

- I. Movimentar a vítima, mesmo em caso de perigo imediato.
- II. Retirar capacete de motociclista acidentado.
- III. Dar alguma coisa para a vítima tomar.

Quais estão corretas?

- A) Apenas I.
- B) Apenas II.
- C) Apenas III.
- D) Apenas II e III.
- E) I, II e III.

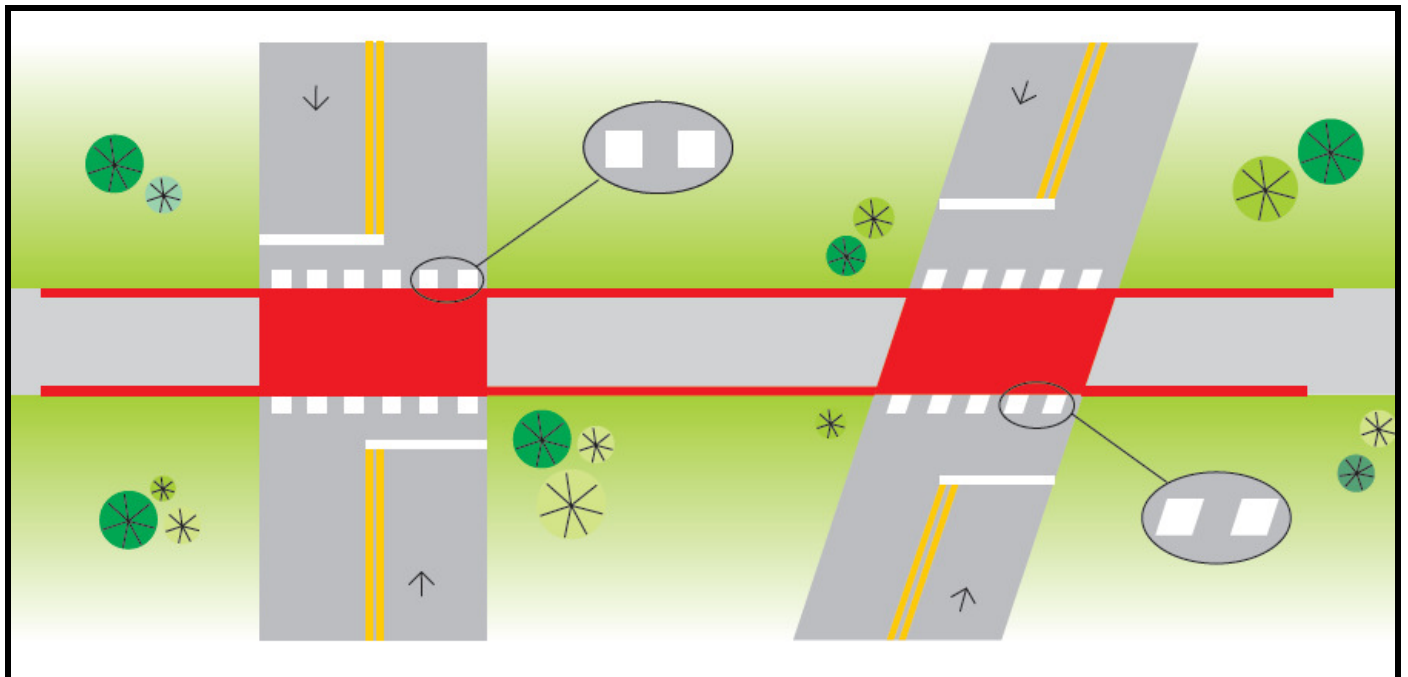
QUESTÃO 39 - Segundo a referida Cartilha, na maioria das regiões do Brasil, dentre os serviços e os telefones que poderão ser acionados, em caso de acidente de trânsito, estão:

- I. Resgate do Corpo de Bombeiros – telefone 193, nos casos em que houver vítimas presas às ferragens.
- II. Serviço de Atendimento Móvel de Urgência – SAMU – telefone 192, em qualquer tipo de acidente.
- III. Polícia Militar – telefone 190, nos locais onde não houver serviços próprios de socorro.

Quais estão corretas?

- A) Apenas I.
- B) Apenas II.
- C) Apenas III.
- D) Apenas II e III.
- E) I, II e III.

Para responder a questão 40 analise a figura abaixo que está baseada no Manual Brasileiro de Sinalização de Trânsito - Volume IV – Sinalização Horizontal, aprovado pela Resolução nº 236 de 11.05.2007 do Conselho Nacional de Trânsito – CONTRAN.



Fonte: O Manual Brasileiro de Sinalização de Trânsito – Volume IV p. 49.

QUESTÃO 40 - As marcas transversais ordenam os deslocamentos frontais dos veículos e disciplinam os deslocamentos de pedestres.

A marca transversal em destaque nas elipses da ilustração acima é do tipo:

- A) Marcação de faixa exclusiva (MFE).
- B) Marcação de cruzamentos rodocicloviários (MCC).
- C) Marcação de faixa preferencial (MFP).
- D) Marcação de faixa reversível no contra-fluxo (MFR).
- E) Marcação de área de conflito (MAC).