



## CÂMARA MUNICIPAL DE SÃO CAETANO DO SUL

### CONCURSO PÚBLICO – EDITAL 001/2012

#### Cód. 06 – Analista Técnico

CONFESSO: EU ATOLEI

Se você está lendo um texto sobre mudanças com interesse, é porque provavelmente quer mudar alguma coisa em sua vida e não consegue, certo? Então, por favor, admita. Só a partir dessa confissão aberta é que algo pode acontecer. E não é preciso ter vergonha disso. Como você, o restante da humanidade, uma hora ou outra, sempre empaca nesse ponto. Saber que esse é um problema comum traz alívio. Todas as pessoas sempre querem mudar uma ou outra parte da vida e não conseguem. E, com mais ou menos dificuldades, um dia vão mudá-la, assim como você. A existência não costuma deixar ninguém muito tempo emperrado no meio do caminho: ou você muda e sai da frente ou é mudado dali a um pouquinho.

“O que tem vida, tem movimento e graça. É como uma dança, uma música, sempre em equilíbrio dinâmico. Se você ficar parado sem se mexer, atravessa o ritmo, os outros o atropelam”. Agora, se você admite que não sabe dançar e sai da pista por alguns momentos para sentar e observar de fora como são os passos que você tem de dar e os movimentos que tem de fazer para fluir melhor no salão, aí sim, é possível que a vida lhe dê uma chance. “Essa sensação contínua de que os problemas têm uma razão de ser, faz uma diferença fundamental” afirma Barry. Eles se tornam simples desafios que, ao serem ultrapassados, nos dão mais maturidade e sabedoria. Enfim, para quem acredita que a vida tem um sentido, fica mais fácil enfrentar situações difíceis com coragem e humor. Só não tem gosto em mudar quem se deixou levar pelo desânimo ou pela depressão. Essa pessoa vai precisar de mais confiança e coragem para se transformar. Mas há luz no fim do túnel.

Liane Alves – Revista Vida Simples – Edição 123 – outubro 2012.

1. Para que a mudança aconteça em nossa vida temos que:

- admitir que queremos mudar.
- pontuar o que queremos mudar.
- procurar as ferramentas necessárias.
- precisamos mudar e sair da frente para não sermos atropelados.

De acordo com o texto:

- A) apenas três itens estão corretos.
- B) apenas dois itens estão corretos.
- C) todos os itens estão corretos.
- D) todos os itens estão incorretos.

2. Assinale a alternativa que não condiz com o texto.

- A) Temos que enfrentar nossos medos e saber que muitas vezes dará uma vontade danada de voltar atrás, quando os desafios aparecerem.
- B) Até quem se deixou levar pelo desânimo ou pela depressão também tem gosto pela mudança.
- C) Os problemas surgem para serem ultrapassados e com isso adquirimos mais maturidade e sabedoria.
- D) Algumas pessoas vão precisar de mais confiança e coragem para poder se transformar, pois sempre há luz no fim do túnel.

3. No texto, o pronome grifado se refere a:

- A) “desafios”.
- B) “problemas”.
- C) “ultrapassados”.
- D) “momentos”.

4. Dos pares de palavras abaixo, aquele em que a segunda não se escreve com a mesma letra sublinhada na primeira é:
- A) preciso / ali\_\_ar .
  - B) razão / estili\_\_ar .
  - C) fácil/ ma\_\_ição .
  - D) texto/ te\_\_ te.
5. Assinale a alternativa que contém duas palavras retiradas do texto que seguem a mesma regra de acentuação.
- A) está – você – mudá-la.
  - B) contínua – túnel – difíceis.
  - C) só – dê – têm.
  - D) música – dinâmico – desânimo.
6. Assinale a opção em que a palavra grifada se flexiona em gênero.
- A) esforço vão.
  - B) sujeito arrogante.
  - C) homem célebre.
  - D) cientista hindu.
7. Assinale o par de palavras que formam o plural como gavião e couve-flor, respectivamente.
- A) escrivão – água-de-colônia.
  - B) folião – homem-gentil.
  - C) órgão – reco-reco.
  - D) cidadão – João-ninguém.
8. Assinale a opção que preenche corretamente as lacunas abaixo.
- Se você \_\_\_\_\_ o livro que os professores \_\_\_\_\_, pegue-o para \_\_\_\_\_.
- A) vir – indicarão– lemos
  - B) ver – indicarão – lemos
  - C) ver – indicariam – leíamos
  - D) vir – indicaram – lermos
9. O pronome de tratamento Vossa Reverendíssima é usado para:
- A) cardeais.
  - B) o Papa.
  - C) padres.
  - D) altas autoridades.
10. A colocação pronominal está correta em todas as alternativas, exceto em:
- A) Pagar-se-ão todos os impostos em débito.
  - B) Após retirarem-se choveu torrencialmente.
  - C) Não quis lhe dizer nada por enquanto.
  - D) Não se consertam mais fogões naquele local.
11. Marque a opção em que todos os verbos, retirados do texto, estão no presente do indicativo.
- A) está – consegue – há .
  - B) admita – empaca – traz.
  - C) deixou – vai – acredita.
  - D) dê – serem – dão.

12. Classifique as vozes verbais das frases abaixo colocando:

- (VA) para Voz Ativa.
- (VP) para Voz Passiva.
- (VR) para Voz Reflexiva.

- ( ) O rapaz machucou-se.
- ( ) O detento foi libertado pelo juiz.
- ( ) Os pais educam seus filhos para a vida.

Assinale a opção que apresenta a classificação correta.

- A) VA – VP – VR.
- B) VP – VR – VA.
- C) VR – VP – VA.
- D) VA – VR – VP.

13. Indique a opção correta, no que se refere à concordância nominal/verbal, de acordo com a norma culta.

- A) Faça o arquivo daqueles documentos que foram anexa à planilha.
- B) Ele mesmo disse que estava quites com as suas dívidas.
- C) Mais de um crítico elogiaram a obra daquele novo compositor.
- D) Estudo a Literatura Brasileira e a Portuguesa.

14. Em todas as alternativas a regência verbal/nominal está correta, exceto em:

- A) Quando iremos na sua casa?
- B) Talvez ela esteja meio cansada hoje.
- C) Em referência ao pedido, prefiro cancelar todo lote.
- D) Os motoristas desobedeceram aos sinais de trânsito.

15. O sinal indicativo da crase deve ser usado em todas as alternativas, exceto em:

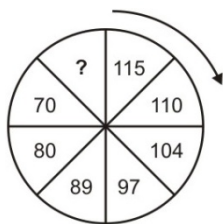
- A) Refiro-me à sua colega de classe.
- B) Depois de tantos dias no mar, chegamos à terra.
- C) No zoológico, os animais ficam à distância de dez metros?
- D) Àquela hora tudo era silêncio, não se ouvia nada.

16. Completa a sequência: 7 – 9 – 13 – 21 - ?

- A) 35.
- B) 33.
- C) 39.
- D) 37.

17. Completa a sequência:

- A) 60.
- B) 58.
- C) 59.
- D) 57.



18. O número que falta dentro dos parênteses é:

- A) 36.
- B) 28.
- C) 38.
- D) 32.

10	(36)	8
7	(24)	5
15	(?)	4

19. Tenho 5 figuras geométricas enfileiradas (quadrado, trapézio, retângulo, triângulo e círculo), uma ao lado da outra, não necessariamente nessa ordem. O triângulo está numa das extremidades. O retângulo está entre o círculo e o triângulo. O círculo está entre o trapézio e o retângulo.

Na outra extremidade está:

- A) o trapézio.  
 B) o círculo.  
 C) o retângulo.  
 D) o quadrado.
20. Os amigos Luis, Marcelo e Carlos têm preferências diferentes por bebidas. Um prefere cerveja, outro vinho e outro refrigerante.
- Luis não gosta de vinho.
  - Carlos não gosta de cerveja.
  - Marcelo não gosta de refrigerante.
  - Carlos também não toma bebida alcoólica, logo:

- A) Marcelo prefere cerveja e Carlos, refrigerante.  
 B) Marcelo prefere vinho e Luis, cerveja.  
 C) Carlos prefere refrigerante e Luis, vinho.  
 D) Luis prefere vinho e Marcelo, refrigerante.

21. Dos animais abaixo, cujos nomes estão embaralhados, o que não é ave é o identificado com o número:

- 1 - ÁSIBA.  
 2 - APOBM.  
 3 - LARAPD.  
 4 - ATRABA.  
 5 - ARRAA.

- A) 2.  
 B) 3.  
 C) 4.  
 D) 5.

22. Uma lagarta está subindo num coqueiro. A cada minuto ela sobe 10 cm e escorrega 5 cm. Para subir o equivalente a 40 cm ela gastará, nesse ritmo:

- A) 7 minutos.  
 B) 8 minutos.  
 C) 6 minutos.  
 D) 9 minutos.

23. Cinco bolinhas de cores diferentes (azul, amarela, verde, vermelha e branca) estão colocadas uma ao lado da outra, não necessariamente nessa ordem. A verde está numa extremidade e a azul na outra. A amarela está do lado da azul e a vermelha do lado da verde.

A bolinha que está no meio é a \_\_\_\_\_(1)\_\_\_\_\_ e a \_\_\_\_\_(2)\_\_\_\_\_ está entre a verde e a branca.

Completam os claros (1) e (2) respectivamente:

- A) amarela – vermelha  
 B) branca – amarela  
 C) vermelha – branca  
 D) branca – vermelha

24. Na 2ª figura, o número que falta, segundo a lógica da 1ª figura é:

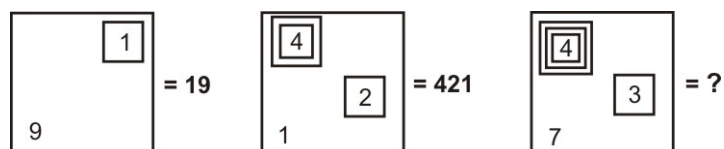
- A) 21.  
 B) 18.  
 C) 24.  
 D) 16.

→	→
6	18
162	54

→	
2	6
54	?

25. Observe a representação:

- A) 437.  
 B) 40.037.  
 C) 4.037.  
 D) 4.073.



26. Alguns cavalos andam em fileira por uma estrada. Um deles anda na frente de outros dois; um anda no meio de outros dois; e um anda atrás de outros dois. Na estrada estão \_\_\_\_\_ cavalos.

- A) 4
- B) 3
- C) 5
- D) 6

27. Um quarteirão tem 4 casas de cores diferentes (verde, branca, azul e amarela). Em cada casa mora uma criança (Henrique, Marina, Luiz e Olga). Cada criança tem um bicho de estimação (peixe, gato, cachorro e coelho). Cada criança tem uma bebida preferida (água, refrigerante, suco e leite).

Com as dicas abaixo, descubra onde mora cada criança, o que preferem beber e o bicho de estimação que possuem.

- 1 - Henrique e Marina moram nos extremos do quarteirão, não necessariamente nessa ordem e não tomam refrigerante e nem possuem gato.
- 2 - Olga mora entre Marina e Luis e este é vizinho, de lado, de Henrique. Ela não mora na casa amarela e gosta de beber água.
- 3 - Luis mora na casa verde, não tem gato e é vizinho da casa amarela.
- 4 - Henrique tem um cachorro e não mora na casa azul.
- 5 - Marina tem um aquário com peixes e não toma suco e é vizinha, de lado, da casa branca.

Com base nessas afirmações é incorreto afirmar que:

- A) O vizinho, de lado, de Olga mora na casa amarela.
- B) Marina mora na casa azul.
- C) Henrique toma suco.
- D) Luis é o dono do coelho.

28. Três auxiliares administrativos: André, Boris e Celso executaram por certo período, um tipo de tarefa.

Tarefas: Expedição de correspondência, digitação e arquivamento de papéis.

Períodos: das 8 às 10 horas; das 10 às 12 horas e das 14 às 16 horas.

- Celso cuidou da correspondência.
- O auxiliar que cuidou do arquivo o fez das 8 às 10 horas.
- André fez a sua tarefa das 14 às 16 horas.

Concluindo podemos afirmar que:

- A) Celso digitou textos.
- B) André expediu as correspondências.
- C) Celso executou sua tarefa das 8 às 10 horas.
- D) Boris arquivou documentos.

29. Considere verdadeiras as duas afirmações a seguir:

- I - Todos os matemáticos têm ensino superior completo.
- II - Alguns funcionários públicos são matemáticos.

Com base APENAS nessas duas afirmações, conclui-se que:

- A) existem funcionários públicos com ensino médio completo.
- B) existem funcionários públicos com doutorado completo.
- C) existem funcionários públicos com mestrado incompleto.
- D) existem funcionários públicos com especialização incompleta.

30. Uma afirmação equivalente à negação lógica da afirmação *amanhã será um lindo dia ou choverá* é:

- A) amanhã não será um lindo dia ou não choverá.
- B) amanhã será um lindo dia ou não choverá.
- C) amanhã não será um lindo dia e não choverá.
- D) amanhã não será um lindo dia e choverá.

31. Conforme o art. 58 da CLT (Consolidação das Leis do Trabalho) a duração normal do trabalho, para os empregados em qualquer atividade privada, não excederá de:

- A) 06 (seis) horas diárias, desde que não seja fixado expressamente outro limite.
- B) 08 (oito) horas diárias, desde que não seja fixado expressamente outro limite.
- C) 10 (dez) horas diárias, desde que não seja fixado expressamente outro limite.
- D) 12 (doze) horas diárias, desde que não seja fixado expressamente outro limite.

32. De acordo com o art. 133 da Consolidação das Leis do Trabalho, não terá direito a férias o empregado que, no curso do período aquisitivo:
- I - deixar o emprego e não for readmitido dentro de 60 (sessenta) dias subsequentes à sua saída.
  - II - permanecer em gozo de licença, com percepção de salários, por mais de 30 (trinta) dias.
  - III - deixar de trabalhar, com percepção do salário, por mais de 30 (trinta) dias, em virtude de paralisação parcial ou total dos serviços da empresa.
  - IV - tiver percebido da Previdência Social prestações de acidente de trabalho ou de auxílio-doença por mais de 6 (seis) meses, embora descontínuos.
- Indique a alternativa que aponta as sentenças corretas.
- A) Estão corretas I, II e IV, apenas.
  - B) Estão corretas II, III e IV, apenas.
  - C) Estão corretas I e IV, apenas.
  - D) Todas estão corretas.
33. O adicional noturno é devido ao emprego urbano que trabalhar no período entre às 22 horas de um dia e às 5 horas do dia seguinte. Conforme o art. 73 da CLT (Consolidação das leis do trabalho) o adicional será de:
- A) 25% sobre a hora diurna para o empregado urbano.
  - B) 20% sobre a hora diurna para o empregado urbano.
  - C) 30% sobre a hora diurna para o empregado urbano.
  - D) 50% sobre a hora diurna para o empregado urbano.
34. O ato administrativo somente será perfeito, válido e eficaz quando:
- A) observar todas as etapas necessárias à sua regular formação; foi expedido em conformidade com o ordenamento jurídico; e está apto a produzir os efeitos que lhe forem próprios.
  - B) apesar de ter cumprido o ciclo para a sua formação e estar em conformidade com o ordenamento jurídico, não puder produzir os seus efeitos próprios, por estarem estes sujeitos ao implemento de uma condição suspensiva ou de termo inicial.
  - C) apesar de ter cumprido o ciclo para a sua formação e estar apto a produzir os seus efeitos, foi praticado em inobservância das normas legais, ou seja, com o ordenamento jurídico.
  - D) apesar de ter concluído regularmente o seu ciclo de formação, não observou as diretrizes existentes no ordenamento e seus efeitos não puderem ser produzidos, por dependerem de algum termo inicial ou condição suspensiva para a produção de seus efeitos.
35. A Administração indireta é composta das:
- I - Autarquias.
  - II - Fundações instituídas pelo Poder Público.
  - III - Sociedade de economia mista.
  - IV - Empresas públicas.
- Indique a alternativa correspondente ao enunciado.
- A) São correspondentes I, II e IV, apenas.
  - B) Todas são correspondentes.
  - C) São correspondentes II, III e IV, apenas.
  - D) São correspondentes II e IV, apenas.
36. A Lei 8666/93 em seu art. 18 menciona que na concorrência para a venda de bens imóveis, a fase de habilitação limitar-se-á à comprovação do recolhimento de quantia correspondente a:
- A) 3% (três por cento) da avaliação.
  - B) 2% (dois por cento) da avaliação.
  - C) 5% (cinco por cento) da avaliação.
  - D) 1% (um por cento) da avaliação.
37. Concurso é a modalidade de licitação entre quaisquer interessados para escolha de trabalho técnico, científico ou artístico, mediante a instituição de prêmios ou remuneração aos vencedores, conforme critérios constantes de edital publicado na imprensa oficial com antecedência mínima de:
- A) 30 (trinta) dias.
  - B) 45 (quarenta e cinco) dias.
  - C) 20 (vinte) dias.
  - D) 15 (quinze) dias.

38. Indique (V) para verdadeiro e (F) para falso:

- ( ) As empresas contam com sistemas de informações para assegurar que essas fluam entre a função financeira e as demais funções dentro dela. As empresas desempenham uma função contábil que usa as informações para: preparar demonstrações financeiras periodicamente, preparar a declaração de Imposto de Renda e fornecer informações e relatórios aos gerentes. A função financeira analisa essas demonstrações para avaliar o desempenho anterior da empresa e para tornar as decisões de financiamento e de investimento consistentes com seus planos e metas.
- ( ) Os mercados financeiros representam fóruns que facilitam o fluxo de recursos entre investidores, empresas e unidades e agências.
- ( ) Os investidores oferecem financiamento de dívida e financiamento de capital a empresas que buscam atingir suas próprias metas financeiras.
- ( ) Monitorar as ações das empresas pode ser difícil para os investidores, porque a quantidade de informações fornecidas pelas demonstrações financeiras é limitada. Uma empresa pode apresentar problemas que não aparecem em suas demonstrações financeiras divulgadas. Essa situação resulta de informação assimétrica, ou seja, de informações que estão mais disponíveis aos gerentes da empresa que a seus investidores.

Aponte a alternativa correta:

- A) V – V – F – V.
- B) F – F – V – F.
- C) V – V – V – V.
- D) F – V – F – F.

39. Os objetivos principais do orçamento são:

- I - Planejamento;
- II - Coordenação;
- III - Comunicação;
- IV - Motivação;
- V - Controle;
- VI - Avaliação.

Indique a alternativa com as sentenças correspondentes aos objetivos do orçamento.

- A) São correspondentes I, II, III e VI, apenas.
- B) São correspondentes II, III e V, apenas.
- C) São correspondentes II, IV e V, apenas.
- D) Todas são correspondentes.

40. Complete a lacuna abaixo.

A lei 10.520/02 que trata da modalidade de licitação denominada pregão em seu art. 4.º, inciso VIII menciona que: “no curso da sessão, o autor da oferta de valor mais baixo e os das ofertas com preços até \_\_\_\_\_ superiores àquela poderão fazer novos lances verbais e sucessivos, até a proclamação do vencedor”.

- A) 12% (doze por cento)
- B) 10% (dez por cento)
- C) 15% (quinze por cento)
- D) 20% (vinte por cento)

41. Analise as afirmações sobre as opções de copiar e mover arquivos e pastas. O Windows possibilita:

- 1 - copiar e colar arquivos usando os atalhos do teclado: Ctrl+C para Copiar e Ctrl+V para Colar.
- 2 - arrastar o arquivo para um novo local mantendo pressionado o botão esquerdo do mouse sobre ele e escolhendo a opção Copiar aqui ou Mover aqui.
- 3 - copiar e colar uma pasta da mesma maneira que faria com um arquivo sendo que todos os arquivos da pasta serão copiados também.

Estão corretas as afirmações:

- A) 1 e 2, apenas.
- B) 1 e 3, apenas.
- C) 2 e 3, apenas.
- D) 1, 2 e 3.

42. Para descansar do movimento repetitivo pelo uso do mouse podemos recorrer às teclas de atalho. Identifique as combinações que, no Word, executam os respectivos comandos de:

- alternar as letras entre maiúsculas e minúsculas.
- salvar arquivo.

Atendem ao enunciado, respectivamente:

- A) Ctrl+Del e Ctrl+C.
- B) Alt+F4 e Ctrl+F2.
- C) Shift+F3 e Ctrl+B.
- D) Ctrl+F3 e Ctrl+V.

43. Analise as orientações de procedimentos para usar os recursos do Word 2003.

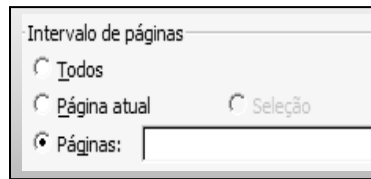
- 1 - Para inserir texto ou título antes de uma tabela criada a partir da primeira linha da página, clique na célula superior esquerda da primeira linha da tabela e pressione Enter.
- 2 - Para remover um hiperlink e manter o texto clique com o botão direito do mouse sobre ele e pressione Delete.
- 3 - Para acessar Ortografia e Gramática pressione F7.

São afirmações corretas:

- A) 1 e 2, apenas.
- B) 1 e 3, apenas.
- C) 2 e 3, apenas.
- D) 1, 2 e 3.

44. O recurso Imprimir do Word permite configuração para que sejam impressas páginas contínuas ou intercaladas. Para imprimir apenas as páginas 3, 7, 10, 22, 23, 24, 25, 37, 41 você deve digitar no campo "páginas" da janela Imprimir:

- A) 3;7;10;22-25;37;41.
- B) 3-7;10-22;25;37-41.
- C) 3;7-10;22-25;37;41.
- D) 3-10;22;25;37;41.



45. No Excel para se referir ao intervalo de células na linha 15 e colunas B até E, usamos:

- A) B15:E15
- B) B:15 E:15
- C) B15;E15
- D) B:15,E:15

46. Faz parte do menu Ferramentas do Excel 2003, apenas a seguinte opção:

- A) Comentários: aparecem sempre que você passa o mouse sobre uma célula. Permite explicar uma fórmula ou descrever uma célula com mais detalhes.
- B) Atingir meta: ajuda uma fórmula a obter um resultado ao variar uma das parcelas da soma.
- C) Visualizar quebra de página: permite ver qual parte da tabela será impressa e mudar os pontos de mudança de página, arrastando as linhas divisórias.
- D) Área de impressão: informa ao Excel a parte da planilha que você deseja imprimir.

47. Sobre o PowerPoint podemos afirmar:

- 1 - Ao trabalhar com texto na guia Estrutura de tópicos no modo de exibição normal no PowerPoint 2003, é possível recolhê-lo de forma que somente o primeiro nível da estrutura de tópicos (títulos dos slides) seja exibido enquanto você define a organização.
- 2 - Se você copiar e colar um slide em seguida a um slide que tem um modelo de design diferente, o slide colado assume os estilos do slide anterior.
- 3 - Quando você copia slides na caixa de diálogo Localizador de Slide, pode marcar ou desmarcar a opção Manter a Formatação original, antes de inserir o slide.

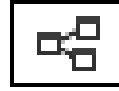
Estão corretas as afirmações:

- A) 1 e 2, apenas.
- B) 1 e 3, apenas.
- C) 2 e 3, apenas.
- D) 1, 2 e 3.



48. Os botões, abaixo, da janela do Access correspondem aos respectivos comandos de:

- A) Quebra de página e Relacionamentos.
- B) Novo e Classificação.
- C) Análise e Relacionamentos.
- D) Módulos e Consultas



49. O Filtro SmartScreen é um recurso no Internet Explorer que ajuda a detectar sites de phishing e também pode ajudar a protegê-lo contra o download ou a instalação de malware (software mal-intencionado). Enquanto você navega na Web o Filtro SmartScreen age:

- 1 - analisando as páginas da Web e determina se elas têm alguma característica que possa ser considerada suspeita exibindo uma mensagem dando a você a oportunidade de enviar um comentário e sugerindo que você proceda com cautela.
- 2 - verificando os sites visitados e comparando-os com uma lista dinâmica de sites de phishing e sites de softwares mal-intencionados relatados e, encontrando uma correspondência, exibirá um aviso notificando-o que o site foi bloqueado para a sua segurança.
- 3 - verificando os arquivos baixados comparando-os a uma lista de arquivos conhecidos e baixados por muitos usuários do Internet Explorer. Se o arquivo que estiver baixando não estiver nessa lista, você será avisado.

Estão corretas as afirmações:

- A) 1 e 3, apenas.
- B) 1, 2 e 3.
- C) 2 e 3, apenas.
- D) 1 e 2, apenas.

50. Muitos sites exigem que você insira informações pessoais para que possa acessar determinadas áreas do site ou adquirir um item ou serviço. Antes de confiar suas informações a um site, recomenda-se adotar procedimentos preventivos como os citados abaixo exceto um. Identifique-o.

- A) Se você acessar um site por meio de um link em um email, verifique com o remetente da mensagem se o site é legítimo antes de fornecer qualquer informação porque às vezes, sites de phishing podem enviar emails que imitam, ou falsificam, endereços de email legítimos.
- B) Verifique o endereço Web na Barra de endereços e nos detalhes do certificado a fim de garantir que ele corresponde ao endereço desejado. Frequentemente, os sites fraudulentos ou de phishing usam nomes de sites semelhantes para fazer com que os visitantes acreditem que estão visitando sites confiáveis.
- C) Se estiver visitando um site de varejo, procure no site por um número de telefone ou um endereço físico para que possa verificar se ele é legítimo. Não forneça informações pessoais a um site que não possui informações de contato.
- D) Certifique-se de que o endereço do site comece com HTTPS e que um ícone de cadeado aberto seja exibido na Barra de endereços para garantia de que é seguro.