

# Concurso Público

## ESPECIALISTA EM PREVIDÊNCIA SOCIAL

# ENGENHARIA CIVIL OU

# ARQUITETURA

## CONHECIMENTOS GERAIS

Data: 09/12/2012 - Manhã  
Duração: 3 horas e 30 minutos

**Caro(a) Candidato(a), leia atentamente e siga as instruções abaixo.**

**01-** A lista de presença deve, obrigatoriamente, ser assinada no recebimento do **Cartão de Respostas** e assinada novamente na sua entrega, na presença e nos locais indicados pelo fiscal da sala.

**02-** Você recebeu do fiscal o seguinte material:

a) Este **Caderno**, com 60 (sessenta) questões da Prova Objetiva de Conhecimentos Gerais, sem repetição ou falha, assim distribuídas:

Língua Portuguesa	Informática	Raciocínio Lógico Quantitativo	Direito Constitucional e Administrativo	Direito Previdenciário e Previdência Social	Economia e Fundamentos de Finanças	Administração Pública	Estatística e Fundamentos de Atuária
01 a 10	11 a 15	16 a 20	21 a 30	31 a 40	41 a 45	46 a 55	56 a 60

b) Um **Cartão de Respostas** destinado às respostas das questões objetivas formuladas nas provas.

**03-** Verifique se este material está em ordem e se o seu nome e número de inscrição conferem com os que aparecem no **Cartão de Respostas**. Caso contrário, notifique **imediatamente** o fiscal.

**04-** Após a conferência, o candidato deverá assinar no espaço próprio do **Cartão de Respostas**, com caneta esferográfica de tinta na cor **azul** ou **preta**.

**05-** No **Cartão de Respostas**, a marcação da alternativa correta deve ser feita cobrindo a letra e preenchendo todo o espaço interno do quadrado, com caneta esferográfica de tinta na cor **azul** ou **preta**, de forma contínua e densa.

Exemplo:  A  B  C  D  E

**06-** Para cada uma das questões objetivas, são apresentadas 5 (cinco) alternativas classificadas com as letras (A, B, C, D e E), mas só uma responde adequadamente à questão proposta. Você só deve assinalar **uma alternativa**. A marcação em mais de uma alternativa anula a questão, mesmo que uma das respostas esteja correta.

**07- Será eliminado** do Processo Seletivo o candidato que:

- Utilizar ou consultar cadernos, livros, notas de estudo, calculadoras, telefones celulares, pagers, walkmans, régulas, esquadros, transferidores, compassos, MP3, Ipod, Ipad e quaisquer outros recursos analógicos.
- Ausentar-se da sala, a qualquer tempo, portando o **Cartão de Respostas**.

**Observações: Por motivo de segurança, o candidato só poderá retirar-se da sala após 1 (uma) hora a partir do início da prova.**

*O candidato que optar por se retirar sem levar seu Caderno de Questões não poderá copiar sua marcação de respostas, em qualquer hipótese ou meio. O descumprimento dessa determinação será registrado em ata, acarretando a eliminação do candidato.*

*Somente decorridas 2 horas e 30 minutos de prova, o candidato poderá retirar-se levando o seu Caderno de Questões.*

**08-** Reserve os 30 (trinta) minutos finais para marcar seu **Cartão de Respostas**. Os rascunhos e as marcações assinaladas no **Caderno de Questões** não serão levados em conta.

## LÍNGUA PORTUGUESA

### FUNDO PÚBLICO E POLÍTICAS SOCIAIS NA CRISE DO CAPITALISMO

O Brasil não foi poupado da crise financeira internacional, contudo, foi um dos últimos atingidos e um dos primeiros a sair dela. Isto por diversos motivos, entre eles menor endividamento comparado com as economias mais ricas do planeta e por ser grande produtor de *commodities*, que cresceram consideravelmente no segundo semestre de 2009, puxadas pelas importações da China (hoje o maior parceiro comercial do Brasil).

(...)

No âmbito das políticas monetárias e fiscais, o governo brasileiro agiu rápido no socorro ao grande capital, especialmente o financeiro. Considerando as medidas de combate à crise, que não têm impacto direto no caixa do governo (orçamento público), o montante de recursos que foi despendido alcançou R\$ 475 bilhões. Nesse valor estão, sobretudo, as medidas adotadas no campo da política monetária, destacadamente as mudanças nas regras do depósito compulsório, leilões com dólar e a linha de troca de moeda com o Federal Reserve (FED), que somaram R\$ 284 bilhões. Com isso, o Banco Central socorreu os bancos mais uma vez.

A flexibilização nas regras dos depósitos compulsórios foi também uma oportunidade para que algumas instituições financeiras pudessem elevar os recursos que têm em caixa com a venda de ativos para os maiores bancos. De forma que o fundo público no Brasil atuou no âmbito das políticas monetárias no sentido de liberar recursos para as instituições financeiras, sem quaisquer contrapartidas de manutenção ou ampliação de postos de trabalhos e dos direitos sociais. A rapidez e a agilidade do fundo público brasileiro usadas para socorrer o mercado financeiro são mais uma amostra da influência dos bancos no domínio da agenda econômica do nosso país.

(...)

Em relação às despesas públicas, é importante dizer que se constitui um mito a afirmação de que há um descontrole nas despesas com pessoal, pois os gastos públicos com ativos, aposentados e pensionistas, que representavam 5,36% do PIB em 1995, reduziram-se para 4,76% em 2009, conforme dados da Secretaria do Tesouro Nacional (STN). Além disso, as despesas com saúde e educação estão bem abaixo dos padrões internacionais dos países da OCDE. Assim como a Previdência Social está distante da universalização no Brasil, pois metade dos trabalhadores ativos está fora do sistema.

Uma questão importante a ser destacada é que as medidas de desonerações tributárias adotadas para combater a crise afetaram o financiamento do orçamento da seguridade social, enfraquecendo a capacidade deste orçamento para cobrir com suas receitas exclusivas as despesas previdenciárias, de assistência social e de saúde.

De acordo com a Secretaria da Receita Federal do Brasil (SRFB), ao longo de 2009, o desempenho da arrecadação tributária em relação a 2008 encolheu 3,05%. Em termos reais, em valores deflacionados pelo IPCA, o equivalente a uma perda de R\$ 21,5 bilhões. Os tributos que mais contribuíram para essa queda de arrecadação foram a Contribuição para o Financiamento da Seguridade Social (Cofins) e a contribuição social para o PIS/Pasep, que são fontes importantes no financiamento da seguridade social brasileira, respondendo por 49% do declínio da arrecadação tributária em 2009.

Essa queda na arrecadação da Cofins e do PIS/Pasep é atribuída pela Receita Federal a uma conjunção de fatores relacionados, em grande parte, à crise econômica. Em decorrência da crise ocorreu uma piora dos indicadores macroeconômicos, que influenciaram diretamente a arrecadação tributária, entre eles a produção industrial, a lucratividade das empresas e a queda no volume geral de vendas no varejo no ano de 2009 em relação a 2008. E, destacadamente, as desonerações tributárias estimadas em R\$ 24,9 bilhões.

Acontece que o orçamento da seguridade social continua perdendo recursos de suas fontes tributárias “exclusivas” devido à transferência de recursos para o orçamento fiscal por meio da Desvinculação das Receitas da União (DRU). A DRU transforma os recursos destinados ao financiamento da seguridade social em recursos fiscais para a composição do superávit primário e, por consequência, a sua utilização em pagamento de juros da dívida.

O “Relatório resumido da execução orçamentária do governo federal e outros demonstrativos” divulgado pela Secretaria do Tesouro Nacional, com dados de 2009, revela que a DRU desviou do Orçamento da Seguridade Social para o Orçamento Fiscal o montante de R\$ 39,2 bilhões. Já foram surrupitados desde 2000 mais de R\$ 300 bilhões da seguridade social.

Além disso, com os recursos da seguridade social o governo também paga os benefícios previdenciários dos servidores públicos federais que, por princípios constitucionais, não incluiriam esse tipo de gasto. Apesar de legítimas, as despesas com inativos e com pensionistas da União devem pertencer ao Orçamento Geral, o qual é financiado por tributos, e não por recursos exclusivos da política de proteção social. A União transferiu para a responsabilidade do orçamento da seguridade social um estoque de gastos com aposentadorias e pensões dos servidores públicos federais que deveriam ser honrados pelo caixa do orçamento fiscal. As despesas com inativos e pensionistas da União pagas com recursos da seguridade social superam R\$ 50 bilhões, o que representa 15% do montante gasto nas funções orçamentárias de previdência, assistência social e saúde.

Evilásio Salvador (adaptado de: [http://www.scielo.br/scielo.php?script=sci\\_arttext&pid=S0101-66282010000400002](http://www.scielo.br/scielo.php?script=sci_arttext&pid=S0101-66282010000400002))

**01.** “o governo brasileiro agiu rápido no socorro ao grande capital, especialmente o financeiro”. Segundo o texto, um dos impactos gerados por iniciativas desse tipo é:

- A) ampliação da eficácia no controle sobre os gastos públicos, promovendo redução de despesa com pessoal
- B) desoneração da carga tributária sobre instituições financeiras, gerando contrapartida social relevante
- C) aumento da carga tributária para provimento de recursos públicos e pagamento de juros e serviços de dívida externa
- D) redução das fontes constitucionalmente previstas para financiamento da previdência
- E) ampliação da capacidade de investimento privado de infraestrutura

**02.** No último parágrafo do texto, a conclusão apresentada indica:

- A) retificação das análises anteriores a respeito da capacidade de pressão das instituições financeiras sobre o governo brasileiro
- B) crítica à utilização de mecanismo que altera destinação de dotações orçamentárias da Seguridade Social
- C) defesa da necessidade de mecanismos previstos, como a Desvinculação de Receitas da União
- D) contradição entre a Constituição e a demanda corporativa dos servidores públicos federais
- E) sugestão de mecanismo constitucional a ser implementado pelo governo federal na resolução de impasses financeiros

**03.** O texto lido é um artigo acadêmico. A única característica desse gênero não observada no texto é:

- A) uso do registro formal da língua
- B) predomínio de sequências descritivas
- C) citação explícita atribuída a outras fontes
- D) emprego da função referencial
- E) utilização de estratégias argumentativas diversas

**04.** O modo de organização textual adotado no quarto parágrafo é:

- A) dedutivo, sustentando afirmação geral com dados
- B) dialético, reforçando a tese do autor por meio de antíteses
- C) narrativo, considerando um relato de fatos históricos recentes
- D) contraditório, apresentando ideia oposta à defendida pelo autor
- E) indutivo, partindo de opinião particular para informações gerais

**05.** A palavra formada por acréscimo de um prefixo é:

- A) recurso
- B) despesas
- C) seguridade
- D) execução
- E) desonerações

**06.** Observe o seguinte período composto, adaptado do texto: *Apesar de serem legítimas, as despesas com inativos e com pensionistas da União devem pertencer ao Orçamento Geral.* O conectivo “apesar de” expressa o valor semântico de:

- A) causa
- B) modo
- C) adição
- D) concessão
- E) consequência

**07.** O emprego da vírgula delimita fronteira entre orações em:

- A) “No âmbito das políticas monetárias e fiscais, o governo brasileiro agiu rápido”
- B) “Nesse valor estão, sobretudo, as medidas adotadas no campo da política monetária”
- C) “ocorreu uma piora dos indicadores macroeconômicos, que influenciaram diretamente a arrecadação tributária”
- D) “Em termos reais, em valores deflacionados pelo IPCA, o equivalente a uma perda de R\$ 21,5 bilhões”
- E) “entre eles a produção industrial, a lucratividade das empresas e a queda no volume geral de vendas”

**08.** O pronome relativo tem por função retomar elemento expresso anteriormente. A palavra “que” possui essa função em:

- A) “Acontece que o orçamento da seguridade social continua perdendo recursos” (8º parágrafo)
- B) “revela que a DRU desviou do Orçamento da Seguridade Social para o Orçamento Fiscal” (9º parágrafo)
- C) “Uma questão importante a ser destacada é que as medidas de desonerações tributárias adotadas” (5º parágrafo)
- D) “Em relação às despesas públicas, é importante dizer que se constitui um mito” (4º parágrafo)
- E) “algumas instituições financeiras pudessem elevar os recursos que têm em caixa” (3º parágrafo)

**09.** Empregam-se somente formas verbais regulares em:

- A) “com os recursos da seguridade social o governo também paga os benefícios previdenciários dos servidores públicos federais”
- B) “um mito a afirmação de que há um descontrole nas despesas com pessoal”
- C) “Os tributos que mais contribuíram para essa queda de arrecadação foram a Contribuição para o Financiamento da Seguridade Social”
- D) “O Brasil não foi poupado da crise financeira internacional, contudo, foi um dos últimos atingidos”
- E) “Uma questão importante a ser destacada é que as medidas de desonerações tributárias adotadas”

**10.** A palavra “países” recebe acento gráfico pelo mesmo motivo de:

- A) dívida
- B) saúde
- C) depósitos
- D) monetárias
- E) transferência

## INFORMÁTICA

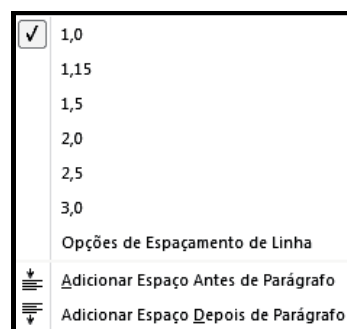
**11.** No sistema operacional Windows 7 BR, pressionar as teclas



**Windows** e **E**, em sequência, equivale a executar um atalho de teclado, com o objetivo de abrir :

- A) o Paint
- B) o Windows Explorer
- C) a caixa de diálogo Executar
- D) o Internet Explorer
- E) a Lixeira

**12.** Observe a figura abaixo, que é mostrada na tela de um monitor de vídeo, quando se clica em um ícone no Word 2010 BR, com a finalidade de se alterar o espaçamento entre as linhas do texto.



O ícone é:

- A)
- B)
- C)
- D)
- E)






**13.** A figura representa uma planilha criada no Excel 2010 BR, utilizada em um processo de licitação.

	A	B	C	D	E	F	G
1		<b>RIO PREVIDÊNCIA - 2012</b>					
2							
3				<b>fornecedor</b>			
4	<b>#</b>	<b>item</b>	<b>qtde</b>	<b>F1</b>	<b>F2</b>	<b>F3</b>	<b>menor preço</b>
5	1	micro i7	20	R\$ 25.800,00	R\$ 24.300,00	R\$ 26.100,00	R\$ 24.300,00
6	2	disco rígido SATA 1 TB	10	R\$ 2.150,00	R\$ 2.700,00	R\$ 2.730,00	R\$ 2.150,00
7	3	pendrive 16 GB USB	40	R\$ 900,00	R\$ 870,00	R\$ 820,00	R\$ 820,00
8	4	impressora multifuncional	5	R\$ 1.300,00	R\$ 1.400,00	R\$ 1.100,00	R\$ 1.100,00
9				<b>SOMA &gt;&gt;&gt;</b>			<b>R\$ 28.370,00</b>

Na planilha, em G5, G6, G7 e G8, são mostrados os menores entre os preços dos fornecedores F1, F2 e F3, para os itens indicados na coluna B. Para se obter o valor mostrado em G5, deve ser inserida nessa célula uma das expressões indicadas na seguinte alternativa:

- A) =MENOR(D5:F5;1) ou =MÍNIMO(D5:F5)
- B) =MENOR(D5:F5) ou =MÍNIMO(D5:F5;1)
- C) =MENOR(D5:F5;1) ou =MÍNIMO(D5:F5;1)
- D) =MENOR(D5&F5;1) ou =MÍNIMO(D5&F5)
- E) =MENOR(D5&F5) ou =MÍNIMO(D5&F5;1)

14. Para fechar a janela do browser *Google Chrome*, pode-se clicar num ícone ou executar um atalho de teclado. O ícone e o atalho de teclado são, respectivamente:

- A)  e Alt + F7  
 B)  e Alt + F4  
 C)  e Alt + F1  
 D)  e Alt + F4  
 E)  e Alt + F7

15. No MSOffice Outlook 2010 BR, o acionamento da tecla de função F9 tem por significado:

- A) abrir o catálogo de endereços  
 B) esvaziar a pasta de itens excluídos  
 C) excluir e-mails da pasta de entrada  
 D) alterar modo de exibição do software  
 E) enviar e receber mensagens de e-mail

### RACIOCÍNIO-LÓGICO QUANTITATIVO

16. Duas funções  $f$  e  $g$  são definidas por

$$f(x) = e^x \quad \text{e} \quad g(x) = \ln(x)$$

O produto entre  $f(g(x))$  e  $g(f(x))$  para  $x$  igual a 4 é:

- A)  $e^4$   
 B)  $\ln(4)$   
 C) 4  
 D) 16  
 E)  $e^{16}$

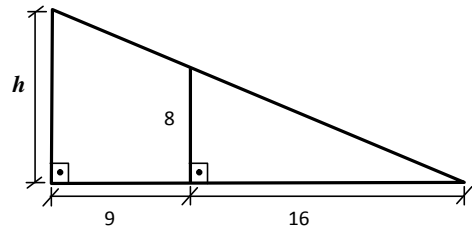
17. O termo  $a$ , na posição  $n$  de uma progressão aritmética, é dado pela expressão  $a_n = 100 + 2n$ . A soma de todos os termos dessa progressão aritmética entre o termo 50 e o termo 100, incluindo esses dois termos, vale:

- A) 10000  
 B) 11500  
 C) 11750  
 D) 12000  
 E) 12750

18. Na sequência 1, 4, 9, 20, 35, X, 91 o número indicado pela letra X é:

- A) 50  
 B) 55  
 C) 60  
 D) 66  
 E) 70

19. Observe a figura abaixo:



O valor da altura  $h$  vale:

- A) 9,5  
 B) 11,0  
 C) 12,5  
 D) 14,0  
 E) 15,0

20. Na equação  $(2x)^2 + 25 = 20x$ , o valor de  $x$  é:

- A) 1/5  
 B) 3/2  
 C) 2  
 D) 5/2  
 E) 4

### DIREITO CONSTITUCIONAL E ADMINISTRATIVO

21. A Constituição brasileira de 1937, estabelecida pelo Estado Novo, presidido por Getúlio Vargas, pode ser classificada de acordo com a Teoria da Constituição em:

- A) popular quanto ao conteúdo  
 B) flexível quanto à estabilidade  
 C) não escrita quanto à forma  
 D) histórica quanto ao modo de elaboração  
 E) outorgada quanto à origem

22. O Prefeito do Município XY, assumindo o seu primeiro mandato e cioso da manutenção de correta atividade administrativa, resolveu procurar o Juiz de Direito da Comarca, para postular auxílio na administração, estabelecendo que todos os atos do Executivo local somente seriam publicados após a chancela do magistrado. Tais fatos caracterizam, no tocante aos poderes, afronta ao princípio da:

- A) independência  
 B) harmonia  
 C) colaboração  
 D) internalização  
 E) fixação

23. Nos últimos anos, a nomeação para Ministro do Supremo Tribunal Federal recaiu sobre dois Ministros oriundos do Superior Tribunal de Justiça e uma Ministra egressa do Tribunal Superior do Trabalho. No sistema brasileiro, quanto à nomeação para o referido cargo, é correta a seguinte afirmativa:

- A) existe a indicação de membro de tribunal superior, pelo sistema de rodízio  
 B) pode a escolha recair sobre qualquer jurista, respeitada a idade mínima  
 C) havendo a nomeação, a candidatura é submetida à Câmara dos Deputados  
 D) cabe ao Presidente da República indicar membro de Tribunal Federal  
 E) recai sobre o Senado Federal a competência para indicar lista tríplice para a vaga

**24.** Nos termos da ordem econômica instituída e regulada pela Constituição Federal de 1988, é correto afirmar que:

- A) há a consagração de uma economia de mercado, de natureza capitalista
- B) a valorização do trabalho humano induz ao estabelecimento de economia socialista
- C) a intervenção do Estado na atividade econômica só ocorre para aparar excessos dos empresários
- D) o Estado deve proteger os monopólios e oligopólios, por inerentes ao sistema capitalista
- E) o consumidor deve ser protegido somente em relação a empresas transnacionais

**25.** Dentre as competências constitucionais do Senado Federal está incluída a arguição pública e aprovação em votação secreta do Presidente da seguinte instituição:

- A) Banco Nacional de Desenvolvimento Econômico e Social
- B) Casa da Moeda do Brasil
- C) Banco do Brasil S/A
- D) Banco Central do Brasil
- E) Caixa Econômica Federal

**26.** Nos termos da legislação federal que regula a atuação das Organizações Sociais que podem exercer atividades em contratos de gestão pertinentes à execução de serviços públicos em regime de parceria, as pessoas qualificadas a prestar tais serviços devem cumprir a seguinte exigência:

- A) ter personalidade jurídica de direito público
- B) possuir criação por lei formal
- C) não possuir finalidade lucrativa
- D) destinar-se a atividade econômica empresarial
- E) caracterizar-se pela experiência anterior à prestação

**27.** O Governo do Estado, apoiando o programa de criação das Unidades de Polícia Pacificadora, realiza várias outras intervenções. Em relação aos pequenos comerciantes locais, atua na sua regularização para efeito de futuro recolhimento de impostos, bem como da regularidade dos alimentos comercializados. Nesse caso, os agentes estaduais atuam em decorrência do seguinte tipo de poder:

- A) político
- B) executivo
- C) alimentar
- D) de polícia
- E) interventivo

**28.** Nos casos em que for enfeiteuta, pagando ao proprietário as importâncias estabelecidas em lei, o poder público adquire a respectiva propriedade, por aquisição de bem público por meio de:

- A) compra
- B) doação
- C) resgate
- D) adjudicação
- E) arrematação

**29.** O prazo de exercício para o mandado de segurança contra ato abusivo de autoridade pública será de:

- A) trinta dias, contado da data da publicação do ato coator
- B) sessenta dias, contado da intimação pessoal do administrado
- C) noventa dias, contado da publicação em órgão de imprensa local
- D) cem dias, contado da edição do ato que não necessita ser publicado
- E) cento e vinte dias, contado da ciência pessoal do administrado

**30.** Necessitando acessar informações pessoais que estão sob a guarda da Secretaria Estadual, o servidor público Mário deve proceder da seguinte forma:

- A) ingressar diretamente em Juízo, postulando o acesso às referidas informações
- B) requerer administrativamente o acesso e, acaso indeferido, ingressar com pedido de *habeas data*
- C) postular o acesso administrativamente e, após um ano de espera, caracterizar a inércia e impetrar mandado de segurança
- D) ingressar diretamente no Poder Judiciário e postular a declaração de lacuna em mandado de injunção
- E) apresentar requerimento administrativo e, ultrapassados trinta dias sem resposta, ingressar com *habeas corpus*

## DIREITO PREVIDENCIÁRIO E PREVIDÊNCIA SOCIAL

**31.** A participação dos empregados, empregadores e aposentados nos órgãos vinculados à Seguridade Social é exemplo de aplicação do seguinte princípio:

- A) unidade
- B) solidariedade
- C) democracia
- D) autocracia
- E) desenvolvimento

**32.** Ao estabelecer um melhor quinhão de benefícios a classes de renda menos elevada, fornecendo benefícios previdenciários de maior amplitude e valor, a administração previdenciária obedece ao seguinte princípio:

- A) seletividade
- B) discriminação
- C) legalidade
- D) equalização
- E) regionalização

**33.** A busca por proteção diante dos infortúnios da vida tem sido considerada a base da Seguridade Social, cuja responsabilidade atualmente é dividida entre o Estado e entidades privadas. Na origem da Seguridade Social podem ser identificados(as):

- A) os serviços de câmbio
- B) as instituições de doações
- C) os bancos de penhor
- D) as indústrias extrativas
- E) as sociedades mutualistas

**34.** No âmbito da Seguridade Social está a proteção à saúde. Para ampliar os limites dessa proteção, em obediência aos comandos constitucionais, houve a instituição:

- A) do Sistema Único de Saúde, com recursos públicos
- B) da Federação de Casas de Misericórdia, com apoio dos municípios
- C) do Consórcio de Estados e Municípios para a prestação de serviços de saúde
- D) do Programa integrado de governos estaduais e municipais
- E) da Sociedade de Pesquisa Coletiva de doenças tropicais

**35.** No âmbito da Assistência Social emendou-se a Constituição Federal para permitir-se aos Estados e ao Distrito Federal vincular a programa de apoio à inclusão e promoção social percentual da receita tributária líquida correspondente a até:

- A) dez por cento (10%)
- B) um por cento (1%)
- C) cinco por cento (5%)
- D) três por cento (3%)
- E) cinco décimos por cento (0,5%)

**36.** Na proteção ao deficiente físico, incapaz de provar a sua manutenção, deve ser concedido benefício equivalente ao salário mínimo, desde que a renda familiar do beneficiado corresponda a:

- A) no máximo um salário mínimo *per capita*
- B) no máximo dois salários mínimos *per capita*
- C) no máximo 1/2 salário mínimo *per capita*
- D) 1/4 do salário mínimo *per capita*
- E) 1/6 do salário mínimo *per capita*

**37.** Nos termos das normas constitucionais em vigor, quando o servidor público é aposentado por invalidez permanente, a regra geral acarreta a aposentadoria com proventos:

- A) integrais, independentemente do tempo de serviço
- B) proporcionais ao tempo de serviço
- C) proporcionais ao tempo de contribuição
- D) integrais, considerada a idade acima de sessenta anos.
- E) proporcionais na função exercida

**38.** Consoante as regras constitucionais que regem a aposentadoria do servidor público, preenchidos os requisitos de idade mínima e de cinco anos no cargo efetivo em que se dará, a aposentadoria voluntária ocorrerá desde que cumprido o seguinte tempo de efetivo exercício no serviço público:

- A) dois anos
- B) cinco anos
- C) três anos
- D) dez anos
- E) quinze anos

**39.** Consoante as regras constitucionais federais, admitem-se critérios diferenciadores para a concessão de aposentadoria ao servidor que se encontrar na seguinte situação:

- A) idoso com mais de setenta anos de idade
- B) portador de deficiência física
- C) considerado incapaz por desequilíbrio psíquico
- D) declarado incapaz civilmente por decisão judicial
- E) condenado por crime inafiançável

**40.** No regime de aposentadoria dos servidores públicos, caso o professor de nível superior possua duas matrículas poderá aposentar-se em:

- A) um dos cargos, tendo em vista o regime de acumulação
- B) ambos os cargos, se possuir os requisitos exigidos
- C) um dos cargos, utilizando o tempo de serviço cumulado em ambos
- D) ambos os cargos, com contagem especial de tempo de serviço
- E) um dos cargos, caso possua idade superior ou igual a setenta anos

## ECONOMIA E FUNDAMENTOS DE FINANÇAS

**41.** De acordo com a teoria econômica, o conceito de renda nacional é equivalente ao conceito de produto:

- A) interno bruto a custo de fator.
- B) nacional líquido a custo de fator.
- C) interno bruto a preço de mercado.
- D) nacional bruto a custo de fator.
- E) nacional líquido a preço de mercado.

**42.** Uma economia apresenta déficit na sua conta corrente e superávit no balanço de pagamentos num determinado período. Podemos afirmar que:

- A) o saldo da balança comercial é positivo.
- B) o saldo da balança comercial é negativo.
- C) o saldo da balança de serviços é positivo.
- D) essa economia acumulou reservas no período.
- E) essa economia perdeu reservas no período.

**43.** Um mercado monopolista apresenta a seguinte característica:

- A) ausência de barreiras à entrada de novas empresas
- B) comercialização de bens homogêneos
- C) tendência a lucros extras no longo prazo
- D) presença de infinitas firmas
- E) ausência de barreiras à saída do mercado

**44.** Não é considerada atribuição do Banco Central do Brasil:

- A) aperfeiçoar os instrumentos financeiros.
- B) emitir dinheiro.
- C) negociar a dívida externa.
- D) ser depositário das reservas de ouro e moedas estrangeiras do país.
- E) realizar operações de redesconto.

**45.** Os problemas econômicos de 2002 no Brasil refletiam, em parte, uma crise de desconfiança associada à incerteza em torno da política econômica a partir de 2003, com a posse do novo governo. Toda essa incerteza foi capturada pelo seguinte indicador:

- A) aumento da expectativa de inflação
- B) queda da expectativa de inflação
- C) valorização cambial
- D) queda do risco-país
- E) queda da taxa de juros

## ADMINISTRAÇÃO PÚBLICA

**46.** Para desenvolver a ética no trabalho, importante aspecto da vida funcional de um servidor público, o Instituto Ethos aconselha cinco providências, dentre as quais se encontra:

- A) incorporar a ética na avaliação de desempenho do funcionário
- B) examinar se, na formação profissional do candidato a funcionário, consta a disciplina de Ética
- C) submeter os funcionários, periodicamente, a um questionário sobre situações éticas e não éticas
- D) punir com a demissão por justa causa a quebra da ética no ambiente de trabalho
- E) manter Comissão de Ética para acompanhar o comportamento dos funcionários, dentro e fora do ambiente de trabalho

**47.** Para atenuar as flutuações e situações de insuficiência de demanda efetiva, Keynes recomendava ao Estado:

- A) promover reduções frequentes de tributos, em particular nos produtos de grande valor agregado
- B) manter a tranquilidade e aguardar que o mercado regule a economia, evitando qualquer intervenção
- C) promover reduções frequentes dos tributos, em particular na linha branca
- D) intervir na economia
- E) manter-se fora da economia, mas disponibilizar seus assessores para reorganizar as empresas e torná-las mais eficientes, a exemplo do que fez o governo norte-americano com os bancos e a General Motors, na crise de 2008

**48.** Quando se fala de *administração pública gerencial*, se está falando de uma administração pública cuja referência é:

- A) o gerenciamento misto, entre o burocrático e o privado
- B) o gerenciamento das organizações não governamentais
- C) a prática do gerenciamento de empresas privadas
- D) a supressão da burocracia e a adoção da gestão ad-hoc, para elevar a eficiência do serviço público
- E) o tipo de administração a ser adotado nas empresas públicas, sociedades de economia mista e organizações não-governamentais do Estado

**49.** A burocracia é também chamada por Weber de:

- A) sistema de dominação tradicional
- B) sistema administrativo racional
- C) organização racional do trabalho
- D) gestão impessoal e legal
- E) sistema racional-legal

**50.** Administração societal é um tipo de administração pública que conta com:

- A) participação da sociedade na gestão pública
- B) administração pública que trata das sociedades que constituem as empresas públicas
- C) participação dos sócios na gestão das organizações sociais
- D) participação dos acionistas que constituem uma sociedade por ação pública, como a PETROBRAS
- E) a administração das obras sociais do governo

**51.** Rousseau, em seu livro o sobre o contrato social, comenta que “*A coisa mais perigosa que há é a influência dos interesses privados nos negócios públicos*”. A lei diretamente ligada à tentativa de evitar essa influência é:

- A) 101/2000, da responsabilidade fiscal
- B) 8.666/1993, da licitação
- C) 12.527/2012, do acesso
- D) 131/2009, da transparência
- E) 8.112/1990, dos servidores públicos

**52.** Para regular e controlar a atuação das concessionárias do serviço público e das empresas privatizadas pode-se dizer que:

- A) são necessários o CADE, as agências reguladoras, o TCU e a CGU
- B) as agências reguladoras são suficientes
- C) as agências reguladoras e a CGU são necessárias
- D) as agências reguladoras e o TCU são suficientes
- E) as agências reguladoras e o CADE são necessários

**53.** As modalidades de licitação são concorrência, tomada de preços e:

- A) tomada de decisão, concurso, leilão e pregão
- B) convite, concurso, leilão, pregão e pregão eletrônico
- C) convite, concurso, leilão e pregão eletrônico
- D) convite, concurso, leilão e pregão
- E) seleção, convite, concurso, leilão e pregão

**54.** Os cargos, empregos e funções públicas no Brasil do ponto de vista do acesso:

- A) não são acessíveis aos estrangeiros
- B) são acessíveis aos estrangeiros
- C) são acessíveis apenas aos portugueses, conforme o tratado luso-brasileiro
- D) são acessíveis aos estrangeiros filhos de brasileiros
- E) são acessíveis aos estrangeiros cujo país de origem tenha acordo de cooperação com o Brasil

**55.** Modelo criado na Europa para “contrapor-se aos processos econômicos desumanizados, inflexíveis”, sendo uma “aspiração ao direito à equidade e um apelo para romper com as estruturas de mercado”, uma procura de “identidade entre democracia e liberdade econômica”. Esta descrição corresponde ao:

- A) Estado do Bem-Estar Social
- B) keynesianismo
- C) New-Deal
- D) neoliberalismo
- E) nacional-socialismo

## ESTATÍSTICA E FUNDAMENTOS DE ATUÁRIA

**56.** Em uma obra, 40% do material para concreto é proveniente do fornecedor **A** e 60% de um outro fornecedor **B**. Dados estatísticos indicam que 2,5% do material enviado pelo fornecedor **A** apresenta defeitos em ensaios, enquanto o percentual de defeito é de apenas 1% para o material proveniente do fornecedor **B**.

Se determinado material apresentou falha em um ensaio, a probabilidade de ele ter sido enviado pelo fornecedor **B** é:

- A) 0,010
- B) 0,050
- C) 0,167
- D) 0,200
- E) 0,375

**57.** Para realizar uma simulação estocástica, deseja-se sortear uma sequência de números reais entre 0 e 1, independentes, de acordo com uma distribuição uniforme. Pode-se dizer que, à medida que a quantidade de números sorteados aumenta, a proporção de números com valor maior do que 0,8 tenderá a ser de:

- A) 10%
- B) 20%
- C) 40%
- D) 60%
- E) 80%

**58.** Em teoria de seguros, o valor pago pelo segurado à seguradora em caso de sinistro denomina-se:

- A) franquia
- B) risco
- C) cobertura
- D) indenização
- E) ressarcimento

**59.** Estudos estatísticos mostram que, em uma cidade com 5.000 veículos, 200 veículos em média apresentam algum tipo de sinistro no mês, sendo o custo médio por sinistro em torno de R\$2000,00. Uma seguradora que pretende atuar nesse mercado deverá cobrar pelo prêmio do risco, além do montante necessário para cobrir os seus custos administrativos e de mão de obra, um valor de, no mínimo:

- A) R\$ 20,00
- B) R\$ 40,00
- C) R\$ 80,00
- D) R\$ 120,00
- E) R\$ 16,00

**60.** Observe a figura abaixo, que mostra um trecho simplificado de tábua de mortalidade. A coluna “x” indica a idade, em anos, e “qx” a probabilidade de morte para uma pessoa daquela idade:

x	qx
0	0,0020
1	0,0010
2	0,0005
3	0,0004
4	0,0003
5	0,0003
6	0,0002
7	0,0002
8	0,0003
9	0,0003
10	0,0004

Nessa população, a proporção de pessoas que falecem antes de completar 2 anos é, aproximadamente, de:

- A) 0,2%
- B) 0,3%
- C) 0,35%
- D) 3,0%
- E) 3,5%