

Concurso Público

ESPECIALISTA EM PREVIDÊNCIA SOCIAL

CIÊNCIAS CONTÁBEIS

CONHECIMENTOS GERAIS

Data: 09/12/2012 - Manhã
Duração: 3 horas e 30 minutos

Caro(a) Candidato(a), leia atentamente e siga as instruções abaixo.

01- A lista de presença deve, obrigatoriamente, ser assinada no recebimento do **Cartão de Respostas** e assinada novamente na sua entrega, na presença e nos locais indicados pelo fiscal da sala.

02- Você recebeu do fiscal o seguinte material:

a) Este **Caderno**, com 60 (sessenta) questões da Prova Objetiva de Conhecimentos Gerais, sem repetição ou falha, assim distribuídas:

Língua Portuguesa	Informática	Raciocínio Lógico Quantitativo	Direito Constitucional e Administrativo	Direito Previdenciário e Previdência Social	Economia e Fundamentos de Finanças	Administração Pública	Estatística e Fundamentos de Atuária
01 a 10	11 a 15	16 a 20	21 a 30	31 a 40	41 a 45	46 a 55	56 a 60

b) Um **Cartão de Respostas** destinado às respostas das questões objetivas formuladas nas provas.

03- Verifique se este material está em ordem e se o seu nome e número de inscrição conferem com os que aparecem no **Cartão de Respostas**. Caso contrário, notifique **imediatamente** o fiscal.

04- Após a conferência, o candidato deverá assinar no espaço próprio do **Cartão de Respostas**, com caneta esferográfica de tinta na cor **azul** ou **preta**.

05- No **Cartão de Respostas**, a marcação da alternativa correta deve ser feita cobrindo a letra e preenchendo todo o espaço interno do quadrado, com caneta esferográfica de tinta na cor **azul** ou **preta**, de forma contínua e densa.

Exemplo:

A	B	■	D	E
---	---	---	---	---

06- Para cada uma das questões objetivas, são apresentadas 5 (cinco) alternativas classificadas com as letras (A, B, C, D e E), mas só uma responde adequadamente à questão proposta. Você só deve assinalar **uma alternativa**. A marcação em mais de uma alternativa anula a questão, mesmo que uma das respostas esteja correta.

07- Será eliminado do Processo Seletivo o candidato que:

- Utilizar ou consultar cadernos, livros, notas de estudo, calculadoras, telefones celulares, pagers, walkmans, régua, esquadros, transferidores, compassos, MP3, Ipod, Ipad e quaisquer outros recursos analógicos.
- Ausentar-se da sala, a qualquer tempo, portando o **Cartão de Respostas**.

Observações: Por motivo de segurança, o candidato só poderá retirar-se da sala após 1 (uma) hora a partir do início da prova.

O candidato que optar por se retirar sem levar seu Caderno de Questões **não poderá copiar sua marcação de respostas, em qualquer hipótese ou meio. O descumprimento dessa determinação será registrado em ata, acarretando a eliminação do candidato.**

Somente decorridas 2 horas e 30 minutos de prova, o candidato poderá retirar-se levando o seu Caderno de Questões.

08- Reserve os 30 (trinta) minutos finais para marcar seu **Cartão de Respostas**. Os rascunhos e as marcações assinaladas no **Caderno de Questões** não serão levados em conta.

LÍNGUA PORTUGUESA

FUNDO PÚBLICO E POLÍTICAS SOCIAIS NA CRISE DO CAPITALISMO

O Brasil não foi poupado da crise financeira internacional, contudo, foi um dos últimos atingidos e um dos primeiros a sair dela. Isto por diversos motivos, entre eles menor endividamento comparado com as economias mais ricas do planeta e por ser grande produtor de *commodities*, que cresceram consideravelmente no segundo semestre de 2009, puxadas pelas importações da China (hoje o maior parceiro comercial do Brasil).

(...)

No âmbito das políticas monetárias e fiscais, o governo brasileiro agiu rápido no socorro ao grande capital, especialmente o financeiro. Considerando as medidas de combate à crise, que não têm impacto direto no caixa do governo (orçamento público), o montante de recursos que foi despendido alcançou R\$ 475 bilhões. Nesse valor estão, sobretudo, as medidas adotadas no campo da política monetária, destacadamente as mudanças nas regras do depósito compulsório, leilões com dólar e a linha de troca de moeda com o Federal Reserve (FED), que somaram R\$ 284 bilhões. Com isso, o Banco Central socorreu os bancos mais uma vez.

A flexibilização nas regras dos depósitos compulsórios foi também uma oportunidade para que algumas instituições financeiras pudessem elevar os recursos que têm em caixa com a venda de ativos para os maiores bancos. De forma que o fundo público no Brasil atuou no âmbito das políticas monetárias no sentido de liberar recursos para as instituições financeiras, sem quaisquer contrapartidas de manutenção ou ampliação de postos de trabalhos e dos direitos sociais. A rapidez e a agilidade do fundo público brasileiro usadas para socorrer o mercado financeiro são mais uma amostra da influência dos bancos no domínio da agenda econômica do nosso país.

(...)

Em relação às despesas públicas, é importante dizer que se constitui um mito a afirmação de que há um descontrole nas despesas com pessoal, pois os gastos públicos com ativos, aposentados e pensionistas, que representavam 5,36% do PIB em 1995, reduziram-se para 4,76% em 2009, conforme dados da Secretaria do Tesouro Nacional (STN). Além disso, as despesas com saúde e educação estão bem abaixo dos padrões internacionais dos países da OCDE. Assim como a Previdência Social está distante da universalização no Brasil, pois metade dos trabalhadores ativos está fora do sistema.

Uma questão importante a ser destacada é que as medidas de desonerações tributárias adotadas para combater a crise afetaram o financiamento do orçamento da seguridade social, enfraquecendo a capacidade deste orçamento para cobrir com suas receitas exclusivas as despesas previdenciárias, de assistência social e de saúde.

De acordo com a Secretaria da Receita Federal do Brasil (SRFB), ao longo de 2009, o desempenho da arrecadação tributária em relação a 2008 encolheu 3,05%. Em termos reais, em valores deflacionados pelo IPCA, o equivalente a uma perda de R\$ 21,5 bilhões. Os tributos que mais contribuíram para essa queda de arrecadação foram a Contribuição para o Financiamento da Seguridade Social (Cofins) e a contribuição social para o PIS/Pasep, que são fontes importantes no financiamento da seguridade social brasileira, respondendo por 49% do declínio da arrecadação tributária em 2009.

Essa queda na arrecadação da Cofins e do PIS/Pasep é atribuída pela Receita Federal a uma conjunção de fatores relacionados, em grande parte, à crise econômica. Em decorrência da crise ocorreu uma piora dos indicadores macroeconômicos, que influenciaram diretamente a arrecadação tributária, entre eles a produção industrial, a lucratividade das empresas e a queda no volume geral de vendas no varejo no ano de 2009 em relação a 2008. E, destacadamente, as desonerações tributárias estimadas em R\$ 24,9 bilhões.

Acontece que o orçamento da seguridade social continua perdendo recursos de suas fontes tributárias “exclusivas” devido à transferência de recursos para o orçamento fiscal por meio da Desvinculação das Receitas da União (DRU). A DRU transforma os recursos destinados ao financiamento da seguridade social em recursos fiscais para a composição do superávit primário e, por consequência, a sua utilização em pagamento de juros da dívida.

O “Relatório resumido da execução orçamentária do governo federal e outros demonstrativos” divulgado pela Secretaria do Tesouro Nacional, com dados de 2009, revela que a DRU desviou do Orçamento da Seguridade Social para o Orçamento Fiscal o montante de R\$ 39,2 bilhões. Já foram surrupitados desde 2000 mais de R\$ 300 bilhões da seguridade social.

Além disso, com os recursos da seguridade social o governo também paga os benefícios previdenciários dos servidores públicos federais que, por princípios constitucionais, não incluiriam esse tipo de gasto. Apesar de legítimas, as despesas com inativos e com pensionistas da União devem pertencer ao Orçamento Geral, o qual é financiado por tributos, e não por recursos exclusivos da política de proteção social. A União transferiu para a responsabilidade do orçamento da seguridade social um estoque de gastos com aposentadorias e pensões dos servidores públicos federais que deveriam ser honrados pelo caixa do orçamento fiscal. As despesas com inativos e pensionistas da União pagas com recursos da seguridade social superam R\$ 50 bilhões, o que representa 15% do montante gasto nas funções orçamentárias de previdência, assistência social e saúde.

Evilásio Salvador (adaptado de: http://www.scielo.br/scielo.php?script=sci_arttext&pid=S0101-66282010000400002)

01. “o governo brasileiro agiu rápido no socorro ao grande capital, especialmente o financeiro”. Segundo o texto, um dos impactos gerados por iniciativas desse tipo é:

- A) ampliação da eficácia no controle sobre os gastos públicos, promovendo redução de despesa com pessoal
- B) desoneração da carga tributária sobre instituições financeiras, gerando contrapartida social relevante
- C) aumento da carga tributária para provimento de recursos públicos e pagamento de juros e serviços de dívida externa
- D) redução das fontes constitucionalmente previstas para financiamento da previdência
- E) ampliação da capacidade de investimento privado de infraestrutura

02. No último parágrafo do texto, a conclusão apresentada indica:

- A) retificação das análises anteriores a respeito da capacidade de pressão das instituições financeiras sobre o governo brasileiro
- B) crítica à utilização de mecanismo que altera destinação de dotações orçamentárias da Seguridade Social
- C) defesa da necessidade de mecanismos previstos, como a Desvinculação de Receitas da União
- D) contradição entre a Constituição e a demanda corporativa dos servidores públicos federais
- E) sugestão de mecanismo constitucional a ser implementado pelo governo federal na resolução de impasses financeiros

03. O texto lido é um artigo acadêmico. A única característica desse gênero não observada no texto é:

- A) uso do registro formal da língua
- B) predomínio de sequências descritivas
- C) citação explícita atribuída a outras fontes
- D) emprego da função referencial
- E) utilização de estratégias argumentativas diversas

04. O modo de organização textual adotado no quarto parágrafo é:

- A) dedutivo, sustentando afirmação geral com dados
- B) dialético, reforçando a tese do autor por meio de antíteses
- C) narrativo, considerando um relato de fatos históricos recentes
- D) contraditório, apresentando ideia oposta à defendida pelo autor
- E) indutivo, partindo de opinião particular para informações gerais

05. A palavra formada por acréscimo de um prefixo é:

- A) recurso
- B) despesas
- C) seguridade
- D) execução
- E) desonerações

06. Observe o seguinte período composto, adaptado do texto: *Apesar de serem legítimas, as despesas com inativos e com pensionistas da União devem pertencer ao Orçamento Geral.* O conectivo “apesar de” expressa o valor semântico de:

- A) causa
- B) modo
- C) adição
- D) concessão
- E) consequência

07. O emprego da vírgula delimita fronteira entre orações em:

- A) “No âmbito das políticas monetárias e fiscais, o governo brasileiro agiu rápido”
- B) “Nesse valor estão, sobretudo, as medidas adotadas no campo da política monetária”
- C) “ocorreu uma piora dos indicadores macroeconômicos, que influenciaram diretamente a arrecadação tributária”
- D) “Em termos reais, em valores deflacionados pelo IPCA, o equivalente a uma perda de R\$ 21,5 bilhões”
- E) “entre eles a produção industrial, a lucratividade das empresas e a queda no volume geral de vendas”

08. O pronome relativo tem por função retomar elemento expresso anteriormente. A palavra “que” possui essa função em:

- A) “Acontece que o orçamento da seguridade social continua perdendo recursos” (8º parágrafo)
- B) “revela que a DRU desviou do Orçamento da Seguridade Social para o Orçamento Fiscal” (9º parágrafo)
- C) “Uma questão importante a ser destacada é que as medidas de desonerações tributárias adotadas” (5º parágrafo)
- D) “Em relação às despesas públicas, é importante dizer que se constitui um mito” (4º parágrafo)
- E) “algumas instituições financeiras pudessem elevar os recursos que têm em caixa” (3º parágrafo)

09. Empregam-se somente formas verbais regulares em:

- A) “com os recursos da seguridade social o governo também paga os benefícios previdenciários dos servidores públicos federais”
- B) “um mito a afirmação de que há um descontrole nas despesas com pessoal”
- C) “Os tributos que mais contribuíram para essa queda de arrecadação foram a Contribuição para o Financiamento da Seguridade Social”
- D) “O Brasil não foi poupado da crise financeira internacional, contudo, foi um dos últimos atingidos”
- E) “Uma questão importante a ser destacada é que as medidas de desonerações tributárias adotadas”

10. A palavra “países” recebe acento gráfico pelo mesmo motivo de:

- A) dívida
- B) saúde
- C) depósitos
- D) monetárias
- E) transferência

INFORMÁTICA

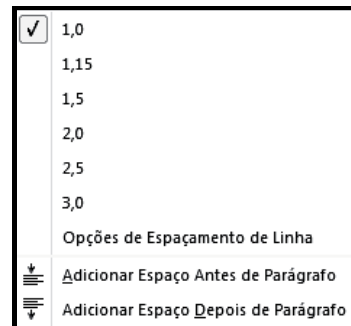
11. No sistema operacional Windows 7 BR, pressionar as teclas



Windows e **E**, em sequência, equivale a executar um atalho de teclado, com o objetivo de abrir :

- A) o Paint
- B) o Windows Explorer
- C) a caixa de diálogo Executar
- D) o Internet Explorer
- E) a Lixeira

12. Observe a figura abaixo, que é mostrada na tela de um monitor de vídeo, quando se clica em um ícone no Word 2010 BR, com a finalidade de se alterar o espaçamento entre as linhas do texto.



O ícone é:

- A)
- B)
- C)
- D)
- E)





13. A figura representa uma planilha criada no Excel 2010 BR, utilizada em um processo de licitação.

	A	B	C	D	E	F	G
1		RIO PREVIDÊNCIA - 2012					
2							
3				fornecedor			
4	#	item	qtde	F1	F2	F3	menor preço
5	1	micro i7	20	R\$ 25.800,00	R\$ 24.300,00	R\$ 26.100,00	R\$ 24.300,00
6	2	disco rígido SATA 1 TB	10	R\$ 2.150,00	R\$ 2.700,00	R\$ 2.730,00	R\$ 2.150,00
7	3	pendrive 16 GB USB	40	R\$ 900,00	R\$ 870,00	R\$ 820,00	R\$ 820,00
8	4	impressora multifuncional	5	R\$ 1.300,00	R\$ 1.400,00	R\$ 1.100,00	R\$ 1.100,00
9				SOMA >>>			R\$ 28.370,00

Na planilha, em G5, G6, G7 e G8, são mostrados os menores entre os preços dos fornecedores F1, F2 e F3, para os itens indicados na coluna B. Para se obter o valor mostrado em G5, deve ser inserida nessa célula uma das expressões indicadas na seguinte alternativa:

- A) =MENOR(D5:F5;1) ou =MÍNIMO(D5:F5)
- B) =MENOR(D5:F5) ou =MÍNIMO(D5:F5;1)
- C) =MENOR(D5:F5;1) ou =MÍNIMO(D5:F5;1)
- D) =MENOR(D5&F5;1) ou =MÍNIMO(D5&F5)
- E) =MENOR(D5&F5) ou =MÍNIMO(D5&F5;1)

14. Para fechar a janela do browser *Google Chrome*, pode-se clicar num ícone ou executar um atalho de teclado. O ícone e o atalho de teclado são, respectivamente:

- A)  e Alt + F7
 B)  e Alt + F4
 C)  e Alt + F1
 D)  e Alt + F4
 E)  e Alt + F7

15. No MSOffice Outlook 2010 BR, o acionamento da tecla de função F9 tem por significado:

- A) abrir o catálogo de endereços
 B) esvaziar a pasta de itens excluídos
 C) excluir e-mails da pasta de entrada
 D) alterar modo de exibição do software
 E) enviar e receber mensagens de e-mail

RACIOCÍNIO-LÓGICO QUANTITATIVO

16. Para que a reta definida pela equação $y(x) = mx + 2$ seja perpendicular à reta $z(x) = 2x$, a inclinação da reta $y(x)$, chamada de m , deve ser igual a:

- A) 1/4
 B) 1/2
 C) 1
 D) 2
 E) 4

17. Em um jogo com dois dados e dois jogadores, vence aquele jogador que obtiver a maior soma dos valores indicados por esses dados. Sabendo que um jogador obteve soma igual a 8, a probabilidade de o outro jogador vencer o jogo é de:

- A) 4/9
 B) 1/4
 C) 5/18
 D) 11/36
 E) 1/3

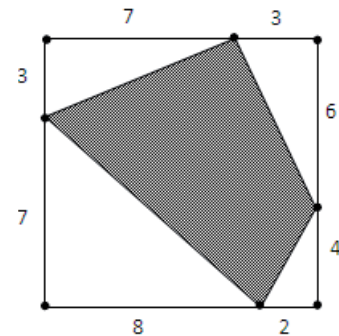
18. Considere uma progressão geométrica e uma progressão aritmética com as seguintes características:

- 1- A progressão geométrica possui um termo igual a **1** e sua razão é um número q real, positivo e diferente de **1**.
- 2- A progressão aritmética possui um termo igual a **0** e sua razão é um número racional r diferente de **zero**.
- 3- As duas seqüências estão em correspondência biunívoca, de modo que o termo **1** da progressão geométrica corresponde ao termo **0** da progressão aritmética.

Sabendo que um número **A** da progressão aritmética está relacionado ao número **23** da progressão geométrica e que um número **B** da progressão aritmética está relacionado ao número **30**, o logaritmo do produto de **A** por **B** vale:

- A) 7
 B) 53
 C) 230
 D) 300
 E) 690

19. Observe o quadrado abaixo, onde estão indicados os comprimentos de vários segmentos ao longo de seu perímetro, delimitados pelos pontos pretos em seus extremos



A área hachurada da figura vale:

- A) 27,4
 B) 39,0
 C) 48,5
 D) 51,5
 E) 61,0

20. Observe o sistema de equações abaixo:

$$\begin{cases} x + 2y = 6 \\ 3x - y = 7,5 \end{cases}$$

A solução para esse sistema vale:

- A) $x=1,5; y=2,5$
 B) $x=3,0; y=1,5$
 C) $x=3,0; y=2,5$
 D) $x=4,0; y=1,0$
 E) $x=4,0; y=4,5$

DIREITO CONSTITUCIONAL E ADMINISTRATIVO

21. A Constituição brasileira de 1937, estabelecida pelo Estado Novo, presidido por Getúlio Vargas, pode ser classificada de acordo com a Teoria da Constituição em:

- A) popular quanto ao conteúdo
 B) flexível quanto à estabilidade
 C) não escrita quanto à forma
 D) histórica quanto ao modo de elaboração
 E) outorgada quanto à origem

22. O Prefeito do Município XY, assumindo o seu primeiro mandato e cioso da manutenção de correta atividade administrativa, resolveu procurar o Juiz de Direito da Comarca, para postular auxílio na administração, estabelecendo que todos os atos do Executivo local somente seriam publicados após a chancela do magistrado. Tais fatos caracterizam, no tocante aos poderes, afronta ao princípio da:

- A) independência
 B) harmonia
 C) colaboração
 D) internalização
 E) fixação

23. Nos últimos anos, a nomeação para Ministro do Supremo Tribunal Federal recaiu sobre dois Ministros oriundos do Superior Tribunal de Justiça e uma Ministra egressa do Tribunal Superior do Trabalho. No sistema brasileiro, quanto à nomeação para o referido cargo, é correta a seguinte afirmativa:

- A) existe a indicação de membro de tribunal superior, pelo sistema de rodízio
- B) pode a escolha recair sobre qualquer jurista, respeitada a idade mínima
- C) havendo a nomeação, a candidatura é submetida à Câmara dos Deputados
- D) cabe ao Presidente da República indicar membro de Tribunal Federal
- E) recai sobre o Senado Federal a competência para indicar lista tríplice para a vaga

24. Nos termos da ordem econômica instituída e regulada pela Constituição Federal de 1988, é correto afirmar que:

- A) há a consagração de uma economia de mercado, de natureza capitalista
- B) a valorização do trabalho humano induz ao estabelecimento de economia socialista
- C) a intervenção do Estado na atividade econômica só ocorre para aparar excessos dos empresários
- D) o Estado deve proteger os monopólios e oligopólios, por inerentes ao sistema capitalista
- E) o consumidor deve ser protegido somente em relação a empresas transnacionais

25. Dentre as competências constitucionais do Senado Federal está incluída a arguição pública e aprovação em votação secreta do Presidente da seguinte instituição:

- A) Banco Nacional de Desenvolvimento Econômico e Social
- B) Casa da Moeda do Brasil
- C) Banco do Brasil S/A
- D) Banco Central do Brasil
- E) Caixa Econômica Federal

26. Nos termos da legislação federal que regula a atuação das Organizações Sociais que podem exercer atividades em contratos de gestão pertinentes à execução de serviços públicos em regime de parceria, as pessoas qualificadas a prestar tais serviços devem cumprir a seguinte exigência:

- A) ter personalidade jurídica de direito público
- B) possuir criação por lei formal
- C) não possuir finalidade lucrativa
- D) destinar-se a atividade econômica empresarial
- E) caracterizar-se pela experiência anterior à prestação

27. O Governo do Estado, apoiando o programa de criação das Unidades de Polícia Pacificadora, realiza várias outras intervenções. Em relação aos pequenos comerciantes locais, atua na sua regularização para efeito de futuro recolhimento de impostos, bem como da regularidade dos alimentos comercializados. Nesse caso, os agentes estaduais atuam em decorrência do seguinte tipo de poder:

- A) político
- B) executivo
- C) alimentar
- D) de polícia
- E) interventivo

28. Nos casos em que for enfiteuta, pagando ao proprietário as importâncias estabelecidas em lei, o poder público adquire a respectiva propriedade, por aquisição de bem público por meio de:

- A) compra
- B) doação
- C) resgate
- D) adjudicação
- E) arrematação

29. O prazo de exercício para o mandado de segurança contra ato abusivo de autoridade pública será de:

- A) trinta dias, contado da data da publicação do ato coator
- B) sessenta dias, contado da intimação pessoal do administrado
- C) noventa dias, contado da publicação em órgão de imprensa local
- D) cem dias, contado da edição do ato que não necessita ser publicado
- E) cento e vinte dias, contado da ciência pessoal do administrado

30. Necessitando acessar informações pessoais que estão sob a guarda da Secretaria Estadual, o servidor público Mário deve proceder da seguinte forma:

- A) ingressar diretamente em Juízo, postulando o acesso às referidas informações
- B) requerer administrativamente o acesso e, acaso indeferido, ingressar com pedido de *habeas data*
- C) postular o acesso administrativamente e, após um ano de espera, caracterizar a inércia e impetrar mandado de segurança
- D) ingressar diretamente no Poder Judiciário e postular a declaração de lacuna em mandado de injunção
- E) apresentar requerimento administrativo e, ultrapassados trinta dias sem resposta, ingressar com *habeas corpus*

DIREITO PREVIDENCIÁRIO E PREVIDÊNCIA SOCIAL

31. A participação dos empregados, empregadores e aposentados nos órgãos vinculados à Seguridade Social é exemplo de aplicação do seguinte princípio:

- A) unidade
- B) solidariedade
- C) democracia
- D) autocracia
- E) desenvolvimento

32. Ao estabelecer um melhor quinhão de benefícios a classes de renda menos elevada, fornecendo benefícios previdenciários de maior amplitude e valor, a administração previdenciária obedece ao seguinte princípio:

- A) seletividade
- B) discriminação
- C) legalidade
- D) equalização
- E) regionalização

33. A busca por proteção diante dos infortúnios da vida tem sido considerada a base da Seguridade Social, cuja responsabilidade atualmente é dividida entre o Estado e entidades privadas. Na origem da Seguridade Social podem ser identificados(as):

- A) os serviços de câmbio
- B) as instituições de doações
- C) os bancos de penhor
- D) as indústrias extrativas
- E) as sociedades mutualistas

34. No âmbito da Seguridade Social está a proteção à saúde. Para ampliar os limites dessa proteção, em obediência aos comandos constitucionais, houve a instituição:

- A) do Sistema Único de Saúde, com recursos públicos
- B) da Federação de Casas de Misericórdia, com apoio dos municípios
- C) do Consórcio de Estados e Municípios para a prestação de serviços de saúde
- D) do Programa integrado de governos estaduais e municipais
- E) da Sociedade de Pesquisa Coletiva de doenças tropicais

35. No âmbito da Assistência Social emendou-se a Constituição Federal para permitir-se aos Estados e ao Distrito Federal vincular a programa de apoio à inclusão e promoção social percentual da receita tributária líquida correspondente a até:

- A) dez por cento (10%)
- B) um por cento (1%)
- C) cinco por cento (5%)
- D) três por cento (3%)
- E) cinco décimos por cento (0,5%)

36. Na proteção ao deficiente físico, incapaz de provar a sua manutenção, deve ser concedido benefício equivalente ao salário mínimo, desde que a renda familiar do beneficiado corresponda a:

- A) no máximo um salário mínimo *per capita*
- B) no máximo dois salários mínimos *per capita*
- C) no máximo 1/2 salário mínimo *per capita*
- D) 1/4 do salário mínimo *per capita*
- E) 1/6 do salário mínimo *per capita*

37. Nos termos das normas constitucionais em vigor, quando o servidor público é aposentado por invalidez permanente, a regra geral acarreta a aposentadoria com proventos:

- A) integrais, independentemente do tempo de serviço
- B) proporcionais ao tempo de serviço
- C) proporcionais ao tempo de contribuição
- D) integrais, considerada a idade acima de sessenta anos.
- E) proporcionais na função exercida

38. Consoante as regras constitucionais que regem a aposentadoria do servidor público, preenchidos os requisitos de idade mínima e de cinco anos no cargo efetivo em que se dará, a aposentadoria voluntária ocorrerá desde que cumprido o seguinte tempo de efetivo exercício no serviço público:

- A) dois anos
- B) cinco anos
- C) três anos
- D) dez anos
- E) quinze anos

39. Consoante as regras constitucionais federais, admitem-se critérios diferenciadores para a concessão de aposentadoria ao servidor que se encontrar na seguinte situação:

- A) idoso com mais de setenta anos de idade
- B) portador de deficiência física
- C) considerado incapaz por desequilíbrio psíquico
- D) declarado incapaz civilmente por decisão judicial
- E) condenado por crime inafiançável

40. No regime de aposentadoria dos servidores públicos, caso o professor de nível superior possua duas matrículas poderá aposentar-se em:

- A) um dos cargos, tendo em vista o regime de acumulação
- B) ambos os cargos, se possuir os requisitos exigidos
- C) um dos cargos, utilizando o tempo de serviço cumulado em ambos
- D) ambos os cargos, com contagem especial de tempo de serviço
- E) um dos cargos, caso possua idade superior ou igual a setenta anos

ECONOMIA E FUNDAMENTOS DE FINANÇAS

41. Considere uma firma inserida em um mercado perfeitamente competitivo. A função demanda dessa firma é representada por $P = 100$. Além disso, os custos de produção dessa firma estão representados pela função $CT = 500 + 25Q^2$. A maximização de lucro ocorre com um nível de produção de:

- A) 100 unidades
- B) 500 unidades
- C) 4 unidades
- D) 2 unidades
- E) 10 unidades.

42. A função utilidade de um indivíduo em relação aos bens X e Y está representada pela função $U(X;Y) = \text{mínimo}(X;2Y)$. Esse indivíduo possui renda de R\$ 500, enquanto os preços dos bens X e Y são, respectivamente, R\$ 5 e R\$ 10. Com base nesses dados, a afirmativa correta é:

- A) os bens X e Y são independentes.
- B) os bens X e Y são substitutos perfeitos.
- C) o indivíduo maximiza sua utilidade quando consome 25 unidades de X e 50 de Y.
- D) o indivíduo maximiza sua utilidade quando consome 32 unidades de X e 64 de Y.
- E) o indivíduo maximiza sua utilidade quando consome 50 unidades de X e 25 de Y.

43. A lei dos rendimentos decrescentes ocorre quando se dá a seguinte situação:

- A) todos os fatores de produção são variáveis.
- B) todos os fatores de produção dobram e a produção aumenta em mais que o dobro.
- C) pelo menos um dos fatores de produção é fixo.
- D) todos os fatores de produção dobram e a produção também dobra.
- E) todos os fatores de produção dobram e a produção aumenta em menos que o dobro.

44. No Brasil, **não** é considerada atribuição do Conselho Monetário Nacional:

- A) autorizar emissões de papel-moeda.
- B) fixar diretrizes e normas da política cambial.
- C) zelar pela liquidez das instituições financeiras.
- D) zelar pela solvência das instituições financeiras.
- E) negociar a dívida externa.

45. De acordo com o regime de metas de inflação do Brasil, se a variação de preços correspondente à taxa de juros Selic vigente se mostrasse inferior à meta, o Banco Central estaria em condições de tomar a seguinte medida:

- A) aumentar os juros
- B) valorizar o câmbio
- C) reduzir os juros
- D) reduzir os gastos do governo
- E) aumentar os tributos

ADMINISTRAÇÃO PÚBLICA

46. Para desenvolver a ética no trabalho, importante aspecto da vida funcional de um servidor público, o Instituto Ethos aconselha cinco providências, dentre as quais se encontra:

- A) incorporar a ética na avaliação de desempenho do funcionário
- B) examinar se, na formação profissional do candidato a funcionário, consta a disciplina de Ética
- C) submeter os funcionários, periodicamente, a um questionário sobre situações éticas e não éticas
- D) punir com a demissão por justa causa a quebra da ética no ambiente de trabalho
- E) manter Comissão de Ética para acompanhar o comportamento dos funcionários, dentro e fora do ambiente de trabalho

47. Para atenuar as flutuações e situações de insuficiência de demanda efetiva, Keynes recomendava ao Estado:

- A) promover reduções frequentes de tributos, em particular nos produtos de grande valor agregado
- B) manter a tranquilidade e aguardar que o mercado regule a economia, evitando qualquer intervenção
- C) promover reduções frequentes dos tributos, em particular na linha branca
- D) intervir na economia
- E) manter-se fora da economia, mas disponibilizar seus assessores para reorganizar as empresas e torná-las mais eficientes, a exemplo do que fez o governo norte-americano com os bancos e a General Motors, na crise de 2008

48. Quando se fala de *administração pública gerencial*, se está falando de uma administração pública cuja referência é:

- A) o gerenciamento misto, entre o burocrático e o privado
- B) o gerenciamento das organizações não governamentais
- C) a prática do gerenciamento de empresas privadas
- D) a supressão da burocracia e a adoção da gestão *ad hoc*, para elevar a eficiência do serviço público
- E) o tipo de administração a ser adotado nas empresas públicas, sociedades de economia mista e organizações não governamentais do Estado

49. A burocracia é também chamada por Weber de:

- A) sistema de dominação tradicional
- B) sistema administrativo racional
- C) organização racional do trabalho
- D) gestão impessoal e legal
- E) sistema racional-legal

50. Administração societal é um tipo de administração pública que conta com:

- A) participação da sociedade na gestão pública
- B) administração pública que trata das sociedades que constituem as empresas públicas
- C) participação dos sócios na gestão das organizações sociais
- D) participação dos acionistas que constituem uma sociedade por ação pública, como a PETROBRAS
- E) a administração das obras sociais do governo

51. Rousseau, em seu livro sobre o contrato social, comenta que “*A coisa mais perigosa que há é a influência dos interesses privados nos negócios públicos*”. A lei diretamente ligada à tentativa de evitar essa influência é:

- A) 101/2000, da responsabilidade fiscal
- B) 8.666/1993, da licitação
- C) 12.527/2012, do acesso
- D) 131/2009, da transparência
- E) 8.112/1990, dos servidores públicos

52. Para regular e controlar a atuação das concessionárias do serviço público e das empresas privatizadas pode-se dizer que:

- A) são necessários o CADE, as agências reguladoras, o TCU e a CGU
- B) as agências reguladoras são suficientes
- C) as agências reguladoras e a CGU são necessárias
- D) as agências reguladoras e o TCU são suficientes
- E) as agências reguladoras e o CADE são necessários

53. As modalidades de licitação são concorrência, tomada de preços e:

- A) tomada de decisão, concurso, leilão e pregão
- B) convite, concurso, leilão, pregão e pregão eletrônico
- C) convite, concurso, leilão e pregão eletrônico
- D) convite, concurso, leilão e pregão
- E) seleção, convite, concurso, leilão e pregão

54. Os cargos, empregos e funções públicas no Brasil, do ponto de vista do acesso:

- A) não são acessíveis aos estrangeiros
- B) são acessíveis aos estrangeiros
- C) são acessíveis apenas aos portugueses, conforme o tratado luso-brasileiro
- D) são acessíveis aos estrangeiros filhos de brasileiros
- E) são acessíveis aos estrangeiros cujo país de origem tenha acordo de cooperação com o Brasil

55. Modelo criado na Europa para “contrapor-se aos processos econômicos desumanizados, inflexíveis”, sendo uma “aspiração ao direito à equidade e um apelo para romper com as estruturas de mercado”, uma procura de “identidade entre democracia e liberdade econômica”. Esta descrição corresponde ao:

- A) Estado do Bem-Estar Social
- B) keynesianismo
- C) New-Deal
- D) neoliberalismo
- E) nacional-socialismo

ESTATÍSTICA E FUNDAMENTOS DE ATUÁRIA

56. Em um povoado, 60% dos habitantes são homens e 40% são mulheres. Dados estatísticos indicam que o índice de desemprego é de 10% para os homens e 15% para as mulheres. Pode-se dizer que, dentre as pessoas desempregadas nesse povoado, a proporção de mulheres é de:

- A) 8%
- B) 20%
- C) 40%
- D) 50%
- E) 67%

57. Considere o experimento de sortear um número real aleatoriamente -1 e $+1$, segundo uma distribuição uniforme. A probabilidade de se obter um número maior do que $0,5$ corresponderá a:

- A) 0,10
- B) 0,25
- C) 0,50
- D) 0,75
- E) 0,90

58. Em teoria de seguros, o valor limite que a seguradora deverá pagar ao segurado em caso de sinistro denomina-se:

- A) ressarcimento
- B) sinistro
- C) indenização
- D) cobertura
- E) franquia

59. Estudos estatísticos mostram que, em uma região, em média 2% dos veículos sofrem algum tipo de sinistro por mês. Uma seguradora deseja entrar no mercado cobrando um prêmio de risco mensal de no máximo R\$100,00, acrescido dos seus custos administrativos e de mão de obra. Dessa forma, para que seja viável a entrada dessa empresa no mercado, o valor médio de cada sinistro deverá ser, no máximo, de:

- A) R\$ 5.000,00
- B) R\$ 10.000,00
- C) R\$ 20.000,00
- D) R\$ 50.000,00
- E) R\$ 100.000,00

60. Observe a figura abaixo, que mostra um trecho simplificado de uma tábua de mortalidade. A coluna "x" indica a idade completa, em anos, e "qx" a probabilidade de morte no ano, para uma pessoa daquela idade:

x	qx
0	0,00200
1	0,00100
2	0,00080
3	0,00050
4	0,00032
5	0,00029
6	0,00027
7	0,00026
8	0,00029
9	0,00033
10	0,00035

Nessa população, a proporção de pessoas que vivem mais do que 12 meses equivale a:

- A) 97,00%
- B) 98,02%
- C) 99,70%
- D) 99,80%
- E) 99,92%