

PORTUGUÊS

Leia o texto I para responder as perguntas de 01 a 05.

O menino jornaleiro

O menino jornaleiro **passa** berrando pela rua:
– Vinte e cinco adultos enganados por um menino! Uma criança engana vinte e cinco adultos!

– Me dá um jornal - grita um homem que vai passando.

O homem **pega** o jornal, **abre** e **descobre** que é um jornal velho. Vai reclamar, furioso, quando houve o menino gritando lá de longe:

– Vinte e seis adultos enganados por um menino! Vinte e seis adultos...

(Ziraldo Alves Pinto. Adaptado)

01 – Segundo texto, a manchete anunciada pelo garoto:

- I. Deixa o público furioso com a notícia.
- II. Leva o consumidor a pensar que se trata de uma matéria do jornal do dia.
- III. Faz parte das reportagens do jornal do dia.

Está(ão) correta(a) :

- A) apenas a I;
- B) apenas a II;
- C) apenas a III;
- D) I e II;
- E) I, II e III.

02 – As palavras grifadas no texto são:

- A) adjetivos
- B) numerais
- C) verbos
- D) conjunções
- E) advérbios

03 – Na oração : “**Uma criança engana vinte e cinco adultos.**” O termo sublinhado é um numeral:

- A) ordinal
- B) cardinal
- C) fracionário
- D) multiplicativo
- E) coletivo

04 – Observe o trecho abaixo:

“– Vinte e cinco adultos enganados por um menino. Uma criança engana vinte e cinco adultos!”

A intenção do garoto era:

- A) divulgar a manchete do jornal;
- B) chamar a atenção das crianças;
- C) vender jornais especialmente a crianças;

- D) conseguir vender o jornal velho;
- E) deixar os leitores furiosos.

05 – A palavra **jornaleiro**, presente no texto, é um substantivo:

- A) abstrato
- B) composto
- C) coletivo
- D) primitivo
- E) derivado

06 – Complete corretamente os espaços em branco e em seguida marque a opção correspondente:

“A _____ de professores _____ a _____.”

- A) assembléia – mantem – paralização
- B) assembléia – mantêm – paralisação
- C) assembléia – manteem – paralização
- D) assembleia – mantém – paralisação
- E) assembleia – mantêm – paralização

07 – Qual das palavras abaixo não é escrita com S:

- A) gás
- B) gasolina
- C) gasoso
- D) varises
- E) grisalho

08 – Considerando as novas mudanças ortográficas, em qual das alternativas abaixo, os elementos devem receber o hífen na sua formação :

- A) auto biografia
- B) infra vermelho
- C) ultra violeta
- D) hiper romântico
- E) auto retrato

09 – Em qual das frases abaixo a palavra destacada é um adjetivo:

- A) A garotinha **estava** chorando.
- B) Josué está de carro **novo**.
- C) Aquela **mulher** caiu da escada.
- D) O carro de **José** está na oficina.
- E) Comprei uma bicicleta para **meu** filho.

10 – Qual das palavras abaixo é oxítone?

- A) caneca
- B) peneira
- C) físico
- D) saudade
- E) tatu

11 – Em qual das alternativas abaixo o verbo cantar aparece no futuro?

- A) Joana cantou muito bem na escola.
- B) Ele canta em vários bares da cidade.
- C) Os garotos cantarão no próximo domingo num restaurante da praia.
- D) Juliane cantava muito quando era pequenina.
- E) Quanto vocês querem para cantar hoje?

Leia o texto 2 para responder as perguntas de 12 a 15.

Composição: Salário mínimo

Jô Soares

O salário mínimo é tão pequenininho que cabe até no meu bolso. É por isso que ele é chamado de mínimo, que quer dizer que menor não tem.

Meu pai diz que o salário mínimo é um dinheiro que não serve pra nada, mas na televisão o moço disse que só pode isso mesmo, e está acabado. Meu pai quase quebrou a televisão depois que o moço falou.

Meu pai anda chamando o salário mínimo de um outro nome, mas eu não vou dizer aqui, porque outro dia eu disse esse nome no recreio e a professora me deixou de castigo.

O salário mínimo deve ser muito engraçado porque, quando falaram que ele tinha aumentado, lá em casa todo mundo deu risada.

Meu pai disse que uma vez um homem que era presidente falou que se ganhasse salário mínimo dava um tiro na cabeça, mas eu acho que ele estava brincando, porque quem ganha salário mínimo não tem dinheiro pra comprar revólver.

O meu pai não ganha salário mínimo mas com o que ele ganha também não dá pra comprar muitos revólveres a não ser de brinquedo e só de vez em quando.

O meu avô é aposentado. Ele não faz nada mas parece que já fez. Ou vi dizer que o salário mínimo não aumentou mais por causa dele. Eu não sabia que o meu avô era tão importante. Minha avó não é aposentada. Também, ela é muito velhinha, não dá pra ser mais nada.

Lá em casa falaram que com esse salário mínimo não vai dar mais pra comprar a cesta básica. Eu na sei muito bem o que é a cesta básica, mas parece que tem comida dentro. Se for, é só diminuir bastante o tamanho da cesta que aí cabe tudo.

Ouvi meu tio desempregado dizendo que tem um livro chamado Constituição, onde está escrito que com o salário mínimo a pessoa tem que comer, morar numa casa, andar de condução, se vestir e uma porção de coisas. Coitado do meu tio. A falta de emprego está deixando ele doidinho.

Quando eu crescer não vou querer salário mínimo, mesmo que seja o dobro. Parece que ele é tão pequeno que mesmo que seja o dobro do dobro ele continua mínimo.

A minha mesada é muito pequena, mas ainda bem que ninguém inventou a mesada mínima, porque com o que a minha mãe me dá quase não dá pra comprar figurinha.

Pronto. Isso é o que eu penso do tal salário mínimo.

Espero que a professora me dê uma boa nota porque ela é muito boazinha e merece ganhar muito mais do que todos os salários mínimos juntos.

Só mais uma coisa: se eu fosse presidente da República mudava o salário mínimo para um salário bem grande e chamava ele de salário máximo.

Veja, 15 de maio de 1996.

12 – De acordo com o texto por que o salário mínimo é chamado de mínimo?

- I. Porque ele é suficiente para todas as necessidades de uma família brasileira.
- II. É o que todo brasileiro gostaria de ganhar.
- III. É muito pouco e não dá para todas as necessidades de quem ganha.

Está(ao) correta(s):

- A) apenas I;
- B) apenas II;
- C) apenas III;
- D) I e II;
- E) I, II e III.

13 – O salário mínimo não sobe por qual motivo, segundo a afirmação do menino?

- A) Por causa dos desempregados;
- B) Por causa do tio do menino;
- C) Porque o salário mínimo é muito;
- D) Por causa dos aposentados;
- E) Porque é suficiente para os que recebem.

14 – No trecho “*se eu fosse presidente da República mudava o salário mínimo para um salário bem grande e chamava ele de salário máximo.*”, a palavra destacada:

- A) É uma oxítone e possui um dígrafo;
- B) É uma paroxítone e possui um hiato;
- C) É uma proparoxítone e possui um encontro consonantal;
- D) É uma paroxítone e possui um encontro consonantal;
- E) É uma proparoxítone e possui um dígrafo.

15 – Quais palavras abaixo estão no diminutivo?

- A) mínimo – máximo
- B) doidinho – figurinha
- C) figurinha – máximo
- D) mesada – pequena
- E) doidinho – mesada

16 – Assinale a alternativa em que o adjetivo concorde corretamente com o substantivo:

- A) Mãe atencioso;
- B) Menina medrosa;
- C) Flor bonito;
- D) Garoto rápida.
- E) Casa novo.

17 – Assinale a alternativa em que todas as palavras estão no plural:

- A) anões – anciãos – valentão
- B) balões – patrão – pães
- C) casas – favelas – pastéis
- D) anéis – bola – cabeças
- E) casarão – carros – porta

18 – Assinale a alternativa que contém o feminino dos termos abaixo:

Japonês – chinês – tio – genro

- A) Japonesa, china, tia, genra;
- B) Japona, chinesa, tica, nora;
- C) Japonesa, chinesa, tia, genra;
- D) Japonesa, chinesa, tia, nora;
- E) japona, china, tia, genra.

19 – Qual das alternativas abaixo possui um substantivo utilizado tanto para o masculino como para o feminino?

- A) Criança
- B) Mãe
- C) Filha
- D) Pai
- E) menino

20 – Observe a tira e responda:



No último quadrinho aparece uma palavra polissílaba. É ela:

- A) pendurar
- B) achei
- C) humanidade
- D) placa
- E) ele

MATEMATICA


21 – A soma de $29.485.098 + 47.589.247 + 76.854.351$ é maior que:

- A) 159.968.695;
- B) 154.928.696;
- C) 198.847.632;
- D) 153.928.695;
- E) 163.928.696.

22 – A solução da expressão numérica $25 + 7 + 12 - 13$ é igual à:

- A) 30;
- B) 31;
- C) 32;
- D) 41;
- E) 42.

23 – O quadro abaixo tem em seu interior uma forma geométrica denominada:




<http://www.ministryoftheinterior.net/files/JPG>

- A) triângulo;
- B) retângulo;
- C) hexágono;
- D) círculo;
- E) pentágono.

24 – Assinale a alternativa em que aparece o símbolo da unidade monetária que tem o mesmo símbolo R\$ da nossa atual unidade monetária, o Real.

- A) Mil Réis;
- B) Cruzeiro;
- C) Cruzeiro Novo;
- D) Cruzado;
- E) Cruzado Novo.

25 – O conjunto que aparece abaixo é classificado como:



- A) vazio;
- B) com muitos elementos;
- C) com dois elementos;
- D) unitário;
- E) com pouco elementos.

26 – Para medirmos a temperatura do ambiente, pessoas ou objetos, tradicionalmente utilizamos a escala Celsius. Essa escala tem como símbolo:

- A) °F;
- B) F°;
- C) C°;
- D) °C;
- E) S°.

27 – O número 510 transformado em algarismo romano fica:

- A) CX;
- B) XL;
- C) LX;
- D) MX;
- E) DX.

28 – O relógio abaixo está marcando:



<http://brindecef.com.br/RelogiosdeParede/RelogiosOitavadoBra.jpg>

- A) 01: 15 h;
- B) 01: 26 h;
- C) 03: 07 h;
- D) 03: 26 h;
- E) 05: 15 h.

29 – José Otávio estava muito feliz por estar em tempo de copa do mundo. Por isso foi a uma loja e comprou 04 televisores que no total deram R\$ 5.500,00. Quanto custou cada televisão?

- A) R\$ 2.500,00
- B) R\$ 2.000,00
- C) R\$ 1.000,00
- D) R\$ 1.500,00
- E) R\$ 500,00.

30 – Observe os números abaixo e coloque corretamente os símbolos < >:

2 _ 9 _ 5 _ 3 _ 1 _ 6

A ordem correta dos símbolos é:

- A) < > > > <;
- B) < < > > <;
- C) < < < > <;
- D) > > < > >;
- E) > < < > <.

CONHECIMENTOS GERAIS

31 – O poder executivo no Brasil tem como principal representante o:

- A) vereador;
- B) prefeito;
- C) governador;
- D) deputado estadual;
- E) presidente da República.

32 – O meio de comunicação é a forma que temos de nos comunicar-mos com outras pessoas. Aponte a alternativa abaixo em que aparece um elemento que **não** faz parte da comunicação por hipermissão.

- A) rádio;
- B) CD-ROM;
- C) TV-digital;
- D) NTICs;
- E) Internet.

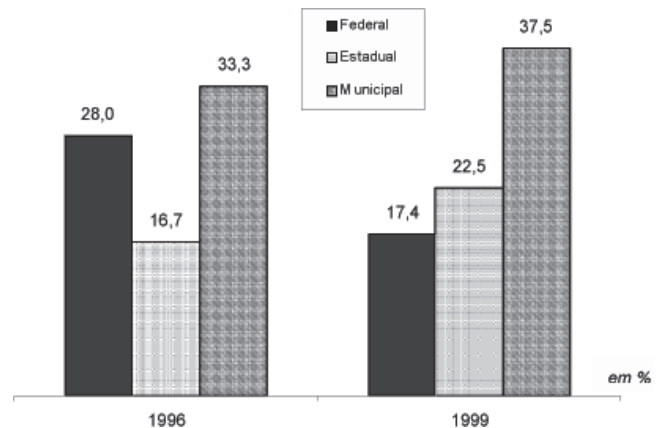
33 – Assinale a única alternativa em que **não** aparece um meio de transporte terrestre.

- A) carro;
- B) submarino;
- C) microônibus;
- D) trem;
- E) metrô.

34 – O meio ambiente hoje está sendo alvo de muito estudo devido ao aquecimento global que está contribuindo para a matança de animais e paisagens. O dia do meio ambiente é comemorado em:

- A) 05 de abril;
- B) 05 de maio;
- C) 05 de junho;
- D) 05 de agosto;
- E) 05 de setembro.

35 – Com base na imagem abaixo conclui-se que:



<http://www.scielo.br/img/revistas/op/v7n1/16935f01.gif>

- A) em 1996 o serviço público municipal era o menor;
- B) em 1999 o serviço público estadual era o maior;
- C) em 1996 o serviço público federal estava em menor proporção;
- D) em 1996 o serviço público estadual era o menor;
- E) em 1999 o serviço público federal estava empregando a maior parte de cidadãos.

36 – Todas as alternativas abaixo foram nomes dados ao município de Santo Amaro das Brotas, **exceto**:

- A) Fazenda e Engenho Aires da Rocha;
- B) Vila de Santo Amaro;
- C) Engenho Santo Amaro;
- D) Santo Amaro de Maruim;
- E) Juruana.

37 – Assinale a única alternativa em que não aparece um povoado da cidade de Santo Amaro das Brotas.

- A) Urubu;
- B) Areias;
- C) Atoleiros;
- D) Boa Fé;
- E) Pronuncio.

38 – No passado Santo Amaro das Brotas devido a sua localização foi um dos mais importantes centros:

- A) do mel;
- B) da agricultura;
- C) da agropecuária;
- D) da criação de cavalos;
- E) açucareiros.

39 – A Carta Régia de 04 de maio de 1699, criava:

- A) a Vila de Santo Amaro de Maruim;
- B) a Vila de Santo Amaro;
- C) a Vila fazenda Aires da Rocha;
- D) a Vila do Rio Sergipe;
- E) a Vila de Juruama.

40 – O período chuvoso de Santo Amaro das Brotas ocorre geralmente:

- A) de fevereiro a agosto;
- B) de fevereiro a setembro;
- C) de março a setembro;
- D) de março a agosto;
- E) de junho a setembro.