


PORTUGUÊS

Considere o texto abaixo e responda as questões **01, 02, 03 e 04**.

Fábula dos Dois Leões

Diz que eram dois leões que fugiram do Jardim Zoológico. Na hora da fuga cada um tomou um rumo, para despistar os perseguidores. Um dos leões foi para as matas da Tijuca e outro foi para o centro da cidade. Procuraram os leões de todo jeito mas ninguém encontrou. Tinham sumido, que nem o leite.

Vai daí, depois de uma semana, para surpresa geral, o leão que voltou foi justamente o que fugira para as matas da Tijuca. Voltou magro, faminto e alquebrado. Foi preciso pedir a um deputado do PTB que arranjasse vaga para ele no Jardim Zoológico outra vez, porque ninguém via vantagem em reintegrar um leão tão carcomido assim. E, como deputado do PTB arranja sempre colocação para quem não interessa colocar, o leão foi reconduzido à sua jaula.

Passaram-se oito meses e ninguém mais se lembrava do leão que fugira para o centro da cidade quando, lá um dia, o bruto foi recapturado. Voltou para o Jardim Zoológico gordo, sadio, vendendo saúde. Apresentava aquele ar próspero do Augusto Frederico Schmidt que, para certas coisas, também é leão.

Mal ficaram juntos de novo, o leão que fugira para as florestas da Tijuca disse pro colega:

— Puxa, rapaz, como é que você conseguiu ficar na cidade esse tempo todo e ainda voltar com essa saúde? Eu, que fugi para as matas da Tijuca, tive que pedir arrego, porque quase não encontrava o que comer, como é então que você... vá, diz como foi.

O outro leão então explicou: — Eu meti os peitos e fui me esconder numa repartição pública.

Cada dia eu comia um funcionário e ninguém dava por falta dele.

— E por que voltou pra cá? Tinham acabado os funcionários?

— Nada disso. O que não acaba no Brasil é funcionário público. É que eu cometi um erro gravíssimo. Comi o diretor, idem um chefe de seção, funcionários diversos, ninguém dava por falta. No dia em que eu comi o cara que servia o cafezinho... me apanharam.

Fonte: “Primo Altamirando e Elas”, Stanislaw Ponte Preta. Editora do Autor – Rio de Janeiro, 1961, pág. 153.

01. Considerando o diálogo entre os dois leões, no estudo das figuras de linguagem, podemos identificar um(a):

- A) Antítese.
- B) Eufemismo.
- C) Prosopopéia.
- D) Catacrese.
- E) Anáfora.

02. Considere o enunciado extraído do texto de Stanislaw Ponte Preta: “...Voltou magro, faminto e alquebrado”. A palavra em destaque pode ser substituída sem alteração contextual por:

- A) violento
- B) estressado
- C) desgostoso
- D) desconfiado
- E) abatido

03. Considere o fragmento textual seguinte e assinale a alternativa correta. “...Voltou para o Jardim Zoológico gordo, sadio, vendendo saúde”.

- A) Consiste na presença de antítese.
- B) É notório o registro de uma metáfora.
- C) Há característica forte de uma hipérbole.
- D) Há a insinuação de uma aliteração.
- E) Registra-se um pleonasma vicioso.

04. Pelo texto de Stanislaw Ponte Preta é possível concluir que:

- A) o tempo em que os dois leões estiveram separados foi de sete meses e três semanas.
- B) no Brasil há uma carência de servidores públicos para serviços administrativos.
- C) ambos leões foram capturados simultaneamente.
- D) o segundo leão (gordo e sadio) pediu arrego depois de oito meses.
- E) o primeiro leão adotou capciosamente o sistema vegetariano.

Considere o texto seguinte para a questão **05**.

Irene no Céu

Irene preta

Irene boa

Irene sempre de bom humor

Imagino Irene entrando no céu:

– Licença, meu branco!

E São Pedro bonachão:

– Entra, Irene. Você não precisa pedir licença.

Fonte: Manuel Bandeira. *Estrela da vida inteira*. Rio de Janeiro: José Olympio, 1970. pág. 125

05. Considerando a forma de tratamento do último verso, podemos concluir que:

- I. Do ponto de vista da norma culta, a frase deveria ser: *Entre, Irene*.
- II. Trata-se de uma variedade coloquial da língua.
- III. Estabelece uma relação informal de comunicação entre os falantes.
- IV. Não constitui erro de linguagem, na fala popular.

Está(ão) correta(s) as proposições:

- A) I, apenas;
- B) I e II, apenas;
- C) II e III, apenas;
- D) I, II e IV, apenas;
- E) I, II, III e IV.

06. Marque a alternativa em que o elemento indicado entre parênteses NÃO preenche corretamente os espaços:

- A) O office boy chegou inesperadamente _____ novo restaurante (àquele).
- B) Mário deseja uma pizza _____ moda italiana (à).
- C) Voltará daqui _____ meia hora (a).
- D) Seja bem-vindo _____ fria São Paulo (à).
- E) O concurso público será daqui _____ duas semanas (a).

07. Numere a segunda coluna de acordo com a primeira, baseado na classificação da palavra que:

- 1. Substantivo
- 2. Pronome relativo
- 3. Pronome interrogativo
- 4. Conjunção subordinada integrante
- 5. Conjunção coordenada explicativa

- () Somos bombardeados por uma massa de informações contrárias, que não leva a nada nem a lugar nenhum.
- () Que houve com a família?
- () Ela fingiu que não o via.
- () Todos têm um quê de ambição.
- () Não seja tão ambicioso que você pode sofrer.

A sequência correta é:

- A) 2 – 3 – 4 – 1 – 5.
- B) 4 – 1 – 5 – 2 – 3.
- C) 1 – 2 – 3 – 5 – 4.
- D) 4 – 3 – 1 – 2 – 5.
- E) 3 – 2 – 4 – 1 – 5.

08. Assinale a alternativa em que há oração na voz reflexiva:

- A) O prédio na íntegra desabava.
- B) Antes de deixar a cidade, foi visto por um amigo madrugador.
- C) O festival Rock In Rio fará o maior sucesso.
- D) Eu jamais tinha ouvido coisa igual.
- E) Joana com aquela cabeleira penteava-se.

09. O processo de formação da palavra “combate” é:

- A) Composição por aglutinação
- B) Derivação regressiva
- C) Composição por justaposição
- D) Hibridismo
- E) Derivação parassintética

10. A alternativa em que todas as palavras estão grafadas corretamente é:

- A) exceção, enxurrada, jiló, belesa.
- B) excessão, enxorrada, jiló, beleza.
- C) ecessão, enchurrada, giló, beleza.
- D) esseção, enchorrada, jilo, beleza.
- E) exceção, enxurrada, jiló, beleza.

11. Assinale o enunciado em que o pronome e o verbo em destaque estão usados CORRETAMENTE, de acordo com a norma culta.

- A) Vossas Senhorias, desculpe-me, mas vossos documentos estão incompletos.

- B) Sua Excelência, o Sr. Ministro, conquistastes vossos adeptos.
- C) Vossa Excelência trouxe seus documentos indeferidos?
- D) Pelo presente, solicitamos a Vossa Senhoria que envieis seu currículo.
- E) Informamos que Vossa Excelência e vossos auxiliares sois bem recebidos.

12. As palavras nuvens e margens não são acentuadas pela mesma razão que:

- A) Polens
- B) Jovens
- C) Edens
- D) Hifens
- E) Himens

Considere a imagem abaixo e responda a questão 13.



13. Quanto ao discurso do personagem:

- I. É possível identificar o uso formal da próclise;
- II. Há uma conjugação inadequada posterior ao pronome pessoal “me”;
- III. Houve uma supressão de fonemas no verbo “estar”, presente no texto.

Está(ão) correto(s) o(s) item(ns):

- A) I, apenas;
- B) II, apenas;
- C) III, apenas;
- D) II e III, apenas;
- E) I, II e III.

14. No trecho “Esse shopping vai abrir hoje?” a palavra em destaque apresenta um:

- A) Dígrafo
- B) Encontro vocálico
- C) Ditongo
- D) Hiato
- E) Tritongo

15. Considere o enunciado a seguir: “Não obstante, além de praticamente não haver programas educativos, a televisão brasileira ainda insiste em explorar o lado sensual da mulher de forma vulgar.” A expressão destacada anteriormente poderá ser substituída sem alteração de sentido por:

- A) E.
- B) Então.
- C) Por mais que.
- D) Entretanto.
- E) Pois.

CONHECIMENTOS ESPECÍFICOS

16. A cozinha de determinada Unidade Assistencial possui uma área física de cerca de 400 m². A área de ventilação necessária para que esta Cozinha atenda às normas regulamentares deve possuir uma extensão mínima de: (em m²)

- A) 10
- B) 20
- C) 30
- D) 40
- E) 50

17. Podemos afirmar que o Indicador de Sobra em determinado serviço de Nutrição que prepara 80 kg de carne e onde são distribuídos 76 Kg é de:

- A) 80%
- B) 85%
- C) 90%
- D) 75%
- E) 95%

18. Conforme a Lei, exige-se que haja um serviço de refeitório em empresas que possuem um determinado n° de funcionários superior a:

- A) 300
- B) 275
- C) 250
- D) 200
- E) 175

19. O Percentual de Rendimento no preparo de 900 porções de determinado item alimentício em que cada porção tem um *per capita* de 100 g, e onde foram utilizados 90 kg deste alimento e obteve-se um rendimento de 84 kg é de: (aproximadamente)

- A) 75%
- B) 81%
- C) 85%
- D) 90%
- E) 94%

20. Frequentemente a imprensa informa a respeito de ocorrências de deterioração de alimentos em unidades de alimentação (refeitórios de empresas, escolas, hospitais etc), e muitas vezes relata-se que o acondicionamento dos alimentos nestas unidades encontrava-se em completo desrespeito às normas vigentes. Com relação a este assunto, podemos afirmar que a Temperatura Ambiente dos espaços destinados ao acondicionamento e estocagem de itens alimentícios deve ser de no máximo: (em ° C).

- A) 32
- B) 27
- C) 24
- D) 22
- E) 20

21. A Deficiência de certo mineral na dieta de uma pessoa pode levá-la apresentar os seguintes sintomas clínicos: alterações de comportamento, êmese e enjôos. Qual mineral em quantidades deficientes poderia ser o responsável pelos sintomas desta pessoa?

- A) Manganês
- B) Fósforo
- C) Magnésio
- D) Cálcio
- E) Potássio

22. Certa região da China apresentou um índice elevado de Miocardiopatia (quadros clínicos de Insuficiência Cardíaca e Cardiopatia Dilatada em vários graus), e além da participação de certo vírus (Coxsackie) encontrado em amostras de sangue dos portadores desta patologia, percebeu-se que havia na dieta destas pessoas um índice muito baixo de certo mineral. Qual?

- A) Ferro
- B) Cobre
- C) Magnésio
- D) Selênio
- E) Cálcio

23. Qual das patologias abaixo está relacionada à deficiência orgânica de Cobre?

- A) Gota
- B) Esteatose Hepática Grave
- C) Pancreatite crônica
- D) Anemia Megaloblástica
- E) Ictiose

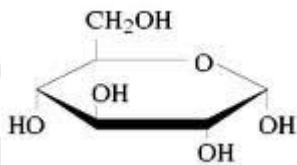
24. Com a universalização do padrão de beleza em que a magreza constitui-se no ideal físico para as pessoas, além de campanhas de determinados setores da sociedade em que se critica veementemente o hábito humano de consumo de proteínas a partir principalmente de carne animal, o Vegetarianismo tem sido amplamente difundido como estilo de vida, principalmente nas sociedades em que os costumes ocidentais predominam. No entanto, podemos afirmar que é frequente que ocorram quadros clínicos categorizados pela deficiência de certa Vitamina entre as pessoas que adotam o Vegetarianismo como modo de vida. Qual Vitamina é esta?

- A) A
- B) B12
- C) C
- D) B6
- E) D

25. A prática de esportes tem-se tornado endêmica em diversas sociedades ocidentalizadas, o que é algo positivo quando se analisam os dados que mostram um elevado índice de obesidade entre faixas etárias que anteriormente não se caracterizavam como portadores deste problema de saúde, o que tem feito com que Órgãos Públicos de Saúde tenham organizado campanhas nacionais de informação relativas aos riscos e custos crescentes com o tratamento de problemas de saúde relacionados à obesidade (a exemplo do Governo dos Estados Unidos da América). Sendo assim, com frequência Profissionais de Nutrição são questionados com respeito a questões relativas a alimentação para pessoas que praticam esportes. Neste sentido, perguntamos: ao aconselhar determinado adolescente praticante de esportes, que possui uma dieta normal, e que pratica cerca de 04 horas diárias de atividade física (seja em academias de ginástica ou em esportes), podemos sugerir que este acrescente quantas calorias diárias ao seu cardápio?

- A) 1000
- B) 1500
- C) 2000
- D) 2500
- E) 500

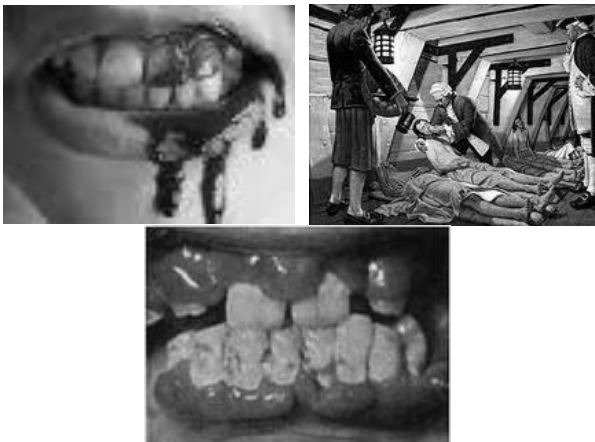
26. A figura seguinte representa certa substância vital ao funcionamento do organismo humano em nível celular. Trata-se de (a):



(Fonte: estudeonline.net)

- A) Insulina
- B) D-Carbose
- C) Hemoglobina
- D) Heme
- E) Glicose

27. Analise as seguintes figuras e identifique qual patologia mais provavelmente está relacionada com as mesmas, todas sendo manifestações clínicas de uma carência nutricional



- A) Beriberi
- B) Marasmo
- C) Hemofilia
- D) Escorbuto
- E) Pelagra

28. O Sr. Silva na Enfermaria A padece de Insuficiência Cardíaca, e está recebendo Nutrição enteral devido a um distúrbio gástrico que lhe impossibilita a dieta oral. Na formulação da dieta deste paciente, a alternativa que apresenta a proporção caloria/volume para o Sr. Silva é:

- A) 1,5 kcal/ml
- B) 2,5 kcal/ml
- C) 3,5 kcal/ml
- D) 4,5 kcal/ml
- E) 05 kcal/ml

29. O Sr J. P. S., paciente idoso em uma enfermaria de clínica médica, apresenta quadro de desnutrição grau III, e vem apresentando disfagia grave após sofrer Acidente Vascular Cerebral. Tendo em vista tais dados clínicos, sua orientação quanto ao modo de administrar a terapia nutricional para o Sr J. P. S. é:

- A) Ileostomia
- B) Gastrostomia
- C) Cateter nasoentérico
- D) Tentar alimentação oral com líquidos
- E) Alimentação oral assistida

30. Identifique dentre as alternativas abaixo a **INCORRETA**:

- A) O leite de vaca é pobre em ferro
- B) O leite de cabra é rico em ácido fólico
- C) O leite de soja é pobre em cálcio
- D) O leite materno é rico em lactose
- E) O leite de cabra e o humano têm aproximadamente o mesmo valor calórico

31. De acordo com a classificação de Gomez, uma criança que apresenta 35 % de déficit de peso é considerada:

- A) Ditrófica
- B) Marasmática
- C) Desnutrida de 1º grau
- D) Desnutrida de 2º grau
- E) Desnutrida de 3º grau

32. Com relação ao SUS (Sistema Único de Saúde), identifique qual das proposições seguintes encontra-se **INCORRETA**:

- A) São atribuições do SUS executar ações de Vigilância Epidemiológica, Sanitária e de Saúde do Trabalhador
- B) São Princípios do SUS a Universalidade de acesso, a Integralidade das ações e a Igualdade da assistência à saúde
- C) Não se enfatiza no SUS a descentralização dos serviços de saúde para os municípios
- D) A Conferência de Saúde e o Conselho de Saúde são instâncias colegiadas do SUS
- E) No Distrito Federal e no âmbito Estadual, a Direção do SUS é exercida pela respectiva Secretaria de Saúde

33. Podemos afirmar que a Unificação da Previdência Social na década de 60, criando assim o Instituto Nacional de Previdência Social, resultou em:

- A) Fortalecimento da rede própria de assistência à saúde
- B) Extensão da cobertura previdenciária
- C) Participação maior dos setores populares
- D) Valorização da prática médica preventiva
- E) Incentivo à descentralização do sistema

34. Podemos afirmar que a restrição de acesso a determinado recurso tecnológico de saúde apenas a um determinado estrato da sociedade (por exemplo, usuários de sistemas privados de saúde ou aos que possam pagar pelo mesmo), constituir-se-ia em ausência de qual dos Princípios Básicos do SUS citados a seguir?

- A) Universalidade
- B) Integralidade
- C) Hierarquização
- D) Equidade
- E) Descentralização

35. Com relação à **Evolução do Sistema Nacional de Saúde**, considere as seguintes afirmativas abaixo:

- I. Uma das características do modelo neoliberal é que ele tende a priorizar a atenção às doenças crônico-degenerativas
- II. A definição das ações de saúde sempre obedeceram a um critério epidemiológico
- III. O modelo neoliberal, na medida em que propõe regulação do sistema de saúde pelas leis de mercado, propõe em última análise a substituição do poder econômico pelo poder político na regulação sanitária

Pode-se afirmar que:

- A) Todas estão corretas
- B) Apenas I está correta
- C) Apenas II está correta
- D) Apenas II e III estão corretas
- E) Todas estão erradas

36. Qual das alterações abaixo **NÃO** são encontradas em um paciente com Desnutrição Proteico-Calórica acentuada?

- A) Esteatose Hepática e Hiperlipidemia
- B) Alterações cutâneas
- C) Retardo Psicomotor
- D) Cabelos escassos, descolorados e quebradiços
- E) Edema e baixo peso

37. A prática de automedicação no Brasil coloca em risco a saúde da população. É muito comum o uso de vitaminas, na maior parte das vezes, sem haver qualquer indicação clínica. Podemos dizer que um dos efeitos colaterais que podem ser encontrados com o uso crônico de **Vitamina A** é:

- A) Retardo do Crescimento
- B) Diarreia
- C) Neuropatia Sensorial
- D) Icterícia
- E) Hipotensão

38. São sinais de **Raquitismo por Déficit de Vitamina D** todas as alternativas abaixo, com **EXCEÇÃO** de:

- A) Hipotonia Muscular
- B) Persistência da Fontanela Anterior
- C) Sangramento Gengival
- D) Rosário Costal
- E) Alargamento Epifisário

39. Todas as afirmativas abaixo são características da **Criança Marasmática**, com **EXCEÇÃO** de:

- A) Hipotrofia Muscular
- B) Albumina Normal ou pouco diminuída
- C) Panículo Adiposo escasso ou ausente
- D) Edema Clínico
- E) Predomínio no 1º ano de vida

40. A **Desnutrição Proteico-Energética Grave** pode estar acompanhada por todas as seguintes anormalidades, com **EXCEÇÃO** de:

- A) Hipoglicemia
- B) Rosário costal clínico e radiológico
- C) Diminuição da Imunidade Celular
- D) Diminuição da atividade enzimática
- E) Diminuição da IgA Secretória